

الجمهورية الجزائرية الديمقراطية الشعبية

وزارة التربية الوطنية

مؤسسة التربية و التعليم الخاصة سليم

ETABLISSEMENT PRIVE D'EDUCATION ET D'ENSEIGNEMENT SALIM



www.ets-salim.com



021 87 10 51



021 87 16 89



Hai Galloul - bordj el-bahri alger

رخصة فتح رقم 1088 بتاريخ 30 جانفي 2011

مختبري- ابتدائي- متوسط - ثانوي

إعتماد رقم 67 بتاريخ 06 سبتمبر 2010

جانفي 2014

المستوى الأول ابتدائي 1AP

الإختبار رقم 1 للفصل الثاني في مادة الرياضيات

النشاط 1

ارتب الأعداد التالية ترتيبا تنازليا

4 - 10 - 7 - 9 - 1 - 2 - 5

النشاط 2

اكتب العدد الذي يسبق و العدد الذي يلي:

8		
---	--	--

		10
--	--	----

	9	
--	---	--

	7	
--	---	--

النشاط 3

ألاحظ ثم أصل

$5+1$

10

$3+3$

$4+4$

6

$6+2$

$9+1$

8

$5+5$

إقلب الورقة

الصفحة 2/1

حي قعلول - برج البحري - الجزائر

Web site : www.ets-salim.com /021.87.16.89 : Tel-Fax : 021.87.10.51 : ☎

النشاط 4:

أكتب الأعداد و احسب المجاميع

0 0	0 0 0
0 0	0 0 0

$$4 + . = \square$$

	0 0
	0 0 0

$$. + . = 5$$

0 0	0 0
	0 0 0

$$. + 5 = \square$$

0 0	0 0
0	0 0 0


$$3 + . = \square$$

النشاط 5:


أجمع بالعشرات و أكمل



العشرات	الوحدات
1	




العشرات	الوحدات
	4



العشرات	الوحدات



ECOLE SALIM



الجمهورية الجزائرية الديمقراطية الشعبية

وزارة التربية الوطنية

مؤسسة التربية و التعليم الخاصة سليم

ETABLISSEMENT PRIVE D'EDUCATION ET D'ENSEIGNEMENT SALIM



www.ets-salim.com



021 87 10 51



021 87 16 89



Hai Galloul - bordj el-bahri alger

إعتماد رقم 67 بتاريخ 06 سبتمبر 2010

مخبري- ابتدائي- متوسط - ثانوي

رخصة فتح رقم 1088 بتاريخ 30 جانفي 2011

جانفي 2014

المستوى الأول ابتدائي 1AP

تصحيح الإختبار رقم 1 للفصل الثاني في مادة الرياضيات

النشاط 1

ارتب الأعداد التالية ترتيبا تنازليا

4 - 10 - 7 - 9 - 1 - 2 - 5

10 - 9 - 7 - 5 - 4 - 2 - 1

النشاط 2

اكتب العدد الذي يسبق و العدد الذي يلي:

8	9	10
---	---	----

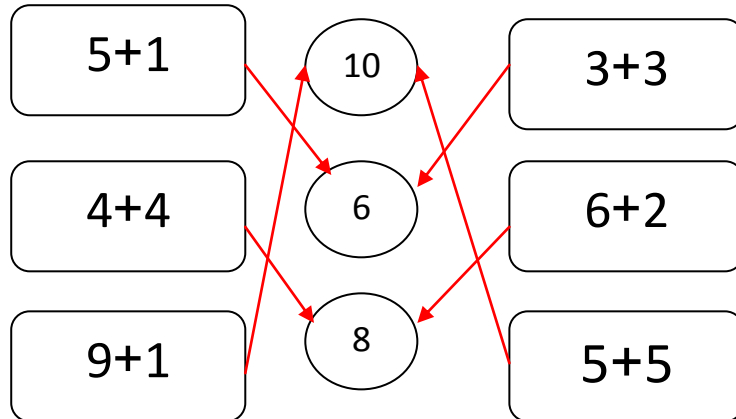
8	9	10
---	---	----

8	9	10
---	---	----

6	7	8
---	---	---

النشاط 3

ألاحظ ثم أصل



إقلب الورقة

الصفحة 2/1

حي قعلول - برج البحري - الجزائر

Web site : www.ets-salim.com /021.87.16.89 : الفاكس : 021.87.10.51 : ☎

النشاط 4:

أكتب الأعداد و احسب المجاميع

0 0	0 0 0
0 0	0 0 0

$4 + 6 = 10$

	0 0
	0 0 0

$0 + 5 = 5$

0 0	0 0
	0 0 0

$2 + 5 = 7$

0 0	0 0
0	0 0 0


$3 + 5 = 8$

النشاط 5:


أجمّع بالعشرات و أكمل



العشرات	الوحدات
1	0



العشرات	الوحدات
1	4



العشرات	الوحدات
1	2

بالتوفيق

الصفحة 2/2

حي قعلول - برج البحري - الجزائر

Web site : www.ets-salim.com /021.87.16.89 : الفاكس : Tel-Fax : 021.87.10.51 : ☎