



# المتميز



## كتابي في

# جميع المواد

# 1

انتدائي

# AP

الرياضيات ✓  
اللغة العربية ✓  
التربية الإسلامية ✓  
التربية المدنية ✓  
التربية العلمية ✓  
والتكنولوجية ✓

إعداد مجموعة  
من الأساتذة

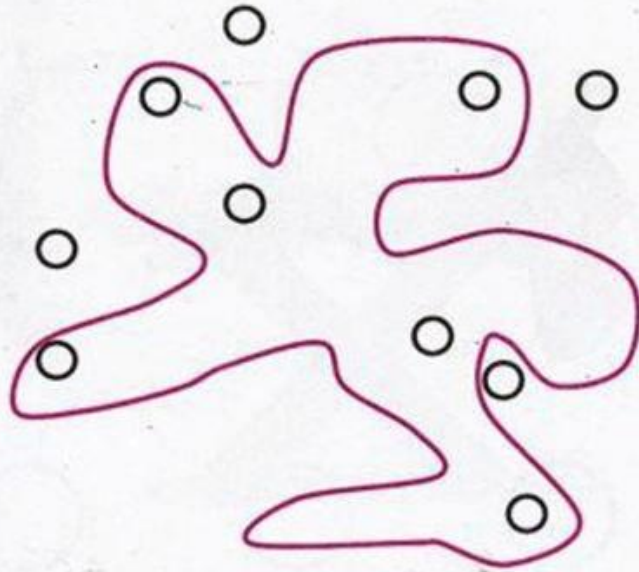
مركز الكتب العلمية  
للطباعة والنشر والتوزيع




## الموضوع الأول

### التمرين الأول:

ألون الكريات الموجودة داخل الحيز بالأزرق والموجودة خارجه بالأخضر.




التمرين الثاني: أعد ما يوجد داخل كل حيز وألون خانة العدد المناسب.



3 5 2



4 1 5



2 3 5



1 4 2



## الموضوع الثاني

### التمرين الأول:

لَوْنُ بِالْأَزْرَقِ الْكُرَّةَ الْمَوْجُودَةَ عَلَى الطَّاوِلَةِ وَبِالْأَصْفَرِ الْكُرَّةَ الْمَوْجُودَةَ تَحْتَ الطَّاوِلَةِ:



أَلْحِظْ ثُمَّ أَصِلْ بَيْنَ كُلِّ مَجْمُوعَةٍ وَالْعَدَدِ الْمُنَاسِبِ:

### التمرين الثاني:



1



5



3





أحيطُ الجَوَابَ الصَّحِيحَ:

التمرين الثالث :

الطِّفْلُ يَتَوَجَّهُ: - إلى الأعلى

- إلى الأسفل

البِنْتُ تَتَوَجَّهُ: - إلى الأعلى

- إلى الأسفل

أَلَوْنُ خَانَةِ الإِجَابَةِ الصَّحِيحَةِ.

التمرين الرابع :

نَعَمْ  لَأ

- الدَّجَاجُ أَكْثَرُ مِنَ القِطَطِ.

نَعَمْ  لَأ

- القِطَطُ أَقَلُّ مِنَ الأَرَانِبِ.

نَعَمْ  لَأ

- يُوجَدُ مِنَ الأَرَانِبِ مِثْلُ مَا يُوجَدُ مِنَ الدَّجَاجِ.







## الموضوع الثالث

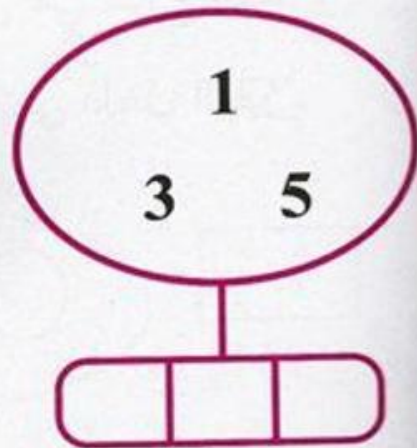
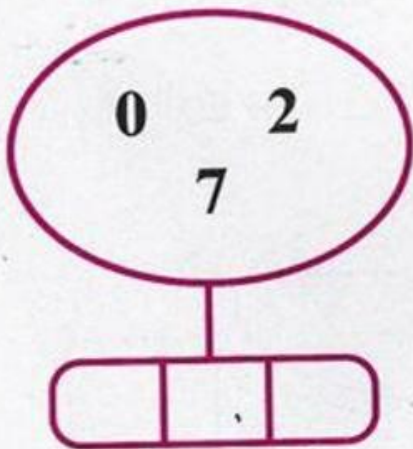
أَكْتُبْ عَدَدَ الْأَشْيَاءِ فِي كُلِّ بَطَّاقَةٍ.

التمرين الأول:



أَلْحِظْ وَأَرْتَبْ الْأَعْدَادَ مِنَ الْأَصْغَرِ إِلَى الْأَكْبَرِ:

التمرين الثاني:





ألون الجواب الصحيح :

التمرين الثالث :



لا

نعم

(1) الخبز على الطاولة.

لا

نعم

(2) الدجاجة فوق الطاولة.

لا


نعم

(3) الفراشة تحت الطاولة.

التمرين الرابع :

• ألون بالأصفر الأشكال التي هي خارج الحيز.


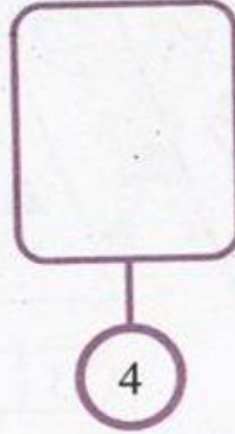
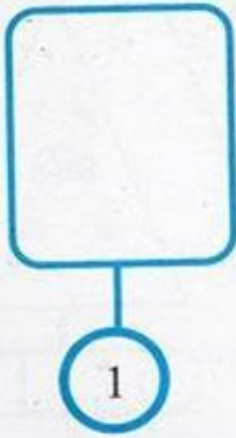
• ألون بالأزرق الأشكال التي هي داخل الحيز.






## الموضوع الرابع

تمرين الأول: أكمل رسم المثلثات بقدر العدد المكتوب :



تمرين الثاني: ضع علامة (x) في المكان المناسب :



• الفراشة فوق الفيل.

لا

نعم

• الفراشة تحت الفيل.

لا

نعم



التمرين الثالث : ألون بطاقة العدد المناسب.

7 3 1

0 7 3

5 2 4

1 6 3

0 2 6

التمرين الرابع : أرتب أشجار النخيل من الأقصر إلى الأطول.

48



## الموضوع الخامس

ألَوْنُ بِالْأَزْرَقِ الْكُرَاتِ الْمَحْمُولَةَ بِالْيَدِ الْيُمْنَى  
وَبِالْأَصْفَرِ الْكُرَاتِ الْمَحْمُولَةَ بِالْيَدِ الْيُسْرَى.

تمرين الأول:



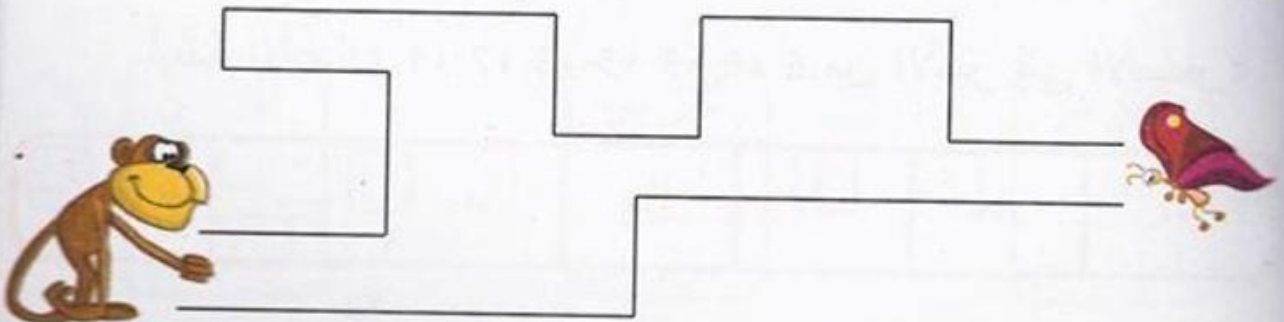
تمرين الثاني:

أَضَعُ حَيْزًا حَوْلَ الْأَشْكَالِ الْمَلَوْنَةِ بِالْأَحْمَرِ وَحَيْزًا حَوْلَ الْأَشْكَالِ  
الْمَلَوْنَةِ بِالْأَزْرَقِ وَحَيْزًا آخَرَ حَوْلَ الْأَشْكَالِ الْخَضْرَاءِ.



لَوْنُ بِالْأَخْضَرِ الطَّرِيقِ الْقَصِيرِ الَّذِي يَسْلُكُهُ الْقَرْدُ  
لِلْوَصُولِ إِلَى الْفَرَّاشَةِ :

تمرين الثالث:





## الموضوع السادس

التمرين الأول: أضع علامة × على الأشياء الزائدة:



7



8



9

التمرين الثاني:

أرتب الأعداد: 3، 1، 7، 8، 5، 9، 2 من الأصغر إلى الأكبر:


...	...	...	...	...	...	...
-----	-----	-----	-----	-----	-----	-----

أرتب الأعداد: 4، 7، 3، 5، 9، 0، 6 من الأكبر إلى الأصغر:

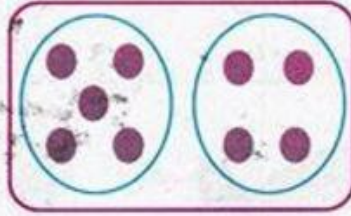
...	...	...	...	...	...	...
-----	-----	-----	-----	-----	-----	-----



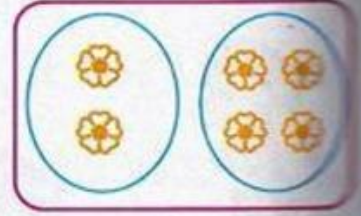
تمرين الثالث : الأخط وأصل كل بطاقة بالكتابة الجمعية المناسبة:



$5+4$

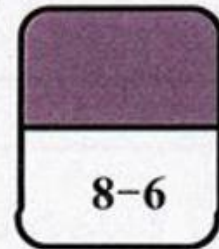
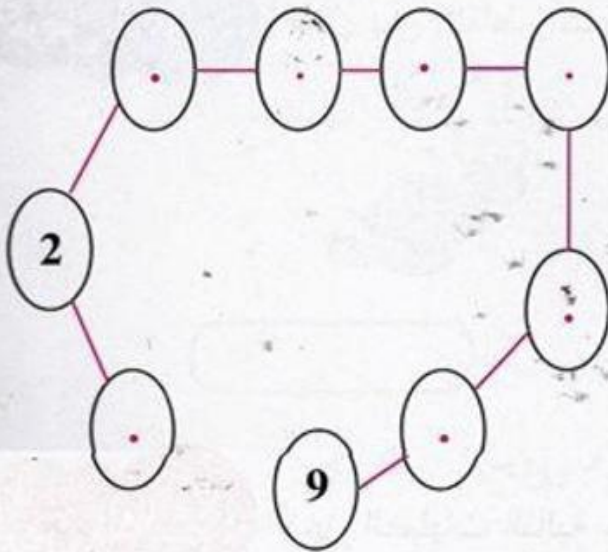


$3+6$



$2+4$

تمرين الرابع : أكمل كتابة الأعداد مرتبة في الأقراص ثم ألونها:



تمرين الخامس : لون الخانة المناسبة.

13	أكبر من	13
	يساوي	
	أصغر من	

11	أكبر من	8
	يساوي	
	أصغر من	

5	أكبر من	7
	يساوي	
	أصغر من	



## الموضوع السابع

أرتب أثمان اللعب التالية من الأكبر إلى الأصغر:

التمرين الأول:



65 ديناراً

89 ديناراً



54 ديناراً

90 ديناراً

..	..	..	..
----	----	----	----

أصل بين النقاط وأكتب اسم المضلع المتحصل عليه:

التمرين الثاني:



أنجز العمليات التالية عمودياً ثم أفقياً.

التمرين الثالث:

$$\begin{array}{r} 43 \\ + \quad .. \\ \hline = 78 \end{array}$$

$$\begin{array}{r} 12 \\ + 57 \\ \hline = .. \end{array}$$

$$\begin{array}{r} 65 \\ + 16 \\ \hline = .. \end{array}$$

.. + .. = ..

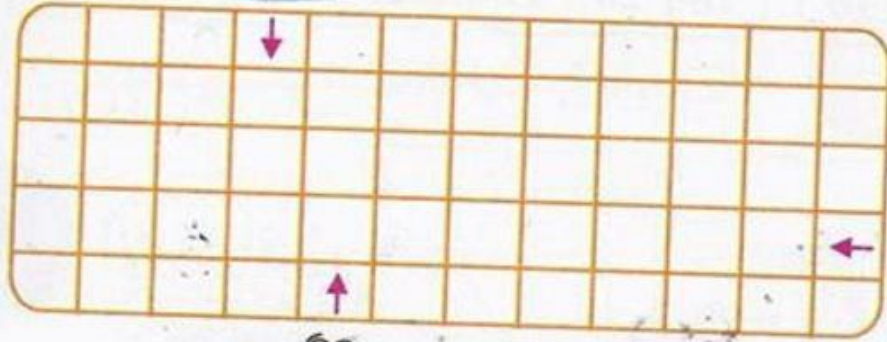
.. + .. = ..

.. + .. = ..



التمرين الرابع :

ضع إشارة ■ في خانة التقاء طريقي العصفور والأرنب وإشارة ● في خانة التقاء طريقي العصفور والسلحفاة.



شكل:

عند رضا 17 كرة، لعب مع أصحابه وبيع 22 كرة.

كم كرة صارت عند رضا؟

$$\begin{array}{r}
 .. \\
 + .. \\
 \hline
 = ..
 \end{array}$$

حل عند رضا ..... كرة



## الموضوع الثامن

ألَوِّنْ خَانَةَ الْعَدَدِ الْمُنَاسِبِ:

التمرين الأول:

12 11 10

18 20 19

19 15 16

11 12 13

الآحِظْ وَأَكْمِلْ:

التمرين الثاني:

الْعَدَدُ	رَقْمُ الْعَشْرَاتِ	رَقْمُ الْوَحَدَاتِ	عَدَدُ الْوَحَدَاتِ
14	1	4	14
12	..	..	..
16	..	..	..
...	1	7	..
..	..	..	19




أَكْتُبُ العَدَدَ أَوْ أَكْمِلُ الرَّسْمَ:

تعرين الثالث :



10 + 3




...



12

ألاحظُ وألَوِّنُ خِانةَ الإجابةِ الصَّحيحة:

تعرين الرابع :



- الطيُورُ على نَفْسِ الاستقامة.  نَعَمْ  لا
- الجمال على نَفْسِ الاستقامة.  نَعَمْ  لا
- الأشجارُ على نَفْسِ الاستقامة.  نَعَمْ  لا



## الموضوع التاسع

التمرين الأول: أكْمِلْ:


العَدَدُ الَّذِي يَسْبِقُهُ	العَدَدُ	العَدَدُ الَّذِي يَلِيهِ
...	13	...
...	16	...
...	19	...
...	11	...

التمرين الثاني:

اَكْتُبْ عَدَدَ الْأَشْيَاءِ فِي كُلِّ بَطَّاقَةٍ وَأَرْتَبْ هَذِهِ الْأَعْدَادَ فِي الشَّرِيطِ مِنَ الْأَصْغَرِ إِلَى الْأَكْبَرِ:



...



...



12

... ..



تمرين الثالث : أربط الأعداد بخط حسب ترتيبها من الأصغر إلى الأكبر:



تمرين الرابع : الأخط المثل ثم أكمل:

21	$20 + 1$	$10 + 10 + 1$
25	$.. + .$	$.. + .. + .$
29	$.. + .$	$.. + .. + .$
..	$20 + 3$	$.. + .. + .$
..	$.. + .$	$10 + 10 + 7$

تمرين الخامس :

أرتب الأعداد 13، 25، 5، 17، 22، 18، 9 من الأصغر إلى الأكبر:

..	..	..	..	..	..	..
----	----	----	----	----	----	----

أرتب الأعداد 7، 17، 23، 14، 27، 29، 3، 30 من الأكبر إلى الأصغر.

..	..	..	..	..	..	..	..
----	----	----	----	----	----	----	----




## الموضوع العاشر

### التمرين الأول:

- لَوْنُ بِالْأَزْرِقِ الْخَائَةَ الْوَاقِعَةَ فِي السَّطْرِ 2 وفي الْعَمُودِ 4.
- لَوْنُ بِالْأَخْضَرِ الْخَائَةَ الْوَاقِعَةَ فِي السَّطْرِ 3 وفي الْعَمُودِ 5.
- ضَعُ الْإِشَارَةَ × فِي الْخَائَةِ الْوَاقِعَةَ فِي السَّطْرِ 1 وفي الْعَمُودِ 2.

3					
2					
1					
	1	2	3	4	5

### التمرين الثاني : أكْمِلْ بِإِحْدَى الْعِبَارَتَيْنِ: أَثْقَلُ مِنْ، أَخْفُ مِنْ :



الْفَرَّاشَةُ ..... الْأَرْزَبِ.

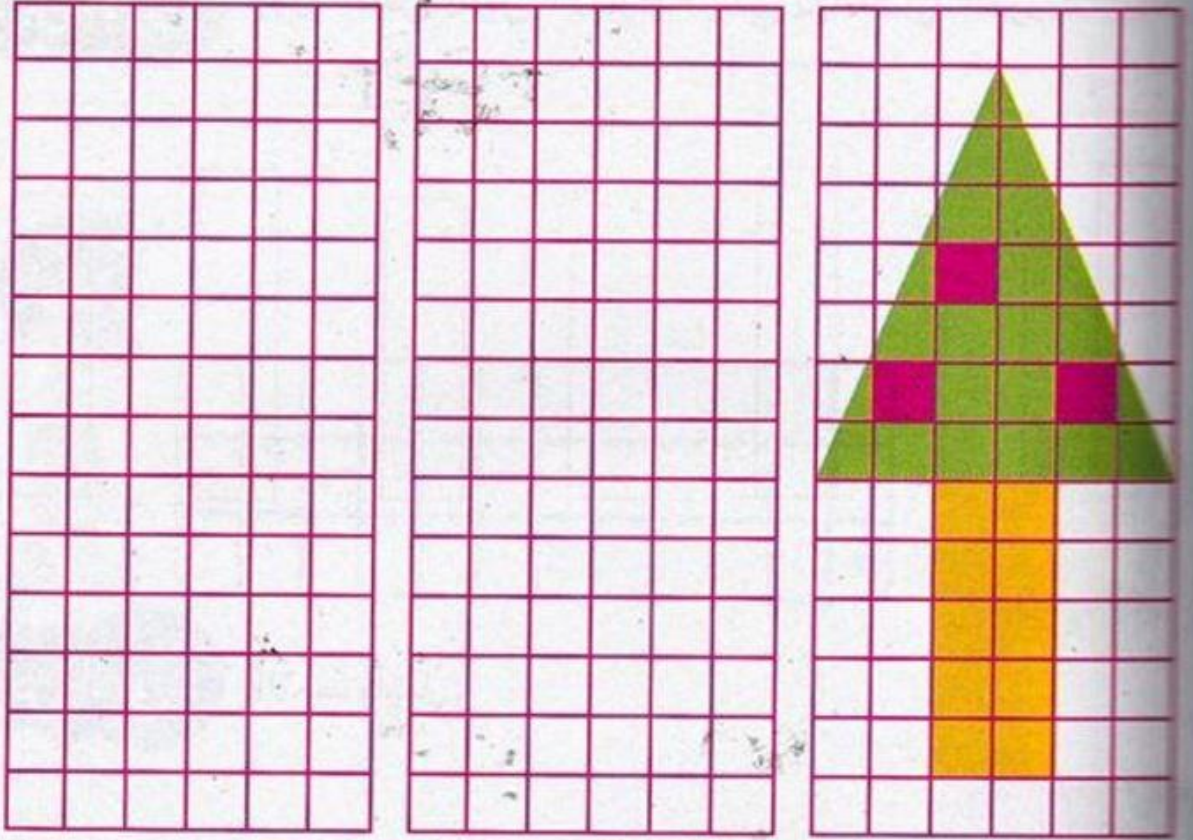
الْكَبْشُ ..... الْكَلْبِ.

الْكَبْشُ ..... الْبَقْرَةَ.

الْكَلْبُ ..... الْأَرْزَبِ.



التحريث الثالث : ألاحظ وأكمل الرسم على المرصوفتين ثم ألون:




التحريث الرابع : تتبّع فلة المسلك المُمثّل بالأسنهم.



فلة

تتبع هذا المسلك والزهرة التي تصل إليها.

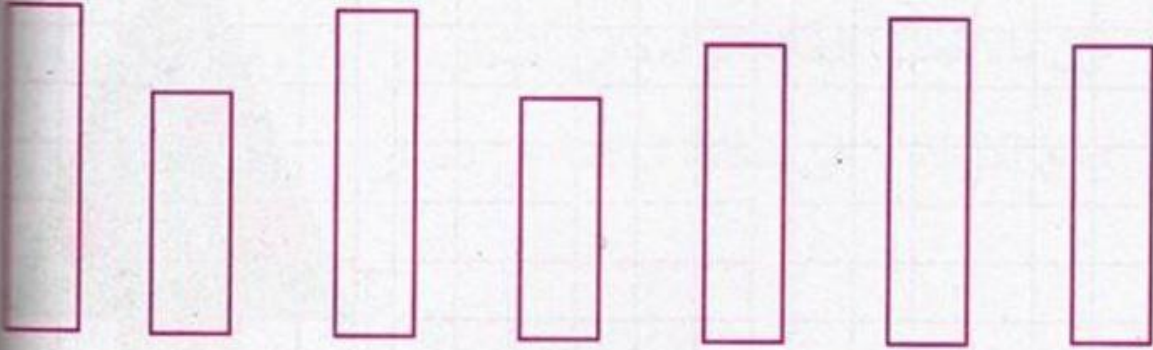




## الموضوع الحادي عشر

لَوْنُ بِنَفْسِ اللَّوْنِ الْأَشْرَطَةِ الَّتِي لَهَا نَفْسُ الطُّولِ:

التمرين الأول:



الأحظُ وَأَكْمَلُ:


التمرين الثاني:



ماي 2014	
السَّبْتُ	24
الأَحَدُ	...
.....	....
.....	....
.....	....
.....	....
.....	....



تمرين الثالث : أرسمُ الطريقَ الذي يُؤدي إلى الكنز :



تمرين الرابع :

باع تاجر 45 حبة موز صباحا و 32 حبة موز بعد الظهر .  
كم حبة موز باعها التاجر في اليوم ؟



أضع العملية عموديا و أنجزها :

$$\begin{array}{r}
 \dots\dots\dots \\
 + \quad \dots\dots\dots \\
 \hline
 = \quad \dots\dots\dots
 \end{array}$$

الإجابة :

باع التاجر ..... حبة موز في اليوم.



## الموضوع الثاني عشر

أكمل الكتابة:







التمرين الأول:

83	8 عشرات و 3 وحدات	$80 + 3$
95	. عشرات و . وحدات	$.. + .$
...	. عشرات و . وحدات	$80 + 7$
90	. عشرات و . وحدات	$.. + .$
..	7 عشرات و 3 وحدات	$.. + .$

أرسم الأشكال في المرسوفة :

التمرين الثاني:


4	3	2	1	
				أ
				ب
				ج
				د
				هـ

3	هـ	
2	أ	
4	د	
3	ب	
4	ج	
1	د	



أرسم المسلك الذي يسلكه الأرنب إلى الجزرة.

التمرين الثالث :



التمرين الرابع :

اشترى أحمد طائرة ثمنها 54 ديناراً، و سيارة صغيرة ثمنها 45 ديناراً.



54 ديناراً



45 ديناراً

$$\begin{array}{r}
 \dots\dots\dots \\
 + \quad \dots\dots\dots \\
 \hline
 = \quad \dots\dots\dots
 \end{array}$$

احسب ثمن كل ما اشتراه أحمد.

ثمن الطائرة و السيارة معا هو : ..... ديناراً.