



فيفري: 2015

المستوى : الثانية ابتدائي (2AP)

اختبار رقم 2 للفصل الثاني في مادة الرياضيات

التمرين الأول :

- أنجز العمليات التالية عموديا :

$$(237 + 263) - (172 + 253) - (292 + 108)$$

$$\begin{array}{r} \dots\dots\dots \\ + \\ \dots\dots\dots \\ \hline \end{array} \quad \begin{array}{r} \dots\dots\dots \\ + \\ \dots\dots\dots \\ \hline \end{array} \quad \begin{array}{r} \dots\dots\dots \\ + \\ \dots\dots\dots \\ \hline \end{array}$$

التمرين الثاني :

أ- أكتب جميع الأعداد المحصورة بين 160 – 210 ، ورقم أحادها 3.

<..... < <..... < <..... < <..... < <..... < <..... <

ب – إملأ الفراغ بعدد زوجي .

$$335 > \dots\dots\dots > 329$$

$$1991 < \dots\dots\dots < 209$$

$$469 > \dots\dots\dots > 461$$

□ التمرين الثالث :

أ- أقيس و أكتب طول كل خط.

- طول أ =

- طول ب =

ب - جد و ارسم طول (ج) مع العلم أنه نصف طول المستقيم (أ).

- طول ج =

.....

□ التمرين الرابع :

أ- أتم إلى العشرة الموالية .

52
----	-------

37
----	-------

19
----	-------

ب - أكتب مايلي بالأعداد و بالحروف.

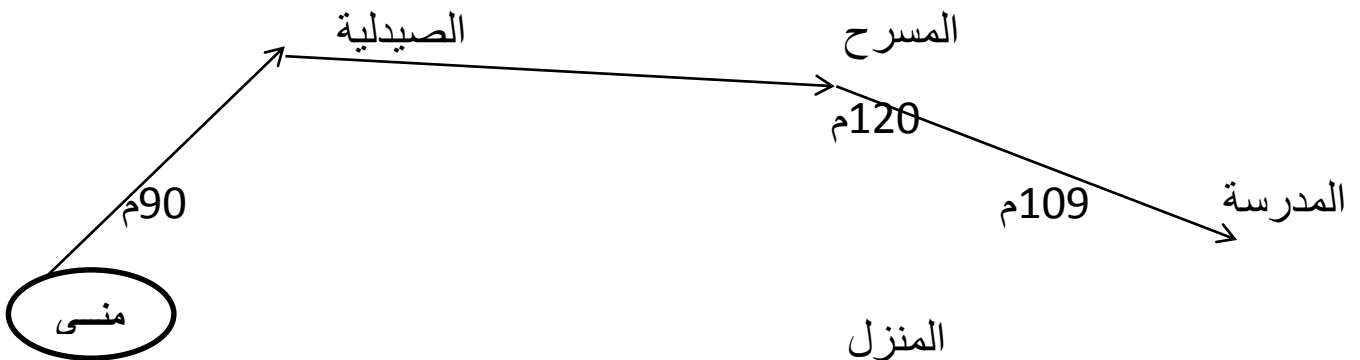
.....429

..... مائة و خمسة و أربعون

..... ثلاثة مائة و تسعة و ثمانون

□ الوضعية الإدماجية :

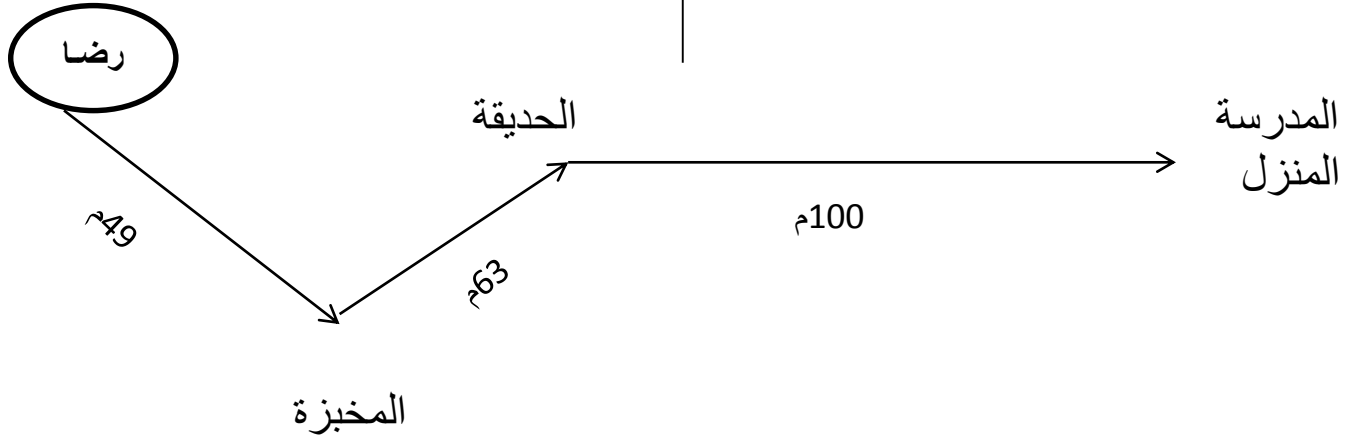
تخرج منى و رضا من المنزل إلى المدرسة ، و يمران عبر طريقين مختلفين .



حي قعلول - برج البحري - الجزائر

الصفحة

- أحسب المسافة التي تقطعها منى ؟



- أحسب المسافة التي يقطعها رضا ؟

- قارن بين المسافتين ؟

- من قطع أطول مسافة ؟



الجمهورية الجزائرية الديمقراطية الشعبية

وزارة التربية الوطنية

مؤسسة التربية و التعليم الخاصة سليم

ETABLISSEMENT PRIVE D'EDUCATION ET D'ENSEIGNEMENT SALIM

www.ets-salim.com 021 87 10 51 021 87 16 89 Hai Galloul - bordj el-bahri alger

رخصة فتح رقم 1088 بتاريخ 30 جانفي 2011

تحضيري - ابتدائي - متوسط - ثانوي

إعتماد رقم 67 بتاريخ 06 سبتمبر 2010

التصحيح النموذجي للاختبار رقم 2 للفصل الثاني في مادة الرياضيات

التمرين الأول: 1.5 ن

- أنجز العمليات التالية عموديا :

$$(292 + 108) - (172 + 253) - (237 + 263)$$

263	253	108
+	+	+
<u>237</u>	<u>172</u>	<u>292</u>
500	425	400

التمرين الثاني: 2.5 ن

أ- أكتب جميع الأعداد المحصورة بين 160 - 210 ، ورقم أحادها 3.(1.75 ن)

160 <	163	173	183	193	103	< 210
-------	-----	-----	-----	-----	-----	-------

ب - إملأ الفراغ بعدد زوجي .(0.75 ن)

$$335 > 334 - 332 - 330 > 329$$

$$199 < 200 - 202 - 204 - 206 - 208 < 209$$

الصفحة

حي قعلول - برج البحري - الجزائر

Web site : www.ets-salim.com /021.87.16.89 : Tel-Fax : 021.87.10.51 : ☎

□ التمرين الثالث : 1.5 ن

أ- أقيس و أكتب طول كل خط.

- طول أ = 6 سم (0.5)

- طول ب = 5 سم (0.5)

ب - جد و ارسم طول (ج) مع العلم أنه نصف طول المستقيم (أ).

- طول ج = 3 سم (0.25 ن) الرسم (0.25 ن)

□ التمرين الرابع : 1.5 ن

أ- أتم إلى العشرة الموالية. (0.75)

52	8
----	---

37	3
----	---

19	1
----	---

ب - أكتب ما يلي بالأعداد و بالحروف. (0.75 ن)

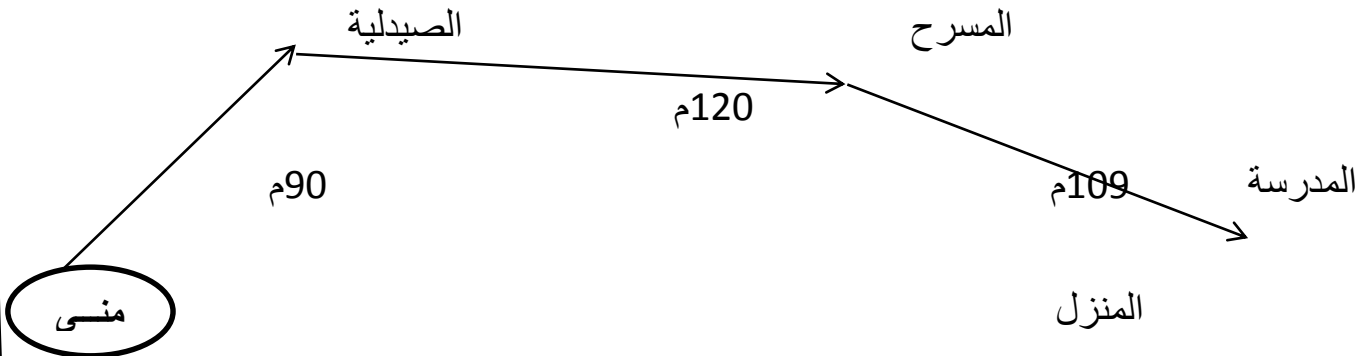
429 : أربعة مائة و تسعة و عشرون

مائة و خمسة و أربعون : 145

ثلاثة مائة و تسعة و ثمانون : 389

□ الوضعية الإدماجية : 3 ن

تخرج منى و رضا من المنزل إلى المدرسة ، و يمران عبر طريقين مختلفين .



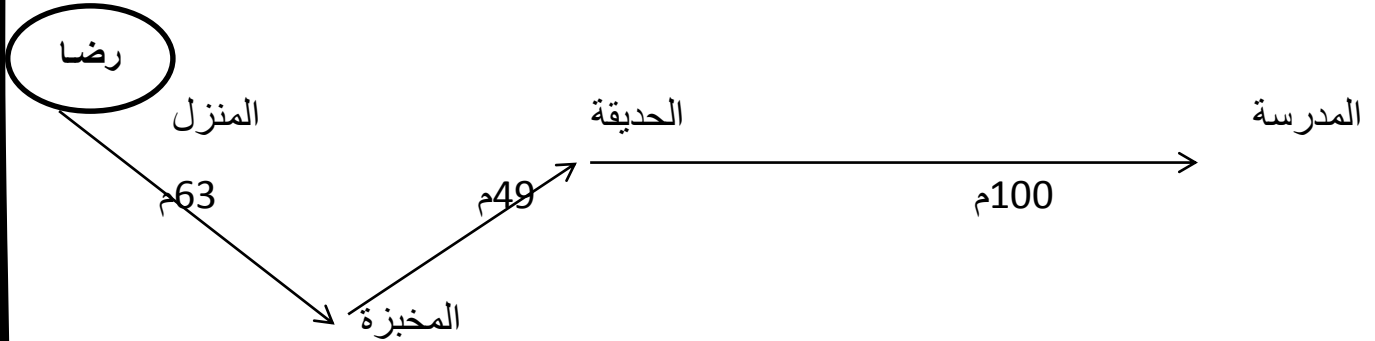
- أحسب المسافة التي تقطعها منى ؟ 1ن

الصفحة

$$90 + 120 + 109 = 319$$

المسافة التي قطعتها منى هي : 319م

$$\begin{array}{r} 90 \\ + 120 \\ \hline 109 \\ \hline 319 \end{array}$$



- أحسب المسافة التي يقطعها رضا ؟ (1ن)

$$63 + 49 + 100 = 212$$

- المسافة التي يقطعها رضا هي : 212م

$$\begin{array}{r} 63 \\ + 49 \\ \hline 100 \\ \hline 212 \end{array}$$

- قارن بين المسافتين ؟ (0.5ن)

$$212 < 319$$

- من قطع أطول مسافة ؟ (0.5ن)

- قطعت منى أطول مسافة .