

المادة: الرياضيات

المستوى : الثانية ابتدائي

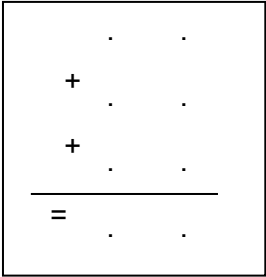

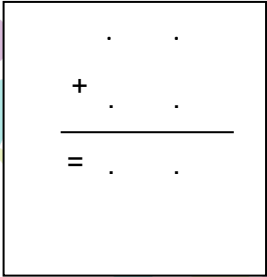
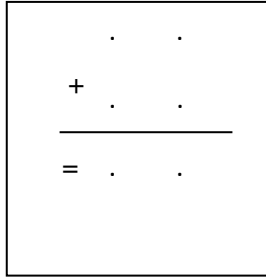
الاسم واللقب:

التاريخ: 2022/03/14

اختبار الفصل الثاني

التّمرين الأول:

أحسب عمودياً.

$13+5 + 6 = \dots\dots\dots$	$37 + 43 = \dots\dots\dots$	$61 + 92 = \dots\dots\dots$	$28 + 32 = \dots\dots\dots$
			

التّمرين الثاني:

أ) أحصر بين عَشْرَتَيْنِ مُتتَالِيَتَيْنِ. "الرجاء والتفوق" الخاصة

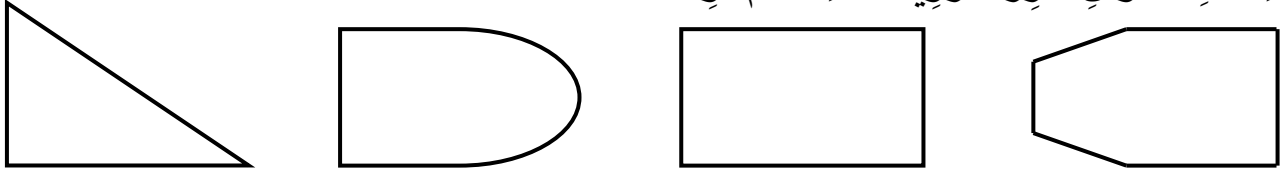
..... < 651 <
..... < 267 <
..... < 128 <
..... < 449 <

ب) أحصر بين مِئَتَيْنِ مُتتَالِيَتَيْنِ.

..... < 567 <
..... < 375 <
..... < 739 <
..... < 130 <

التّمرين الثالث:


بِاسْتِعْمَالِ الْكُوسِ أَبْرِزِ الزَّوَيَةَ الْقَائِمَةَ ثُمَّ لَوْنُهَا.



التّمرين الرابع:

رَتِّبِ الأَعْدَادَ تَرْتِيبًا صَحِيحًا.

281 – 125 – 730 – 360 – 551 – 400



التّمرين الخامس:

اُكْتُبِ الأَعْدَادَ بِالْأَرْقَامِ وَبِالْحُرُوفِ.

م	ع	و
.....
.....		

الْوَضْعِيَّةُ الْمُشْكَلَةُ:

تَمَلِّكُ لَيْلَى 14 قُرَيْصَةً، قَالَتْ لَهَا صَدِيقَتُهَا مَنَالُ: "أَنَا عِنْدِي ضِعْفُ مَا عِنْدَكَ مِنَ الْقُرَيْصَاتِ".
كَمْ قُرَيْصَةً تَمَلِّكُ مَنَالُ؟

الجواب

الحل

العملية

..... =
تَمَلِّكُ مَنَالُ قُرَيْصَةً.

.	.
+	.

.	.

=

(1+ على حسن الخط ونظافة الورقة)

المادة: الرياضيات
المستوى : الثانية ابتدائي

الاسم واللقب:
التاريخ: 2022/03/14

تصحیح اختبار الفصل الثاني

التّمرين الأول:

أحسب عمودياً.

$13 + 5 + 6 = 24$	$37 + 43 = 80$	$61 + 29 = 90$	$28 + 33 = 61$
$\begin{array}{r} 13 \\ + 5 \\ + 6 \\ \hline = 24 \end{array}$	$\begin{array}{r} 37 \\ + 43 \\ \hline = 80 \end{array}$	$\begin{array}{r} 61 \\ + 29 \\ \hline = 90 \end{array}$	$\begin{array}{r} 28 \\ + 33 \\ \hline = 61 \end{array}$

مدرسة "الرجاء والتفوق" الخاصة

Ecole Erradja wa Tafaouk
ÉCOLE PRIVÉE

التّمرين الثاني:

أحصر.

(أ) بَيْنَ عَشْرَتَيْنِ مُتتَالِيَتَيْنِ

$$120 < 128 < 130$$

$$650 < 651 < 660$$

$$440 < 449 < 450$$

$$260 < 267 < 270$$

(ب) بَيْنَ مِئَتَيْنِ مُتتَالِيَتَيْنِ

$$700 < 739 < 800$$

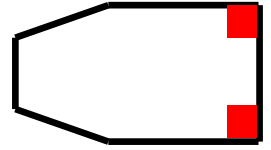

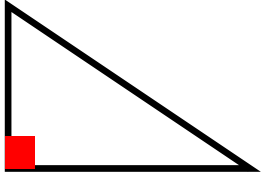
$$500 < 567 < 600$$

$$100 < 130 < 200$$

$$300 < 375 < 400$$

التّمرين الثالث:


بِاسْتِعْمَالِ الْكُوسِ أَبْرِزِ الزَّوَيَةَ الْقَائِمَةَ ثُمَّ لَوْنُهَا



التّمرين الرابع:

رَتِّبْ تَرْتِيباً صَاحِباً.

281 - 125 - 730 - 360 - 551 - 400



125 - 281 - 360 - 400 - 551 - 730

التّمرين الخامس:

اُكْتُبِ الأَعْدَادِ بِالْأَرْقَامِ وَبِالْحُرُوفِ.

م	ع	و	م	ع	و	م	ع	و
3	3	5	2	4	8	1	3	6
ثلاث مائة وخمسة وثلاثون			مئتان وثمانية وأربعون			مائة وستة وثلاثون		

الْوَضْعِيَّةُ الْمُشْكَلَةُ:

تَمَلِّكُ لَيْلَى 14 قُرَيْصَةً، قَالَتْ لَهَا صَدِيقَتُهَا مَنَانُ أَنَا عِنْدِي ضِعْفُ مَا عِنْدَكَ مِنْ الْقُرَيْصَاتِ. كَمْ قُرَيْصَةً تَمَلِّكُ مَنَانُ؟

الجواب

$$14 + 14 = 28$$

تَمَلِّكُ مَنَانُ 28 قُرَيْصَةً.

الحل

العملية

$$\begin{array}{r} 14 \\ + 14 \\ \hline 28 \end{array}$$

(+1 نقطة لنظافة الورقة)