

ابتدائية : بن شيخة مصطفى

اللقب: الاسم:

المستوى: السنة الثانية ابتدائي

النقطة:/10

السنة الدراسية: 2021/2022

اختبار الفصل الثاني في مادة الرياضيات

❖ الوضعية الأولى: (أ) - أكمل الجدول : (02 نقاط)

العَدُّ بِالْأَرْقَامِ	العَدُّ بِالْحُرُوفِ	تَفَكِّيكُ العَدِّ
245+.....+.....
.....	مِائَةٌ وَسِتَّةٌ وَسَبْعُونَ+.....+.....

(ب) قَارِنُ بَيْنَ الأَعْدَادِ التَّالِيَةِ:

182..... 105

274.....452

❖ الوضعية الثانية: أَنْجِزِ العَمَلِيَّاتِ التَّالِيَةَ : (02 نقاط)

$$\begin{array}{r} 378 \\ - 102 \\ \hline \end{array}$$

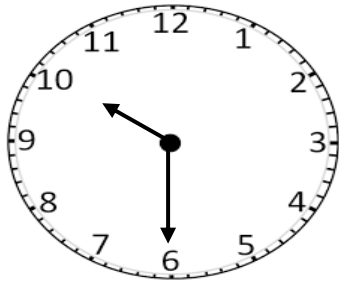
$$\begin{array}{r} 89 \\ - 61 \\ \hline \end{array}$$

$$\begin{array}{r} 265 \\ + 416 \\ \hline \end{array}$$

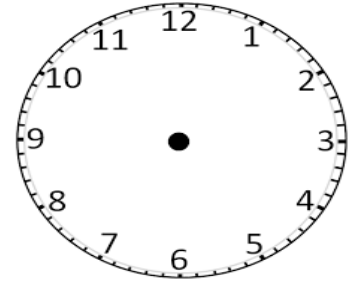
$$\begin{array}{r} 45 \\ + 23 \\ \hline \end{array}$$

❖ الوضعية الثالثة: (1.5 نقاط)

1- ارْسُمْ عَرَبِ السَّاعَةِ المُنَاسِبِ وَأَكْتُبْ بِالْأَرْقَامِ:

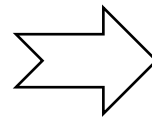


.....:..... صباحا



08:00 صباحا

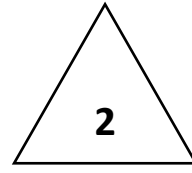
2- أَحْسِبْ المَبْلَغَ :



..... ديناراً

❖ الوضعية الرابعة : أكمل ملء الجدول : (1.5ن)

الشكل	إسمه	عدد الأضلاع
1		
2		
3		



❖ الوضعية الادماجية : (03 نقاط)

بمناسبة عيد المرأة، أردت شراء بطاقة تهنئة لوالدتك وكان ثمنها: 77 دينارًا. علمًا أنك تملك 89 دينارًا .

- كم يبقى معك بعد شراء البطاقة ؟

الأجوبة

الحل

العمليات

.....
- بقي معي بعد شراء البطاقة دينارًا.

.....
.....

=

بالتوفيق