



المستوى: الثانية ابتدائي (2AP) مارس 2022

اختبار الفصل الثاني في مادة الرياضيات

اللقب: الاسم: القسم:

التمرين الأول:

أنجز العمليّات:

$$\begin{array}{r}
 789 \\
 - \\
 \hline
 214 \\
 =
 \end{array}
 \qquad
 \begin{array}{r}
 586 \\
 - \\
 \hline
 46 \\
 =
 \end{array}
 \qquad
 \begin{array}{r}
 325 \\
 - \\
 \hline
 101 \\
 =
 \end{array}$$

التمرين الثاني: أفكك و أكمل بالكتابة الحرفيّة:

ثلاثمائة وخمسة وأربعون+.....+ 5	345
.....	500 + 20 + 1	...
..... + 60 + 8	968

التمرين الثالث: أكمل ما يلي:

- ضعف 50 هو:
- نصف 84 هو:
- ضعف 9 هو:
- نصف 92 هو:




التمرين الرابع:

أملأ الفراغات :

- ساعتان = دقيقة.
- يوم = ساعة.
- نصف ساعة = دقيقة.

التمرين الخامس:

ألاحظ الجدول ثم أكمل الناقص:

الشكل	اسمه	عدد الزوايا القائمة




المشكلة:

بمناسبة عيد المرأة، أراد أحمد وليلى شراء هدية لأُمهما، فجمع أحمد 220 دج وجمعت ليلى ضعف المبلغ.

- أحسب المبلغ الذي جمعته ليلى.
- أحسب المبلغ الذي جمعه معاً.
- مثل بالقطع النقدية مبلغ أحمد.

الأجوبة

الحل

العمليات

.....
.....
.....
.....
.....

بالتوفيق.

التصحيح النموذجي

التمرين الأول:

أنجز العمليّات:

$$\begin{array}{r} 325 \\ - 101 \\ \hline = 224 \end{array} \quad \begin{array}{r} 586 \\ - 46 \\ \hline = 540 \end{array} \quad \begin{array}{r} 789 \\ - 214 \\ \hline = 575 \end{array}$$

أفكك وأكمل بالكتابة الحرفيّة:

التمرين الثاني:

ثلاثمائة وخمسة وأربعون	$300 + 40 + 5$	345
خمسمائة وواحد وعشرون	$500 + 20 + 1$	521
تسعمائة وثمانية وستون	$900 + 60 + 8$	968

أكمل ما يلي:

التمرين الثالث:

- ضعف 50 هو: 100
- نصف 84 هو: 42
- ضعف 9 هو: 18
- نصف 92 هو: 46

التمرين الرابع:

أملأ الفراغات :

- ساعتان = 120 دقيقة.
- يومٌ = 24 ساعة.
- نصف ساعة = 30 دقيقة .

التمرين الخامس:

ألاحظ الجدول ثم أكمل الناقص:

الشكل	اسمه	عدد الزوايا القائمة
	مثلث	1
	دائرة	0.
	مستطيل	4

المشكلة:

بمناسبة عيد المرأة، أراد أحمد وليلى شراء هدية لأُمهما، فجمع أحمد 220 دج وجمعت ليلى ضعف المبلغ.

- أحسب المبلغ الذي جمعه ليلى.
- أحسب المبلغ الذي جمعه معا.
- مثل بالقطع النقدية مبلغ أحمد.

الأجوبة

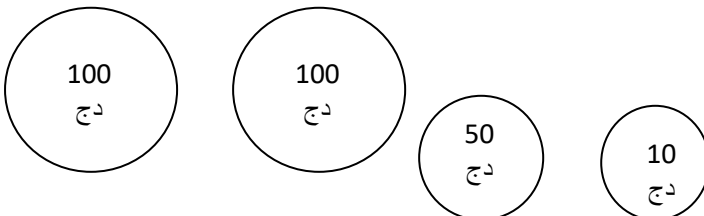
$$220 + 220 = 440$$

المبلغ الذي جمعه ليلى: 440 ديناراً

$$440 + 220 = 660$$

المبلغ الذي جمعه معا: 660 ديناراً

التمثيل:



الحل

العمليات

