



ديسمبر، 2019

المستوى: الثانية ابتدائي مكيفة، 2AP1 adaptée

اختبار الفصل الأول في مادة الرياضيات

الاسم و اللقب : .....

التمرين الأول : أنجز العمليات الآتية (2ن)

$5 + 4 = ..$

$7 + 3 = ..$

$3 + 5 = ..$

$6 + 0 = ..$

التمرين الثاني : أخط أكبر عدد في المجموعة (1.25)

29 30  
2 8 35

25 20  
23 21

13 18  
10 16

التمرين الثالث : أكمل العدد الناقص (1.25ن)

17 . 19

20 21 .

25 . .

30 . 32

التمرين الرابع : أربط كل عدد بما يناسبه (2ن)

سبعة و ثلاثون

ثلاثة و عشرون

واحد و ثلاثون

خمسة عشر

15

31

23

37

التمرين الخامس : أوجد ضِعْفُ الأَعْدَادُ التَّالِيَةِ (1.5ن)

\*ضِعْفُ العدد 4 هو ..... ضِعْفُ العدد 6 هو ..... ضِعْفُ العدد 7 هو .....

التمرين السادس : أكتب الأَرْقَامَ بِالْحُرُوفِ (2ن)

العدد بالأرقام	العدد بالحروف
9	.....
17	.....
25	.....
30	.....

بالتوفيق تلاميذي الأعزاء



حي فقلول - برج البحري - الجزائر

Web site : [www.ets-salim.com](http://www.ets-salim.com) /021.87.16.89 : الفاكس : Tel-Fax : 021.87.10.51 : ☎

## تصحيح اختبار في مادة الرياضيات

التمرين الأول : أنجزِ العمليّات الآتية (2ن)

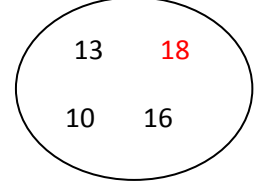
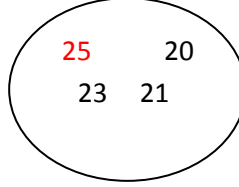
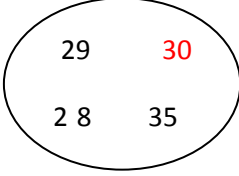
$5 + 4 = 9$

$7 + 3 = 10$

$3 + 5 = 8$

$6 + 0 = 6$

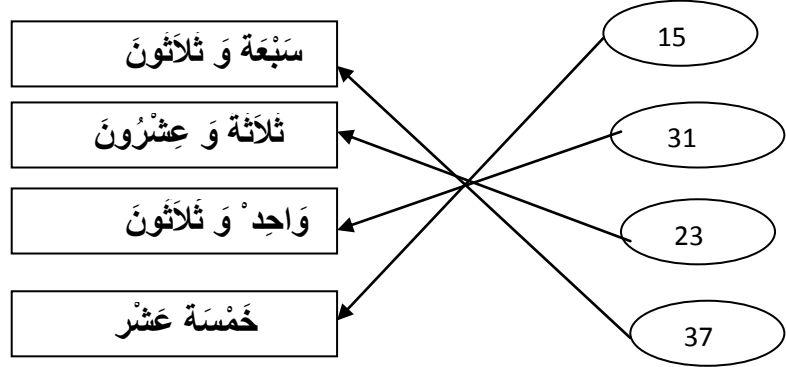
التمرين الثاني : أخط أكبر عدد في المجموعة (1.25)



التمرين الثالث : أكمل العدّد الناقص (1.25ن)



التمرين الرابع : أربط كل عدد بما يُناسِبُه (2ن)



التمرين الخامس : أوجد ضِعْفُ الأعداد التّالية (1.5ن)

ضِعْفُ العدد 7 هو 14

ضِعْفُ العدد 6 هو 12

\*ضِعْفُ العدد 4 هو 8

التمرين السادس : أكتب الأرقام بالحروف. (2ن)

العدد بالأرقام	العدد بالحروف
9	تِسْعَة
17	سَبْعَة عَشْر
25	خَمْسَة وَ عِشْرُون
30	ثَلَاثُونَ