

الإمضاء الولي:	العلامة:	مدرسة : الإخوة نوارية - المقطع - الرصيفة. السنة الدراسية : 2020/2019. الأستاذ: عوج عبد الصمد	الاسم: اللقب: المستوى: الثانية ابتدائي
2020 / 03 / 08			

إختبار الفصل الثاني في مادة الرياضيات

1- التمرين الأول: اكتب الأعداد بالحروف وبالرقم:

مئة: ، 79:

خمسة مئة وخمسة عشر: ، 420:

2- التمرين الثاني: أحسب العمليات التالية:

$\begin{array}{r} 562 \\ - 352 \\ \hline = \end{array}$	$\begin{array}{r} 98 \\ - 46 \\ \hline = \end{array}$	$\begin{array}{r} 78 \\ - 67 \\ \hline = \end{array}$	$\begin{array}{r} 456 \\ + 543 \\ \hline = \end{array}$	$\begin{array}{r} 78 \\ + 54 \\ \hline = \end{array}$	$\begin{array}{r} 72 \\ + 37 \\ \hline = \end{array}$
---	---	---	---	---	---

3- التمرين الثالث: قارن بين الأعداد باستعمال الرمزين: $>$ أو $<$ أو $=$:

99.....100 56.....65 88..... 78
900.....800 659659 728487

4- التمرين الرابع: اكتب الأعداد في جدول المراتب:

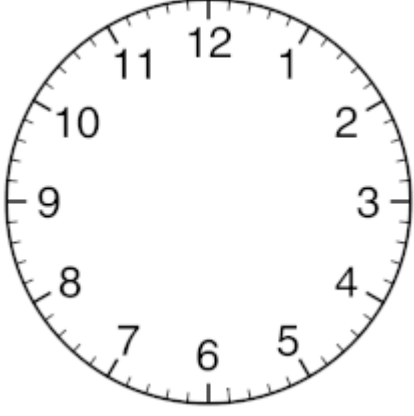

خمسة مئة وأربعة وتسعون

م	ع	و

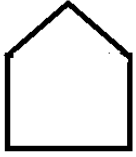
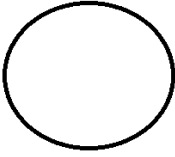


مئة وواحد وعشرون

م	ع	و

5- التمرين الخامس: اقرأ الساعة جيّدًا وأكمل الجدول:

	
9:15

6- التمرين السادس: أكمل الجدول:

				الشكل
				عدد الأضلاع
				عدد الرؤوس
				عدد الزوايا القائمة

بالتوفيق أبنائي وبناتي