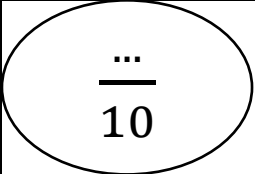


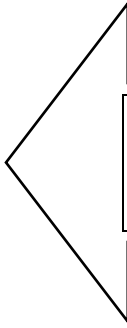
<div style="text-align: center;">  <p>العلامة:</p> </div>	<p>الاسم:</p>
	<p>اللقب:</p>
<p>2019 / 12 / 05</p>	<p>المستوى: الثالثة ابتدائي.</p>
<p>مدرسة: الإخوة نواورية - المقطع - الرصيفة.</p>	
<p>السنة الدراسية: 2020/2019.</p>	
<p>الأستاذ: عوج عبد الصمد</p>	

إختبار الفصل الأول في التاريخ الجغرافيا

أ- تاريخ

1- التمرين الأول: ضع فصول السنة في خط زمني:

الربيع - الخريف - الصيف - الشتاء



.....
-------	-------	-------	-------

2- التمرين الثاني: أكمل أشهر السنة في الجدول:

فيفري - جويلية - ديسمبر - مارس - نوفمبر - ماي
- أوت - جانفي - أفريل - أكتوبر - جوان - سبتمبر

.....	2	1
.....	4	3
.....	6	5
.....	8	7
.....	10	9
.....	12	11

ب-جغرافيا

1- التمرين الأول: أكمل الفراغ بما يلي: يَمِين - وَرَاء - يَسَار - أَمَامَ

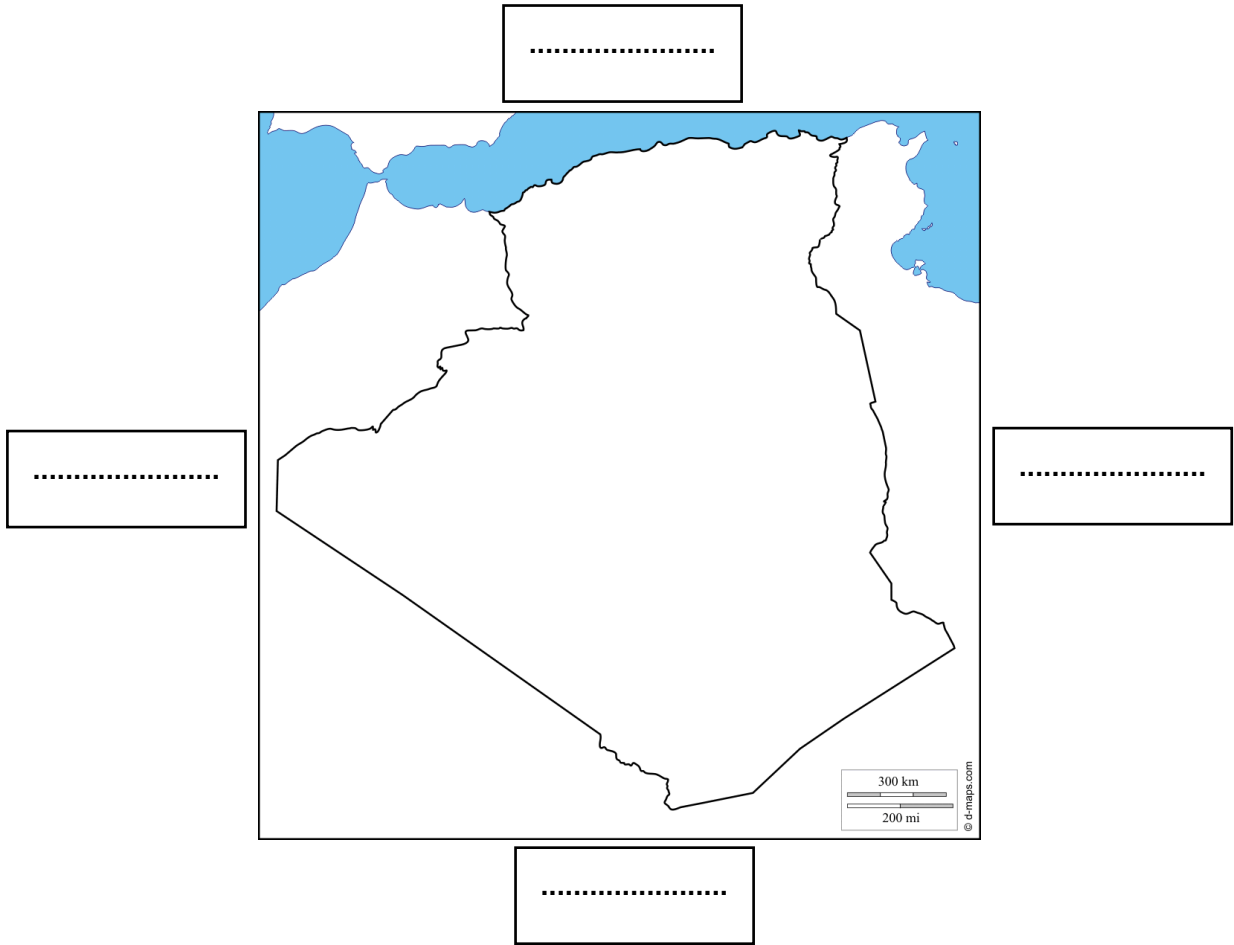
- الْخِزَانَةُ التَّلَامِيذ.

- الْمَكْتَبُ التَّلَامِيذ.

- تَجْلِسُ سَارَةً بَسْمَةً.

- يَجْلِسُ مُحَمَّدٌ فَاطِمَةَ.

2- التمرين الثاني: املأ الفراغ، -: جنوب-شمال-شرق-غرب



بالتوفيق أبنائي وبناتي