



Etablissement privé d'éducation et d'enseignement - L'Opiniâtre

المؤسسة الخاصة للتربية و التعليم - أوبينياتر



المستوى: الثانية ابتدائي (2AP) فيفري 2020

فرض الفصل الثاني في الرياضيات

التمرين الأول: (1.5 ن)

أنجزُ العمليّات التّاليّة:

43	27	29	105	110	183
<u>+ 27</u>	<u>+12</u>	<u>+25</u>	<u>+ 53</u>	<u>+ 70</u>	<u>+ 16</u>

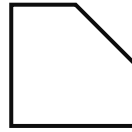
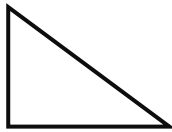

التمرين الثاني: (2.5 ن)

أملأ الجدول التّالي:

ضعفه	العدد	نصفه
	20	
	10	
	40	
	50	
	30	

التمرين الثالث: (1.5 ن)

عَيّن الزّوايا القائمة بوضع علامة (□)



التمرين الرابع: (2ن)

أرْبِطْ كُلَّ عَدَدٍ بِالْكَتَابَةِ الْهَجَائِيَّةِ الْمُنَاسِبَةِ لَهُ:

- 127 - مائة وأربعة وأربعون.
113 - مائة وتسعون.
144 - مائة وثلاثة عشر.
190 - مائة وسبعة وعشرون.

المشكلة: (2.5ن)

يُوجَدُ فِي حَصَالَةِ مَرْوَانَ 180 دِينَارًا وَيُوجَدُ فِي حَصَالَةِ إِيْمَانَ ضِعْفَ مَبْلَغِ مَرْوَانَ.

- كَمْ تَمْلِكُ إِيْمَانَ؟

أَرَادَتْ شِرَاءَ هَدِيَّةٍ لِأُخِيهَا الْأَصْغَرَ تَمَنُّهَا 240 دِينَارًا.

- هَلْ تَسْتَطِيعُ شِرَاءَ هَا؟

- إِذَا كَانَتْ الْإِجَابَةُ نَعَمْ، مَا هُوَ الْمَبْلَغُ الْمُتَبَقِي مَعَهَا؟

بالتوفيق

التصحيح النموذجي و سلم التتقيط

التمرين الأول: (1.5ن) أنجزُ العَمَلِيَّاتِ التَّالِيَةَ:

43	27	29	105	110	183
+ 27	+12	+25	+ 53	+ 70	+ 16
<hr/>	<hr/>	<hr/>	<hr/>	<hr/>	<hr/>
70	39	54	158	180	199

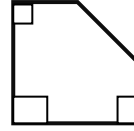
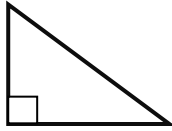
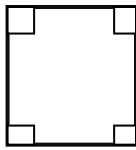
التمرين الثاني: (2.5ن)

أَمَلِّ الجَدْوَلَ التَّالِيَّ:

ضعفه	العدد	نصفه
40	20	10
20	10	5
80	40	20
100	50	25
60	30	15

التمرين الثالث: (1.5ن)

عين الزوايا القائمة بوضع علامة (□)



التمرين الرابع: (2ن)

أربطُ كُلَّ عَدَدٍ بِالكَتَابَةِ الِهَجَائِيَّةِ الْمُنَاسِبَةِ لَهُ:

- 127 - ← - مائة وأربعة وأربعون.
- 113 - ← - مائة وتسعون.
- 144 - ← - مائة وثلاثة عشر.
- 190 - ← - مائة وسبعة وعشرون.

المشكلة: (2.5ن)

$$180 + 180 = 360$$

تملك إيمان: 360 ديناراً

نعم تستطيع شراء هدية لأخيها.

$$360 - 240 = 120$$

المبلغ المتبقي معها: 120 ديناراً