



الجمهورية الجزائرية الديمقراطية الشعبية

وزارة التربية الوطنية

مؤسسة التربية و التعليم الخاصة سليم

ETABLISSEMENT PRIVE D'EDUCATION ET D'ENSEIGNEMENT SALIM

www.ets-salim.com 021 87 10 51 021 87 16 89 Hai Galloul - bordj el-bahri alger

رخصة فتح رقم 1088 بتاريخ 30 جانفي 011

عصري- ابتدائي- متوسط - ثانوي

اعتماد رقم 67 بتاريخ 06 سبتمبر 2010

المستوى : الثانية ابتدائي [2AP] ديسمبر، 2018

## اختبار الفصل الأول في مادة الرياضيات

الوضعية 1 : ( 2ن ) اكتب الأعداد التالية بالحروف أو بالأرقام

❖ 99 ..... - سبعة و خمسون .....

❖ 87 ..... - واحد و تسعون .....

❖ 63 ..... - سبعون .....

❖ 100 ..... - أربعة و أربعون .....

الوضعية 2 : (2ن) أتمم إلى العشرة المئوية حسب المثال

21	7
30	

73	....
.....	

81	....
.....	

46	....
.....	

55	....
.....	

الوضعية 3 : (1.25ن) اكتب العدد المناسب





❖ 8 عشرات و 9 وحدات هو العدد .....

❖ 5 وحدات و 9 عشرات هو العدد .....

❖ 63 فيه ..... عشرات و ..... وحدات

❖ العدد الذي رقم وحداته 0 و رقم عشراته 7 هو .....

الوضعية 4 : (1ن) لاحظ الجدول ثم املأ الفراغ بما يناسب

	1	2	3	4
أ				
ب				
ج				
د				

- المنزل في الخانة .....

- ..... في الخانة 2 ج

- الشجرة في الخانة .....

- ..... في الخانة 4 د

الوضعية 5: (1.75) فكك الأعداد التالية

$$48 = 10 + \dots + \dots + \dots + \dots$$

$$77 = \dots + \dots + \dots + \dots + \dots + \dots + \dots + \dots$$

$$99 = \dots + \dots + \dots + \dots + \dots + \dots + \dots + \dots + \dots + \dots$$

الوضعية الإدماجية: (2ن)

كان لدى أحمد 98 دينارا ، وفي طريقه إلى المدرسة رأى طفلا فقيرا

رفقة أمه يطلب صدقة ، فأشفق عليه و أعطاه 52 دينارا .

ما هو المبلغ الذي تبقى لأحمد ؟

الحل

الأجوبة

العمليات

$$\dots = \dots$$

..... هو ..... دينارا

حي فقلول - برج البحري - الجزائر

## امتحان الفصل الأول في مادة الرياضيات

الوضعية 1 : (2ن) اكتب الأعداد التالية بالحروف أو بالأرقام

❖ 99 (تسعة و تسعون) . - سبعة و خمسون 57

❖ 87 (سبعة و ثمانون) - واحد و تسعون 91

❖ 63 (ثلاثة و ستون) - سبعون 70

❖ 100 (مئة) - أربعة و أربعون 44

الوضعية 2 : (2ن) أتمم إلى العشرة المئوية حسب المثال

21	7
30	

73	7
80	

81	9
90	

46	4
50	

55	5
60	

الوضعية 3 : (1.25ن) اكتب العدد المناسب





❖ 8 عشرات و 9 وحدات هو العدد 89

❖ 5 وحدات و 9 عشرات هو العدد 95

❖ 63 فيه 6 عشرات و 3 وحدات

❖ العدد الذي رقم وحداته 0 و رقم عشراته 7 هو 70

الوضعية 4 : (1ن) لاحظ الجدول ثم املا الفراغ بما يناسب

	1	2	3	4
أ				
ب				
ج				
د				

- المنزل في الخانة أ1 .
- المقص في الخانة 2ج .
- الشجرة في الخانة 3ب .
- النجمة في الخانة 4 د .

الوضعية 5: (1.75) فكك الأعداد التالية

$$48 = 10 + 10 + 10 + 10 + 8$$

$$77 = 10 + 10 + 10 + 10 + 10 + 10 + 10 + 7$$

$$99 = 10 + 10 + 10 + 10 + 10 + 10 + 10 + 10 + 10 + 9$$

الوضعية الإدماجية: (2ن)

كان لدى أحمد 98 دينارا ، وفي طريقه إلى المدرسة رأى طفلا فقيرا  
رفقة أمه يطلب صدقة ، فأشفق عليه و أعطاه 52 دينارا .

ما هو المبلغ الذي تبقى لأحمد ؟

الأجوبة	العمليات
$98 - 52 = 46$	$\begin{array}{r} 98 \\ - 52 \\ \hline 46 \end{array}$
<p>المبلغ الذي تبقى لدى أحمد هو : 46 دينارا</p>	