


اختبار في مادة التربية العلمية

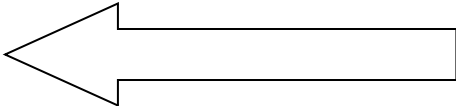


التمرين الاول = اجب بصحيح او خطأ ُ

- 1- عند ادخال الهواء النقي ينخفض صدري -----
- 2- عندما انمو تطرا على جسمي تغيرات كثيرة -----
- 3- النمو السليم لايساعدني على النجاح في دراستي -----
- 4- يمتص النبات الاخضر الماء من جذوره -----



صنف الحيوانات التالية حسب غذائها التمرين الثاني =

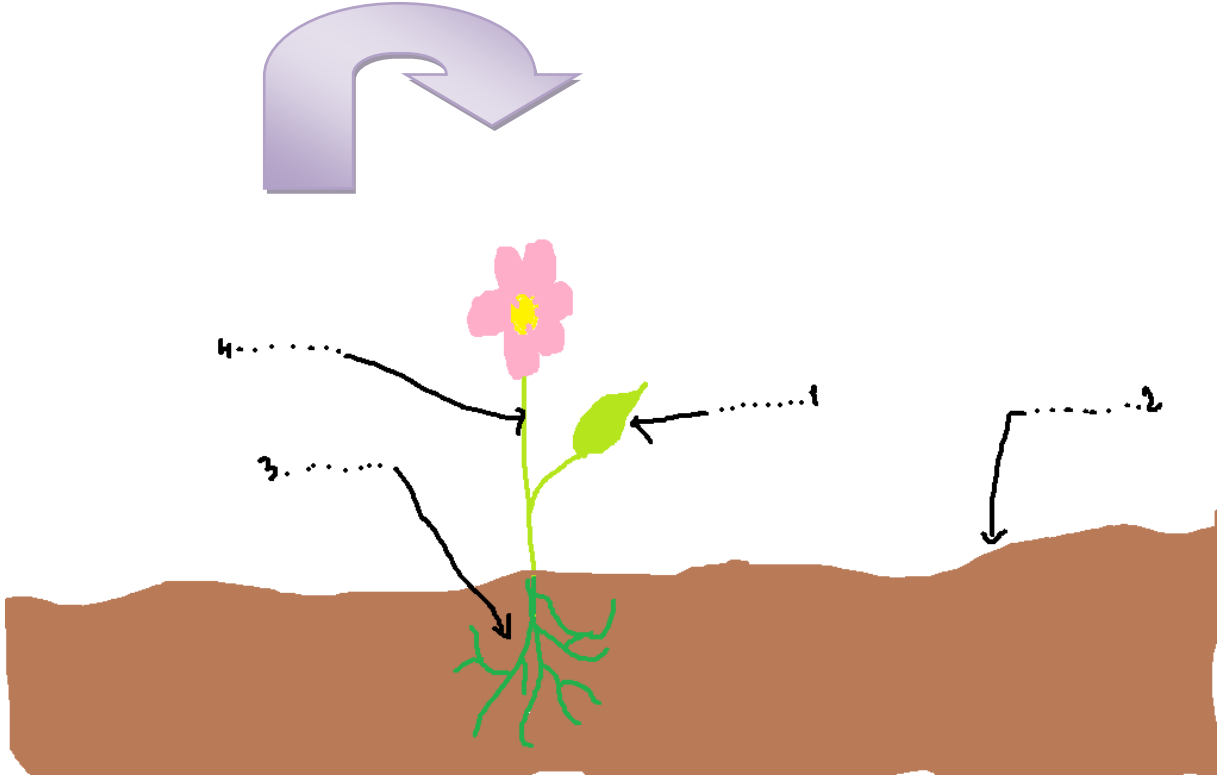


اقلب الصفحة

الاسد-الدجاجة-الخروف-الكلب-الزرافة-الضبع-الصقر-الذئب-الطيور

اكلات اللحوم	اكلات الاعشاب
-----	-----
-----	-----
-----	-----
-----	-----

التمرين الثالث= حدد مكونات الزهرة



بالتوفيق