

مدرسة : بن عمر ميده احمد

السنة الدارسية : 2019/2018

ولاية الوادي

المستوي الدراسي : السنة الثالثة ابتدائي

## امتحان الثلاثي الثاني في مادة الرياضيات

### التمرين الأول : (2ن)

أكتب الأعداد التالية بالحروف أو بالأرقام :

2958 .....

9060 .....

ثمانية الاف و سبعمائة و واحد وتسعون .....

ثلاثة الاف و عشرة .....

### التمرين الثاني : (2ن)

أتم التحويلات التالية :

$$5210g = \dots \text{ kg } \dots \text{ g}$$

$$6000g = \dots \text{ kg}$$

$$2m = \dots \text{ mm}$$

$$315 \text{ cm} = \dots \text{ dm}$$

### التمرين الثالث : (2ن)

أكتب العدد المناسب :

$$5670 = \dots$$

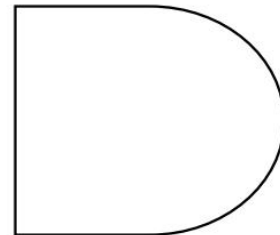

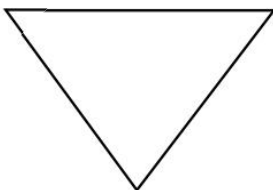
$$\dots = 3000 + 8 + 300 + 90$$

$$4037 = \dots$$

$$\dots = 30 + 2000$$

### التمرين الرابع : (1.5ن)

عين الزاوية القائمة في الأشكال التالية :



تحت اشراف الاستاذ: خير الدين رازق سالم

## الوضعية الإدماجية: (2,5ن)

أنتج مصنع للعصير 6240 قارورة في الصباح وأنتج في المساء نصف ما أنتج في الصباح .

- كم قارورة أنتج في المساء ؟

- كم أنتج في الصباح و المساء معا ؟

باع صاحب المصنع 400 قارورة من العصير .

- ما هو عدد القارورات المتبقية ؟

الأجوبة

الحل

العمليات