

المادة: التربية العلمية
المستوى : الثانية ابتدائي

الاسم واللقب:
التاريخ: 2021/03/03

اختبار الفصل الأول

التّمرين الأول:

أضع علامة (x) على الصورة التي تدلّ على تلوث الهواء.



التّمرين الثاني:

اربط كل صورة بمراحل نمو أيمن.



أيمن ذهب إلى الرّوضة

أيمن رضيع

أيمن يذهب إلى المدرّسة

التّمرين الثالث:

أكمل الفراغ بـ : صحيّة - الرّفير - الشّهيق - جُدوره


- نُسَمِّي عمليّة دُخول الهواء إلى الجِسم بـ:
- نُسَمِّي عمليّة خروج الهواء إلى الجِسم بـ:
- لِيَنمُو جِسمي نُمُوًا سَلِيمًا أَتَتَاوَلُ أَغْذِيَةً
- يَمْتَصُّ النّبَاتُ الأَخْضَرُ المَاءَ من

- التمرين الرابع:

أذكر شُرُوطَ نُمُو النَّبْتِ.

- (1)
- (2)
- (3)
- (4)

التمرين الخامس:



يَتَعَدَّى الخُرُوفَ عَلَى إِذَا هُوَ حَيَوَان



غِذَاءُ الأَسَدُ هُوَ إِذَا هُوَ حَيَوَان


المادة: التربية العلمية
المستوى : الثانية ابتدائي

الاسم واللقب:
التاريخ: 2021/03/03

تصحيح اختبار الفصل الأول

التّمرين الأوّل:

أضغ علامة (X) على الصّورة التي تدلّ على تلوث الهواء.

			
X	X		X

التّمرين الثاني:

اربط كلّ صورة بمراحل نمو أيمن.

		
---	---	---

أيمن ذهب إلى الرّوضة	أيمن رضيع	أيمن يذهب إلى المدرّسة
----------------------	-----------	------------------------

التّمرين الثالث:

أكمل الفراغ بـ :
صِحِيَّة - الرّزْفِير - الشّهيق - جُدُورِه

- نُسَمِّي عمليّة دُخُول الهواء إلى الجِسْم بالشّهيق.
- نُسَمِّي عمليّة خروج الهواء إلى الجِسْم بالرّزْفِير.
- لِيَنمُو جِسْمِي نُمُوًا سَلِيمًا أَتَتَاوَلُ أَغْذِيَّةً صِحِيَّةً.
- يَمْتَصُّ النّبَاتُ الأَخْضَرُ المَاءَ من جُدُورِه.

التّمرين الرَّابِع:

أذكر شُرُوطَ نُمُو النَّبْتَةِ.


(1) التّربة

(2) الماء

(3) الهواء

(4) الضّوء (الشمس)

التّمرين الخَامِس:



يَتَعَدَّى الخُرُوفَ عَلَى العُشْبِ إِذَا هُوَ حَيَوَانٌ عَاشِبٌ.



غِذَاءُ الأَسَدِ هُوَ اللَّحْمُ إِذَا هُوَ حَيَوَانٌ لَاحِمٌ.