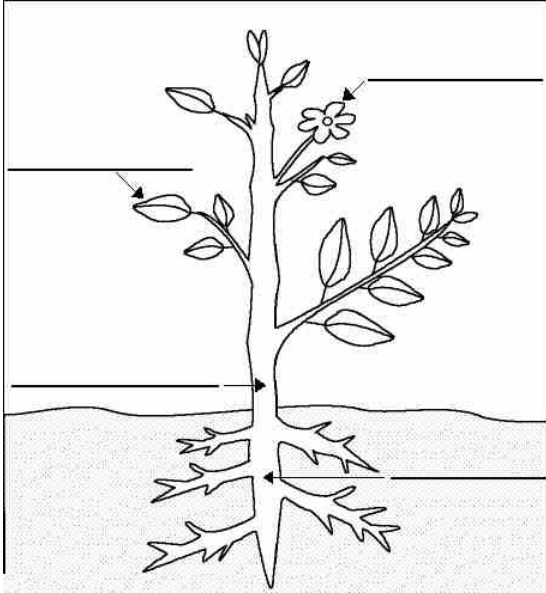


الاسم واللقب: النقطة: إمضاء الولي:

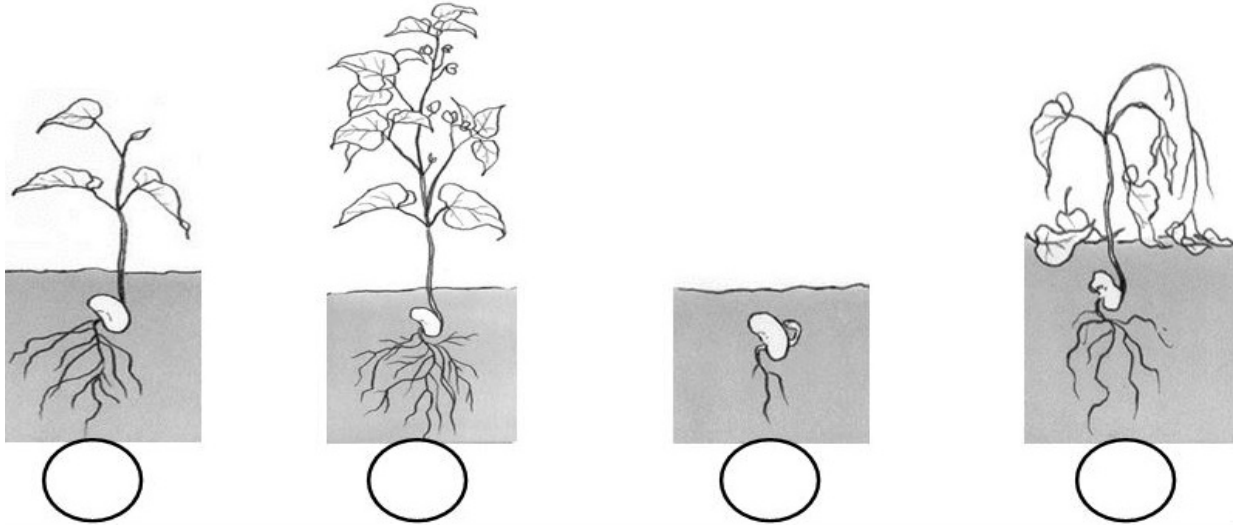


التمرين الأول: (2ن)

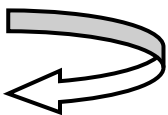
1. ضع البيانات على الرسم الموالي.
2. أذكر 2 من شروط حياة النبات الأخضر.

..... ،

التمرين الثاني: (2ن) رتب مراحل نمو النبات ثم أنسب لكل صورة العبارة المناسبة

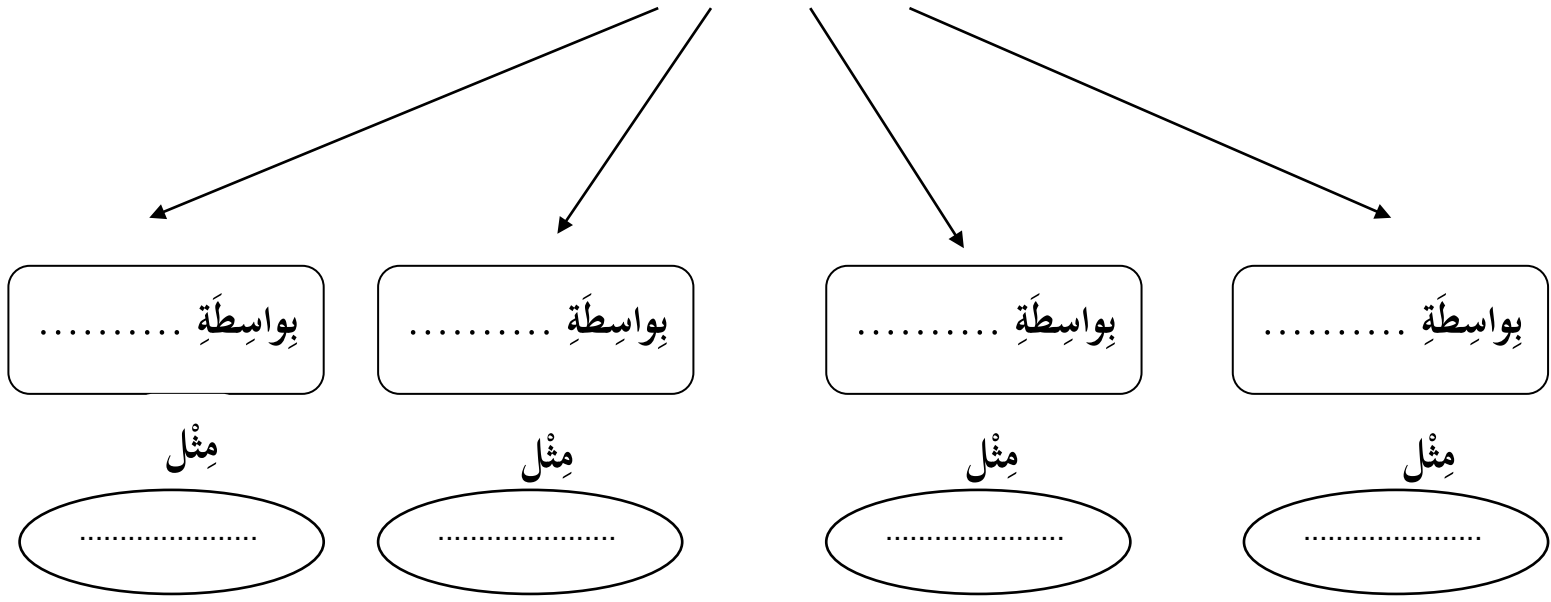


- يذبل النبات ويُعطي بُدورًا جديدةً
- تُنتش البُدرة وتُعطي جُذيرًا وسُوَيْقَةً
- تَنمو النَّبَتَةُ وَيَقَلُّ حَجْمُ البُدرة
- يَنمو الجُذيرُ والسُوَيْقَةُ لِيُعْطِيَا نَبَاتًا فَتِيًّا



التمرين الثالث: أكمل المخطط الموالي (ن2)

أنماط التكاثر عند النبات، هي:



التمرين الرابع: أكمل العبارات التالية: (ن4)

أ - من مخاطر النفايات:

.....1

.....2

ب - من الحلول المقترحة للحد من مخاطر النفايات:

.....1

.....2