

كراس العطلة

GROUPEMENT
SCOLAIRE
SALIM

المستوى: الثالثة ابتدائي



العام الدراسي: 2009/2010

اللغة العربية

النص:



أفقت من إغمائي و رأسي بين الحجارة و عيني اليمنى مغمضة و حاولت ان انهض ، فلم أقدر ، ناديت أمي فأسرعت نحوي و كادت تفقد صوابها لما لارأتني على هذا الحال ، و صل الخبر بسرعة إلى أبي الذي كان في عمله فأقبل في سيارته و معه طبيب ، ضمد الجروح التي كانت في جبھتي و خدي و رأسي ثم نقلوني في الحال إلى المستشفى و خرجت من المستشفى و حول كتفي اليمنى جبيرة من الجبس لا تسمح لي بتحريك ذراعي إلا قليلا و لا بالنوم إلا على ظهري . و هكذا بقيت اربعين يوما لا أستطيع أن أنام أو أقوم ، أو أكل و أشرب و لا أن أغسل وجهي ، ألبسها إلا بمعونة أمي و أبي.

الأسئلة

1- هات عنوانا مناسباً

للنص.....

2- ما هو الحادث الذي تعرض له هذا الطفل؟

3- اين يبدو خوف الام على

إبنها؟

4- من اعلم الاب بالحادث الذي تعرض له إبنه حسب رأيك ؟ كيف؟

5- ماذا نتج عن هذا

الحادث؟

6- أذكر الإسعافات التي قام بها الطبيب في المنزل

7- هات مرادف الكلمات الآتية:

مغمضة = ، أقبل =

أخلع =


8- استخراج من النص:

9- الاسم : الفعل :

الحرف:

الوضعية الإدماجية

- سمعت في التلفاز عن مرض أنفلونزا الذي ينتشر في العالم. فأرعبك هذا الأمر و قررت إن تنصح أصدقائك و تحذرهم منه أكتب في 8 أسطر فقرة:
- بين فيها هذا المرض و مظاهره و مخاطره و تبين كيفية تفادي هذا المرض



ETS SALIM

تمارين متنوعة:

1- صرف الأفعال الآتية في الماضي مع الضمائر التالية

هم	أنتن	هن	أنتما	أنتِ	هي	هو	راجع
							اجتهد

2- هات خمسة أسماء من كل نوع من هذه الجموع:

* جمع المذكر السالم: 1- 2- 3- 4- 5-

* جمع المؤنث السالم: 1- 2- 3- 4- 5-

جمع التكسير: 1- 2- 3- 4- 5-

3- اربط بين كل كلمة و ضدها

غني قوي المرض التقدم

العدل	الظلم	تأخر	أعصي
ضعيف	فقير	ألبي	الصحة

التربية العلمية



التمرين الاول: ضع علامة (X) في الخانة المناسبة

1- تسمى الاداة التي نقيس بها درجة الحرارة الاجسام : المحرار للميزان المسطرة

2- يتجمد الماء السائل عند الدرجة:

2°C ، 0°C ، 1°C ، انخفاض درجة الحرارة

3- يتمدد الماء السائل المحرار عند: ارتفاع درجة الحرارة انخفاض درجة الحرارة

• أراد سليم أن يظهر وجود الهواء في الماء لزميله محمد استعمل الأدوات التالية : محقنة دواء - حوض زجاجي - ماء

• فقام سليم بما يلي:


1-وضع الماء في الحوض الزجاجي

أكمل مستعينا بالرسم المقابل

-2

-3

صنف كل غذاء ضمن مجموعته



		3
		4
		5
		6
		7
		8
		9
		1

التربية الإسلامية

النص:

1- لون الإجابة الصحيحة:

*من أركان الإسلام: الإيمان بالله

*من آداب قراءة القرآن: استقبال القبلة

*من المياه الطاهرة: ماء البحر

من أركان الإسلام الذي يوافق الإنفاق هو: الصلاة

أداب الطريق

الحج

اللغو

ماء المستنقعات

الصوم

الزكاة

2- أكمل بإسم من أسماء الله الحسنى:

-يعصي العبد ربه ثم يندم فيدعوه ليغفر له لأنه هو
و تضيف الحياة بالمسلم فلا يجد ما ينفقه على أولاده فيدعوها الله أن يرزقه لأنه هو

3- صنف في الجدول السلوكات التالية:

أجلس بهدوء - أغسل جسمي مرة في الأسبوع على الأقل - أتوضأ قبل مس المصحف - أجلس في مكان غير نجس - يجتمع المسلمون فيه للعبادة

المسجد	الطهارة	قراءة القرآن

4- أربط:

*فهو في عيشة راضية

*بأن ربك أوحى

*في عمد ممددة

*سورة الهمزة

*سورة القارعة

*سورة الزلزلة

التربية المدنية

التمرين الأول : أكمل ما يلي :

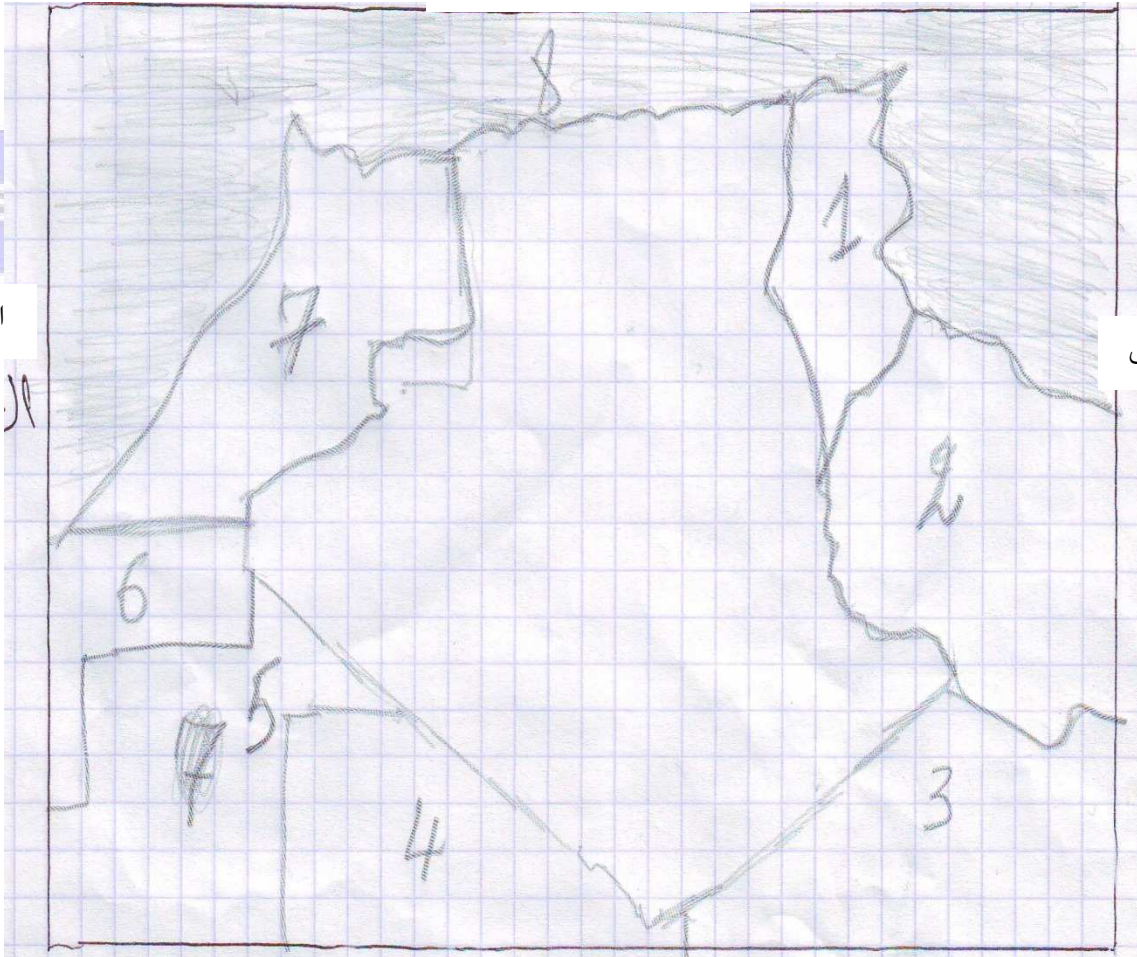
عناصر هو يتي و و

التمرين الثاني:

كنت في السيارة مع أبيك فشاهدت في الطريق حادث مرور مؤلم ، فجاءت الشرطة فسألت أبك كيف يتم التعرف على هوية الشخص المصاب ب..... أو..... أو.....

التمرين الثالث: أكتب أسماء البلدان المجاورة لوطنك الجزائر


الشمال



التاريخ

التمرين الأول :

- أضع كل حدث شخصي في مكانه المناسب على السلم الزمني و ما يقابله من تواريخ
- سنة ولادة أبي 1970م
 - سنة ولادة جدي 1949م
 - * سنة دخولي المدرسة 2004
 - * سنة ولادتي 1998م



التمرين الثاني:

- الشجرة العائلية تمثل تتكون من و و
- الأسرة هي من العائلة ، تتكون من و و

التمرين الثالث: صنف كل عيد حسب طبيعته في الجدول

- عيد الفطر – رأس السنة الميلادية – عيد العمال – رأس السنة الهجرية – عاشوراء – المولد النبوي
– عيد الإستقلال – عيد الطفولة – عيد اندلاع الثورة

عيد عالمي	عيد وطني	عيد ديني

الرياضيات

التمرين الأول :

أحصر الأعداد التالية بين ألفين متتاليتين

. > 2001 > . / . > 8770 > . / . > 5405 > .

أحصر الأعداد التالية بين مائتين متتاليتين ، " حسب المثال "

1600 <	1630	<1700
	3560	
	8096	
	4959	
	2610	

التمرين الثاني : أنجز العمليات التالية:

$$1539 + 50 = .$$

$$2210 + . = 2825$$

$$400 - 256 = .$$


التمرين الثالث : حول ما يلي:

1500g = . kg . g
9050g = . kg . g
1kg 560 g = . g
8kg = . g

الوضعية الإدماجية :

- اشترت مع والدك خضر كما هو مبين في الجدول
- أحسب بالكيلوغرام وزن الخضر التي اشتريتها ؟
- رتبها حسب كتلتها من الأكبر إلى الأصغر.

الوزن	الخضر
500g	طماطم
2kg	بطاطا
01kg500g	جزر



GROUPEMENT
SCOLAIRE
SALIM

