



## المستوى : الثالثة ابتدائي [3AP] ديسمبر، 2018

### اختبار الفصل الأول في مادة الرياضيات

التمرين الأول : أنجز العمليات التالية :

646	169	503	439
- 223	+ 553	+ 298	+ 232
_____	_____	_____	_____

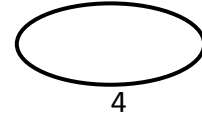
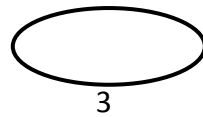
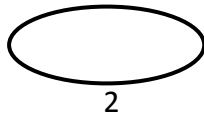
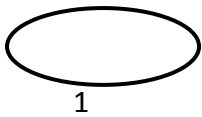
التمرين الثاني : أربط بين السعات المتساوية ثم رتبها من الأصغر إلى الأكبر.

250 CL                      300CL

5 L                              230CL

2 L 30 CL                      2L50CL

3 L                                500CL



التمرين الثالث : أحصر الأعداد التالية بين :

ب-مائتين متتاليتين

أ-عشرتين متتاليتين

.....<318< .....

.....<439 <.....

.....<506< .....

..... < 218 <.....

## التمرين الرابع :

عين النقطة ع التي تقع في نفس الوقت على استقامة واحدة مع النقطتين ب . ج  
ومع النقطتين م د

ب

.

م

.

د

.

ج

.

## الوضعية الإدماجية :

بمناسبة عيد المرأة قرر الأولاد شراء هدية لأُمهم فقدمت ليلي 360 ديناراً  
وأعطى عمر 400 ديناراً وساهمت سلمى بـ 450 ديناراً

-اختار الأطفال فستاناً كهدية لأُمهم ثمنه 1100 ديناراً.

-هل يكفي ما جمعه الأطفال لشراء الهدية ؟

-إذا كان المبلغ كافياً كم سيبقى لديهم ؟

الحل

الأجوبة

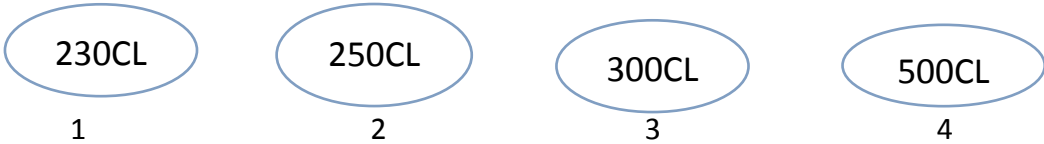
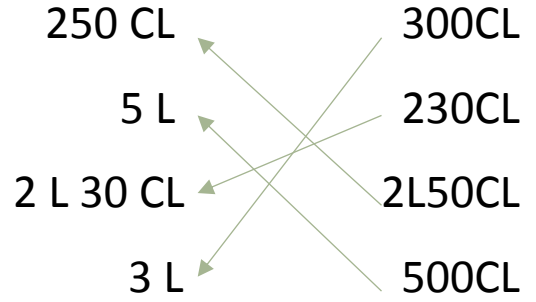
العمليات

تصحيح اختبار الفصل الأول في مادة الرياضيات الثانية ابتدائي

التمرين الأول : أنجز العمليات التالية :

$$\begin{array}{r} 646 \\ - 223 \\ \hline 423 \end{array} \quad \begin{array}{r} 169 \\ + 553 \\ \hline 722 \end{array} \quad \begin{array}{r} 503 \\ + 298 \\ \hline 801 \end{array} \quad \begin{array}{r} 439 \\ + 232 \\ \hline 671 \end{array}$$

التمرين الثاني : أربط بين السعات المتساوية ثم رتبها من الأصغر إلى الأكبر.



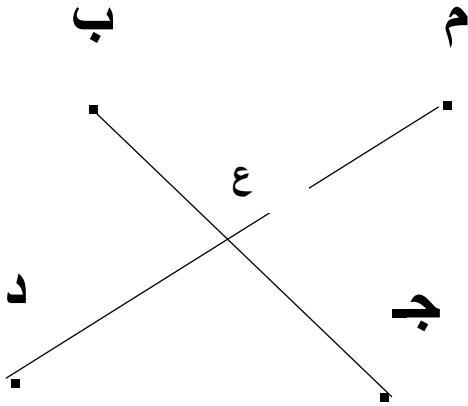
التمرين الثالث : أحصر الأعداد التالية بين :

ب-مائتين متتاليتين  
...300.. < 318 < 400..  
500.. < 506 < ...510.

أ-عشرتين متتاليتين  
...430 < 439 < 440....  
..210.. < 218 < ..220.

## التمرين الرابع :

عين النقطة ع التي تقع في نفس الوقت على استقامة واحدة مع النقطتين ب . ج  
ومع النقطتين م د



## الوضعية الإدماجية :

بمناسبة عيد المرأة قرر الأولاد شراء هدية لأُمهم فقدمت ليلي 366 ديناراً  
وأعطى عمر 400 ديناراً وساهمت سلمى بـ 450 ديناراً  
-اختار الأطفال فستاناً كهديّة لأُمهم ثمنه 1100 ديناراً.

-هل يكفي ما جمعه الأطفال لشراء الهدية ؟

-إذا كان المبلغ كافياً كم سيبقى لديهم ؟

الحل

الأجوبة

$$366+400+450=1216$$

نعم يكفي ما جمعه الأطفال لشراء

الهدية لان:  $1100 < 1216$

$$1216-1100=0116$$

سيبقى لديهم: 0116 دينار

العمليات

1216	366
-1100	+ 400
0116	+ 450
	<hr/>
	1216