

اختبار الفصل الثاني في مادة الرياضيات: مدرسة عكوش أرزقي 2016/ 2017

اللقب: الإسم:

التّمرين الأول: أَنْجِزِ الْعَمَلِيَّاتِ الْآتِيَةَ عَمُودِيًّا.

$$43+24=...$$

$$23+16=...$$

$$28+41=...$$

$$35+32=...$$

$$\begin{array}{r} . \\ . \\ + . \\ \hline = \end{array}$$

$$\begin{array}{r} . \\ . \\ + . \\ \hline = \end{array}$$

$$\begin{array}{r} . \\ . \\ + . \\ \hline = \end{array}$$

$$\begin{array}{r} . \\ . \\ + . \\ \hline = \end{array}$$

التّمرين الثاني: قَسْ بِالْمِسْطَرَّةِ طُولَ كُلِّ قِطْعَةٍ .

..... سنتيمترا

..... سنتيمترا


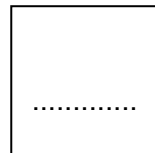
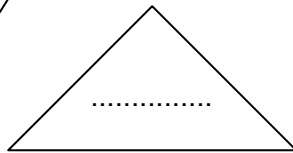
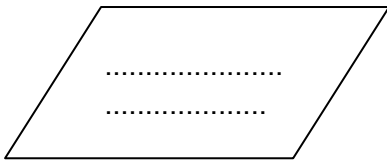
..... سنتيمترا.

..... سنتيمترا

التّمرين الثالث: اِمْلَأِ الْجَدْوَلَ الْآتِي كَمَا فِي الْمِثَالِ .

.....	20	ضِعْفُهُ
14	8	30	18	10	الْعَدْدُ
.....	5	نِصْفُهُ

التّمرين الرابع: اُكْتُبِ اسْمَ كُلِّ مُضَلَّعٍ .



الوضعية الإدماجية: عِنْدَ أَمِينٍ 15 دِينَارًا ، أُعْطِيَ لَهُ أَبُوهُ 21 دِينَارًا وَ زَادَتْ لَهُ أُمُّهُ 13 دِينَارًا .

أَحْسِبْ كَمْ دِينَارًا أَصْبَحَ عِنْدَ

أَمِينٍ ؟

أَصْبَحَ عِنْدَ أَمِينٍ : دِينَارًا

= _____