

الاسم و اللقب:

المدرسة الابتدائية: الشهيد علية عزوزي

القسم: الثانية (أ+ب)



المقاطعة التربوية – الطريفايوي- الوادي

المدة: 60 دقيقة

صباح يوم الثلاثاء 11 ديسمبر 2018

اختبار الفصل الأول في التربية العلمية

التّمرين الأول (2 ن): ضع علامة (x) تحت الصورة التي تدلّ على وجود الهواء النقيّ:



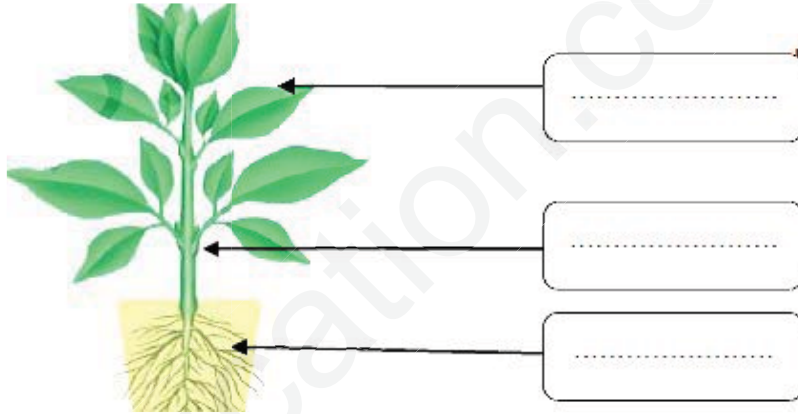
....

....

....

....

التّمرين الثاني (3 ن): أكمل الفراغ بـ: الجذور - الأوراق - الساق



التّمرين الثالث (5 ن): صنّف الحيوانات في الجدول حسب سلوكها الغذائيّ:

الأسد- الثعلب- المعزاة- الزرافة- التمساح- الحمار- الدنّب- النسر- الفيل- الأرنب

يقترب	يعتشب
.....-.....-.....-.....-.....
.....-.....-.....-.....-.....

امضاء الولي