

اختبار الفصل الثالث فرع مادة الجغرافيا

**التمرين الأول:**

أجب بـ (صحيح) أو (خطأ)

- يقوم الإنسان بأعمال متنوعة للتغلب على صعوبات الحياة مثل بناء الجسور (.....).
- تكثر في الريف المعاهد العلمية و المحلات التجارية (.....).
- أهم النشاطات التي يقوم بها سكان المدينة هي الفلاحة (.....).
- تحتوي الصورة الأفقية و المائلة على مستوى واحد (.....).

**التمرين الثاني:**

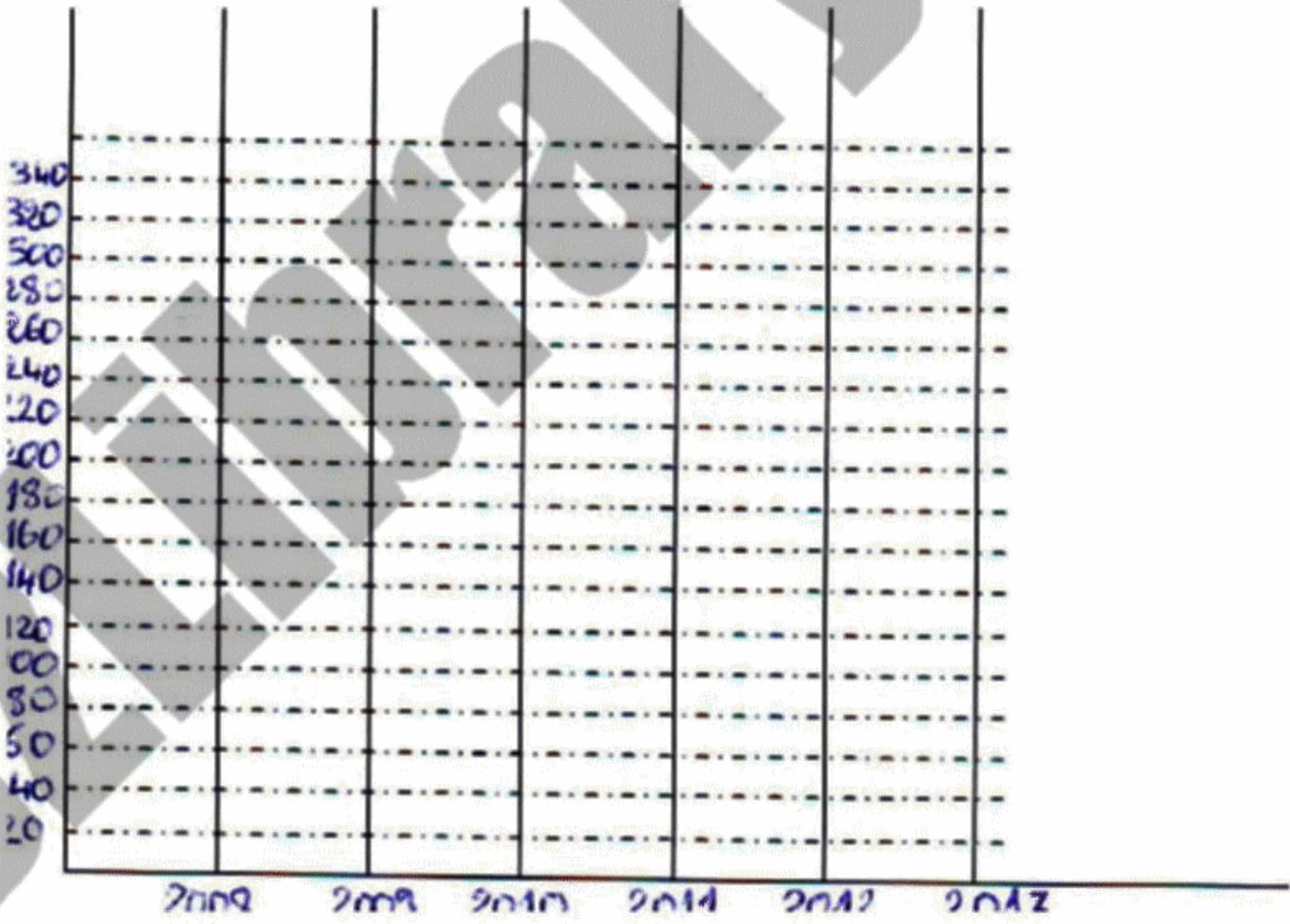
تستعمل في الجغرافيا إلى جانب الخريطة أدوات أخرى، أذكرها.

- .....
- .....
- .....

**التمرين الثالث:**

مثل معطيات الجدول التالي بيانيا.

السنوات	2008	2009	2010	2011	2012	2013
عدد التلاميذ	160	190	140	200	260	300



**التمرين الرابع:**

أربط بين الأسماء التالية و الصور (شاطئ صخري- بستان نخيل- غابة كثبان رملية).



.....

.....



.....

.....

تصحيح اختبار الفصل الثالث فاج مادة الجغرافيا

التمرين الاول: (2 ن)

الإجابات (صحيح) أو (خطأ)

- يقوم الإنسان بأعمال متنوعة للتغلب على صعوبات الحياة مثل بناء الجسور (صحيح).
- تكثر في الريف المعاهد العلمية و المحلات التجارية (خطأ).
- أهم النشاطات التي يقوم بها سكان المدينة هي الفلاحة (خطأ).
- تحتوي الصورة الأفقية و المائلة على مستوى واحد (خطأ).

التمرين الثاني: (3 ن)


تستعمل في الجغرافيا إلى جانب الخريطة أدوات أخرى، و هي:

- الصور على تنوعها.
- الرسوم البيانية.
- الجداول الإحصائية.

التمرين الثالث: (3 ن)

تمثلي معطيات الجدول التالي بيانيا.

السنوات	2008	2009	2010	2011	2012	2013
عدد التلاميذ	160	190	140	200	260	300




التمرين الرابع: (2 ن)

الربط بين الأسماء التالية و الصور (شاطئ صخري- بستان نخيل- غابة- كثبان رملية).



شاطئ صخري



غابة



كثبان رملية



بستان نخيل