



المستوى : الثانية ابتدائي (2AP) فيفري : 2017

تقويم رقم (2) للفصل الثاني في مادة الرياضيات

التمرين الأول :

أ/ أكتب بالحروف أو بالأرقام الأعداد التالية :

..... 130 -

..... مائة و تسعة -

..... 142 -

ب/: أنجز العمليات عموديا:

$$65+35=... / 20+5+34=... / 97-42=...$$



التمرين الثاني:

أتمم الجدول التالي حسب المثال

ستمائة و ثلاثة و تسعون	693	600+90+3
.....	524	... + . . + .
ثمانمائة و سبعة و أربعون + .. + .
.....	. . .	200 + 90 + 8

التمرين الثالث :

عين الزوايا القائمة في كل شكل من الاشكال



التمرين الرابع :

وزن مَنى هُوَ 35 كغ وَ وَزْنُ الأُمِّ ضِعْفُ وَزْنِ مَنى.

مَا هُوَ وَزْنُ الأُمِّ ؟

.....
التمرين الخامس : لدينا خط منكسر، باستعمال المسطرة قس طولهُ:

$$..... + + =$$

طول الخط المنكسر هوسم

المشكلة :

في عيدِ الشَّجَرَةِ عَرَسَ رَائِدٌ 96 شُجَيْرَةً في الصَّبَاحِ وَ 42 شُجَيْرَةً في المَسَاءِ.

1- مَا هُوَ عَدَدُ الشُّجَيْرَاتِ الَّتِي عَرَسَهَا رَائِدٌ؟

بَعْدَ أُسْبُوعٍ ذُبُلَتْ 8 شُجَيْرَاتٍ ثُمَّ مَاتَتْ، فَفَرَرَ رَائِدٌ أَنْ يَعْتَنِيَ بِالشُّجَيْرَاتِ البَاقِيَةِ.

2- كَمْ شُجَيْرَةً بَقِيَتْ؟

الأجوبة

الحل

العمليات

تصحيح التقويم رقم (2) للفصل الثاني في مادة الرياضيات

التمرين الأول: (1.5 ن)

أ/ أكتب بالحروف أو بالأرقام الأعداد التالية :

130 مائة و ثلاثون 0.25

مائة و تسعة :109..... 0.25

142 :مائة إثنان و أربعون..... 0.25

ب/: أنجز العمليات عموديا: 0.75

$$65+35= 100 \quad / \quad 20+5+34=59 \quad / \quad 97-42=55$$



التمرين الثاني: (2 ن)

أتمم الجدول التالي حسب المثال

ستمائة و ثلاثة و تسعون	693	$600+90+3$
خمسمائة و أربعة و عشرون	524	$500 + 20 + 4$
ثمانمائة و سبعة و أربعون	847	$800+ 40+ 7$
مائتان و ثمانية و تسعون	298	$200 + 90 + 8$

التمرين الثالث : (1.75)

عين الزوايا القائمة في كل شكل من الاشكال



التمرين الرابع: (1 ن)

$$35 + 35 = 70$$

.. وَزْنُ الأُم : 70 كغ

التمرين الخامس: (1.75 ن)

$$4 + 3 + 2 = 9$$

طول الخط المنكسر هو 9.....سم

المشكلة : (2 ن)

عَدَدُ الشُّجَيْرَاتِ الَّتِي عَرَسَهَا رَائِدُ: 138 شجيرة

$$42 + 96 = 138$$

بَقِيَتْ 130 شجيرة.

$$138 - 8 = 130$$