







التقويم	الأنشطة	الوضعيات												
	<p>أُنجز العمليات التالية:</p> $\begin{array}{r} 92 \\ + 17 \\ \hline \end{array}$ $\begin{array}{r} 83 \\ + 35 \\ \hline \end{array}$ $\begin{array}{r} 605 \\ + 295 \\ \hline \end{array}$ $\begin{array}{r} 365 \\ + 214 \\ \hline \end{array}$ <p>= . . = . . = . . . = . . .</p>	01												
	<p>رتب الأعداد التالية تصاعدياً :</p> <p>→ 545 - 170 - 320 - 425 - 210</p> <p>..... 165</p>	02												
	<p>قارن بوضع الرمز المناسب (> ، <) :</p> <table border="1" style="width: 100%; text-align: center;"> <tr> <td>120 . 210</td> <td>863 . 413</td> <td>180 . 108</td> <td>162 . 584</td> </tr> </table>	120 . 210	863 . 413	180 . 108	162 . 584	03								
120 . 210	863 . 413	180 . 108	162 . 584											
	<table border="1" style="width: 100%; text-align: center;"> <thead> <tr> <th>عَدَدُ الرَّؤُوسِ</th> <th>عَدَدُ الْأَحْرَفِ</th> <th>عَدَدُ الْأَوْجِهِ</th> <th>املا الجدول التالي :</th> </tr> </thead> <tbody> <tr> <td>..</td> <td>..</td> <td>..</td> <td> مكعب</td> </tr> <tr> <td>..</td> <td>..</td> <td>..</td> <td> متوازي المستطيلات</td> </tr> </tbody> </table>	عَدَدُ الرَّؤُوسِ	عَدَدُ الْأَحْرَفِ	عَدَدُ الْأَوْجِهِ	املا الجدول التالي :	 مكعب	 متوازي المستطيلات	04
عَدَدُ الرَّؤُوسِ	عَدَدُ الْأَحْرَفِ	عَدَدُ الْأَوْجِهِ	املا الجدول التالي :											
..	 مكعب											
..	 متوازي المستطيلات											
	<p>اشترى فكهائبي 4 صناديق من التفاح في كل صندوق 20 كغ . ماهو وزن كل التفاح ؟</p> <p style="text-align: center;"><u>الحل</u></p> <table border="1" style="width: 100%;"> <tr> <td style="width: 50%; text-align: center;"><u>الأجوبة</u></td> <td style="width: 50%; text-align: center;"><u>العمليات</u></td> </tr> <tr> <td>.....</td> <td>.....</td> </tr> <tr> <td>.....</td> <td>.....</td> </tr> <tr> <td>.....</td> <td>.....</td> </tr> </table>	<u>الأجوبة</u>	<u>العمليات</u>	الوضعية				
<u>الأجوبة</u>	<u>العمليات</u>													
.....													
.....													
.....													

إمضاء الولي	العلامة	التلميذ
.....