

التمرين الأول (1.5 ن) : ألاحظ و أكمل بكتابة الأعداد المناسبة

370	375	410
-----	-----	-------	-------	-------	-------	-------	-------	-----

التمرين الثاني (3 ن) : أكتب الأعداد التالية على الجدول

م	ع	آ
.....
.....
.....
.....

- رقم العشرات 9 و رقم الآحاد 7

- عدد العشرات 45 و رقم الآحاد 1

- رقم المئات 3 و رقم الآحاد 2

- ثلاثمائة و أربعة

التمرين الثالث (2 ن) : أملأ الفراغ بعدد رقم أحاده 7

$124 < \dots < 130$

$211 < \dots < 222$

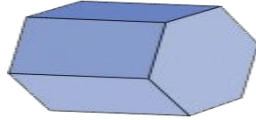
$300 < \dots < 310$

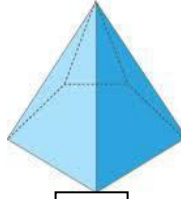
$412 > \dots > 399$


التمرين الرابع (1.5 ن) : أتاامل المجسمات التالية و أضع العلامة (x) تحت كل جسم وجوهه مستوية













التمرين الخامس (2 ن) : تملك سميرة المبلغ الآتي



- كم تملك سميرة ؟

في يوم العيد أعطها الجد المبلغ الآتي



- كم أعطها الجد ؟

- كم صار عندها ؟

$$\begin{array}{r} \dots \\ \dots \\ \hline = \dots \end{array}$$

- أرادت شراء لعبة ثمنها 168 دينارا هل تستطيع ذلك ؟