

السنة الدراسية: 2016/2017

السنة الثالثة ابتدائي

الإسم: ..... اللقب: .....

يوم: .....

إمتحان الفصل الثالث في مادة الرياضيات

التمرين الأول: أنجز العمليات التالية: (2 ن)

8654

35

21

8946

123

12

33

6538

التمرين الثاني: أقرأ التوقيت وأرسم عقارب الساعة و أكمل المطلوب: (2 ن)



5 :00

مساءً .....



9 :20

مساءً .....



7 :15

مساءً .....



2 :25

مساءً .....

التمرين الثالث: أحول إلى الوحدة المطلوبة (1.5 ن)

1M 150CM=..... CM

200 CM=..... M

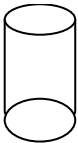
3M=..... CM

1M 3dM 5 CM = ..... CM

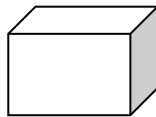
30 dM + 1000MM = ..... M

التمرين الرابع: أسمى كل مجسم وأكمل الجدول: (2.25 ن)

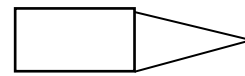
3



2



1



التسمية	عدد الرؤوس	عدد الأحرف	الشكل

**مسألة (2.25ن)** اشترى المعلم 9 قصص بـ20 دينار للواحدة و7 كراريس بـ30 دينار للكراس الواحد.

1- ماهو ثمن القصة؟

2- ماهو ثمن الكراريس؟

3- ماهو ثمن المشتريات

-أعطى المعلم للمكتبي 400 دينار

4-كم يرجع له المكتبي ؟