

اللقب: ..... الاسم: ..... س2

2015 اختبار الفصل الثالث في نشاط الرياضيات 2016

### السؤال الأول

أنجز العمليات التالية:

$$\begin{array}{r} 258 \\ + 741 \\ \hline \dots \end{array}$$

$$\begin{array}{r} 583 \\ + 259 \\ \hline \dots \end{array}$$

$$\begin{array}{r} 420 \\ - 339 \\ \hline \dots \end{array}$$


$$\begin{array}{r} 26 \\ \times 5 \\ \hline \dots \end{array}$$

### السؤال الثاني

ألاحظ الجدول




	م	ل	س
5			
6			
7			

أضع  في الخانة 6م      أضع  في الخانة 5س

أضع  في الخانة 6م


### السؤال الثالث

أكتب تحت الساعة الزمن الذي تشير إليه:



### السؤال الرابع

ألون الشكل الذي له زوايا قائمة:



### الوضعية الإدماجية

مع أحمد 700 دينار، اشتري 4 قصص ثمن الواحدة 65 ديناراً وقلماً بـ 15 ديناراً ومقلماً بـ 120 ديناراً.  
ما ثمن القصص؟  
كم صرف أحمد؟  
ما هو المبلغ الباقي؟

.....

.....

.....

.....

.....

.....

.....

.....

.....

.....

.....

.....