



الجمهورية الجزائرية الديمقراطية الشعبية

وزارة التربية الوطنية

مؤسسة التربية و التعليم الخاصة **سليم**

ETABLISSEMENT PRIVE D'EDUCATION ET D'ENSEIGNEMENT SALIM

www.ets-salim.com / 021 87 10 51 / 021 87 16 89 / Hai Galloul - bordj el-bahri alger

رخصة فتح رقم 1088 بتاريخ 30 جانفي 2011

خضيري- ابتدائي- متوسط - ثانوي

إعتماد رقم 67 بتاريخ 06 سبتمبر 2010

المستوى : الثانية ابتدائي ( 2AP ) ماي 2016

اختبار الرياضيات للفصل الثالث

التمرين الأول: أنجز العمليات التالية :

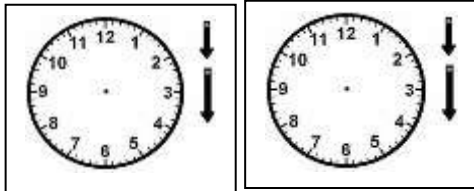
$$\begin{array}{r} 385 \\ + \quad .2 \\ \hline = 9.7 \end{array}$$

$$\begin{array}{r} 376 \\ + \quad \dots \\ \hline = 590 \end{array}$$

$$\begin{array}{r} 123 \\ - 115 \\ \hline = \end{array}$$

$$\begin{array}{r} 345 \\ + 103 \\ + 12 \\ \hline = \end{array}$$

التمرين الثاني : تبدأ حصّة الرياضة على الساعة 10 صباحا ، وتنتهي بعد 45 دقيقة .



أرسم زمن بداية و نهاية الحصّة .

في هذه الحصّة أجرت المعلّمة سباقا للعدو ، أنظر الجدول :

العداء	سامي	أحمد	منير	رضا
مدّة عدوه	50 د	30 د	45 د	29 د


- رتّب العدّائين من الأسرع إلى الأبطأ.

1-.....-2.....-3.....-4.....

- أبطأ عدّاء هو : ..... / أسرع عدّاء هو : .....


## التمرين الثالث:

ذهبت مع أبيك عند الفاكهاني لشراء بعض الفواكه لزيارة جارك المريض ، فوزن الفواكه المختارة من طرف أبيك.




ما هو وزن الموز؟

.....



ما هو وزن البرتقال؟

.....



ما هو وزن التفاح؟

.....

أرتب كتل الفواكه من الأخف إلى الأثقل

1-..... 2-..... 3-.....

أعطى أبوك للفاكهاني ورقة نقدية بقيمة 500 دينار، فقال الفاكهاني ينقصك 250 ديناراً.

ما هو ثمن كل الفواكه؟

مثل المبلغ بالقطع النقدية؟

بالتوفيق

## تصحيح اختبار الفصل الثالث في الرياضيات

التمرين الأول: أنجز العمليات التالية: (3 ن).... (  $4 \times 0.75$  )

$$\begin{array}{r} 385 \\ + \quad .2 \\ \hline = 9.7 \end{array} \quad \begin{array}{r} 376 \\ + \quad .4 \\ \hline = 590 \end{array} \quad \begin{array}{r} 123 \\ - 115 \\ \hline = 008 \end{array} \quad \begin{array}{r} 345 \\ + 103 \\ + 12 \\ \hline = 460 \end{array}$$

التمرين الثاني: (3 ن) تبدأ حصّة الرياضة على الساعة 10 صباحا ، وتنتهي

بعد 45 دقيقة .

أرسم زمن بداية و نهاية الحصّة. (  $2 \times 0.25$  )



النهاية



البداية

في هذه الحصّة أجرت المعلّمة سباقا للعدو ، أنظر الجدول :

العدّاء	سامي	أحمد	منير	رضا
مدّة عدوه	50 د	30 د	45 د	29 د

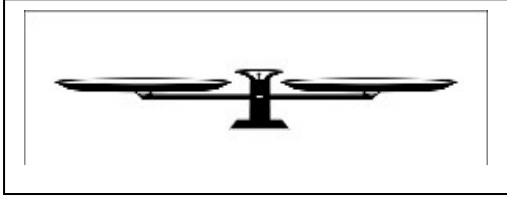
– رتّب العدّائين من الأسرع إلى الأبطأ. (  $4 \times 0.5$  )

1.....رضا.....2.....أحمد.....3.....منير.....4.....سامي.....

– أبطأ عدّاء هو: سامي / – أسرع عدّاء هو: رضا. (2x 0.25)

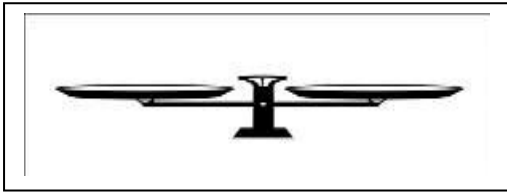
### المشكلة : (4 ن )

ذهبت مع أبيك عند الفاكهاني لشراء بعض الفواكه لزيارة جارك المريض ،  
فوزن الفواكه المختارة من طرف أبيك.



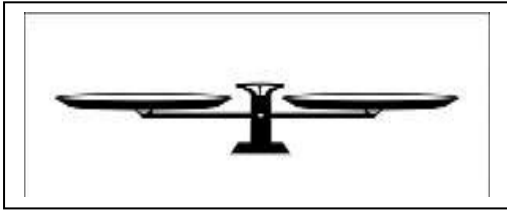
ما هو وزن الموز؟ (0.5)

....وزن الموز هو : 900 غ.....



ما هو وزن البرتقال؟ (0.5)

....وزن البرتقال هو : 600 غ.....



ما هو وزن التفاح؟ (0.5)

....وزن التفاح هو : 720 غ.....

أرتّب كتل الفواكه من الأخفّ إلى الأثقل

(3x 0.25)

1-.....البرتقال.....2-.....التفاح.....3-.....الموز.....

أعطى أبوك للفاكهاني ورقة نقدية بقيمة 500 ديناراً، فقال الفاكهاني ينقصك 250

ما هو ثمن كلّ الفواكه؟ (2x 0.25 + 0.5)

مثّل المبلغ بالقطع النقدية؟ (0.75)

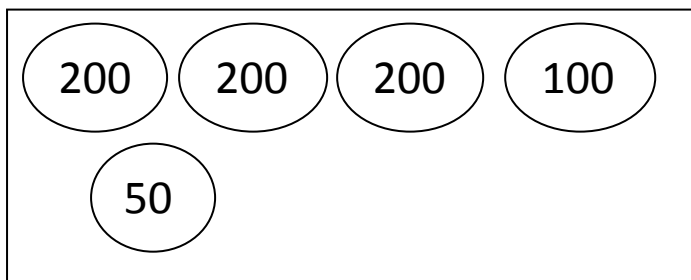
### الحل

#### الاجوبة

$$500 + 250 = 750$$

#### العمليات

ثمن كل الفواكه هو : 750 د.ج.



$$\begin{array}{r} 500 \\ + 250 \\ \hline = 750 \end{array}$$