



الجمهورية الجزائرية الديمقراطية الشعبية

وزارة التربية الوطنية

مؤسسة التربية والتعليم الخاصة **سليم**

ETABLISSEMENT PRIVE D'EDUCATION ET D'ENSEIGNEMENT SALIM



www.ets-salim.com



021 87 10 51



021 87 16 89



Hai Galloul - bordj el-bahri alger

رخصة فتح رقم 1088 بتاريخ 30 جانفي 2011

تحضيرى - ابتدائى - متوسط - ثانوى

إعتماد رقم 67 بتاريخ 06 سبتمبر 2010

المستوى: الثانية ابتدائي (2AP) نوفمبر 2015

الاختبار رقم 02 للفصل الأول في مادة الرياضيات

التمرين الأول: اكتب العمليات التالية عمودياً ثم أنجزها .

$136 + 54 = \dots$

	.	.	.
+	.	.	
<hr/>			
	.	.	.

$174 + 91 = \dots$

	.	.	.
+	.	.	
<hr/>			
	.	.	.

$167 + 52 = \dots$

	.	.	.
+	.	.	
<hr/>			
	.	.	.

التمرين الثاني: الأخط و أكمل .

م	ع	و
.	.	.
100 + 50 + 3		

م	ع	و
.	.	.
..... +		

م	ع	و
1	2	6
..... + +		

التمرين الثالث: اكتب جميع الأعداد المحصورة بين 150 و 190 و رقم أحاديها 3

190 - - - - - 150


الصفحة 2/1

حي قعلول - برج البحري - الجزائر

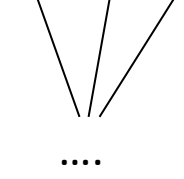
Web site : www.ets-salim.com /021.87.16.89 :الفاكس : 021.87.10.51

التمرين الرابع : ألاحظُ و أكملُ .

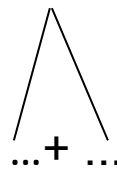
$100+5$



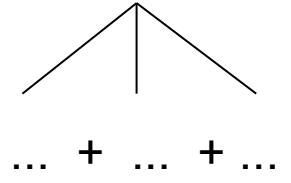
$100+90+9$



158



175



مشكلة : باع تاجر 145 بيضة في الصباح ، و باع في المساء 43 بيضة أكثر مما باع في الصباح

قارن بين العددين 145 و 43

ما هو عدد البيض الذي باعه التاجر في المساء ؟

الحل

الأجوبة

المقارنة:

.....
.....
.....

العمليات

نوفمبر 2015

التمرين الأول: اكتب العمليات التالية عمودياً ثم أنجزها . (2.25ن)

$136 + 54 = 190$

$$\begin{array}{r} 136 \\ + 54 \\ \hline 190 \end{array}$$

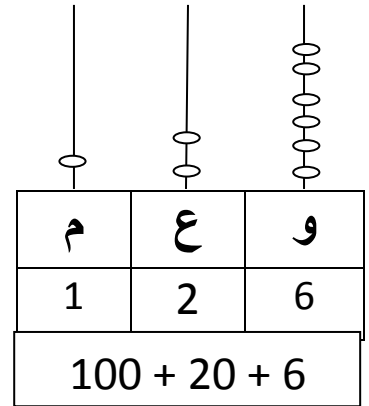
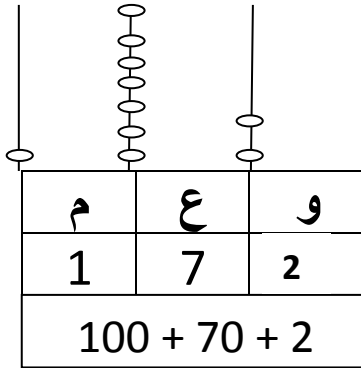
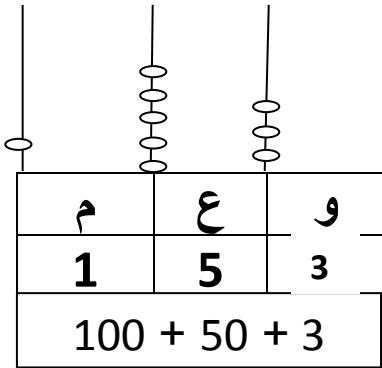
$174 + 91 = 265$

$$\begin{array}{r} 174 \\ + 91 \\ \hline 265 \end{array}$$

$167 + 52 = 219$

$$\begin{array}{r} 167 \\ + 52 \\ \hline 219 \end{array}$$

التمرين الثاني: ألاحظ و أكمل . (2.25ن)



التمرين الثالث: اكتب جميع الأعداد المحصورة بين 150 و 190 و رقم أحاديها 3 (1ن)

150 - 153 - 163 - 173 - 183 - 190

التمرين الرابع : ألاحظُ و أكملُ . (1.75ن)

$$\begin{array}{c} 100+5 \\ \diagdown \quad \diagup \\ 105 \end{array}$$

$$\begin{array}{c} 100+90+9 \\ \diagdown \quad \diagup \quad \diagup \\ 199 \end{array}$$

$$\begin{array}{c} 158 \\ \diagdown \quad \diagup \\ 100 + 58 \end{array}$$

$$\begin{array}{c} 175 \\ \diagdown \quad | \quad \diagup \\ 100 + 70 + 5 \end{array}$$

مشكلة : (2.75ن)

بَاع تَاجِرٌ 145 بَيْضَةً فِي الصَّبَاحِ ، وَبَاعَ فِي الْمَسَاءِ 43 بَيْضَةً أَكْثَرَ مِمَّا بَاعَ فِي الصَّبَاحِ .

قَارِنْ بَيْنَ الْعَدَدَيْنِ 145 وَ 43

مَا هُوَ عَدَدُ الْبَيْضِ الَّذِي بَاعَهُ التَّاجِرُ فِي الْمَسَاءِ ؟

الحل

الأجوبة

المقارنة:

$$...43 < 145...$$

$$...188 = 43 + 145... \text{ بَيْضَةً}$$

....عَدَدُ الْبَيْضِ الَّذِي بَاعَهُ التَّاجِرُ فِي الْمَسَاءِ

هُوَ : 188 بَيْضَةً .

العمليات

$$\begin{array}{r} 145 \\ + 43 \\ \hline 188 \end{array}$$