

النشاط الأول:

الاسم: .....

اللقب: .....

القسم: .....

أ- ما هي طرق تكاثر النباتات الزهرية.

1- .....

2- .....

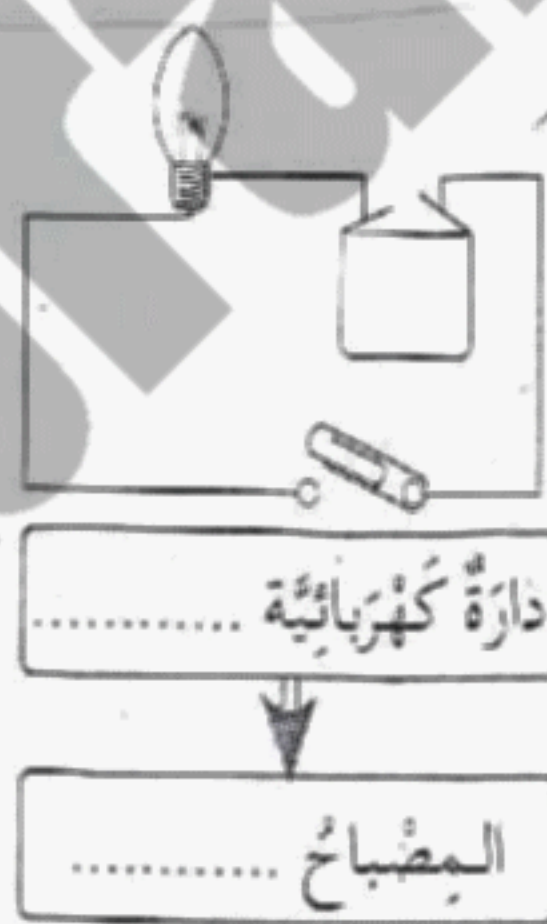
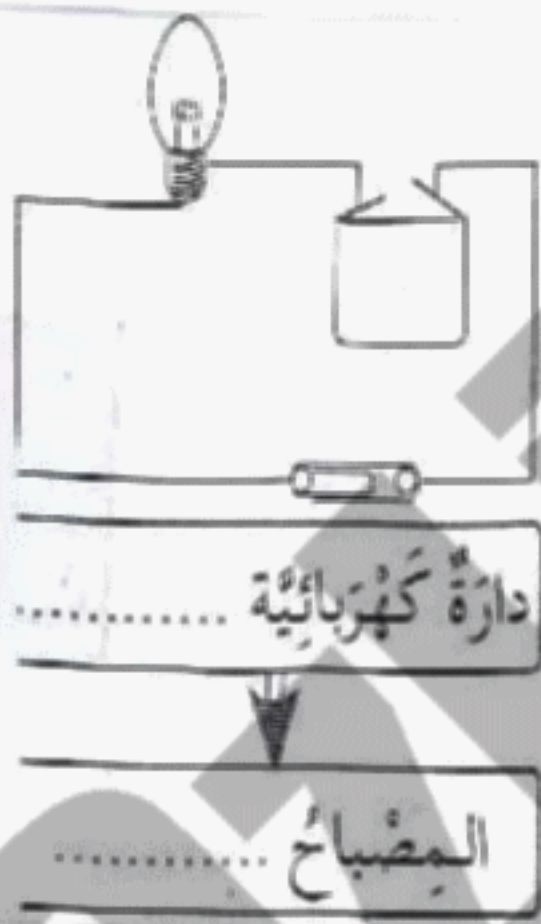
3- .....

4- .....

ب- رتب مراحل تكاثر النباتات الزهرية:

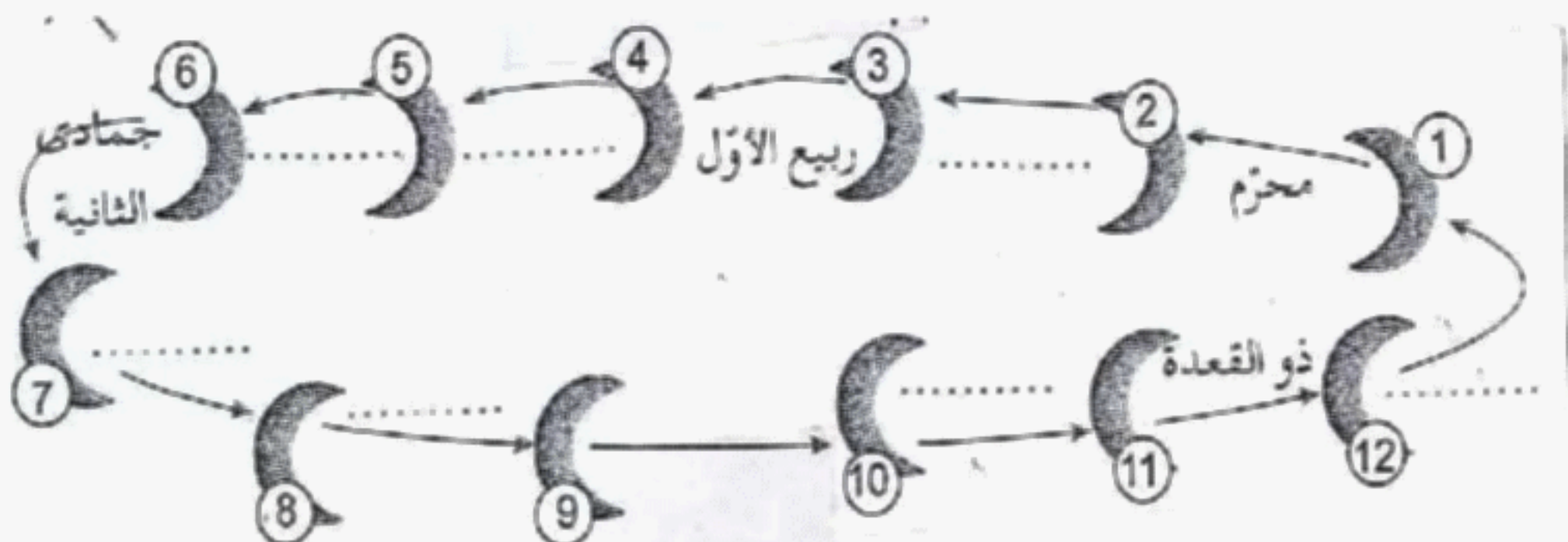
 - ظهور الثمرة. - تشكل براعم زهرية. - تشكل بذور بداخلها. - ظهور الأزهار.النشاط الثاني:

أ- أملأ الفراغ بما يناسب:



ب- اربط بسهم بين كل عبارة وما يناسبها:

- البطارية
- التوهج
- المصباح
- تغذية المصباح بالكهرباء
- الأسلاك
- ثمرر وتقطع الكهرباء
- القاطعة
- نقل الكهرباء من البطارية إلى المصباح

النشاط الثالث: أكمل أشهر السنة الهجرية.

النشاط الأول: (02ن)

أ- ما هي طرق تكاثر النباتات الزهرية. (02ن)

1- تكاثر النباتات الزهرية بالبذور.

2- بالأبصال

3- الفسائل

4- الدرنات

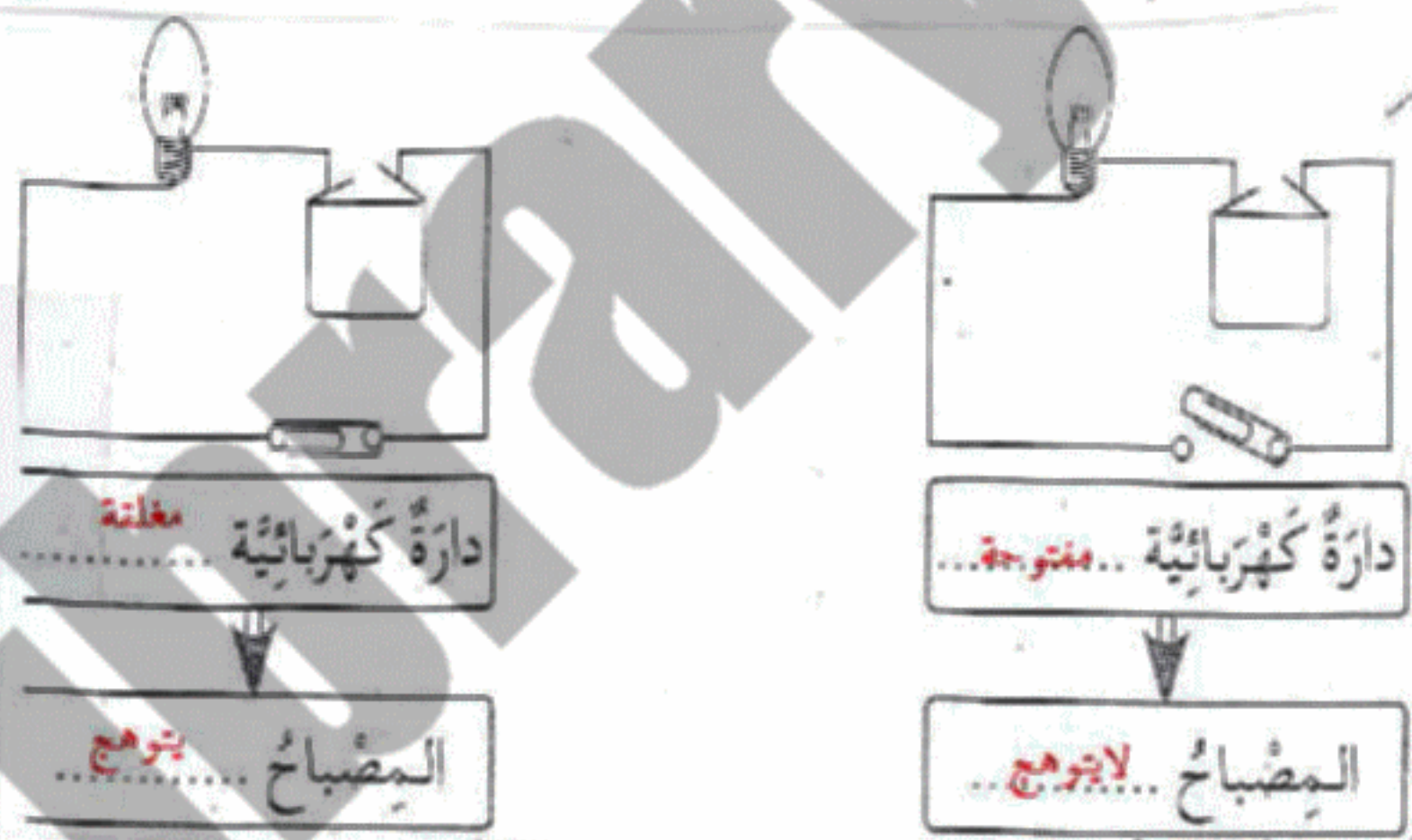
ب- أرتب مراحل تكاثر النباتات الزهرية: (02ن)

3 - ظهور الثمرة.

1 - تشكل براعم زهرية.

4 - تشكل بذور بداخلها.

2 - ظهور الأزهار.

النشاط الثاني: أملأ الفراغ بما يناسب: (02ن)

ت- اربط بسم كل عبارة وما يناسبها: (02ن)

- البطارية • التوهج
- المصباح • تغذية المصباح بالكهرباء
- الأسلاك • تمرر وتقطع الكهرباء
- الفاطعة • نقل الكهرباء من البطارية إلى المصباح

النشاط الثالث: أكمل أشهر الهجرة. (02ن)