


## اختبار الفصل الثالث في مادة التربية العلمية


## النشاط الأول :

ألاحظ الحيوانات التالية و أملأ الفراغ بعجارة "ألف" أو "متوحش" .



## النشاط الثاني :

أكتب (و) إن كان الحيوان وُلودًا، و (ب) إن كان بيوضًا داخل القرص .



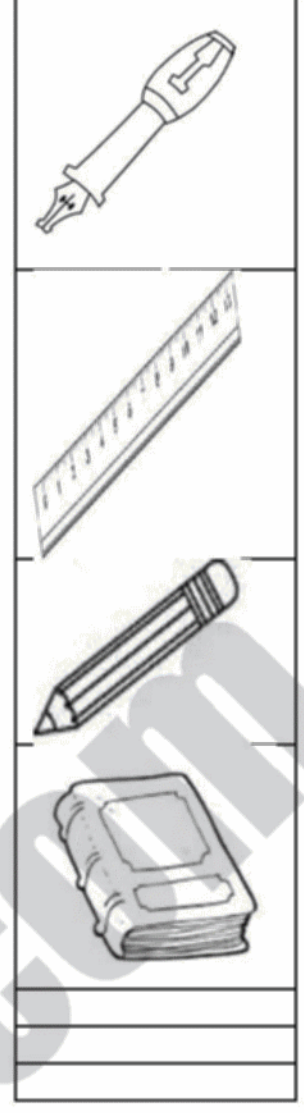
## النشاط الثالث :

أصل كل أداة بمجال استعمالها .

لِلتَّسْطِيرِ

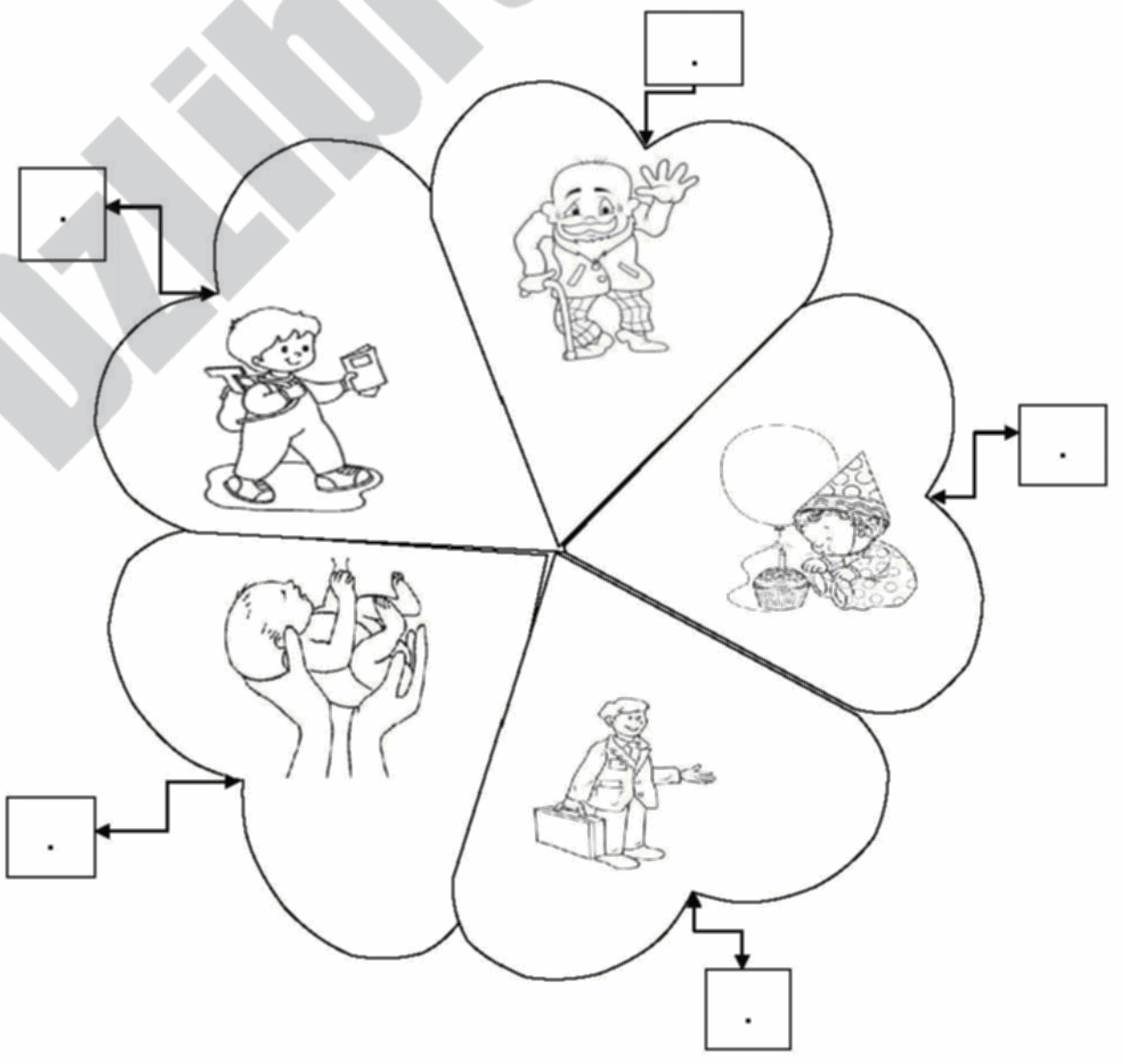
لِلكِتَابَةِ

لِلقِصِّ



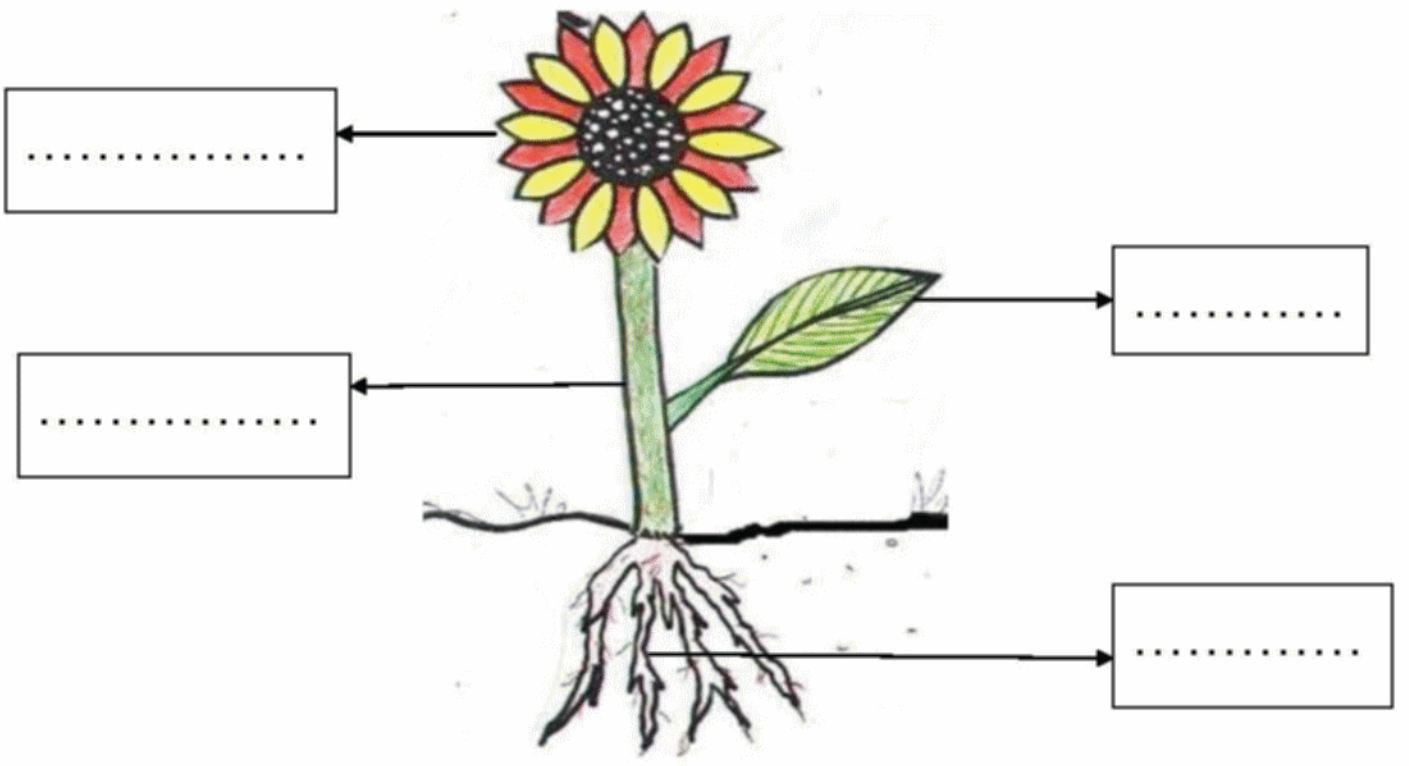
## النشاط الرابع :

أرتب الأحداث التالية بوضع الأرقام من (1) إلى (5) .



## النشاط الخامس :

ألاحظ هذه النبتة ثم أملأ البيانات اللازمة .



## النشاط السادس :

أصنّف المواد التالية بوضع العلامه ( X ) في الخانة المناسبة .

لِلتَّنْظِيفِ	لِلتَّطْهِيرِ	
		الغاسول
		معجون الأسنان
		مسحوق الملابس
		ماء جافيل
		الصابون



التصحيح النموذجي لاختبار الفصل الثالث في مادة التربية العلمية

النشاط الأول :

ألاحظ الحيوانات التالية و أملأ الفراغ بعبارة "أليف" أو "متوحش" .

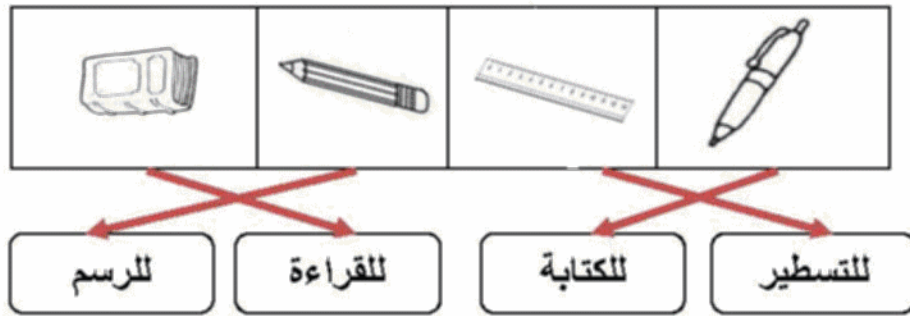
		
متوحش	أليف	أليف
		
متوحش	أليف	متوحش

1.5  
1.5

النشاط الثاني :

أصل كل أداة بمجال استعمالها .


1  
1



1.25  
1.25

النشاط الثالث :


أرتب الأحداث التالية بوضع الأرقام من ( 1 ) إلى ( 5 ) .



2  
2

النشاط الرابع :


ألاحظ هذه النبتة ثم أملأ البيانات اللازمة .



3  
3

النشاط الخامس :

أكتب (و) إن كان الحيوان وُلودًا، و (ب) إن كان بيوضًا داخل القرص .



1.25  
1.25

النشاط السادس :

أضع العلامة (x) في الخانة المناسبة .

المواد	للتنظيف	للتطهير
مسحوق الملابس	x	
الصابون	x	
ماء الجافيل		x
الغاسول	x	
غاسول الأواني	x	