



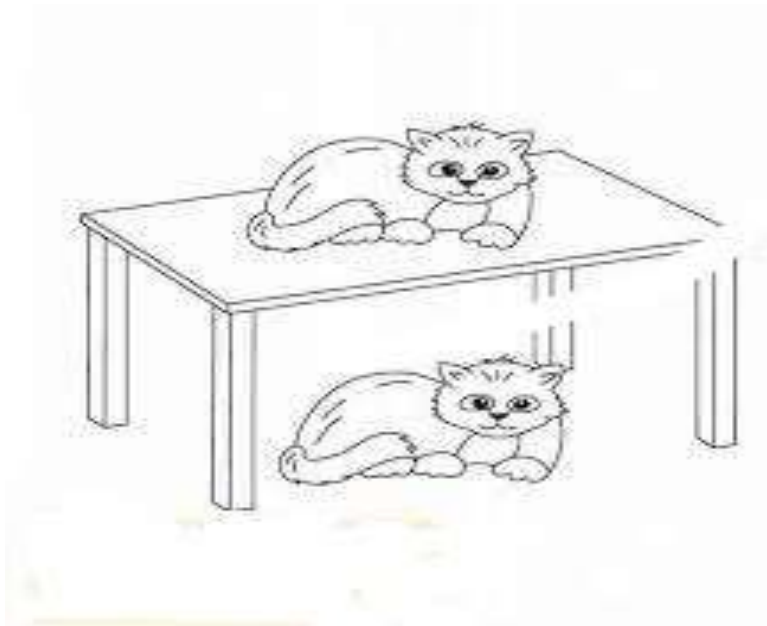
# المستوى: الأولى ابتدائي (1AP) أكتوبر 2021

## تقويم في الرياضيات

اللقب: ..... الاسم: ..... القسم: .....

الوضعية 1: أُلَوْنُ بِالْأَخْضَرِ الْقِطَّ فَوْقَ الطَّائِلَةِ

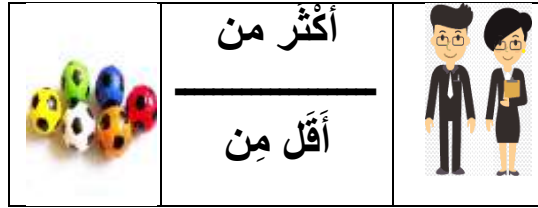
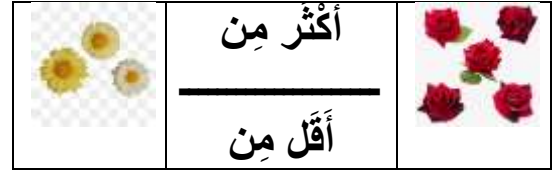
و بِالْأَصْفَرِ الْقِطَّ تَحْتَ الطَّائِلَةِ.



أُلَوْنُ السَّيَّارَةَ الَّتِي وَرَاءَ الْوَلَدِ بِالْأَحْمَرِ وَالَّتِي أَمَامَ الْوَلَدِ بِالْأَزْرَقِ.




الوضعية 2: أَلَوْنُ الْبِطَاقَةِ الصَّحِيحَةَ:




الوضعية 3 : أَرِيبُ كُلِّ مَجْمُوعَةٍ بِالْعَدَدِ الْمُنَاسِبِ :




0



4



3




9


الوضعية 4: أَكْمِلُ الْأَعْدَادَ فِي الشَّرِيْطِ الْعَدَدِي:

		2				6		8		10
--	--	---	--	--	--	---	--	---	--	----

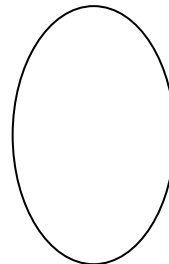
الوضعية 5: أَكْتُبُ عَدَدَ النُّجُومِ فِي كُلِّ بِطَاقَةٍ :



...



...



...

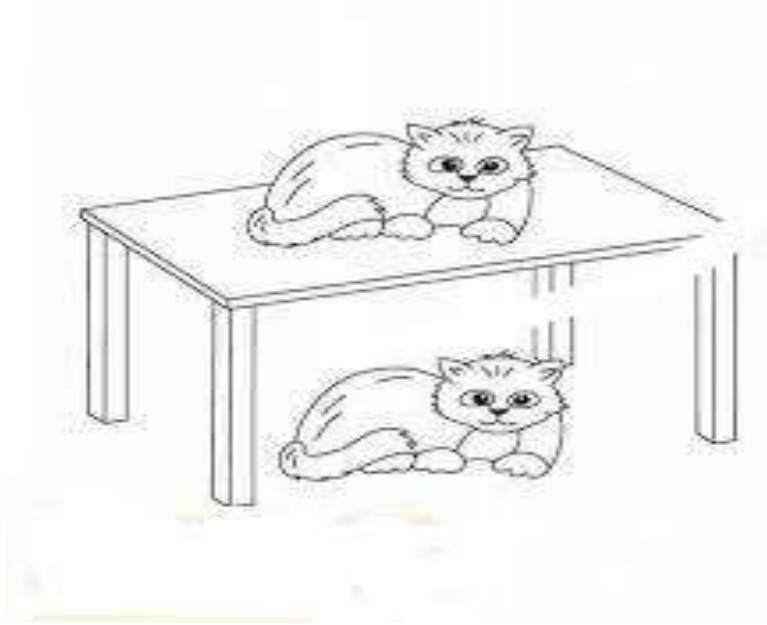


...

التصحيح النموذجي

الوضعية 1: أُلَوِّنُ بِالْأَخْضَرِ الْقِطَّ فَوْقَ الطَّاوِلَةِ

و بِالْأَصْفَرِ الْقِطَّ تَحْتَ الطَّاوِلَةِ.



أُلَوِّنُ السِّيَّارَةَ الَّتِي وَرَاءَ الْوَلَدِ بِالْأَحْمَرِ وَالَّتِي أَمَامَ الْوَلَدِ بِالْأَزْرَقِ.

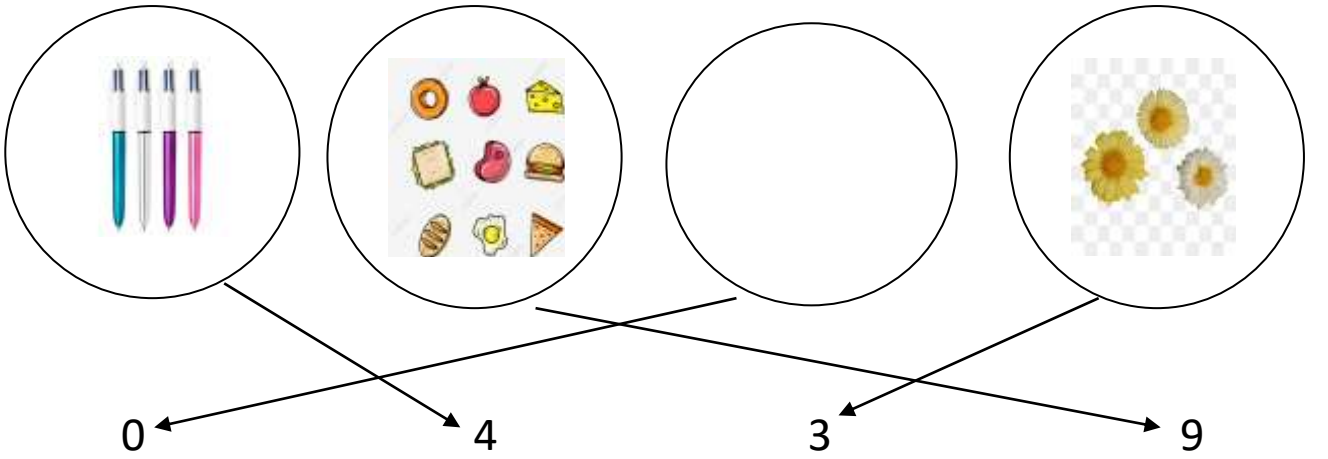


الوضعية 2: أُلَوِّنُ الْبِطَّاقَةَ الصَّحِيحَةَ:





**الوضعية 3 : أربط كل مجموعةٍ بِالْعَدَدِ الْمُنَاسِبِ :**



**الوضعية 4: أكمِل الأعدادَ فِي الشَّرِيْطِ الْعَدَدِي:**

0	1	2	3	4	5	6	7	8	9	10
---	---	---	---	---	---	---	---	---	---	----

**الوضعية 5: اكتب عدَد النُّجُومِ فِي كُلِّ بِطَاقَةٍ :**

