



ديسمبر 2020

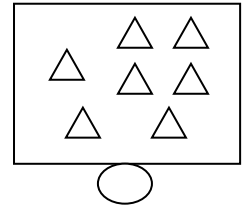
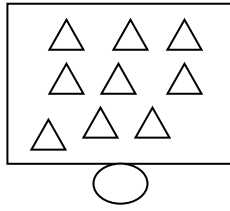
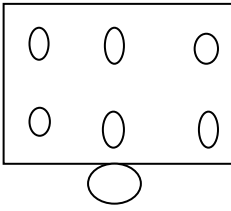
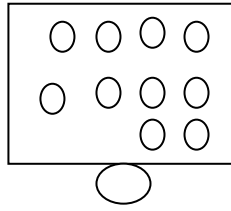
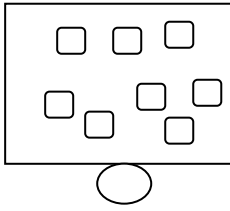
المستوى: الأول ابتدائي (1AP)

الفرض الأول للفصل الأول في الرياضيات

الاسم: اللقب:

التمرين الأول:

أعدّ و أكتب العدّد.



التمرين الثاني: ألون بقدر العدّد.

6									
4									
3									

التمرين الثالث:

أنجز العمليّات التّاليّة.

$2+7=...$

$6+3=...$

$2+2=...$

$1+6=...$

التمرين الرابع:

أرتب الأشرطة من الأقصر إلى الأطول (1,2,3,4).

 ()

 ()

 ()

 ()

بالتوفيق.