

الجمهورية الجزائرية الديمقراطية الشعبية

الديوان الوطني للامتحانات والمسابقات

دورة: 2017

وزارة التربية الوطنية

امتحان بكالوريا التعليم الثانوي

الشعبة: تسيير واقتصاد

المدة: 03 سا و30د

اختبار في مادة: التاريخ و الجغرافيا

على المترشح أن يختار أحد الموضوعين الآتيين:

الموضوع الأول

يحتوي الموضوع الأول على 03 صفحات (من الصفحة 1 من 6 إلى الصفحة 3 من 6)

التاريخ:

الجزء الأول: (06 نقاط)

(1) "... بعد أن وضع مؤتمر الصومام الأسس التنظيمية والهيكلية المختلفة التي مكّنت الثورة من استقطاب القاعدة الشعبية تجسدت السياسة الفرنسية في تكثيف العمليات العسكرية، وزيادة عدد الجنود والاستعانة بقوات الحلف الأطلسي وإنشاء المناطق المحرمة والمحتشدات واللجوء إلى القرصنة، طانة أنها بهذا العمل ستضع نهاية للثورة...".  
المصدر: تاريخ الجزائر المعاصر فيصل هومة، ص16.

المطلوب: اشرح ما تحته خط في النص.

(2) عرّف بالشخصيات التالية:

- ميخائيل غورباتشوف - جون كنيدي .

(3) على خريطة العالم المرفقة وقع حركتين تحريريتين من قارتين مختلفتين.

الجزء الثاني: (04 نقاط)

على إثر وفاة "جوزيف ستالين" 1953، صرّح "هاري ترومان" قائلاً:

"... إنّ العالم أجمع يدرك أن عهدا قد انقضى بوفاة "ستالين"..."

المطلوب: انطلاقاً من العبارة واعتماداً على ما درست، اكتب مقالا تاريخيا تبين فيه:

(1) مظاهر التوتر بين المعسكرين في الفترة ما بين (1947-1953).

(2) دلائل التقارب السوفياتي- الأمريكي في الفترة ما بين (1953-1963).

## الجغرافيا:

## الجزء الأول: (06 نقاط)

1) صرح أمير دولة الكويت في المؤتمر الرابع لحركة عدم الانحياز المنعقد بالجزائر سنة 1973 قائلاً: "... إنّ دول مجموعتنا تقع عليها مسؤولية تحقيق التكامل الاقتصادي في إطار التعاون الإقليمي وتهيئة الظروف الملائمة للدخول في مشاريع مشتركة، وأن تعمل مجتمعة على دراسة إمكانية استحداث الوسائل والسبل المباشرة والكفيلة بحماية رؤوس الأموال واحتياطات نقد الدول النامية من أزمات النقد الدولية وعمليات التخفيض والتضخم المعتمدة، وأن تضع حدا للعلاقات الاقتصادية غير المتكافئة ما بين الدول النامية والدول المتقدمة...".

المرجع: مجلة العربي، العدد 183، جانفي 1974، ص91.

المطلوب: اشرح ما تحته خط في النص.

2) إليك جدولاً يمثل متوسط الناتج الداخلي الإجمالي لبعض القوى الاقتصادية في العالم سنة 2013:

القوى الاقتصادية	الناتج الداخلي الإجمالي (مليار دولار)	الناتج الداخلي للفرد (ألف دولار)
و. م. الأمريكية	16246	50.5
اليابان	6062	47.7
البرازيل	2456	12.3
فرنسا	2740	42.2
الصين	8777	6.5
كوريا الجنوبية	1260	25.7

المصدر: p.7. Rapport de la commission des Affaires Etrangères Nationale (France) le 16 octobre 2013

المطلوب:

أ) مثل معطيات متوسط الناتج الداخلي للفرد بواسطة أعمدة بيانية:

مقياس الرسم: 1 سم ← 5 آلاف دولار، 1 سم ← دولة.

ب) علق على الجدول.

## الجزء الثاني: (04 نقاط)

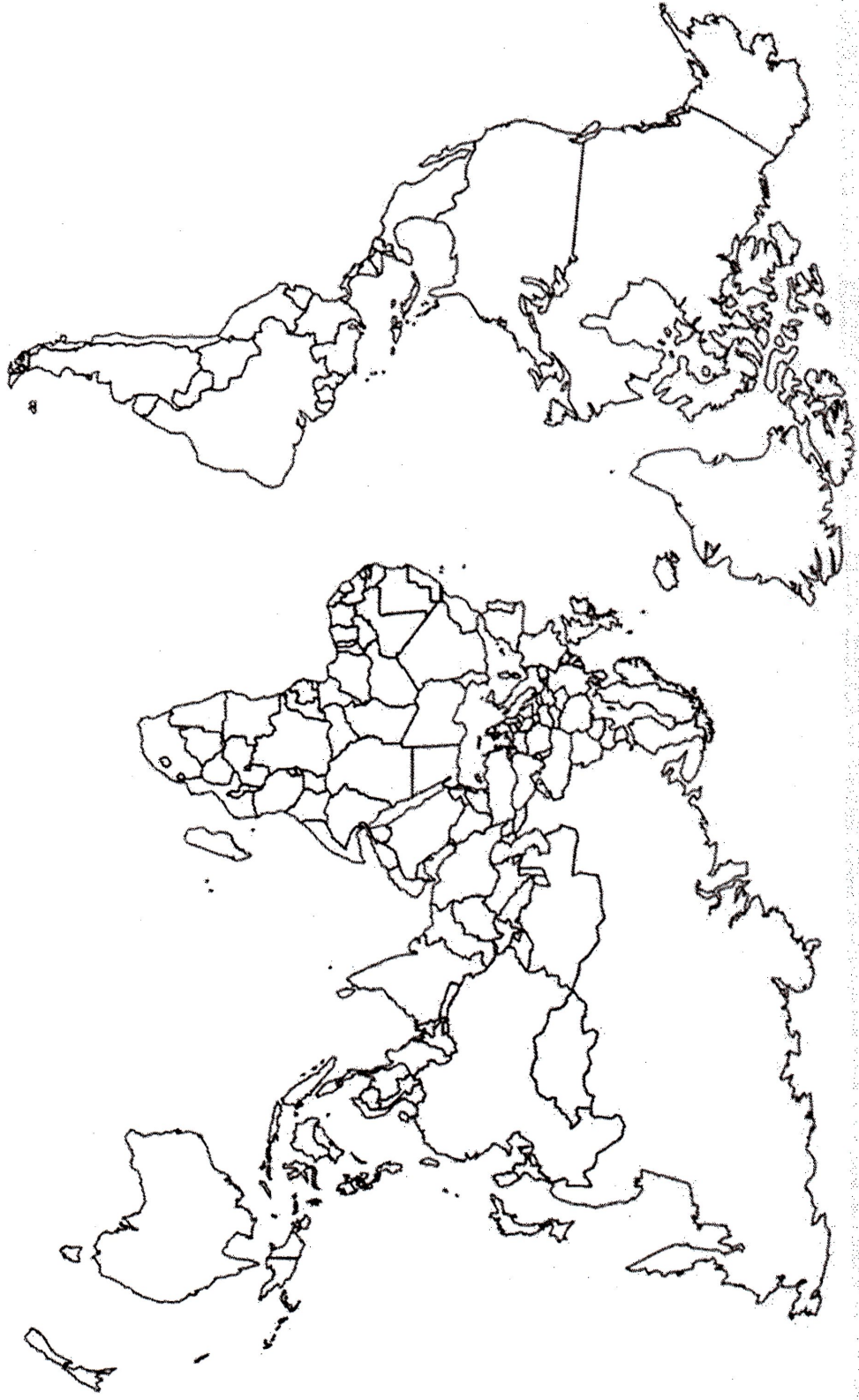
يمثل القمح والأرز مادتين غذائيتين استراتيجيتين على المستوى العالمي وأهم ما يلاحظ في الوقت الراهن هو تحكم الدول الكبرى وشركاتها الاحتكارية في تجارتهما في الوقت الذي تسعى فيه منظمة الأغذية والزراعة العالمية (فاو) إلى تقديم المساعدات الغذائية للدول الفقيرة.

المطلوب: انطلاقاً من الفقرة واعتماداً على ما درست، اكتب مقالا جغرافيا تبين فيه:

1) العوامل المتحكمة في إنتاج القمح والأرز.

2) انعكاسات تحكم الدول الكبرى في تجارتهما على دول العالم المتخلف.

خريطة العالم



انتهى الموضوع الأول

ينجز العمل المطلوب على الخريطة وتعاد مع أوراق الإجابة

## الموضوع الثاني

يحتوي الموضوع الثاني على 03 صفحات (من الصفحة 4 من 6 إلى الصفحة 6 من 6)

التاريخ:

الجزء الأول: (06 نقاط)

(1) " ... ومما شجّع هذه الحركات التحريرية في نضالها هو تزايد قوة ونفوذ الكتلة الاشتراكية في العالم خاصة

بعد انتصار الثورة الشيوعية في الصين، وظهور الحركة الأفرو آسيوية... "

المرجع: مختار مرزوق حركة عدم الانحياز في العلاقات الدولية، (1961، 1983)، بتصرف، ص 217.

المطلوب: اشرح ما تحته خطّ في النصّ.

(2) عرّف بالشخصيات التالية:

- محمد بوضياف - جاك سوستال

(3) أكمل الجدول التالي:

التاريخ	الحدث
20 سبتمبر 1947	.....
.....	استقلال الهند

الجزء الثاني: (04 نقاط)

" ... كانت المفاوضات صعبة للغاية، والنتيجة تتوقف على وحدتنا ودعم الجماهير، هذا الدعم الذي تجلّى في

الانتفاضات الشعبية العارمة التي جرت يوم 11 ديسمبر 1960، لقد أظهرت هذه الانتفاضات روح الكفاح والقدرات

النضالية التي ظلت مرتفعة لدى الجماهير رغم الإرهاب البوليسي والعسكري... "

المصدر: بن يوسف بن خدة، اتفاقيات إيفيان، ص 19.

المطلوب: انطلاقا من الفقرة واعتمادا على ما درست، اكتب مقالا تاريخيا تبيّن فيه:

(1) مظاهر التفاف الشعب الجزائري حول الثورة التحريرية.

(2) فشل المخططات الاستعمارية في القضاء على الثورة.

الجغرافيا:

الجزء الأول: (06 نقاط)

(1) "... تعدّ الشركات متعددة الجنسيات من أهم ملامح ظاهرة العولمة نظرا لضخامة حجمها وتنوع نشاطها وانتشارها الجغرافي والسوقي، وقدراتها على تحويل الإنتاج والاستثمار عالميا وإقامة التحالفات الاستراتيجية بالإضافة إلى المزايا الاحتكارية وتعبئة المدخرات العالمية... ".

المصدر: مجلة الإدارة والاقتصاد، العدد 25 السنة 2010.

المطلوب: اشرح ما تحته خط في النص.

(2) إليك جدولا يمثل نسب المساهمة في الصادرات العالمية لمختلف مناطق العالم سنة 2013.

المنطقة	الشرق الأوسط	إفريقيا	آسيا	أمريكا الشمالية	أمريكا الوسطى والجنوبية	أوروبا
النسبة %	02.7	04.4	26.2	16.4	03.1	47.2

المصدر: المنظمة العالمية للتجارة، إحصائيات التجارة الدولية 2014.

المطلوب: علق على الجدول.

(3) على خريطة العالم المرفقة وقّع مقرّات المؤسسات المالية والاقتصادية العالمية التالية:

- صندوق النقد العالمي - منظمة التجارة العالمية - منظمة الدول المصدرة للبترول.

الجزء الثاني: (04 نقاط)


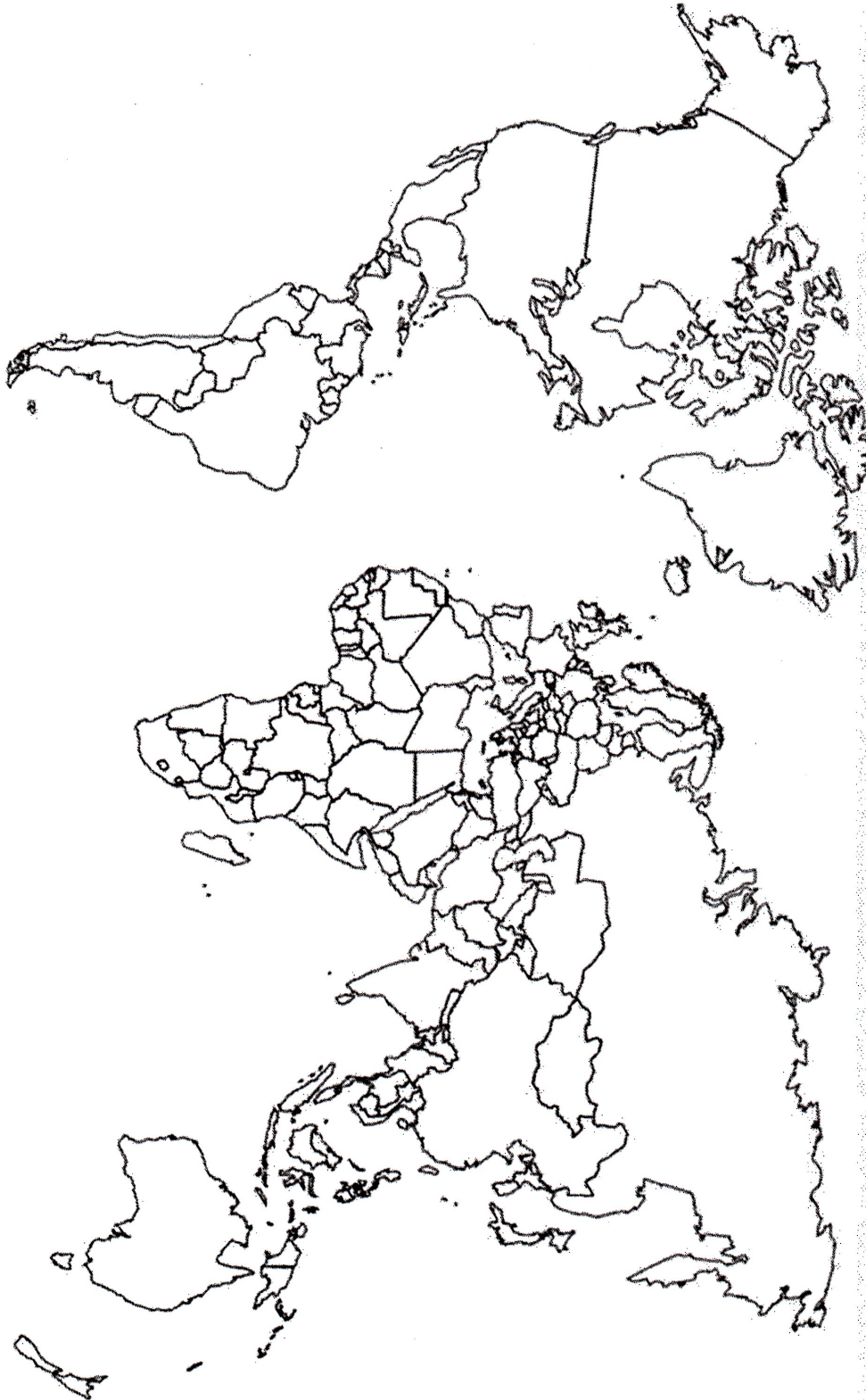
تنتمي الجزائر إلى منطقة البحر الأبيض المتوسط الذي يعتبر مهد الحضارات القديمة، وهمزة وصل بين دول الاتحاد الأوروبي في الشمال والدول النامية في الجنوب وتعمل الجزائر -على غرار باقي بلدان الضفتين الشمالية والجنوبية- على إقامة شراكة من أجل التعاون في مختلف المجالات.

المطلوب: انطلاقا من الفقرة واعتمادا على ما درست، اكتب مقالا جغرافيا تبين فيه:

(1) دوافع الشراكة الجزائرية-الأوروبية.

(2) مدى استفادة الجزائر من هذه الشراكة.

خريطة العالم



انتهى الموضوع الثاني

ينجز العمل المطلوب على الخريطة وتعاد مع أوراق الإجابة