



ابتدائية المجاهد أطفيش محمد بن ابراهيم - بني يزقن -

الرياضي(ة) : المستوى : الثانية ابتدائي (أ،ب،ج)

الاختبار الثالث في مادة الرياضيات 2015/2014

التمرين الأول (1.5ن): أَحْسِبْ حَسَبَ الْمِثَالِ

$$2 + 2 + 2 = 2 \times 3 = 6$$

$$2+2+2+2+2 = . \times . = \dots$$

$$\dots = 2 \times 6 = \dots$$


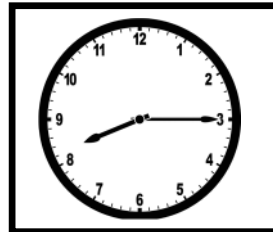
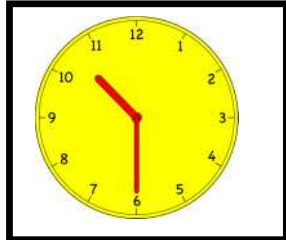
$$2+2+2+2+2+2+2+2 = . \times . = \dots$$

التمرين الثاني (1.5ن) : أَرْبِطْ كُلَّ سَاعَةٍ بِالْبِطَاقَةِ الْمُنَاسِبَةِ

الثَّامِنَةُ وَرُبْعُ

10:30

08:15



10:10

الثَّالِثَةُ تَمَامًا

العَاشِرَةُ وَنِصْفُ

التمرين الثالث (1.5ن) : أَرْسُـمُ كُلَّ شَكْلِ فِي الْخَانَةِ الْمُنَاسِبَةِ

ج	ث	ت	ب	أ	
					1
					2
					3
					4
					5

(أ ، 5) ○

(ت ، 1) □

(ج ، 4) ▬

(ث ، 2) △

(ج ، 3) ●

(ب ، 2) □

