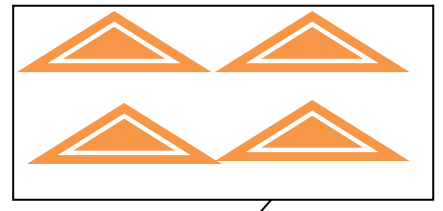




قسم : السنة الاولى ابتدائي
السنة الدراسية : 2017/2016

ابتدائية :
الاستاذ :

اختبار الفصل الثاني في الرياضيات

التمرين الاول: احسب ثم اكتب العدد



التمرين الثاني : اكمل مايلي :

نصف هو

8

$$18 - = \dots\dots\dots$$

3

ضعف 6 هو

$$26 + = \dots\dots\dots$$

التمرين الثالث : 4 اتمم شريط الاعداد تصاعديا

54									63
----	--	--	--	--	--	--	--	--	----

التمرين الرابع : صل بين 3 نقاط على استقامة واحدة

■

■

■

■

■