

يسرنا أن نضع بين أيدي التلاميذ كتاب الجغرافيا للسنة الثالثة من التعليم الثانوي، وقد تم تأليفه وفق المنهاج الجديد المقرر، في إطار إصلاح المنظومة التربوية . تهتم الجغرافيا في السنة الثالثة من التعليم الثانوي بالدراسة التفصيلية للمجال الجغرافي العالمي، من حيث تباينه وتنوعه، وتركز أساسا على الجغرافية الاقتصادية وعلاقة السكان بالتنمية والبيئة، بما يمكن المتعلمين من بناء معرفة وثقافة جغرافية وفهم العالم الذي يعيشون فيه والذي يتصف بديمومة التغيير. يستدعي ذلك تناول الوحدات التعليمية المحددة في المنهاج، وفق المنهجية البنائية المعتمدة في تقديم المنهاج ممثلة في المقاربة بالكفاءات .

وهي بالنسبة للشعب الأدبية أربع (4) وحدات تعليمية:

- واقع العالم الاقتصادي .
- القوى الاقتصادية الكبرى في العالم .
- التنمية في دول الجنوب .
- الجزائر في منطقة البحر الأبيض المتوسط ( خاص بالأقسام الأدبية ) .

وثلاث (3) وحدات تعليمية بالنسبة للشعب العلمية:

- واقع العالم الاقتصادي .
- القوى الاقتصادية الكبرى في العالم .
- التنمية في دول الجنوب ومكانة الجزائر في منطقة البحر المتوسط .

تعتبر كل وحدة تعليمية إطارا تعليميا، تتحقق فيه الكفاءة القاعدية المسطرة، وقد تمت ترجمتها إلى وضعيات تعليمية، تتمثل في إشكالية، مدعمة بسندات مختارة ومناسبة، تتم الإجابة عليها تبعا لتعليمية تخص نشاط المتعلمين الذين يستقرئون تلك السندات بشكل منهجي لاستخلاص المعلومات وبناء المعرفة بأنفسهم .

يتم توظيف واستغلال أدوات المادة ( نصوص، صور، خرائط، رسومات تخطيطية، معطيات إحصائية ) قصد تحقيق الكفاءات التالية :

### ● في المجال المهاري ( المنهجي )

- استقراء الخرائط والصور والبيانات والنصوص في معالجة وضعيات إشكالية متنوعة .
- توظيف المفردات والمفاهيم والمصطلحات الجغرافية بشكل سليم لإبراز الجوانب المتعلقة بالسكان والتنمية . والتهيئة الإقليمية ومشاكل البيئة .
- التحكم في منهجيات استخدام أدوات المادة في إطار البحث عن المعلومات واستثمارها لبناء المعرفة .
- التمرس على التحليل النقدي . وتحرير مواضيع أو مقالات ثم مقالات مواتية في مستوى البكالوريا بشكل منهجي .



## ● في المجال المعرفي

- تحليل نقدي للواقع الاقتصادي العالمي : للدول المتقدمة والدول المتخلفة .
- التكتلات الاقتصادية - المبادلات العالمية .
- اكتشاف عوامل قوة القوى الاقتصادية الكبرى في العالم وإبراز علاقتها بالاقتصاد العالمي في الوقت الراهن .
- التمييز بين الإمكانيات والمعوقات في مجال التنمية الاقتصادية والاجتماعية .
- إبراز مكانة ودور الجزائر كبلد في منطقة البحر الأبيض المتوسط الذي يعتبر همزة وصل بين دول الشمال ودول الجنوب .

## ● في المجال الوجداني

- اتخاذ المواقف وتبريرها بالنسبة لقضايا الساعة .
  - التحلي بروح المسؤولية والنقد البناء .
  - تبرير المواقف وحسن الاستدلال .
  - اقتراح الحلول لمشاكل السكان والتنمية والبيئة .
- نرجو أن ينال الكتاب رضى الأساتذة والتلاميذ وأن يكون وسيلة عمل تساعدهم على تحقيق الأهداف .

المؤلفون



**عناصر معرفية يتم التركيز عليها في الدراسة الجغرافية .**

### **الوحدة التعليمية الأولى : واقع العالم الاقتصادي**

يتميز الفضاء العالمي في الوقت الراهن بما يلي :

- تباين مفهومي التقدم والتخلف ، وتنوع المعايير والمؤشرات التي تساعد على تصنيف الدول .
- التأثير الممارس على المجتمعات والفضاءات الاقتصادية العالميين من طرف عناصر فاعلة أي من طرف الدول الكبرى والشركات المتعددة الجنسيات والمنظمات غير الحكومية ، في ظل وجود أقطاب كالعواصم العالمية الكبرى التي تتمتع بسلطة القرار وقيادة النظام الاقتصادي العالمي الجديد .
- تنوع وكثافة وحرية المبادلات ( تنقل البضائع - تنقل رؤوس الأموال - الإعلام والسكان )
- اتساع دائرة الحوار حول مشاكل التنمية والرهانات العالمية المختلفة السكانية والبيئية وتزايد الوعي بها والرغبة في أساليب جديدة لتنظيم المجال الجغرافي والاقتصادي .

### **الوحدة التعليمية الثانية : القوى الاقتصادية الكبرى في العالم**

هناك 3 قوى اقتصادية كبرى في العالم هي :

#### **الولايات المتحدة الأمريكية**

وتتجلى قوتها الاقتصادية في عدة مظاهر ( اقتصادية - مالية - ثقافية - دبلوماسية - عسكرية ) .  
تؤخذ العناصر التي تؤثر على المجال الجغرافي المحلي والعالمي بعين الاعتبار بداية بدراسة طبيعة تهيئة الإقليم الأمريكي ، وصولا إلى دراسة نموذج الواجهة الأطلسية للولايات المتحدة الأمريكية باعتبارها قطبا اقتصاديا وبوابة الاتصال المكثف بالعالم الخارجي لأسباب اقتصادية و تاريخية وبشرية .

#### **الاتحاد الأوروبي**

يشهد الاتحاد الأوروبي توسعا واندماجا سياسيا واقتصاديا يجعلان منها قوة اقتصادية تبرز فيها منطقة الراين القلب النابض والمحور المركزي لاقتصاد الاتحاد الأوروبي ، وهي منطقة تتصف بكثافة السكان وتركز المدن الصناعية ويعتبر بحر الشمال امتدادا للمنطقة



## شرق وجنوب شرق آسيا

تعود قوة منطقة شرق وجنوب شرق آسيا إلى وزنها الديموغرافي. وتشكل عنصر وحدة ونشاط حيوي يضم كلا من اليابان وكوريا الجنوبية وتايوان والصين الساحلية وسنغافورة، كفضاء متعدد الأقطاب، يتميز بكثافة وتنوع المبادلات التجارية ومؤسسات استثمارية ضخمة رغم تباين الأنظمة السياسية فيها والمستوى المعيشي والنشاط الاقتصادي.

تعتبر منطقة (طوكيو - فوكيوكا) أهم مجمع مدن في اليابان وهي عبارة عن مراكز سكانية وصناعية ومالية عالمية تبرز فيها الأهمية المعطاة للمشاكل البيئية وتهيئة الإقليم.

### الوحدة التعليمية الثالثة : التنمية في دول الجنوب

تتصف التنمية في العالم بالتباين من حيث الغنى والفقر، ومن حيث درجة التطور ويسجل في دول الجنوب نفسها تفاوت كبير في التنمية لأسباب مختلفة.

إن دراسة بعض البلدان النامية (الهند - البرازيل - نيجيريا) كنماذج من القارات الثلاث (آسيا، أمريكا اللاتينية وإفريقيا). تمكن من اكتشاف معيقات التنمية والمشاكل الديموغرافية والبيئية فيها والتي تستدعي التفكير واقتراح حلول مناسبة لها.

### الوحدة التعليمية الرابعة : الجزائر في منطقة البحر الأبيض المتوسط

يعتبر حوض البحر الأبيض المتوسط الذي تنتمي إليه الجزائر همزة وصل بين دول الشمال ودول الجنوب، يتم التركيز في دراسة المنطقة على الخصائص الطبيعية والبشرية كالموقع والمناخ والنمو الديموغرافي والتوزيع السكاني ثم التأكيد على إبراز مكانة ودور الجزائر في تفعيل تلك العلاقات المتنوعة بين ضفاف منطقة البحر الأبيض المتوسط.



## تنظيم وتوظيف الكتاب

حرصنا على هيكلة الكتاب وتنظيمه بما من شأنه أن يمكن من توظيف محتوياته المتنوعة، لتحقيق الكفاءات المستهدفة، وفق الخطة التالية :

### أ - المدخل إلى الوحدة التعليمية :

الصفحة الأولى. وتتضمن عنوان الوحدة التعليمية ومنصوص الكفاءة القاعدية والوضعية التعليمية الخاصة بنفس الوحدة.

صفحتان تتضمنان سندات تحسيسية، تساعد على فهم الإشكالية الأصلية المطروحة وصفحتان يتحدد فيهما إطار التناول أو منطلقات الدراسة بالنسبة لجوانب الوحدة التعليمية

### ب - الوضعية التعليمية :

تتضمن كل وحدة تعليمية مجموعة من الوضعية التعليمية. يتم تقديم كل وضعية في صفحتين أو أكثر، في صورة إشكالية ومجموعة سندات مختارة تكون متبوعة بتعليمية ( نشاط يوجه التلميذ إلى البحث وعملية البناء المعرفي ) علما ان التعليمية تركز في الغالب على منتج محدد، يستدعي جملة من النشاطات والمهارات.

### ج - الحصيلة :

وهي عبارة عن مستخلص يتضمن نصا معرفيا وسندات متنوعة موازية. يمكن اعتمادها كأرضية انطلاق مساعدة على صياغة وبناء المعرفة ( اثر كتابي مرتب ) قبل الشروع في معالجة الوضعية الإدماجية - التقويمية المعطاة في نهاية كل وحدة تعليمية.

### د - الوضعية الإدماجية - التقويمية :

يقترح الكتاب وضعية إدماجية - تقويمية لكل كفاءة قاعدية. وهي عبارة عن إشكالية ومجموعة سندات وتعليمية دقيقة، الغاية منها اختبار كفاءة المتعلم من حيث قدرته على تقديم منتج كامل من الناحية المعرفية والمهارية والسلوكية.

### ملاحظة :

يتم تنظيم بقية الوحدات التعليمية على نفس المنوال مع ضمان التوازن المطلوب.



# المدخل

الوحدة التعليمية الأولى

واقع العالم الاقتصادي

عنوان الوحدة التعليمية

سندات تحسيسية



الكفاءة القاعدية

الكفاءة القاعدية  
تحليل نقدي لواقع العالم الاقتصادي



- محتويات تعلمية تحري
- واقع العالم الاقتصادي
- 1 - مفهوم التقدم ومفهوم التخلف
  - 2 - النظام الاقتصادي العالمي الجديد (العولمة)
  - 3 - التكتل الاقتصادي في العالم
  - 4 - المدايات والتقلبات في العالم

عناوين  
وضعية تعلم

## وضعية تعليمية

سندات

عنوان الوضعية التعليمية

الإشكالية

1 - مفهوم التقدم ومفهوم التخلف

الإشكالية

هل هناك عيار يقي كفاءة التخلف والتقدم، وإمما نوع الوضعية المقصود بذلك يمكن أخذ مجموعة من المؤشرات كعنصر أساس في تحديد مفهوم التقدم والتخلف الاقتصادي.

ما أوجه الشبه والاختلاف بين تلك التعاريف ؟ وماذا ؟

يهدف الاقتصاديون والمفكرون المختلفون على أنه تأخر عن ركب مجتمع الدول المتطورة، ويوهي التعريف بأن تتسارع التطور، وحدة بالتسوية جميع الدول، أو لا يأخذ بعين الاعتبار الفارق بين الدول التي عرفت تطوراً في القرنين الـ 19 والـ 20، تلك التي تطورت في العصر الحديث.

وتختلف المصطلحات على العالم الثالث أن التخلف هو وضعية مفارقة عن التقدم أو التراجع التي هيمنة الدول المتطورة المتعلقات بالدول المتخلفة وهو لها بعض الفارق عن مساوئها الحكام والسياسيين فيها.

يرجع هذا إلى أن التخلف التخلف التي تعطلت التي لا تسمح بالاستغلال العقلاني للموارد البشرية والاقتصادية القائمة التي وهو أمر غير مقبول على الدول المتطورة دون غيرها.

مفهوم العالم الثالث

أول ما ظهر مفهوم العالم الثالث، كان سنة 1952، من خلال كتابات الاقتصادي الفرنسي ألفريد سوفي في مقالته التي تناولت الحركات التجارية في العالم، وهي المفهوم مجموعة الدول المتخلفة والتي تشكل نسبة مهمة من الناتج العالمي، والمشاركة كلها في خصائص معينة.

لا يتصف التعريف بأنه العولمة بل يحدده من الناحية من حيث ضرورة التنمية، فهناك دول من ذلك العالم تطورت، والتحت ركب الدول المتطورة، دول من حيث طرق التنمية وهناك دول أخرى تطورت، لها اقتصادات متقدمة جداً تتسم بالدول الأكثر تحدياً، كما يفتقر النوع والامتياز.

في سنة 1948 صنف البلدان العالمي 112 دولة إلى 3 مجموعات على النحو التالي:

دول ذات اقتصاد قائم على دخل زراعي مرتفع جداً مثل: الولايات المتحدة، دول الأعداء الآزبي، دول شرق المتوسط، وآسيا الشرقية منها: آسيا، دول الشرق الأوسط، دول شرق آسيا، والهند، والصين.

دول ذات اقتصاد قائم على دخل زراعي ضعيف وهي أغلب دول القارة الأفريقية وآسيا الجنوبية ذات الكثافة السكانية العالية مثل الصين والهند وبعض بلدان أمريكا الوسطى.

يمكن اعتماد جملة من المعايير في تصنيف البلدان الاقتصادية.



**إفريقيا جنوب الصحراء**

أصبحت قارة إفريقيا قسماً اقتصادياً في مساحة البرية العائسة لأن هذه البرية لا يستفيد منها سكان القارة الصحراء.

قولة من غير تنمية

رسم الزمير في جريدة الصحراء 17 جويلية 2003

**أوبسانجوا (رئيس ناميبور) 1999 إلى اليوم (2007)**

عقد اقتصادنا النفط والعدا من قضا وجعلنا أكثر توحشاً وقسوة.

يشكل النمو الاقتصادي مؤشراً جيداً للتنمية والتنمية أي بناء، وتقدم اقتصادي فلتك التنمية ما ينبغي بالابتعاد عن الخطأ (GDP) والاعتماد على مؤشر التنمية (HDI) وهي مؤشرات لا تقيس فقط النمو الاقتصادي بل أيضاً جودة الحياة والبيئة.

إن التصور العميق مفهومه معقد - لأنه يندرج تحت مفهوم التنمية أي أن مجموع السكان يتمتعون بمستوى معيشي لائق ماديًا وثقافيًا ومستوى التعليم عاليًا بالإضافة إلى ضمان حقوق الإنسان وحياته الطبيعية.

بكاروبا / طاقم الترجمة: التاد صلال

العالم، منظمة الأمم المتحدة هي برنامجها للتنمية البشرية.

التعليم والعلوم والتدريب والتنمية البشرية كلها من أجل التنمية البشرية لكن بلد، وعلى هذا الأساس فإن أغلب البلدان الأكثر تقدماً تقع في أمريكا الشمالية واليابان.

**الغشابة**

من خلال الوثائق المعطاة وتلخيص التعاريف الخاصة بالتخلف، التمسك بقوة لتوضيح فيها مفهوم التقدم.

موقع عيون البصائر التعليمي



# الحصيلة

توجيه

سندات

**الحصيلة**

ما عدا ما تم اكتسابه في الوضعية التعليمية والسندات المقدمة في هذه الحصيلة، يمكنك حصر مختلف جوانب الوحدة التعليمية في شكل بناء أثر كتابي قبل معالجة الوحدة التعليمية في نهاية الوحدة التعليمية.

**معايير تصنيف البلدان**

الناتج الوطني الخام PNB، وبحسب على أساس القوة المنتجة داخل وخارج الوطن.  
الناتج الداخلي الخام PIB، وبحسب القوة المنتجة داخل الوطن من طرف المواطنين.  
PIB - PPA: إنداعية داخلية خاصة تقسم لثمة البلاد حسب متوسط السعر العالمي (PPA القدرة الشرائية).

**المؤشرات:**

مؤشرات ديموغرافية: نسبة الولادات، مدى الحياة، نسبة حسب العمر.  
مؤشرات اجتماعية: سد التعليم، الأمية، الوضعية الصحية، التساوي العنصري، الفوارق الاجتماعية، فقر، والبيئة، الإقتصاد، غياب الأمن، النظافة، مدى الأمل،  
مؤشرات اقتصادية: حجم القطاع الأول (الزراعة) والقطاع الثاني (الصناعة)، مستوى وحجم قطاع الخدمات، مستوى البحث العلمي والتجديد التكنولوجي.  
مؤشرات تجارية: طبيعة ونوعية الصادرات والواردات (مواد أولية مواد مصنعة).  
مؤشرات مالية: خدمة التمويل والاستثمار، مدى توفر رؤوس الأموال، الدين، قوة العملة الوطنية والتضخم.  
مؤشرات إقليمية: التحكم في التنمية الإقليمية، فوارق الجهوية، طبيعة ونوعية العمران الحضري، كثافة ونوعية شبكات النقل.  
مؤشر التنمية البشرية IDH: وقد تم إنشاؤه من طرف برنامج هذا م، بالتنمية وهو يدمج المؤشرات الكمية والنوعية المذكورة أعلاه ويرتب البلدان حسب درجة تعاقبها بأمانة من 0 إلى 1.

**مظاهر العولمة**

ليس هناك من شك في أن التعريفات التي شهدتها النظام الدولي، ولا سيما منها سقوط جدار برلين ونهاية الحرب الباردة، قد عدت بالقدرة الأوفر الأملد الاقتصاد المشترك على أوسع نطاق، بأن مصلحة مائة من صفحات تاريخ البشرية قد تقويت، وذلك ما أضحى صدى شعوب أوروبا وغيرها بنهاية التساخر الأيديولوجي بين الكتلتين العريمتين، وأعماها التي التحلص من شعور الارتباك الدائم الذي كان سائدا بين القوى العظمى.....

إنه عانس بدمع فيه الاقتصاد، عانس اكتساب القوة، والسيطرة فيه هي المعارف، علوم والتكنولوجيا، ومن معروف أن الصعوبة الاقتصادية أن التحولات الحارية على الفضاء العالمي تراكمها احتمالات قد تهدد تفانيتها الأسفلت في مناطق واسعة من المعمورة، إن استقطاب التدفقات التجارية والتدفق الاستثمارات المنتجة في المناطق الاقتصادية من الثالث، أمريكا الشمالية وأوروبا واليابان، يرسد من تهيكل القطاعات الجهوية الأخرى حيث تشهد التنمية الاقتصادية ركودا بلغ مستوى يعث على التألق.....

توجيه هام:

توظف السندات المقدمة في الحصيلة وما تم اكتسابه في الوضعيات التعليمية لبناء أثر كتابي في شكل مقال، من طرف المتعلم، وفق الترتيب الذي يراه مناسبا لموضوع الوحدة التعليمية



# وضعية إدماج

إشكالية

## وضعية إدماجية. تنوعية

### الإشكالية

يعتبر تزايد المعسولات وتوحيد التامة الإنتاج والاستهلاك في اغلب بلدان العالم من عناصر للمشكلة العالمية التي توضع فياتها مراكز والطاب عالمية عبر شبكة من التداخلات التجارية والأموال والإعلام على مستوى المعمورة. إن هناك قضايا جغرافية ومجتمعات ترفض وتتحول من هذا المسار الشمولي الواحد، لأسباب كثيرة. كيف نفسر ذلك؟

تقرير حول النمو البشري العربي يصدره كل سنة برنامج الأمم المتحدة والصدوق العربي للإمام الاقتصادي.

صدر في شهر أكتوبر سنة 2002 تقرير يحتوي على مؤشرات بما يكفي لتدويرنا حول وضعنا الأبيد ومستوى تطور بلدنا الاقتصادي والاجتماعي بما هي المعلومات التي افادنا بها هذا التقرير لسنة 2002 و 2003.....

ليس الوطن العربي عينا يعكس ما هو شائع، فالنتاج الداخلي الخام للبلدان العربية كلها والمقدر بـ 550 مليار دولار يقطن عن دخل بلد واحد مثل اسبانيا الذي يقدر بـ 600 مليار دولار بمعدل الدخل السنوي العربي للفرد الواحد هو نصف المعدل العالمي، صادرات الدول العربية مجتمعة من المحيط إلى المحيط خارج العروقات وعدد سكانها 284 مليون نسمة أقل من صادرات بلد مثل فلندا وعدد سكانه 5 ملايين نسمة.

يتخرج الوطن العربي كل سنة أقل ما يتخرجه بلد مثل اليونان بحسن مرات وهو الذي لا يتعدى عدد سكانه 11 مليون نسمة. نسبة مستعملي الأنترنت في الوطن العربي هي 6.1% من عدد السكان بينما

هي 79% في الولايات المتحدة الأمريكية. يستعمل كل 100 نسمة 18 جهاز كمبيوتر في الوطن العربي بينما يستعمل نفس العدد في البلدان المتقدمة 78 جهازا، لتصدر كل بـ 53 صحيفة لكل 1000 نسمة في الوطن العربي مقابل 285 صحيفة في البلدان المتقدمة.

هذا هو وضع الأمة العربية في سنة 2003 مختزل في هذه الأرقام المزعجة.

كلها عبد العزيز بوتفليقة رئيس الجمهورية في القمة الأولى لرؤساء دول وحكومات بلدان المحرر العربي للموسم 5+5 تونس 05 / 12 / 2005

سندات



تعلية

استعن بالوثائق المعطاة و مكسباتك القلبية. للإجابة عن الإشكالية المطروحة

توجيه هام:

التعلية عبارة عن مطلب دقيق يستهدف تقديم منتج ذي طابع شمولي بالنسبة لمختلف موارد الكفاءة.



## واقع العالم الاقتصادي

### مؤشرات التنمية البشرية



0,3 - 0,5 منخفض جدا

0,7 - 0,8 متوسط

0,9 مرتفع جدا

غياب المعطيات

0,5 - 0,7 منخفض

0,8 - 0,9 مرتفع



اليد العاملة في الفلبين

### وضعية تعليمية تخص :

#### واقع العالم الاقتصادي

- 1 - مفهوم التقدم ومفهوم التخلف
- 2 - النظام الاقتصادي العالمي الجديد (العولمة)
- 3 - التكتل الاقتصادي في العالم
- 4 - المبادلات والتنقلات في العالم

### الكفاءة القاعدية

#### تحليل نقدي لواقع العالم الاقتصادي



نيويورك عاصمة العالم



## • واقع العالم الإقتصادي

### منطلقات الدراسة :

هناك عناصر تؤخذ بعين الاعتبار كمنطلقات الدراسة التحليلية والنقدية لمختلف وضعيات الوحدة التعليمية .

يقدم التوزيع الجغرافي للمجموعات السياسية الكبرى والفضاءات الحضارية او الثقافية الدينية فكرة عن التباين والتنوع الذي يؤثر على الواقع الجيوسياسي والاقتصادي في العالم .

### الخريطة السياسية للعالم

ارتفع عدد الدول المستقلة في العالم من 60 دولة سنة 1960 الى 129 دولة مستقلة في الوقت الراهن وهي وحدات سياسية متباينة، وليدة الظرف والتحول التاريخي ( انهيار الإمبراطوريات الأوربية وتطبيق مبدأ حق تقرير المصير ) وهي ذات أنظمة سياسية واقتصادية مختلفة تبعا لتباين ثقافتها السياسية وقوانينها ودساتيرها وهي تُصنّف ضمن : النموذج الديمقراطي أو النموذج الشيوعي أو الديكتاتوريات المقنعة .

إن خريطة توزيع الفضاءات الحضارية من شأنها ان تقدم فكرة عن التباين بين المجتمعات الإنسانية من حيث المناطق التي تسود فيها معتقدات وثقافات معينة .

### عولمة الاقتصاد والنزاعات الإقليمية :

بدأ العالم منذ عقد من الزمان يشهد نظاما اقتصاديا عالميا جديدا يسمى بالعولمة أو الشمولية التي يتميز بنوع من الهيمنة والتوجيه، وفق مصالح سياسية واقتصادية، يمكن أن تؤثر على نسيج الترابط الاقتصادي القائم بين الدول أو مجموعات دول لذا يمكن لأية أزمة محلية أن تنتشر وتمتد إلى مختلف بقاع العالم . مما يؤدي في الغالب إلى عدم استقرار مناطق واسعة .

### من أشكال التكتل والتضامن:

هناك منظمات سياسية وهناك أحلاف عسكرية ومنظمات اقتصادية مثلما هناك منظمات غير حكومية وتنظيمات ( ظاهرة أو خفية ) ذات طابع إثني أو ديني ثقافي، يتجاوز تأثيرها في الغالب حدود الدول والأقاليم مثل الجالية الصينية والهندية وغيرهما في العالم .

### المخاطر الكبرى

ساعدت وسائل الاتصال والتبليغ على انتشار الوعي بخطورة مشاكل البيئة والسكان وانتشار السلاح النووي على المستوى العالمي، ومما زاد عالم اليوم تعقيدا محاولة إدراج حقائق وطنية داخلية وإدماجها في النظام العالمي الجديد .

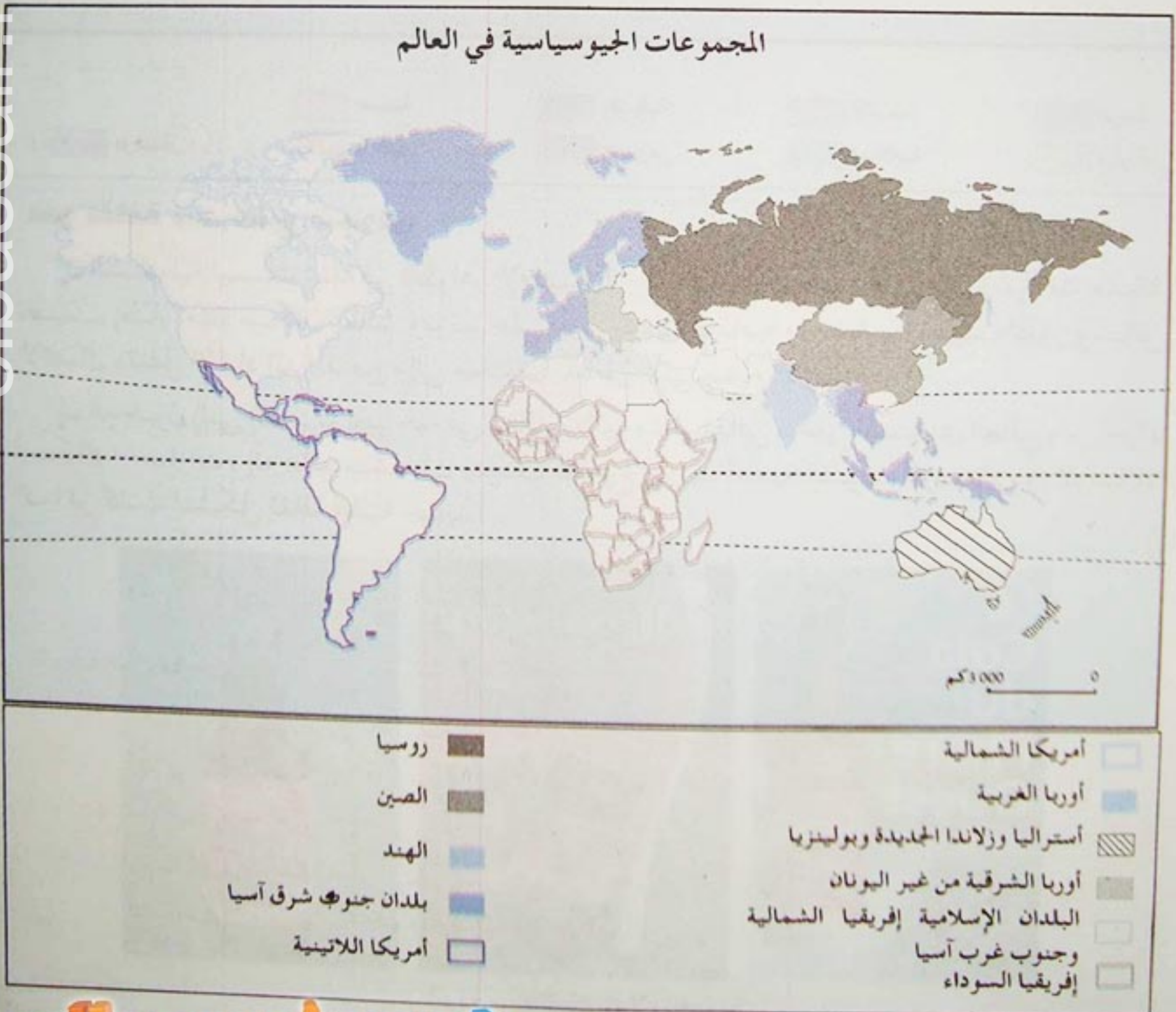
إن الرهانات السياسية قائمة والآثار السابقة لا تزال حية في ذاكرة الشعوب المظلومة، يمكن أن تعود إلى الساحة في أي وقت وفي أية جهة، وذلك لاتفه الأسباب، مما يشكل خطورة الوضع بشكل عام .



## التنظيم الجديد للعالم



## المجموعات الجيوسياسية في العالم





## الفضاءات الحضارية والدينية الكبرى في العالم

### الحضارات والديانات في العالم



غربية	لاتينية	إفريقية	صينية	بوذية
أورثوذكس	إسلامية	هندوس	يابانية	

### نحو ثقافة ذات طابع شمولي

إن الشمولية ليست ممثلة في الظواهر الإقتصادية والتجارية فحسب، بل ترافقها تحولات عميقة تصيب إطار حياة سكان العالم وتؤثر على الممارسات الثقافية والحضارية بسبب تطوّر وسائل الاتصال وتنقل الأفراد المتزايد من وإلى مختلف المناطق على سطح الأرض .

إن الدخول إلى العصرنة يصاحبه في الغالب تأثير وتأثر ثقافي، على المستوى العالمي، من جراء احتكاك الحضارات. إنه عالم متشابك يتصف بالتنوع وتزايد أهمية الفنون والموسيقى و«الموضة»، كما لو كانت لتشكل ثقافة عالمية جديدة.



أنواع من «كوكا كولا» الجهوية



## ثقافة وحضارات : أي حوار ؟


لا شك ان المفارقات ليست بالعملة النادرة في وقتنا هذا . لقد اصبح العالم حقا اكثر شمولية من أي وقت مضى ، من حيث انه يشمل شعوبا وثقافات ويتمادي في إقصاء البعض من هذه الشعوب والبعض من هذه الثقافات . ان الطبيعة المضاعفة لعالم يدفع في الان نفسه ، نحو الشمولية ونحو الإقصاء هي التي ينبغي توليها بالتبديل والتغيير .

لئن كانت فكرة تصادم الحضارات ضربا من ضروب المس العقلي ، فان مبدا حوار الحضارات المعاكس لها هو ضرورة حتمية، وبهذا الشأن هناك العديد من العوامل التي يتوقف عليها التغيير الحقيقي لنسق علاقاتنا .

ان السلم هو بدهة الشرط الذي لا مناص منه لحوار الحضارات ، لكنه كذلك النتيجة المترتبة عن تبادل تطبعه الثقة بين الحضارات حضارات يقرب بينها كل يوم أكثر فأكثر التقدم التقني والعملة .

هناك عوامل أخرى يتوقف عليها حدوث التغيير في العالم وتشكل شرطا مسبقا لنجاح حوار الحضارات . ان عالمي الشمال والجنوب يقابل كلاهما الآخر . احدهما يملك ما يملكه من القوة السياسية والاقتصادية والتكنولوجية ، والآخر يعاني من تأخره الفادح ومعوقات شتى ، فحوار الحضارات يعني اذن ، بدهة ، ان يقلل عالم الشمال من الطابع المفرط من مادية حضارته وان يتغلب عالم الجنوب على تخلفه الاقتصادي ويتفتح على الديمقراطية ، وحقوق الإنسان . . . . .

من خطاب رئيس الجمهورية عبد العزيز بوتفليقة  
في جامعة السوربون باريس 19 ديسمبر 2003



هوايات ثقافية في مواجهة النظام الاقتصادي العالمي الجديد، في كثير من مناطق العالم

### النشاط :

اعتمادا على السندات المعطاة رتب المعلومات الواردة فيها حسب الفقرات التالية :

- دلالة تنوع الفضاءات الحضارية
- هويات ثقافية في مواجهة النظام الاقتصادي العالمي الجديد .
- مؤشرات توحيد الثقافة العالمية .



# 1 - مفهوم التقدم و التخلف

## الإشكالية

هناك تنوع وتباين بالنسبة لتعريف التخلف والتقدم، غير أنه ينبغي أخذ مجموعة من المؤشرات بعين الاعتبار عند تحديد المفهومين أو تصنيف البلدان اقتصاديا .

- ما أوجه الشبه والاختلاف بين تلك التعاريف؟ وما المعايير والمؤشرات المعتمدة في تصنيف البلدان؟

- يعرف الاقتصادي روستوف التخلف على أنه تأخر عن ركب مجموع الدول المتطورة، ويوحى التعريف بان مسيرة التطور واحدة بالنسبة لجميع الدول، إذ لا يأخذ بعين الاعتبار الفارق بين الدول التي عرفت تطورا في القرنين الـ 18 والـ 19 وتلك التي تطورت في العصر الحديث .
- ويعتقد أصحاب نظرية العالم الثالث أن التخلف هو وضعية فقر مزرية تعود أسبابها إلى هيمنة الدول المتطورة واستغلالها للدول المتخلفة ومواردها، بغض النظر عن مسؤولية الحكام والمسيرين فيها .
- ترجع هيئة الأمم المتحدة التخلف إلى معيقات شتى لا تسمح بالاستغلال العقلاني للموارد البشرية والاقتصادية بالنسبة للبلد المعني، وهو أمر غير قاصر على الدول الفقيرة دون غيرها .

## مفهوم العالم الثالث

أول ما ظهر مفهوم العالم الثالث، كان سنة 1952، من خلال كتابات الاقتصادي الفرنسي « ألفريد سوفي » . في سياق الحرب الباردة والحركات التحررية في العالم . ويعني المفهوم مجموع الدول المتخلفة والتي تشكل نسبة معينة آنذاك، وتشترك كلها في خصائص معينة .

لا يتصف التعريف بالواقعية لما يحمله من تناقض من حيث سيرورة التنمية، فهناك دول من ذلك العالم تطورت والتحققت بركب الدول المتطورة . دول جنوب شرق آسيا، وهناك دول أخرى تشهد نموا اقتصاديا ضعيفا جدا تسمى بالدول الأكثر تخلفا . مما يفيد التنوع والتباين .

في سنة 1944 صنف البنك العالمي 132 دولة إلى 3 مجموعات على النحو التالي :

- دول ذات اقتصاد قائم على دخل قومي مرتفع عددها 23 هي الوم أ، كندا - دول الاتحاد الأوربي - اليابان - الإمارات العربية وبعض دول شرق آسيا .
- دول ذات اقتصاد قائم على دخل وطني متوسط وتشكل 67 دولة وهي أغلب دول أمريكا اللاتينية، دول أوروبا الوسطى، وأوروبا الشرقية، منها روسيا - دول الشرق الأوسط - دول من شرق آسيا وشمال إفريقيا .
- دول ذات اقتصاد قائم على دخل قومي ضعيف وهي أغلب دول القارة الأفريقية وآسيا الجنوبية ذات الكثافة السكانية العالية مثل الصين والهند وبعض بلدان أمريكا الوسطى .



## إفريقيا جنوب الصحراء

أصبحت قارة إفريقيا عنصرا فاعلا في  
الساحة البترولية العالمية الا ان هذه الثروة لا  
يستفيد منها سكان القارة السمراء .  
عولمة من غير تنمية !

«لقد أعمانا النفط وأبعدنا عن  
قيمنا وجعلنا أكثر توحشا وقسوة.»

أوباسانجو : (رئيس نيجيريا  
1999 إلى 2007)

رسم دوبريتز في جريدة الفيجارو 17 جويلية 2003

## حساب مؤشر التنمية البشرية

تعتمد منظمة الأمم المتحدة في برامجها للتنمية معايير:  
الصحة والتعليم والدخل لحساب مؤشر التنمية البشرية لكل بلد . وعلى هذا الأساس فإن  
اغلب البلدان الأكثر فقرا تقع في إفريقيا ما بين المدارين .

يشكل النمو الاقتصادي مؤشرا كميا للثروة بالنسبة لأي بلد ، يتم قياس ذلك بواسطة ما يسمى  
بالانتاج الداخلي الخام BIP ، او الانتاج القومي الخام BNP وهي مؤشرات لا تقدم معطيات لقياس  
توزيع الثروة او معرفة شروط حياة السكان .

إن التطور عموما مفهوم معقد - لأنه يمثل سيرورة تدل على أن مجموع السكان يتمتعون  
بمستوى معيشي لائق ماديا كالرفاه ومستوى ثقافيا عاليا بالإضافة إلى ضمان حقوق الإنسان وحياته  
الخاصة .

بكالوريا / بطاقات المراجعة . ألبان ميشال

## النشاط :

- ما التعريف الذي تختاره لظاهرة التخلف . ولماذا ؟
- انطلاقا من محتوى السندات المعطاة أكتب في فقرة على الأقل تعريفك الخاص للتقدم .



## - معايير تصنيف الدول

يمكن اعتماد جملة من المعايير في تصنيف البلدان اقتصاديا .


المعايير	المقاييس او المؤشرات
<ul style="list-style-type: none"> <li>• ديموغرافية                     <ul style="list-style-type: none"> <li>- نسبة الولادات</li> <li>- نسبة الانجاب</li> <li>- نسبة الوفيات</li> <li>- مدى الحياة (متوسط العمر)</li> </ul> </li> <li>• اجتماعية                     <ul style="list-style-type: none"> <li>- الدخل الفردي</li> <li>- خدمات الصحة ومرافق الحياة الأخرى .</li> <li>- نسبة الامية</li> <li>- حالة التغذية</li> <li>- وضعية المرأة والطفل</li> </ul> </li> <li>• اقتصادية                     <ul style="list-style-type: none"> <li>- القطاع الثالث باعتباره اقتصاد شكلي مقنع او اقتصاد خدمة</li> </ul> </li> </ul>	<ul style="list-style-type: none"> <li>• مؤشرات اقتصادية تقيس ثروة البلاد                     <ul style="list-style-type: none"> <li>- الناتج الوطني الخام PNB هي الثروة المنتجة داخل وخارج البلاد . مؤشر لقياس الثروة الكلية ( مختلف المواد معبرا عنها بالدولار ) بغض النظر عن تغيراته بالنسبة لكمية الاقتصاد الشكلي أو الاستهلاك الذاتي . وهو مؤشر لا يظهر الفوارق الاجتماعية .</li> <li>- الناتج الداخلي الخام PIB الثروة المنتجة داخل البلاد فقط من طرف الفئات الشغيلة كمؤشر يمكن من قياس الثروة باعتماد سعر مرجعي عالمي بالنسبة لمختلف المواد لإجراء المقارنات .</li> </ul> </li> <li>• مؤشرات مركبة                     <ul style="list-style-type: none"> <li>مؤشر التنمية البشرية IDH ويحسب على أساس 3 معطيات :</li> <li>1 - مدى الحياة</li> <li>2 - المستوى المعرفي</li> <li>3 - المستوى المعيشي ممثلا في الإنتاج الداخلي الخام الحقيقي يعبر عنها بمستويات 3 :</li> <li>1 - متطور ، أعلى من 0,8 .</li> <li>2 - متوسط أعلى من 0,5 .</li> <li>3 - ضعيف اقل من 0,5 .</li> </ul> </li> <li>• مؤشر النمو البشري حسب الجنس . ISDH                     <ul style="list-style-type: none"> <li>- بواسطة نفس المؤشرات السابقة يتم قياس استخدام الثروة بالنسبة للجنسين .</li> </ul> </li> </ul>

المعيار	الدول متقدمة	الدول المتخلفة
الزيادة الطبيعية السنوية	0,6	2,1
نسبة الولادات بالآلاف	15	31
نسبة الوفيات بالآلاف	09	10
نسبة الإنجاب او الخصوبة	1,9	3,9
مدى الحياة	74	61
نسبة وفيات الأطفال بالآلاف	15	76
فئات العمر اقل من 15 سنة	21	36
65 او أكثر	12	4
نسبة سكان المدن	73	34

المصدر هيئة الأمم المتحدة / السكان والتنمية

ملاحظة : يحتمل ان يستقر سكان العالم في حدود 10 او 12 مليار نسمة عام 2050 .





توزيع المساعدات الغذائية في دولة افريقية



مركز تجاري كبير في شرق أوروبا

#### النشاط :

– اعتمادا على ما سبق ابحث ورتب المعايير والمؤشرات التي تتمكنك من تصنيف الجزائر اقتصاديا




## 2 - النظام الاقتصادي العالمي الجديد (العولمة)

### الإشكالية

تعتبر العولمة عامل تغير جغرافية العالم وقد يؤدي انتشارها الى إيجاد تفاوت كبير، اذ تزداد أقطاب الثالوث العالمي والمدن العالمية قوة وتساهم في إنشاء فضاءات ازدهار جديدة في دول الجنوب، كما تؤدي أيضا الى إقصاء وتهميش فضاءات ومجتمعات أخرى .

- كيف تفسر ذلك ؟



من رموز العولمة

إن العولمة بدت بالنسبة للعالم العربي وكذا بقية الفضاءات الجيوسياسية الأخرى من المعمورة، كنعمة بالنسبة لمستقبل العالم حتى وان اعتبرت، منذ البداية، أفقا لا يمكن بلوغه ويبعث على القلق. وبعد عقد من الزمن، أضحت خيبة الأمل حقيقية، وما انفكت تتفاقم كما يتبين ذلك من تطور الحركة المناهضة للعولمة .

كلمة الرئيس عبد العزيز بوتفليقة في المؤتمر الثاني لمؤسسة الفكر العربي .

نظرة مستقبلية حول العالم العربي .  
بيروت لبنان 7 ديسمبر 2003

### مفهوم العولمة

تعني كلمة الشمولية عند الامريكان والعولمة عند الفرنسيين انتشار نفس القالب الاقتصادي والثقافي والسياسي في العالم وهو وليد تطور دول الشمال عموما، مما أدى الى تسارع المبادلات العالمية من تنقل الأشخاص وتدفق البضائع ورؤوس الأموال منذ سنة 1980 وقد مس ذلك اغلب المجتمعات الإنسانية في مختلف بقاع العالم .



## تطور مفهوم العولمة

ظهر مفهوم العولمة أول ما ظهر في الو. م. أ تحت اسم الشمولية وترجمت الكلمة الى الفرنسية بالعولمة ( وتعني شمولية الأسواق باعتبارها فضاء يضع العناصر الفاعلة في الاقتصاد والمال على بساط المنافسة العالمية وهي أيضا ما يترجم الحرية الكاملة للمبادلات المتنوعة .

وقد تطور المفهوم في التسعينات واخذ معاني عديدة تنطلق من :

- انهيار المعسكر الشيوعي وانفتاح الاقتصاد الصيني مما أدى الى توحيد السوق العالمية وزوال الاقتصاد المخطط الشيوعي لفائدة النظام الليبرالي .

- تطور وسائل الاتصال في السبعينات أي التقنيات الجديدة للإعلام والاتصال التي تتجلى في ظاهرة الانترنت التي حولت البسيطة الى شبه قرية كونية، وتحققت بذلك نبوءة « ماك لوهن » العالم الاجتماعي الكندي .

- تطور العولمة بعد ذلك واتصافها ببعث ثقافي، تغذيه عملية انتشار الصوت والصورة عبر بقاء العالم في لحظات معدودة، مما أعطى الظاهرة تأثيرا آخر، تجاوز الجانب الاقتصادي ليطال الأشخاص والهويات والقيم بل ليطال أيضا السياسات والإيديولوجيات .

Jean Michel Gaillar كيف تحولت الأرض الى قرية.

التاريخ . نوفمبر 2002



- المجتمع الغربي مجتمع الاستهلاك  
مركز تجاري في المكسيك، لوال مارت وهي أكبر شركة أمريكية عالمية للتوزيع

ان المهمة ليست بالسهلة في عالم شمولي يتجه ضمنا الى فرض نمط ثقافي موحد أي تغليب ثقافة الأقوى، وهو ما يؤدي الى إفقار رصيد الإنسانية الذي طالما استمد ثراه من تنوعه .

ولأقلها بدون لف ولا دوران، لئن كتب، لا قدر الله، على العالم العربي ان يفقد ثقافته، فانه سيفقد بذلك روحه، كما انه سيفقد قدرته على التمتع في ماضيه والتفكير في مستقبله ويفقد بالتأكيد قدرته على تصور مكانته بين الأمم .

كلمة الرئيس عبد العزيز بوتفليقة في المؤتمر الثاني  
لمؤسسة الفكر العربي .

نظرة مستقبلية حول العالم العربي. بيروت لبنان 7  
ديسمبر 2003


## النشاط :

- ماذا تستخلص من كل سند على حدة؟

- اعتمادا على ذلك ما تحليلك لفكرة تحول الأرض الى شبه قرية كونية؟



## المنظمات غير الحكومية والبدائل عن العولمة



مناضلون إيكولوجيون يحاولون اعتراض مرور قطار النفايات النووية في ألمانيا



تمثل اللوحة رمزا للمخاطر التي قد تصيب الكرة الأرضية

ظهرت المنظمات غير الحكومية، ونمت وتوسعت، في إطار العمل التضامني والإنساني، وإقامة نظام اقتصادي جديد بديل عن العولمة. - وقد أصبحت تلك المنظمات قوى حوار تقلق بعض الأطراف.

### التوسع الكبير للمنظمات غير الحكومية

يراد بالمنظمات غير الحكومية نوعين من المنظمات، نوع يتمثل في شبكات من الجمعيات والمؤسسات الدولية المتخصصة في العمل التضامني الإنساني، مثل جمعيات محاربة الجوع في العالم أو جمعيات الصحة العالمية أو منظمات حقوق الإنسان، وجمعيات حماية الطبيعة والبيئة، مثل جمعية الخضر، وهي على العموم تضم الملايين من المنخرطين المساهمين فيها ماليا وعمليا، يضمنون لها تسييرا رافعا، إذ لها كثير من الموظفين في الميادين المختلفة وفي دواليب حكومية، يتصفون بالمهارة والحنكة التنظيمية والإعلامية. أما النوع الآخر فهو عبارة عن حركات واسعة تناضل من أجل إيجاد بديل للعولمة الليبرالية، مثل جمعية سن الضريبة على المعاملات المالية لمساعدة المواطن، التي ظهرت في فرنسا 1998 وانتشرت في أكثر من 50 بلدا في العالم.

إن ظهور وانتشار المنظمات غير الحكومية كان بسبب ضعف السلطات العمومية وتخليها عن ممارسة سلطتها تجاه العولمة. وهي تحمل في طياتها أسلوبا جديدا في الرفض والتحدي. وقد تساهم بعض التنظيمات الدولية في استخدام المنظمات غير الحكومية لغرض التأثير على الرأي العام تجاه قضايا محددة.

ترجمة عن . أطلس العالم الدبلوماسي جانفي 2003





## مظاهرات عارمة ضد الحرب في العراق

في 15 فيفري 2003 تظاهر أكثر من 15 مليون معارض للحرب في العراق عبر 500 مدينة و75 بلدا في العالم منددين بالحرب و الولايات المتحدة الأمريكية التي تريد فرض منطق القوة بدعوى نشر النموذج الاقتصادي والسياسي الغربي القائم على الديمقراطية . لعب أصحاب بدائل العولمة دورا حيويا في عملية التجنيد . الصورة في بريطانيا حيث خرج أكثر من مليون متظاهر معارض لسياسة الحكومة المساندة لبوش .

### رفض النظام العالمي الجديد

يعني النظام الاقتصادي العالمي الجديد انتشار النموذج السياسي والثقافي الغربي الذي بدأ أصلا في أوروبا ثم ترعرع في الو.م.أ. فهناك بلدان ترفض النظام الاقتصادي العالمي الجديد لأنها ترى فيه خطرا على وجودها وهويتها الثقافية، مثال ذلك البلدات ذات التوجه الشيوعي وبعض البلدان الإسلامية ودول في جنوب شرق آسيا التي تدافع على موقفها التقليدي للمجتمع الآسيوي في مواجهة أصحاب ادعاء العولمة، وحقوق الإنسان. لذا نجد بعض البلدان معزولة في ساحة المجتمع الدولي بسبب خروجها عن قواعد النظام الجديد.

الجغرافيا السياسية للعالم المعاصر Magnard

برنامج جمعية Attac، جمعية الضريبة على المعاملات المالية لفائدة المواطن، تحت شعار: من أجل استعادة عالمنا .

### 1 - مواصلة العمل النضالي من أجل :

- سنّ الضريبة على الأموال من أجل تمويل التنمية
- الوقوف ضد التهرب الجبائي وتبييض الأموال
- العمل من أجل الحصول على الماء الشروب للجميع
- من أجل التنمية وتوسيع الخدمات العمومية
- الوقوف ضد المتاجرة بالتربية

### 2 - أولويات النضال 2004

- اشتراط أخذ النقاط الـ 21 للجمعية بعين الاعتبار عند صياغة المعاهدات والاتفاقيات التأسيسية الأوروبية . وعلى الأخص :
- تنظيم حوار عمومي حول البطالة قصد ضمان الشغل للجميع .
- اقتراح البدائل عن مناطق التبادل الحر فيما يخص العلاقات التجارية العالمية .
- ضمان الاستفادة من العلاج والصحة للجميع .

### - التنمية المستدامة

الحقيقة أنه ليس هناك أصلح من التنمية المستدامة . إن هذا المفهوم الذي دخل القاموس منذ 1987 من طرف لجنة «بروتلانند» صاحب اول تقرير دولي حول موضوع التنمية المستدامة تحت عنوان: مستقبلنا جميعا . . . . . يجب ان تستجيب صفة الاستدامة للحاجيات الحينية دون المساس بإمكانيات الأجيال اللاحقة، فحرية البعض تكون محدودة في المكان وتتوقف عند المساس بحريات الآخرين . والتنمية محدودة في الزمان لأنها لا ينبغي ان تقوم بأي شيء يمس حق التنمية بالنسبة للأجيال القادمة . وتطرح هذه المقاربة 3 مشكلات أساسية تتمثل في ماهية التنمية المستدامة . وعي الأجيال الراهنة بالأجيال اللاحقة . وكلفة التنمية المستدامة . التنمية للجميع . البديل الاقتصادي رقم 25 الفصل الثاني 2003

**النشاط :** - اربط العلاقة بين محتوى نص التنمية المستدامة ومكونات اللوحة ( ص 22 )

- من خلال السندات المعطاة بين في صفحة على الأقل أسباب رفض المنظمات غير الحكومية للنظام العالمي الجديد .

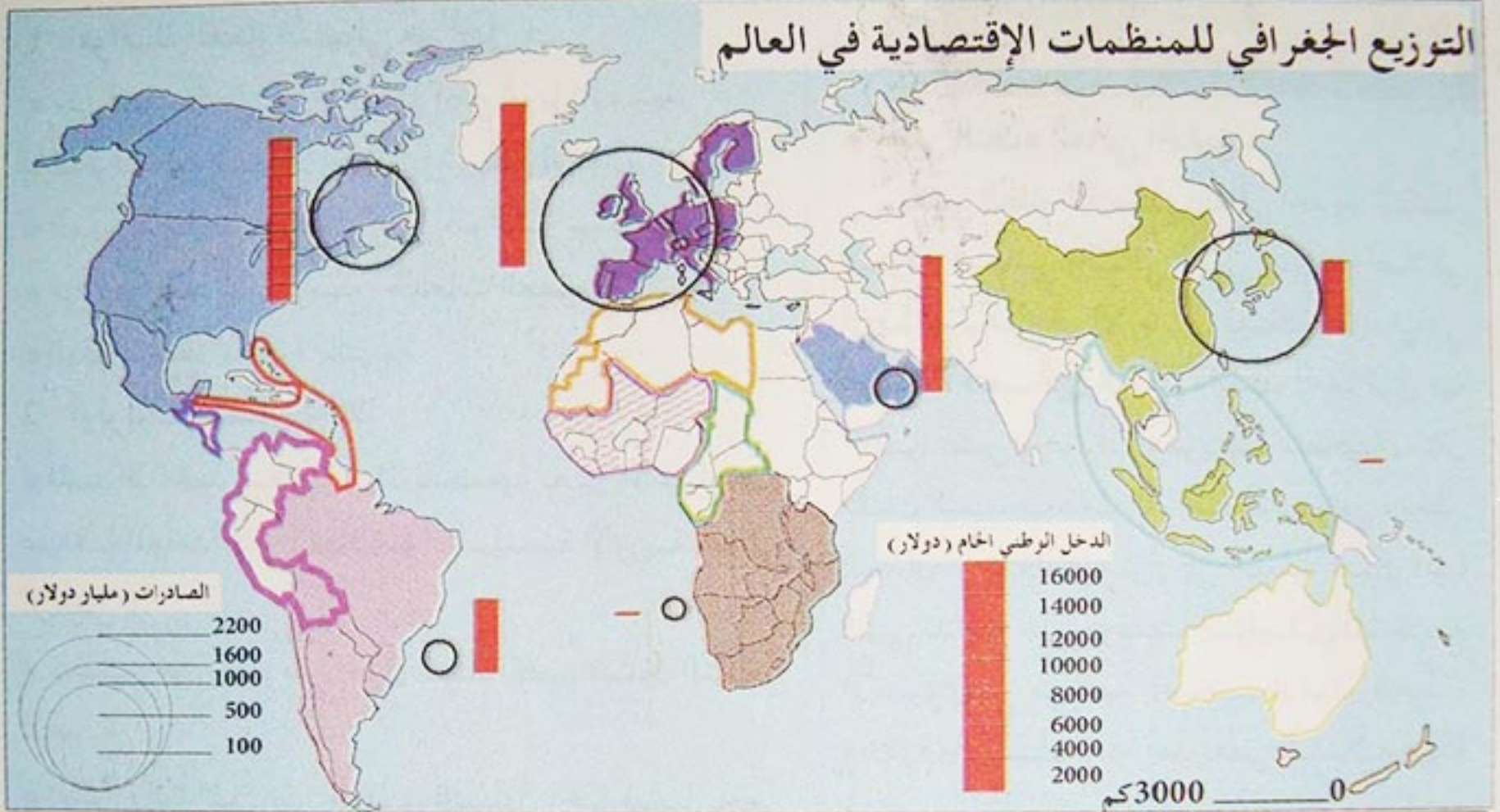


### 3- المنظمات الاقتصادية في العالم

#### الإشكالية :

ازدادت وتنوعت المبادلات التجارية والتدفقات المالية والتنقلات البشرية ( هجرة وسياحة ) في الفضاء العالمي بشكل واسع، ونمت مناطق التبادل الحر وتوسعت حركة اندماج تلك المبادلات على المستوى الإقليمي والقاري .

- ما أثر ذلك على العلاقات الاقتصادية العالمية ؟



#### المنظمات الاقتصادية الإقليمية :

يرمي تكتل المجموعات الاقتصادية للدول إلى تكثيف المبادلات التجارية بين الدول الأعضاء وإعطاء انسجام كبير لسياساتها الاقتصادية - تبين الخريطة تلك المجموعات .

تحتفظ كل دولة في منطقة المبادلات بالحواجز الجمركية الخاصة تجاه الدول غير الأعضاء في تلك المنظمات . في حين ترفع تلك الحواجز الجمركية بين دول الأعضاء بالنسبة لكثير من القطاعات الهامة كالزراعة والصناعة والنسيج .





### علاقة العالم المتقدم بالعالم الثالث

... هناك علاقات مجحفة في مختلف المجالات الاقتصادية والسياسية والثقافية بين العالم المتقدم والعالم المتخلف. ففي مجال التجارة الخارجية لاتزال الدول المتخلفة تصدر الغالبية العظمى من مواردها الطبيعية الى الدول المصنعة بأسعار زهيدة، وتستورد منها سلعا استهلاكية وخدمات ضرورية لتنميتها بأسعار باهظة. وفي مجال التكنولوجيا تسيطر الشركات الاحتكارية التابعة للدول الغنية على معظم الاختراعات، وتحتكرها، أما في مجال التمويل فتعاني الدول النامية من أعباء الديون الثقيلة وخدماتها، وقد سخرت أكثر من 25% من عائداتها لتسديد تلك الديون، وفي المجال المتعلق بالمحافل الدولية، وصنع القرارات الاقتصادية والمالية العالمية، فإن مساهمة هذه الدول شكلية على الرغم من أن سكانها يشكلون حوالي 72% من مجموع سكان المعمورة...

الواضح في جغرافية العالم المعاصر نابلي دوادة عند الغني

### النشاط :

- ماذا تستخلص من استقراء السندات المعطاة
- بين في صفحة اثر المنظمات الاقتصادية على العلاقة بين الدول المتقدمة والدول المتخلفة.



## الشركات المتعددة الجنسيات

أدى نمو وتوسع الشركات المتعددة الجنسيات إلى بروزها كقوى أساسية تتحكم في الاقتصاد العالمي، وأكبر تلك الشركات تتجاوز من حيث قدراتها وإمكاناتها مجموعة من الدول، وقد أصبحت تلك الشركات بمثابة القلب النابض بالنسبة للاقتصاد والمبادلات العالمية.



مجموع الإنتاج المصرفي للشركات المتعددة الجنسيات العشر الهامة مقارنة بالدخل الوطني الإجمالي الخام لبعض الدول

المرتبة	الشركة	الحصيلة المصرفية 2002 مليون \$	مقارنة بالبلد	الدخل الوطني الخام 2002 مليون \$
1	جينيرال الكتريك و.م.أ.	372 089	بولاندا	365 290
2	ميكروسفت و.م.أ.	326 639	الفلبين	301 061
3	إيكسون كوبيل و.م.أ.	290 820	المملكة السعودية	285 283
4	وال مارث و.م.أ.	273 219	باكستان	266 655
5	سيمني كروب و.م.أ.	255 299	بلجيكا	262 484
6	فنزبير و.م.أ.	249 020	مصر	229 442
7	انتيل و.م.أ.	203 228	سويسرا	203 196
8	BP و.م.أ.	200 794	الجزائر	187 922
9	جونسون أند جونسون	197 912	اليونان	184 708
10	روايال دتش شال	189 913	البرتغال	181 943

المصدر: Etat du monde 2004



## السلطة المتنامية للشركات المتعددة الجنسيات

تتنافس الدول والمجموعات الإقليمية  
بإشكال مختلفة على تقديم المساعدات  
المختلفة والتخفيض من الضرائب لجلب  
الشركات المتعددة الجنسيات إليها.

ان حصيلة ما تقدمه تلك الشركات وما  
تتلفه أصبح محل جدال بالمقارنة مع التشغيل  
والتوازنات الاجتماعية والهيكل الصناعية  
والزراعية والميزان التجاري. ان ما يرجح الكفة  
في صالحها هو نقل التكنولوجيا الى البلدان  
المضيقة، أي طرق الإنتاج والتنظيم المتقنين  
بالإضافة الى الزيادة في كفاءة العمل.

وتعرف أجور العمال والموظفين في فروع  
تلك الشركات ارتفاعا كبيرا باستثناء مناطق  
التبادل الحر مقارنة بالشركات المحلية وكذا  
بالنسبة لظروف العمل فيها التي هي أحسن  
بكثير من غيرها .....

لقد غيرت العولمة من طبيعة التعامل بين  
الدول التي أصبحت تذلل الصعوبات وتخفف  
من سلطاتها لفائدة تلك الشركات، ومقابل  
ذلك نجد تصاعد مد الجمعيات العالمية التي  
تشرط من الشركات المتعددة الجنسيات احترام  
قوانين حقوق الإنسان، وتشريعات العمل  
والبيئة وقد زادت العولمة من حدة عدم تجانس  
تلك الحركات والتناقض الاجتماعي الداخلي  
فيها.


أطلس العالم الدبلوماسي جانفي 2003

### النشاط :

من خلال السندات المعطاة، اكتب صفحة تبين فيها أسباب تزايد قوة الشركات المتعددة  
الجنسيات ودورها في توجيه الاقتصاد العالمي.



إشهار لفائدة الشركة العالمية «كوكا كولا»



لم تسلم البيئة من نفايات مصانع «كوكا كولا»



## منظمة التجارة العالمية

... مع مرور الوقت بدأ العالم يشهد المزيد من الاندماج للشركات والأسواق والتحرير لكثير من الاقتصاديات، وتدفقات متنامية للتكنولوجيا، ورؤوس الأموال، والمعلومات والسلع والخدمات، وتراجع السياسات الحمائية ورفع القيود والحواجز الجمركية أمام هذه التدفقات. وقد دعم هذا التوجه وجود آليات تزيد من قوة النزعة نحو الشمولية العالمية، من خلال عناصر فاعلة أهمها، المنظمة العالمية للتجارة.



الرئيس الأمريكي بيل كلينتون أمام اجتماع منظمة التجارة العالمية بجنيف مايو 1998

## - العناصر الفاعلة في السوق العالمية المشتركة

سواء تم جمع المال على مستوى البنوك أو البورصات أو مؤسسات التأمين أو إنها تستثمر مباشرة من طرف الأفراد، فإن رؤوس الأموال تعرف استثمارا متزايدا ومستمرًا من خلال نشاطات موجودة أو مستحدثة، دون أن يكون هناك أي حاجز بالنسبة لتنقلها، بل هناك ما يشجع ذلك من سياسة التبادل الحر التي تدعمها المجتمعات الرأسمالية عن طريق مؤسسات دولية مثل المنظمة العالمية للتجارة وصندوق النقد الدولي. لذا تشهد المعمورة سوقا عالمية مشتركة لاستهلاك المواد والخدمات التي تنتجها العناصر التي في حوزتها أرصدة مالية كبرى.

جغرافية العولمة

## من "الغات" إلى المنظمة العالمية للتجارة

أبدت الحكومات وخاصة منها الولايات المتحدة الأمريكية، بعد الحرب العالمي الثانية رغبتها في تجنب تكرار أزمة الثلاثينات حين كانت سياسة حماية الإنتاج الوطني من المنافسة الأجنبية ذات أثر سلبي على النمو الاقتصادي والاستقرار العالميين. وقد تم تسطير ثلاثة أهداف لتحقيق ذلك.

- 1 - إنشاء إطار منظم لضمان العلاقات التجارية العالمية.
  - 2 - وضع قواعد تتعلق بالقرارات المتخذة من طرف واحد.
  - 3 - الحد التدريجي من الحواجز الجمركية.
- في هذا الإطار تم إنشاء ما يسمى بالغات. GATT. "الاتفاق العام حول أسعار المواد والتجارة". وذلك في جمعية تأسيسية بجنيف 1947 والتي تحول إلى منظمة التجارة العالمية سنة 1995

التجارة العالمية ص 824 MEMO Nlle la rousse



## انضمام الجزائر إلى المنظمة العالمية للتجارة

تتواجد الجزائر اليوم ضمن محيط وطني ودولي يتميز بالتغيير ، وآليات جديدة تحتم عليها الإنضمام إلى التكتلات الإقتصادية العالمية .

لقد بدأت الجزائر مفاوضاتها مع المنظمة العالمية للتجارة منذ 1986 تاريخ تقديم مذكرة الإنضمام .

وفي إجتماع المنظمة المنعقد يومي 22 ، 23 أبريل 1998 بجنيف تم عقد أول الجولات من المفاوضات مع الجزائر حيث تم طرح تصور واضح حول مدى تطابق التجارة الخارجية للجزائر مع الإجراءات المتضمنة في الإتفاقيات التجارية للمنظمة ، ولقد استمرت المفاوضات خلال السنوات 1999، 2001 الى أن يتم التوقيع على الانضمام الرسمي للجزائر في المنظمة العالمية للتجارة .

لنجاح مساعي الجزائر في الانضمام الى المنظمة العالمية للتجارة وتعظيم مكاسب هذا الانضمام يتعين عليها :

- العمل على رفع الكفاءة الانتاجية والتنويع في مختلف القطاعات وتقليص تكاليف الانتاج والتسويق لمواجهة المنافسة الداخلية والخارجية والحصول على مكانة في الأسواق العالمية .
- رفع مستوى الاكتفاء الذاتي لتفادي استيراد السلع بأسعار مرتفعة .
- انتهاج استراتيجية واضحة المعالم لاعادة تأهيل الاقتصاد الوطني على المستوى المحلي والخارجي .
- اقامة تكتلات اقتصادية بدءا ببلدان المغرب العربي ووصولها الى بلدان العالم الاسلامي .

مجلة اقتصاديات  
شمال افريقيا

... وفيما يخص المبادلات التجارية، أود غداة ندوة كانكون أن أجدد ارادة الجزائر في الانضمام بأسرع وقت ممكن لمنظمة التجارة العالمية، وأوجه هنا شكري للسلطات الأمريكية على دعمها في هذا الشأن .

إن إبرام اتفاق جوي "أوبن سكاي" (سماء مفتوح)، سيسهل من دون شك التنويع المرغوب فيه في تجارتنا الخارجية، وأنا جدد مسرور لهذا التطور الايجابي الجديد .

كلمة رئيس الجمهورية في اجتماع مجلس الأعمال الجزائري الأمريكي

نيويورك الو.م.أ. الاثنين 22 / 09 / 2003

### النشاط :

- رتب ما تستخلصه من كل وثيقة من الوثائق المعطاة .

- أكتب صفحة على الأقل تبين فيها أهمية انضمام الجزائر إلى منظمة التجارة العالمية .



## 4 - المبادلات والتنقلات في العالم

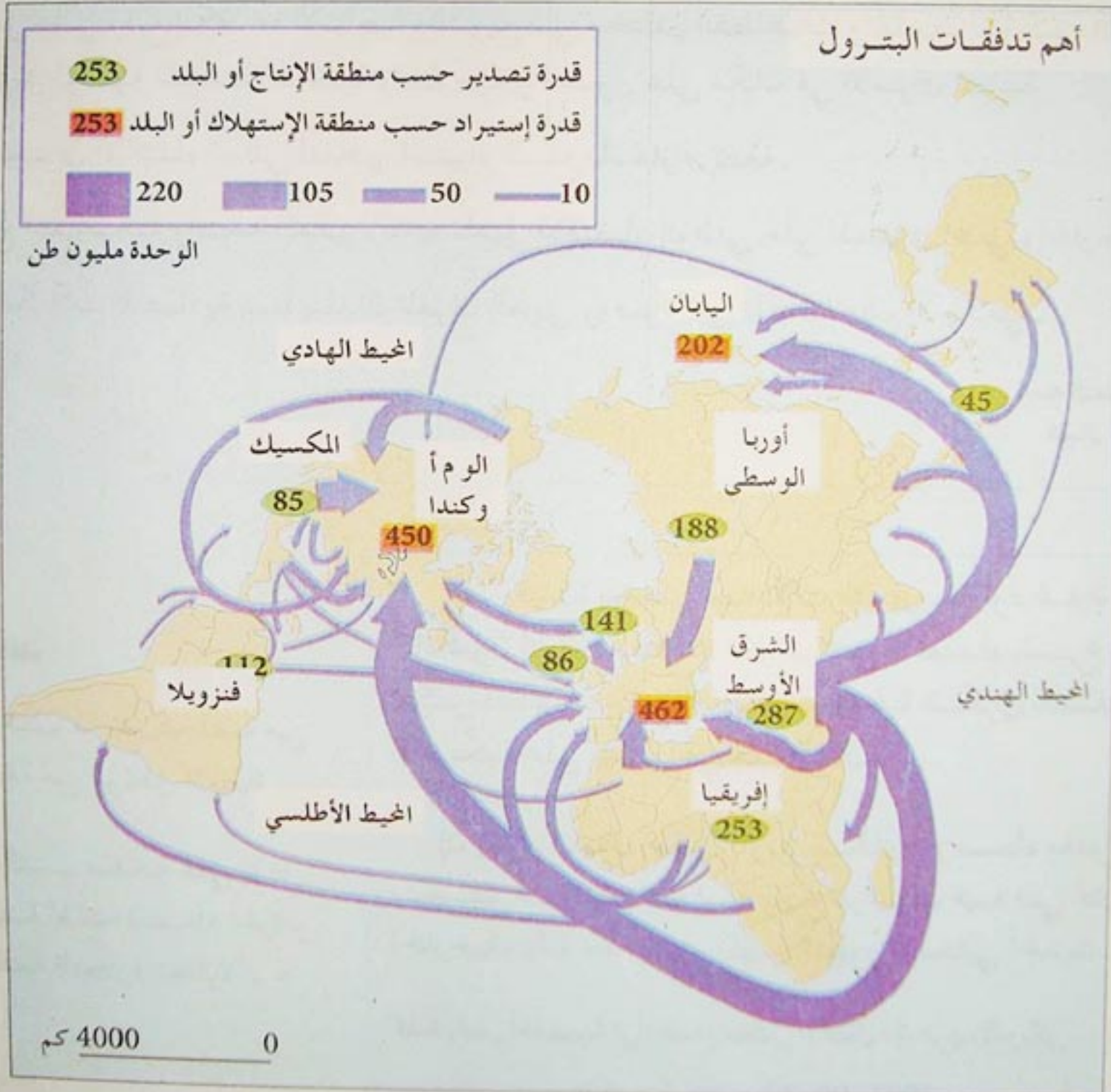
### الإشكالية :

أدى تنوع عوامل الإنتاج إلى زيادة وكثرة البضائع والخدمات ورؤوس الأموال والإعلام وقد ساعد أيضا على نمو تلك المبادلات والتنقلات وتنوعها ما شهدته العالم من تطور في وسائل النقل والاتصال ، في ظل هيمنة الشركات الكبرى المتعددة الجنسيات على الأسواق العالمية، تغذيها المصالح الاقتصادية والمالية للمجموعات السياسية الكبرى المتحكمة في العالم.

- ما اثر ذلك على تنظيم الفضاء الاقتصادي العالمي؟

### أ - سوق البترول

يعتبر البترول أول مورد للطاقة العالمية ومادة أولية للصناعات البترولية



المصدر : المعهد الفرنسي للبترول  
Image économique du monde 2004



إن الجزائر هي المصدر الثالث للغاز الطبيعي المميع في العالم، وتكاد تقارب صادراتنا نحو الولايات المتحدة الأمريكية 5% من مجموع مبيعاتنا وأنها كانت تشكل 22% من الواردات الأمريكية، وحسب توقعات متطابقة، فإن الواردات الأمريكية مدعوة لتسجيل زيادة بوتيرة 10% سنويا، فالجزائر من بلدان ما وراء الاطلسي التي يعد النقل فيها باتجاه الو.م.أ. أقل كلفة، وبإمكانها بالتالي ان تحتل الصدارة في مجال الاستجابة لحاجياتكم الاضافية من الغاز الطبيعي المميع. وفي مجال المبادلات الخارجية تهدف الجزائر الى خلق التنوع على محورين :

- تنوع مبادلاتنا على الصعيد الدولي من شأن الو.م.أ. أن تستفيد منه.

- تنوع بنية مبادلاتنا مع الو.م.أ. من خلال تنوع صادراتنا لأيّ منتجات أخرى غير المحروقات.

كلمة الرئيس عبد العزيز بوتفليقة في اجتماع مجلس الاعمال الجزائري الامريكى بنيويورك في 22 سبتمبر 2003

المستهلكون العشر الأوائل (مليون / طن)	المصدرون العشر الأوائل (مليون / طن)	المنتجون العشر الأوائل (مليون / طن)
498 الو.م.أ.	302 الم.العربية السعودية	418 الم.العربية السعودية
245 الصين	188 روسيا	367 روسيا
242 اليابان	141 النرويج	360 الو.م.أ.
127 ألمانيا	122 ايران	184 المكسيك
97 الهند	112 فينيزويلا	168 الصين
93 ايطاليا	102 نيجيريا	166 ايران
92 فرنسا	86 الو.م.أ.	157 النرويج
89 كندا	86 بريطانيا	151 فنيزويلا
85 برازيل	85 ميكسيك	115 بريطانيا
81 المكسيك	84 العراق	107 كندا
مجموع الاستهلاك العالمي 3522500 م / طن	مجموع الصادرات العالمية 1666700 م / طن	مجموع الانتاج العالمي 3526715 م / طن

المصدر Image économique du monde 2005

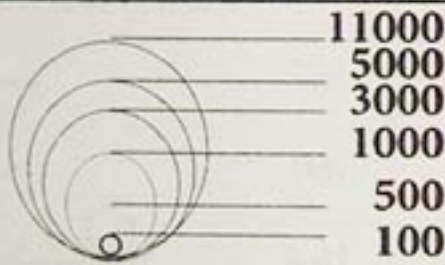
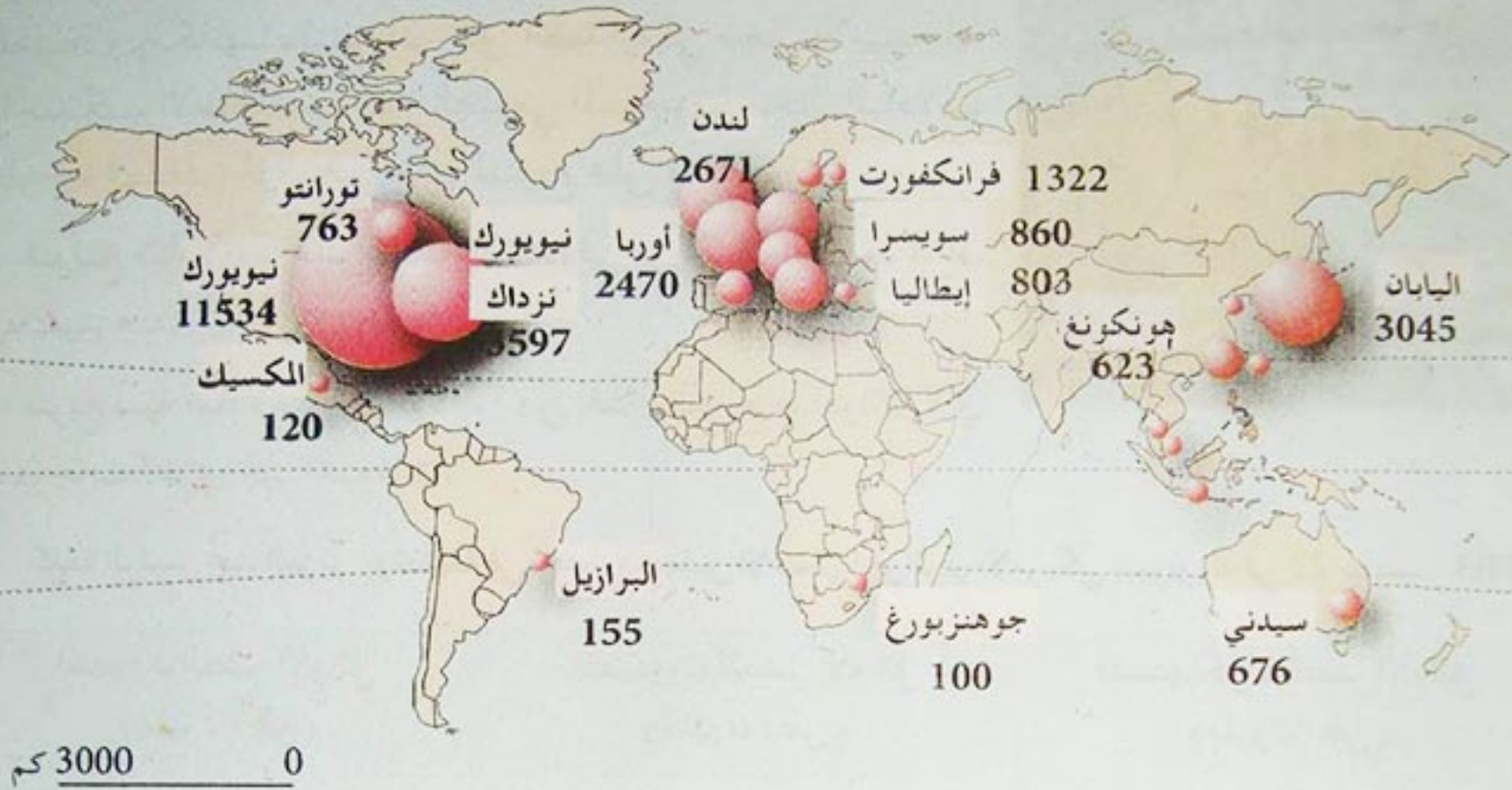
**النشاط :** - استقرى خريطة أهم تدفقات البترول ( ص 30 ).

- اءا على السندات المعطاة، قدم 5 ملاحظات مكتوبة حول سوق البترول العالمية.



من العوامل التي أدت إلى تسارع عولمة السوق المالية ، تزايد المبادلات التجارية والتطور التكنولوجي ورواج الصناعات الحديثة ونمو العلاقات التجارية غير المشروعة .

أهم البورصات المالية في العالم



رصيد البورصة . الوحدة مليار دولار \$  
حجم الدائرة يتناسب مع قيمة المبادلات .  
تم تمثيل البورصات ذات رصيد يتجاوز 100 مليار دولار \$

أطلس العولمة - العالم الديبلوماسي 2004

مسار السيولة المالية الدولي





## السوق المالية

إن تنقل الأموال المشروعة وغير المشروعة يتم في أسواق مالية محددة، مستفيدة من التطور التكنولوجي والإعلامي والاتصالي. هناك أموال ضخمة جدا 1 000 إلى 2 000 مليار دولار يتم تبادلها يوميا أي ما يعادل 100 مرة حاجيات السوق التجارية والخدمات. وتشكل الاستثمارات المباشرة في الخارج رأسمال ناتج عن المضاربة. وترتبط أساسا ببعض المراكز المالية على المستوى العالمي: نيويورك، طوكيو، لندن، وباريس وهي مترابطة متكاملة تشتغل بشكل شبه مستمر. تستقبل البورصات الكبيرة أموال المستثمرين المؤسسين كالبنوك وصناديق الضمان الاجتماعي والشركات المتعددة الجنسيات وكذا صناديق منح المتقاعدين في الـ م. أ. واليابان، بحثا عن الربح للزبائن المشتركين، كما يتجه الرأسمال إلى المناطق الخالية من الضرائب حيث يتم تبييض أموال المبادلات غير المشروعة وأموال المخدرات وتجارة الأسلحة والوثائق المزورة.

وقد بينت الأزمة المالية في آسيا 1997 - 1998 وإفلاس بعض المؤسسات الأمريكية مدى هشاشة وخطورة السوق المالية وتنقل رؤوس الأموال. فنظام الدافع الرأسمالي القائم على الربح السريع يؤدي إلى انفصام بين المؤسسات المالية - البورصة - والإقتصاد الحقيقي، مما يساهم في عدم استقرار مناطق شاسعة من المعمورة.

كتاب الجغرافيا بتران لاكوست

## فضيحة "بارمالاط" Parmalat

هي مؤسسة حفظ الحليب لمدة كبيرة، وقد دخلت البورصة سنة 1990 باعتبارها المجموعة الإيطالية السابعة وتحتل المرتبة الأولى في العالم حيث تشغل 73 000 أجيورا في أكثر من 30 بلدا، بلغ رأسمالها سنة 2002. 7,6 مليار دولار، أي أكثر من الدخل الوطني الخام لبلد مثل البراغواي أو بوليفيا أوالسينغال أو انغولا.

بدأت الشكوك تدب حول استثمارات الشركة في نوفمبر 2003 وتأكدت عندما أعلنت بنك أمريكية عدم وجود مبلغ مصرح به لديها، تابع للشركة، ومخصص لدفع المستحقات، فانهارت بذلك أسهم الشركة وتم إفلاس أكثر من 115 000 مساهم. واتضح أن المؤسسة مدينة بـ (11 مليار اورو) بسبب المضاربة ووثائق مزورة وحسابات فوائد كاذبة. فلا يمكن معرفة حقيقة وضع المؤسسة إطلاقا.

ترجمة عن العالم الدبلوماسي جانفي 2004

## تبييض الأموال

يشكل نشاط تبييض الأموال صناعة مالية كاملة ومعقدة، تدر سنويا مئات الملايير من الدولارات. تمارس في مؤسسات مالية متخصصة في إعادة رسكلة الأموال غير المشروعة، ويعيش منها الكثيرون، تمول أموال المخدرات وتجارة الأسلحة ونشاطات أخرى محظورة كشبكات تبييض الأموال عبر مختلف القارات، وتعود من جديد تلك الأموال لتغذي مؤسسات مشروعة تعتمد لنقل رؤوس أموال محصلة من نشاطات أخرى جديدة إقتصادية واجتماعية سليمة من الناحية القانونية.

تبييض الأموال العالم 15 جوان 2001

## النشاط :

— ماذا تستخلص من السندات المعطاة ؟

— اكتب صفحة على الأقل، تبين فيها أهمية وهشاشة النظام المالي في نفس الوقت.




تعتبر شركة الإعلام CNN رمز العولمة في الولايات المتحدة الأمريكية، تضم 16 قناة تنتشر في 112 بلدا في العالم، وقد وجدت نفسها عن غير العادة منافسة من طرف قناة أخرى، إستطاعت أن تغطي أخبار وأحداث العالم بكفاءة عالية.

تحولت قناة الجزيرة إلى قناة إعلامية عربية عالمية في مستوى تلك الشركة العملاقة CNN، مما أثار قلق الولايات المتحدة الأمريكية، وراحت تخلق أعدارا وأعدارا، محاولة في ذلك المساس بمصداقيتها.

### قناة الجزيرة

تأسست قناة الجزيرة سنة 1996 في إمارة قطر، وتغطي أكثر من 35 مليون متفرج، وهي من أهم الشبكات الاعلامية في الوطن العربي والتي تعرف نجاحا باهرا بفضل شجاعة صحافي المؤسسة، رغم الصعوبات التي يتلقونها أمام اطراف مختلفة، بما فيها القناة الأمريكية CNN.

جغرافية نهائي Bertrand  
Lacoste -



إن التطور الباهر لتكنولوجيات الإعلام والاتصال الجديدة تجعل من العالم مجرد قرية كونية. فبفضل محطات الأقمار الصناعية، تتاح لثقافات العالم إمكانيات عظيمة للانتشار والتداخل، وهو ما ينبغي أن يمثل عاملا هاما للتقارب بين الشعوب.


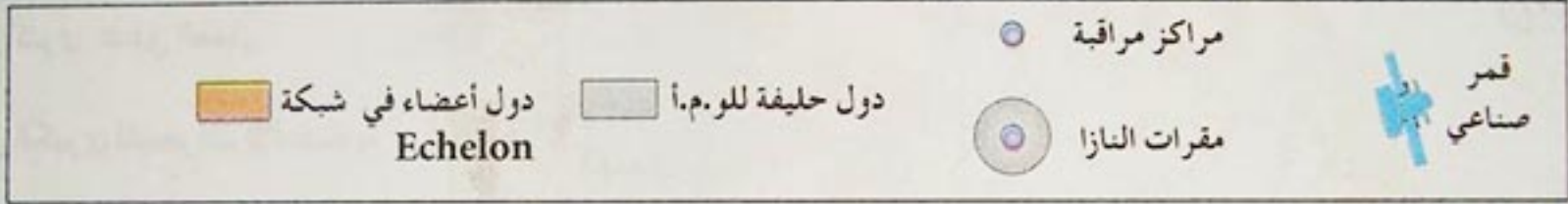
غير أنه، بغض النظر عن الجوانب الإيجابية المنتظرة من اختلاط الثقافات، قد يتسبب التطور المتنامي لتدفقات الإعلام وشبكات الاتصال في فوارق داخل مجتمعا ويغذي الاحباطات ويزرع الارتباك، وفي ذهن شبيبتنا على الخصوص. وعليه، فإن أحد التحديات الكبرى التي تعترض العالم العربي اليوم، هو معرفة كيفية ولوج هذا العالم الجديد، حيث يشكل التحكم في أدوات الاتصال العصرية شرطا من الشروط الأساسية لكل إستراتيجية تسير بخطى ثابتة من اجل تأكيد الذات والإشعاع الثقافيين.

كلمة الرئيس عبد العزيز بوتفليقة في المؤتمر الثاني لمؤسسة الفكر العربي.

نظرة مستقبلية حول العالم العربي. بيروت لبنان 7 ديسمبر 2003



## خريطة شبكة مراقبة العالم Echelon



مصدر / الجغرافيا فضاء العالم أبريل 2004



تغطية CNN لحرب العراق .

دخول الجيش الأمريكي الى تكريت 14 ابريل 2003

### النشاط :

- بناء على ما تستخلصه من السندات المعطاة اكتب مذكرة لتنظيم حوار حول ( نظام الإعلام العالمي ) وفق الفقرات التالية :
- تطور وسائله وانتشاره في العالم .
- انعكاساته الايجابية والسلبية على الرأي العام العالمي .

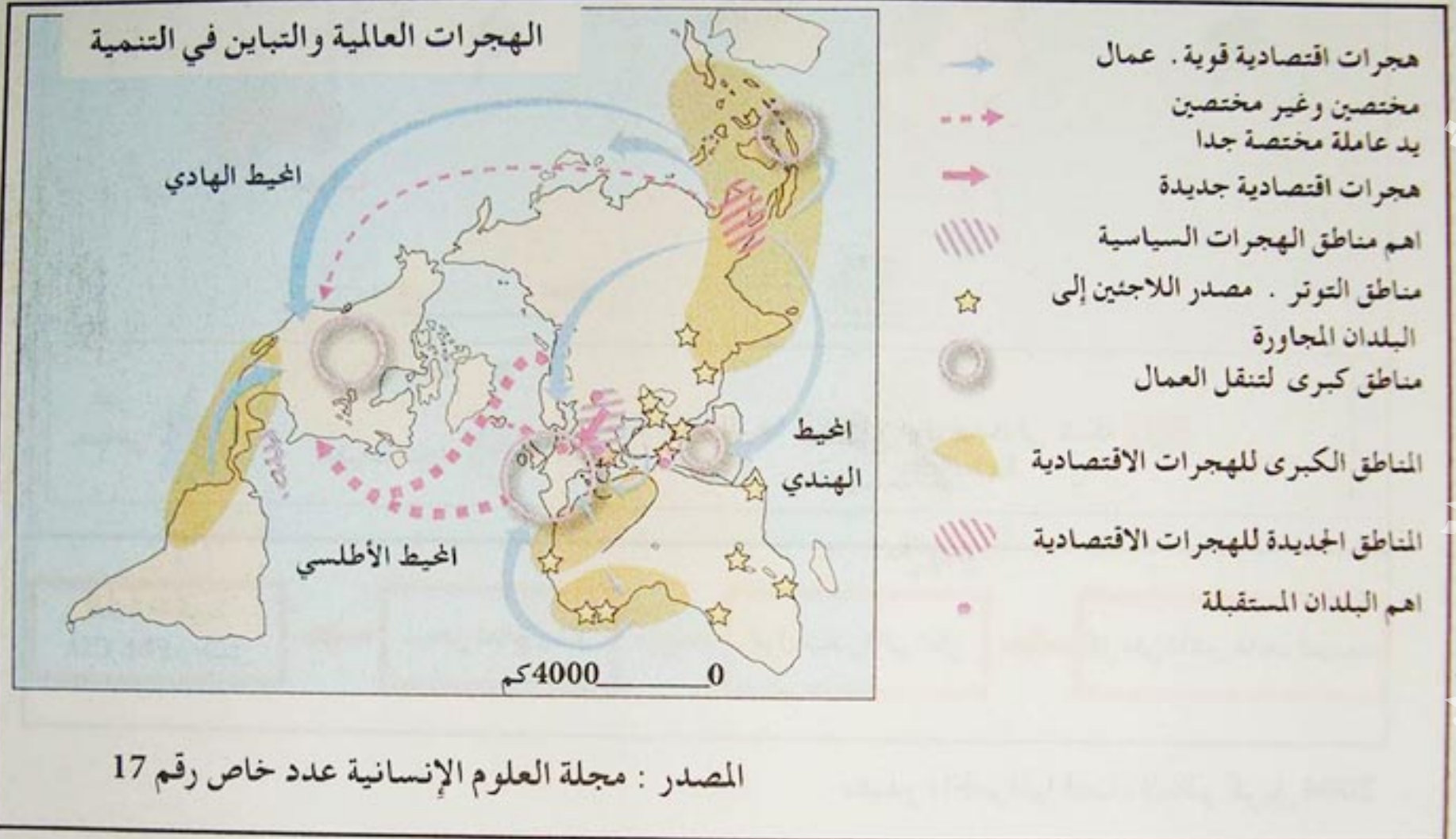


## د - تنقل السكان (الهجرة والسياحة)

### الإشكالية :

تؤثر العولمة على الهجرة العالمية من حيث اتساع وتسارع حركة السكان ( هجرة وسياحة ) عبر العالم لأسباب اقتصادية أو سياسية أو ترفيهية، وتشهد الظاهرة توسعا هائلا منذ سنة 1990 .

- لماذا تعتبر الهجرة والسياحة مظهرين من مظاهر النظام العالمي الجديد؟



أرست الباخرة مونيكا القادمة من لبنان مارس 2002 في كاتان في صقلية وعلى متنها 1000 مبحر من الأكراد العراقيين منهم 361 طفلا .

وقد هرب طاقم الباخرة آخذا من كل راكب 4 000 دولار انتهت الرحلة إلى مركز عبور متخصص

الجغرافيا للأقسام النهائية . برتراند لاكوست



500 000 لاجئ سنويا .

يهاجر 58 أمريكا لاتيني كل ساعة أي حوالي 1 392 شخص في اليوم وأكثر من 500 000 شخصا في العام الواحد . أغلبهم يتوجهون الى الو . م . أ وأوروبا ، وقليل منهم إلى البلدان المجاورة ، يفرون من الفقر والظلم والفوارق الاجتماعية في الغالب . تعاني كل بلدان أمريكا اللاتينية من نفس الظاهرة وأكثرها الإكوادور وكولومبيا والأرجنتين . 1,5 مليون مهاجر من الإكوادور بين 1999 و2002 و160 000 مهاجر من الأرجنتين خلال الأزمة التي شهدتها البلاد 2000 - 2002 أما كولومبيا فبلغ عدد المهاجرين من جراء العنف 1999 - 2001 حوالي 1,3 مليون . يتراوح سن المهاجرين بين 18 و40 سنة ، يتركون أبناءهم وعائلاتهم ( حوالي 6 ملايين طفل ) مقابل ما يبعثونه من أموال ( 23 مليار دولار سنة 2001 )

البريد العالمي رقم 676

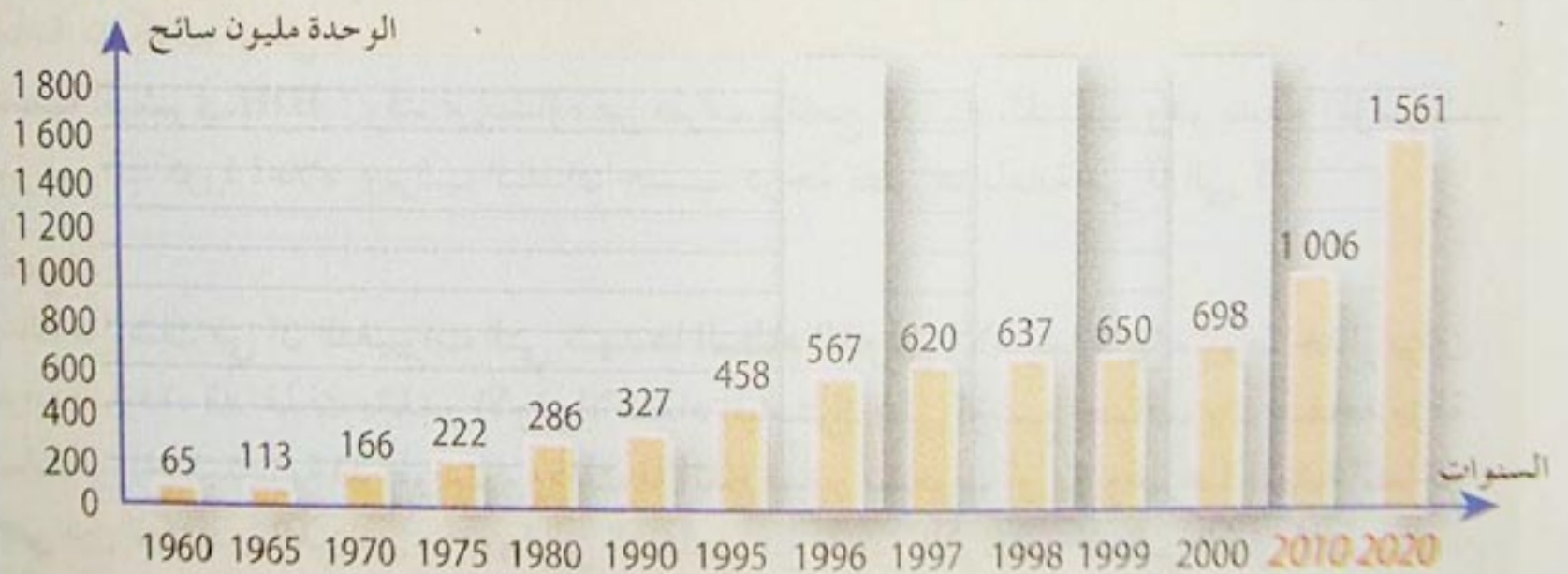
من 16 الى 22 اكتوبر 2006



رحلة سياحية الى البهامس



حدود المكسيك مع الو . م . أ تمتد حتى داخل البحر



تطور عدد السياح في العالم 1960 إلى 2020

احتمال

#### النشاط :

- من خلال ما تستخلصه من الوثائق المعطاة رتب إجابتك في صفحة على الأقل وفق الفقرات التالية :
- ضخامة وتنوع تدفقات الهجرة والسياحة في العالم
- تنقل السكان تعبيرا عن الفارق بين الشمال والجنوب
- تنقل السكان يترجم انعكاسات جغرافية واجتماعية معقدة



العالم في أرقام . سنة 2002 :  
مجموع سكان العالم يساوي 6.3 مليار نسمة  
48 % سكان المدن 52 % سكان الأرياف  
32000 مليار دولار دخل عالمي خام  
الثالث : الو.م.أ. الاتحاد الأوربي . اليابان . تمثل 14 %  
من سكان العالم 76 % من الدخل العالمي الخام.  
4 عواصم عالمية : نيويورك . لندن . باريس . طوكيو .

باعتقاد ما تم اكتسابه في  
الوضعيات التعليمية والسندات  
المقدمة في هذه الحصيلة، يمكنك  
تقديم أثر كتابي في شكل مقال وفق  
الترتيب الذي تراه مناسباً لموضوع  
الوحدة التعليمية ( واقع العالم  
الاقتصادي )

### معايير تصنيف البلدان

الناتج الوطني الخام PNB ويحسب على أساس الثروة المنتجة داخل وخارج الوطن  
الناتج الداخلي الخام PIB ويحسب الثروة المنتجة داخل الوطن من طرف المواطنين.  
PIB / PPA إنتاجية داخلية خاصة تقييم ثروة البلاد حسب متوسط السعر العالمي ( PPA القدرة الشرائية )  
المؤشرات :

مؤشرات ديموغرافية : نسبة الولادات . مدى الحياة . البنية حسب العمر  
مؤشرات اجتماعية : نوع التغذية . الأمية . الوضعية الصحية . المستوى المعيشي . الفوارق  
الاجتماعية . فقراء وأغنياء . الإقصاء . غياب الأمن . البطالة . عمل الأطفال .  
مؤشرات اقتصادية : حجم القطاع الأول ( الزراعة ) القطاع الثاني ، ( الصناعة ) . مستوى وحجم  
قطاع الخدمات . مستوى البحث العلمي والتجديد التكنولوجي .  
مؤشرات تجارية : طبيعية ونوعية الصادرات والواردات ( مواد أولية مواد مصنعة )  
مؤشرات مالية : حجم التوفير والاستثمار . مدى توفر رؤوس الأموال . الديون . قوة العملة الوطنية  
والتضخم .  
مؤشرات إقليمية : التحكم في التهيئة الإقليمية . فوارق جهوية . طبيعة ونوعية العمران الحضري  
كثافة ونجاعة شبكات النقل .  
مؤشر التنمية البشري IDH : وقد تم إنشاؤه من طرف برنامج هـ . أ . م . للتنمية وهو يدمج المؤشرات  
الكمية والنوعية المذكورة أعلاه ويرتب البلدان حسب درجة تطورها بأمانة من 0 الى 1

### مظاهر العولمة

ليس هناك من شك في أن التغييرات التي شهدتها النظام الدولي ولاسيما منها سقوط جدار برلين  
ونهاية الحرب الباردة، قد غدت بالقدر الأوفر الاعتقاد المشترك على أوسع نطاق، بان صفحة مؤلمة  
من صفحات تاريخ البشرية قد طويت . وذلك ما أثلج صدر شعوب أوربا وغيرها بنهاية التناحر  
الايديولوجي بين الكتلتين الغريمتين ودفعها الى التخلص من شعور الارتباب الدائم الذي كان سائدا  
بين القوى العظمى .....

إنه عالم يطغى فيه الاقتصاد، عالم يتم اكتساب القوة والسلطة فيه بالعلوم والمعرفة والتكنولوجيا.  
ومن المعروف على الصعيد الاقتصادي ان التحولات الجارية على النطاق العالمي ترافقها اختلالات قد  
يهدد تفاقمها الاستقرار في مناطق واسعة من المعمورة . إن استقطاب التدفقات التجارية وتدفق  
الاستثمارات المنتجة في المناطق الاقتصادية من الثالث : - أمريكا الشمالية واربا واليابان - يزيد من  
تهميش الفضاءات الجهوية الأخرى حيث تشهد التنمية الاقتصادية ركودا بلغ مستوى يبعث على  
القلق ....



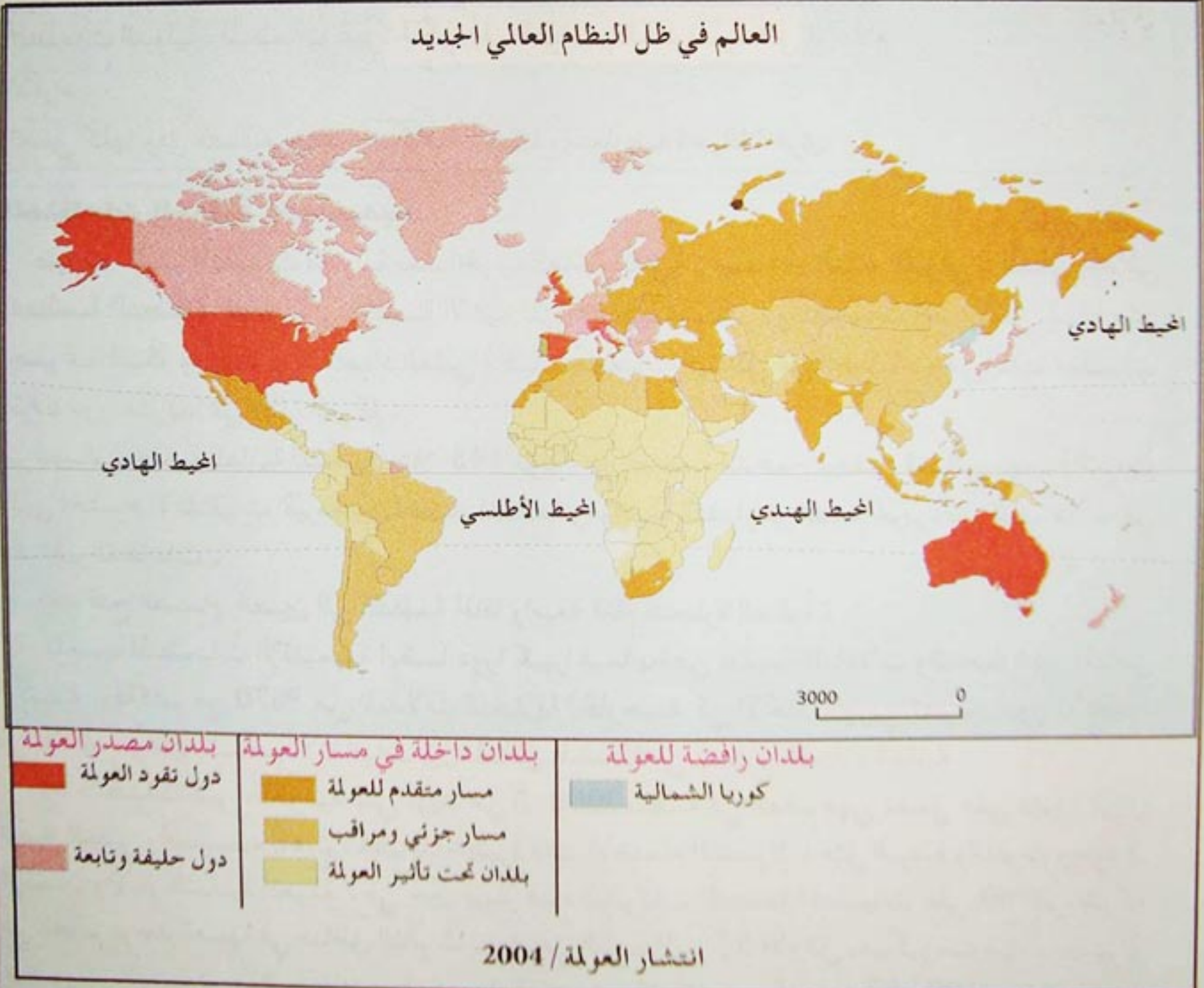
.../... إن التطور الباهر لتكنولوجيات الإعلام والاتصال الجديدة تجعل من العالم مجرد قرية كونية، فبفضل محطات الأقمار الصناعية، تتاح لثقافات العالم إمكانيات عظيمة للانتشار والتداخل وهو ما ينبغي ان يمثل عاملا هاما للتقارب بين الشعوب ...

مهما يكن من أمر فإن العولمة، مازالت تفسر قبل كل شيء، كحركة جماعية تتمثل خصوصياتها الرئيسية في التوجه تدريجيا نحو توحيد الأسواق، كما تفسر من حيث هي مسار لتوحيد نمط القيم الثقافية، ومن هنا فإنها تمثل شكلا من أشكال الكونية وإذ هي تهدف في نفس الوقت إلى التقليل من السيادات والهويات وإلى تشجيع إعادة الهيكلة التي تفيد فاعلين آخرين غير الدول . فإن العولمة تسبب في ارتباكات تهدد العالم بمخاطر انفجار جديدة .

من كلمة الرئيس عبد العزيز بوتفليقة في المؤتمر الثاني للفكر العربي

بيروت لبنان . 2003 / 12 / 07

### العالم في ظل النظام العالمي الجديد





## الانتشار السريع للعولمة .

تعتبر العولمة ظاهرة قديمة ، وقد ارتبطت بالحركة الاستعمارية التي نشرت نماذج مستوردة من الغرب تدعمت شيئا فشيئا مع الثورة الصناعية .

وتتمثل العولمة في الوقت الراهن في انتشار ظاهرة الاقتصاد الحر او اقتصاد السوق والاستهلاك الواسع للمنتجات النمطية « ستاندار » يقود هذا النظام الدولي الجديد الو.م.أ. بعد انهيار المعسكر الشيوعي 1991.

هناك ما يسمى بالعولمة المشروعة أو التي تخضع لقواعد قانونية وعولمة موازية فوضوية، ذات طابع إجرامي أحيانا.

يخضع مسار العولمة إلى منطلق متعدد الجوانب ، من تشابك مبادلات من أنواع مختلفة ، ومنافسة متزايدة بين الشركات المتعددة الجنسيات والبحث على الأسعار المنخفضة بالنسبة للمنتجات وفتح الحدود . يلعب تراجع دور الدول في كل ذلك أهمية خاصة . أما العناصر الفاعلة في العولمة فهي :

- القوى السياسية والاقتصادية الكبرى في العالم . - الشركات المتعددة الجنسيات
- المنظمات الدولية . - المنظمات غير الحكومية . - العواصم العالمية . - وسائل الاعلام
- الافراد

وتعمل كلها وفق مصالح خاصة متكاملة أحيانا ومتعارضة أحيانا أخرى

## المنظمات الدولية والإقليمية .

ظهرت اغلب المنظمات الدولية بعد الحرب العالمية الثانية - صندوق النقد الدولي . البنك العالمي . منظمة التجارة العالمية . المنظمة الأمية للزراعة . اليونسكو . وتنظيمات أخرى أقل شأنًا مثل مجموعة الـ 8 ومنتدى الاقتصاد العالمي وكذا جمعيات البدائل عن العولمة . وهي كلها منظمات تعرف دورا متزايدا في اطار العولمة .

تضم المنظمة العالمية للتجارة مثلا 148 دولة وهي منظمة مدعومة بمجلس قضائي مهمته السهر على احترام الاتفاقيات المبرمة بين أعضاء المنظمة ومواصلة التفاوض قصد تحرير اكبر للمبادلات في مختلف القطاعات .

وقد فتح انضمام الصين الى المنظمة أفقا واسعة أمام التجارة العالمية .

تلعب المنظمات الإقليمية أيضا دورا كبيرا فيما يخص تنمية المبادلات والتجارة بين المناطق الكبرى . فأكثر من 70% من المبادلات التجارية الخارجية في الاتحاد الأوربي تتم بين دول الأعضاء في الاتحاد . وعليه تساهم الاتفاقيات بين المناطق المختلفة في تسارع التجارة العالمية .

أما المنظمات غير الحكومية التي تزيد عن الـ 2000 منظمة في العالم فهي تعمل على تهيئة الرأي العام العالمي وتحسيسه بأهم القضايا الخطيرة ذات الاهتمام المشترك ، مثل البيئة والتلوث وحقوق الإنسان والآثار السلبية للعولمة . في حين يزيد عدد الشركات المتعددة الجنسيات على 60 ألف شركة في العالم يوجد أهمها في مناطق التلوث . تشغل الشركات الـ 5 الأوائل - ميكروسوفت . جينيرال موتورس . اليسون . ووال مارت . وفيزر ما يقرب من 6 ملايين موظف . ( 57 / 100 من الشركات الكبرى في العالم تابعة للو.م.أ. )

تتمتع تلك الشركات بقوة اقتصادية وقوة قرار يتعدى قدرات وإمكانات بعض الدول .



## مجموعات الضغط في المنظمات الدولية



المصدر . الجغرافيا فضاء العالم أبريل 2004

0 3000 كم

مجموعة الدول التي تشكل العناصر الأساسية في التجارة العالمية	مجموعة كايرنز بأستراليا أسست من 17 دولة للنشاط في المجال الفلاحي	مجموعة الـ 15 تأسست سنة 1989 وهي المعارضة لأسلوب التفاوض مع المنظمة العالمية للتجارة	مجموعة 77 من مجموعة الدول غير المنحازة
---	--	--	--

### التدفقات التجارية والتنقلات .

يعرف العالم تزايداً هائلاً لمبادلات السلع والخدمات وتنقلاً واسعاً لرؤوس الأموال والإعلام وهجرات السكان . وقد بلغت التدفقات التجارية سنة 2000 نسبة 28% من الإنتاج العالمي . تحت مظلة العولمة التي تتميز بعناصر محركة تتمثل في :

- تحرير سوق المبادلات
- الثورة في وسائل النقل
- الاتصال والترابط المتزايد بين دول المعمورة

تشكل المبادلات التجارية البحرية أهم ركيزة للتجارة العالمية - 4/3 حجمها و 3/2 قيمتها - وتتميز بانخفاض أسعار النقل والتخصص في نقل البضائع المختلفة والمحروقات والحاويات . أما الطيران فيخصص للبضائع القابلة للتلف أو المنتجات ذات القيمة المضافة، في حين يضمن النقل البري بتجهيزات كثيرة التوزيع في فضاء محدود .

إن أهم الموانئ العالمية تتواجد على الواجهات البحرية في الثالث المعروف . شمال شرق الو.م.أ . شمال غرب أوروبا . اليابان . والدول النامية في جنوب شرق آسيا، هونكونغ وسنغافورة . تتباين جغرافية التدفقات التجارية تبعاً لنوعية المنتج، وهي تعكس التقسيم العالمي الجديد للشغل حيث تهتم البلدان المتطورة بالإنتاج ذي القيمة المضافة، يتم تبادلها بين نفس البلدان . ونهتتم البلدان النامية، حديثة التصنيع بالإنتاج الذي يحتاج إلى يد عاملة رخيصة والذي يصدر أساساً إلى الدول المتطورة، وتصدر الدول المتخلفة مواردها الطبيعية في شكل مواد أولية بأسعار رخيصة .



الإشكالية

يعتبر تزايد المبادلات وتوحيد أنماط الإنتاج والاستهلاك في أغلب بلدان العالم من عناصر الشمولية العالمية التي تخضع قيادتها لمراكز وأقطاب عالمية عبر شبكة من التدفقات التجارية والأموال والإعلام على مستوى المعمورة. إن هناك فضاءات جغرافية ومجتمعات ترفض وتتخوف من هذا المسار الشمولي الوحدوي، لأسباب كثيرة. كيف تفسر ذلك؟

تقرير حول النمو البشري العربي يصدره كل سنة برنامج الأمم المتحدة والصندوق العربي للإنماء الاقتصادي.

صدر في شهر أكتوبر سنة 2002 تقرير يحتوي على مؤشرات بما يكفي لتتويرنا حول وضعيتنا الآنية ومستوى تطور بلداننا الاقتصادي والاجتماعي. ما هي المعلومات التي أفادنا بها هذا التقرير لسنة 2002 و2003.

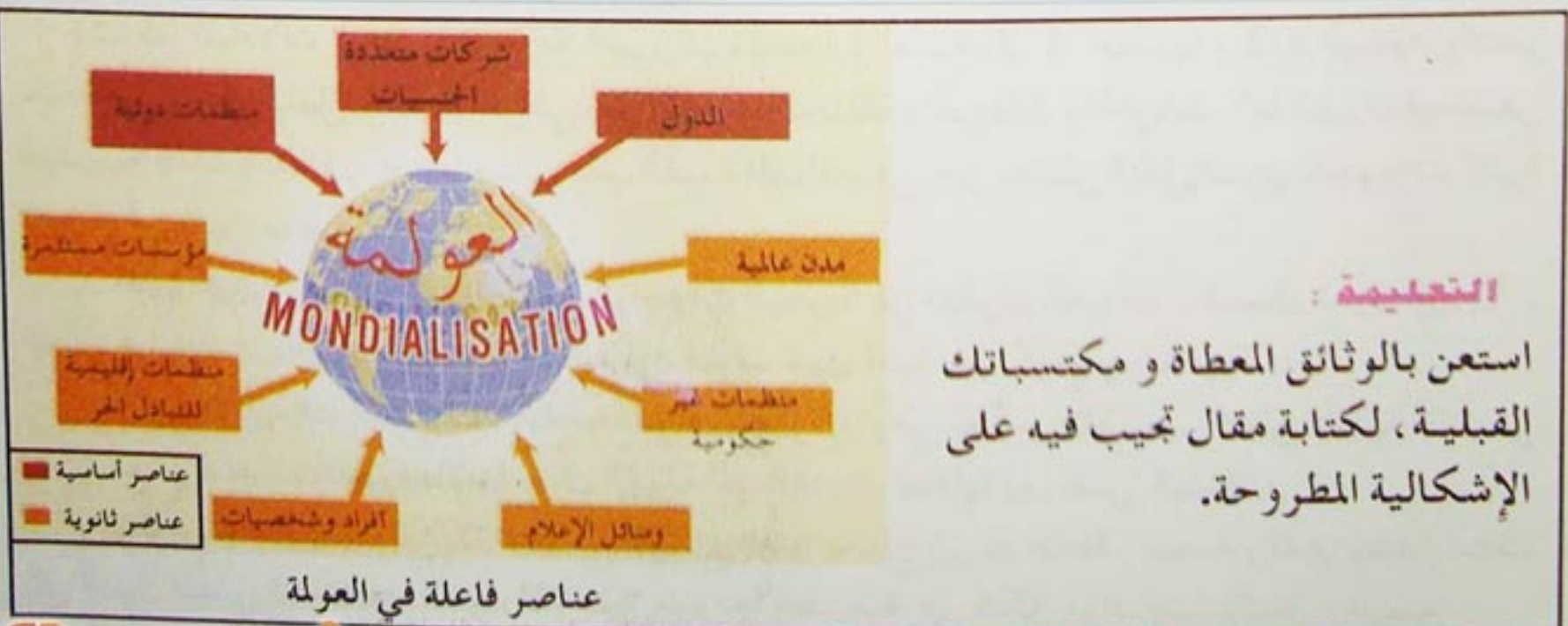
ليس الوطن العربي غنيا بعكس ما هو شائع، فالنتائج الداخلي الخام للبلدان العربية كلها والمقدر بـ 550 مليار دولار يقل عن دخل بلد واحد مثل اسبانيا الذي يقدر بـ 600 مليار دولار. معدل الدخل السنوي العربي للفرد الواحد، هو نصف المعدل العالمي، صادرات الدول العربية مجتمعة من المحيط الى الخليج خارج المحروقات، وعدد سكانها 284 مليون نسمة، أقل من صادرات بلد مثل فلندا وعدد سكانه 5 ملايين نسمة.

يترجم الوطن العربي كل سنة أقل ما يترجمه بلد مثل اليونان بخمس مرات، وهو الذي لا يتعدى عدد سكانه 11 مليون نسمة. نسبة مستعملي الانترنت في الوطن العربي هي 6,1% من عدد السكان، بينما هي 79% في الولايات المتحدة الأمريكية. يستعمل كل 100 نسمة 18 جهاز كمبيوتر في الوطن العربي، بينما يستعمل نفس العدد في البلدان المصنعة 78 جهازا. تصدر كل يوم 53 صحيفة لكل 1000 نسمة في الوطن العربي مقابل 285 صحيفة في البلدان المصنعة. هذا هو وضع الأمة العربية في سنة 2003 مختزل في هذه الأرقام المرعبة.

كلمة عبد العزيز بوتفليقة رئيس الجمهورية في القمة الأولى

لرؤساء دول وحكومات بلدان الحوض الغربي للمتوسط 5+5

تونس 05 / 12 / 2005









# القوى الاقتصادية الكبرى في العالم



الأسطول الأمريكي



الاتحاد الأوروبي



رمز القوة اليابانية

## منطلقات الدراسة

هناك مجموعة من المعايير والمؤشرات التي تمكن من تصنيف القوى الاقتصادية الكبرى في العالم وهناك إطار عام للدراسة الجيوسياسية قصد إبراز مكانة وعلاقة تلك الدول بالاقتصاد العالمي :

## 1- معايير ومؤشرات التصنيف

### القوة الاقتصادية

- الناتج الوطني الخام BNP والناتج الداخلي الخام BIP كمؤشرات تمكن من قياس الموارد والخدمات .  
- التطور التكنولوجي، البحث العلمي و الاختراعات .  
- المكانة بالنسبة لتنظيم السوق الدولية (بورصات لتحديد أسعار المواد ومؤسسات تنظيم شبكات النقل)  
- مكانة البورصة (مقرات الصناديق والمنظمات الاقتصادية والمالية مثل صندوق النقد الدولي...)

### • القوة المالية

- قوة العملة (الدولار الذي يعتبر عملة التعامل الدولي) والين والأورو التي هي من العملات الصعبة .

- المكانة داخل صندوق النقد الدولي

- الاستثمارات من حيث قيمتها وتمركزها

- التحكم في الدينامكية المالية

• القوة الدبلوماسية والعسكرية

- المكانة والدور داخل المنظمات الدولية ( حق الفيتو مثلا)

- امتلاك أنواع السلاح النووي

### • القوة الإقليمية

- المساحة والموارد الطبيعية كالطاقة والمعادن

- طول الحدود باعتبارها محل قوة إستراتيجية

### • القوة الثقافية

- انتشار اللغة والإنتاج الثقافي ونمط الاستهلاك ومواد

الشهرة العالمية مثل ( كوكا كولا ، ماكدونالد.. )



## 2 - إطار عام للدراسة الجيو - اقتصادية

### الإقليم .

يشكل اتساع الإقليم عامل قوة بالنسبة للدولة، ويعني ذلك على أقل تقدير توفر موارد طبيعية سطحية وباطنية، كما يمثل ورقة إستراتيجية من حيث الامتداد الضروري لأي توسع داخلي ممكن. ذلك ما يتطلب تهيئة إقليمية ( إقامة منشآت قاعدية وهياكل استقبال، من طرق برية وسكك حديدية وموانئ ومطارات ) . و التحكم في التهيئة الإقليمية أو الحضرية بالنسبة للمدن وتنظيم التوسع العمراني فيها .

إن الإقليم لوحده لا يمكن أن يشكل عامل قوة اقتصادية، إن لم يكن مرتبط كل الارتباط بالسكان .

### السكان والنشاط الاقتصادي

السكان هم الذين يبنون القوة الاقتصادية للبلاد، سواء توفرت أم لم تتوفر الموارد الطبيعية الوطنية، فالاقتصاد البلد يرتبط أساسا بتقنيات الإنتاج وفعالية نظام التوازن الاجتماعي من حيث العلاقات والتأطير الإداري ونظام التمثيل السياسي والحكم . يشكل عدد السكان قوة من حيث مستوى تكوينهم القائم على طبيعة النظام التربوي باعتباره رأسمال التجديد الثقافي والتكنولوجي الذي يساهم في إضفاء القيمة على الموارد الطبيعية لذا تعتبر فعالية ودرجة التكوين ونظام التوازن الاجتماعي بيانا على قدرة البلاد على التجديد ومعيارا أساسيا للقوة في هذا العالم .

- كما تعتبر القوة العسكرية و امتلاك السلاح النووي والقدرة الدفاعية والمستوى الديبلوماسية والتحكم في الأسواق العالمية معيارا آخر من معايير القوة بالنسبة للبلاد .

الجغرافيا فضاء العالم ABC بولان

### مثال الولايات المتحدة الأمريكية : و . م . أ .

المعايير	المؤشرات	المعوقات
اقتصادية	أول قوة زراعية أول قوة صناعية أول قوة تجارية بطالة ضعيفة 3.4 %	المنافسة من طرف الاتحاد الأوربي واليابان عجز الميزان التجاري تراجع السياسة الاجتماعية
مالية	تفوق الدولار كعملة عالمية وال ستريت أول بورصة في العالم أهمية الاستثمارات التأثير في بنوك وصندوق النقد الدولي	الحالة العائمة للدولار . ضخامة الديون الخارجية
إقليمية	شساعة الإقليم . تنوع وكثرة الموارد الطبيعية والطاقة	ارتفاع كلفة البنية التحتية
دبلوماسية وعسكرية	دور هام في المنظمات والبنوك الدولية . التفوق العسكري والسلاح النووي غزو الفضاء قيادة أنظمة التحالفات	معارضة الحلفاء أحيانا ارتفاع كلفة الدور القيادي العالمي
ثقافية	انتشار اللغة الإنجليزية في العالم الإنتاج والتوزيع السينمائي الموسيقي ومواد الشهرة ( الموضة )	التنوع الثقافي والتأثير السلبي على هوية المجتمع الأمريكي

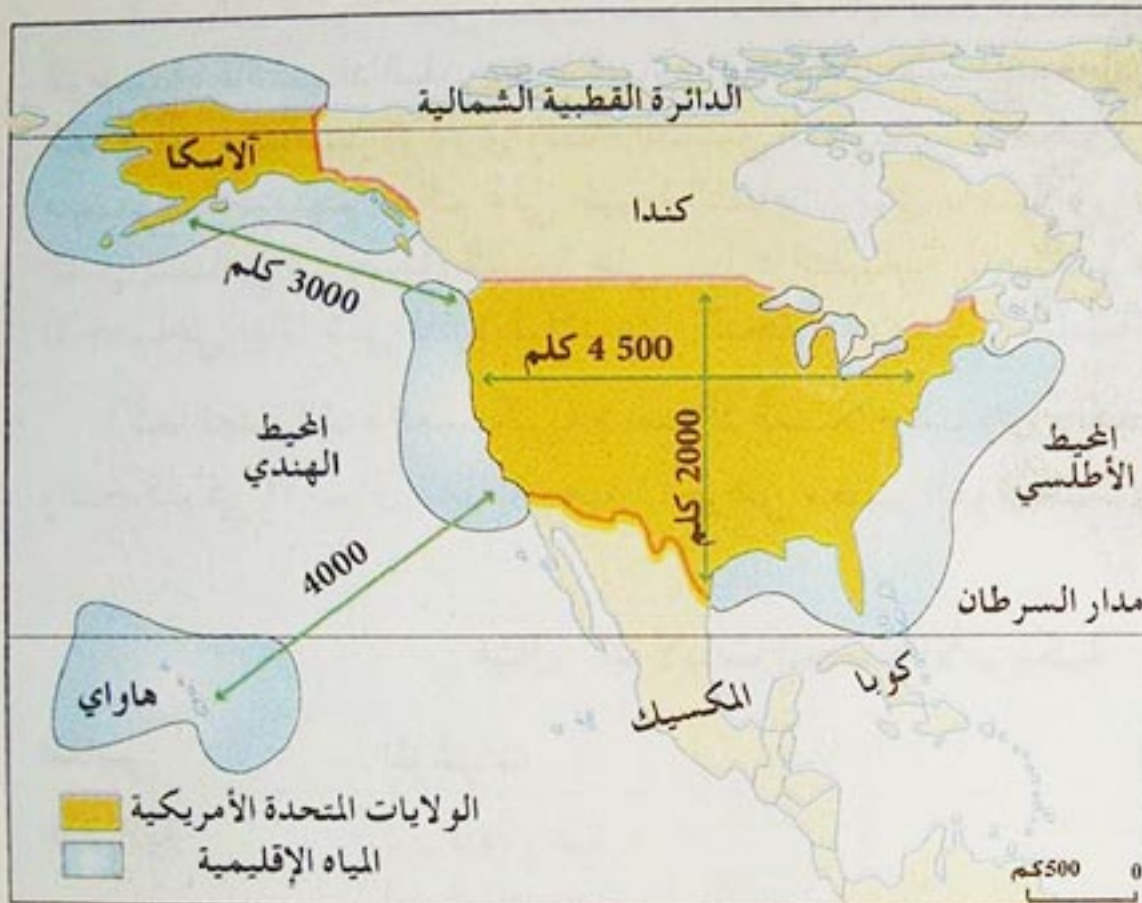


# 1 - الولايات المتحدة الأمريكية قوة اقتصادية عظمى

## الإشكالية

تتميز الدولة القوية بوزنها الاقتصادي والديمقراطي والدور الذي تلعبه في الفضاء العالمي، وقد أصبحت الولايات المتحدة الأمريكية بعد نهاية الحرب الباردة وانهيار روسيا (الاتحاد السوفياتي سابقا) أقوى دولة في العالم.

- ما العناصر الأساسية التي تبين ذلك ؟



أبعاد إقليم الولايات المتحدة الأمريكية



نقل البضائع في الولايات المتحدة الأمريكية

بطاقة فنية للو.م.أ :

- المساحة : 9 363 520 كم<sup>2</sup>.
- السكان : 293 600 000 نسمة سنة 2004.
- مؤشر التنمية البشرية : 0.934 المرتبة 6 عالميا
- نسبة الولادات : 14 بالالف 2004.
- نسبة الوفيات 8 بالالف.
- نسبة الزيادة السكانية 06 بالالف
- مدى الحياة :
- 74 سنة للرجال - 80 سنة للنساء
- نسبة وفيات الأطفال : 7.7 بالالف
- الدخل الفردي 729 39 دولار
- مساهمة القطاعات في الدخل الوطني :
- الزراعة 2%
- الصناعة 23%
- الخدمات 75%
- الصادرات 805 723 مليون دولار
- الواردات 410 1305 مليون دولار

Image Economique du monde 2005





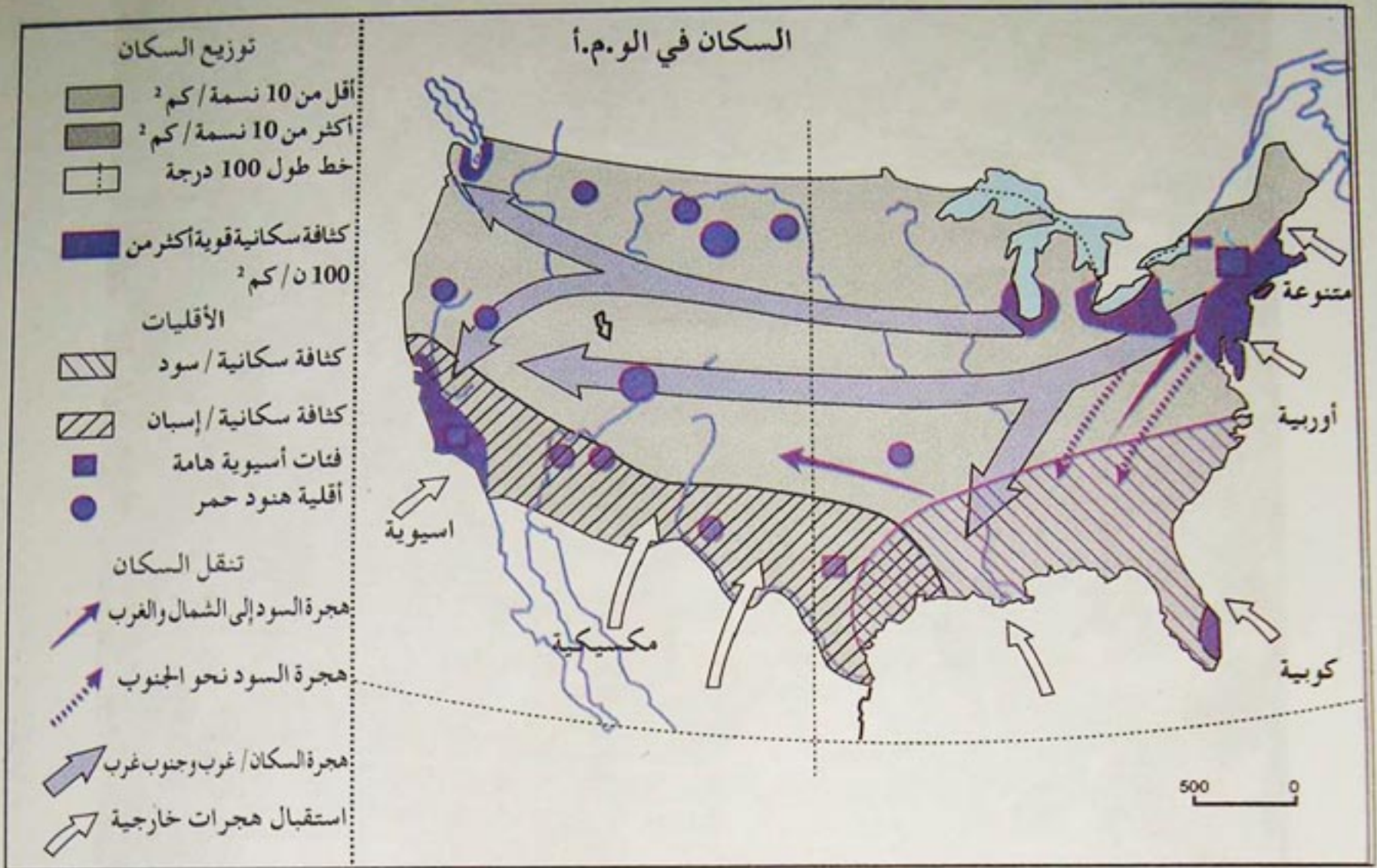
بورصة نيويورك أول بورصة في العالم

تجاوز العجز المالي للحكومة الفيدرالية للو.م.أ. عام 2005 ما مقداره 400 مليار دولار، وللسنة الثالثة على التوالي، فعند وصول بوش إلى الحكم في سبتمبر 2004، ارتفعت ديون الولايات المتحدة الأمريكية من 7005 إلى 7008 مليار دولار، وتزداد بوتيرة قدرها 1,64 مليار دولار في اليوم الواحد .

Image économique du monde 2006 Armand Colin



## أ - السكان والتنمية الإقليمية في الو.م.أ.



المصدر : أوراق المراجعة ناتان 2001

يتركز ثلثا السكان في شرق نهر الميسيسيبي في السواحل الشمالية الشرقية وحول منطقة البحيرات الكبرى. ويعود ذلك إلى أسباب تاريخية وطبيعية واقتصادية ومالية.


النوع	بيض	سود	إسبان	أسيويون	أمريكان
% الحالية	73	12	09	04	02
نسبة الزيادة الطبيعية	6	12	50	100	37
% 2020	53	13	24	8	2

التنوع السكاني في الو.م.أ.

المصدر : الجغرافيا للأقسام النهائية . ناتان تقني 2001

يعتبر الاقليم الأمريكي في الوقت الراهن اقليما مهيبا بكامله، انطلاقا من شبكة مدن منظمة ومهيكلية ومن خلال شبكة طرق موصلات ضخمة ومتنوعة، تسهل حركة السكان واستغلالهم للموارد الطبيعية في البلاد. وبالتالي تنوع وازدهار النشاط الاقتصادي . ويبقى هناك مشكل المخاطر الطبيعية محل الاهتمام الدائم .

الجغرافيا للأقسام النهائية . فضاء العالم . ناتان



كرة السلة شعار وطريق النجاح للفئات المحرومة المقيمة بأحياء القيطو . (الاحياء القصديرية)





### الموارد الطبيعية وطرق المواصلات في الو.م.أ.

مراكز اتصال أساسية	موانئ + 50 مليون طن	شبكة كثيفة للمواصلات
مراكز اتصال هامة	شبكة نقل مائية قنوات مائية	طرق السكة الحديدية الهامة
مطارات دولية هامة	الملاحة النهرية	الفحم
		المخروقات

المصدر: الجغرافيا للأقسام النهائية. ناتان تقني 2001



السهول العظمى في الو.م.أ.

تستخرج أغلب كمية الفحم من منطقة الابلاش، ( حوالي 450 مليون طن). وتتوفر منطقة خليج المكسيك (تكساس، أو كلاهوما) على 80% من إنتاج البترول، توزع هذه الموارد عبر التراب الوطني لتلبية حاجيات الاستهلاك الصناعي والمنزلي عن طريق شبكة اتصال متنوعة، من أنابيب وسكة حديدية وطرق برية وقنوات ملاحية نهرية.

تاريخ وجغرافيا. ناتان / تقني




شبكة الخطوط الجوية الداخلية في الو.م.أ.

### النشاط

- اعتمادا على الوثائق المعطاة. بين في صفحة على الأقل علاقة التهيئة الإقليمية بالتنمية في الولايات المتحدة الأمريكية.



## ب - التنمية الحضرية في مدن الو. م. أ



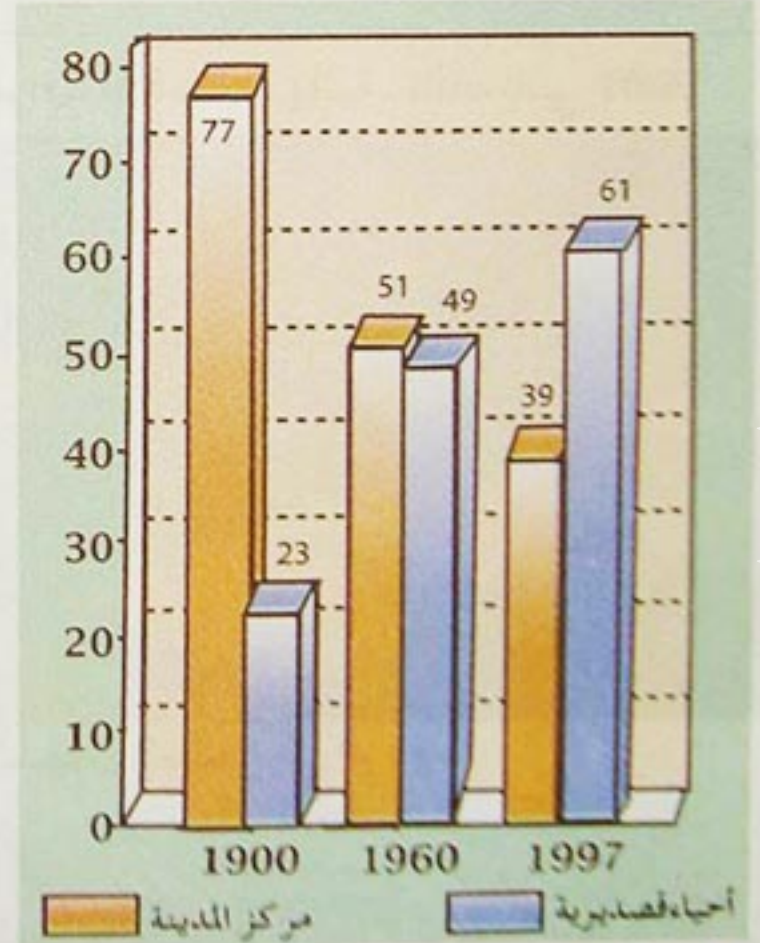
أطلانطا صورة لنوعية المدن الأمريكية  
محاطة بالطرق المزدوجة يتوسطها مركز المال والأعمال

معظم المدن الأمريكية تقوم على أساس مخطط « شترنجي » أصلا وتكون مراكز الأعمال والمال في وسط المدينة حيث العمارات الشاهقة وناطحات السحاب التي تتحكم في الحياة الاقتصادية والمالية والسياسية والثقافية للبلاد، وتكون الأحياء المحيطة بتلك المراكز عامرة بالعمال والفقراء، في حين تكون الضواحي الريفية عبارة عن أحياء راقية.

### مجمع مدن شمال شرق الو. م. أ.

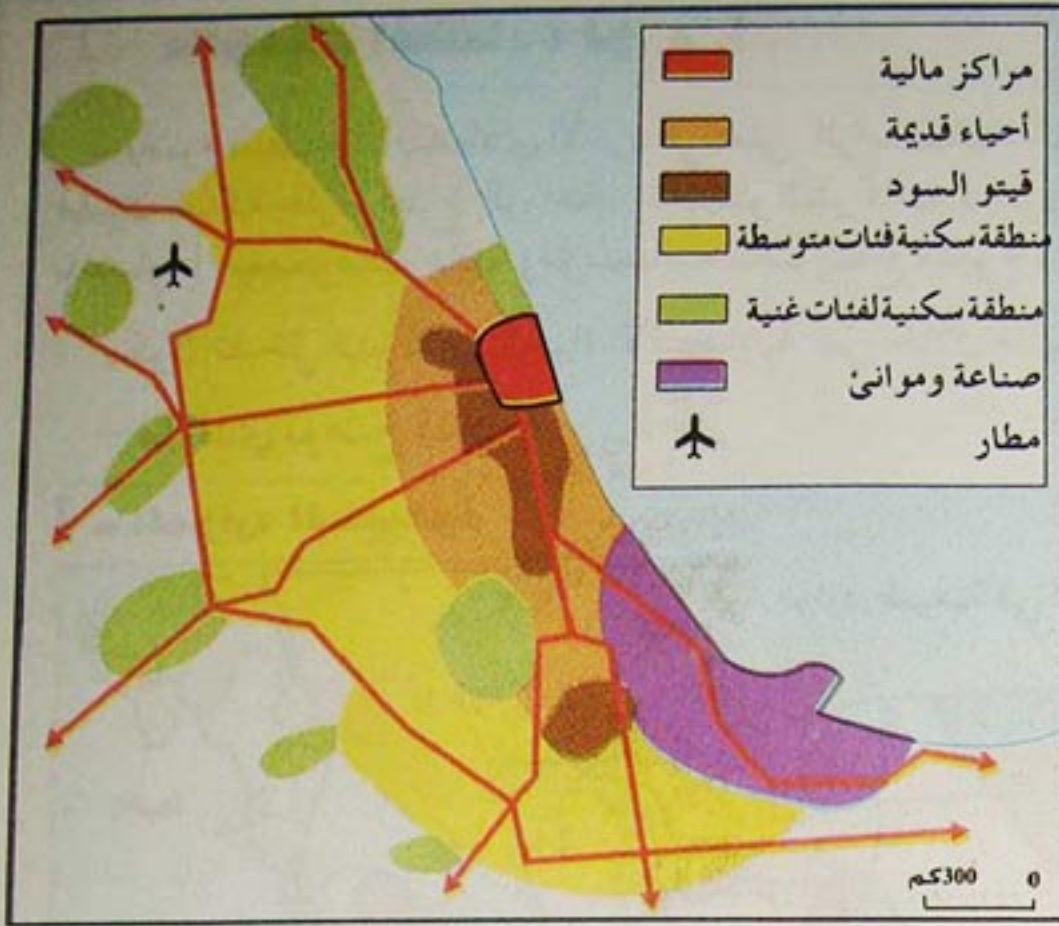
يشكل المحور الممتد من بوسطن إلى " بلطيمور وريشموند " واجهة اطلسية مزدوجة . واجهة اطلسية في شمال شرق الو. م. أ.، تليها منطقة البحيرات الكبرى غربا، وهي عبارة عن مجمع مدن متصلة ببعضها على امتداد يفوق 600 كم . بلغ عدد سكان 5 مدن أساسية فيها 40 مليون نسمة .

تلك هي المنطقة التاريخية والحديثة للبلاد مهد الصناعة والنشاط الاقتصادي والتركز السكاني . فيها واشنطن العاصمة السياسية، بها مقر صندوق النقد الدولي والبنك العالمي ومقر منظمة الدول الأمريكية . تتركز فيها نشاطات البحث في التكنولوجيات العالية والمراكز التجارية الضخمة الجغرافيا للأقسام النهائية برتراند لاكوست



تطور السكان في المدن وضواحيها في الو. م. أ.





تنظيم عمراني لمدينة : مثال مدينة شيكاغو

### المدينة الأمريكية فضاء اندماج

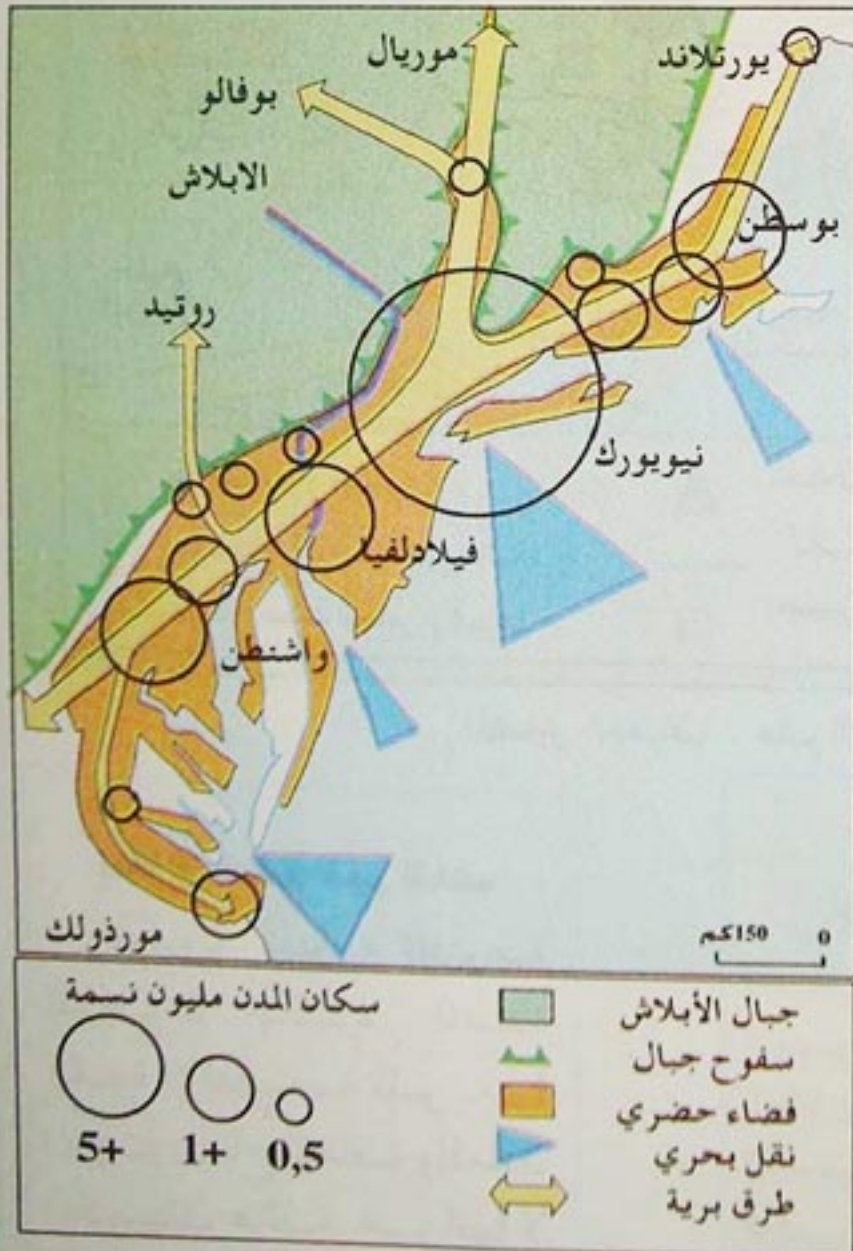
بدأ كل ما يساهم في عملية الإندماج من مدارس عمومية وخدمات إجتماعية وصحية يشهد تناقصا يوما بعد يوم. ومع ذلك فإن المدن الأمريكية تستقبل ملايين من السكان القادمين إليها .

يعرف السود تفككا كبيرا على غير الآسيويين الذين يجمع بينهم نوع من التضامن تبعا لأصولهم الثقافية ذات صبغة التماسك الاجتماعي الكبير.

ونفس الشيء يقال بالنسبة للإسبان الذين حوّلوا خلال الثورة الصناعية إلى المدن التي يتواجدون فيها في ظروف جد سيئة، لم تعد مقبولة لدى المهاجرين الجدد.

تاريخ وجغرافيا

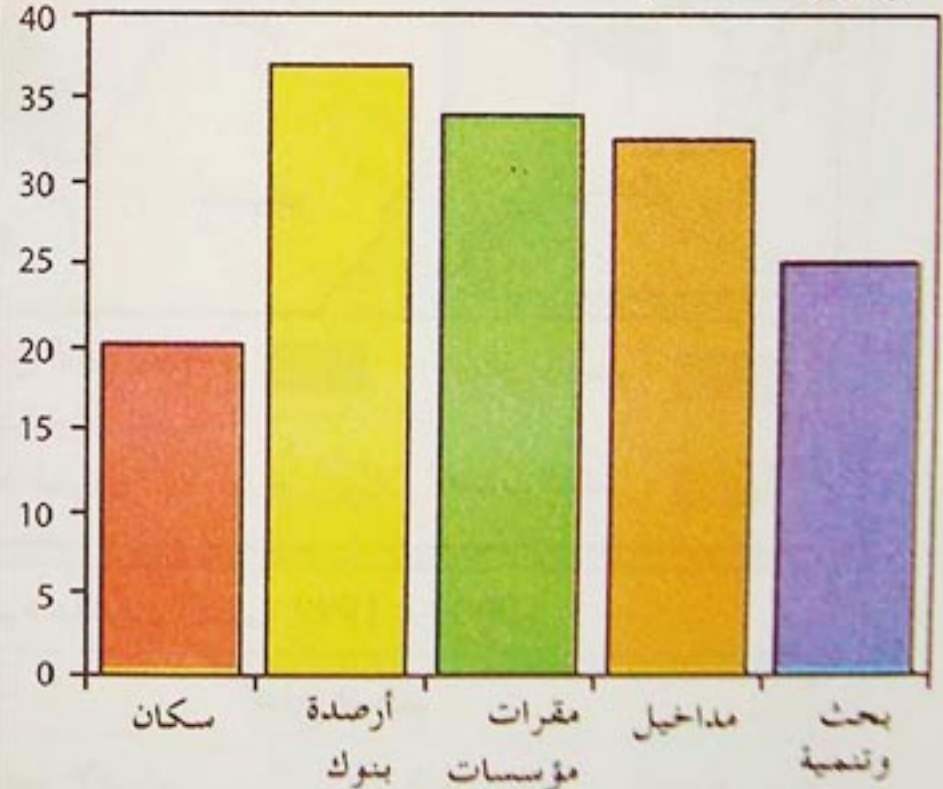
هاشيت التربية - عالم اليوم 99 / 2000



مجمع مدن شمال شرق الو.م.أ. (نيويورك)

%

تركز وظائف مقرات



المصدر: الجغرافيا للأقسام النهائية: ناتان تقني 2001

### الانشاءات

- اعتمادا على السندات المعطاة قدم صفحة مكتوبة وفق الفقرات التالية :
- السكان في الو.م.أ.
- التهيئة الحضرية في الو.م.أ.



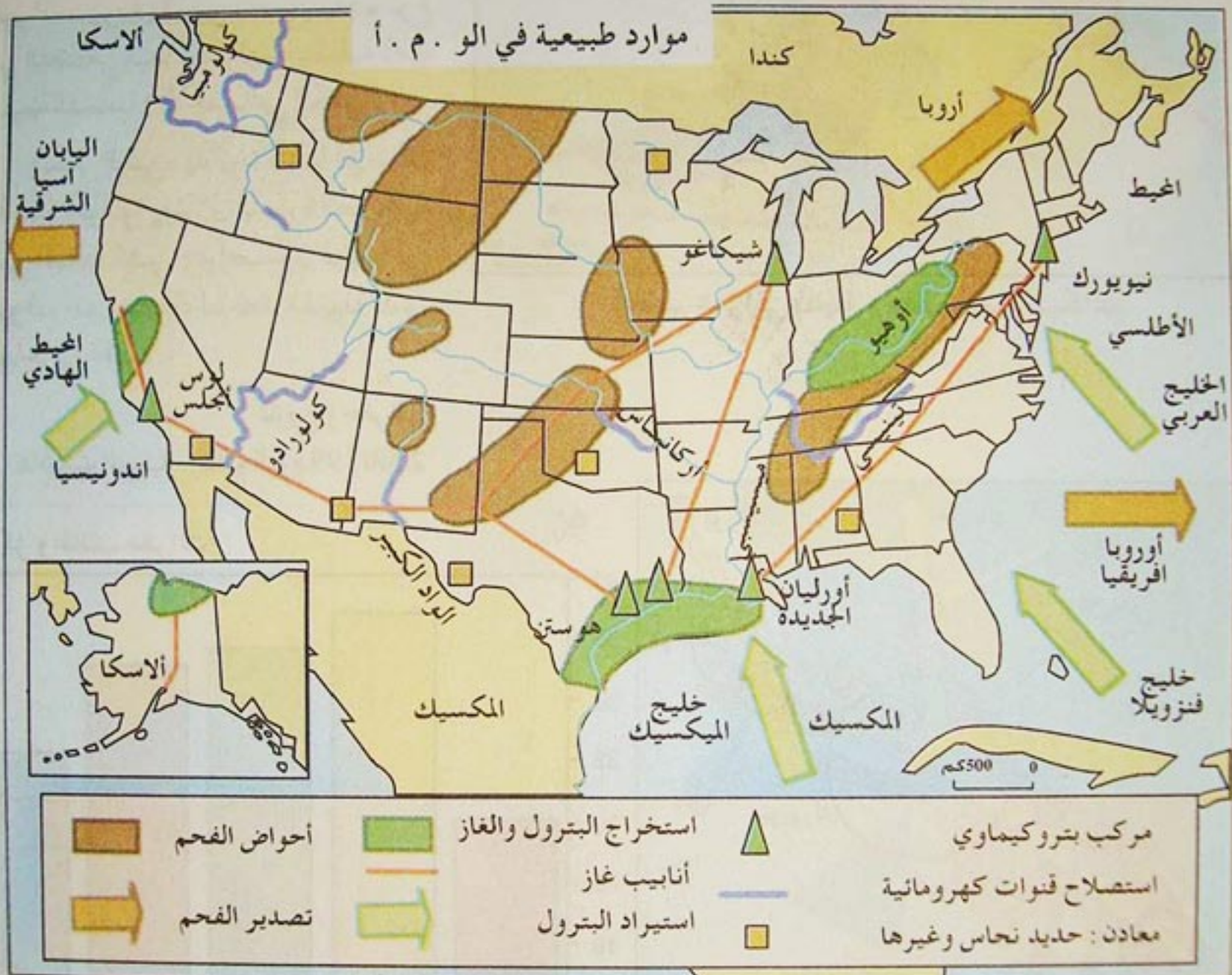
## 2 - مقومات اقتصاد الو. م. أ.

يقوم النظام الاقتصادي الأمريكي على الرأسمالية القوية قوامها شركات خاصة كثيرة : 27 مليون شركة خارج قطاع الزراعة . وتسيطر الشركات الكبرى على مختلف فروع النشاط الاقتصادي، باعتبارها مجموعات مالية ومؤسسية ذات إنتاج متنوع .

يكون تدخل الدولة في الحياة الاقتصادية من خلال طلبات التسليح وتمويل برامج غزو الفضاء .

- ما الذي يوضح ذلك ؟

### أ - الموارد الطبيعية



إنتاج ضخم		
النسبة	الرتبة	نوعية الإنتاج
9.4	3	الصلب
12.8	4	الالمنيوم
18.8	1	المطاط الإصطناعي
23.6	2	الفحم
23.1	1	الكهرباء
20.1	2	الغاز الطبيعي
9.6	3	البتترول

المصدر : Image Economique du monde 2005

### إنتاج ضخم غير كاف

تكون الموارد المتنوعة الموجودة بكثرة قاعدة القوة الاقتصادية للو. م. أ. يتم إنتاج الطاقة والمعادن بكميات هائلة غير أنها لا تفي بالحاجيات الاستهلاكية الضخمة للاقتصاد الأمريكي .





صناعة بتر وكيمياوية بالتكساس



الزراعة المروية في المنطقة الغربية من التكساس

### إقليم شاسع وموارد طبيعية ضخمة

يشكل اتساع الإقليم والمساحة الزراعية القابلة للاستغلال (أكبرها في العالم) وتنوع التربة والمناخ، بالإضافة إلى طول الشواطئ (السواحل) بخيراتها البحرية، عوامل من شأنها أن تسمح بتنوع الإنتاج في الو.م.أ.

تعتبر الو.م.أ. أول مُصدّر للفحم في العالم وثاني دولة في إنتاج المحروقات، كما حبتها الطبيعة بما يمكنها من إنتاج كميات ضخمة من الكهرباء... وذلك رغم أنها تصنف أول دولة مستوردة للمحروقات، وثروتها الطاقوية غير كافية.

بكالوريا جغرافيا ناتان

### النشاط

– رتب الملاحظات التي تستخلصها من كلّ سند على حدة.

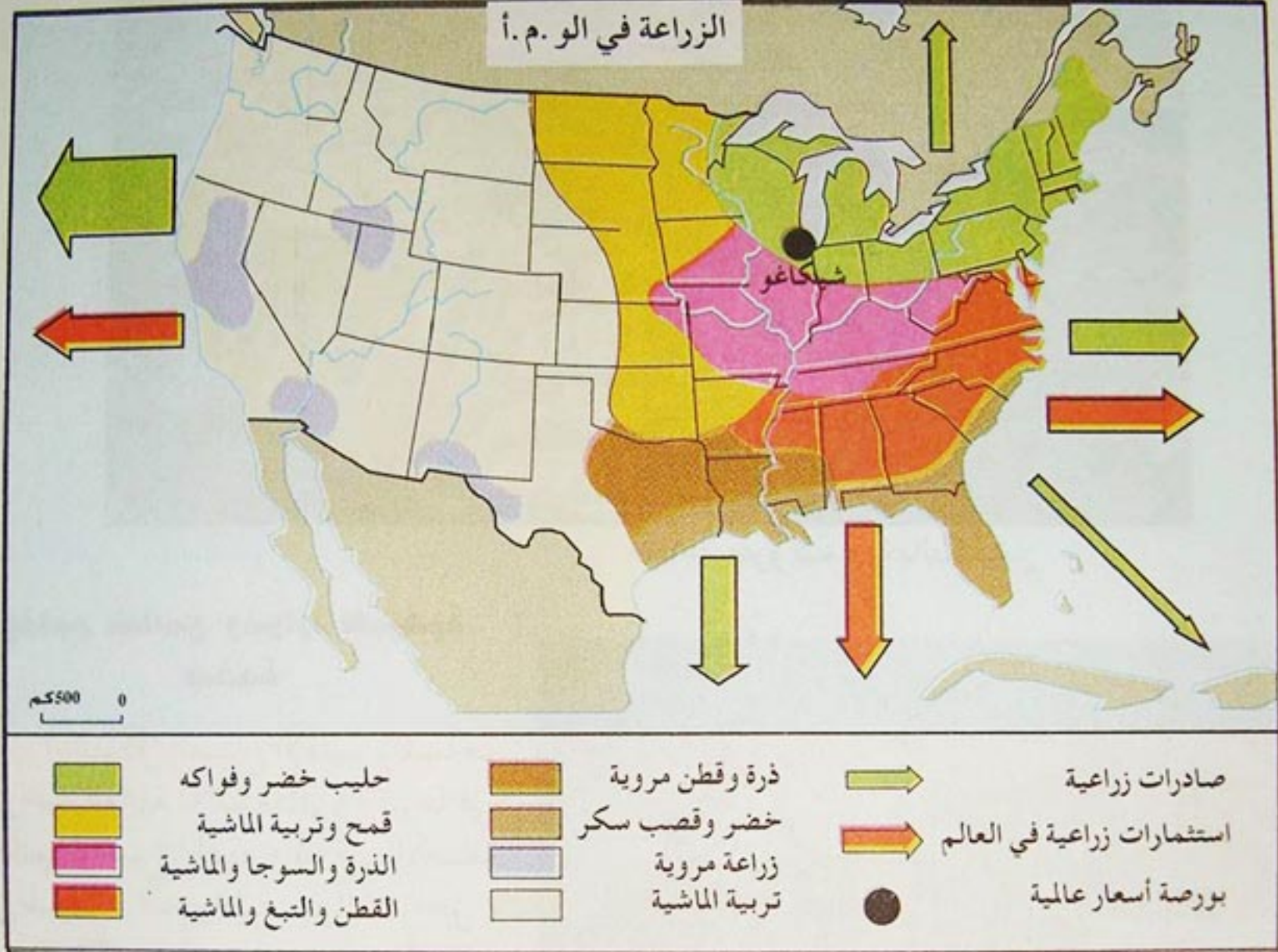
– أكتب ، صفحة تبين فيها أهمية الموارد الطبيعية بالنسبة لاقتصاد الولايات المتحدة الأمريكية.



## ب - الزراعة والصناعة في الولايات المتحدة الأمريكية

تعتبر الولايات المتحدة الأمريكية أول دولة صناعية وزراعية في العالم. تحتل المراتب الأولى من حيث الإنتاج و تخضع الزراعة لمؤسسات وشركات كبرى تقوم بمراقبة كل الإنتاج الفلاحي وتحويله وتوزيعه. في حين تشهد الصناعة القديمة إعادة هيكلة وتنظيم على نطاق واسع.

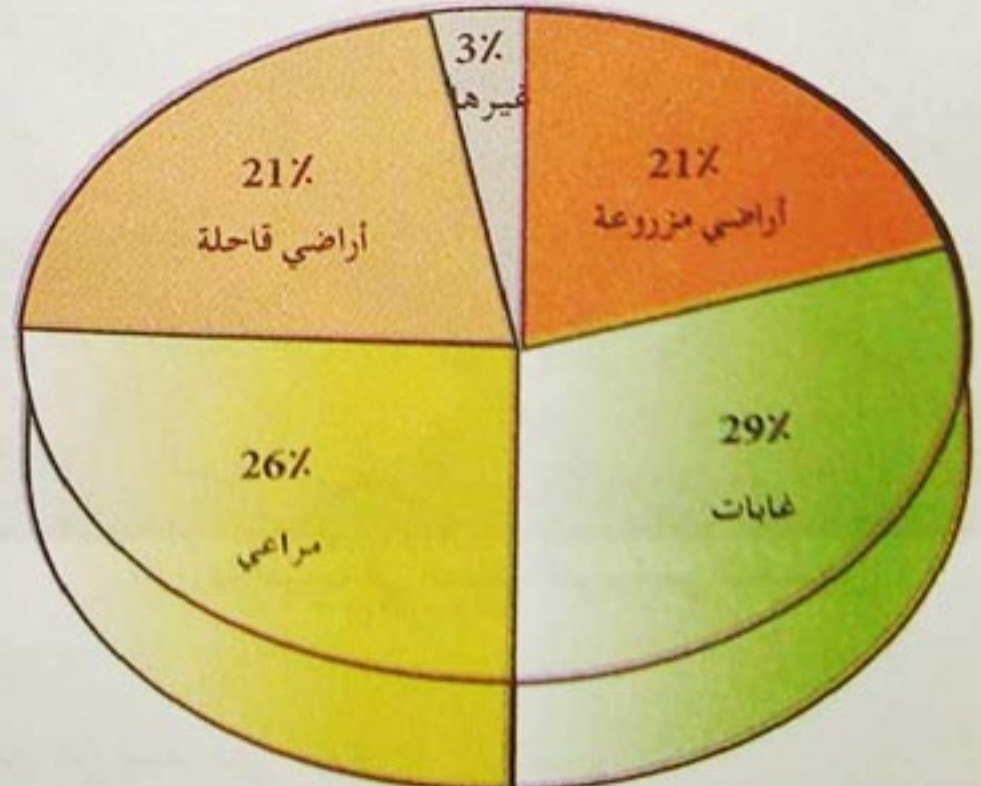
### 1- الزراعة



المصدر الجغرافيا. عالم اليوم هاشيت التربة 1999 - 2000




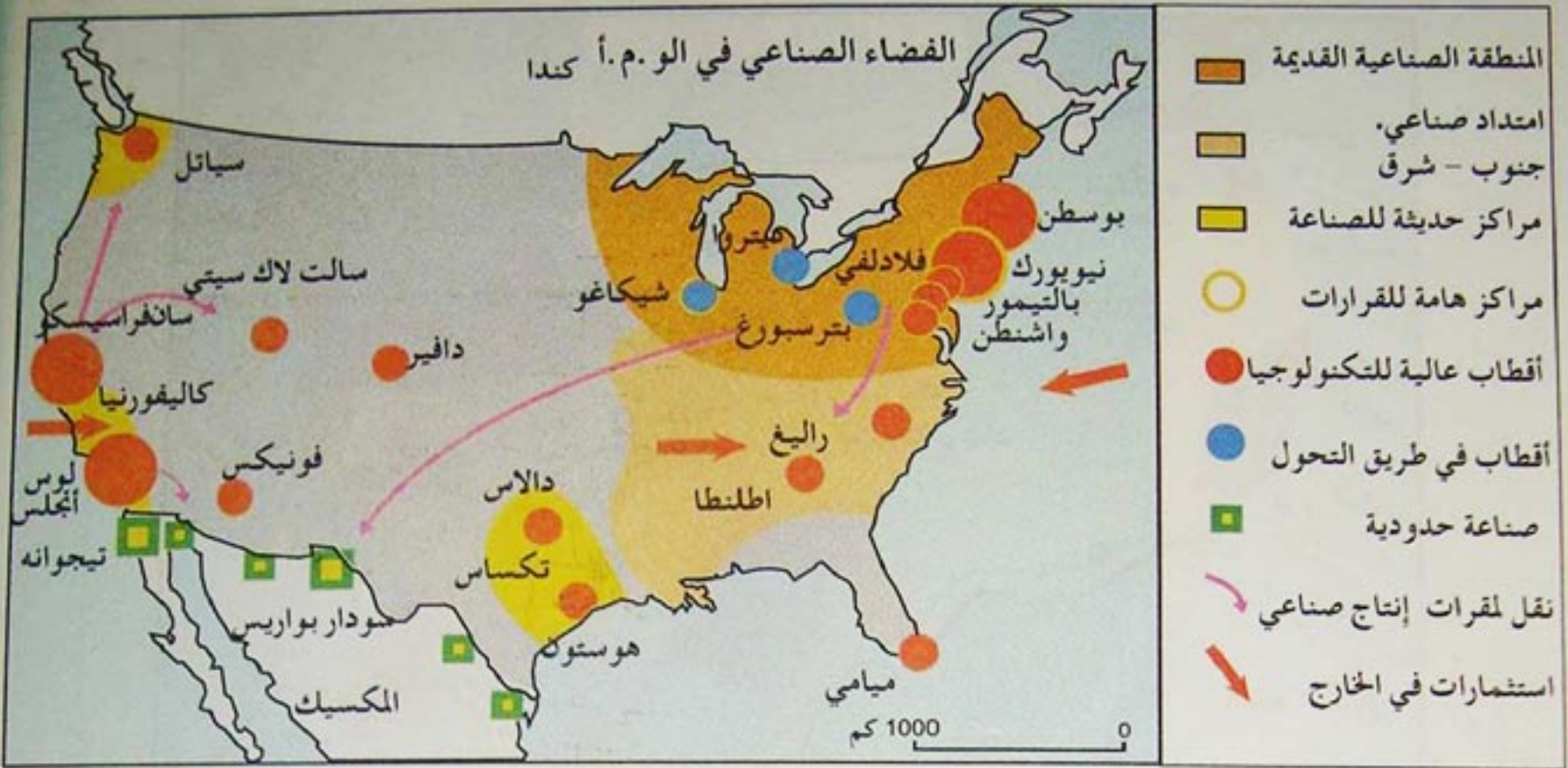
تربية الماشية في الو.م.أ.



الولايات المتحدة الأمريكية تمتلك أكبر مساحة للأراضي القابلة للزراعة في العالم، وهي ذات إنتاج ضخم كثيرا ما تستخدمه كسلاح أخضر



## 2- الصناعة



مدينة سياتل الصناعية

مست الأزمة الصناعية في الـو.م.أ. قطاعات صناعة الصلب والحديد وصناعة النسيج والسيارات وقد عرفت في المدة الأخيرة إعادة الهيكلة، فتم حذف 200 000 منصب عمل، لتعود صناعة السيارات إلى مراتبها الأولى عام 1995، في حين تشهد صناعة الإعلام الآلي والكيمياء والصناعات الغذائية توسعا كبيرين، وهي محتكرة من طرف الشركات الكبرى.

( تنتج بوينج Boeing ثلثي الطائرات المدنية والتجارية في العالم و تنتج IBM 70% من أجهزة الإعلام الآلي في العالم )

تاريخ وجغرافيا للأقسام النهائية ناتان

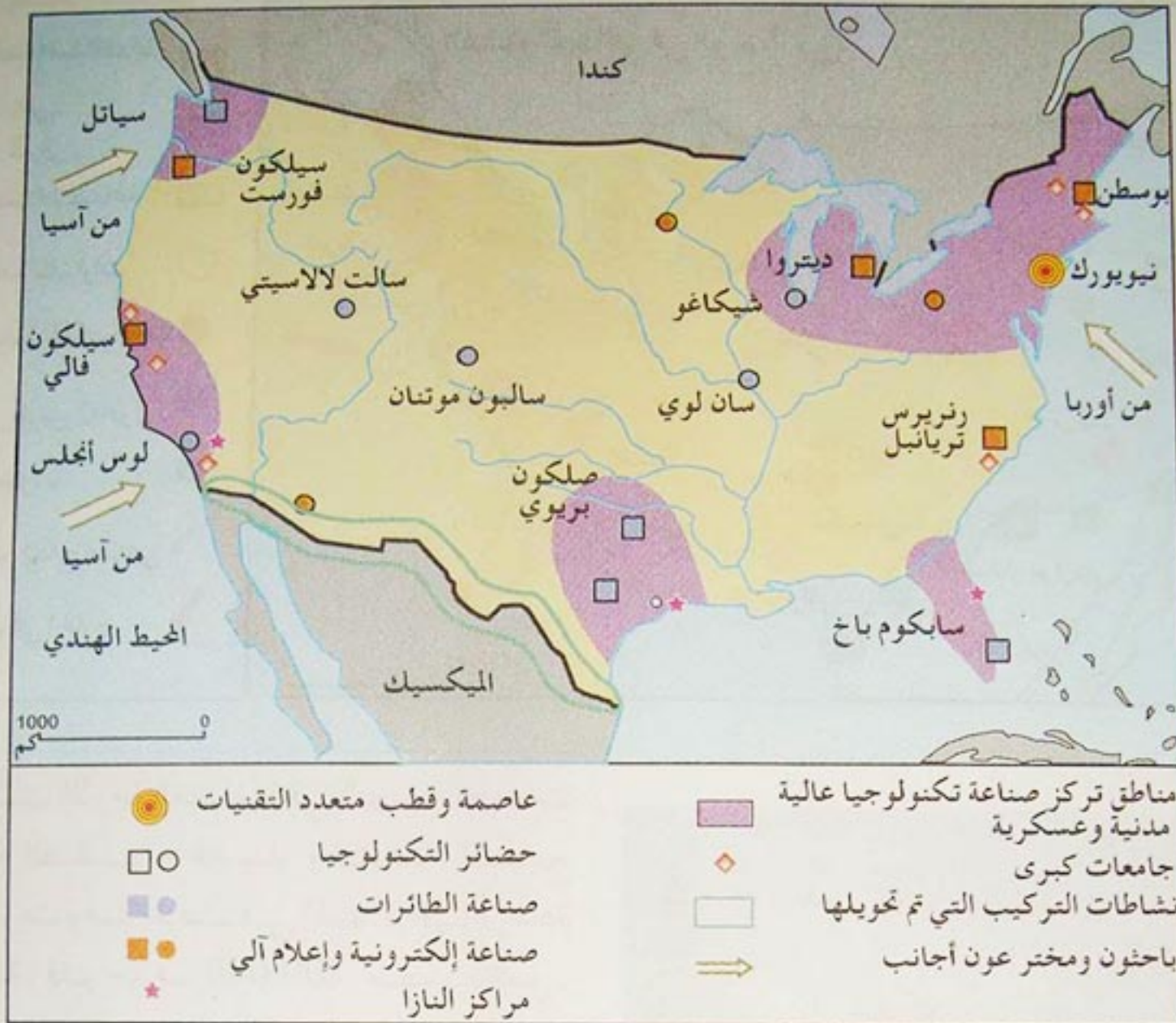
مدينة سياتل أكثر من 2 مليون نسمة، هي رمز القوة الاقتصادية العالمية في ميادين التكنولوجيا فهي مقر أكبر شركة لصناعة الطائرات في العالم (BOEING) وميكوسوفت وغيرها.

يعتبر قطاع الخدمات أكبر قطاع في اقتصاد الـو.م.أ. حيث يحتل 76% من الفئات النشيطة، وتشكل الحركية الإقليمية عامل جذب لعمال قطاع الخدمات الذين يقيمون في مقرات المؤسسات الاقتصادية داخل المدن الكبرى. جغرافيا - بكالوريا. ناتان

### النشاط

- اعتمادا على السندات المعطاة اكتب صفحة على الأقل تبين فيها مساهمة الزراعة والصناعة في قوة اقتصاد الـو.م.أ. ؟





ويستفالي مدينة العلم والعلماء والبحث العلمي

### وسائل الإعلام الجديدة

نجد في نيويورك وعلى بعد أمتار من وول ستريت والبورصة، نشاطا حثيثا مبعثه صناعة الانترنت . وفي السهل الغربي في " Silicon valley " يتم صنع أجهزة الإعلام الآلي اللازمة لوكالة النقل على حد قول صاحب المؤسسة ( أنترنت ) وقد تم تأسيسها سنة 1995 برأسمال لا يتعدى 80 دولارا من طرف شخصين وجهازين للإعلام الآلي . يبلغ رأسمالها الآن 18 مليون دولار وتأخذ على عاتقها مجمل اتصالات الانترنت لمؤسسة مثل " بريتيش إيرلاينس " الخطوط الجوية البريطانية .

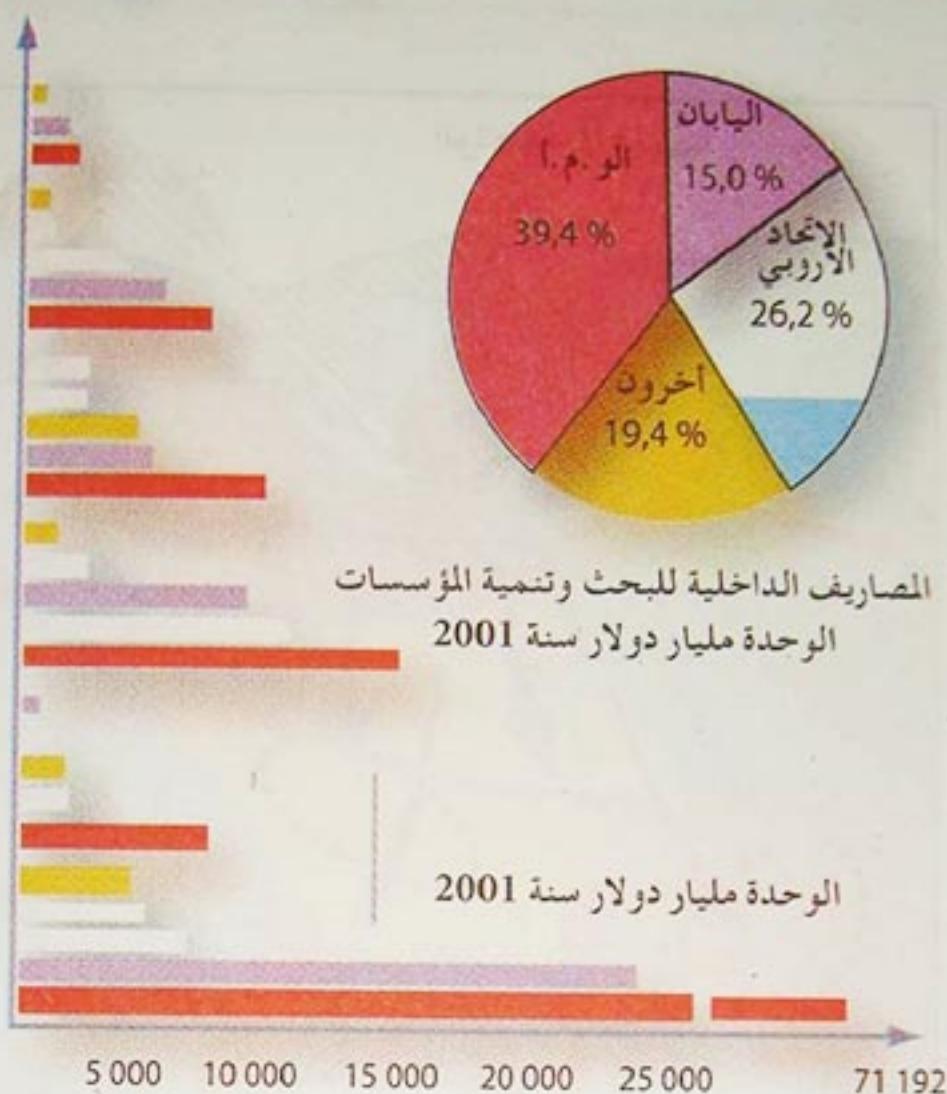
تعتبر نيويورك مركز إشعاع ثقافي وقطب من أقطاب النشر والإشهار والأعمال. تتوفر فيها كل الشروط اللازمة لتطور المؤسسات الجديدة للإعلام. وقد ارتفع عددها في مانهاتن من 1751 الى 1282 مؤسسة خلال السداسي الأخير .  
س. كوفمان . العالم . 26 . 12 . 1997.



## البحث العلمي كرهان أساسي

الو.م.أ. ■ اليابان ■ بريطانيا ■ فرنسا ■ ألمانيا

انتاج غذائي مشروبات وتبغ  
انتاج كيميائي خارج مواد الصيدلة  
مواد صيدلة  
صناعة السيارات  
صناعة الطائرات  
وسائل الاتصال والاعلام الآلي



### الثورة الصناعية الثالثة

تعتبر التكنولوجيات الجديدة من أولى الصناعات في الو.م.أ. إذ نجد 10/1 عاملا يشتغل في القطاع الالكتروني أو الاعلام الآلي أو الاتصالات اللاسلكية أو البيوتكنولوجيا ومن جملة 4.5 مليون منصب شغل التي توفرها التكنولوجيات العالية نجد 50% منها في قطاع الخدمات. وتعتبر وسائل الاتصال حجر الزاوية وأساس الثورة التكنولوجيا بالو.م.أ.

تاريخ وجغرافيا  
Hachette éducation

### النشاط

– اعتمادا على ما تستخلصه من مختلف السندات المعطاة بين مدى مساهمة البحث العلمي في التقدم التكنولوجي للو.م.أ. وعلاقة ذلك بالإقتصاد العالمي.

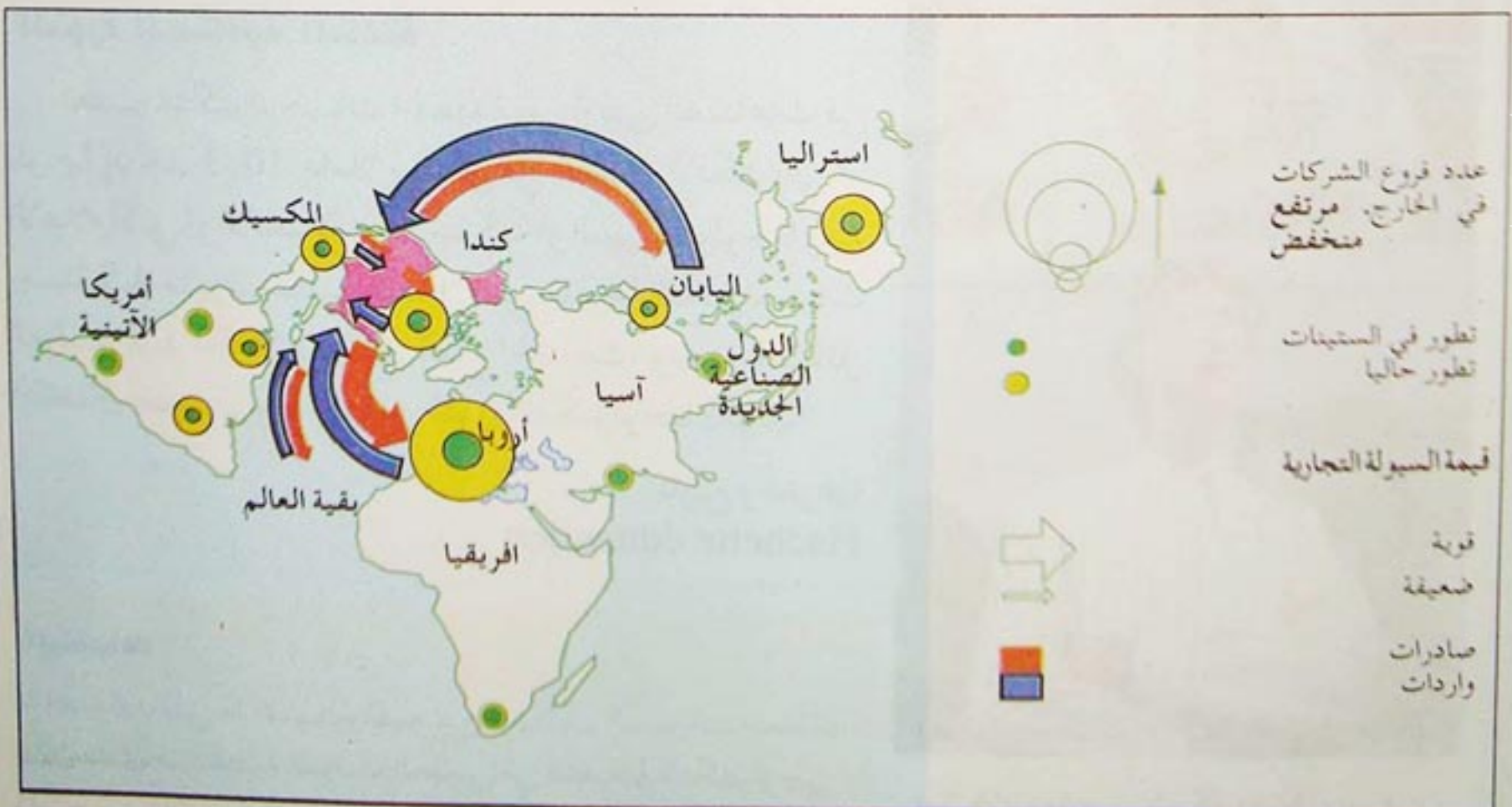
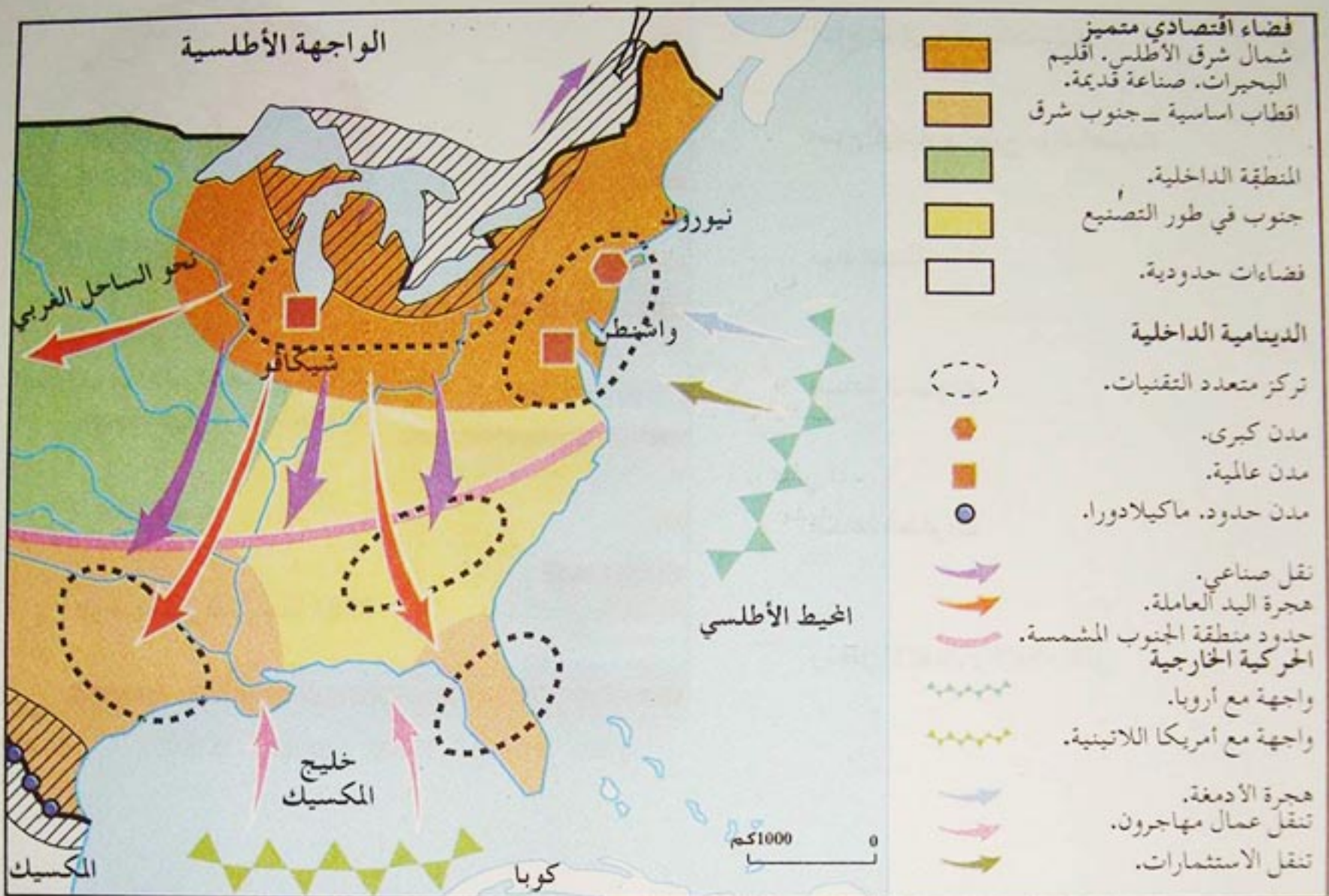


بيل غات مؤسس شركة «ميكروسوفت»



### 3- أهمية الواجهة الأطلسية بالنسبة للولايات المتحدة الأمريكية

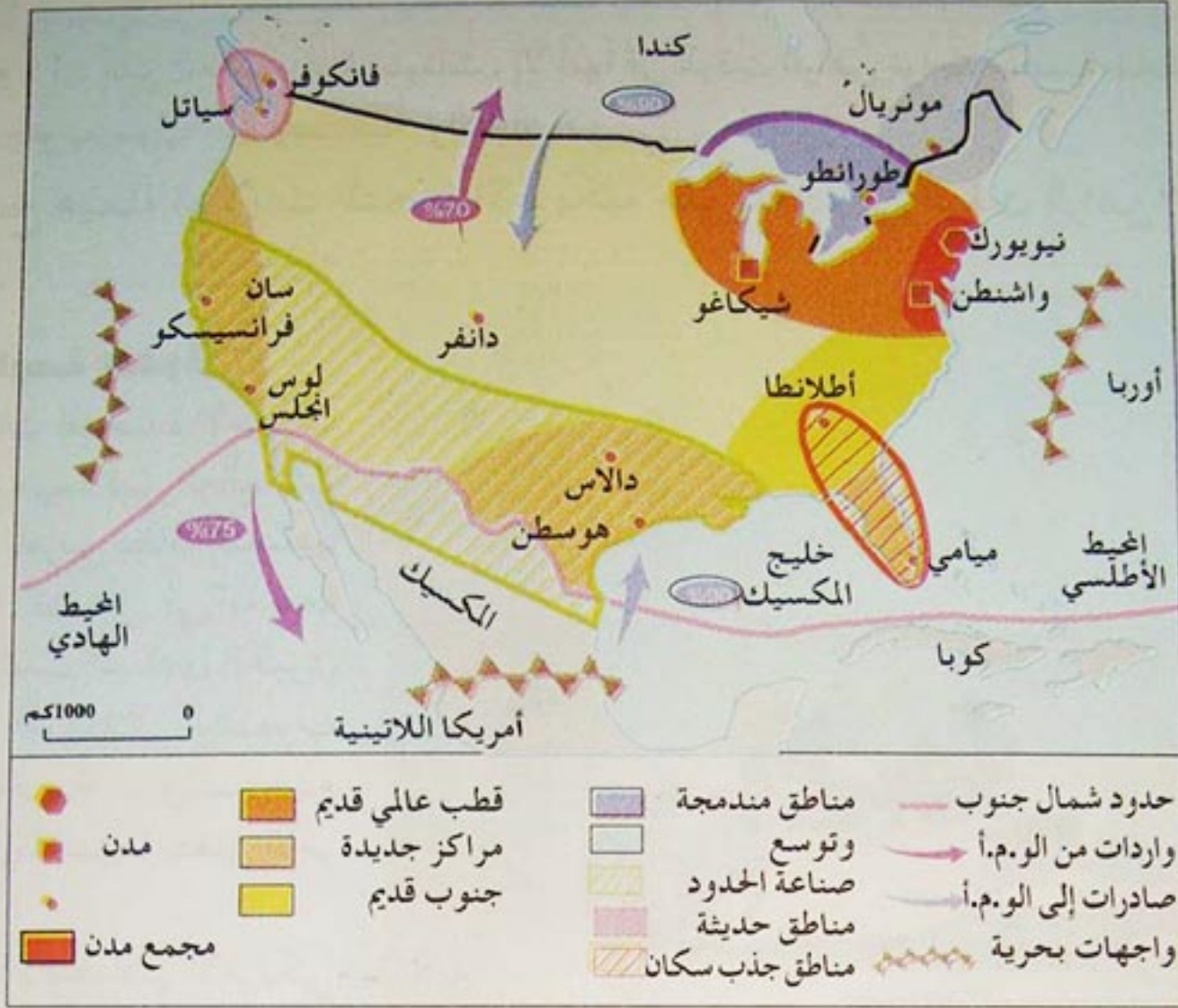
تمتد الواجهة الأطلسية على طول ساحل شرق الو.م. أ. تمتاز بتركز السكان والنشاط الاقتصادي.  
- ما أهمية تلك الواجهة وما علاقتها بالفضاءات الاقتصادية القريبة والبعيدة؟



الشركات المتعددة الجنسيات والتجارة العالمية



## الاندماج الإقليمي في أمريكا الشمالية



هناك انخراط متزايد لكل من كندا والمكسيك في الإقتصاد الأمريكي وذلك من خلال تمكين الشركات المتعددة الجنسيات من حرية تنظيم نشاطاتها في إقليم الشمال الأمريكي . وبذلك تكون مجموعة التبادل الحر لأمريكا الشمالية قد ساهمت في وضع نظام إنتاجي إقليمي متكامل كتركيب السيارات في كندا على سبيل المثال .

### دول مجموعة التبادل الحر لأمريكا الشمالية ALENA في أرقام

البلد	كندا	الو.م.أ.	المكسيك
السكان . مليون نسمة	2,31	291	101,9
الزيادة الطبيعية للسكان سنويا 1995-2000 / %	0,8	1,0	1,5
وفيات الاطفال . بالالف	5,3	6,7	28,2
مؤشر التنمية البشرية	0,937	0,937	0,800
الدخل الوطني الخام ساكن	27 130	34 320	8 430
نسبة التضخم	2,0	1,6	5,0
نسبة التعليم	اكثر من 90	اكثر من 80	اقل من 20
نسبة الواردات من الو.م.أ.	10,3	18,1	8,5
نسبة الصادرات الى الو.م.أ.	4,6	21,1	3,4

Sources : L'Etat du Monde, la découverte 2004

**النشاط :** - ماذا تستخلص من كل سند على حدة .

- أجب في صفحة على الأقل على الإشكالية المطروحة .



#### 4- الولايات المتحدة الأمريكية في العالم

تهيمن الو.م.أ. على العالم منذ الستينات، إلا أنها في الوقت الراهن تواجه منافسة حادة من طرف اليابان ودول جنوب شرق آسيا الصناعية والاتحاد الأوربي .  
- فيما تتضح هيمنة الولايات المتحدة الأمريكية على العالم في الوقت الراهن؟



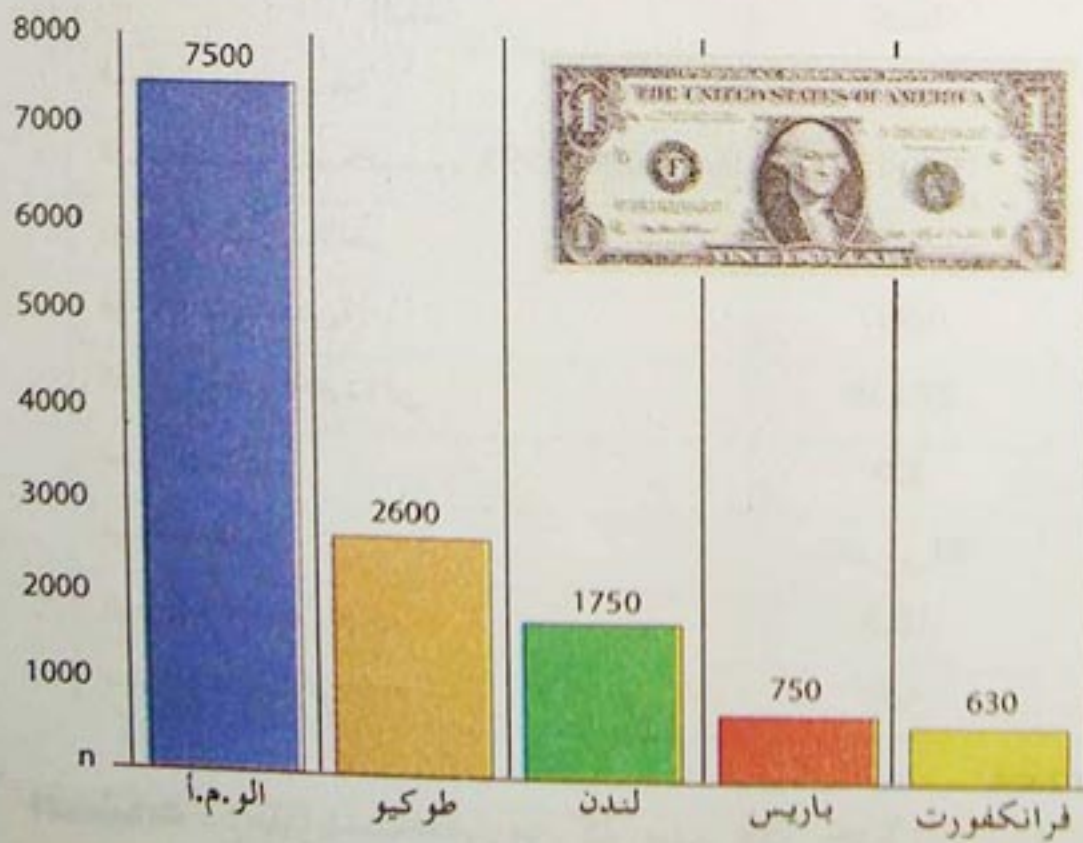
تدخل الجيش الأمريكي في حرب الخليج 1991

#### ممارسة القوة

... الولايات المتحدة الأمريكية هي الدولة الوحيدة في العالم التي تستطيع ان تفرض نظاما اقتصاديا عالميا جديدا. تتدخل في أية بقعة من العالم باسم المبادئ الكبرى كالحق في استقلال الشعوب والحق في الحرية . وتستخدم القوة العسكرية عندما يتعلق الأمر بمصالحها .

يقوم النظام الاقتصادي الأمريكي على حرية وعولمة المبادلات التجارية . وتدعيم الشركات المتعددة الجنسيات ورأسمالية الو.م.أ. ....

تاريخ وجغرافيا  
هاشيت التربوية



رأس المال البورصة (الوحدة مليار دولار)

#### حدود قوة الو.م.أ.

- يشكو اقتصاد الو.م.أ. من عجز القوة المالية والاستدانة اللتان تؤثران سلبا على الدولار وتشكل الديون 20% من ميزانيتها العامة، إلى جانب :

- عجز الميزان التجاري بشكل مستمر بسبب تزايد الواردات .  
- حدوث أزمات كثيرة في المجتمع الأمريكي، كازمة الهوية وأزمة الفقر والطبقية والبيئة والنظام التربوي .  
- هناك عديد من الدول التي تنافس الولايات المتحدة الأمريكية وتقلل من قوتها وهيمنتها مثل اليابان ودول شرق آسيا الصناعية والاتحاد الأوربي .



Welcome!  
200,000,000th Guest



تحتفل ديسني لاند بالزبون الـ 200 مليون 1997

تصدّر الولايات المتحدة الأمريكية نموذج ثقافتها و نمط حياتها إلى مختلف بقاع العالم وفي مقدمتها الثقافة والعادات الاستهلاكية التي تعتبرها أساس النجاح المادي وسعادة الفرد، وتعبّر على ذلك بمختلف الشعارات وفي مختلف المناسبات كما يتأكد ذلك من خلال ضخامة الدعاية والإشهار عبر وسائل الإعلام بشكل دائم .

تاريخ وجغرافيا  
هاشيت تربوي

« كوكا كولا » شركة من الشركات المتعددة الجنسيات



### كوكا كولا والحلم الأمريكي

يسود مشروب كوكا كولا كل القطاعات ومراكز النشاط. وتهتم الشركة الأم بعالم الشغل والمدينة والرياضة. وقد أصبحت أول ممول للالعاب الأولمبية والكأس العالمية لكرة القدم.

تاريخ جغرافية نهائي تقني ناتان



### النشاط

– اعتمادا على ما تستخلصه من السندات المعطاة بين في صفحة على الأقل مظاهر هيمنة الو.م.أ على العالم .



# الاتحاد الأوروبي

## الإشكالية

يتميز إقليم أوروبا بتعدد المراكز ، وقد أدى اتساع رقعة الاتحاد الأوروبي تدريجيا ، الى نمو وتطور تلك المراكز بشكل أكبر ، كمناطق حيوية إلى جانب مناطق أخرى ضعيفة.

- فيم يتضح ذلك ؟



ما فتىء الإتحاد الأوروبي يبني فضاء للسلام والرفاهية في أوروبا، ويعتبر قوة جيوسياسية واقتصادية وأحد أقطاب الثالوث العالمي ومركز من مراكز القرار في العالم.



جسر البيلوبونيز / اليونان . 2.7 كيلومتر



علم وعملة الإتحاد الأوروبي



رغم الانقسام والانهييار الذي أصابها أثناء الحرب العالمية الثانية، تمكنت أوروبا من استعادة قوتها ووحدها، بداية بتأسيس سوق مشتركة تضم 6 دول أعضاء سنة 1957 وصولاً الى اتحاد أوروبي يضم 25 دولة سنة 2004.

قد أدى انضمام أعضاء آخرين إلى الاتحاد والنمو الإقتصادي المتزايد بسبب توحيد السوق الأوروبية إلى مضاعفة الوزن الاقتصادي للمجموعة في ظرف 40 سنة.

يتبنى الاتحاد الأوروبي في الوقت الراهن مشروعاً طموحاً للاندماج الاقتصادي والسياسي ويواصل مواجهة تحديات جديدة.

جغرافية نهائي فضاء العالم ناتان



المصدر ماجيني 2004

توسع الاتحاد الأوروبي

مؤشر التنمية البشرية ( للمقارنة ) :

- ألمانيا : 0,925
- سلوفينيا : 0,895
- بلغاريا : 0,796

الاتحاد الأوروبي في أرقام :

- السكان : 455 م/ن
- الناتج الداخلي الخام / مليار دولار : 9687
- الدخل الوطني الخام حسب الفرد 21 431 دولار



## الاتحاد الأوروبي فضاء جيوسياسي واقتصادي في طور البناء.

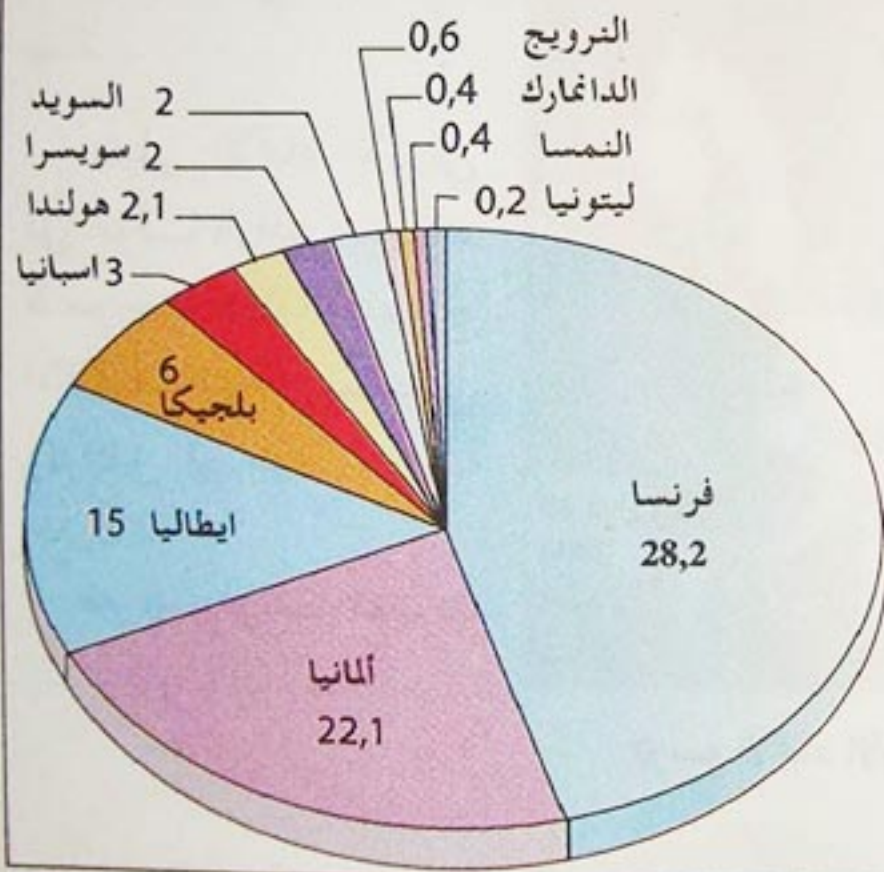


إطلاق الصاروخ أريان

تأسست المجموعة الاقتصادية الأوروبية في 25 مارس 1957 من طرف ست دول، وكانت إرادتها السياسية المشتركة قوية ترمي إلى بناء فضاء للسلم ورفاهية أوروبا، وتهدف السياسات المشتركة لها إلى تقارب الأفراد والمجتمعات والتقليص من الفوارق الإقليمية بشكل تدريجي .

توسعت المجموعة وتطورت منذ 40 سنة لتشكل ما سمي بالاتحاد الأوروبي الذي ضم 15 دولة 1995 و 25 دولة بداية من 2004 و 27 دولة بانضمام بلغاريا ورومانيا بتاريخ 2007/01/01. يبدو الاتحاد في غياب المعسكر الشيوعي كعامل وحدة أوروبا وقطب جذب أساسي وهام .  
تاريخ وجغرافيا .  
هاشيت التربة

### الدول ونسبة المشاركة في انجاز اريان 5



### الدول المشكلة للاتحاد الأوروبي

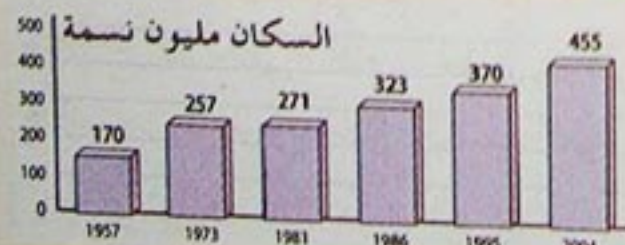
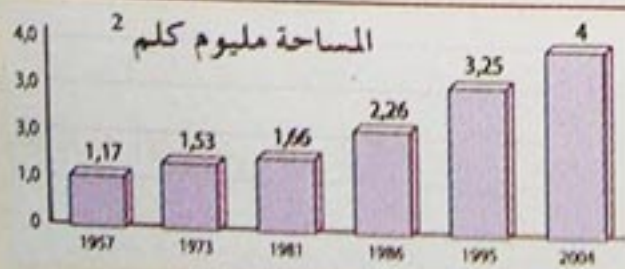
سيشهد انتقال الاتحاد الأوروبي من 15 إلى 25 دولة عضوا، انعكاسات كبيرة على سيره . اذ يرتفع عدد السكان من 370 مليون نسمة إلى 455 مليون نسمة عام 2004 ، أي بزيادة 20% وهو أقل نسبيا مقارنة بالتوسع الذي حصل ابتداء من عام 1973 إلى كل من المملكة المتحدة البريطانية وإيرلندا والدانمارك، والذي يشابه الوضع الحاصل عند توسع الاتحاد إلى كل من اليونان وإسبانيا والبرتغال .

كما أن الزيادة في عدد الدول وتواجد دول كبرى جنبا إلى جنب مع الدول الصغرى يشكل أساسا إحدى المعوقات فيما يخص توسع الاتحاد وسيرورة التفاوض .

( 27 دولة وأكثر من 20 لغة )

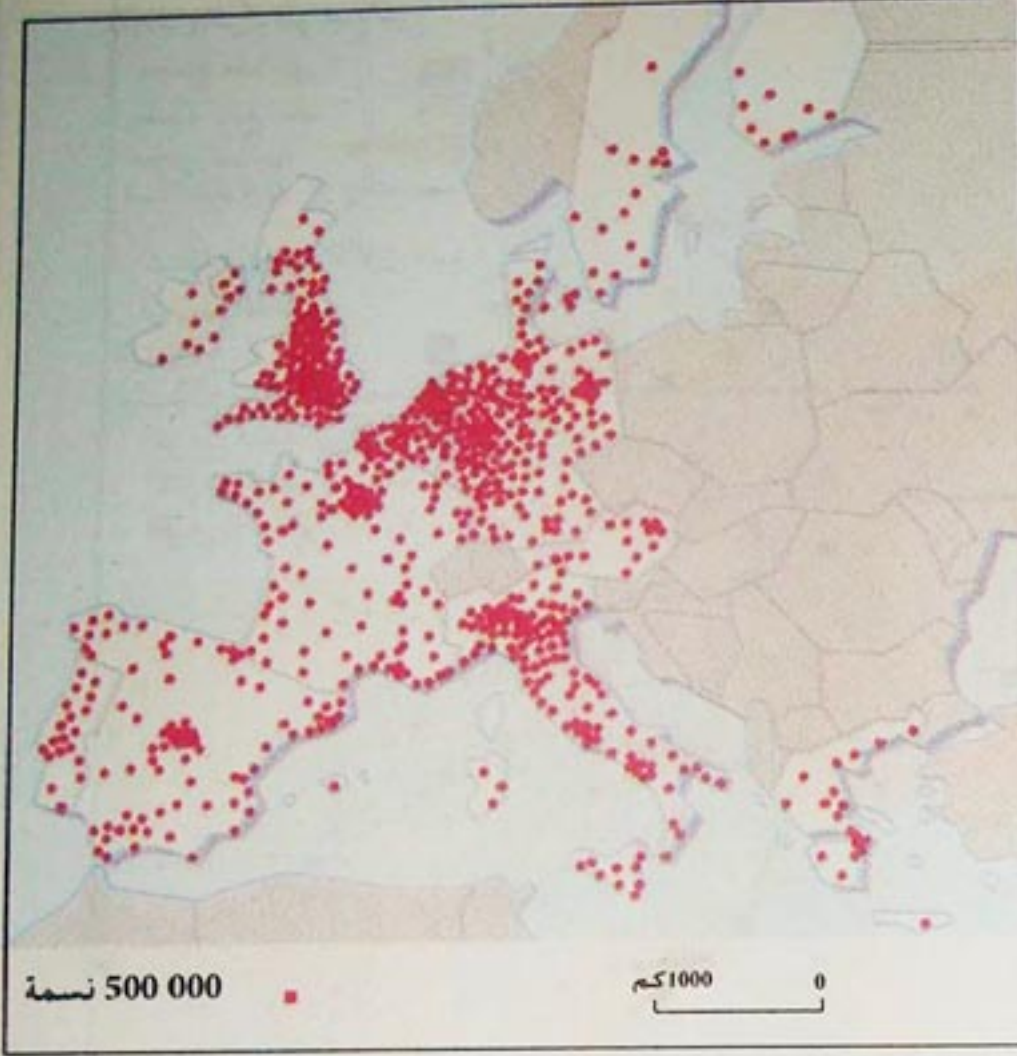
رسميس 2004

Ifri Dunot الاتجاهات الكبرى في العالم





## توزيع السكان في أوروبا



يضمّ الاتحاد الأوروبي الذي عرف امتداداه من الدائرة القطبية الشمالية الى البحر الابيض المتوسط 455 مليون نسمة في مساحة تقدر ب 3 مليون كم<sup>2</sup>. وقد توحدت فيه 25 دولة لتشكّل فضاء اقتصاديا مقبلا على الاندماج وفق شروط أولها الإنتماء إلى القارة الأوروبية، التسيير بواسطة مؤسسات ديموقراطية للوصول إلى مستوى نمو اقتصادي ملائم.

يشهد الفضاء الجغرافي للاتحاد الأوروبي صعوبات قد تعيق الاندماج المرتقب، ويتمثل ذلك في الأزمات الحادة في بعض البلدان. وهو أمر يتطلب الإختيار بين أوروبا موحدة، منسجمة، قوية لمواجهة المنافسين أو أوروبا مفككة تعاني من فوارق إقتصادية واجتماعية.

تاريخ وجغرافيا بكالوريا / بولان



جسر بيلوبونيز / اليونان . 2,8 كيلومتر



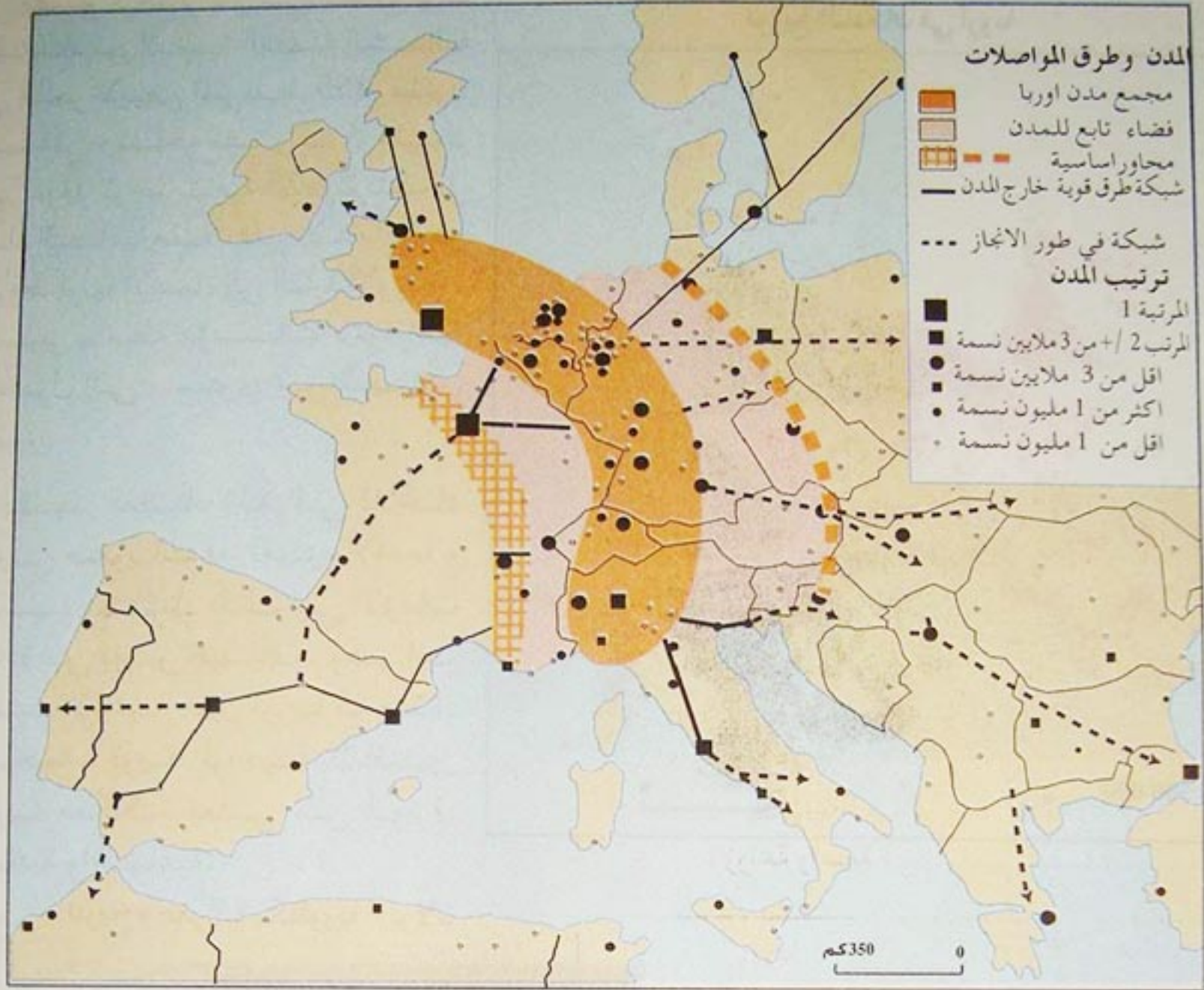
أورو ستار TGV ، يربط بين باريس و لندن

## النشاط

- رتب الملاحظات التي تستخلصها من مختلف السندات .
- أكتب صفحة على الأقل تشرح فيها أهم التحديات التي تواجه توسع الاتحاد الأوروبي .



# 1- التنمية الإقليمية في أوروبا



مدينة فرانكفورت



مدينة مدريد مركز حضري ثانوي في أوروبا

تجمع مدينة فرانكفورت بين العمران التقليدي والعمران الحديث / عمارات شاهقة توجد فيها مقرات مؤسسات وشركات وبنوك واقامات رجال الأعمال .



## تطور فضاء الريف الأوروبي



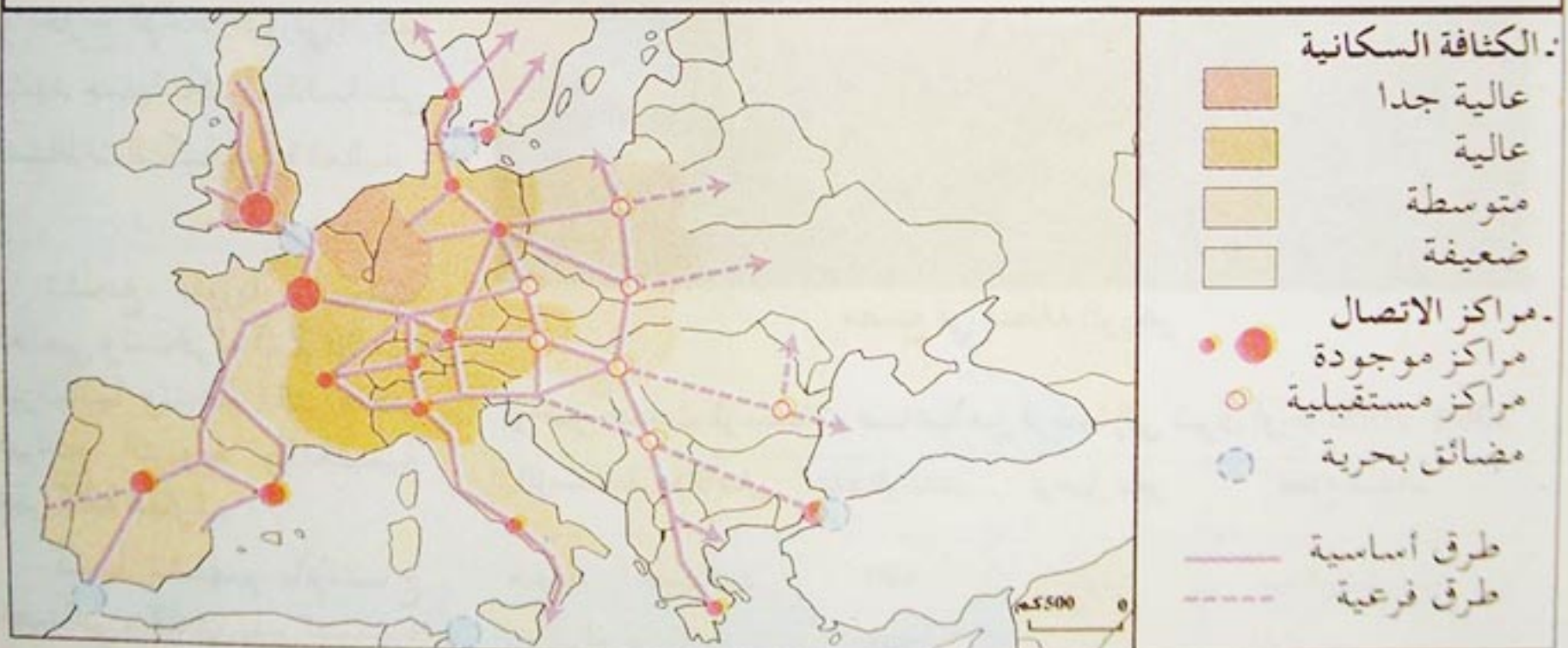
زراعة واسعة في الأراضي المنخفضة

يعتبر فضاء الإتحاد الأوروبي مجالا لتنقل الأفراد والبضائع في مختلف البلدان الاعضاء بكل حرية، مما يتطلب تسهيل استعمال فضاء الاقليم المشترك . لذا اعتبرت المحافظة الأوروبية العليا إنجاز 18 مشروعا كبنية تحتية، من أولوياتها، يتم تحقيقها بين سنتي 2010 و 2020 وهي :

- جسر ميسين بين صقلية وإيطاليا - شبكة طرق تربط أوروبا الغربية بأوروبا الشرقية - الخط السريع (القطار ذو السرعة الكبيرة) tgv في منطقة البرانس الإسبانية البرتغالية، وكذا إصلاح وتطوير شبكة الملاحة البحرية حول أوروبا .

ملف الأحداث / سبتمبر 2003

## كثافة شبكة الطرق البرية في أوروبا



## النشاط

- إستعن بخرائط أخرى مناسبة لاستقراء خريطتي ( ص 66 وص 67 )
- أكتب صفحة تبين فيها أهمية التهيئة الإقليمية بالنسبة للإتحاد الأوروبي الذي يشهد توسعا كبيرا .



الإشكالية :

ما طبيعة اقتصاد الإتحاد الأوربي ؟ وفيما تكمن مساهمته في الإقتصاد العالمي ؟

أ- الصناعة في الإتحاد الأوربي :

صناعة السيارات والصواريخ حاملات الأقمار الصناعية

نسبة % للإنتاج العالمي للسيارات سنة 2000



الو.م.أ 18



اليابان 21



الإتحاد الأوربي 36



بقية العالم 25

يرسل الإتحاد الأوربي في الفضاء أكثر من 50% من الأقمار الصناعية باستخدام أريان.



تعتبر أوروبا فقيرة من حيث الموارد الأولية والمعادن، وتحتل المرتبة الثانية عالميا من حيث استهلاك موارد الطاقة وتنتج 52% من حاجياتها.

هي القارة الأولى التي شهدت ميلاد ثورة صناعية في القرن 19، وتشهد حاليا عملية إعادة هيكلة بنقل وترحيل تلك الصناعات القديمة للحديد والصلب والنسيج إلى مناطق أخرى في أوروبا الشرقية أو خارج الإتحاد الأوربي، كما تشهد عملية تكييف قائمة على النشاطات التكنولوجية العالية.



مصنع في منطقة الروهر

ترحيل حديث لمؤسسات صناعية من فرنسا إلى شرق أوروبا 2000-2004

قطاع النشاط	ترحيل نحو	عدد الوظائف	المؤسسة مقرها الأصلي
صفائح إلكترونية	بولونيا	400	جيمبلوس / مصب الرون
أجهزة تلفزيون	هنغاريا	295	فيليبس / دور واورن
تجهيز وقطع السيارات	جمهورية التشيك	200	دورا / جيروند، كانيجان
ملابس داخلية	رومانيا	130	رولوجيشار / تولوز
أجهزة إلكترونية	جمهورية التشيك	115	ابكوس / جيروند
قطع غيار إلكترونية	رومانيا	200	سوليكترون / جيروند
أجهزة إلكترومنزلية	بولونيا	163	ميرلوني موزيل

تشجع أوروبا البحث العلمي وتسخر له 2,5% من ميزانياتها وتدعم أكثر فأكثر البرامج التربوية والتعليمية عبر كافة القارة.

كما تشتهر بالإنتاج الصناعي، الذي يتم تصديره إلى مختلف بقاع العالم. (حوالي 3/2 سيارات العالم) كما تشتهر «إيربوس» Airbus في صناعة الطائرات على المستوى العالمي.

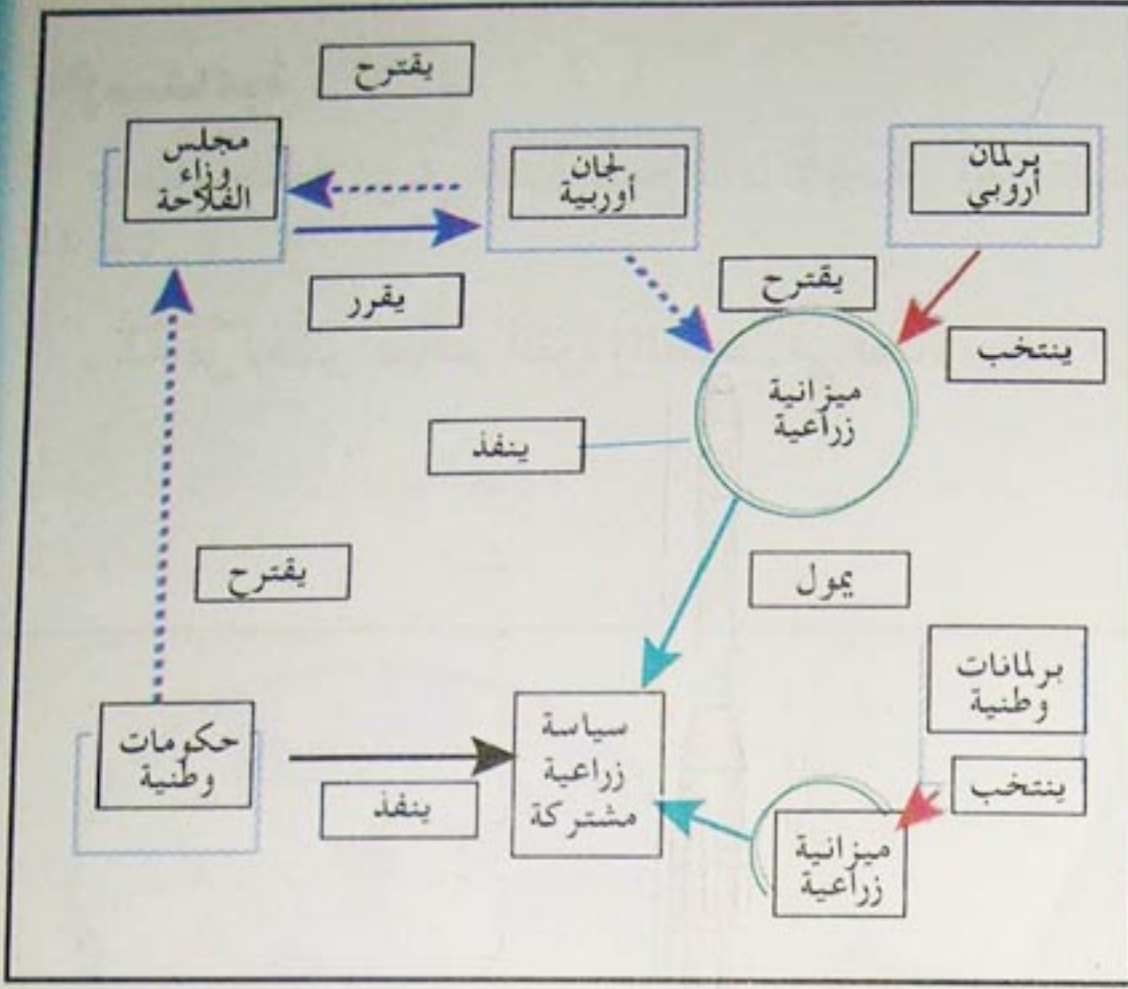
الجغرافيا . هاشيت التربوي




### السياسة الزراعية المشتركة للإتحاد الأوروبي

تفضل السياسة الزراعية المشتركة لأوروبا الزيادة في الإنتاج الزراعي مما مكن الدول الأوروبية من التحوّل إلى دول مصدرة هامة للإنتاج الزراعي الأولي أو المحول، غير أنها أصبحت محل انتقاد خارجي من طرف الدول المنافسة مثل الو.م.أ وانتقاد داخلي، بسبب ارتفاع كلفة تسيير الفائض. ويتم في الوقت الراهن تشجيع النوعية على حساب الكمية (إنشاء علامة تجارية مميّزة). كما يتم الاهتمام المتزايد بالبيئة .

الجغرافيا هاشيت التربوي



اتخاذ القرار . الصندوق الأوروبي للتوجيه والضمان الزراعي



مظاهرة ضد السياسة الأوروبية للزراعة في مارسيليا 1992

#### النشاط

- أدرس كلّ وثيقة على حدة .
- حدّد وشرح في صفحتين على الأقل مشاكل التحوّل الصناعي والزراعي في الإتحاد الأوروبي .



تربية الدواجن

#### تشابه الوضعيات

يعيش الفلاحون نفس الأوضاع بالنسبة للتنافس التجاري المتمثل في الاستدانة والاستثمار والإنتاج المتزايد وبأسعار منخفضة يوما بعد يوم . وقد تم حرق الأراضي المخصصة للرعي، لزراعة القمح والذرة دون الاهتمام بالتربة وتلوث المياه الجوفية . كما تم بناء إسطبلات بواسطة الحديد والاسمنت المسلح لتربية الأبقار والخنازير وأصبحت المداجن شبه محلات كبيرة مضاءة بالكهرباء ليل نهار من أجل إنتاج كميات هائلة من البيض واللحوم البيضاء .

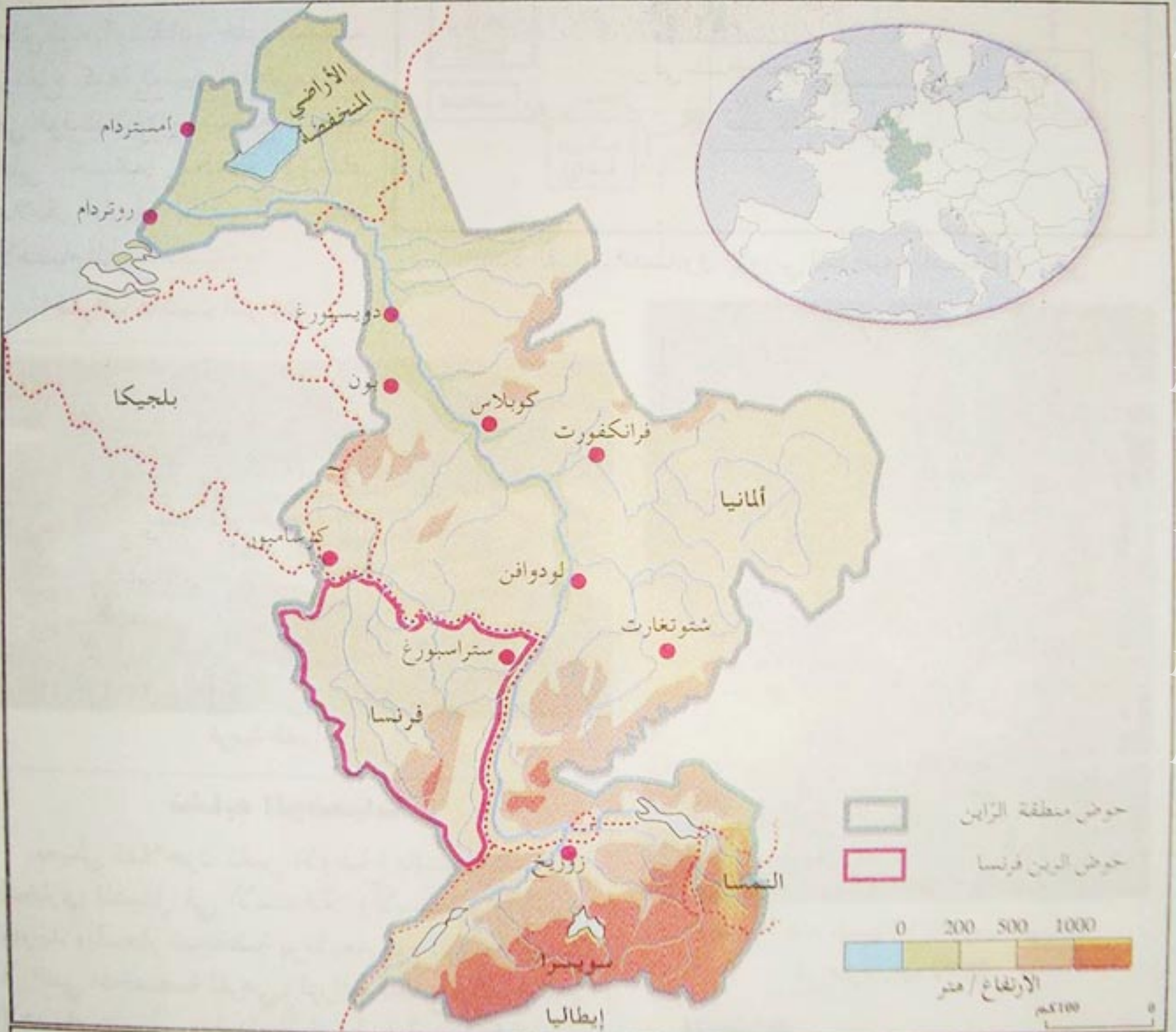
العالم 28 مارس 1996



الإشكالية :


توجد منطقة الراين في قلب مجمع المدن الأوروبية، وهي تشكل فضاء متطورا وحيويا بالنسبة للقارة .

- شخّص وفسّر عناصر القوة والضعف في فضاء منطقة الراين ؟



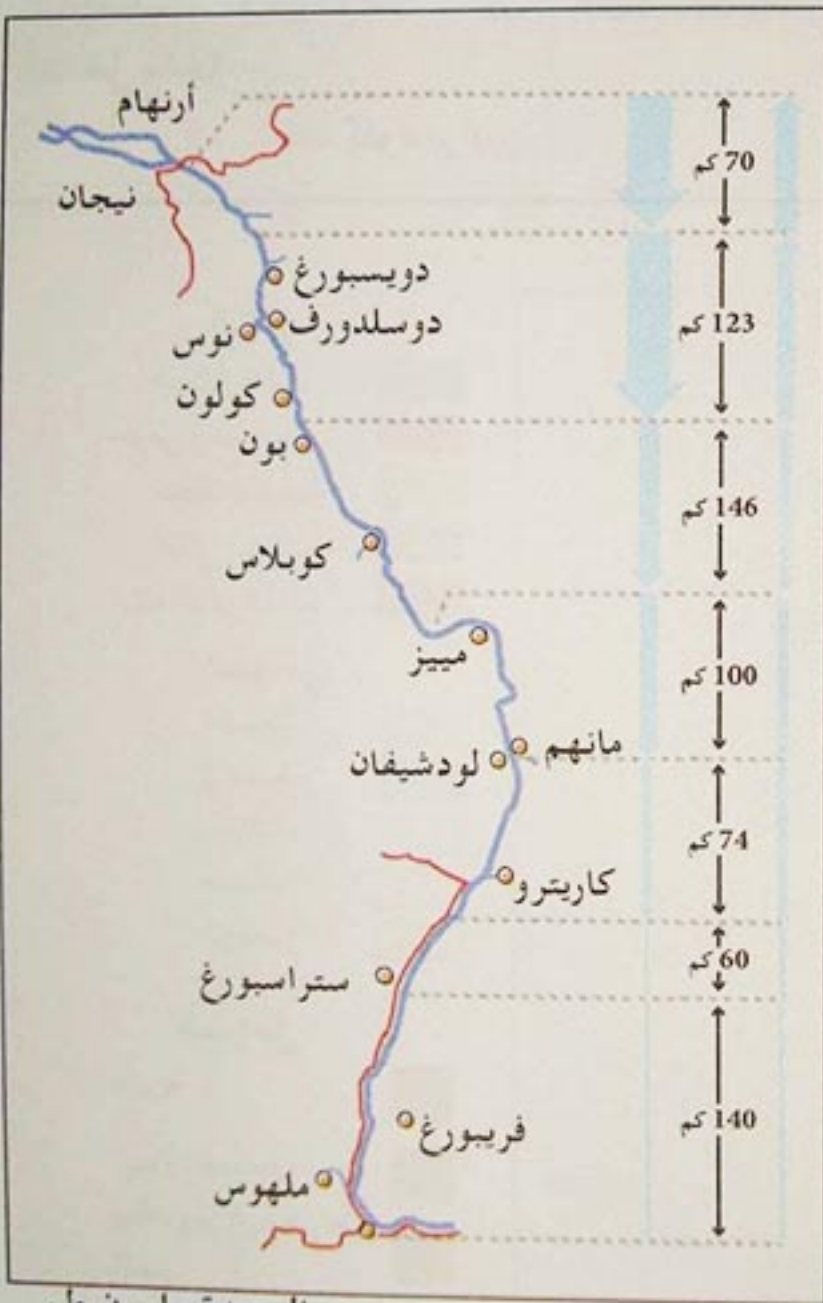
يبلغ طول منطقة الراين من جبال الألب إلى بحر الشمال 750 كلم على الخط المباشر





يفصل نهر الراين بين قسمين. يسمي الجغرافيون والعسكريون والملاك ذلك التقسيم بالحدود الطبيعية. يبني السكان الجسور للربط بين الضفتين، يتاجرون ويتبادلون الشتائم والفكاهات في لغة خاصة بهم .

الراين في شمال ستراسبورغ وكييل



كثافة الملاحة في نهر الراين 2002  
بين بال بسويسرا والأراضي المنخفضة على بحر الشمال

الوحدة مليون طن	37,5	18	5
-----------------	------	----	---

تعتبر منطقة الراين أكبر منطقة من حيث كثافة السكان والعمران والنشاط الاقتصادي في العالم، وقد كانت في الماضي منطقة تلاقي فضاء لغتين ومجموعتين سياسيتين متناحرتين مدة طويلة. أما الآن فقد أصبح - النهر - عامل تقارب وتعاون يؤدي دورا إدماجيا في قلب أوروبا .

فمهما كان التعارض على الحدود الإقليمية فإن منطقة الراين تعتبر إقليم مدن وحوض صناعي في طريق النمو الاقتصادي الكبير، يشبه إقليم البحيرات الكبرى في أمريكا الشمالية، من حيث ارتباطه بالملاحة النهرية. ويفسر ذلك من خلال عوامل طبيعية وتاريخية، تؤكد دور النهر كطريق رابط بين بلدان ومدن هامة. قد ساهم في تطور تلك المجموعة في جميع المجالات الاقتصادية والعلمية والفكرية .


جغرافية الفضاءات الكبرى  
كولان 1968 .

### النشاط

- من خلال السندات المعطاة، أكتب صفحة تبين فيها أهمية منطقة الراين الاقتصادية باعتبارها قلب أوروبا الحيوي .



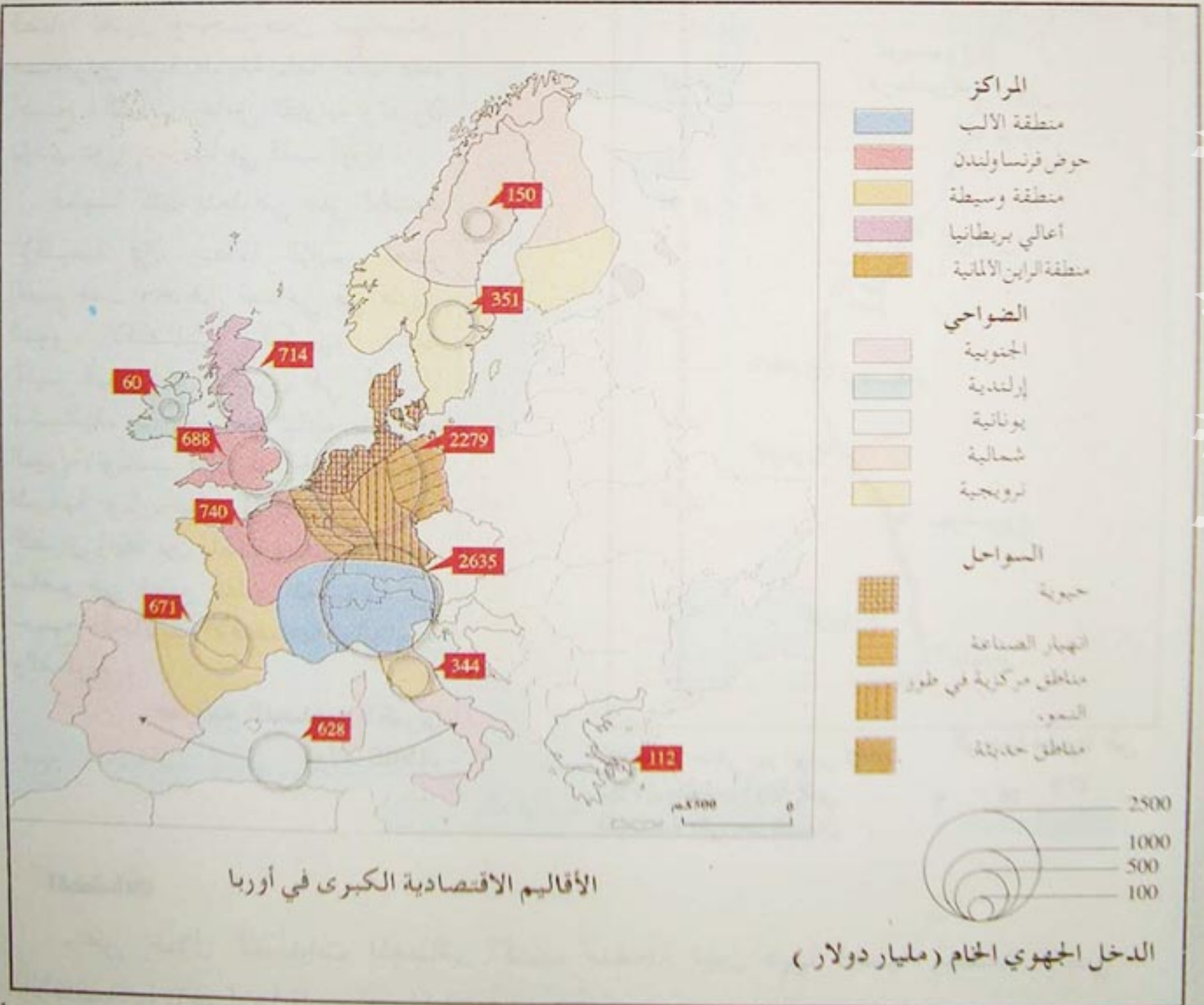
## ميناء روتردام



ميناء روتردام ليلا

يعود فتح ميناء روتردام على الفضاء الداخلي إلى الفترة ما بين 1870 و1914، حين تم إنجاز الأشغال وتسهيل عملية الملاحة على النهر. وذلك بفضل تصنيع منطقة الروهر، الذي تطلب نقل كميات هائلة من البضائع كالصالح والحديد. وقد تأكدت أولوية ميناء روتردام كأداة تجارة بحرية ومركز تحكم ومراقبة التدفقات والمبادلات بين الداخل والخارج.

جان كلود برايبير



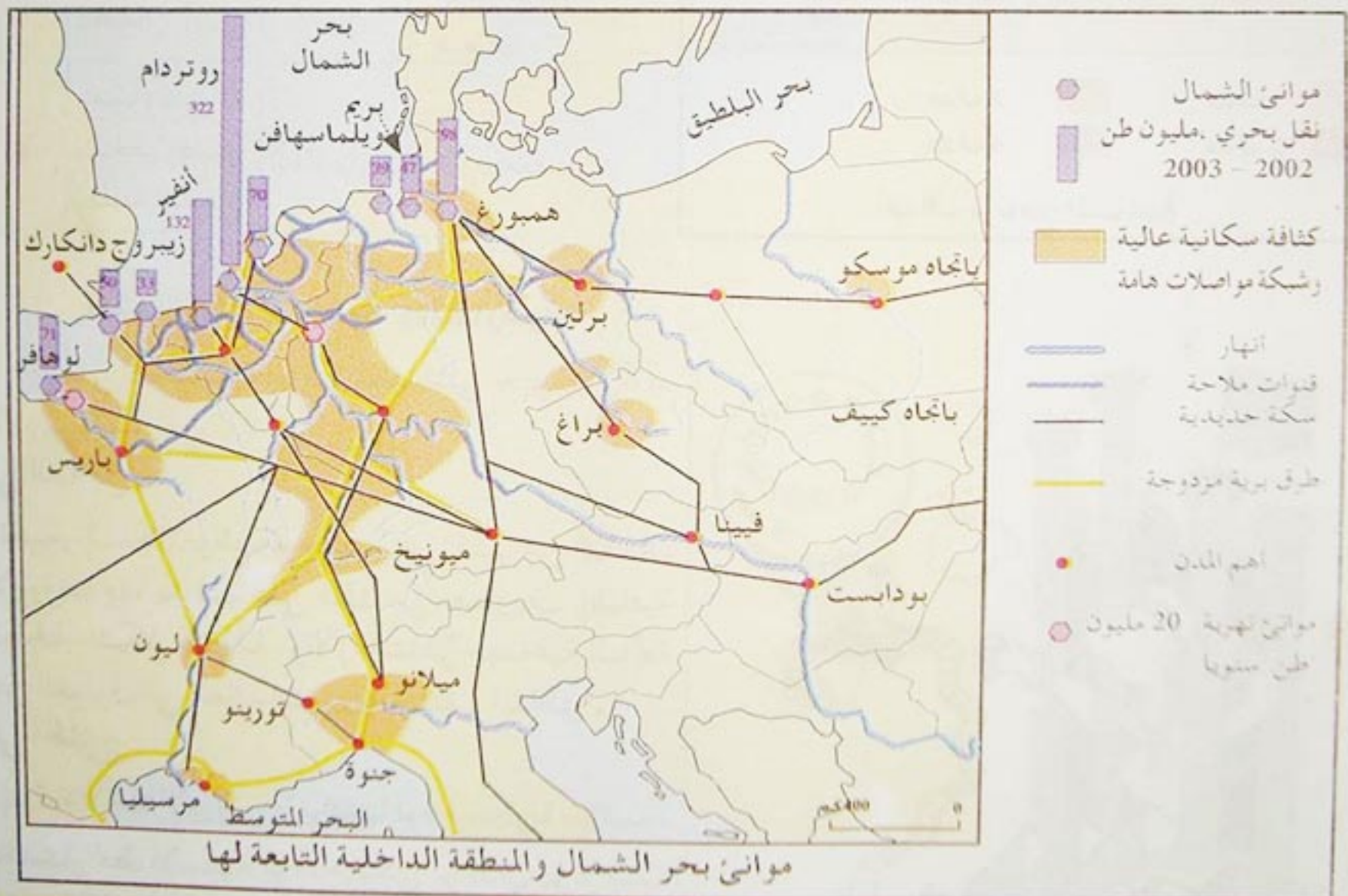


إن النقل بواسطة الحاويات هو النشاط المربح بالنسبة لأي ميناء، وليس عن طريق نقل كميات مواد أو سوائل لأن ذلك يحتاج إلى مزيد من المعالجة واليد العاملة وبالتالي ارتفاع التكلفة .

### النقل بوحدة PVE حاويات علو عشرين قدما

الموانئ	1999	2000	2001	2002	تطور %
روتردام	6.343	6.274	6.096	6.515	2.7+
هامبورغ	3.738	4.248	4.689	5.374	43.8+
انفير	3.614	4.082	4.218	4.777	32.2 +
بريم	2.201	2.737	2.915	2.999	36.2+
لوهافر	1.378	1.464	1.525	1.720	24.8+
ريبروج	0.850	0.965	0.876	0.959	12.8+

المصدر : الجغرافيا للاقسام النهائية لأكوست



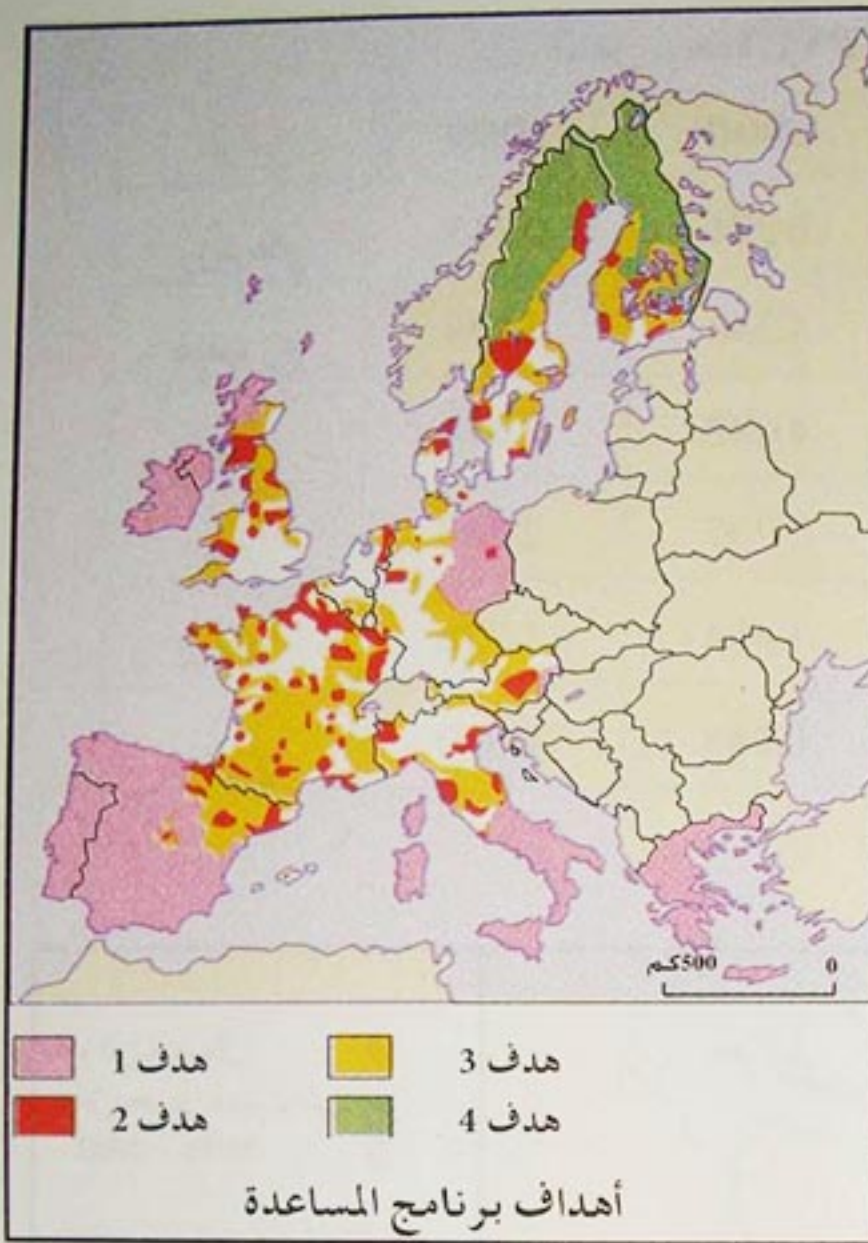
### النشاط

- رتب الملاحظات المستخلصة من كل سند على حدة .
- أكتب صفحة تبين فيها أهمية ميناء روتردام بالنسبة لمنطقة الراين في ألمانيا وبالنسبة للفضاء الإقتصادي في الإتحاد الأوربي .




## الإتحاد الأوروبي في أوروبا والعالم

بعض أهداف برنامج المساعدات في إطار  
السياسة الإقليمية للإتحاد الأوروبي



هدف	مهام	مساعدات مليار أوقية	معايير
1	مساعدات لمناطق متخلفة	96	الدخل الفردي الخام أقل من 75 % من المعدل الوطني
2	مساعدات لمناطق تضرر صناعي	15,3	بطالة مرتفعة يد عاملة صناعية كبيرة
3	مساعدات لمناطق ريفية هشة	6,3	يد عاملة زراعية كبيرة كثافة سكانية ضعيفة
4	مساعدات لمناطق قطبية قليلة السكان	712 مليون	بدون معطيات



الفوارق الجهوية في أوروبا

### التحديات الداخلية والخارجية

تتمثل التحديات المؤثرة سلبيًا على حيوية الإتحاد  
الأوروبي فيما يلي :  
في الداخل :

- تقهقر السكان وشيخوختهم في كثير من البلدان  
الأوروبية وما يترتب على ذلك من مصاريف إضافية  
لمعالجة مشكل البطالة والأزمات الإجتماعية الناتجة  
عن الفوارق في العائدات بين مختلف المناطق .

في الخارج :

- إن قوة الإتحاد الأوروبي لا ترافقها قوة عسكرية ملائمة .  
- انتشار نمط الاستهلاك الأمريكي والذي يؤثر سلبيًا  
على التقاليد الأوروبية .  
- عدم استقلالية السياسة الخارجية بالنسبة للإتحاد .

عالم اليوم جغرافيا  
هاشيت التربوي

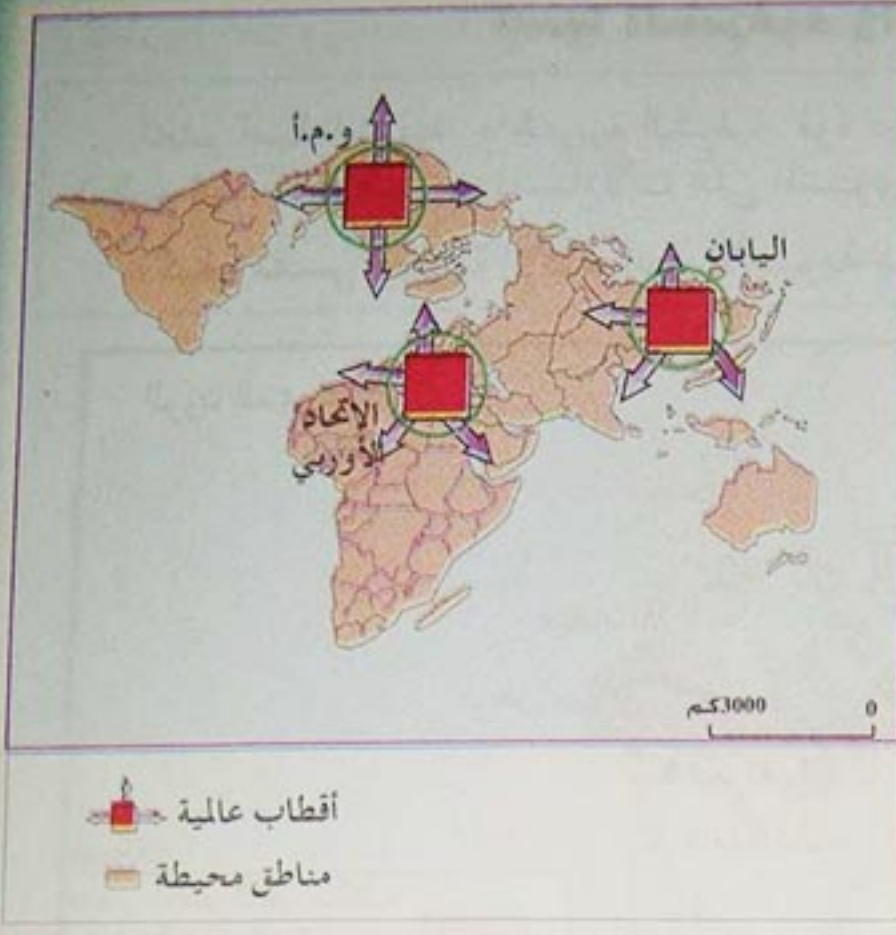


## اتفاقيات لومي

تأتي اتفاقية لومي الرابعة بعد ثلاث اتفاقيات متتالية 1975، 1980، 1985، وهي اتفاقيات تهدف إلى تحديد النظام التجاري المفضل بين الاعضاء في الاتحاد وشركائهم من الدول الافريقية (70 بلدا مقابل 46 بلدا سنة 1975)، وقد أصبحت المساعدات الأوربية تتوجه إلى التنمية المستدامة بما فيها الاستثمار في ميدان الصناعة وتشجيع المنافسة التجارية.

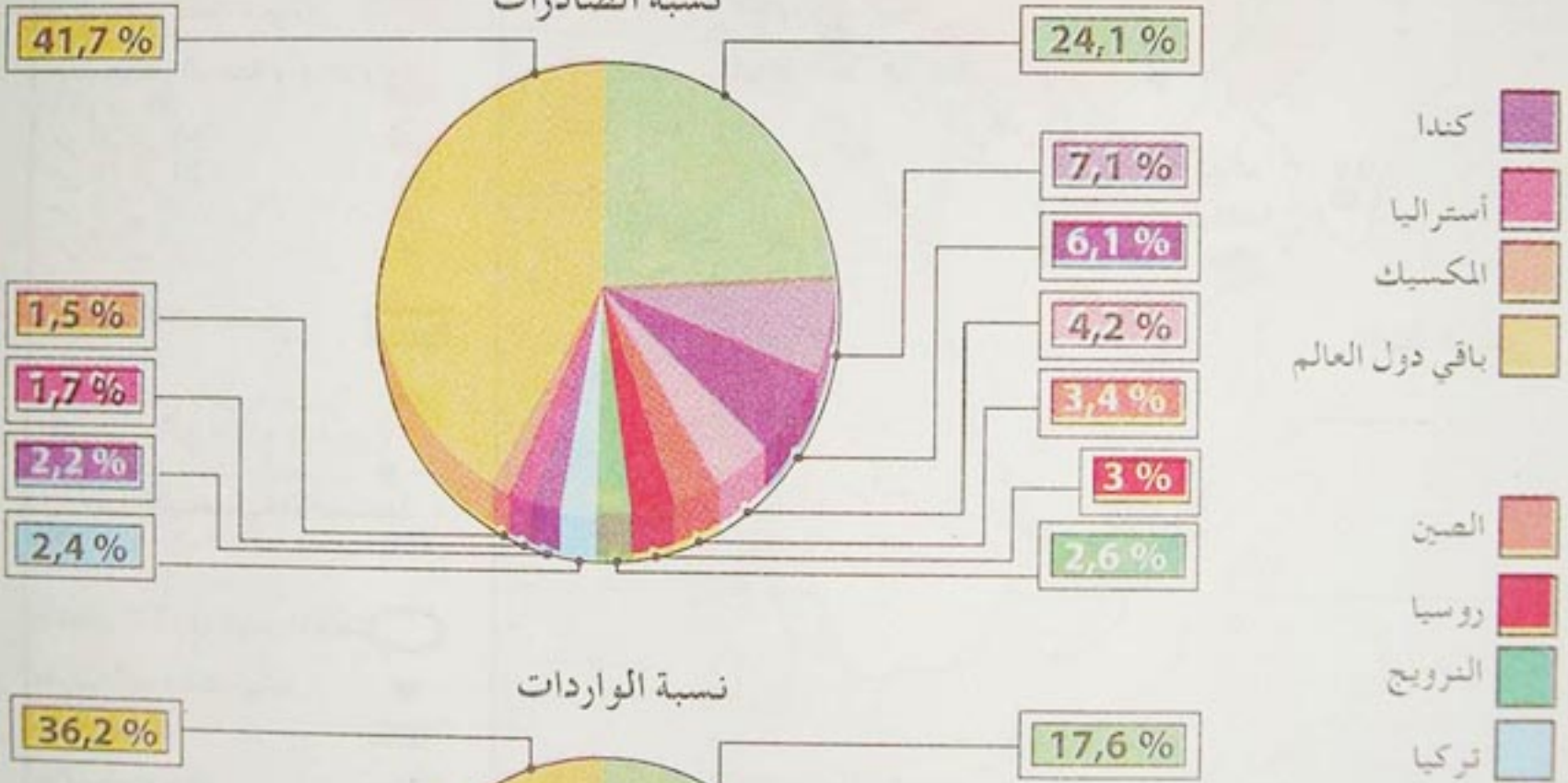
يمكن القول أن التعاون بين الاتحاد الأوربي والدول الافريقية غير مضمون العواقب بسبب ما يشوب العلاقات من ضبابية وتوتر.

رسميس تاريخ  
وجغرافيا بولان

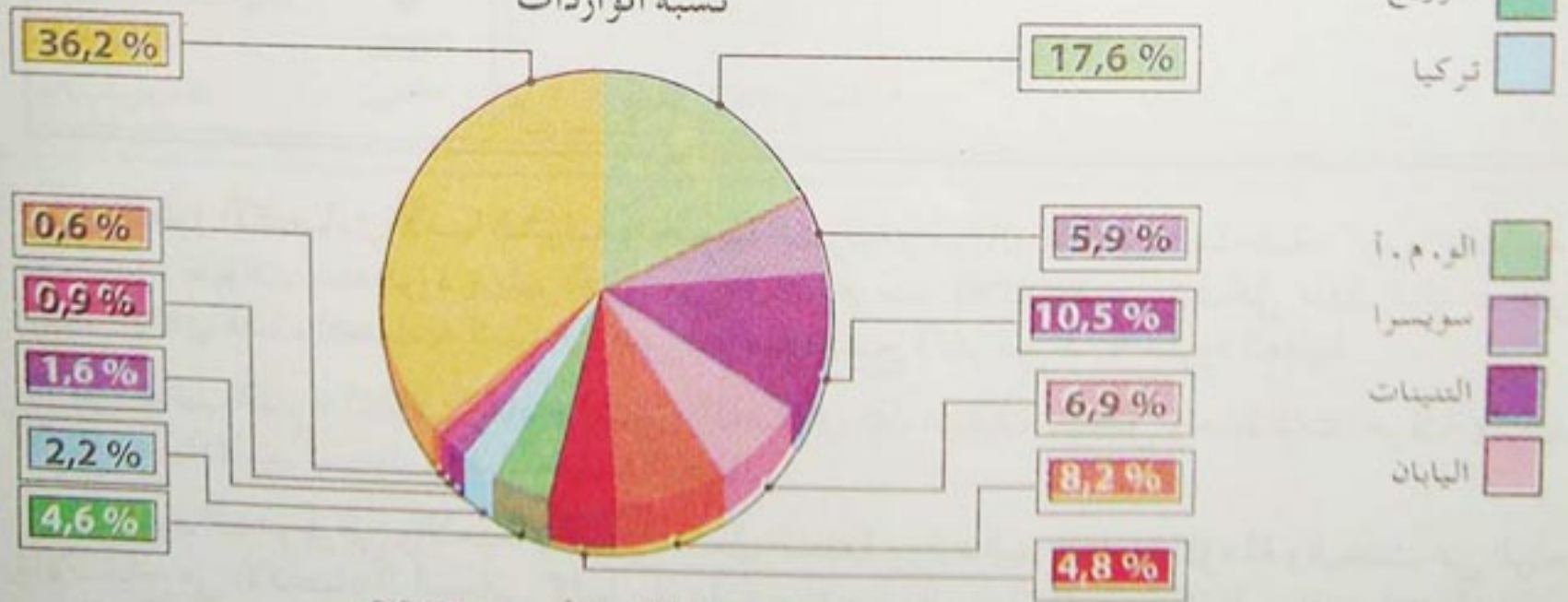


أقطاب عالمية  
مناطق محيطة

## نسبة الصادرات



## نسبة الواردات



## نسبة المبادلات التجارية للاتحاد الأوربي 2002

**النشاط:** اعتمادا على ما تستخلصه من السندات المعطاة، أكتب صفحة على الأقل تبين فيها أثر التحديات الداخلية والخارجية على الاتحاد الأوربي.



## آسيا الشرقية والجنوبية الشرقية

تعتبر آسيا الشرقية والجنوبية الشرقية قوة ديموغرافية وفضاء قويا للنمو الاقتصادي ، تم فيها تنظيم الشبكات الكبرى للمبادلات على المستوى العالمي .  
كيف تفسر الحيوية الاقتصادية الآسيوية على المستوى الإقليمي والعالمي؟



إن التطور الاقتصادي لآسيا الشرقية والجنوبية الشرقية ( اليابان ، الصين الساحلية ، كوريا الجنوبية ، هونكونغ ، تايوان ، سنغافورة ) يشير كثيرا من الاهتمام منذ ثلاثة عقود . تشكل تلك البلدان على المحيط الهادي فضاء اقتصاديا كبيرا في طور التوسع ، ينتج أكثر من 4/1 الثروة العالمية .

إلى جانب التنوع الثقافي ونماذج النمو الاقتصادي فإن المنطقة تشكل وحدة ذات حركية وتزايد الانتاج والمبادلات كمجال وفضاء متعدد الأقطاب .

إن الوزن الديموغرافي والاهتمام الفعلي لدول المنطقة ووفرة اليد العاملة المؤهلة والبحث عن الربح والاندماج في الاقتصاد الرأسمالي كلها مقومات ساهمت في إبراز المنطقة كقطب اقتصادي أساسي في العالم في مطلع القرن 21 ، ويعتمد هذا الفضاء في قوته وتوسعه على شبكة مالية يابانية وجمالية صينية التي تقدر بـ 36 مليون مهاجر خارج الصين ، 4/3 منها توجد في جنوب شرق آسيا .

جغرافيا نهائي . فضاء العالم ناتان

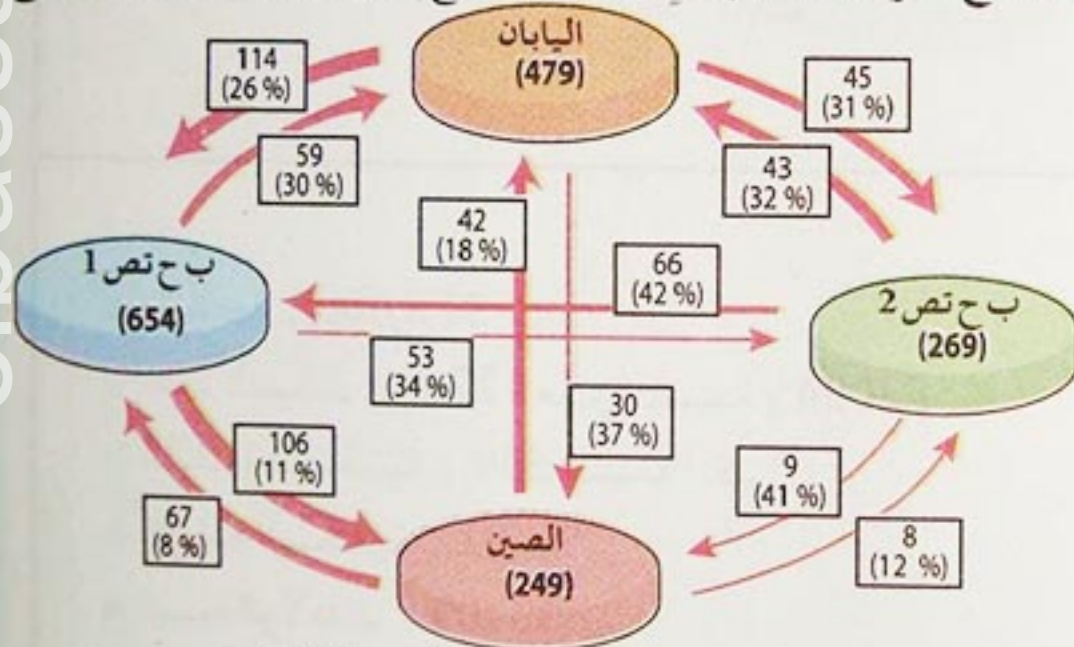


## أهم المؤشرات الديموغرافية في آسيا الشرقية

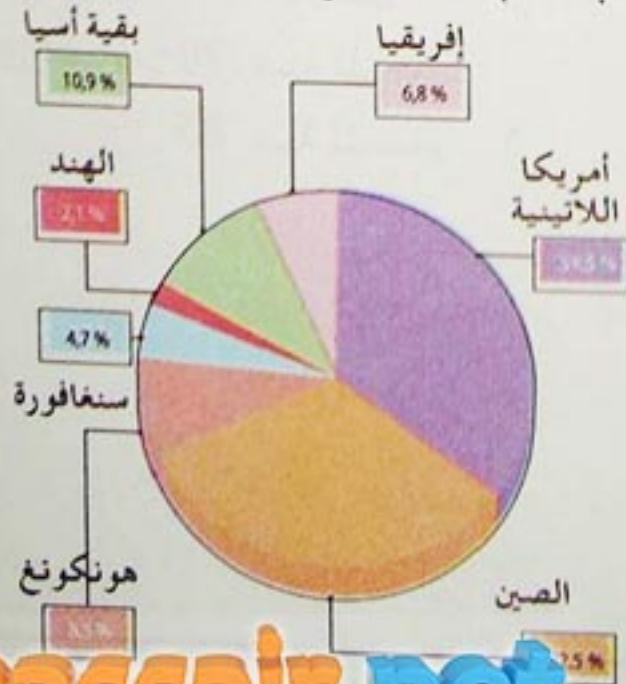
البلد المؤشر	الصين	هونكونغ	كوريا الجنوبية	اليابان	تايبان	سنغافورة
السكان م/ن	1289	6.8	48	128	23	4.5
الكثافة ن/كم <sup>2</sup>	133	6500	491	336	626	6600
نسبة سكان المدن	35	100	82	80	84	100
مؤشر الانجاب	1.7	0.9	1.3	1.3	1.3	1.4
نسبة الولادات بالآلاف	13	07	12	09	11	11
نسبة الوفيات بالآلاف	06	05	05	08	06	04
نسبة وفيات الأطفال بالآلاف	32	03	08	03	06	03
نسبة فئات السكان أقل من 15 سنة	22	16	21	14	20	21
نسبة فئات السكان + من 65 سنة	07	11	08	19	09	07
مدى الحياة رجال / عام	69	78	72	78	73	77
مدى الحياة نساء / عام	73	85	80	85	79	81

المصدر أطلاسيكو 2003 و Image économique du Monde

الاندماج المتزايد للتجارة الإقليمية / ب ح تص: بلدان حديثة التصنيع



الصين أهم قطب لجلب الاستثمارات الأجنبية المباشرة



ب ح ص 2  
بلدان حديثة  
التصنيع

### اقتصاد موجه للتصدير

تشارك آسيا شيئاً فشيئاً في التجارة العالمية، وقد شهدت سنة 1990 تزايد حجم صادرات هذه المنطقة بشكل سريع. وتعرف تلك الصادرات تحولا من حيث النوعية. ذلك هو الأساس المعتمد في التنمية في آسيا، وهو تصدير المواد المصنعة ومواد الخدمات. إن الوزن الديموغرافي ونقص الموارد الطبيعية، يتماشى أساسا مع الطلب العالمي حول المواد المصنعة ذات الاستهلاك الواسع.....

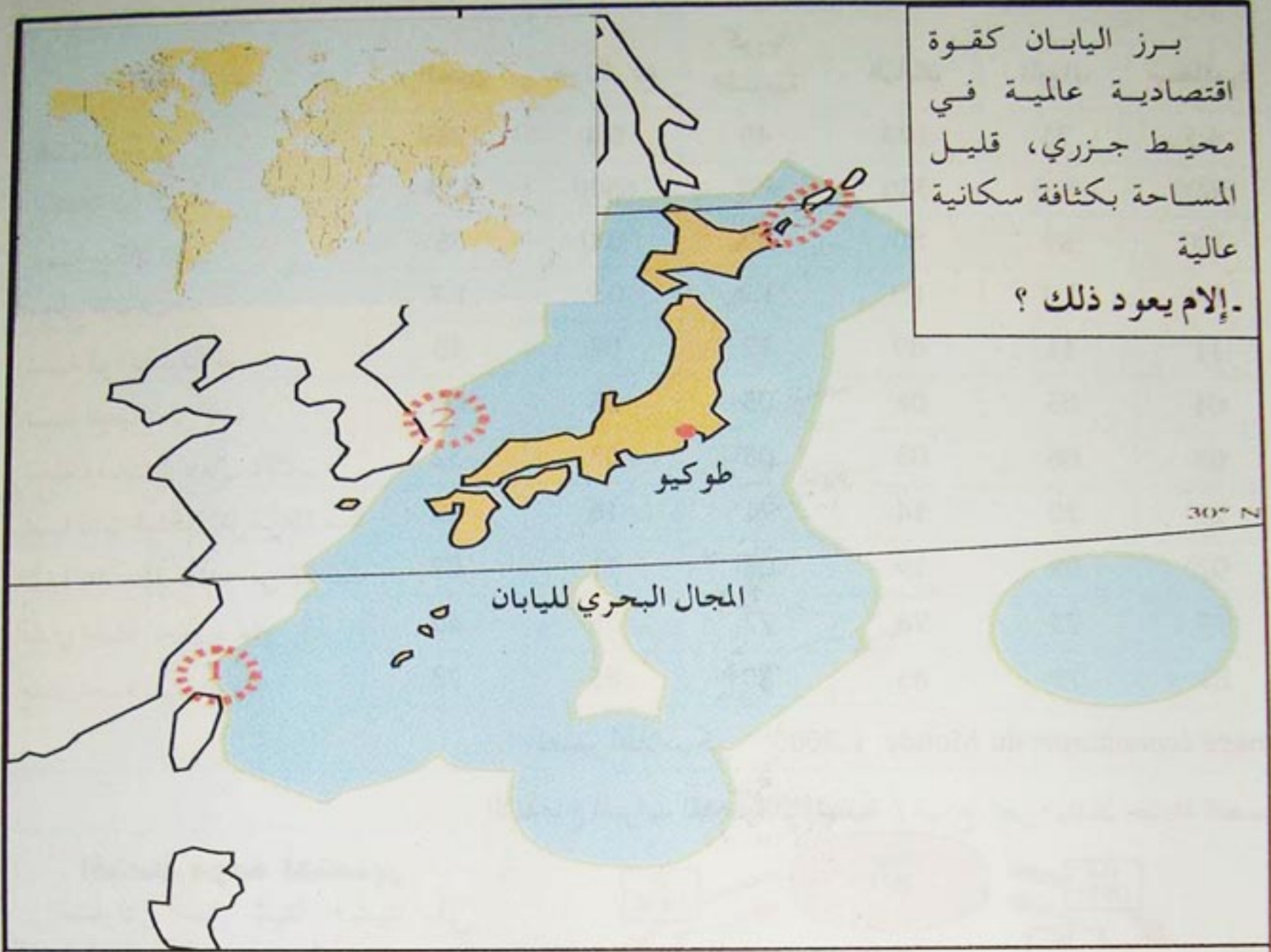
يؤثر النموذج الياباني تأثيرا كبيرا على الدول الرأسمالية في آسيا. غير أن للتجارة الخارجية إستراتيجية في الدول ذات الاقتصاد الاشتراكي. جغرافيا فضاء العالم. ناتان

### النشاط

من خلال السندات المعطاة بين في صفحة معالم الحيوية الاقتصادية لمنطقة آسيا الشرقية والجنوبية الشرقية؟



## اليابان



برز اليابان كقوة  
اقتصادية عالمية في  
محيط جزري، قليل  
المساحة بكثافة سكانية  
عالية  
-إلام يعود ذلك؟

### المجال البحري

خلاف حدودي مع :

- 1 الصين التايوان
- 2 كوريا الجنوبية
- 3 روسيا

■ المساحة : 378 000 كم<sup>2</sup>

■ عدد السكان : 127,6 مليون نسمة (2004)

■ الكثافة السكانية : 339 نسمة / كم<sup>2</sup>

■ الزيادة السكانية : 0,1 %

■ نسبة الولادات : 09 بالآلاف

■ نسبة الوفيات : 7 بالآلاف

■ مدى الحياة : 78 سنة للرجال

85 سنة للنساء

مؤشر التنمية البشرية المرتبة الثامنة 8 عالميا .

المساهمة في الدخل القومي :

القطاع الأول 1 %

القطاع الثاني 25 %

القطاع الثالث 74 %

نسبة البطالة 4,7 %

Image économique du monde 2006





شريط ساحلي في اليابان

تمثل الصورة مظهرا من مظاهر القوة اليابانية من حيث القدرة على التكيف وتهيئة الإقليم بشكل عقلائي . تشكل عناصر المشهد جبلا وقرى وزراعة مغطاة في شريط ساحلي ضيق.

يعيش 126 مليون ياباني في أرخبيل يبلغ 378 000 كم<sup>2</sup> بكثافة تصل 333 ن / كم<sup>2</sup> . ويتشكل الإقليم الياباني من 4000 جزيرة أهمها وأكبرها جزر :

هونشو ، هوكايد ، ووكيوشو ، وشيكوكو .

يفسر امتداد اليابان من الشمال الى الجنوب على طول 2000 كم التنوع المناخي السائد في البلاد .

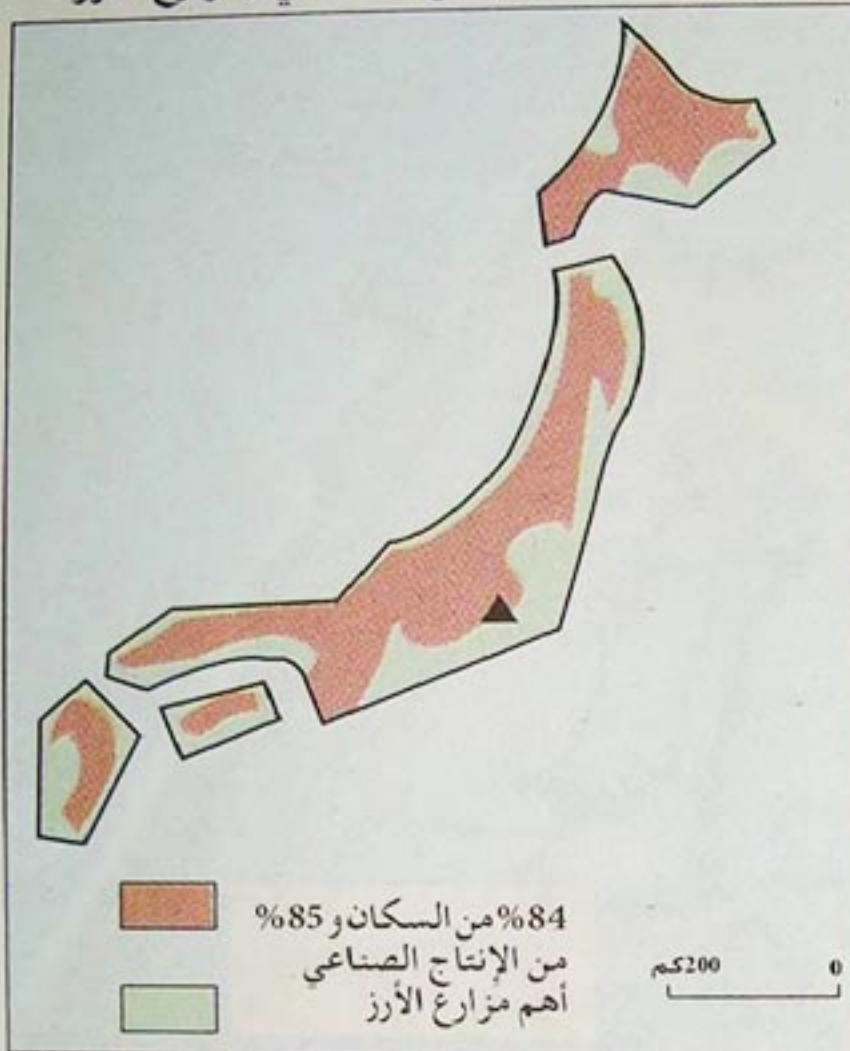


## 1- السكان والتنمية الإقليمية في اليابان.

### الإشكالية :

يعتبر الإقليم الياباني إقليما صعبا وتمثل المدن فيه مجتمعات سكنية ضخمة تستقطب السكان والنشاطات، تستلزم شبكة كثيفة من طرق المواصلات ومنشآت قاعدية مناسبة. فيم يتضح ذلك ؟

توزيع السكان والإنتاج الصناعي ومزارع الأرز

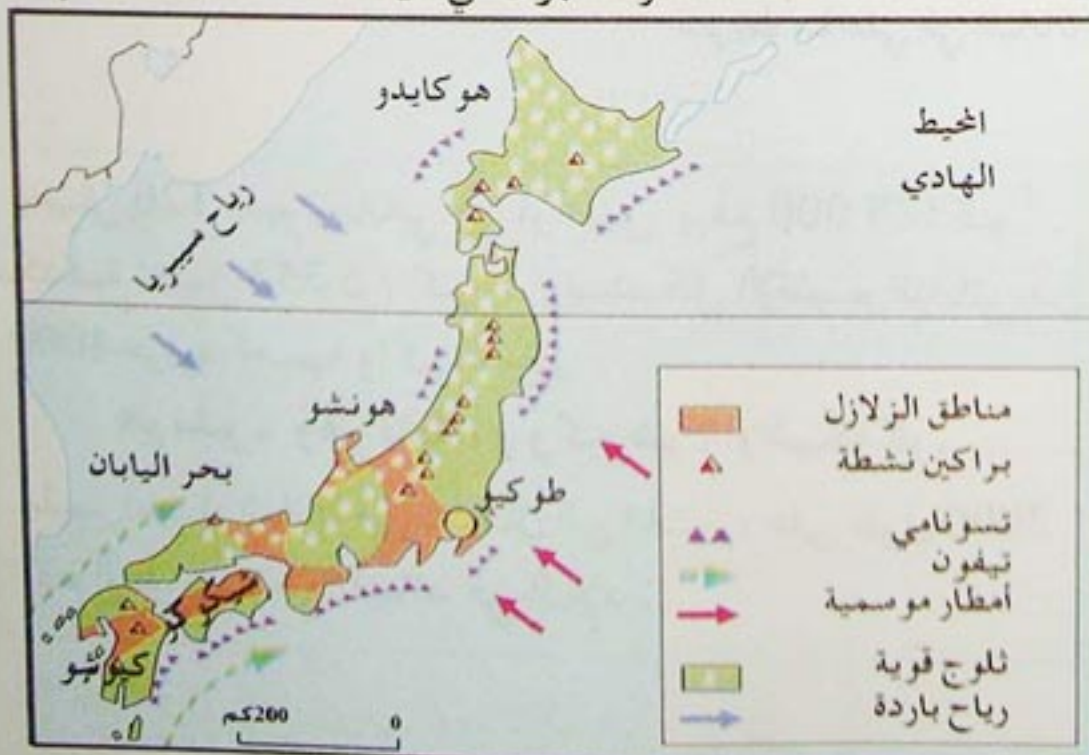


أدت الفترة الحيوية في اليابان 1950-1990 إلى تعميق الفوارق الإقليمية لذا تم إصدار قانون 1970 ويتعلق بضرورة ضمان التوازن الجهوي عند التهيئة الإقليمية، وقد مكن ذلك ثلثي بلديات الريف من الاستفادة من الإصلاحات القائمة التي تخص القرى والبيئات الهشة والجزر البعيدة. وقد انعكست سياسة التهيئة الإقليمية إيجابا على التراث الثقافي والبيئة في اليابان بشكل مباشر. جغرافيا. فضاء العالم / ناتان



زلزال كوبي 17 جانفي 1995 - 6 300 قتيل -

المخاطر الكبرى في اليابان



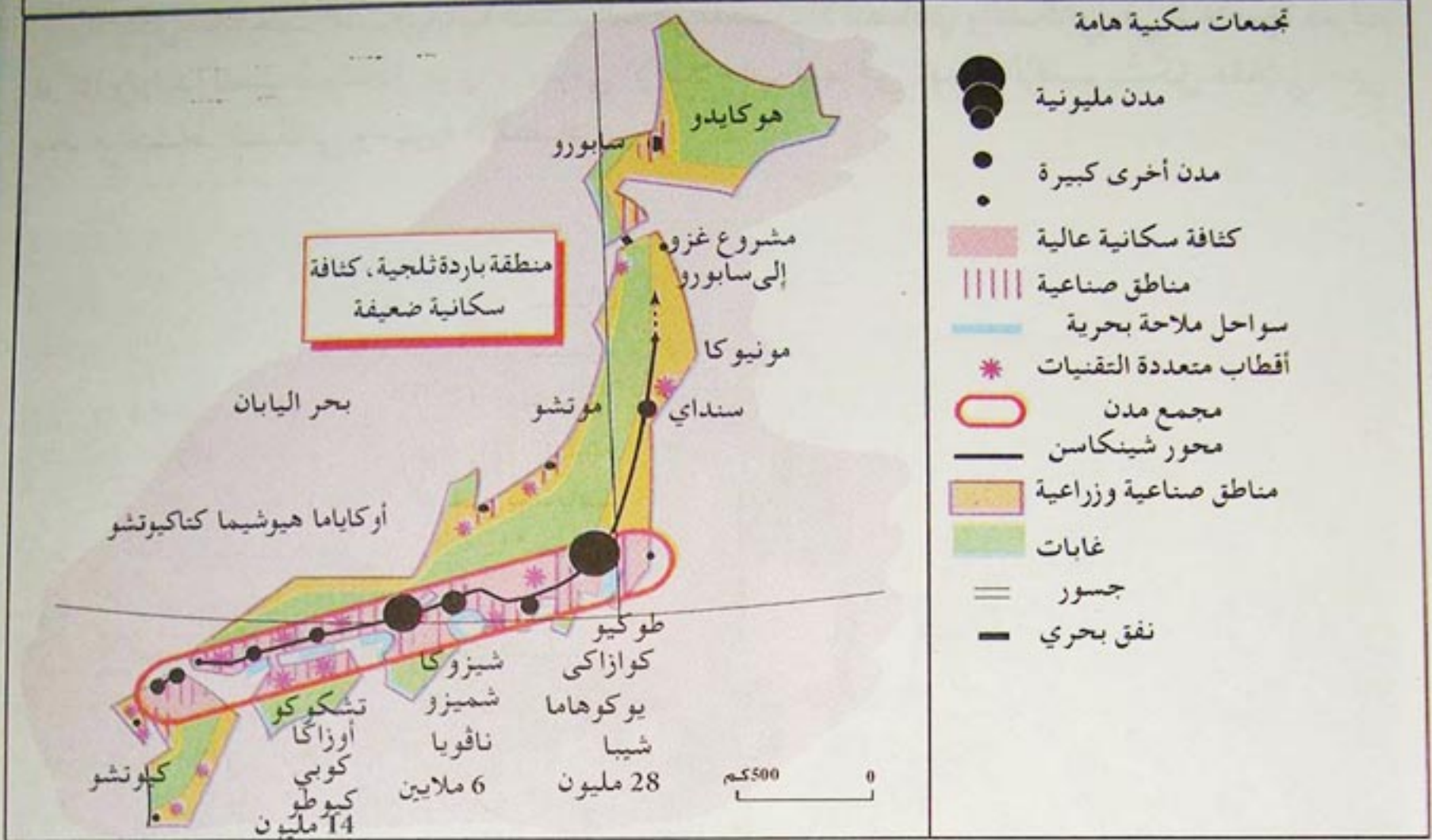
### انجازات هامة للتحكم في الاقليم.

استثمر اليابان في تهيئة الإقليم بش كل ضخم مكنه من مد الطرق بين الجزر الهامة في الأرخبيل. وقد تم إنجاز جسر يربط بين هونشو وكيوشو وآخر يمتد إلى شيكوكو على طول 10 كم، كما تم إنجاز نفق بحري يربط بين هوكايدو وهونشو على طول 53 كم إلى جانب هياكل قاعدية أخرى متعددة، مكنت من عصنة النقل في اليابان، مثل القطار السريع محور شينكاسن.

جغرافيا. فضاء العالم. ناتان



## تهيئة الإقليم الياباني (مناطق تركيز سكاني وصناعي وموانئ)



يتوجه اليابان إلى عرض البحر لإنجاز منشآت كبيرة فوق تربة منقولة «البولدير» مثل مصانع خليج نيويورك - كيتاكيوتشو وناغويا مهد صناعة طويوطا ومطار ناغازاكي العائم. جغرافيا، فضاء العالم ناتان.



ديناميكية البحر الداخلي / جسر سيتو 12 كم يربط بين جزيرة هونشو و جزيرة شيكوكو

### النشاط

اعتمادا على السندات المعطاة بين في صفحة على الأقل طبيعة التهيئة الإقليمية في اليابان ولماذا تعتبر عنصرا حيويا بالنسبة للاقتصاد الياباني ؟



تشكل مجتمعات المدن اليابانية القلب النابض للفضاء الاقتصادي والسكاني في البلاد، إذ تعرف تركزاً وتزايداً للنشاط بشكل قوي، وترمي الإصلاحات فيها إلى تهيئة الإقليم بشكل عقلاني حتى يخدم النشاط السكاني وحيوية الاقتصاد.



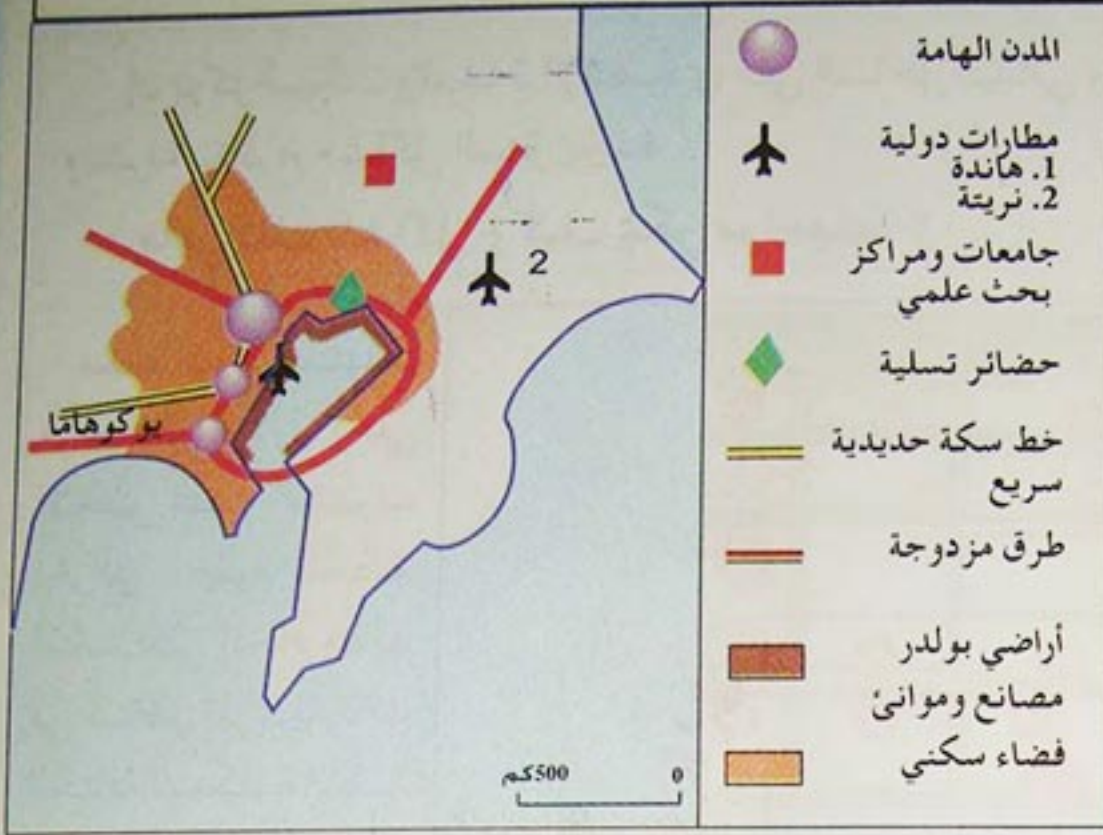
طوكيو حي شين جو كو للأعمال

تعتبر طوكيو (عاصمة اليابان)، مدينة مالية عالمية منذ 1980 وقد عرفت عمراناً هائلاً حيث ازداد عدد المكاتب بـ 50% من حيث المساحة عما كان عليه في السابق. تضم المدينة ربع سكان البلاد ويأوي إليها نصف عدد الطلبة اليابانيين، فيها توجد أغلب المؤسسات الصناعية ومؤسسات الخدمات ووسائل النقل، تستحوذ على 85% من المؤسسات المالية و60% من المعاملات المصرفية.

اليابان A Colin



## خليج طوكيو



## طوكيو فضاء واسع

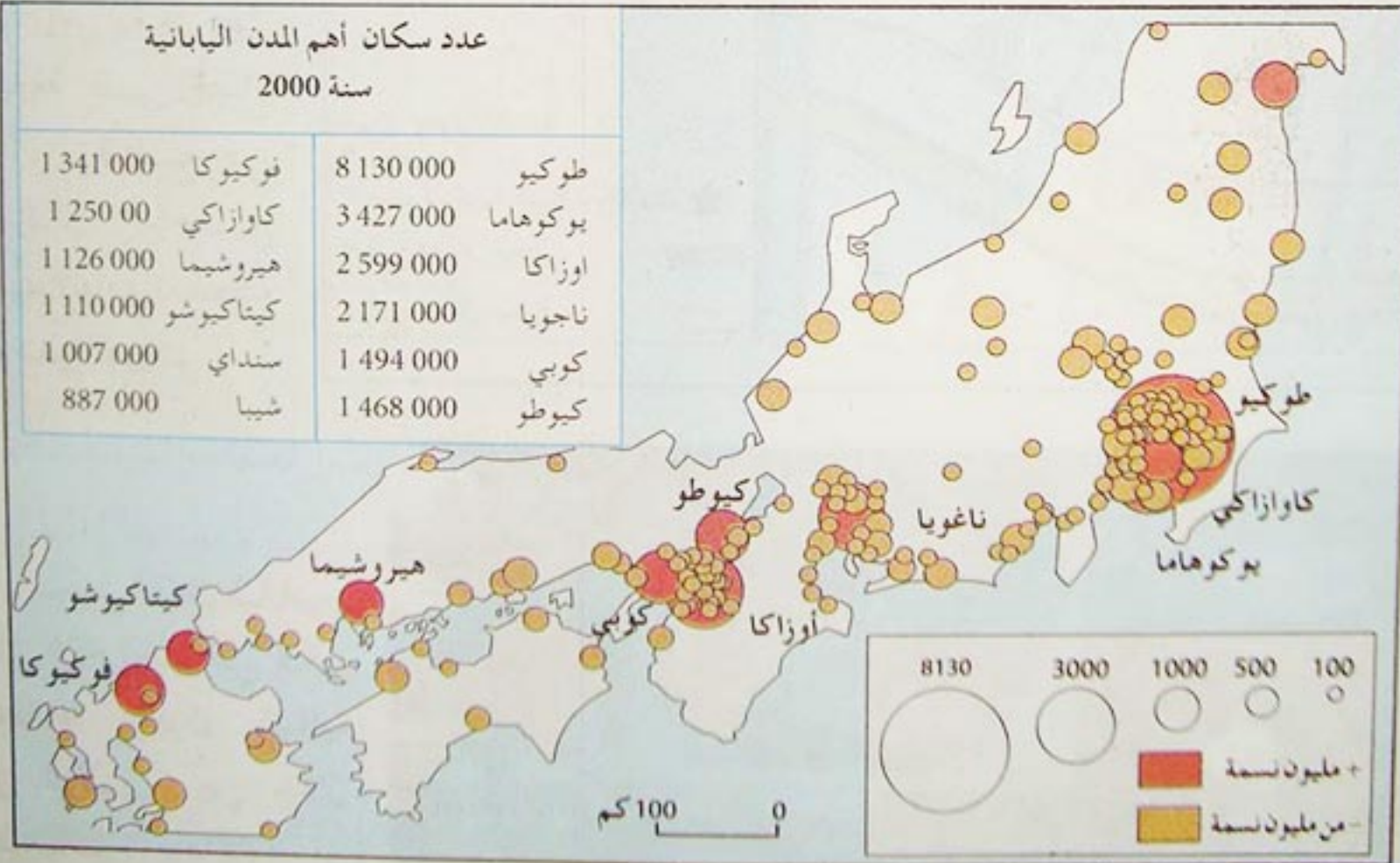
طوكيو مدينة مترامية الأطراف، يطبعها ذلك بنوع من الاطمئنان و القلق في نفس الوقت. تطمئنك لأنك تبهر في شوارعها من مكان إلى آخر وتظهر تحت أقبعة أخرى في فضاء مليء بخدمات لا تتوفر في مدينة أخرى، وتقلقك لأنك لا تستطيع أن تخرج من أحيائها إطلاقاً، يحكي لك عرض شريط في رواق البلدية ديكورا جيولوجيا وتاريخيا وديموغرافيا واقتصاديا واجتماعيا لكل اليابان.

CNRS Edition 1996

يتركز أكثر من 100 مليون نسمة في مجمع المدن اليابانية، أي 84% من السكان، وتصل الكثافة السكانية فيها 1500 نسمة / كم<sup>2</sup> ونسبة التمدن 80%. نصف سكان اليابان يقطنون "طوكليدو" أي المنطقة الواقعة بين طوكيو وأوزاكا والتي تمثل 3% فقط من مساحة الإقليم الياباني جغرافيا. نهائي. فضاء العالم / ناتان

## عدد سكان أهم المدن اليابانية سنة 2000

1 341 000	فوكيوكا	8 130 000	طوكيو
1 250 000	كاوازاكي	3 427 000	يوكوهاما
1 126 000	هيروشيما	2 599 000	اوزاكا
1 110 000	كينساكيوشو	2 171 000	ناجويا
1 007 000	سنداي	1 494 000	كوبي
887 000	شيبا	1 468 000	كيوتو



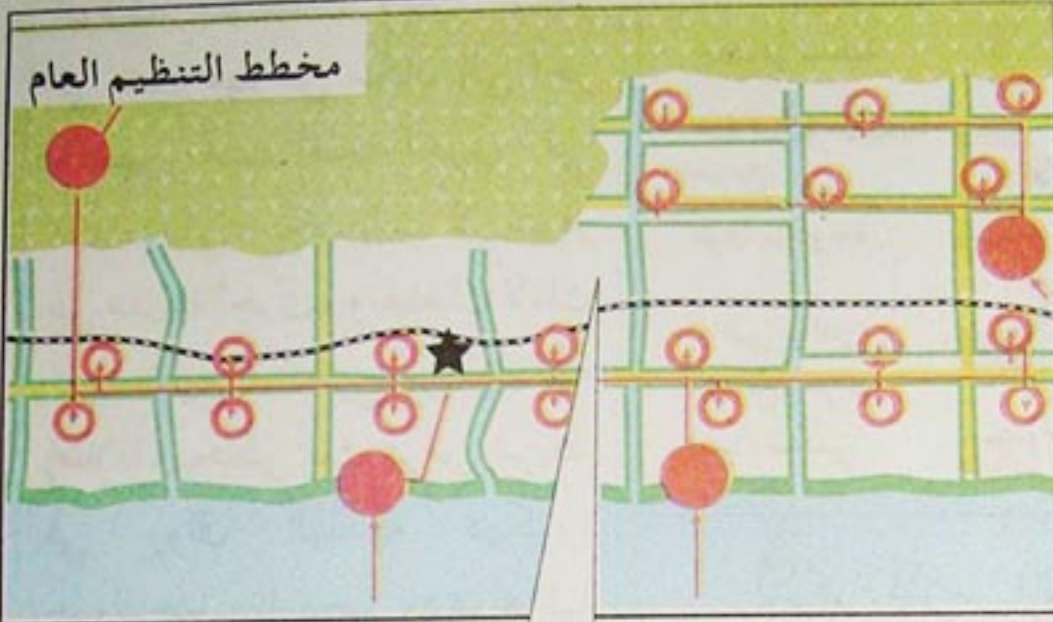
**النشاط :** - ماذا تستخلص من كل سند على حدة ؟

- بين في صفحة على الأقل علاقة السكان بالتهيئة الحضرية في اليابان ؟



## - اليابان في مواجهة المخاطر الكبرى

إن تركيز السكان والنشاط الإقتصادي على الساحل الياباني وتعرض المنطقة لمخاطر متنوعة طبيعية وبشرية . تطرح مشاكل البيئة بحددة .  
- ماهي تلك المشاكل وكيف يمكن مواجهتها ؟



مخطط عمراني يستهدف مواجهة آثار الزلازل وعلى الأخص عند نشوب الحرائق . يقوم المخطط أساسا على إيجاد منافذ في المناطق المركزية ذات الكثافة السكانية العالية لتسهيل عمليات إيصال مواد الإغاثة .




### سياسة تسيير المخاطر .

يوجد في اليابان منذ زمن بعيد جهاز المتابعة في قطاع الزلازل الواقع في طوكاي (ساحل المحيط الهادي للمنطقة الوسطى لهونشو)



يتمرس أطفال اليابانيين على الإجراءات التي يمكن اتخاذها وطرق الوقاية من الزلازل من خلال وضعيات « محاكاة » في الهواء الطلق والمؤسسات التعليمية .





تشكل النفايات المختلفة المنزلية منها على الخصوص صعوبات جمة في التسيير وإقامة أماكن الرمي في شكل جزر اصطناعية .

يتم استخدام 4/1 نفايات مدينة طوكيو البالغ 6 ملايين طن في مناطق الردم على حساب البحر أي مناطق "البولدير"

### مرض ميناماتا

أعلنت إدارة كوماموتو يوم 29 جويلية 1997 بان نسبة الزئبق الموجودة في الأسماك في خليج ميناماتا لا تشكل خطرا على المستهلكين وقد تم رفع شبكة الحاجز المقامة لمنع الأسماك المصابة من دخول البحر طيلة 23 سنة . وقد ظل مصنع شيصوميناماتا يرمي الزئبق في الخليج طيلة 30 سنة إلى غاية 1966 وقد تسبب في إصابة الأسماك والحيوانات بمرض التسمم بواسطة هذه المادة، التي تظهر أثارها في الرجفة وفقدان التوازن .

ظهرت أمراض أخرى مرتبطة بتلوث المياه مثل مرض « ايتاي ايتاي » الذي يشكل صعوبات في التنفس في منطقة طوكيو- يوكوهاما ناغويا- واوزاكا كوبي .

جغرافيا . فضاء العالم . ناتان

ازداد تلوث الجو في المدن اليابانية بسبب ضخامة حظيرة السيارات بالرغم من ان النقل العمومي هو الوسيلة المفضلة. إلا أن أكبر مشكل للتلوث هو مشكل تلوث الجيوب المائية، من جراء الاستعمال الكبير للمواد الكيماوية والمخصبات في الزراعة وصيانة حقول Golfs ( لعبة الجولف )، التي تحتل مساحات شاسعة في محيط المدينة او المساحات الخضراء، 2012 حقلا عام 1995 و 400 حقل في طور الإعداد و 700 حقل عبارة عن مشروع في مساحة تعادل 100 هكتار وتمثل 3 أطنان من المواد الكيماوية للفرد الواحد .

جغرافيا . فضاء العالم . ناتان

### النشاط

– ماذا تستخلص من كل سند على حدة – اعتمادا على ذلك بين كيف تكيف اليابانيون مع بيئتهم الصعبة ؟



الإشكالية :

تحول أرخبيل اليابان من بلد صغير إلى بلد صناعي بالدرجة الأولى يمكن له أن يلعب دورا جيوسياسيا هاما في العالم بفضل قوته الاقتصادية . كيف تفسر ذلك ؟



العناصر الأساسية الفاعلة في الاقتصاد الياباني

تعود القوة الاقتصادية اليابانية إلى ثلاثة عوامل أساسية :

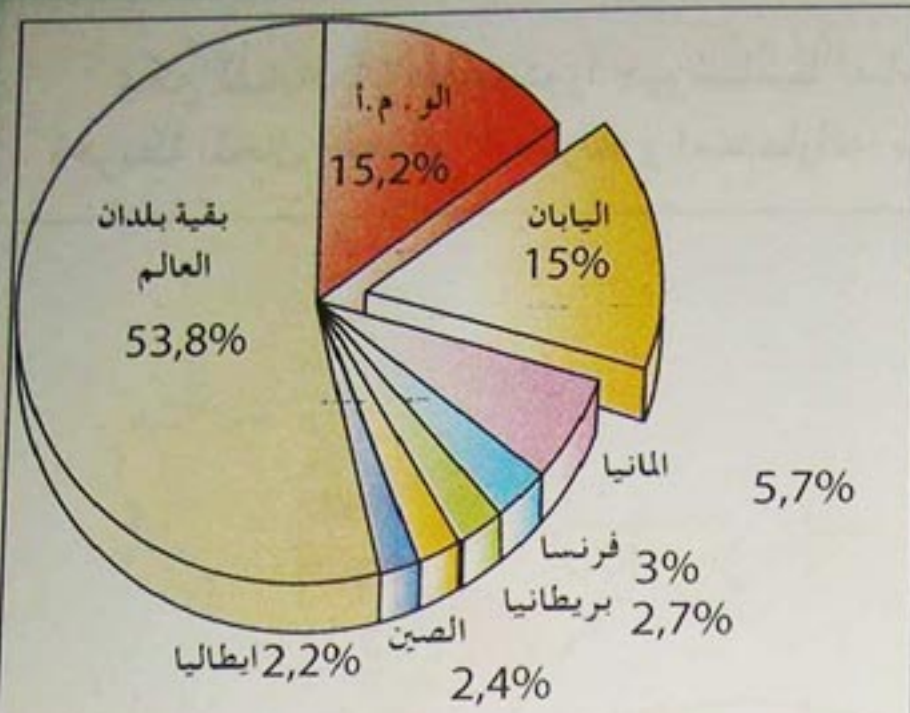
- الكفاءة الصناعية والانسجام القائمين على مؤسسات صغيرة ناجحة ومؤسسات كبيرة .
- النجاح التجاري القائم على تنظيم الواردات والصادرات .
- استيراد المواد الأولية والطاقة والقيام بعملية تحويل المواد المصنعة وغزو الأسواق العالمية .
- الرصيد المالي حيث أدى ربح الميزان التجاري المستمر إلى إعطاء اليابان إمكانيات مالية ضخمة للاستثمار داخل وخارج البلاد .
- جغرافيا . نهائي . بولان

النموذج الياباني .

الكومبينات "Combinat" عبارة عن مركب صناعي مخطط من طرف الدولة بالتعاون مع المؤسسات الخاصة الكبرى، يقع في المنطقة الصناعية الساحلية ويقوم على أرض عائمة أو منطقة بحرية مغمورة «البولدير» يتم فيها تحويل المواد الأولية من طرف جملة من المصانع تتكامل فيما بينها من حيث توزيع العمل والتخصصات، وهو ما يسمى بعملية الاندماج العمودي أي ان الحديد الصلب الذي تنتجه مصانع كاوازاكي، يستهلك مباشرة من طرف الصناعة التقليدية لسيو ميتومو وسيارات ميتسوبيشي . وهي مقامة على السواحل لأنها مرتبطة كل الارتباط بالمواد الأولية و مواد الطاقة المستوردة .

ان أراضي البولدير التي تستحوذ عليها مؤسسات الكومبينات تقدم خدمات كبيرة للمؤسسات الصناعية لكونها ذات مساحة ملائمة، يمكن توسيع المنشآت بكلفة أقل ، واكتساب الملكية بكل سهولة، بالإضافة إلى يسر الاتصال بها عن طريق البحر والبر والجو .





#### نصيب اليابان من الإنتاج الصناعي العالمي

المرتبة	الإنتاج الصناعي
1	السفن - الحديد والصلب آلات كهربائية - الروبوتيك الدراجات النارية المسجلات وآلات النسخ
2	السيارات - أجهزة التلفزة كيميا مواد الصيدلة - مفاعلات نووية

يحدد كل من الدولة والمؤسسات الكبرى الخاصة سياسة معينة لخدمة وتطوير الصناعة في البلاد، وقد استغلت المجموعات الصناعية المعروفة مثل نيسان وميتسوبيشي توفر اليد العاملة الكبيرة والمؤهلة، مستخدمة في ذلك جميع المؤسسات الصغيرة بتدعيم من وزارة توجيه النشاط الاقتصادي اليابانية «ITIM» في مجال المساعدات والتوجيهات الخاصة بالاستثمار داخل وخارج البلاد .....

ان اعتماد طرق الإنتاج الناجحة من شأنه ان يمكن المؤسسات من تقديم منتج نوعي لغزو الأسواق العالمية، حيث تقيم المؤسسات الكبرى فروعاً ومحلات لها، وتوجد تلك المؤسسات والمصانع في اغلب أقطار العالم، وهو ما يسمى بعولمة الصناعة اليابانية .

جغرافيا. ناتان التربوي



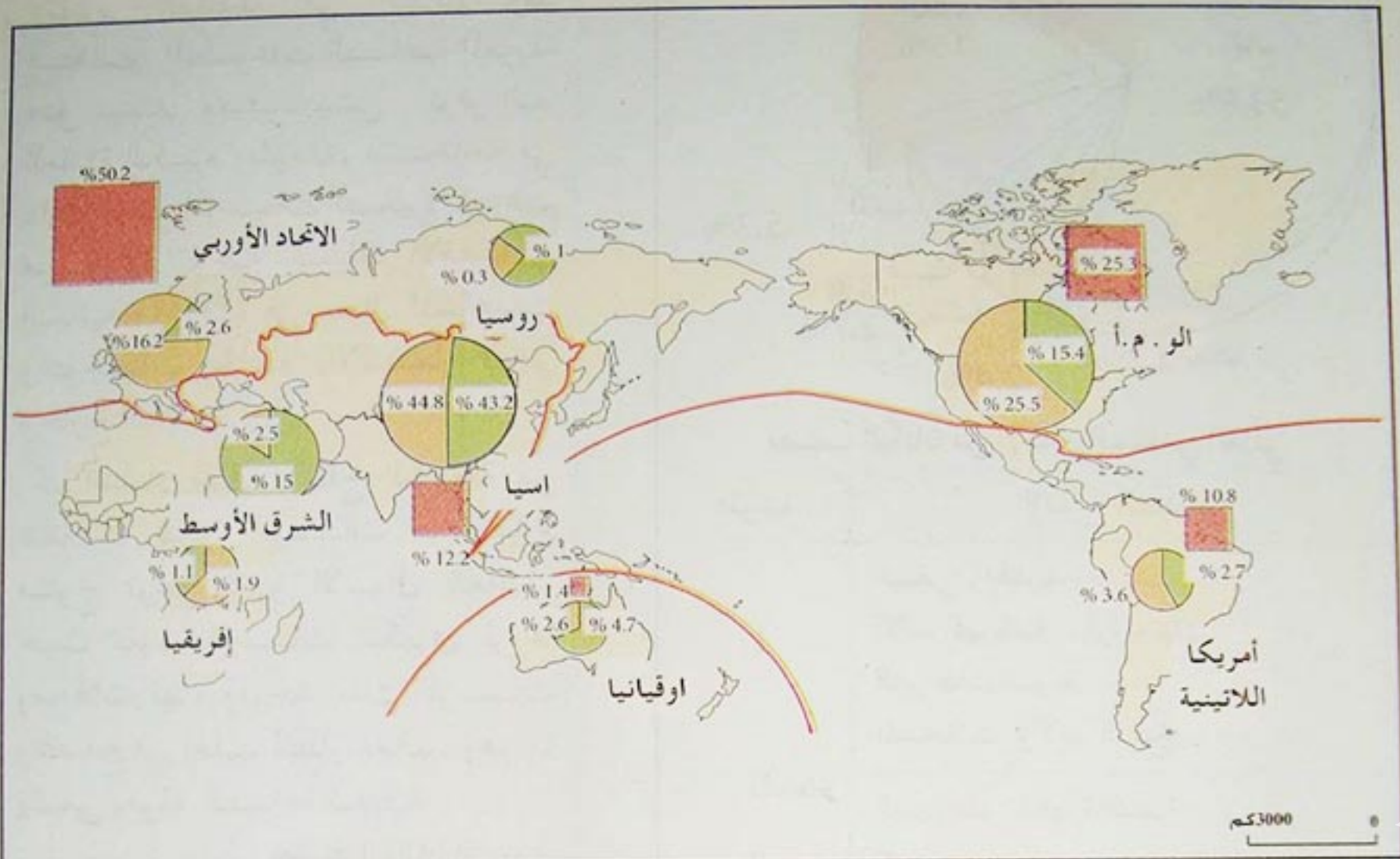
مصنع عائم بيوكوهاما

#### النشاط


– ماذا تستخلص من كل سند على حدة – بين في صفحة على الأقل أهم عامل في قوة الاقتصاد الياباني .



يمكن لليابان ان يلعب دورا جيوسياسيا أساسيا في العالم بفضل قوته الاقتصادية وتوضيح الخريطة المجال الجغرافي لتجارته و استثماراته سنة 2002



### التجارة الخارجية لليابان نسبة القيمة الكلية



### اليابان قوة اقتصادية عالمية .

7% من إنتاج المؤسسات اليابانية يتم خارج حدود البلاد وهي نسبة أقل من الاتحاد الأوروبي (12%) أو الو.م.أ. (25%) ومع ذلك فإن اليابان قد وضع اقتصاده في مسار عالمي سريع، واستثمر في المدة الأخيرة في قطاع الخدمات بشكل واسع في البلدان الغربية (البنوك ومؤسسات الضمان الاجتماعي والسكن) وأصبح بعد 1970 صاحب أهم البنوك العالمية إذ تحتل بورصة طوكيو المرتبة الثانية عالميا. أما في المجال التجاري فإنه يشهد تطورا باهرا 3% سنة 1960 وأكثر من 10% حاليا، وتحتوي صادراته على المواد الالكترونية والخدمات وترتبط بعض المواد المنتجة بالسوق الخارجية بنسبة عالية مثل آلات التصوير 87% والفيديو 77% والساعات 87% .

تاريخ وجغرافيا نهائي تقني . ناتان




## الشركاء التجاريون لليابان

### مصالح اليابان في أوروبا


عرفت الفترة ما بعد 1980 اتساع العلاقات الاقتصادية بين اليابان والاتحاد الأوروبي الذي يعتبر حاليا ثالث شريك لليابان، وتشهد العلاقات الاقتصادية الأوروبية الأمريكية تناقضا لفائدة اليابان الذي يطمح إلى السيطرة ومراقبة السوق العالمية. أما بريطانيا فتبقى هي الأرض المفضلة للاستثمارات اليابانية؛ في حين تحتل فرنسا المرتبة الثانية في تلك العلاقة.

تاريخ وجغرافيا نهائي تقني . ناتان

### الزبائن



### الممولون



### الانفتاح على البحر

تمتاز الموانئ اليابانية « بخاصية آسيوية » وذلك من جراء تفاوت حجم البواخر التي تأوي إليها من النوع الصغير إلى البواخر البترولية بحجم 500 000 طن. هناك 4 مجموعات تضمن أكثر من 4/3 النقل البحري العام، ويتضمن خليج طوكيو 4 مجموعات موانئ تمتد على طول 120 كم لرسو البواخر وتقدر حمولتها بـ 500 مليون طن/س الجغرافيا للأقسام النهائية. ناتان



ميناء يوكوهاما

### النشاط

اعتمادا على السندات المعطاة بين في صفحة طبيعة وأهمية المجال الجغرافي لتجارة واستثمارات اليابان.



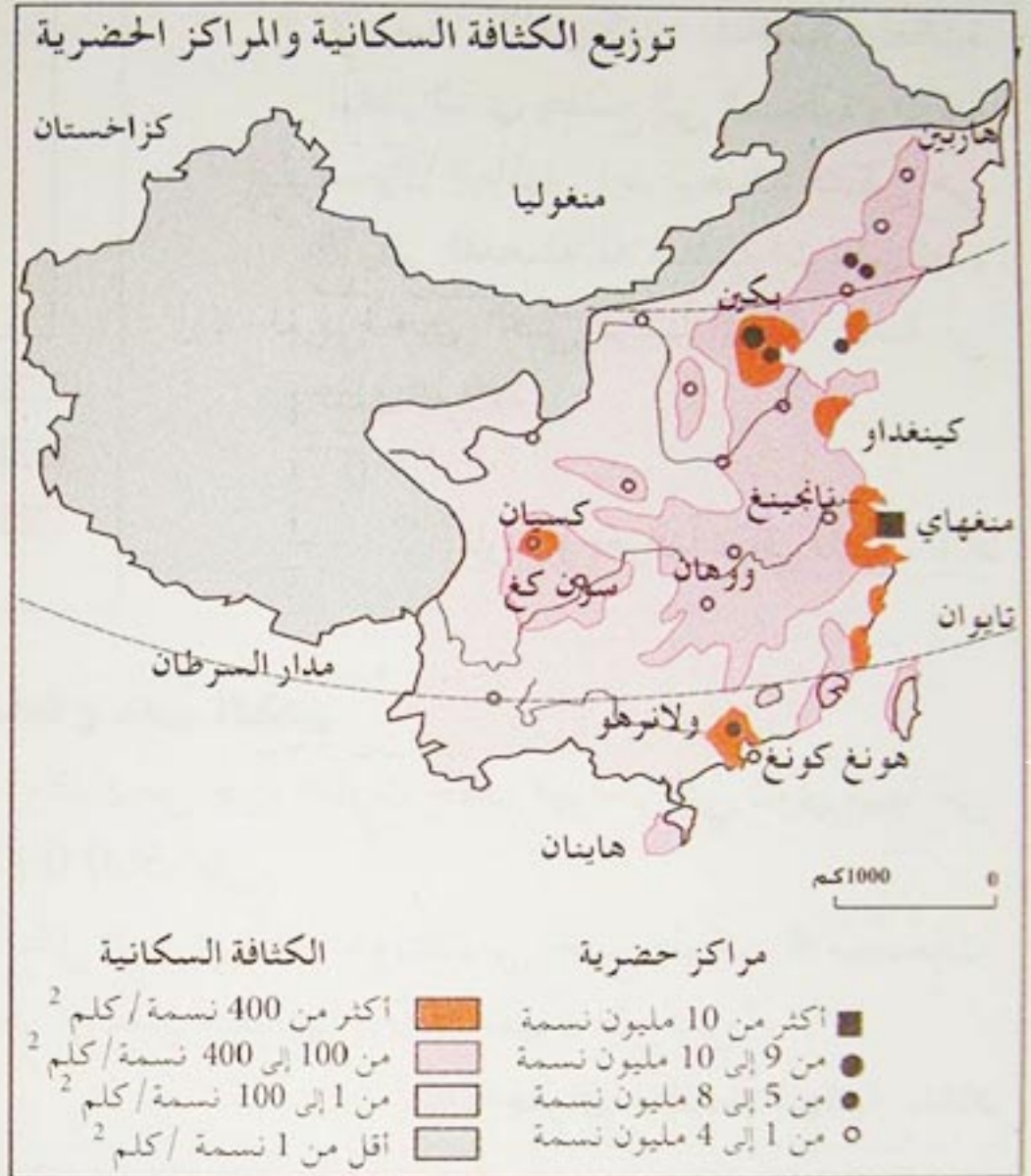
الإشكالية :

إن التحكم في الديموغرافيا والانفتاح على الاقتصاد العالمي اختيار سياسي تبناه حكام الصين بعد اعتماد نموذج اقتصادي يعطي الأولوية للريف .

- فيم يتمثل التحول الاقتصادي والاجتماعي للصين ؟

بدأت إصلاحات « دانغ كسياوبينغ » Deng xiaoping سنة 1978، وقد سجل الاقتصاد الصيني نموا سنويا بنسبة 9,6% في المعدل وتزايدت وتيرته عام 1993 ليبلغ 13% ثم 13.1 سنة 1994 ليستقر بعد ذلك في مستوى 10% سنويا .

قد يشهد الاقتصاد الصيني تضاعفا في حدود 2010، ويقاس الانتاج الوطني الخام حاليا بـ 80 مليار دولار، مسجلا بذلك بداية ازدهار مالي كبير. فاحتياط الصرف في الصين تجاوز عتبة 80 مليار دولار سنة 1996، ونسبة الصرف تساوي 1 دولار مقابل 8.33 ين. وهو ما يساعد على مضاعفة كمية ونوعية الواردات .



مقارنة تخص وضعيات تنظيم أو عدم تنظيم النسل في الصين ( الأسرة السعيدة )

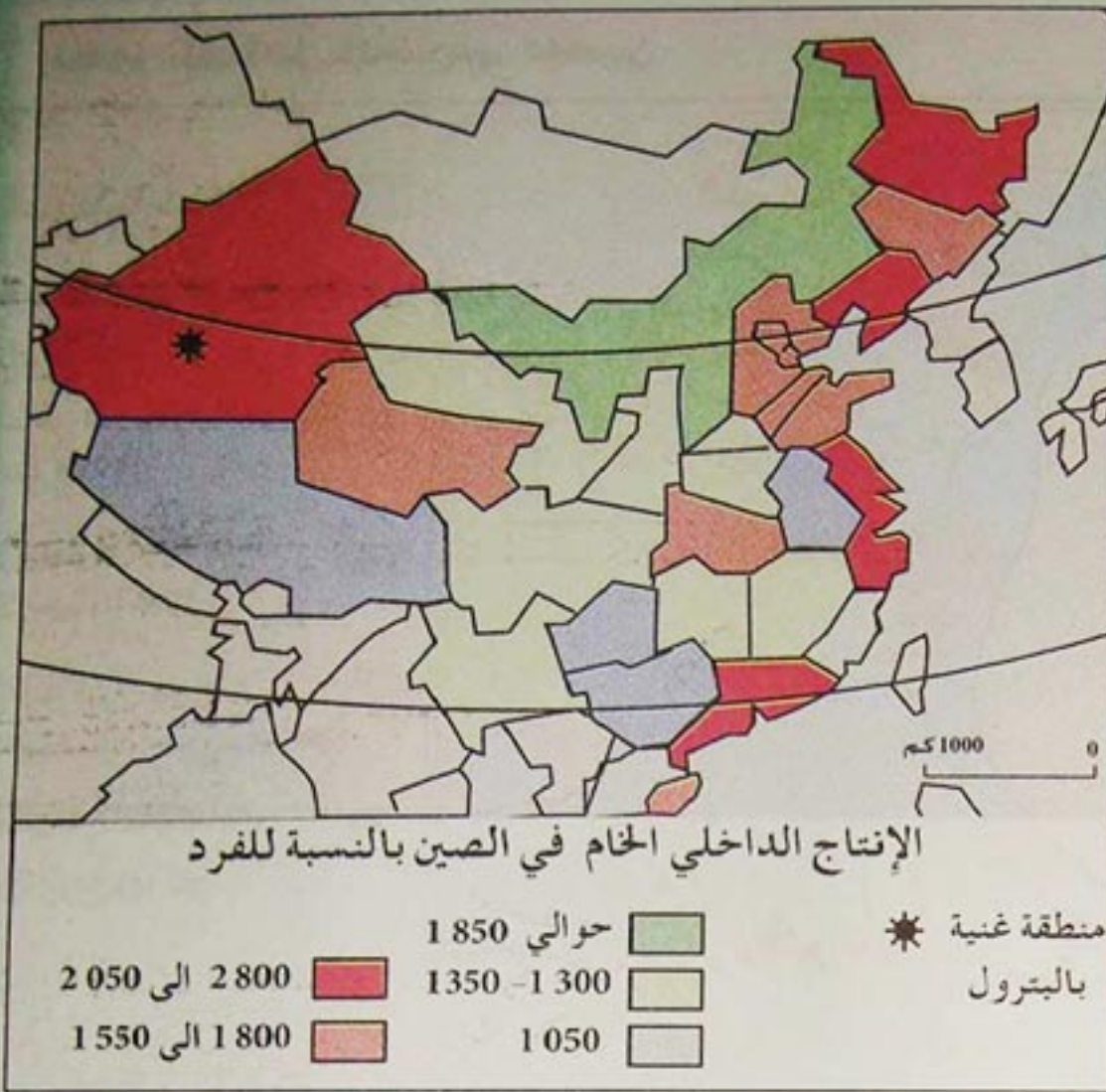
المكافآت	في المنطقة الريفية	في المدينة	العقوبات	في المنطقة الريفية	في المدينة
تعويضات شهرية	5 ين	5 ين	غرامة	10% من الراتب خلال 7 سنوات بالنسبة للطفل	10% من الراتب لمدة 7 سنوات للطفل الثاني و 20% بالنسبة للطفل الثالث لمدة 14 سنة
السكن	أولوية الحصول على قطعة ارض	أولوية الحصول على سكن		الصحة والتعمير	لا شيء
الدراسة والصحة	مؤسسات الحضانه والمدرس	الدخول إلى مؤسسات الحضانه والمدرس	عقوبات إدارية		حذف الترقيات أو تأخيرها
علاوات مختلفة	قسمة من الزيت	/	التنظيم العائلي	تحديد نهائي بعد الطفل الثالث	تحديد نهائي بعد الطفل الثالث
مدة الاستفادة من العلاوات	14 سنة	14 سنة			



## معطيات تخص السكان

- السكان : 1300 100 000 سنة 2004
- الكثافة السكانية : 135 ن / كم<sup>2</sup>
- العاصمة : بكين
- عدد السكان العاصمة : 10 836 000 نسمة
- نسبة التمدن : 41 % سنة 2004
- نسبة الولادات : 12 بالآلف 2004
- نسبة الوفيات : 06 بالآلف 2004
- نسبة وفيات الأطفال : 32 بالآلف سنة 2004
- مدى الحياة : 73 سنة نساء
- 70 سنة رجال
- يتضاعف السكان بعد 79 سنة
- مؤشر التنمية البشرية : 0.747

Image économique 2006



يعود انفتاح الإقتصاد الصيني إلى اختيار سياسي يتمثل في تنمية الساحل وإدماجه في الإقتصاد ذي الطابع الشمولي العالمي . وقد تم إنشاء أربع مناطق اقتصادية متخصصة منذ سنة 1980 وهي « شيزين » و « زوهاي » في إقليم جوانغدونغ و « سانتو » و « كزيامان » في إقليم فوجيان . وقد استفادت الموانئ الهامة من قانون خاص يمكنها من جمع رؤوس الأموال ، وإقامة مصانع أجنبية بالإضافة إلى إيجاد بورصتين ماليتين تجريبيتين عام 1991 في « شينزين » و « شنغهاي » . وقد ساهمت الجالية الصينية في الخارج في تمويل هذا الانفتاح الاقتصادي بما تقدمه من أموال كبيرة في مجال الاستثمارات داخل البلاد .  
جغرافيا نهائي تقني . ناتان



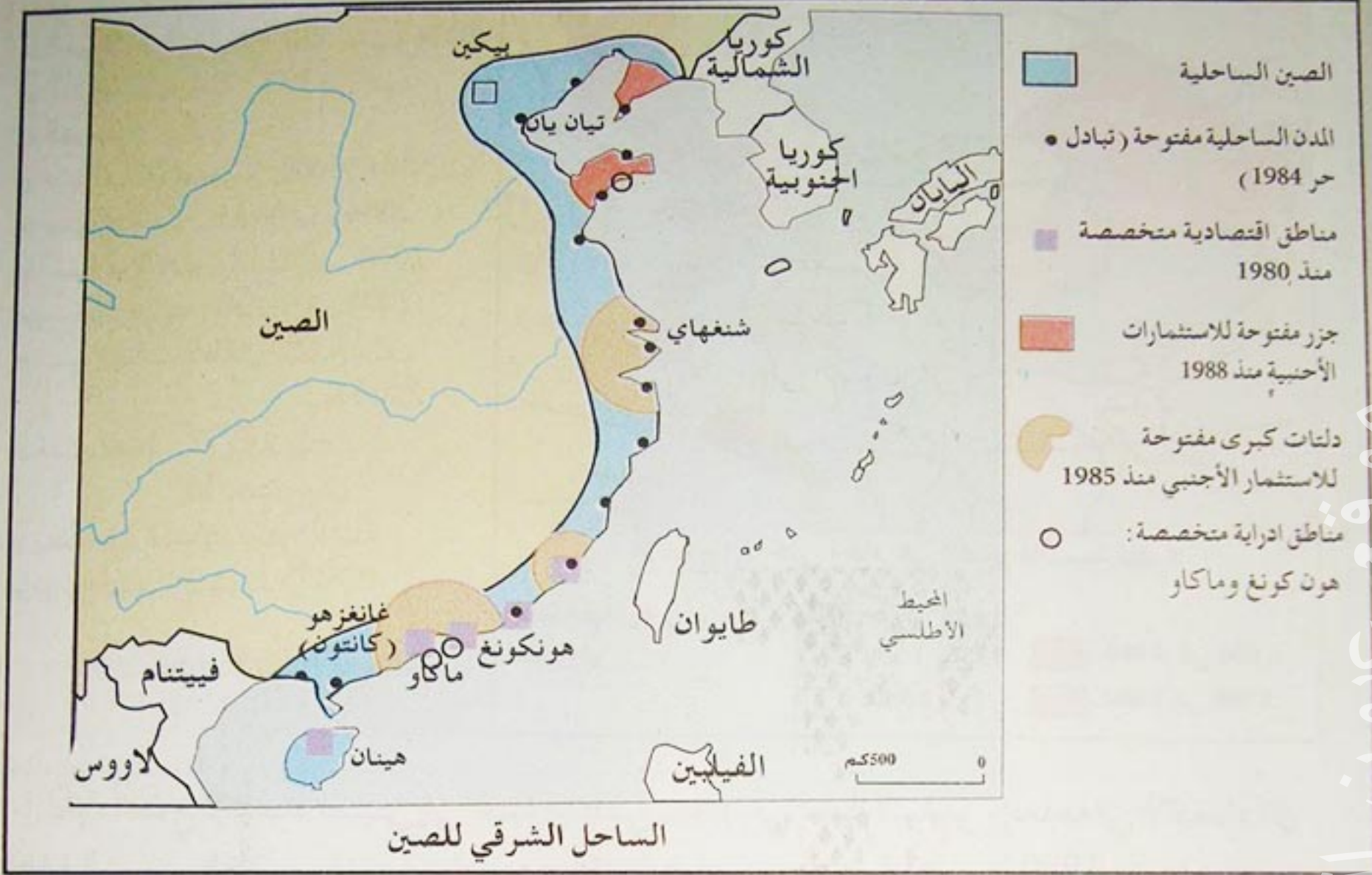
في شارع شنغهاي

## النشاط

- ماذا تستخلص من كل وثيقة على حدة ؟
- بين في صفحة على الأقل أثر الانفتاح الاقتصادي على التنمية في الصين .



## تطور الساحل الشرقي للصين



ميناء شانغهاي

يمثل الساحل الشرقي للصين فضاء متفتحاً على الاقتصاد العالمي. وهو ما يؤثر سلباً على التوازنات الاقتصادية والاجتماعية التقليدية بين غرب وشرق البلاد. حيث يتدرج مستوى التنمية من الضعيف الى المستوى العالي ويكون الجنوب الشرقي نموذجاً ومنطقة ضخمة للعصرنة.

ان الصين كعضو في منظمة التجارة العالمية منذ 2001 قد حققت تنمية اقتصادية مستقرة ودائمة بلغت نسبة النمو الاقتصادي فيها ما بين 7 و 10% تعود هذه الديناميكية الى جملة من العوامل منها:


الاستقرار السياسي، كثرة الطلب الداخلي، تزايد سكان المدن، عصرنة التجارة وتحرير الاقتصاد جغرافياً نهائياً فضاء العالم ناتان



## الصين تنين جديد


إن الصين بحكم إقليمها الواسع ووزنها الديموغرافي الضخم في آسيا، قد تحولت إلى ما يسمى بورشة ومخابر العالم. فسياسة الانفتاح التي تبنتها الدولة الشيوعية جعلت البلاد بمثابة قاطرة تجر كل عربات آسيا. تعتبر الصين المحطة الأولى لرؤوس الأموال الأجنبية ( 35 مليار \$ سنة 2003 )، ينتج 20 % من النسيج العالمي و 15 % من الأجهزة الالكترونية، وقد أصبحت بذلك خامس دولة مصدرة في العالم، وتحتل المرتبة السادسة في الاقتصاد العالمي بفضل دخلها القومي الخام البالغ 1200 مليار \$ سنة 2002. تساهم مؤسسات البلاد البالغة مليوني مؤسسة في نماء ثروة البلاد تماشياً مع مبدأ اعتماد نظامين سياسيين : الاقتصاد الاشتراكي والانفتاح على السوق.

جغرافيا نهائي فضاء العالم / ناتان



فضاء الانترنت في الصين

الصين : 600 مليون فلاح في مواجهة منظمة التجارة العالمية OMC



المصدر : غلاف / البريد العالمي

2002 / 02 / 20-14

## النشأة

– ما علاقة الوزن الديمغرافي بالتنمية في الصين ؟ ومدى تأثير التحول الاقتصادي الصيني على السوق العالمية ؟



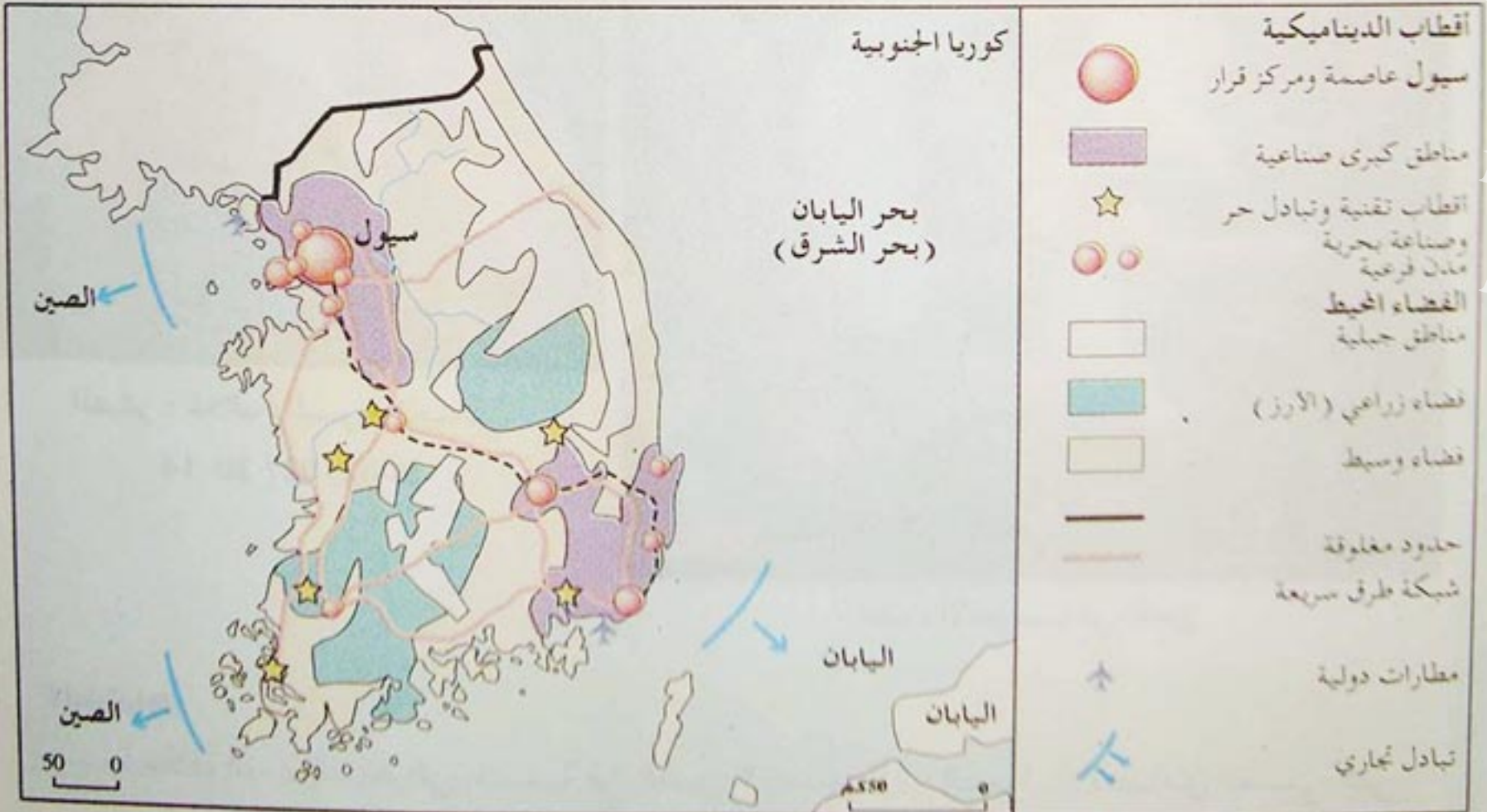
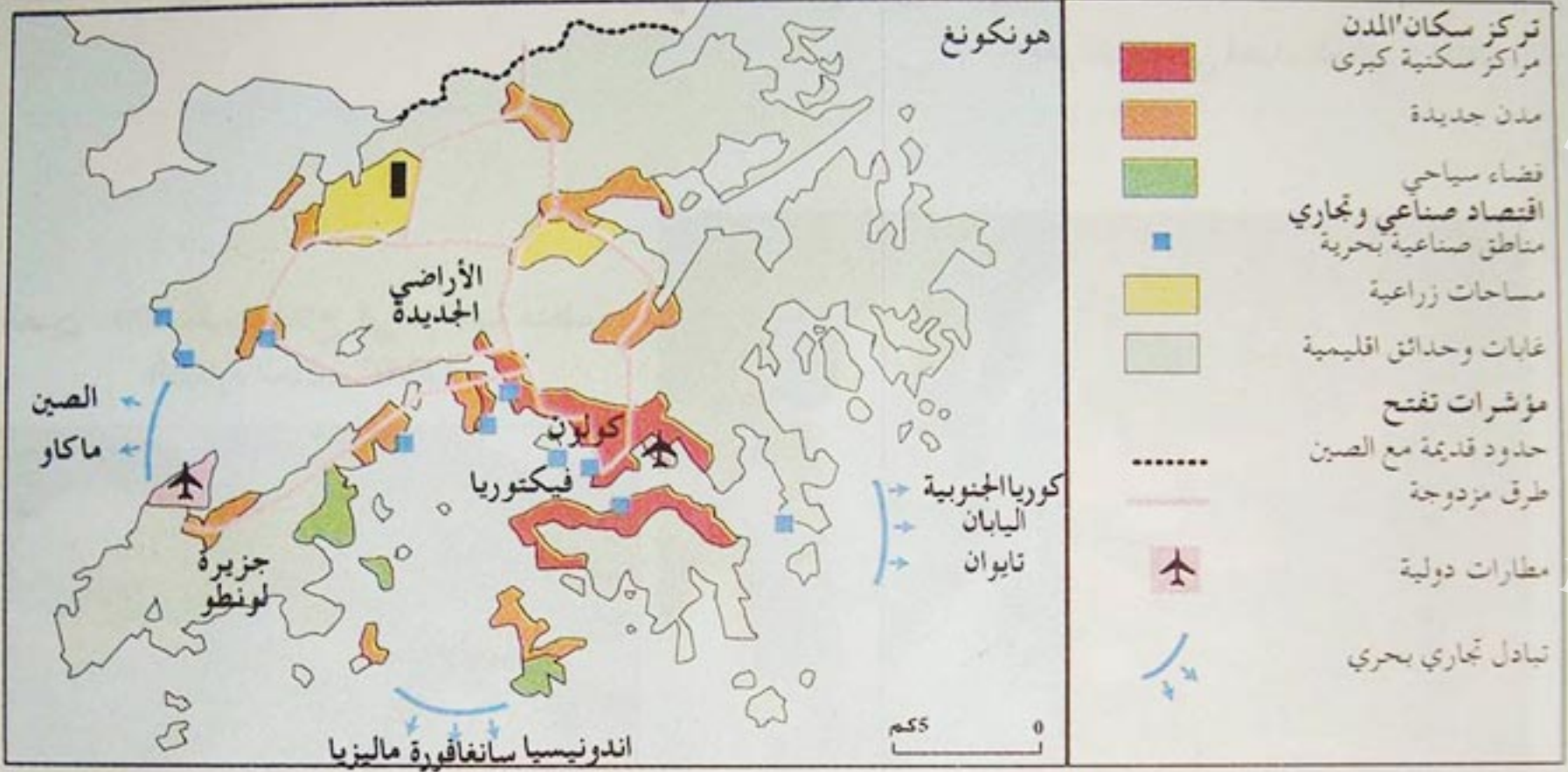
## 4- تخطيطات آسيا الشرقية

### الإشكالية :

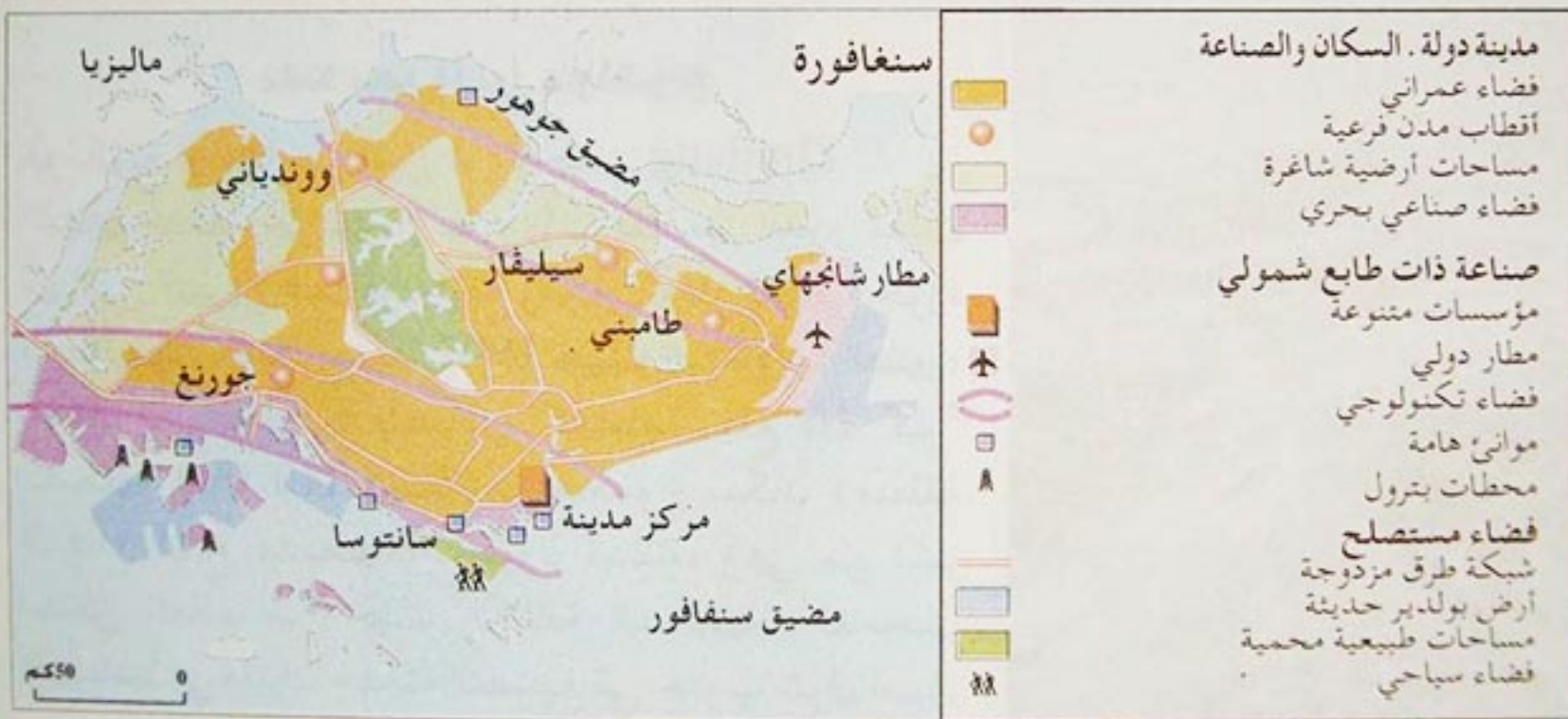
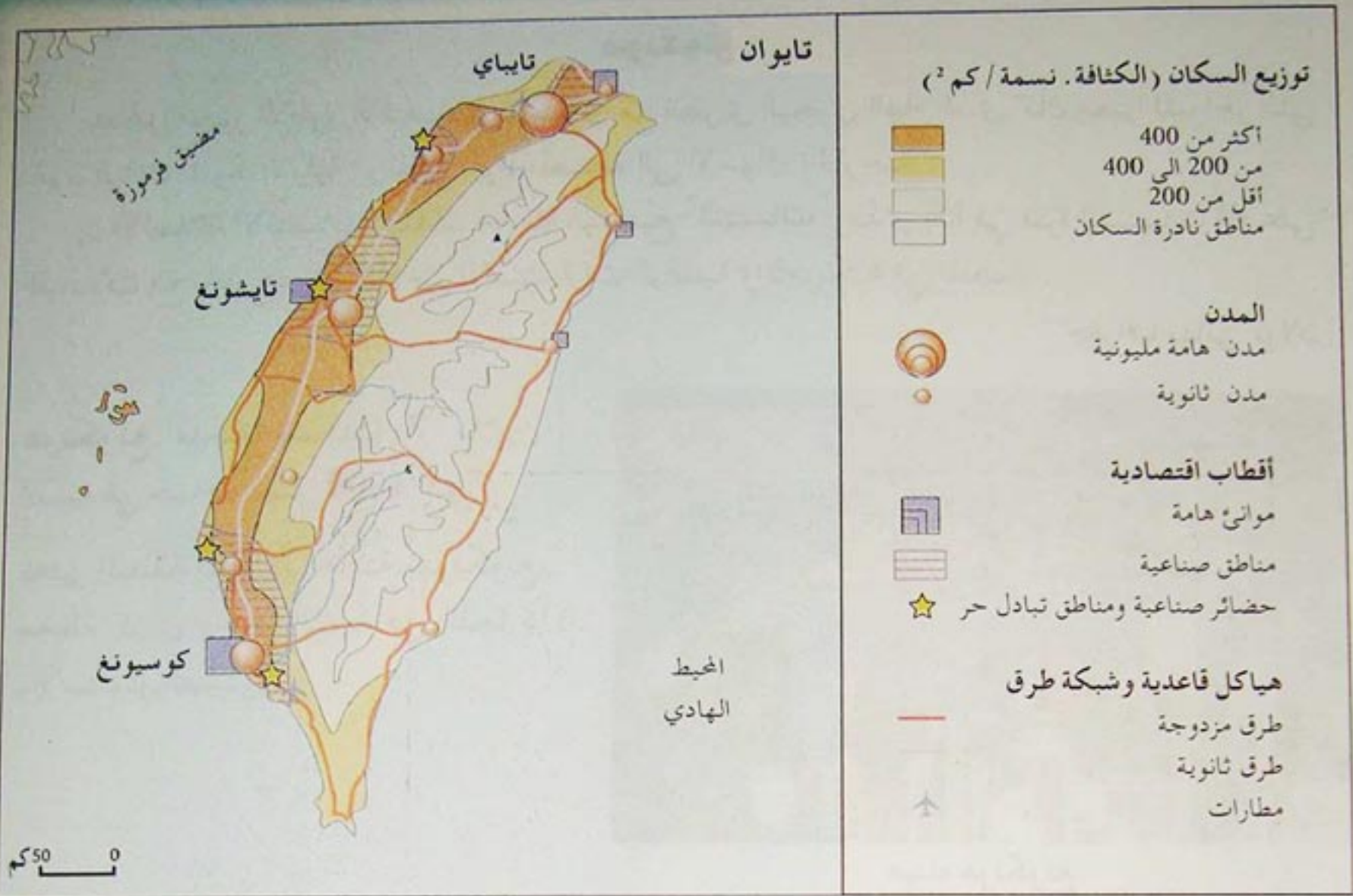
إن الدول حديثة التصنيع على طول ضفاف المحيط الهادي الغربية تتربع على مساحة 5000 كم<sup>2</sup> وقد استفادت من القوى الاقتصادية للضفتين لتحقيق تنميتها الخاصة .

كيف يمكن تفسير ذلك ؟

### التهيئة الإقليمية







البلد	المساحة كم <sup>2</sup>	السكان بالآلاف	% وفيات الأطفال	نسبة سكان المدن	مؤشر التنمية البشرية	الدخل الوطني الحام / ألف دولار السنوية	نسبة النمو
كوريا الجنوبية	99 484	47 069	7,9	81,2	0,933	26 750	2,1
هونكونغ	1 092	6 961	4,2	100	0,888	25 153	3,7
تايوان	35 980	22 370	5,9	75	بدون	17 394	6,4
سنغافورة	618	4 108	4,9	100	0,885	23 356	8

المصدر / حالة العالم 2003

التباد الاقتصادي والاجتماعي في آسيا الشرقية والجنوبية الشرقية



## هونكونغ

يتطابق محور التطور الاقتصادي الآسيوي مع الطريق البحري الهام الذي كان معبرا للبواخر التي تمون اليابان بالمواد الأولية أو تنقل المواد المصنعة الى الأسواق الخارجية .  
إن الانطلاقة الاقتصادية لبلدان حديثة التصنيع "التينيات" والذي بدأ في فترة الستينات قام على المبادلات مع الخارج، واستفاد من الاستثمارات اليابانية والأمريكية في المنطقة .

جغرافيا نهائي بولان



ميناء هونكونغ

هونكونغ مدينة يسكنها 7 ملايين نسمة في مساحة تصل 1000 كم<sup>2</sup>

تعتبر المنطقة الإدارية الخاصة بهونكونغ محطة كبرى وحجر الزاوية في التجارة والاستثمار الصينيين .



الطريق التي تربط هونكونغ بشينزينغ

### النشاط

تعتبر دلتا نهر الدرر "هونكونغ" نموذجاً لاندماج الصين في الاقتصاد العالمي، بين ذلك معتمدا على السندات المعطاة .

### دلتا نهر الدرر. هونكونغ

هونكونغ او دلتا نهر الدرر او زوجيانغ Zhujiang .  
تمتلك منطقة جواندونق على رأس دلتا نهر الدرر تمتلك ميناءين كبيرين هما هونكونغ ومكاو . وقد كانا في حوزة بريطانيا إلى غاية جويلية 1997 حيث استعادتها الصين، تحتفظ باستقلالها الاقتصادي كمنطقة تبلغ 16 كم<sup>2</sup> يسكنها 410 000 نسمة من مجموع سكان «منطقة الدلتا» البالغ عددهم 30 مليون نسمة، وهي من اكبر مناطق العالم من حيث الكثافة السكانية . اندمجت اقتصاديا في بلدان حديثة التصنيع في جنوب شرق اسيا .  
الجغرافيا / فضاء العالم / ناتان

يملك ميناء هونكونغ 8 محطات كبرى للاستقبال بشكل دائم وهو من اكبر موانئ العالم من حيث نقل الحاويات، يتم ذلك عن طريق البر الى داخل الأراضي الصينية . وقد عمدت الصين الى اقامة موانئ تجارية جديدة مجاورة لهونكونغ منها يانسيان وشيكو .

الجغرافيا للأقسام النهائية / بولان





ميناء أولسان في كوريا الجنوبية



حاضرة صناعية وتكنولوجية في شينشو

### نموذج تنمية ناجحة

فرض التنينان كوريا والتايوان نفسيهما كإقتصاد خدمات على الأسواق العالمية (60% من الإنتاج الداخلي الخام) وقد أسستا ديناميكيتهما على هياكل قاعدية وبنية تحتية قوية، موانئ هامة ذات الوزن والكفاءة العالمية (أوبسان، اينشون، كتوسيونج، طيشونج)

إن المجموعات الاقتصادية والتجارية لكوريا "Chaebols" مثل هيوندي وسامسونج تساهم في تنشيط الاقتصاد الوطني بالرغم من بعض الأزمات التي عرفت مؤسسه دايوو. وقد عرفت أنظمة الإنتاج تطور فروعها منذ سنوات، لتحصل على إنتاج بقيمة مضافة عالية في الصناعة الالكترونية والإعلام والطيران والتكنولوجية والبيوتقنية، وتبقى بعض المجموعات الصناعية الأخرى في مقدمة الطابور مثل صناعة السيارات (المرتبة الـ 5 عالميا) وصناعة الحديد والصلب (شركة بوسكو الكورية ثاني منتج للصلب في العالم).

الجغرافيا / فضاء العالم . ناتان



ظهرت كل من كوريا الجنوبية والتايوان على الخريطة الجيوسياسية لآسيا بعد الحرب العالمية الثانية، وعرفتا نموا اقتصاديا كبيرا قائما على نقل وتقليد النموذج الياباني، وانتقلتا خلال ثلاثة عقود من وضعية دول متخلفة إلى وضعية دول ذات دخل مرتفع. فالدخل الفردي الخام في التايوان يبلغ 15 000 دولار وفي كوريا الجنوبية يساوي 10 000 دولار.

تم تبني اقتصاد رأسمالي يعتمد على ديناميكية الاستثمارات للجالية الصينية في الخارج. وقد أصبح التايوان ثاني مستثمر إقليمي بعد اليابان كما أنه يشكل بمعية كوريا الجنوبية 4.3% من التجارة العالمية.

جغرافيا للأقسام النهائية / فضاء العالم - ناتان



### باخرة ناقلة حاويات ايفرجرين Evergreen .

أصبحت الشركة التايوانية ايفرجرين عملاقا في النقل البحري في اقل من 30 سنة . تأسست سنة 1968 من طرف شانج يونج - فا . وهي اليوم اكبر أسطول وعتاد لنقل الحاويات عن طريق البحر في العالم .

### النشاط

انطلاقا من السندات المعطاة والخرائط ص 94 و 95 قارن بين كل من كوريا الجنوبية والتايوان من حيث طابعهما التنموي .



## سنغافورة التنمية والتجديد التكنولوجي

تقوم الصناعة في سنغافورة على النشاطات ذات الطابع التقليدي بشكل قوي - ( بناء السفن وتكرير البترول ) ، وتعتمد الصناعة فيها منذ عشر سنوات على التجديد التكنولوجي من خلال برنامج وطني تجريبي حسب تصريح الوزير الاول " جو شوتوننج " الذي قال هل يمكن استبدال الابداع . لا بد من المحاولة .

وقد ارتفعت ميزانية وزارة التربية بـ 30 % ، خصص الثلث منها للإعلام الآلي في المدارس . أما البحث العلمي فإنه يشهد جهودا مركزة حول 5 قطاعات مفتاحية مثل علوم الحياة ، والكيمياء ، والالكترونيك ، وتكنولوجيات الاعلام ، والصناعة . تتمثل أهداف الدولة في :

- رفع ميزانية البحث والتنمية في البلاد  
- الاهتمام بالباحثين الأجانب والعناية باستقبالهم وقد شكلوا 18 % من مجموع 11 300 عالم مقيم في البلاد .  
وعلى حد قول « شان ينين لين » مدير مركز البحث العلمي في سنغافورة : « دولتنا صغيرة ليس لها موارد طبيعية ، لا تستطيع أن تعيش متفوقة على نفسها » .

سنغافورة أفريل 2000 Challenges N 146 Merci ma puce




ميناء سنغافورة

تأسست مدينة سنغافورة « كمدينة دولة » سنة 1819 واستفادت كثيرا من موقعها كمدخل لمضيق « ملغاش » ، تقدر مساحة الجزيرة بـ 600 كم<sup>2</sup> و يسكنها 4,5 مليون نسمة .

لقد مكن نموذج التنمية فيها ( كدولة ورشة ) من تحقيق اقتصاد مزدهر بدخل قومي خام بلغ 2 005 دولار للفرد الواحد ، وهو نموذج قائم على تدخل الدولة وضمن الاستقرار السياسي وعلى حرية تنقل رؤوس الأموال الأجنبية خاصة منها أموال الصينيين الذين يشكلون 3/4 السكان .

### التجارة الخارجية في سنغافورة



### النشاط

ماذا تستخلص من السندات المختلفة المعطاة بالنسبة لنموذج التنمية في سنغافورة ؟



## النمور الصغيرة

ساهم تطور اليابان والتينينات في تنمية الكثير من البلدان الآسيوية بشكل متفاوت وعلى رأسها ما يسمى بالنمور الصغيرة .  
- فيم يتضح ذلك ؟

في نهاية الحرب العالمية الثانية، كانت الدول المتطورة في شرق وجنوب شرق آسيا هي كل من اليابان والدول حديثة التصنيع أو "التينينات" . وكانت تايلاند وماليزيا واندونيسيا والفيلبين تمثل ما يسمى بالنمور الصغيرة، قريبة من الدول حديثة التصنيع، وهي تشكل إقليما هاما ووزنا ديموغرافيا كبيرا، كما انها تشكل دولا زراعية عملت على تطوير الزراعة المعاشية ( الارز والذرة ) الى جانب الزراعة التجارية كالمطاط الطبيعي والخشب وزيت النخيل والبن والصيد البحري . ثم إنها بلدان غنية بالموارد المعدنية وموارد الطاقة كالبترول والكهرباء المائية والفحم . وتتوفر على امكانيات سياحية .  
تقوم الصناعة فيها باعتبارها بلدان نامية على الصناعات التحويلية والنسيجية، تتقدمها كل من تايلاندا وماليزيا في تنمية واستغلال قطاع الإلكترونيك والنسيج ووسائل النقل .  
جغرافيا نهائي / بولان

Image Economique du monde 2005

معطيات إحصائية

البلد	المساحة كم <sup>2</sup>	عدد السكان مليون / ن	الدخل الوطني الخام	نسبة النمو
تايلاندا	514 00	63,1	2000	8,7
ماليزيا	329 749	25,1	3 540	9,6
اندنوسيا	1 904 345	220,5	710	8,1
الفيلبين	300 000	81,6	1 030	4,8

### تايلاندا والتينينات

إن الانتقال من صف النمور الصغيرة إلى صف النمور عمل جبار في ميدان التنمية الاقتصادية . وقد مارست تايلاندا تلك التجربة بعد 10 سنوات من نمو اقتصادي يزيد على 8 %، عرفت في ذلك صعوبات جمّة. تخص الجانب الاجتماعي والبيئة والهياكل القاعدية والمنافسة في القطاعات الاقتصادية الأساسية والاستقرار على نفس وتيرة التنمية إلى غاية سنة 2000.

تبعاً لذلك تضاعف الدخل الفردي وعرف المجتمع تحولا كبيرا لم تشهد له تايلاندا مثيلا من حيث الرفاه والغنى، وعرف أيضا مشاكل من نوع آخر مثل اكتضاض المدن والتلوث وغيرها.

العالم جوان 1996

إشهار للوريال  
L'OREAL في  
التايوان أو الاستهلاك  
على الطريقة الغربية  
نظرا لارتفاع  
المستوى المعيشي  
أصبحت التايوان منذ  
1990 مستهدفة من  
طرف المجموعات  
الدولية الكبرى  
كسوق استهلاكية .





## أهداف اتحاد دول جنوب شرق آسيا " ASEAN "

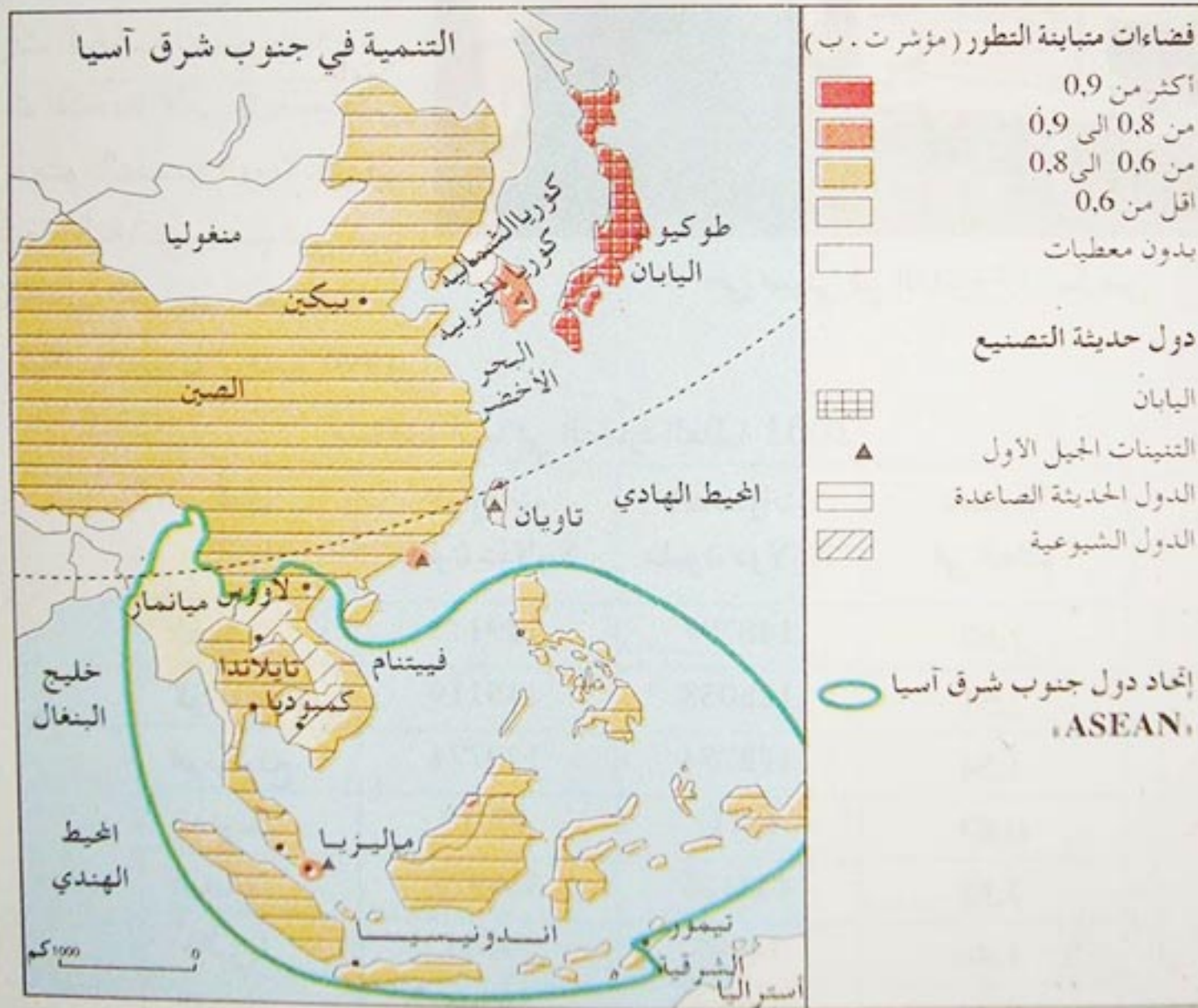
عرفت كل من تايلاندا واندونيسيا وماليزيا وسنغافورة والفلبين 1967 تنظيما إقليميا يسمى باتحاد دول جنوب شرق آسيا « ASEAN » وكان هذا التنظيم بمثابة تجمع دفاعي ضد انتشار الشيوعية في المنطقة. وقد غيرت نهاية الحرب الباردة من معطيات الوضع، إذ توسع الاتحاد وانضمت إليه بروني 1984 والفيتنام 1995 واللاوس وميانمار 1997 ثم الكامبوج 1999 وتحول الى منطقة تبادل حر تتمثل أهدافه في :

- العمل على ضمان التنمية الاقتصادية والاجتماعية والثقافية للمنطقة من خلال برامج للتعاون المشترك .  
- ضمان الاستقرار السياسي والاقتصادي في إطار منبر حل المشاكل القائمة بين الأعضاء .

وقد برز الاتحاد في المنطقة كشريك في إطار النظام الإقليمي الجديد الذي تعرفه المنطقة .  
ثم إن الإتحاد يشهد تطورا إقتصاديا كبيرا تؤدي من خلاله مدينة سنغافورة دورا هاما فيما يخص تقديم الأموال للإستثمار في التكنولوجيات العالية والخدمات وقد ساهمت أزمة 1997 في خلق التقارب بين الأعضاء في صالح الاستثمارات الأجنبية

تهدف منطقة التبادل الحر المقامة سنة 1993 الى إزالة الحواجز الجمركية بين البلدان الأعضاء في حدود 2010 وصولا إلى تمويل سوق جهوي يقدر ب500 مليون مستهلك.

العالم نوفمبر 2002



### النشاط

- ماذا تستخلص من مختلف السندات المعطاة ؟
- أكتب صفحة على الأقل تجيب فيها على الاشكالية المطروحة .



### الإشكالية :

تعتبر آسيا الشرقية قطبا هاما من الأقطاب الكبرى الثلاثة في العالم إلى جانب "الو.م.أ - أوروبا" وتشكل من خلال انفتاحها على المحيط الهادي قوة حيوية حديثة متصلة بالفضاء العالمي ومؤثرة في اقتصادياته .

لماذا ؟



حي صيني في الدائرة 13 باريس

### القوة المالية في خدمة حيوية الصناعة

إن القوة المالية تكون في خدمة حيوية الصناعة إذ يتم على سبيل المثال، إقامة مصانع للسيارات وشراء الوحدات الموجودة من قبل، لذا نجد أربع أنواع من السيارات اليابانية تصنع وتباع في الولايات المتحدة الأمريكية. ونفس الشيء يتم بالنسبة لأوروبا. أي أن الاستثمار الياباني يتم في عين البلد لتجنب الحواجز الجمركية .

ليكسانسيون نوفمبر 1990

### مساهمة آسيا في التجارة العالمية 2001

نسبة % في العالم	الصادرات مليون دولار \$	الواردات مليون دولار \$	دول آسيا
2,63	148797	129113	الصين
2,51	125058	135119	كوريا الجنوبية
3,54	173754	129774	هونغ كونغ
0,83	45417	40918	اندونيسيا
7,52	443125	335975	اليابان
1,46	74045	77751	ماليزيا
0,44	17502	28396	الفلبين
2,34	118265	124507	سنغافورة
2,08	111688	103572	التايوان
1,26	56440	73654	تايلاندا



عرفت آسيا (المحيطية) في السنة الماضية أحسن كفاءاتها منذ أزمة (1997 - 1998) وقد ارتفع نمو الناتج الداخلي الخام في آسيا الشرقية من 6.7% سنة 2003 الى 7.8% سنة 2004 وارتفع في جنوب شرق آسيا من 5% الى 6.3% في حين بقي في المنطقة المحيطية قارا بنسبة 2.6%.

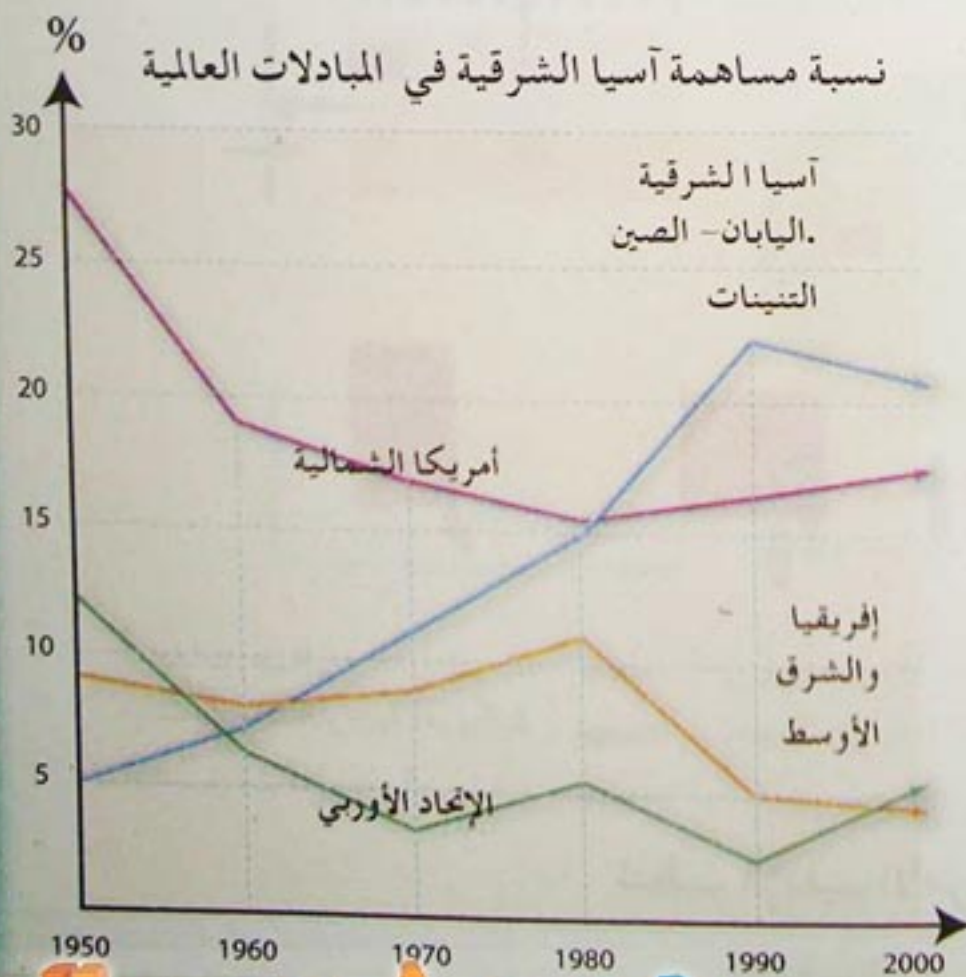
تحتل الصين الطليعة ومن ورائها كل من هونكونغ وماليزيا وسنغافورة والفيتنام. يعود تطور المنطقة الى الظروف الدولية الملائمة، حيث ازداد طلب الدول المصنعة مثل الولايات المتحدة الأمريكية على إنتاج قطاع الإلكترونيك، كما أن هناك طلب داخلي مرتفع اقتضته ظروف التحسن والتطور المعيشي وزيادة الاستهلاك المحلي، في مدن تشهد توسعا كبيرا.

إن النمو المتزايد للمنطقة قد يشكل خطر التسارع حتى ولو كان التضخم الحالي عاديا 3.9% في الصين سنة 2004، لكنه غير ذلك في البلدان الأخرى. وقد تخلصت آسيا تدريجيا من التبعية لصادراتها التي بلغت أوجها، وأصبح بإمكانها الاعتماد على السوق الداخلية الذي شهد اندماجا تجاريا إقليميا، وأصبحت المنطقة مركز جلب التدفقات المالية بشكل كبير.

Image économique 2006

### تطور الصادرات الصينية 1990 - 2002

البلد 1990	مليون دولار	% من مجموع الصادرات	البلد 2002	مليون دولار	% من مجموع الصادرات
الو.م.أ.	5179	8.3	الو.م.أ.	69950	21.5
أوروبا	9317	15	أوروبا	59226	18.2
اليابان	9011	14.5	اليابان	48437	14.8
آسيا	3044	57.3	آسيا	121878	37.5
بقية العالم	3044	4.9	بقية العالم	26074	08



### قوة بحرية كبيرة

تمتلك دول آسيا الشرقية والجنوبية الشرقية نموذج تنمية قائم على الانفتاح على الاقتصاد العالمي وتوجه اقتصادها نحو الطرق البحرية، مما تطلب تهيئة الواجهات البحرية، بما يمكن من تزايد ونمو المبادلات التي تساعد على النمو الاقتصادي للمنطقة، وتكون بذلك آسيا ملتقى الطرق التجارية العالمية. جغرافيا نهائي تقني. برتران لاكوست

### النشاط

وظف السندات المعطاة في الإجابة على الإشكالية المطروحة في صفحتين على الأقل.



استعن بمختلف السندات المعطاة لكتابة حصيلة استخلاصية بالنسبة لما تقدم من وضعيات تعليمية

### الولايات المتحدة الأمريكية قوة عظمى

تعتبر الولايات المتحدة الأمريكية كدولة قارة بمساحة 9 ملايين كلم<sup>2</sup>، وتعداد سكاني بلغ 300 مليون نسمة سنة 2006.

تتمتع بكل المقومات التي تجعل منها القوة العظمى في العالم 30% من الناتج الداخلي الخام عالميا و 18% من الصادرات العالمية.

تمتلك أكبر قوة عسكرية في العالم وتمثل أوج العلاقات الدولية، يشكل النموذج الأمريكي نمطا منتشرا في المعمورة بواسطة شركاتها المتعددة الجنسيات ومنتجاتها ذات الشهرة، وتلعب وسائل الإعلام والإشهار الدور المروج للصورة الأمريكية، وهي قطب جذاب للشهرة العالمية.

هناك انتقادات كثيرة موجهة للولايات المتحدة الأمريكية فالمجتمع الأمريكي يعاني من الفوارق الاجتماعية على غير ما هو موجود في بقية الدول، وتشكو من عجز متزايد منذ زمن بعيد حيث يقدر العجز التجاري بـ 500 مليار \$ وهي تعوض ذلك بهيمنتها وعرض نمطها الاستهلاكي على العالم.

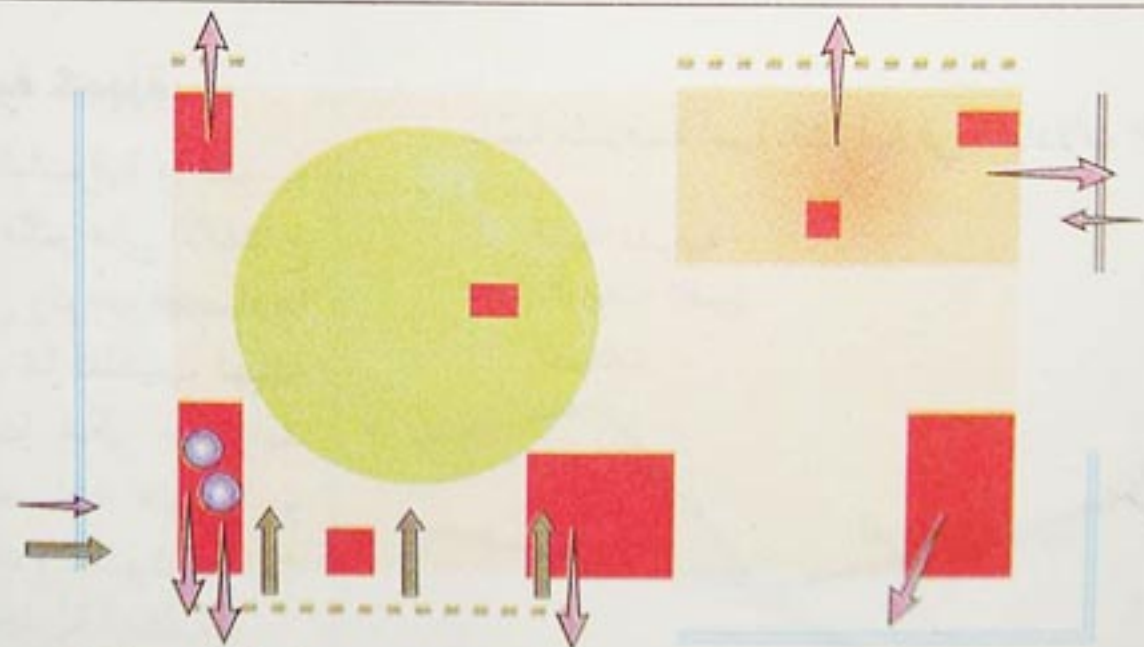
### إقليم منظم

يعتبر الإقليم الأمريكي إقليمًا حديثًا مهينًا بشكل واسع تبدو فيه شبكة من المدن الكبرى ذات المستوى العالمي مثل نيويورك، شيكاغو، لوس أنجلوس، ودلاس وأتلانطا.

وتلعب شبكة النقل دورا هاما في دولة شاسعة جدا مثل الو.م.أ حيث نجد تنقلا هائلا للسكان والبضائع. ويظهر مع ذلك تباين بين المناطق المختلفة.

تستحوذ مناطق الجنوب والغرب على مكانة هامة مقارنة بالمناطق الصناعية القديمة والتي تشهد من جديد تحولا صناعيا.

عرفت كاليفورنيا على الواجهة الغربية ميلاد منطقة منافسة للواجهة الشمالية الشرقية القديمة.



فضاءات هامة

- |                    |             |                           |
|--------------------|-------------|---------------------------|
| أقطاب قديمة التطور | واجهة بحرية | تدفقات عمال               |
| مناطق التجديد      | واجهة قارية | استثمارات خارجية أمريكية  |
| مناطق بعد عالمي    |             | استثمارات أوروبية وآسيوية |
| منطقة داخلية       |             |                           |

تنظيم الإقليم الأمريكي



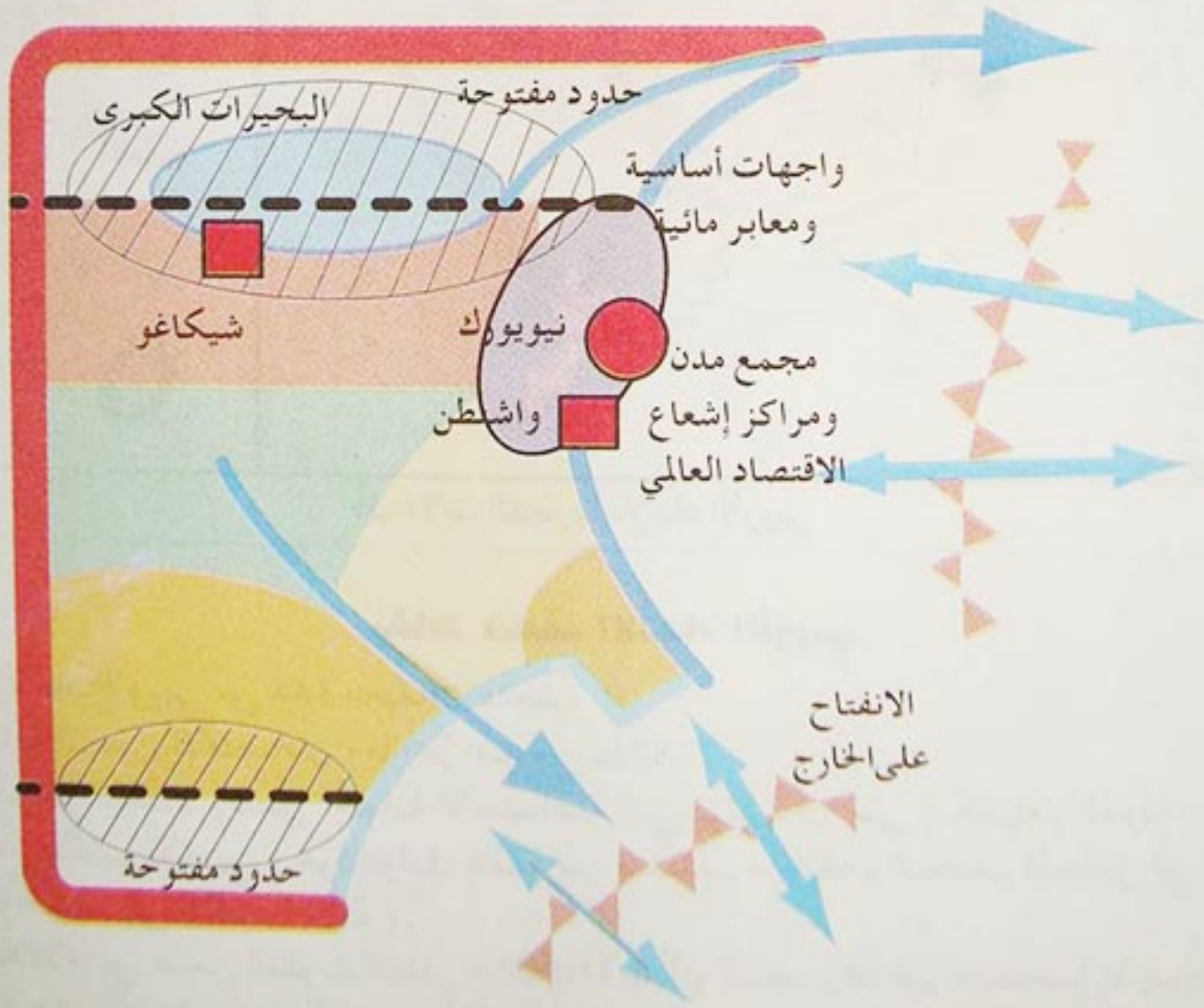
## الواجهة الأطلسية

تحتل الواجهة الشمالية الشرقية الأطلسية للولايات المتحدة مكانة هامة في إطار اتحاد التبادل الحر لأمريكا الشمالية والمعروف بـ (Alena) مع كندا والمكسيك باعتبارهما الدولتان المحاذيتان لها. ذلك ما يدعم مكانة الشركاء الثلاثة.

يتم الانفتاح على المحيط الأطلسي على واجهة تمتد من موانئ كندا شمالا إلى موانئ المكسيك على خليج المكسيك جنوبا مروراً بالواجهة الأطلسية للولايات المتحدة الأمريكية.

يمتد القلب النابض لاقتصاد كندا من المحيط الأطلسي إلى البحيرات الكبرى وسان لوران حيث يوجد مجمع مدن هامة. في حين يركز المكسيك نشاطه على الواجهة الأطلسية من خلال أقطاب صناعية وسياحية هامة.

وتتملك الولايات المتحدة الأمريكية عمقا داخليا واسعا يمتد من نهر المسيسيبي إلى البحيرات الكبرى مستحوذا بذلك على كل المنطقة الشرقية للبلاد.



الواجهة الأطلسية للولايات المتحدة الأمريكية



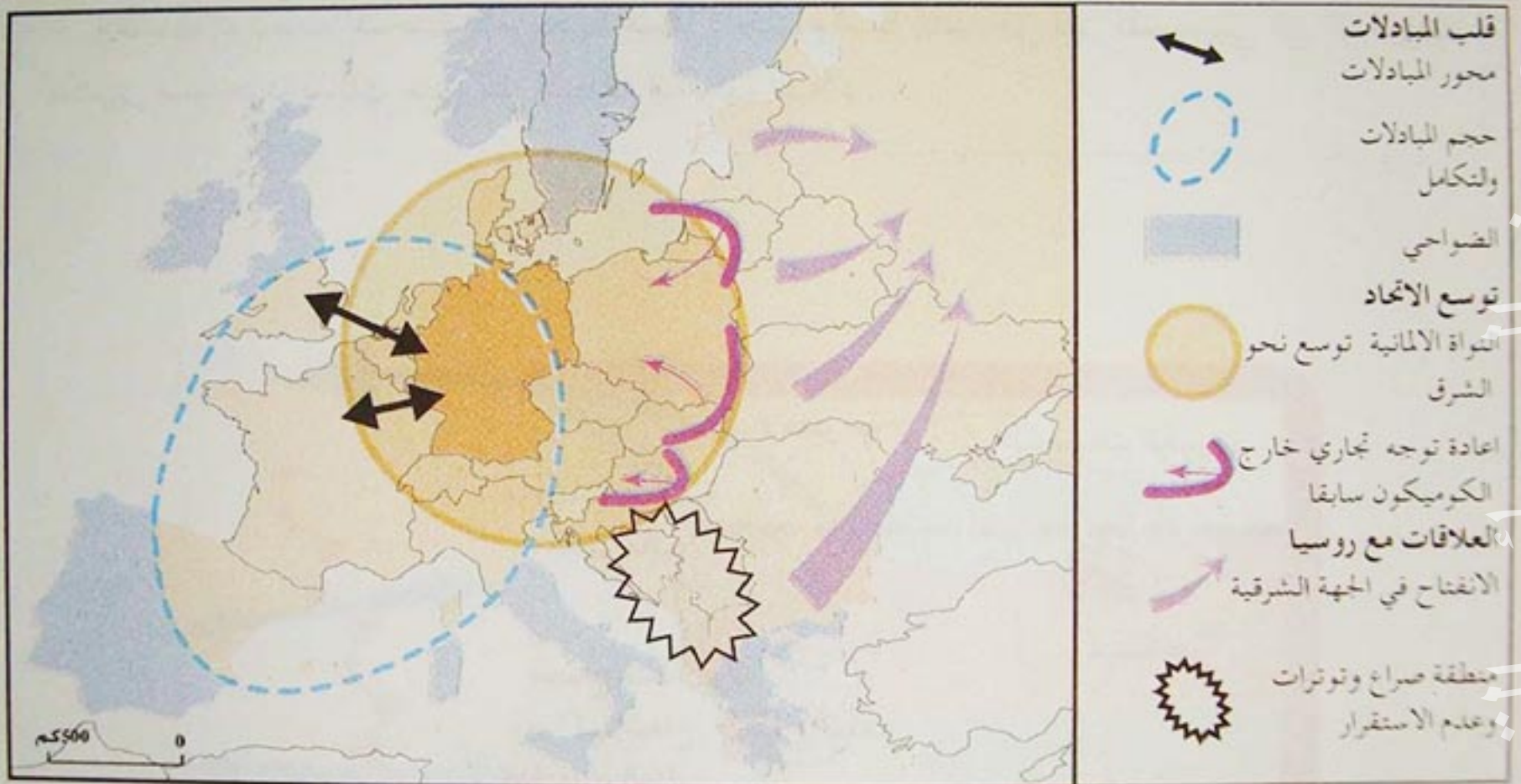
## الإتحاد الأوروبي

يشكل الإتحاد الأوروبي المجموعة الديموغرافية الثالثة في العالم بعد الصين والهند. وهو قطب من أقطاب الثالوث العالمي، يضم 27 دولة يضاها في وزنه الاقتصادي قوة الو.م.أ، ويحتل المرتبة الأولى في التجارة العالمية والإنتاج الصناعي. كما يشكل أوسع سوق استهلاكية في العالم، يستقطب أكثر من 2/1 المستثمرين الأجانب.

يعتبر الإتحاد الأوروبي عنصرا فاعلا أساسيا في العولمة وقد ينسج علاقات وطيدة مع دول الجنوب وهو من أول المساعدين على التنمية بالنسبة لتلك الدول.

يمكن اعتبار الإتحاد الأوروبي الذي ضم دولا متناحرة فيما مضى نموذجا للعديد من المناطق في العالم حيث نجد دولا لا تقوى على الاندماج في مسار العولمة بفعل تفككها وانقسامها وهي لا تعرف تعاونا فيما بينها إلا من خلال مناطق التبادل الحر.

ساهمت السياسات المشتركة للإتحاد في الميدان المالي والزراعة والتنمية الجهوية في تقوية الروابط بين الدول الأعضاء.



المبادلات التجارية للإتحاد الأوروبي

## نقاط ضعف الإتحاد الأوروبي

- يعاني الإتحاد الأوروبي من عدة معوقات داخلية :
- ضخامة التحول الاقتصادي وما انجر عنه من بطالة.
- شيخوخة السكان ونقص الحماية الاجتماعية التي تؤثر سلبا على إمكانيات الدولة .
- اتساع الاقليم الأوروبي وجود فوارق قائمة بين مختلف مناطقه ( التخلف المسجل في الدول الـ 10 المنظمة حديثا الى الإتحاد 2004 ) .
- يظهر الإتحاد الأوروبي ضمن الثالوث العالمي ( La Triade ) كمجموعة غير منسجمة إذ يسجل بعض التأخر في ميدان البحث والتنمية وفروع الاقتصاد المعاصر. ثم أنه لا زال في طور التكوين كمجموعة دول متباينة ضعيفة على الساحة الدبلوماسية العالمية بعيدا عن موازاة القوة العسكرية للو.م.أ التي تعتبر قوة عظمى دون منازع .



## الراين قلب الإتحاد الأوروبي

ينظم المجال الاقليمي للإتحاد الأوروبي حول فضاء مركزي يمتد من جنوب شرق إنجلترا إلى شمال إيطاليا والذي ينتج قرابة نصف الدخل الوطني الخام لدول الأعضاء في الإتحاد.

وهي من أقوى المناطق في العالم مثل شمال شرق الو.م.أ ومجمع مدن اليابان نجد فيها عاصمتين عالميتين لندن وباريس .


وتعتبر المناطق الأخرى من المناطق المحيطة، تختلف باختلاف درجة اندماجها في الإقليم المركزي (الراين) .

تعتبر منطقة الراين الممتدة من سويسرا إلى بحر الشمال العمود الفقري للمجموعة الأوروبية يشكل فيها نهر الراين محورا للتنقل المتنوع يصب في ميناء روتردام الذي يعتبر أكبر ميناء في العالم .

وتعتبر منطقة الراين منطقة مدن كثيرة ومراكز صناعية كبرى يغلب عليها النشاط الخدماتي .



2000 سنة من التمدن في حوض الراين



ميناء روتردام أول ميناء عالمي / 328 مليون طن سنويا



## آسيا الضخامة والتنوع

تشكل آسيا الشرقية كتلة ديموغرافية تتجاوز المليار ونصف المليار نسمة، وتسجل الكثافة السكانية ارتفاعا في الأرياف والمدن على حد سواء، وتعتبر المدن مثل طوكيو وسيول وأوزاكا محرّكا حيويا للاقتصاد الإقليمي.

تستحوذ المنطقة على 4/1 الثروة العالمية تقريبا وهي مدينة في ذلك للثروة المالية اليابانية ونجاح التينينات وتحول الصين.

تعتبر المنطقة مركز جذب الاستثمارات الأجنبية وهي ذات اقتصاد متفتح على العالم تشكل في الوقت الراهن فضاء توسع كبير.

## آسيا متعددة الأقطاب

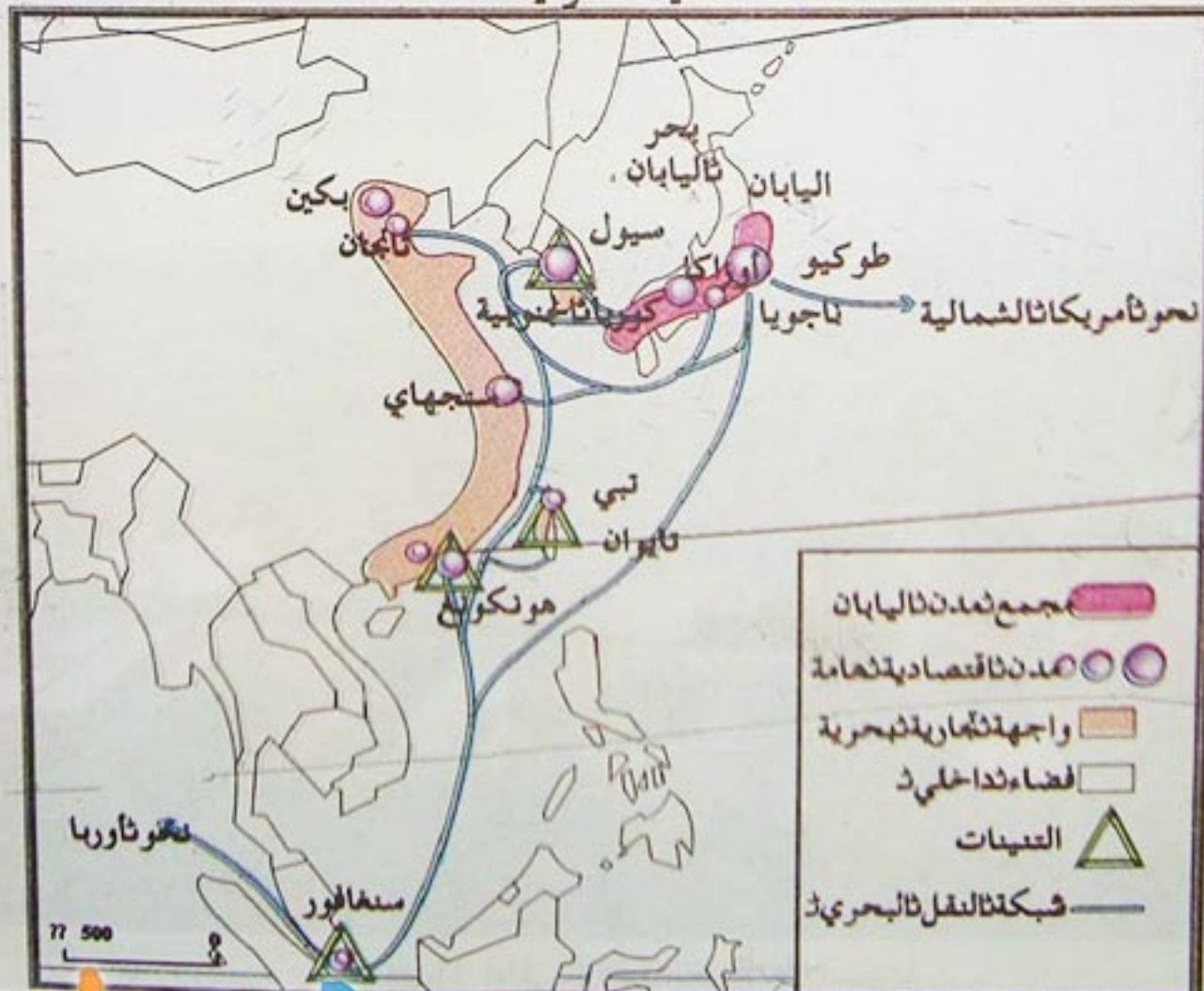
القطب الأول هو اليابان الذي يشكل في نفس الوقت ثاني قوة اقتصادية في العالم بفضل فائضه التجاري وهو الممول للمنطقة، يعتمد في نجاحه على قوة الشركات المتعددة الجنسيات لكن يواجه منذ 1990 أزمة إقتصادية حادة. ( شيخوخة السكان والبطالة التي حلت محل الوظيفة مدى الحياة ).

ويتمثل القطب الثاني في التينينات ( كوريا الشمالية، التايوان، هونكونغ، وسنغافورة ) التي استفادت من التحول التكنولوجي الياباني لاقامة تنميتها وهي بذلك دول ذات دخل وطني مرتفع وقوة تجارية ومراكز مالية هامة غير أنها تبقى ذات اقتصاد هش تجاه الاقتصاد العالمي.

القطب الثالث وهو الصين حيث أصبحت المنطقة الساحلية الشرقية فيه تشكل تينينا جديدا وورشة العالم ( اقتصاد السوق الاشتراكي ) الذي برزت فيه سوق ذات نسب عالية للنمو الاقتصادي معتمدة على قوة اليد العاملة.

تمتد الصين الشرقية على محور بكين في الشمال شنغهاي في الوسط وهونكونغ في الجنوب.

## آسيا الشرقية





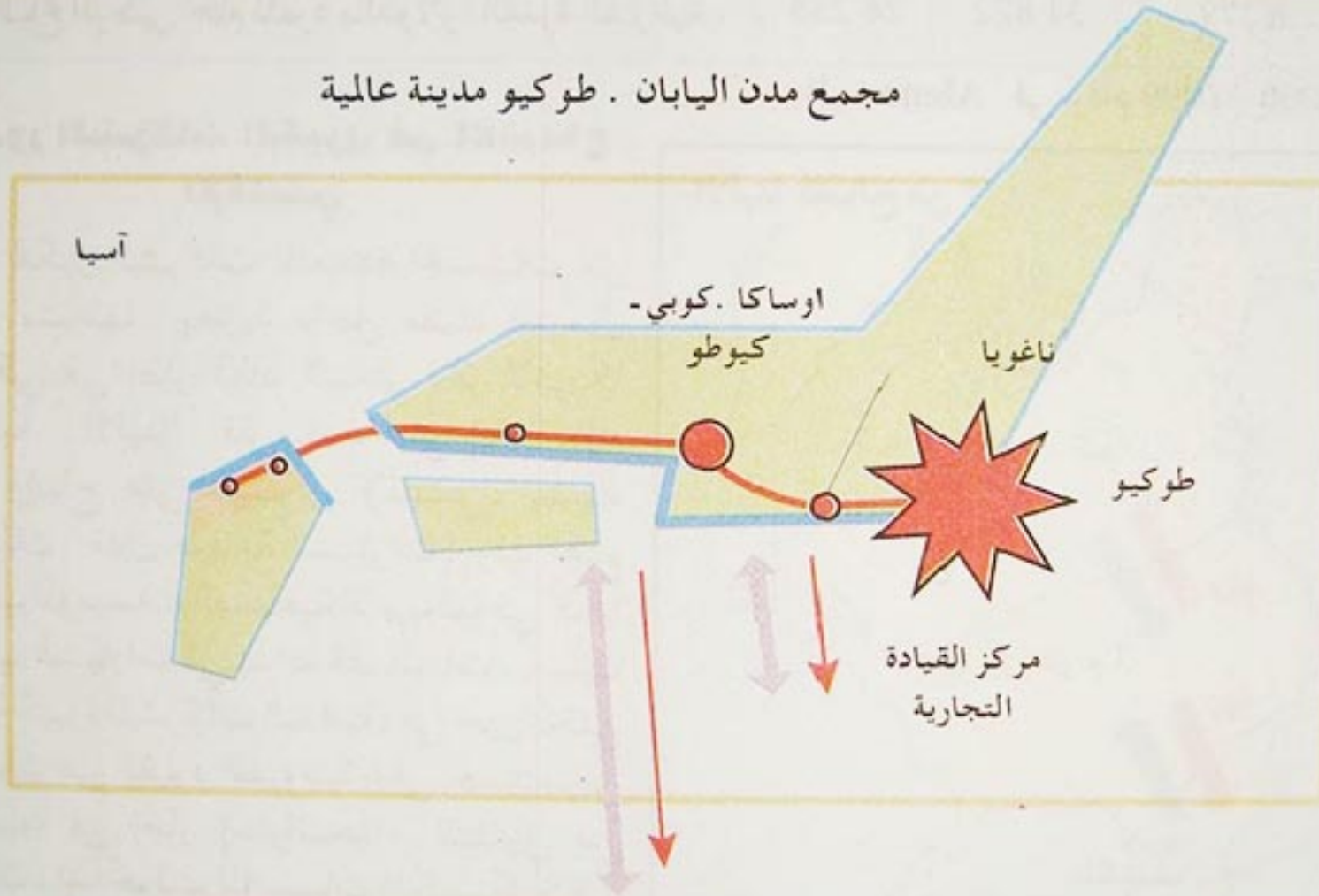
## مجمع المدن اليابانية

يضم مجمع المدن اليابانية 100 مليون نسمة على مساحة قليلة من البلاد (3 %)، تمتاز بشبكة نقل واتصال متطورة جداً وبعديد من الموانئ ذات الشهرة العالمية.

طوكيو مجمع المدن اليابانية الذي هو من أكثر السكان في العالم، يتركز فيه 3/1 الثروة المنتجة في اليابان ويحتل المرتبة المالية الثانية دولياً؛ كما يتركز فيها سلطات القرار السياسي والاقتصادي، تتبعها أقطاب فرعية توجد في خليج ناغويا وأوزاكا.

يوجد المجمع في منطقة مخاطر كبرى، يؤثر على الامكانيات الاقتصادية. لقد نجح نموذج المجمع الياباني في التهيئة الحضرية رغم وجوده في منطقة المخاطر الكبرى (شهد عديداً من المخاطر الايكولوجية) التي تؤثر على الامكانيات الاقتصادية للبلاد.

مجمع مدن اليابان . طوكيو مدينة عالمية



«شينجو كو» مركز أعمال بطوكيو

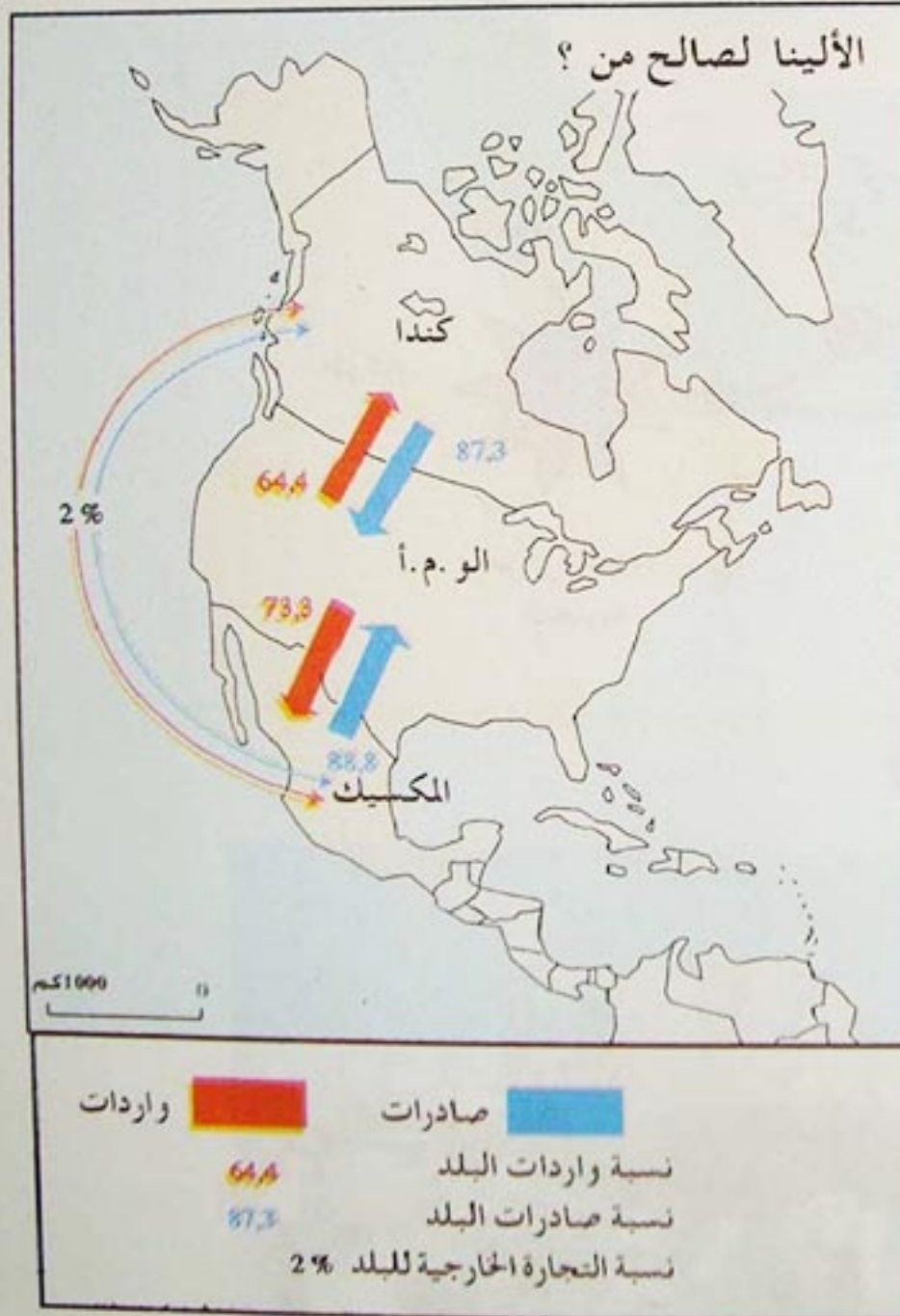


## وضعية إدماجية - تقويمية

لماذا يعتبر اتحاد التبادل الحر لأمريكا الشمالية أداة الاندماج الاقتصادي ؟

المكسيك	الو.م.أ.	كندا	البلد
100	290	31	عدد السكان . مليون نسمة
31	7.6	55	الزيادة الطبيعية بالألف 1995-2000
% 74.2	% 77	% 77	نسبة التمدن
0.790	0.934	0.936	مؤشر التنمية البشرية
8 279	31 872	26 255	الناج الوطني الخام للفرد بالدولار / القدرة الشرائية

ألينا Alena في أرقام 1999-2000



### دور الشركات الكبرى في الاندماج الإقليمي

إن تمكين الشركات المتعددة الجنسيات من تنظيم نشاطها بحرية داخل فضاء الشمال الأمريكي في إطار اتحاد التبادل الحر لأمريكا الشمالية "الألينا" قد ساعد على إقامة نظام تنمية وإنتاج على المستوى الإقليمي، يشهد على ذلك مثال صناعة السيارات. وقد اهتم أصحاب المؤسسات الصناعية الأمريكية في كندا بتركيب السيارات في بداية الثمانينات، سبب منافسة كبيرة للشركات اليابانية، في حين تخلى المكسيك عن القيود المفروضة على المستثمرين الأجانب، في إطار إستراتيجية التقليل من الواردات، لذا تحولت المؤسسات المكسيكية إلى قواعد مصدرة لقطع الغيار ثم السيارات الخفيفة، وتم على هذا الأساس ذلك إقامة صناعة إقليمية مندمجة موجهة أساساً لتمويل سوق الولايات المتحدة الأمريكية.

إن عملية تركيب السيارات في كندا قد استفادت من الأسعار المنخفضة بسبب القوة الإنتاجية للعمال، على غير ما هو واقع في الو.م.أ. بينما ظلت أجور العمال في المكسيك منخفضة رغم خبرتهم وتأهيلهم.

مجلة البدائل الاقتصادية رقم 209 ديسمبر 2002



## التنمية في دول الجنوب

تباين التنمية في العالم



دول الجنوب

دول الجنوب  
قوى اقتصادية  
جديدة

في طريق النمو

دول متخلفة

حدود شمال / جنوب

بين الجنوب والشمال


بلدان بترولية

روسيا وأوروبا الشرقية

دول الشمال

دول الثالوث  
العالمي

دول أخرى متقدمة



مدرسة تقليدية في الهند

### الكفاءة القاعدية

أمام وضعيات إشكالية تخص السكان والتنمية في دول الجنوب تكون قادرا على التمييز بين الإمكانيات والمعوقات في هذه الدول وعلى اقتراح حلول لمشاكلها التنموية والبيئية.  
النماذج : ( الهند - البرازيل - نيجيريا )

### وضعيات تعليمية تخص :

- التنمية في دول الجنوب
- الهند • البرازيل • نيجيريا



## التنمية في دول الجنوب

### الإشكالية :

إلى حدود سنة 1960 . كانت الدول النامية تسمى بدول العالم الثالث، وكانت تشكل مجموعة متشابهة من حيث الزيادة الديموغرافية والوزن الكبير لعالم الريف والفقر الشامل والتبعية الكبيرة للدول المتقدمة. أما اليوم فإنها تشهد اندماجا متفاوتا في الشمولية العالمية، وتعرف بدول الجنوب، وهي تشكل مجموعات متنوعة ومتباينة في مسارها التنموي .

- ما الخصائص المميزة لدول الجنوب في الوقت الراهن ؟



الزراعة التقليدية في بوليفيا

تضم البلدان النامية والتي تعرف أيضا بدول الجنوب : 140 دولة من 195 دولة مستقلة في العالم، بتعداد سكاني يبلغ 5 ملايين نسمة أي 85 % من سكان المعمورة في حين تتقاسم 20 % من الثروة الكلية المنتجة سنويا، وهو ما يساوي 3/2 مما تستحوذ عليه الولايات المتحدة الأمريكية لوحدها .

### التفاوت شمال - جنوب

يشكل الخط الفاصل بين الدول المصنّعة والدول النامية في الوقت الراهن شرخا كبيرا من حيث التفاوت في الدخل بالنسبة للدول الغنية والدول الفقيرة بالرغم من التحسن القليل في العشرية الأخيرة . ويرتبط مستوى الناتج الداخلي الخام بالنسبة للفرد بمؤشرات مثل الاستفادة من المياه والتربية والصحة ، وتكنولوجيا الإعلام والاتصال كالهاتف والانترنت ويمكن تشخيص ذلك التفاوت في الأرقام التالية :

يخصّص 51 % من سكان العالم 90 % من المصاريف للتكنولوجيا الجديدة وهم يوجدون في البلدان الغنية .

فرانسوا نيكولا ، البلدان النامية

مجلة الدفتر الفرنسي رقم 310

سبتمبر / أكتوبر 2002

تعرف تلك البلدان معيقات تنمية مشتركة سواء أكانت في إفريقيا أو في أمريكا اللاتينية أو في آسيا، كما تسجل أيضا تباينا من حيث وضعياتها الاقتصادية والاجتماعية، فمنها من يعيش بدولار واحد في اليوم ومنها من يسير في طريق الالتحاق بركب البلدان الشمالية المتقدمة .

جغرافيا، نهائي . ناتان



## من العالم الثالث إلى دول الجنوب

إن أول من استعمل مفهوم العالم الثالث هو الديموغرافي الفريد سوفي 1952، في مقال له (العالم الثالث - كوكب الأرض) وذلك لتحديد البلدان المتخلفة حديثة الاستقلال أو في طريق استرجاع السيادة الوطنية. تميزت هذه المجموعة من البلدان أثناء الحرب الباردة بهوية مخالفة ومضادة لكل من المعسكر الشيوعي والمعسكر الرأسمالي اللذان كانا يريدان فرض نظامهما على العالم .....

في سنة 1964 شكلت 77 دولة غير منحازة مجموعة مستقلة داخل هيئة الأمم المتحدة وأسست جمعية الأمم المتحدة من اجل التجارة والتنمية CNUCED وعرفت هذه المجموعة بالدول النامية بداية من 1970 أو البلدان السائرة في طريق النمو PED تجاوزا للتسمية القديمة بالدول المتخلفة. وظهر مفهوم دول الجنوب بداية من سنة 1980 مميذا لتلك الدول عن دول الشمال المصنعة والمتقدمة.

جغرافيا نهائي، فضاء العالم. ناتان



تناقض اجتماعي / بومباي الهند

## ليس هناك حل آلي لمشكل التنمية

ان ما يتبين بالنسبة لمختلف التجارب المتعلقة بالتنمية في العالم الثالث، خلال 30 سنة مضت، ومن حيث تباين التيارات الفكرية التي استلهمتها، انه لا يوجد هناك خاتم سليمان او معجزات او

نموذج تنمية، يخرج البلاد من التخلف بمجرد تطبيقه. فالتجارب الناجحة أثبتت ان ليس هناك حاجز لا يمكن التغلب عليه. بل يمكن للبلد ان يتقدم رغم قلة الإمكانيات في الظاهر، مثلما هو الأمر في كوريا الجنوبية .....

الجنوب في الاقتصاد العالمي الجديد  
Puf 1995

## النشاط

- اعتمادا على السندات المعطاة اشرح مختلف تعاريف دول الجنوب.
- اكتب صفحة على الأقل إشرح فيها أهم خاصية مشتركة بالنسبة لدول الجنوب.



## توزيع الثروة في العالم




دول ثرية (36332 دولار للفرد) نمو اقتصادي ضعيف (+ 1,7%)

دول متوسطة الثرى (3850 دولار للفرد) نمو اقتصادي قوي (+ 2,9%)

دول فقيرة (1274 دولار للفرد) نمو اقتصادي ضعيف جدا (+ 1,2%) الدول الأكثر فقرا في العالم

المصدر / الجغرافيا فضاء العالم / ناتان

## التعليم كتحدي للتنمية نسبة الأطفال غير المتمدرسين ذكور وإناث:



المنطقة	ذكور	إناث
الشرق الأوسط وشمال إفريقيا	15%	23%
أمريكا اللاتينية والكرايب	13%	13%
إفريقيا جنوب الصحراء	41%	49%
آسيا الشرقية	1%	1%
آسيا الجنوبية	35%	50%

التعليم التقليدي في دولة من دول في إفريقيا

Quentin Domart .

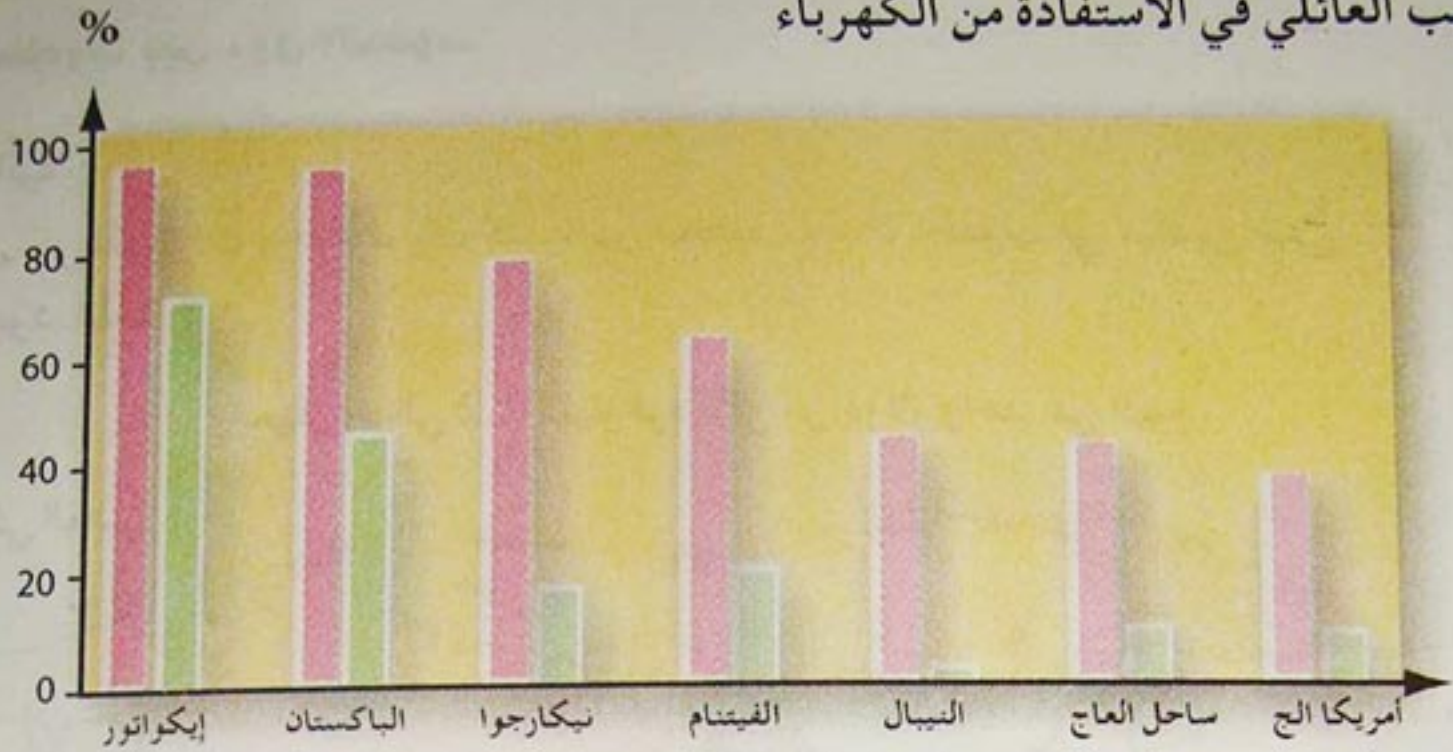
العالم 23 / 90 م 2003

## الفقر المتنامي

لا يجد الفقراء منفذاً إلى الخدمات الاجتماعية الأساسية من تعليم وصحة في أغلب الأحيان من حيث النوعية والكمية بشهادة "شانتني ديفاراجان" صاحب تقرير البنك العالمي حول التنمية سنة 2004. الذي يلاحظ تباينا وتفاوتا كبيرين داخل البلد الواحد من حيث التنمية، يستهلك الأغنياء 48% المصاريف العمومية المرصودة للصحة في غينيا مقابل 8% بالنسبة للفقراء وفي نيجيريا ينهي 6% من الأطفال الفقراء دراستهم الابتدائية.

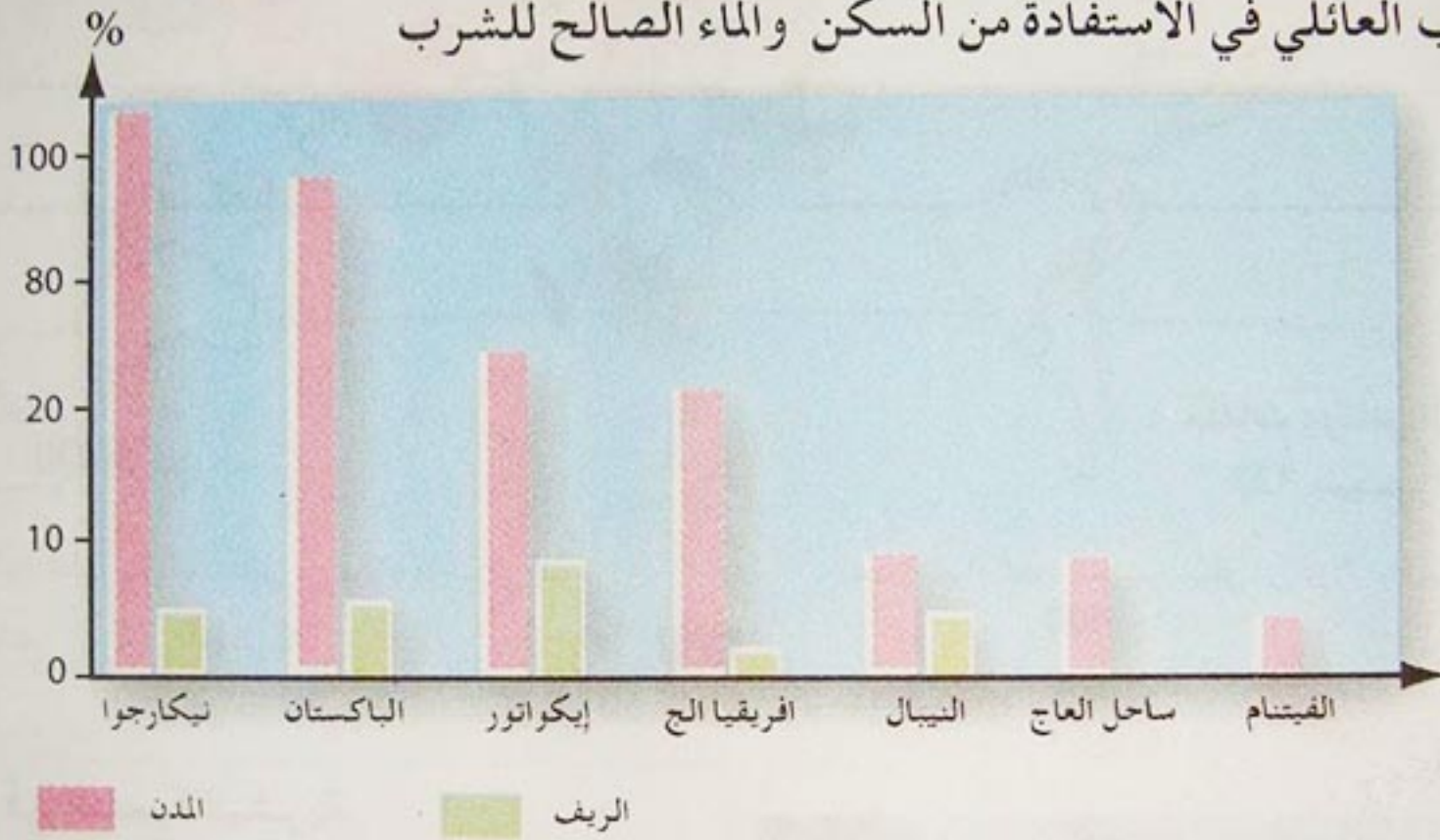


## النصيب العائلي في الاستفادة من الكهرباء



المصدر : البديل الاقتصادي عدد خاص 54 . 2002

## النصيب العائلي في الاستفادة من السكن والماء الصالح للشرب



المصدر : البديل الاقتصادي عدد خاص 54 . 2002

بلغ عدد الدول الأكثر فقرا في العالم حسب م.أ.م. 49 دولة اغلبها في قارة إفريقيا، مؤشرات ذلك هي :

- الدخل الوطني الخام للفرد الواحد يقل عن 900 دولار
- انخفاض مستوى مؤشر التنمية البشرية IDH
- ضعف اقتصادي كبير بسبب عدم استقرار الإنتاج والتصدير ونقص تنوع النشاط الاقتصادي
- ارتفاع عدد السكان و عدم التحكم في الجانب الديموغرافي

www.gro.dlcnu

### النشاط

- اعتمادا على السندات المعطاة اكتب صفحة تحدد فيها وتشرح فيها أسباب الفقر والتخلف في معظم دول الجنوب ( إفريقيا على الخصوص .

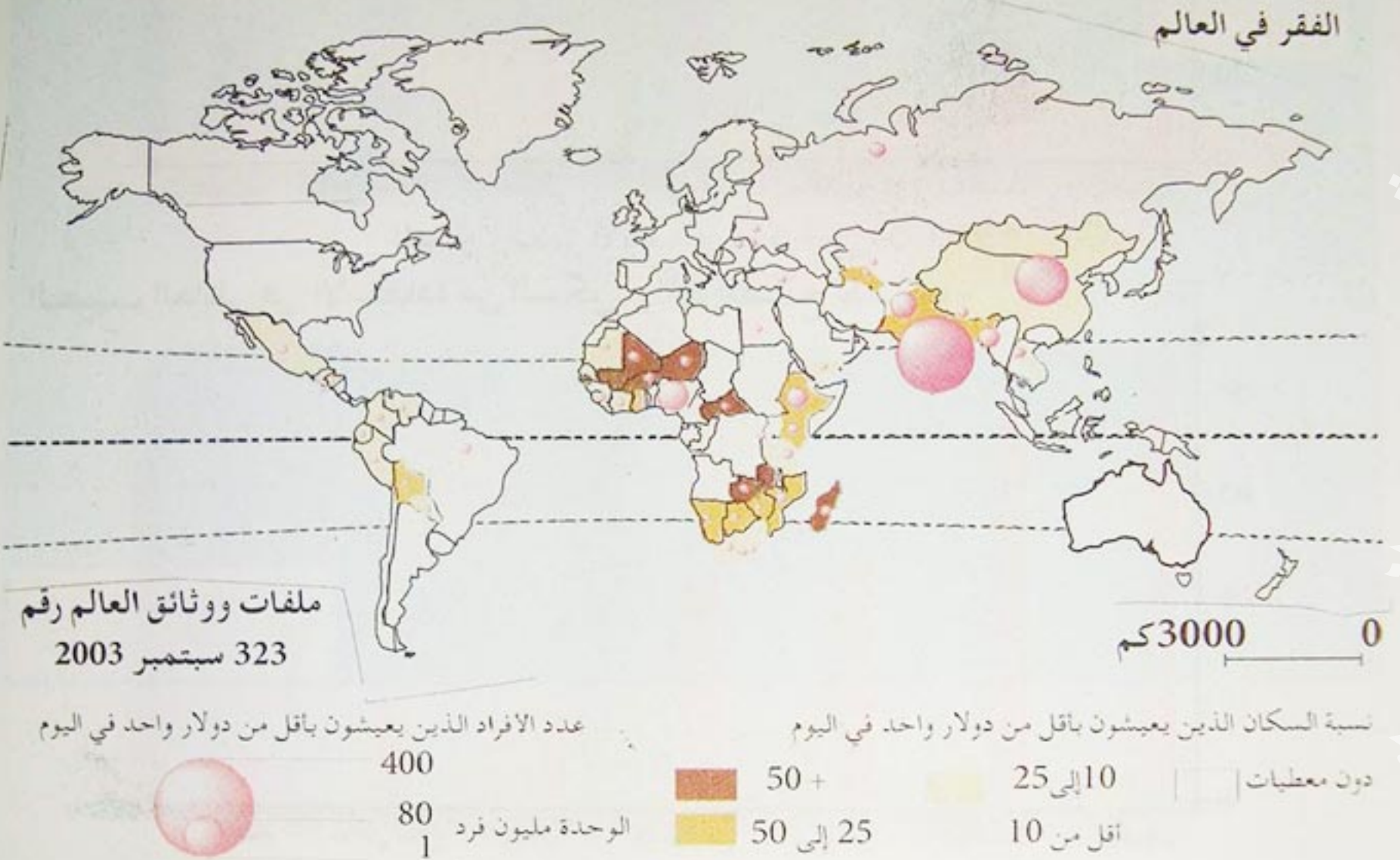


## 2- التفاوت بين دول الجنوب

الاشكالية :

تبين كل المؤشرات وجود فوارق كبيرة بين مختلف بلدان الجنوب في ميادين شتى .  
- إلام يعود ذلك ؟

يعيش حوالي 1.2 مليار فرد بأقل من دولار واحد في اليوم



محلات الأترنيت في السينيغال

### التباين في التنمية البشرية

يظهر التفاوت في الثروة بالنسبة للبلدان من خلال الظروف المعيشة المتباينة، فهناك الكثير من المجتمعات لا تتوفر على أدنى الحاجيات الحياتية كالغذاء والسكن والتعليم والصحة بالإضافة الى مدى الحياة الذي يسجل نقصا مشهودا وكذا ارتفاع نسبة وفيات الأطفال والتغذية غير الكافية . تلك هي العناصر التي تطبع الدول المتخلفة في إفريقيا وأمريكا اللاتينية وآسيا .

إن ذلك التفاوت المسجل بين البلدان لا يمكن ان يغطي التفاوت القائم في البلد الواحد . بما في ذلك التفاوت الاجتماعي الموجود في البلدان المتقدمة نفسها .  
الجغرافيا / عالم اليوم هاشيت . . التربية





ساوباولو البرازيل

أهمية المساعدات المقدمة  
لدول الجنوب .

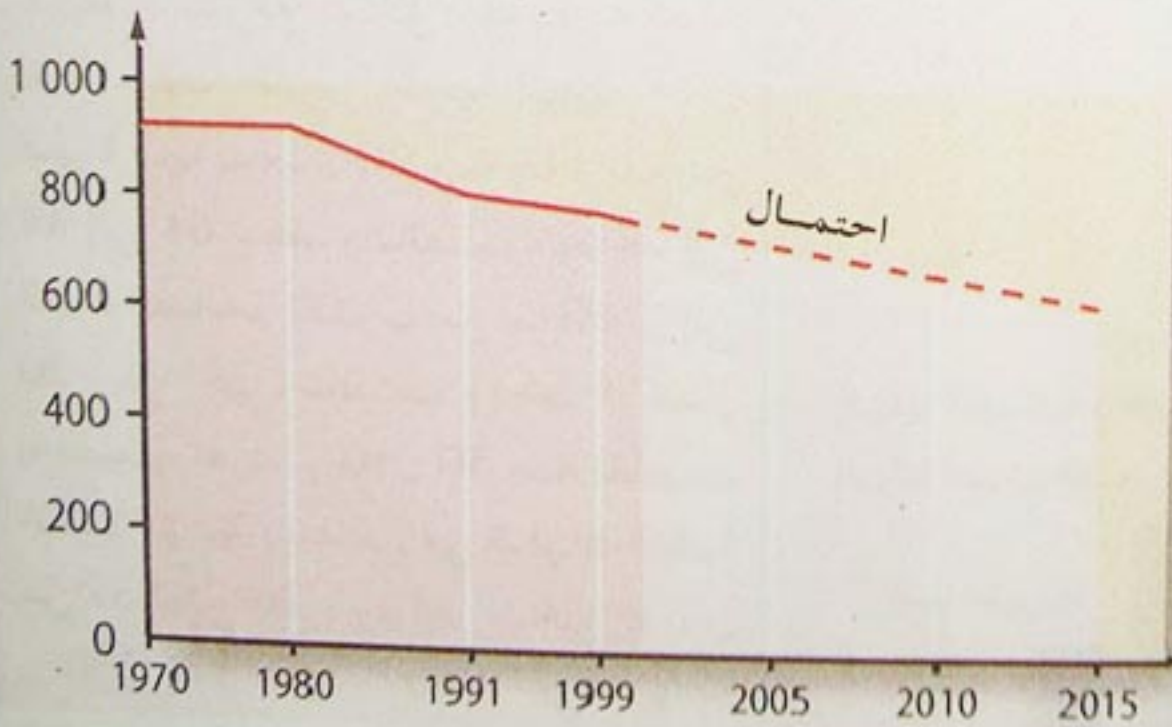
إنّ الصعوبات التي تجدها  
الكثير من دول الجنوب فيما  
يخص مسار التنمية فيها،  
يتطلب سياسة خاصة تقوم  
عليها مساعدتها قصد  
التخفيف من الفوارق وآثار  
التخلف وقد أخذت تلك  
السياسة منحى جديدا في  
الوقت الراهن.

فإلى جانب المساعدات  
العمومية على التنمية التي  
سنتها هيئة الأمم المتحدة عام 1970 وندوة الأمم المتحدة للتجارة والتنمية نجد بروز أشكال جديدة من  
المساعدات تقدم للمقاولات والمؤسسات كاستثمار مباشر في الخارج او للمنظمات الإنسانية غير  
الحكومية بالإضافة إلى أشكال للتعاون جنوب - جنوب .

جغرافيا نهائي . برتراند لاكوست



مخطط مدينة في أمريكا الجنوبية



تطور عدد الأفراد  
الذين يعانون من سوء  
التغذية في البلدان  
المتخلفة (الوحدة  
مليون فرد)

#### النشاط

- ماذا تستخلص من كل سنة على حدة ؟

- أكتب صفحة على الأقل تشرح فيها مدى نجاعة المساعدات المقدمة لدول الجنوب من قبل الدول المتقدمة.

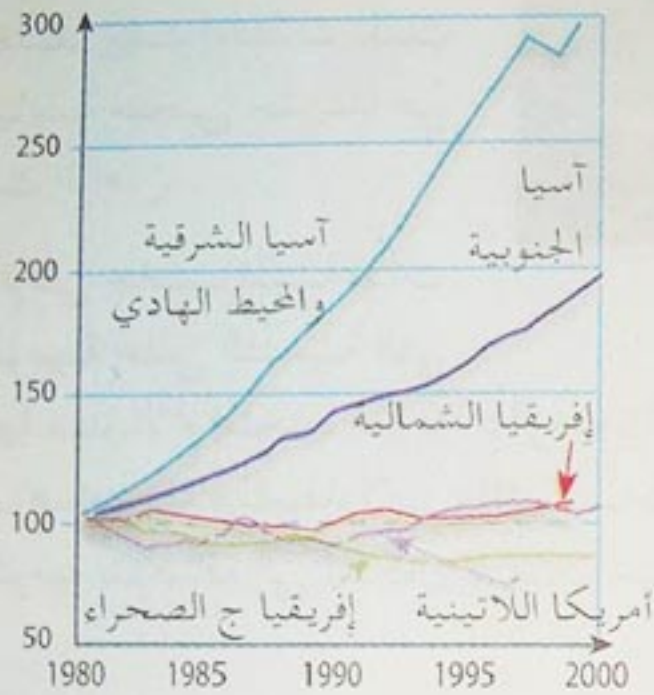


الإشكالية :

عرفت الكثير من البلدان في بداية الستينيات استقلالها وشرعت آنذاك هيئة الأمم المتحدة في بعث عشرية التنمية بالنسبة لتلك البلدان.

بين الوضعية الاقتصادية والاجتماعية في دول الجنوب في الوقت الراهن ؟

تطور الدخل الوطني الخام في دول الجنوب (دولار)



المصدر : أطلس العالم الدبلوماسي  
جانفي 2003

تتباين سياسات التنمية في دول الجنوب منذ سنة 1960، من حيث المقاربات المعتمدة، والتي تعطي الأولوية لاستراتيجيات مختلفة. وهي مركزية تارة يبرر فيها تدخل وتوجيه الدولة مثلما هو الأمر في الهند، وتحررية تارة أخرى حيث تشهد انفتاحا يعرف باقتصاد السوق، باعتباره الدافع الأساسي للتنمية، مثلما هو الحال في بعض البلدان الآسيوية الأخرى. ويبقى دور الدولة في ضمان التوازن من خلال هياكل قاعدية تقنية ومالية وسياسة واجتماعية والتأكيد على دور الفاعلين الاقتصاديين كشركاء في عملية التنمية.

جغرافيا : سهاقي / برتراند لاكوست

حجم الديون في العالم (مليار دولار)



المصدر : أطلس العالم الدبلوماسي جانفي 2003

بعد نصف قرن من الزمن استفاد معظم سكان العالم من تطور ظروف الحياة المتنوعة بشكل ملفت للانتباه. فقد عرفت الدول النامية تزايد مسد الحياة فيها بمعدل 20 سنة إذا ارتفع من 41 إلى 64 سنة. وتناقصت الحاجة إلى المياه الصالحة للشرب من 65% إلى 20% في حين تناقصت وفيات الأطفال بالنصف تقريبا وخلال 30 سنة تقلصت ظاهرة الأمية بالنصف في البلدان النامية من 52% إلى 26% وتزايد الدخل الفردي بـ 250 دولار منذ 1965 في البلدان النامية مع تفاوت من دولة إلى أخرى.

العالم 01 / 11 / 2000



#### 4- نحو التحكم في التوازنات الديمغرافية

##### وفيات الأطفال في العالم

نسبة وفيات أطفال  
أقل من 5 سنوات  
(بالألف نسمة).



##### نسبة الشيخوخة في العالم

السنة	2000	2050	2100
المعدل العالمي	%10	%22	%34
إفريقيا جنوب الصحراء	%5	%27	%20
أمريكا الجنوبية	%8	%22	%33
الصين وآسيا الشرقية	%10	%30	%39

المصدر : Libération 3 août 2001

##### تراجع نسبة الإنجاب في المغرب

تعرف بلدان المغرب العربي تراجعا في نسبة الإنجاب حسب دراسة المعهد الوطني للدراسات الديموغرافية وقد سجل في تونس 2,2 % سنة 1998 و 3,1 % في المغرب و 1,8 % في الجزائر سنة 1996 مقابل 7 % تقريبا في سنة 1960. فكيف يمكن تفسير هذا التحول الهام؟

بالإضافة إلى التعليم الذي أصبح يشمل الذكور والإناث على حد سواء بل هو في فائدة الإناث في كثير من الأحيان هناك تراجع في سن الزواج مثلما هناك إستخدام لموانع الحمل .

تلك عناصر تبين لنا تحول مجتمعات المغرب العربي، التي تشهد تزايدا كبيرا بالنسبة لسكان المدن، وتطور اقتصادياتها، و بروز دور المرأة، واستقلالية الأفراد، والاهتمام المتزايد بالطفولة بشكل عام.

العالم 12 آوت Herve Kempf 2000

##### النشاط

- ماذا تستخلص من كل سناد على حدة ؟

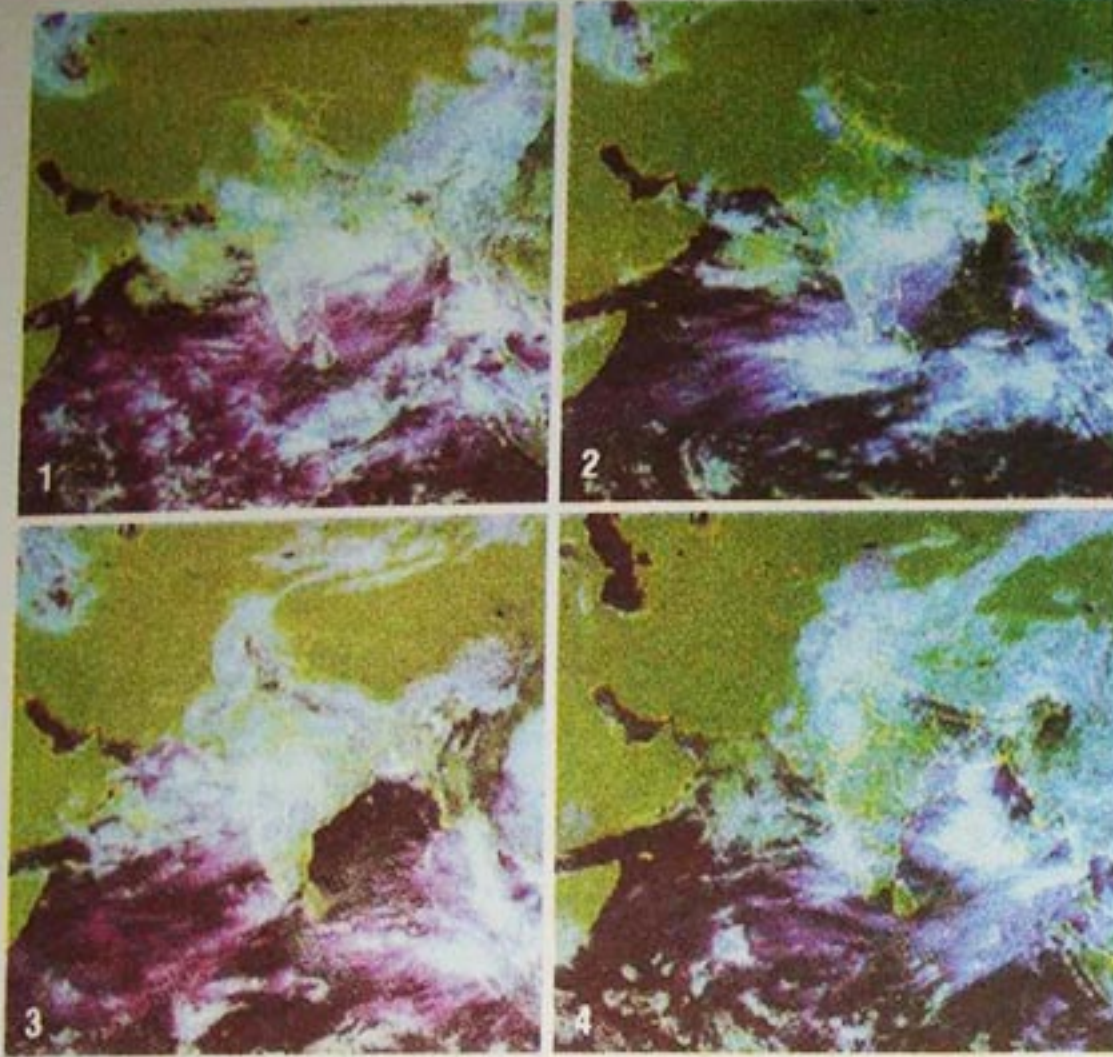
- أكتب صفحة تبين فيها لماذا يمكن اعتبار او عدم اعتبار المشكل الديموغرافي سببا في التخلف ؟



## الهند



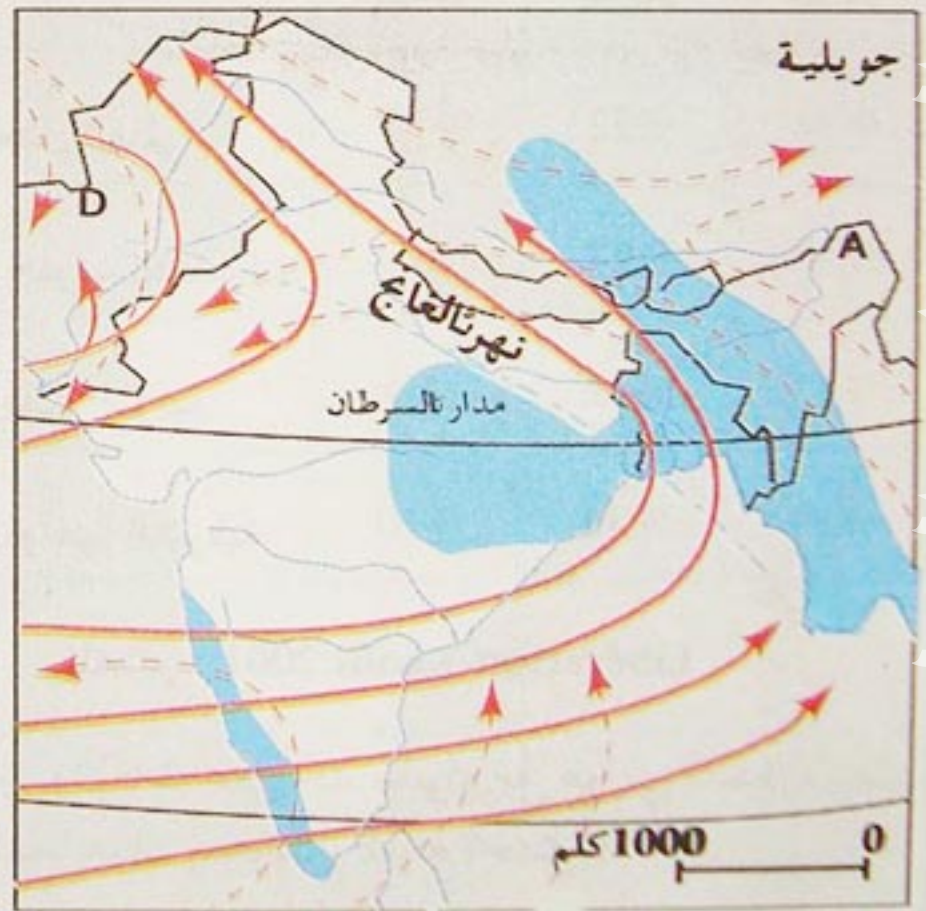
يزيد عدد سكان الهند سنة 2001 عن المليار نسمة، يتركزون في إقليم موسمي كثير الفيضانات، وتساوي مساحة البلاد 3 287 590 كم<sup>2</sup>. ما علاقة السكان بالتنمية والغذاء في الهند؟



### الهند في أرقام :

- المساحة : 3 287 590 كلم<sup>2</sup>.
- السكان عام (2004) 1 086 600 000 نسمة.
- العاصمة : نيو دلهي
- عدد السكان 912 977 000 نسمة
- نسبة التمدن (2002) 28 %.
- نسبة الولادات سنة (2004) 08 ‰.
- نسبة الوفيات سنة (2004) 25 ‰.
- وفيات الأطفال سنة (2004) 64 ‰.
- تضاعف السكان كل 39 سنة.
- مدى الحياة : 64 سنة للنساء
- 62 سنة للرجال.
- مؤشر التنمية البشرية : 0.595.
- الدخل القومي الخام للفرد 440

المصدر Image E du monde 2005



خط طالويج Talweg الموسمي  
مناطق مطيرة

الجغرافيا للأقسام النهائية التقنية ABC بولان





الفيضانات الموسمية في الهند









حي من أحياء مدينة كالكتوتا

يمتد مجمع مدينة كالكتوتا على طول 45 كم وهو يضم 67 منطقة سكنية وحوالي (12 مليون نسمة) تؤدي وظيفة ميناء بالرغم من بعدها عن البحر بحوالي 150 كم. وقد كانت في الماضي قاعدة أمامية للإحتلال البريطاني، وتشكل اليوم ممرا إلى البحر بالنسبة للهند الشمالية، تكثرت في شرقها الأحياء القصديرية حيث الفئات السكانية الفقيرة.

تاريخ جغرافيا نهائي تقني ناتان

### أقطاب التنمية في الهند

توجد العاصمة الفيدرالية الهندية، نيودلهي في قلب منطقة متطورة : البنجاب وهي تضم مختلف مرافق الإدارة المركزية التي أصبحت محل انتقاد الولايات الأخرى والأحزاب التي ترمي إلى الحصول على الإستقلالية الذاتية.

تمت تهيئة الفضاء الإقليمي للمدن الجنوبية الثلاثة بومباي، وبنغالور ومدراس في إطار التنمية ويتركز أهم إقليم صناعي حول مدينة كالكتوتا الذي يعتمد استخراج الحديد والفحم في حوض دماور بقرب مدينة جامسدبور. تحتاج الدولة إلى استثمارات ضخمة لعصرنة شبكة الطرق البرية والسكك الحديدية والتجهيزات الخاصة بالموانئ بالإضافة الى التمويل بمواد الطاقة اللازمة.

تاريخ جغرافيا الأقسام النهائية تقني / ناتان

### المشاهد

اعتمادا على السندات المعطاة أكتب صفحة تبين فيها ما يترتب على عدم التوازن بين السكان والتهيئة الإقليمية بصفة عامة وفي الهند بصفة خاصة.



الاشكالية :

يقوم اختيار السياسة التنموية للهند على مراقبة الدولة للاقتصاد الوطني والبحث عن أساليب التغلب على الفقر وإبعاد خطر المجاعة على البلاد بشكل نهائي .

هل يمكن اعتبار هذا الاختيار نموذجا هنديا وطريقا خاصا في التنمية ؟ ولماذا ؟



نيهرو الأب وأنديرا غاندي الابنة

تتمثل خصائص التنمية الهندية في :

- الدافع الوطني إلى التصنيع ويتمثل في الطريق المسطر من طرف الرئيس نيهرو في بناء القطاع العمومي القائم على الصناعة الاستخراجية والتحويلية والطاقة وصناعة الأسلحة.

- الاكتفاء الغذائي من خلال إقامة ثورة خضراء ترمي إلى انتاج زراعي منتظم لضمان غذاء السكان وابعاد خطر المجاعة.

- البحث المتصل بالتنمية. وتصنع الهند ( مفاعلات نووية وأجهزة الساتل والصواريخ كما تضمن الدولة 4/3 ميزانية البحث العلمي حيث يشتغل 3 ملايين عالم وباحث).

تاريخ جغرافيا نهائي تقني ناتان



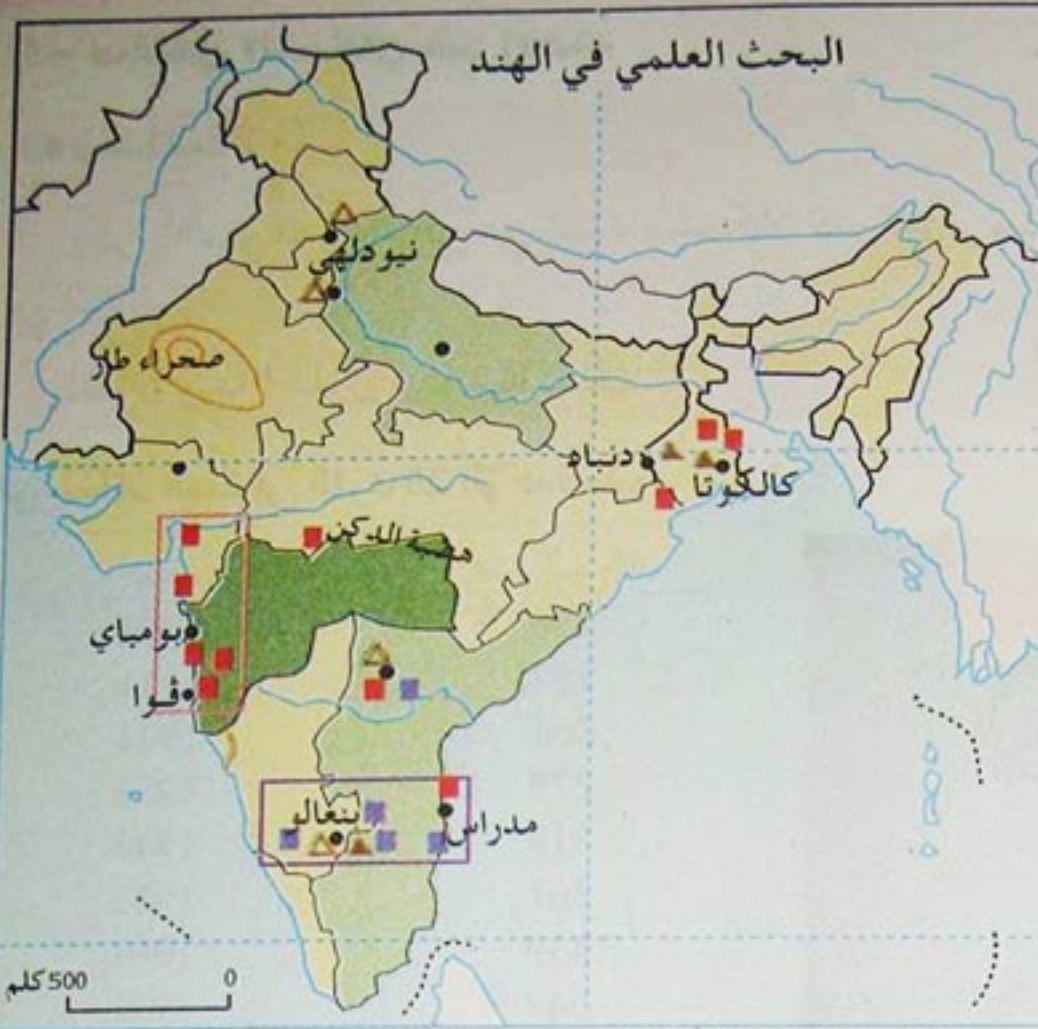
قمح وشعير أرز شاي وفطون



مناطق صناعية مراكز صناعية



## البحث العلمي في الهند



المحالات المفضلان في الهند	مجموع المصاريف المخصصة لكل قطاع
مناطق تضم أهم مراكز البحث النووي	أقل من 9%
مناطق تضم أهم مراكز البحث الفضائي ومعاهد ناعمة لها	9% إلى 13%
مناطق تجريبية واستخدامات عسكرية	14%
مراكز أخرى للبحث	
تكنولوجيا صناعية	
صناعات إلكترونية	

تنظيم البحث العلمي في الهند جعلت النخبة الهندية البحث العلمي شكلا من أشكال الرفض للوصاية البريطانية وأسست عائلة طاطا أكبر مجمع صناعي خاص، المركزين الأساسيين للبحث العلمي في بانغالور 1914 وفي بومباي 1944، وشكل قطاع الإعلام والإلكترونيك في بانغالور (سيليكون فالي) الهندية، وتصنع الشركات الكبرى للأقراص المضغوطة CD في 75 مؤسسة هندية للإعلام توجد كلها في مدينة الإلكترونيك التي تضمن 4/1 الصادرات الهندية من تلك الأقراص. وقد أقيمت الشركات المتعددة الجنسيات على الاستثمارات الضخمة في عين المكان.

تاريخ جغرافيا نهائي تقني ناتان

في سنة 1992 أدى تحرير اقتصاد الهند الى تنمية قطاع السيارات وأقيمت شركات أجنبية على الاستثمار أمثال جينيرال موتورز، فورد، هوندا، تويوتا تسيطر على السوق مجموعة ماروتي وايسوزو وسوزوكي اليابانية.



مصنع الجرارات «إيسكور» بنيو دلهي

## النشاط

من خلال السندات المعطاة اشرح خصائص التنمية وأهمية البحث العالمي بالنسبة للإقتصاد الهندي.



الإشكالية :

يطرح النمو الديموغرافي في الهند مشكلا كبيرا يؤثر سلبا على حياة ومعيشة أغلب السكان في البلاد.

لماذا؟ و ما الحلول المناسبة لذلك؟

تطور سكان الهند في القرن 20 الوحدة مليون نسمة



حملة تنظيم النسل : طفلان لكل أسرة

عدد السكان	السنة
236	1901
252	1911
251	1921
279	1931
318	1941
361	1951
439	1961
547	1971
686	1981
869	1991
1,033	2001
1,086	2004


تعرف الهند في الوقت الحاضر زيادة سكانية طبيعية تصل 1.9%. ويزداد عدد السكان بـ 16 مليون نسمة سنويا (أي نصف سكان الجزائر)، لذا سيتضاعف العدد في سنة 2030 مسجلا بذلك استمرار التطور الديموغرافي الذي عرف انطلاوقته في بداية منتصف القرن 20. وتبقى الهند بعيدة عن انتهاء المراحل الانتقالية الديموغرافية، مما يعرقل مسار التنمية. علما أن شروط الحياة قد تحسنت وارتفع بذلك متوسط العمر من 49 سنة 1970 إلى 61 سنة 1993، كما أدت حملات النظافة والصحة وتنويع الغذاء اليومي إلى تحسن الظروف المعيشية بشكل ملحوظ.

تاريخ جغرافيا نهائي تقني ناتان



مواطنون بدون مأوى





حي قصديري في بومباي

### السياسة الديموغرافية في الهند

تتمثل السياسة الديموغرافية في الهند في نشر التعليم وتحديد النسل من خلال نشر مراكز التنظيم العائلي عبر التراب الوطني والأرياف، غير أن 3/2 نساء الهند لم يتلقين التعليم ويعانين من سوء المعاملة.

وقد مرت تلك السياسة بمراحل :

1950 وهي البداية المتماشية مع المخططات الاقتصادية

1966 - 1976 مراقبة وتحديد النسل

1976 - 1977 عمليات تعقيم النساء التي أثارت موجة من الرفض لدى الفئات الشعبية

وقد تم تسجيل تقلص نسبة الخصوبة والإنجاب من 6 أطفال للمرأة إلى 4 أطفال في الوقت الراهن.

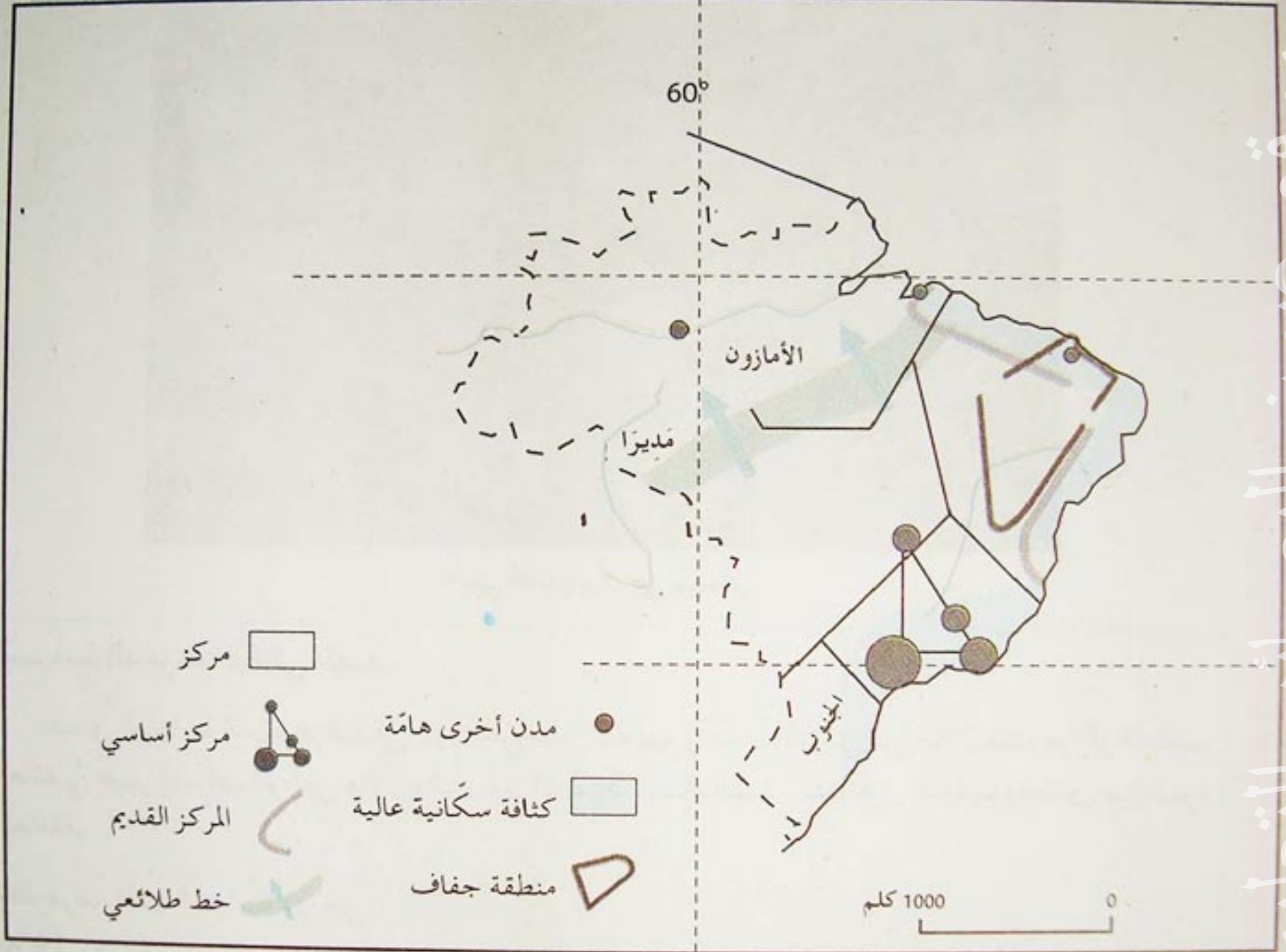
تاريخ جغرافيا نهائي تقني ناتان

### النشاط

- من خلال السندات المعطاة أكتب صفحة تشخص فيها المشكل الديموغرافي في الهند و تقترح جملة من الحلول المناسبة لها في نظرك .




## البرازيل



- مؤشر التنمية البشرية 0.775
  - الدخل الفردي الخام 2004 : 3376 دولار
  - نسبة البطالة 11.5 %
  - مساهمة القطاعات في الدخل القومي :  
الزراعة : 06 %  
الصناعة : 19 %  
الخدمات : 75 %
- Image Economique du monde 2006

- ### البرازيل في أرقام
- المساحة 8 547 000 كم<sup>2</sup>
  - السكان 179 100 000 سنة 2004
  - الكثافة السكانية 21 نسمة كم<sup>2</sup>
  - العاصمة برازيليا 2 073 000 ن 2001
  - نسبة التمدن 82 %
  - نسبة الولادات 20 بالالف (2004)
  - نسبة الوفيات 07 بالالف
  - نسبة وفيات الأطفال 33 بالالف





غابة الأمازون

يزيد عدد سكان البرازيل عن 179 مليون نسمة في إقليم شاسع جدا 8 547 000 كم<sup>2</sup> ويعتبر أول قوة اقتصادية في أمريكا الجنوبية يؤدي دورا إقليميا وعالميا، غير أن ذلك لم يمنع وجود تفاوت اجتماعي كبير .

— كيف يمكن للبرازيل كقوة اقتصادية حديثة أن يرفع تحدي الفقر والفوارق الاجتماعية؟



مدينة ساو باولو



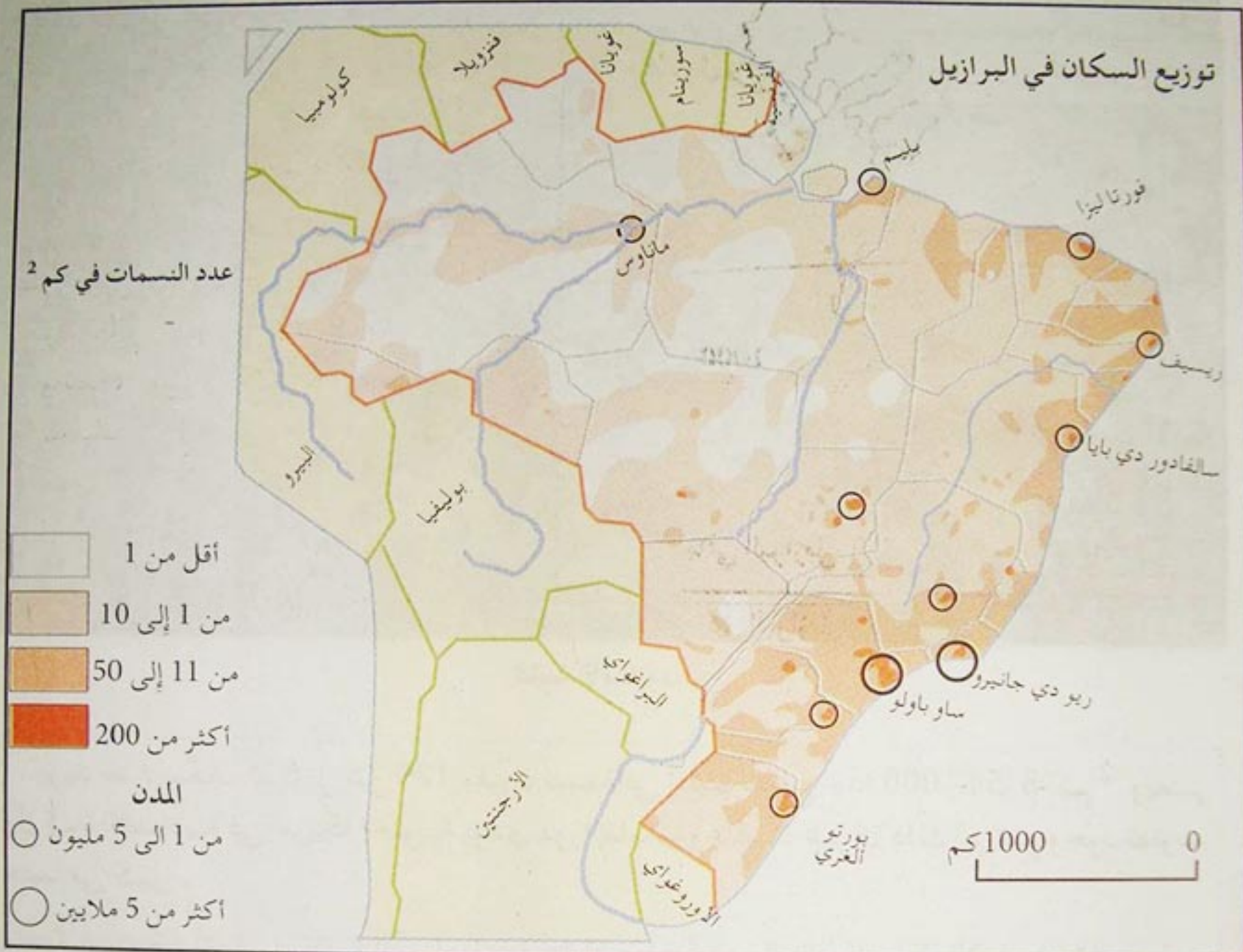
فافلا Favela أو حي قصديري



# 1 - السكان والتنمية الإقليمية في البرازيل

## الإشكالية :

يحتل البرازيل المرتبة الخامسة عالميا من حيث المساحة والسكان لكنه يعتبر بلد المتناقضات الإقليمية والاجتماعية . فيم يتضح ذلك ؟



منملة من البشر يستغلون منجم الأحجار الكريمة في «سيرابلاتا» في الأمازون

البرازيل إقليم شاسع غير مستغل يمتد البرازيل على طول 4320 كم من الشمال إلى الجنوب ويمتد بنفس المسافة تقريبا من الشرق إلى الغرب ... وتعتبر هذه الشساعة من العناصر المفيدة من حيث تنوع التربة والمناخ بالإضافة إلى الموارد الطبيعية وموارد الطاقة المائية التي هي في حاجة إلى الاستغلال .

لبناء وضممان وحدة الإقليم عمل السكان على تجاوز بعض المعوقات كالنقل والإدارة ... إن تهيئة الإقليم البرازيلي يتطلب إمكانيات ضخمة قصد استصلاح واستغلال مساحات هامة من البلاد .

جغرافيا برتراند لاكوست

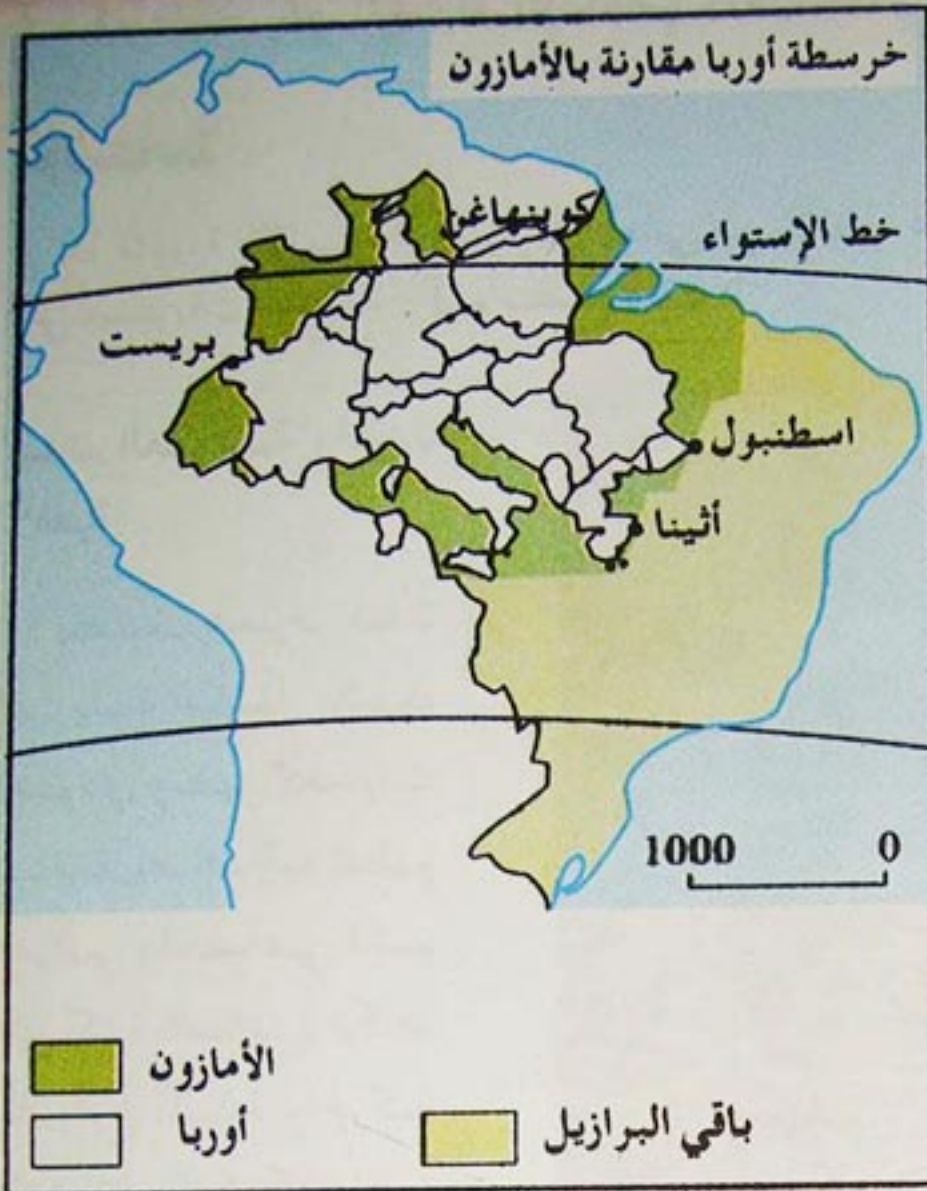


## تشكل الإقليم البرازيلي

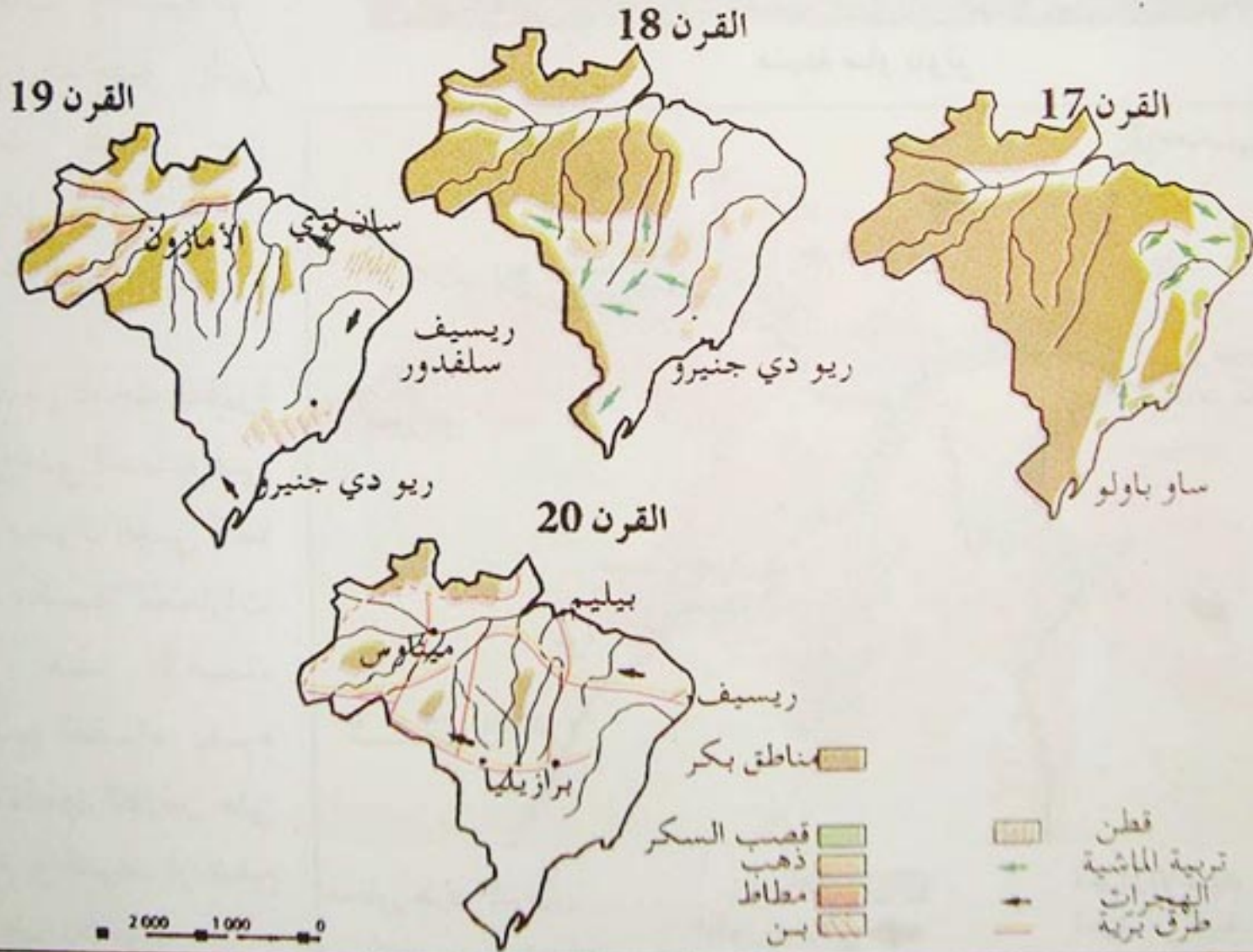
لم يتحول الإقليم البرازيلي الشاسع إلى دولة موحدة إلا في القرن الـ 19، ويعود ذلك إلى التعمير التدريجي البطيء، في شكل مراكز سكانية معزولة عن بعضها البعض. وكان الإقليم أصلاً مستعمرة زراعية برتغالية طيلة 3 قرون تسيطر عليه نخبة برتغالية - برازيلية.

وتعود أهم مرحلة لتشكيل الإقليم البرازيلي إلى مرحلة إقامة الحدود في القرن الـ 20، حيث ارتسمت معالم البلاد النهائية، وبرزت شبكة و محاور طرق برية بشكل تدريجي، وكذا المناطق الكبرى للبرازيل.

Martin droulers تاريخ جغرافيا 2003



## تطور تهئية واستغلال الإقليم في البرازيل




## النشاط :

- ما الملاحظات التي تسجلها بالنسبة لكل سند على حدة ؟
- أبرز في صفحة أهمية التهيئة الإقليمية في البرازيل .

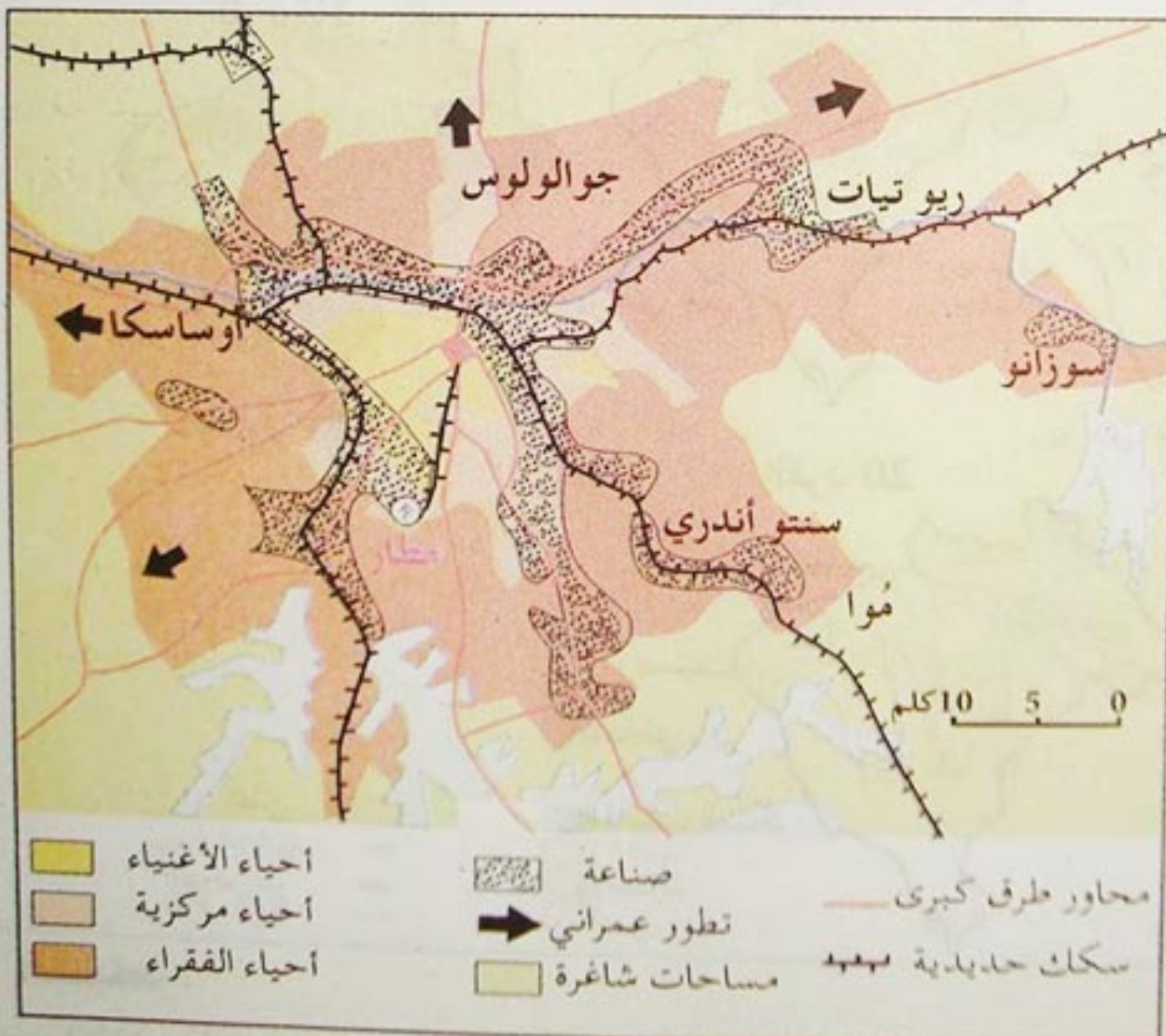


الإشكالية

إن التهيئة الإقليمية في البرازيل تعاني من تناقض عمراني واجتماعي قد يزيد من عمق الفوارق على مستويات مختلفة . فبم يتضح ذلك ؟



مدينة ساو باولو



مخطط مدينة ساو باولو


المدن العمودية والمدن الأفقية

يتصف عمران المدن البرازيلية أساسا بالبناء العمودي ويظهر كعمرات شاهقة يضاف إليه تنظيم عمراني واجتماعي قائم على كثرة المصاعد، تكتظ الشوارع بالمارة والحركة والنشاط كما تكثف فيها الاعتداءات والسرقات. وتوحي المداخل إلى العمارات بنوع من الاطمئنان والراحة عند الوصول أو اللجوء إليها .

تتكسد الفئات الفقيرة في ضواحي المدينة في شكل عمران افقي كما لو كان مكتملا للعمارات حيث نجد الأغنياء يجاورهم الفقراء يقوم العلاقات بين الطرفين على الصراع والخوف او عدم الاطمئنان للآخر .

سوزان مويرة ساو باولو - العنف . دفتر المدينة 2003





حي قصديري في ريو دي جانيرو

## استغلال الأمازون

ارتفع عدد سكان الأمازون بين سنة 1970 وسنة 2000 من 5 ملايين نسمة إلى 20 مليون نسمة، نصفهم يوجدون في المدن . بالرغم من صيحات التحذير فإن ورشات شق الطرق واستغلال المناجم وإقامة السدود ما انفكت تساهم في تدهور الغابة . وتتواصل عملية إزالة الأشجار بتقنيات سريعة وقوية وقد تمت إزالة مساحة 600 000 كم<sup>2</sup> أي بمعدل 20 000 كم<sup>2</sup> سنويا وقد شرع في إقامة استثمارات هامة، لإعالة سكان الأمازون وشق 8000 كم من الطرق البرية وإقامة أنابيب الغاز وعصرنة أكثر من 10 موانئ و6 مطارات . إن 50% من الغابة الأمازونية يتم إزالتها في حدود 2020 بالرغم من التشريع البرازيلي الذي خصص محميات في مناطق جيوب السكان الهنود الأصليين كما ينص التشريع على ضرورة إعادة الغرس بالنسبة لمستغلي أخشاب الغابة، في حين تحصلت شركات آسيوية وأوروبية وأمريكية على مستثمرات تزيد مساحتها على 2000 كم<sup>2</sup> وقد أتت على أحسن أنواع الأخشاب التي جانب تركيز أكثر من 21 مليون رأس من الماشية بالإقليم ( أي ما يعادل 8% من القطيع البرازيلي ) . إن تعويض الغابة بتربية الماشية من شأنه أن يكون في غير صالح الإنتاج .

Martin droulers تاريخ جغرافيا 2003

## النشاط :

– حدّد وحلل في صفحة على الأقل عناصر التناقض البارزة في الفضاء الإقليمي البرازيلي .



## الإشكالية

يعتبر البرازيل ثاني قوة اقتصادية إقليمية ويحتل المرتبة الأولى في أمريكا اللاتينية بالنظر إلى الإنتاج الداخلي الخام .

ما القواعد التي تم على أساسها بناء التنمية في البرازيل ؟

## البرازيل قوة زراعية ومنجمية وصناعية

يعرف البرازيل بأنه قوة زراعية تمتد على ساحله مستثمرات زراعية واسعة وعصرية يوجه إنتاجها إلى التصدير ( السكر والبن والصوجا والحوامض ) . وتمتد على المساحات الداخلية مزارع تربية الماشية بشكل واسع " فازاندا " . وقد تطور الإنتاج الزراعي وعرفت المنطقة الريفية بطالة ، انجر عنها النزوح إلى المدن ( النزوح الريفي ) .

يعرف البرازيل أيضا بالثروة المعدنية وهو أول مصدر في العالم بالنسبة للمعادن المختلفة وقد استطاع بعد 20 سنة أن يبني صناعة عصرية وعالمية كانت بدايتها الاستثمارات التي قام بها ملاك الأرض في الصناعة النسيجية ثم تنوع النشاط الصناعي تحت مراقبة الدولة كصناعة الحديد والصلب وصناعة الأسلحة والطيران . وشهدت السبعينات دخول الاستثمارات الأجنبية وتطوير قطاع السيارات . وتعتبر منطقة ساو باولو أهم منطقة صناعية في البرازيل .




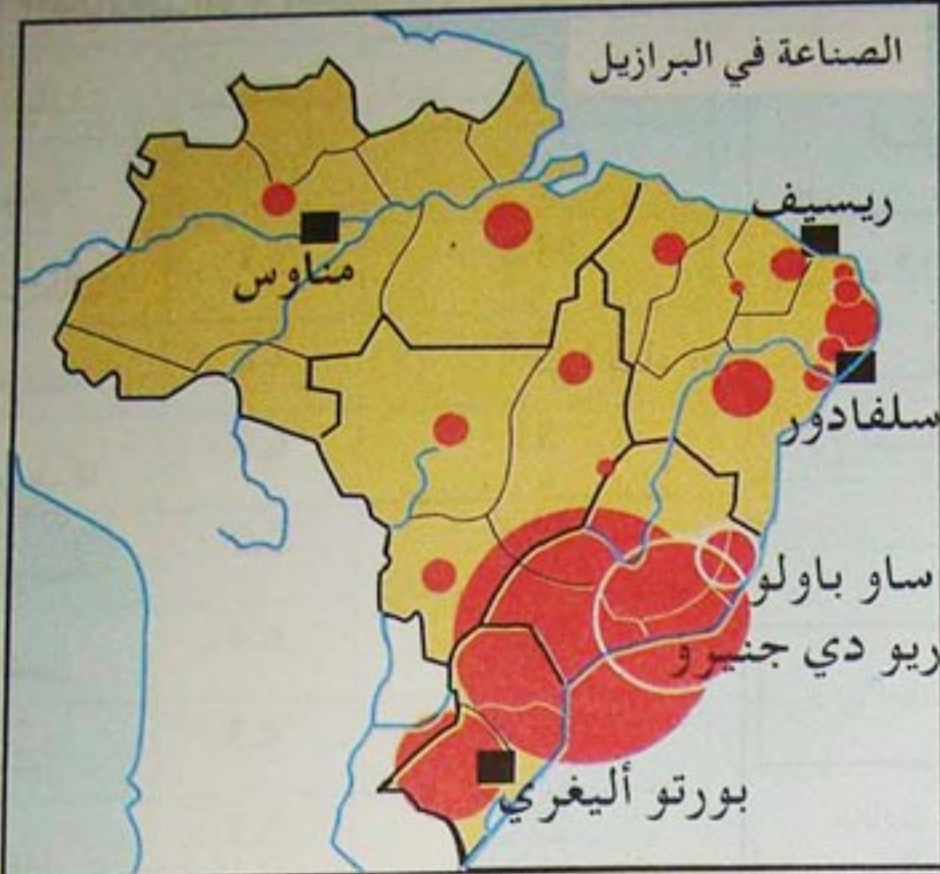
جغرافيا نهائي برتراند لاكوس



زراعة قصب السكر في إحدى مزارع البرازيل / أول منتج عالمي بفضل التحكم في الماء والمكننة



## الصناعة في البرازيل



تقدر السوق العالمية للسكر بما قيمته 75 مليار دولار وتعمل أكثر من 18 مليون مزارع و1,8 مليون عامل في العالم. يتميز سكر أوروبا بعدم الثبات أمام المنافسة لأن بنجر السكر يحتوي على قليل من المادة السكرية، بالمقارنة مع قصب السكر. لذا تدور أسعار السكر الأوربي حول 650 دولار للطن في حين ينتج البرازيل كأول مصدر للسكر، الطن الواحد بكلفة لا تتعدى 150 دولار.

تترجع على عرش مزارع السكر في البرازيل حوالي 300 عائلة و800 000 عامل أو مزارع يعرفون بأصحاب "الأكلة الباردة" «Les boias Frias». ويغلب على هذا القطاع إنتفاضات وحوادث

المزارعين بدون أرض ومشاكل الإصلاح الزراعي «

السكر تحت خطر العولمة  
المجلة الدائمة رقم 8

## منجم كاراجاس

يعتبر منجم "كاراجاس" أكبر منجم للحديد في العالم وقد أنتج 65 مليون طن سنة 2003. ويحتل البرازيل المرتبة الأولى في العالم بالنسبة لهذا المعدن بإنتاج يصل الى 240 مليون طن أي 42% من الإنتاج العالمي.

تم اكتشاف المنجم سنة 1967 وتطلب شق 900 كم من السكك الحديدية و30 مجموعة من النقل الحديدي، و200 عربة تنقل المادة يوميا من المنجم الى ميناء "سان لوي" يشغل المركب أكثر من 15000 عامل وتنتج المنطقة أيضا معدن المنغانيز والذهب.

جغرافيا نهائى .  
فضاء العالم . ناتان

## النشاط

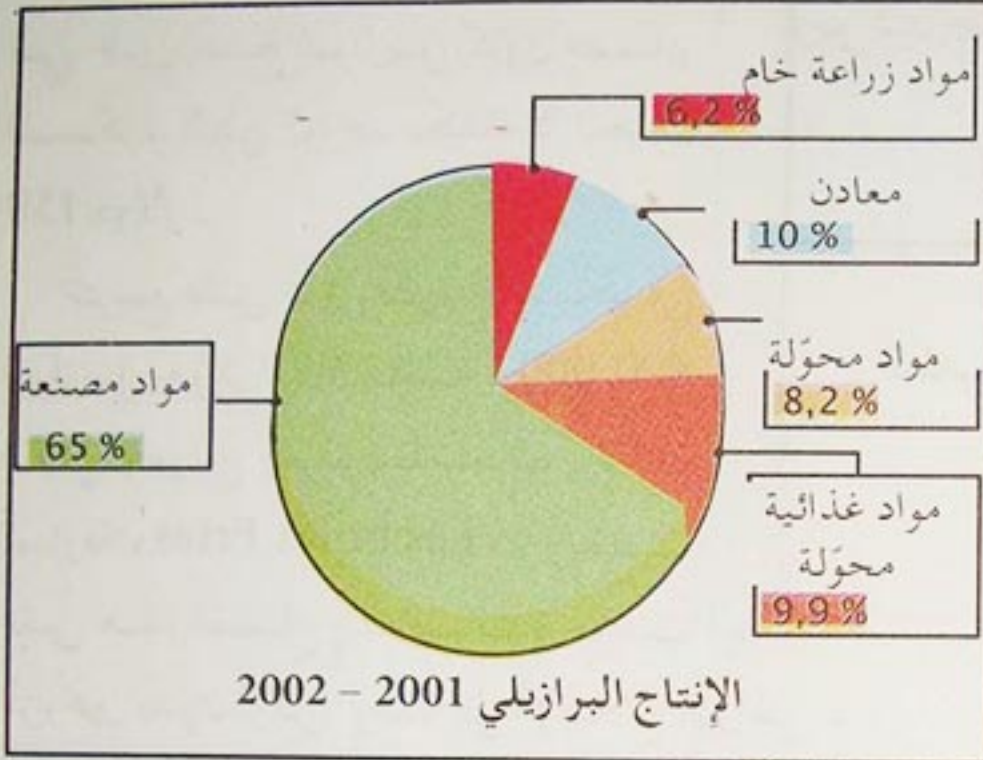
اعتمادا على السندات المعطاة قدم إجابة مكتوبة في صفحة على الأقل بالنسبة للإشكالية المطروحة



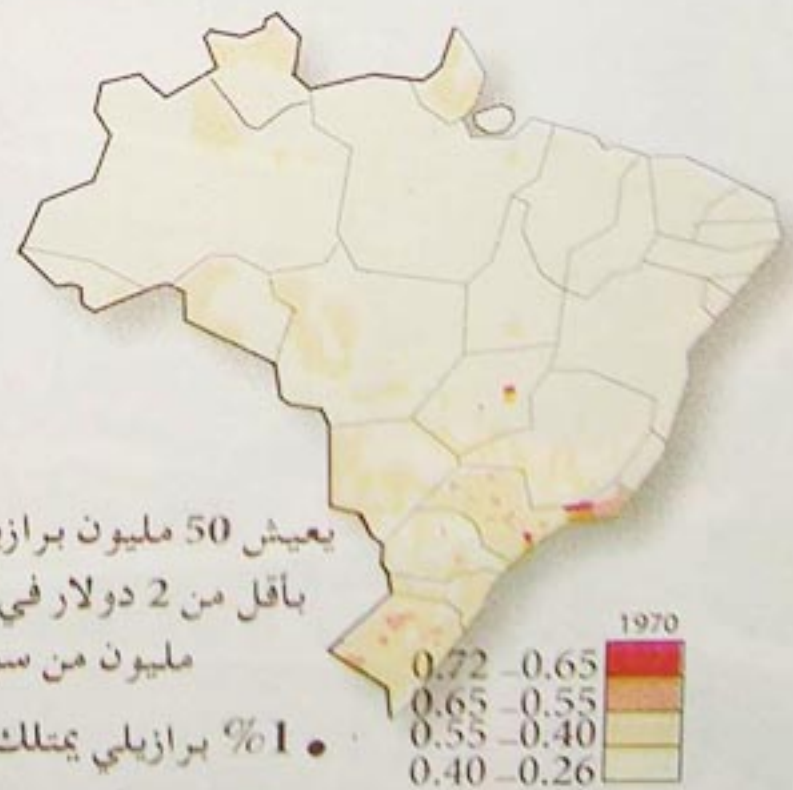
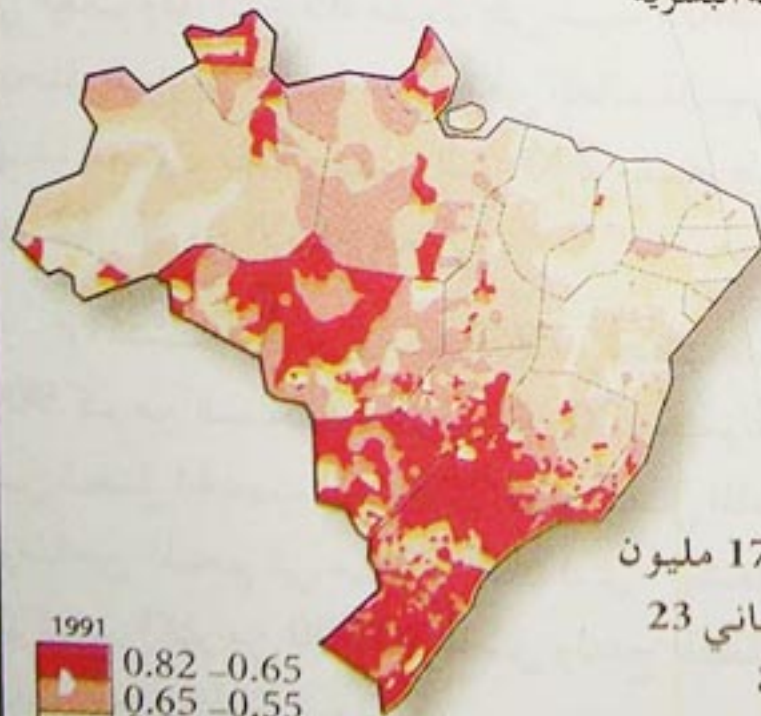
## البرازيل قوة اقتصادية

تجاوز البرازيل سنة 2003 رقمه القياسي في التصدير بقيمة 73 مليار \$ وبزيادة 21% بالنسبة لسنة 2002 وربح الميزان التجاري 24.8 مليار \$ .  
نسبة الأراضي الزراعية في البرازيل تساوي 6.3% من المساحة الكلية.

البلدان	نسبة عالمية	استثمارات أجنبية
و.م.أ.	16.9	124.4
بريطانيا	7.3	53.8
فرنسا	7.2	52.6
بلجيكا	6.9	51
هولندا	6.9	50.5
الصين	6.4	46.8
ألمانيا	4.3	31.8
كندا	3.7	27.5
المكسيك	3.4	24.7
هونغكونغ	3.1	22.8
برازيل	3.1	22.5
اسبانيا	3	21.8
ايطاليا	2	14.9



## تطور الفوارق الاجتماعية في البرازيل مؤشر التنمية البشرية



يعيش 50 مليون برازيلي من 176 مليون بأقل من 2 دولار في اليوم ويعاني 23 مليون من سوء التغذية

- 1% برازيلي يمتلك 53% من الثروة
- 2% من ملاك أرض يمتلكون 56% من الأراضي

0 1000 كم



## مكانة البرازيل الاقتصادية

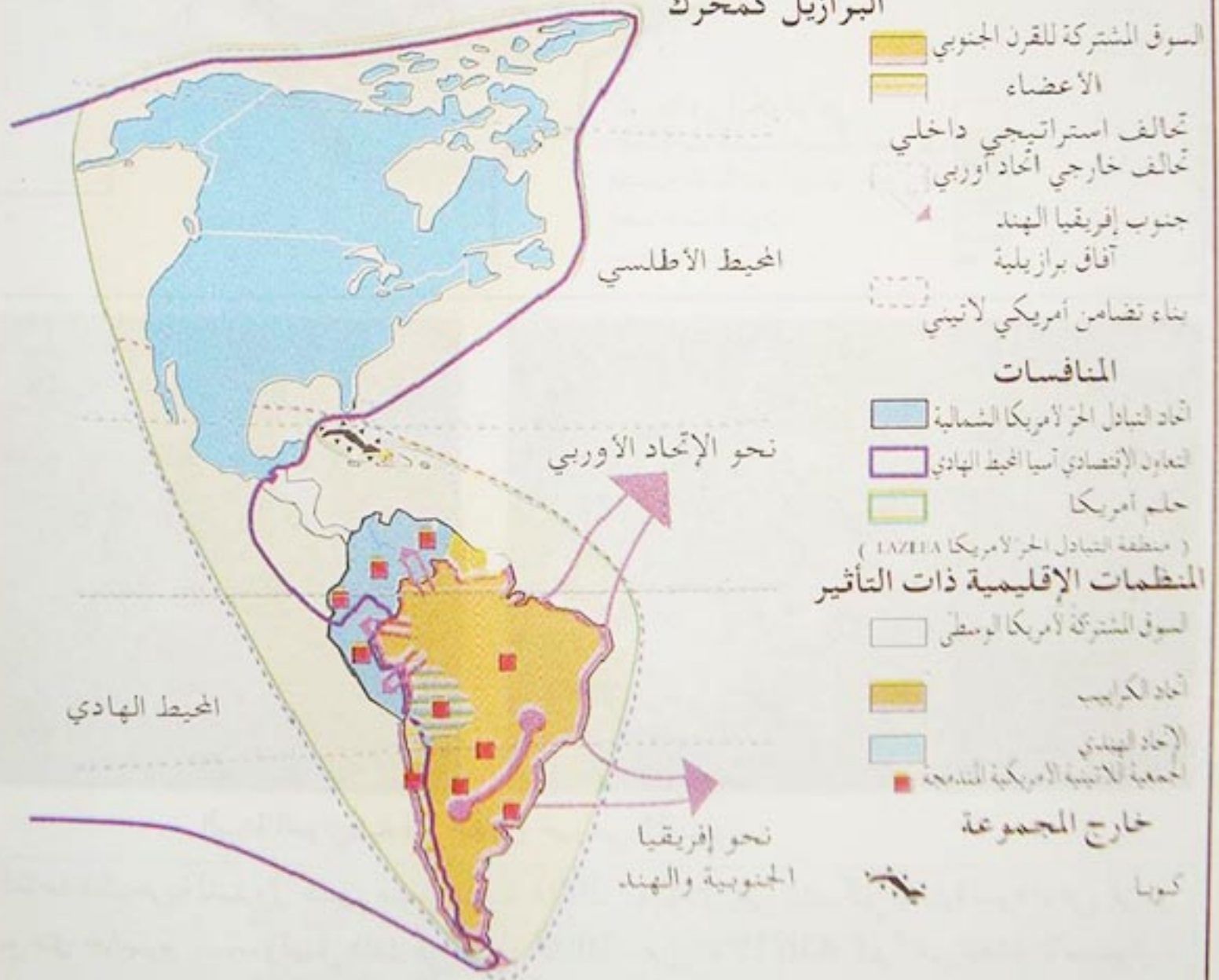
البرازيل قوة اقتصادية من دول الجنوب، وتحتل مكانة متميزة (المرتبة الثالثة بعد الصين والمكسيك). وهي أكبر مساحة وسكانا من الأرجنتين والشيلي، ولا يمكن مقارنتها إلا ببلدان قوية مثل المكسيك وإيران وأندونيسيا التي تتميز بعمران بشري كبير وهوية وطنية قديمة وقلعة الارتباط بأوروبا.

البرازيل أقرب الى الـ ب. م. أ. منه الى غيرها من الدول.

## اندماج قوي في العولمة

البرازيل أكثر البلدان تطورا بالنسبة لدول الجنوب وقد أنهت انتقاليته الديموغرافية وارتفعت نسبة سكان المدن فيها بـ 12% في حين تمت عصرنة الزراعة وتأتي بعد الصين في الميدان الصناعي بالنسبة لدول الجنوب، ويسجل قطاع الخدمات أكثر من 60% بالنسبة للدخل الوطني الخام. جغرافيا نهائي. فضاء العالم ناتان

## البرازيل كمحرك



## النشاط

اعتمادا على المعلومات المستخلصة من السندات المعطاة حلل عناصر قوة الاقتصاد البرازيلي واندماجه في الاقتصاد العالمي.



ان الاستغلال الواسع للإقليم البرازيلي زمنا طويلا أصبح يهدد البيئة والإنسان معا .  
كيف يمكن ضمان التنمية المستدامة والحفاظ على البيئة في البرازيل ؟



البيئة البرازيلية في خطر ( حوض الأمازون )

كاد انفجار القاعدة البحرية للبتروول شهر مارس سنة 2001 أن يؤدي إلى تشكل بحيرة سوداء في عرض البحر قرب ريو دي جانيرو ..... وقبل ذلك في سنة 2000، تم إزالة 836 19 كم<sup>2</sup> من الغابة الاستوائية بزيادة 15% بالنسبة للسنة التي قبلها 1999 . وقد تم إزالة ما يعادل مساحة فرنسا من غابة الأمازون منذ ما يقرب من 50 سنة .

إن توسيع زراعة السوجا كمشروع " افانسا برازيليا " المقدر بـ 4 ملايين دولار كاستثمارات في حدود سنة 2007 لشرق 4 طرق جديدة، من شأنه أن يؤدي إلى إزالة 180 000 كم<sup>2</sup> من الغابة قبل مرور 20 سنة .

ZEBOLED EINNA



هناك أكثر من 20 مليون نسمة يعيشون في الأمازون واغلبهم من الهنود السكان الأصليين الذين عرفوا كيف يستغلون الموارد الطبيعية الغابية دون المساس بالنظام البيئي .

إن العمل على حماية الغابة يتطلب التعاون مع الفاعلين الملزمين بالتنمية المستدامة .

يشارك السكان الأصليون " السنجيروس " في جني المطاط وجوز الهند وفي مشاريع الزراعة لجني الزيوت وقطف الأعشاب الطبية يحدوهم جميعا الاستثمار الدائم للموارد الطبيعية .

يمارس عدد كبير من السكان الصيد البري والصيد البحري الايكولوجي من اجل المعاش او الاتجار ويتطلب الوضع سن قوانين تضمن الاستغلال الدائم لتلك الثروات.

وقد ظهرت بعض البرامج الايكولوجية الغابية في الأعوام الأخيرة تتعلق بحسن تسيير واستغلال الثروات الغابية من طرف السكان في إطار تنمية مستدامة كما تلتزم بعض المؤسسات الصناعية باستغلال الموارد الصناعية والمنجمية وفق معايير ايكولوجية واجتماعية .

Greenpeace موقع انترنيت . ديسمبر 2003



الوجه الجديد للأمازون - منطقة تبادل حر ( ملكية يابانية )

#### النشاط

اعتمادا على مختلف السندات أجب كتابيا في صفحة على الإشكالية المطروحة .



## نيجيريا



موقع نيجيريا في العالم



خريطة تايجيريا الطبيعية

### نيجيريا في أرقام

- المساحة : 923 768 كم<sup>2</sup>.
- السكان سنة 2001 : 128771990 نسمة .
- الكثافة السكانية العامة : 451 ن / كم<sup>2</sup>.
- العاصمة : أبوجا
- عدد السكان 420 000 ن. سنة 2001
- نسبة التمدن 46 % . (2002)
- الولادات بالالف : 39
- الوفيات بالالف : 17
- وفيات الأطفال بالالف : 100
- الخصوبة 5.8
- تضاعف السكان - حدود 24 سنة
- مدى الحياة :
- 53 سنة . نساء
- 52 سنة . رجال
- مؤشر التنمية البشرية 0.466.
- الدخل الوطني الخام للفرد : 300 دولار . (2002)
- نسبة الأمية : 26 % سنة 1999
- الإنتاج الوطني الخام :
- الزراعة 41 %
- الصناعة 62 %
- الخدمات 3 %

Image économique du monde 2005

### الموقع الجغرافي :

تقع نيجيريا في غرب إفريقيا وتحدها من الغرب بينين، ومن الشمال النيجر، ومن الشمال الشرقي تشاد، ومن الشرق الكاميرون، ومن الجنوب خليج غينيا. ويُعتبر نهرا النيجر وبينو أهم المعالم الجغرافية في نيجيريا. وتقع أكثر المناطق ارتفاعا في الشرق على امتداد الحدود مع الكاميرون وتعتبر هضبة جوس الأكبر ضمن المساحات المرتفعة. ويعوق الضباب المحمل بالغبار حركة الملاحة الجوية من آن إلى آخر. وتنقسم نيجيريا من حيث المناخ إلى ثلاث مناطق، أولها المنطقة الاستوائية في الجنوب، والثانية المنطقة المدارية الوسطى، والثالثة المنطقة الجافة في الشمال. وتزداد كمية الأمطار في منطقة الساحل الجنوبي وتقل كلما اتجهنا نحو الداخل.





### الفقر يولد الإحباط

وهناك اضطرابات تنشأ عن حالة التآزم والإحباط التي يعيشها الشعب من جراء الفقر والتخلف وتردي الأوضاع الاقتصادية والمعيشية، حيث الفجوة الواسعة بين الطبقات الميسورة والطبقات المحرومة الكادحة. فالفقر أصبح ظاهرة عامة و البطالة ومظاهر البؤس والفاقة منتشرة بين السكان، فنصيب الفرد من الناتج المحلي الإجمالي لا يتجاوز سنويا 300 دولار أمريكي، وتقدر تقارير البنك الدولي عدد الذين يعيشون على دولار واحد في اليوم بنحو 80% من السكان بمعنى أن عدد الفقراء يفوق 100 مليون شخص.

موقع غوغل / الانترنت



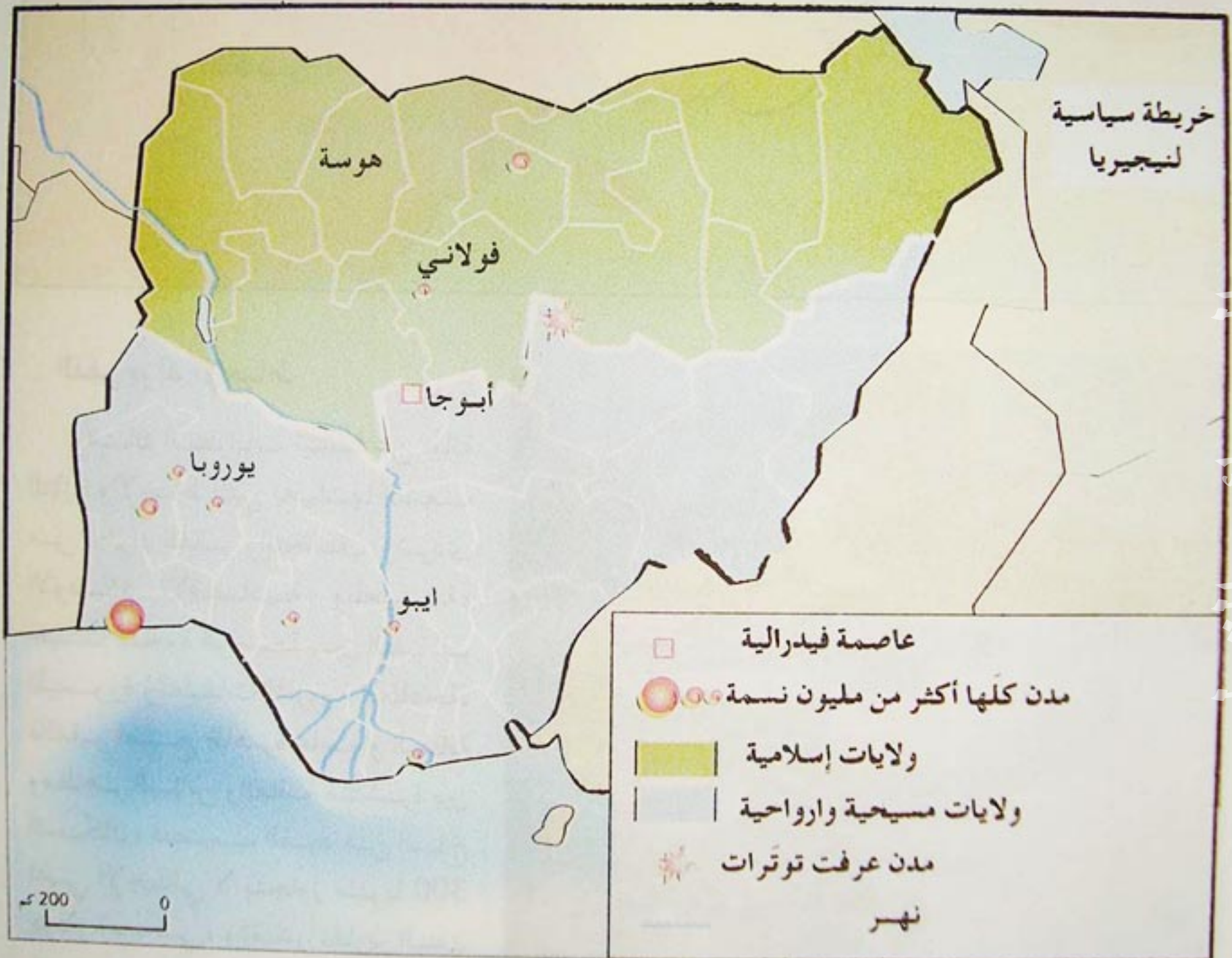
حي قصديري بمدينة لاغوس (نيجيريا)



نيجيريا دولة فيدرالية مقسمة الى قسمين

نيجيريا هي الدولة الأكثر سكانا في إفريقيا وقد بلغ عدد سكانها 137.25 مليون نسمة سنة 2004 وفيها حوالي 200 قبيلة . أغلبها هي الاثنيات المسلمة في الشمال أهمها الهوسة والفلاني التي تشكل ثلث السكان تقريبا. ويسود حكم الشريعة الإسلامية في 11 مقاطعة في الشمال. أما في الجنوب فأكثر السكان هم المسيحيون والارواحيون، من قبائل يوروبا و الايبو التي تشكل 38 % من السكان .

موقع الإنترنت





عند تناول ظاهرة كهذه يجب أن يؤخذ في الاعتبار والتحليل حجم التناقضات والاختلافات الشديدة والبالغة التعقيد، فالنموذج النيجيري يمكن أن يطلق عليه بحق "دولة المتناقضات الصارخة"، فهو مجتمع يتسم بتنوع هائل في البيئة والإقليم والتنظيم الاجتماعي والوضع الاقتصادي وأسلوب المعيشة والانتماء الطائفي والإثني ومستوى التخلف والمعيشة والنظام السائد والثقافة والمشاكل والقضايا والأزياء الخاصة. ولعل التركيبة القبائلية تشهد بذلك، حيث يعيش على أرض نيجيريا مجموعات قبائلية وعرقية تزيد عن 250 جماعة قومية.....

.... ومما يرسخ الانقسامات بين تلك الجماعات ويؤدي إلى التنازع وجود فوارق في الحقوق السياسية والاقتصادية والمدنية وفي المكانة الاجتماعية، بالإضافة إلى الفوارق في الهوية. ونستدل على ذلك بوضعية الأقاليم الثلاثة الكبرى (الإقليم الشمالي المنطبع بالطابع الهوساوي الفولاني، والإقليم الغربي لقبيلة اليوروبا، والإقليم الشرقي لقبيلة الإيبو). وقد تمكنت كل جماعة من تحقيق قدر من الاندماج الإثني داخل كل إقليم، وجعلها تصنف نفسها باعتبارها "نحن" في مواجهة الجماعات الأخرى. وقد أوجد ذلك حالة من الصراع بين تلك الأقاليم انعكست على خطاب القيادات السياسية....

موقع غوغل / انترنيت

Nigeria Economy - 2003



نقل عمومي في الريف النيجيري

النقل في إفريقيا جنوب الصحراء بما فيها نيجيريا يتم عن طريق البر على شاحنات وحافلات، تخلص وتتولى مختلف انواع النقل. ويعتبر النقص المسجل في هذا الجانب إعاقة أمام التبادلات والنشاط الاقتصادي وهو ما يؤثر سلبا على التنمية

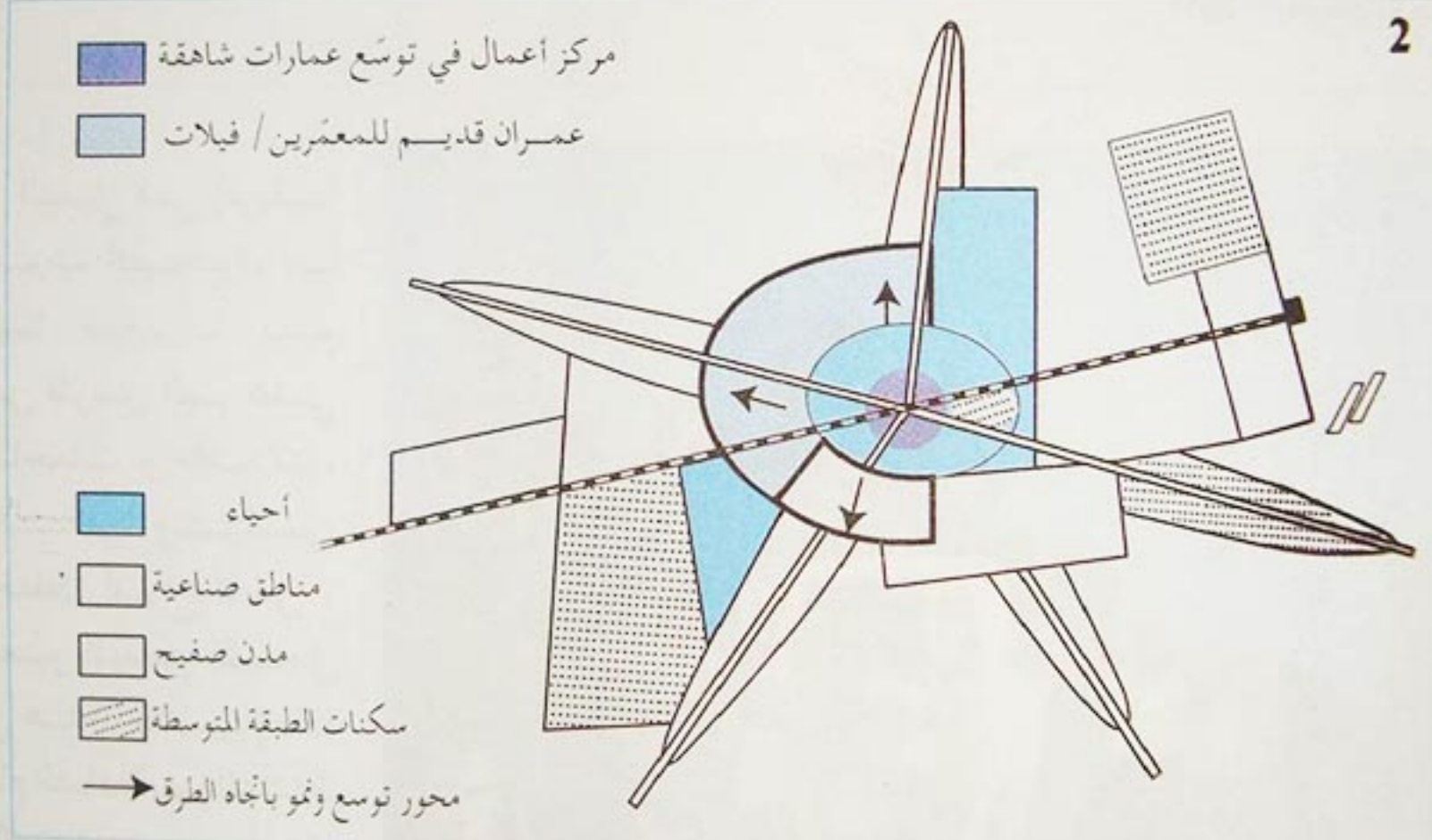
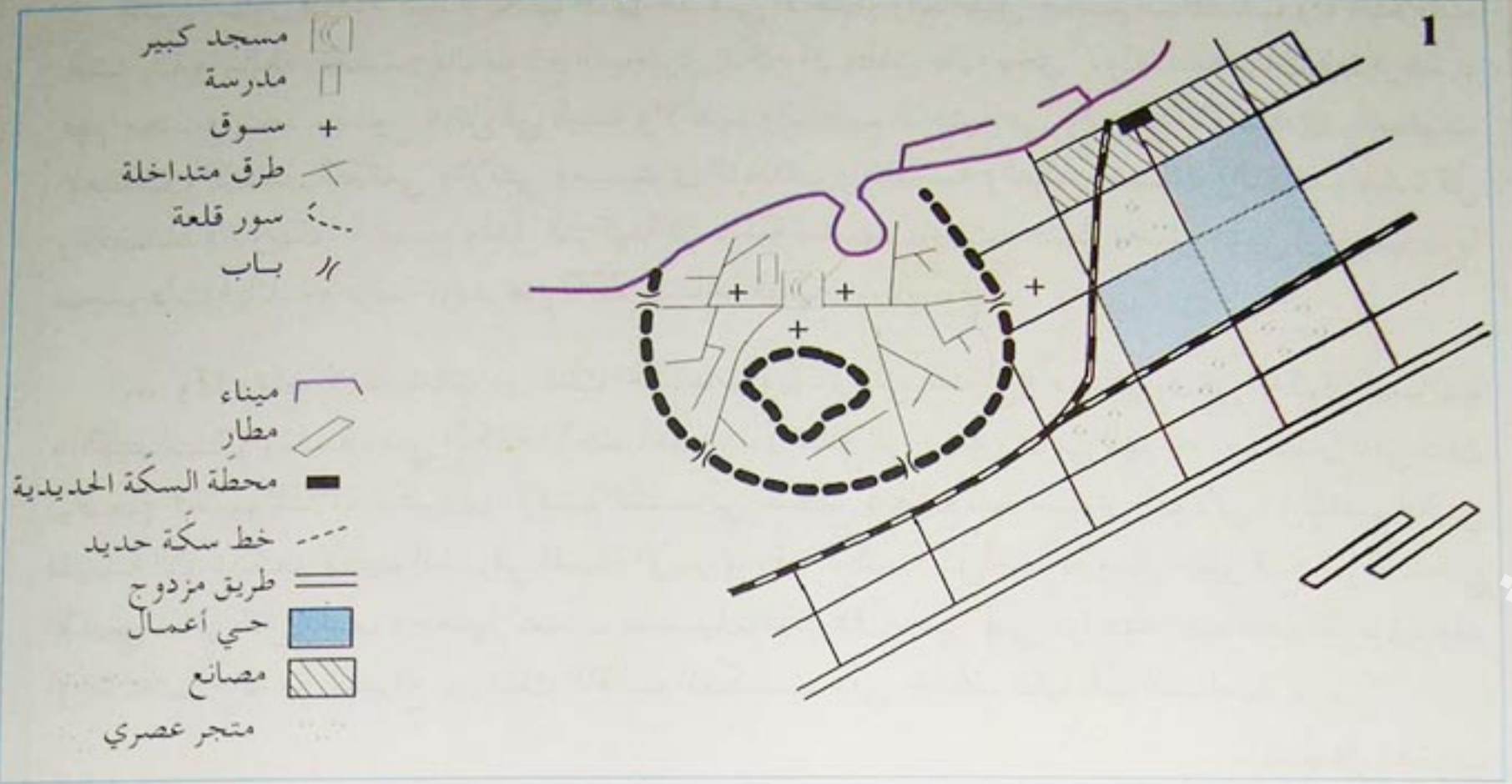
الجغرافيا، فضاء العالم  
ناتان

### النشاط

- من خلال السندات المعطاة أكتب صفحة تحدد فيها وتشرح أهم معوقات التنمية في نيجيريا؟



## نماذج مخططات مدن في افريقيا



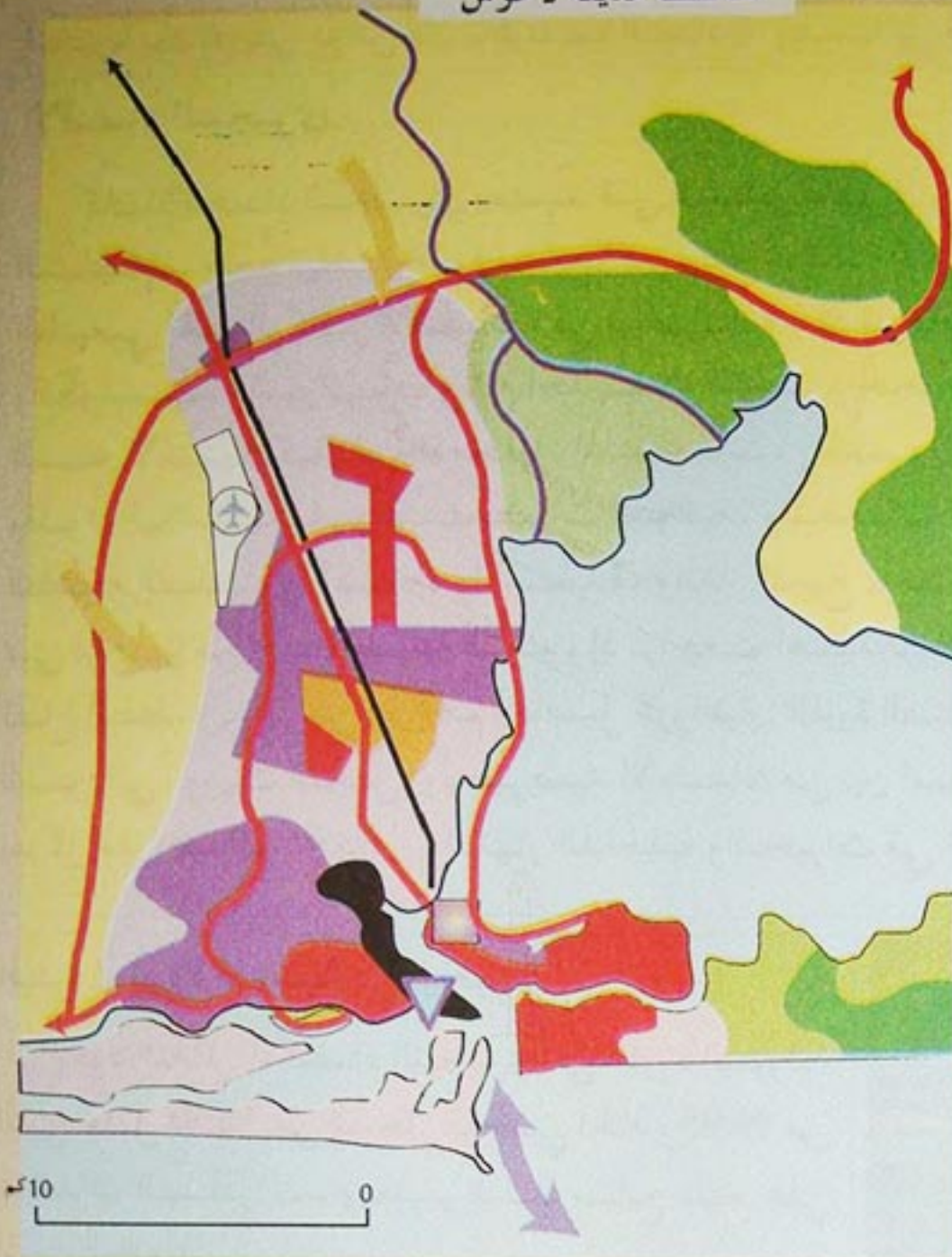
لاغوس هي المحور التجاري والصناعي لنيجيريا، واقتصادها يفوق بعدة أضعاف بلدان افريقيا الغربية. استفادت لاغوس من مصادر نيجيريا الطبيعية كثيرا مثل النفط والغاز الطبيعي والفحم والخشب والوقود والماء. الصناعة الخفيفة كانت سائدة في نيجيريا بعد الاستقلال والصناعات المتعلقة بالنفط سيطرت عليها في السبعينات، مما أدى إلى النمو السريع لاقتصاد لاغوس.

إنتاج النفط، الذي بدأ في الخمسينات، زاد بسبعة أضعاف بين عامي 1965 و 1973، المنطقة الحضرية ساهمت بحوالي 40% من التجارة الخارجية لنيجيريا، والتي تحتوي على 40% من السكان الوطنيين المهرة.

لاغوس في موسوعة بريتانكا / الإنجليزية



مخطط مدينة لاغوس



1. أطر حياة متباينة

- أحياء شعبية غير منظمة
- أحياء شعبية كثيفة العمران
- أحياء الطبقات المتوسطة
- أحياء راقية

2. وظائف المدينة

- مركز أعمال
- نشاط صناعي وموانئ

3. شبكات طرق

- طرق رئيسية
- سكة حديد
- موانئ
- مطارات

4. الديناميكية

- نزوح ريفي
- تجارة بحرية

5. تباين بيئي

- مستنقعات
- غابات



السنة	عدد السكان
1871	28 000
1921	100 000
1953	345 000
1963	1 100 000
1973	2 500 000
1996	6 000 000
2003	8 700 000

تطور سكان مدينة لاغوس

**النشاط**

- ماذا تستخلص من كل سند على حدة ؟
- قارن بين مخطط مدينة لاغوس والمخططين 1 و 2

ص 144



نيجيريا بلد إفريقي مؤهل لان يكون قوة اقتصادية إقليمية بل قارية . ما المعوقات الحائلة دون ذلك ؟

### الاقتصاد النيجيري

كان الإقتصاد النيجيري يعتمد في السابق على الزراعة حتى اكتشاف النفط في أواخر الستينات. وتعدّ نيجيريا اليوم سابع أكبر منتج للنفط الخام في العالم، ويمثل النفط إلى جانب الغاز الطبيعي أهم الركائز الاقتصادية في نيجيريا. وتتضمن باقي الموارد الطبيعية المتوفرة: القصدير، والكولمبيت، واليورانيوم، وخام الحديد، والفحم، والحجر الجيري، والرصاص، والزنك. وتتضمن السلع الاستهلاكية المنتجة محليا: المنسوجات، والمشروبات غير الكحولية، والخشب، والأثاث، والمواد البلاستيكية، والمستحضرات الدوائية، والمنتجات الغذائية. ومن بين الصناعات النيجيرية الناشئة الصلب، والألمنيوم، والأسمدة، والغاز المميع. وتعتبر الصناعات التحويلية ثاني أكبر قطاع في نيجيريا من حيث سرعة النمو، إذ تراجعت أهمية الزراعة في الإقتصاد النيجيري بسبب تطور قطاع النفط. ويذكر من بين أهم المحاصيل الزراعية: الذرة الصفراء، والقمح، والتبغ، والكافور، والبقول السوداني، وزيت النخيل. ويُعتبر صيد الأسماك من بين أسرع النشاطات الزراعية الفرعية نمواً وهو يتركز على ضفاف الجداول والأنهار الداخلية والبحيرات في الجنوب.

موقع غوغل إنترنت / 2003



نقل البترول في نيجيريا

### البترول ثروة أساسية في نيجيريا

يعود انتعاش الإقتصاد النيجيري الى الثروة البترولية التي تمثل 30% من الدخل الوطني الخام و 95% من عائدات الصادرات . ويعتبر البلد سابع منتج على المستوى العالمي.

استفادت نيجيريا من ارتفاع أسعار البترول . من 13 مليار دولار إلى 21 مليار دولار، هي على التوالي سنتي 1999 و 2000 . وقد أدى اكتشاف ابار جديدة إلى ارتفاع احتياطه بنسبة كبيرة .

تعرف أسعار البنزين ارتفاعا كبيرا في البلاد وكثرة الطلب على المادة الحيوية بسبب نقص مؤسسات تكرير البترول 4 على المستوى الوطني تدور بنسبة ثلث طاقتها . وقد يؤدي ذلك إلى عديد من المشاكل مثل السوق السوداء بالإضافة إلى التناحر العرقي على اساس المصلحة فيما يخص عائدات البترول بين قبائل الاوجوني في الشرق والايجاواكس في الغرب، والتي تأخذ 13% من عائدات الاستغلال.

كثيرا ما تحول النزاع إلى صراع دموي بينهما مما يؤثر سلبا على الإنتاج .

Image economique 2002

إجمالي الناتج القومي ( بالمليار / تقديرات سنة 2003 ) : 114 مليار دولار بمعدل 900 دولار للفرد سنويا.

حصة قطاع الزراعة من إجمالي الناتج القومي : 30.8 %

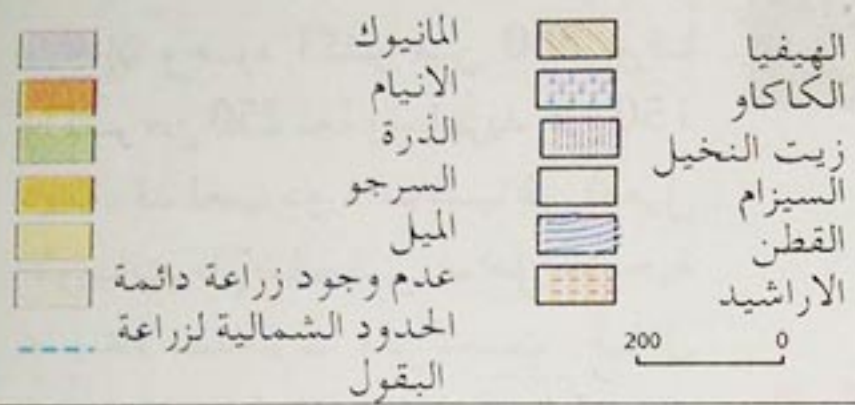
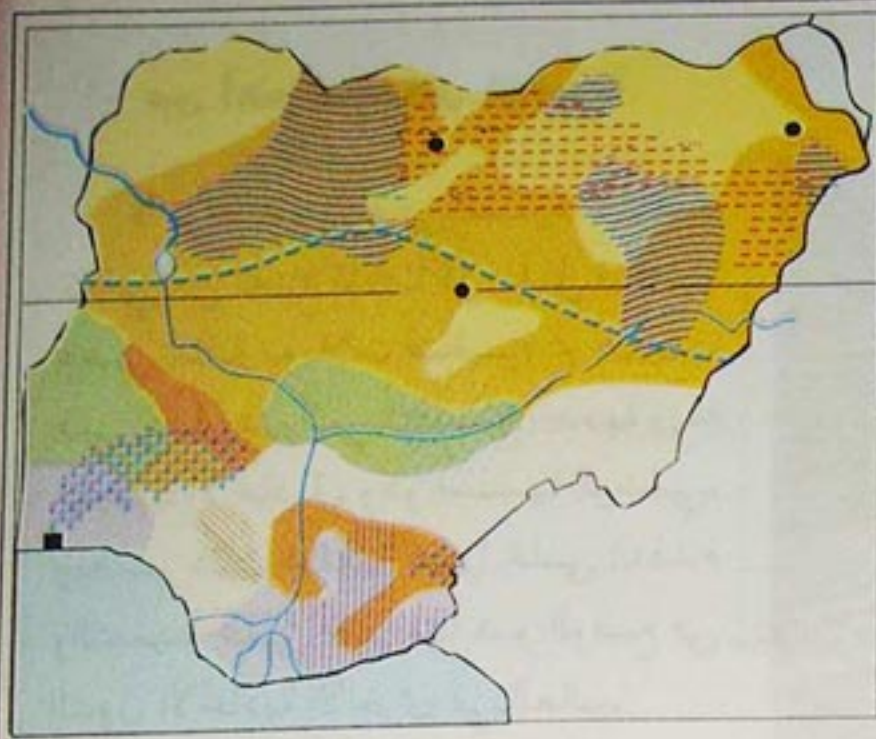
حصة قطاع الصناعة من إجمالي الناتج القومي : 43.8 %

حصة قطاع الخدمات من إجمالي الناتج القومي : 25.4 %

نسبة السكان تحت خط الفقر : 60 % ( تقديرات سنة 2000 )

التضخم : 13.8 % ( تقديرات سنة : 2003 )





الزراعة في نيجيريا

هناك محاولة لإقامة صناعة ثقيلة في نيجيريا، إلا أنها تعتبر مكلفة جدا وقد تؤدي الى إفلاس لا محالة ، فصناعة الصلب والبترو كياء الموجودة تدور ب 10 % من طاقتها، في ظل قطاع مصرفي استغل التضخم المالي في البلاد لرفع نسبة الفوائد على القروض بما يقرب من 20 %  
الموارد الطبيعية:

النفط، القصدير، الكولمبيت، خام الحديد، حجر الكلس، الرصاص، الزنك، الغاز الطبيعي .

الإنتاج الصناعي / الوحدة : مليون طن

النوع	السنة	1997	1998	1999	2000
الإنتاج الصناعي		105.5	106.3	102.7	104.7
إنتاج الفحم		0.007	0.030	0.030	0.035

Atlas Obs Economique et Politique mondial 2003


الناتج المحلي الإجمالي بأسعار السوق الجارية مليون دولار	64357 (2004)
الناتج المحلي الإجمالي للفرد دولار	500 (2004)
حصة القطاعات المختلفة في الناتج المحلي الإجمالي	37.0% الزراعة، 29.0% الصناعة، 34.0% الخدمات، (2003)
إجمالي الصادرات مليون دولار	33692 (2004)
إجمالي الواردات مليون دولار	20282 (2004)
الصادرات الرئيسية :	النفط والمنتجات النفطية، الكاكاو، المطاط
الواردات الرئيسية :	المكائن ومعدات النقل، الكيماويات، المواد الغذائية، الحيوانات
الشركاء التجاريون الرئيسيون :	المملكة المتحدة، الاتحاد الأوروبي، البرازيل، الولايات المتحدة

### النشاط :

– ما الطابع الغالب على اقتصاد نيجيريا. وماذا يترتب على ذلك ؟ ولماذا ؟



### 3- من أهم مشاكل نيجيريا



الأحياء القصديرية في لاجوس

لا توجد دولة في القارة الأفريقية تعاني من تعدد المشاكل مثل نيجيريا وهي بمثابة دويلات صغيرة تم تجميعها في إطار فدرالي لتصبح جمهورية نيجيريا الاتحادية، وهو اسمها الرسمي. ويعتبر ذلك عائقا كبيرا على التقدم والتنمية على غير ما هو الوضع في الدول الاتحادية الأخرى في العالم.

إن وجود أكثر من 350 عرقا وأكثر من 250 لغة وما يزيد عن 150 ديانة، قد لعب دورا أساسيا في تفعيل الأزمات. بالإضافة إلى عوامل خارجية عديدة تضافرت وتراكمت خلال العقود الأربعة الماضية لتعطي للأزمات بعدا خارجيا لا يمكن تجاهله.

### السكان والديموغرافيا

نسبة النمو السكاني: 2.45% (تقديرات 2004)

التوزيع العرقي: (تقديرات سنة 2000)

تتكون من 250 مجموعة عرقية، وأهمها: هوسا،

فولاني، يوروبا، إيبو، إيجاو، كانوري، إيبيبو، تيف.

اللغة: الإنجليزية، الهوسا، اليوروبا، إيبو، الفولاني

الديانات: مسلمون 50%، مسيحيون 40% وثنيون 10%

نسبة المواليد في الألف: 38.24% (تقديرات 2004)

نسبة الوفيات في الألف: 13.99% (تقديرات سنة

2004)

نسبة وفيات الأطفال في الألف: 70.49% (تقديرات

سنة 2004)

متوسط العمر المتوقع: 50.49

نسبة المتعلمين: 68%

التعداد: 137 253 133 (تقديرات

سنة 2004)

التوزيع العمري: (تقديرات

سنة 2004)

من 0-14 سنة: 43.4%

ذكور: 29985427

إناث: 29637684

من 15-64 سنة: 53.7%

ذكور: 37502756

إناث: 36205442

من 65 سنة فما فوق: 2.9%

ذكور: 1944260

إناث: 1977564

المصدر: موقع Google / انترنت 2003



## اضطرابات داخل الجماعات العرقية

... هناك اضطرابات تأتي من داخل الجماعات التوفيقية العرقية المنضوية تحت لواء الإقليم، فرغم تمكن تلك الجماعات من إيجاد صيغة توليفية بين الهوية الخاصة والهوية الإقليمية العامة، والتفاهم حول بعض الأسس والعمل على تحقيق الاندماج واعتماد نظام تربوي موحد، فإنها تتمكن من احتواء أزماتها كلية لأنها تعاني بين فترة وأخرى من أزمات داخلية بسبب تدخلات من الخارج، وبسبب تسلط الأكثرية أو إحدى الأقليات على مراكز القوة والجاه والثراء، وبسبب عدم الإقرار بالتنوع الموجود في أحيان أخرى.

و من بين الأمثلة البارزة تلك الاضطرابات المتكررة بين جماعة إيجو وجماعة إيلاجي بولاية أندو في الإقليم الغربي، والاشتباكات العنيفة بين جماعة إجوس وجماعة إتسكري في ولاية دلتا الإقليم الشرقي. ولعل حالة النزاع بين تيف والهوسا / الفولاني في جوس بولاية بلاتو، تؤكد بالفعل أن هناك حالة استياء وامتعاض في الأوساط القبلية من جراء سيطرة الثقافة الهوساوية على الهويات القبائلية الأخرى في مناطق شمال نيجيريا.

وتتجه نيجيريا إلى أن تكون وعاءاً لصراعات ونزاعات الدول الأوروبية والولايات المتحدة بسبب تضارب مصالحها خاصة في مجال البترول والغاز الطبيعي، وترى أوروبا وعلى رأسها بريطانيا أنها أحق ببتروول نيجيريا لكونها مستعمرة بريطانية سابقة ولعضويتها في رابطة الكومنولث وبسبب الوجود المبكر لشركات البترول البريطانية مثل شركة "شل" shell العالمية في منطقة دلتا نيجيريا التي تعتبر أغنى منطقة بترولية في غرب أفريقيا.

ورغم ترحيب الحكومة النيجيرية باهتمام أوروبا والولايات المتحدة، وسعي هذه الدول لاستغلال الثروات النيجيرية الذي تراه أوجا بمثابة تعظيم لمكانتها الدولية، كما ترى ذلك سبباً في جمع وتكديس ثروات ربما يتم نهبها من جانب البعض أو استخدام ذلك في برامج التنمية الاقتصادية، فإن هذا الاهتمام من جانب الغرب لن يجلب إلى نيجيريا إلا كثرة وتعدد الطامعين في استغلال ثرواتها وتحويلها إلى حلبة أخرى للصراع بين القوى العظمى في العالم.

وهناك من الأدوات ما قد تستخدمها القوى العظمى في مواجهة بعضها البعض. وأولى هذه الأدوات الضرب على وتر المشاكل الداخلية وهي لعبة معروفة، تجيد الدول الغربية التحكم في أوراقها في الوقت والمكان المناسبين.

Nigeria Economy - The world factbook - 2003

## الخلاصة :

من خلال السندات المعطاة حدّد وحلّل في صفحة على الأقل، أهم المشاكل التي تعاني منها نيجيريا.



### دول الجنوب في أرقام

- 5 ملايين نسمة بزيادة 80 مليون نسمة سنويا.
- 58% سكان الأرياف.
- 42% سكان المدن.
- 18% من الدخل الوطني الخام العالمي.
- 1200 للفرد سنويا.
- 17% من التجارة العالمية.
- 800 مليون نسمة يعانون من سوء التغذية.
- 1.5 مليار نسمة يعيشون بأقل من دولار واحد في اليوم.



الأحياء القصديرية في لاغوس

باعتقاد ما تم اكتسابه في الوضعيات التعليمية والسندات المقدمة في هذه الحصيلة، يمكنك حصر مختلف جوانب الوحدة التعليمية في شكل بناء اثر كتابي قبل معالجة الوضعية التقويمية المعطاة .

### التنمية في دول الجنوب

تقوم التنمية في دول الجنوب على متغيرات ثلاثة :

- 1 - الجانب الديموغرافي
- 2 - الجانب الاقتصادي.
- 3 - الجانب الاجتماعي.

يتأتى مسار التنمية عندما يكون النمو الاقتصادي الدائم أكثر من الزيادة السكانية، وينتج رفاها ماديا واجتماعيا وثقافيا يخص الجزء الأكبر من السكان. ينعدم النمو الاقتصادي إذا ما سيطرت الأقلية على ثروة البلاد.

### المعيقات المشتركة للتنمية في دول الجنوب

تظهر العناصر المتشابهة بالنسبة لدول الجنوب عند مقارنتها بدول الشمال المتطورة في الزيادة الديموغرافية الكبيرة وفتوة السكان والتخلف في جميع الميادين وسيادة التبعية المالية والتقنية والعلمية علما أن الجنوب يمثل 80% من سكان المعمورة ويستهلك قرابة 15% من ثمار الخدمات المنتجة. بالرغم من تسجيل دول الجنوب تطورات هامة بعد السبعينات إلا أنها تبقى بعيدة عن التطورات الحاصلة في دول الشمال، وهو ما يعمق الفارق بينهما. ويعود تخلف دول الجنوب إلى جملة من الأسباب :

- ثقل الانفجار السكاني الذي كبح وأعاق الانطلاقة الاقتصادية خلال الفترة الممتدة بين 1960 و1990.
  - آثار الاستعمار الذي لم يترك إمكانيات التنمية المستقبلية بعد استرجاع السيادة.
  - عدم فعالية الاستراتيجيات المعتمدة في مجال التنمية الاقتصادية.
- تمتلك دول الجنوب ما يؤهلها للاندماج في مسار العولمة من ثروات طبيعية ويد عاملة رخيصة وقد أصبح البعض منها يستقبل المصانع التي يتم ترحيلها ونقلها إليها من دول الشمال.



## تفاوت التنمية في دول الجنوب

يظهر التفاوت في التنمية في دول الجنوب أكثر منه في دول الشمال، ويرتبط ذلك التفاوت بالجانب الاجتماعي حيث نجد أقلية غنية وشرائح سكانية واسعة وفقيرة تفسر من الناحية الجغرافية بالتباين بين المدن والأرياف من جهة وبين مناطق متطورة ومناطق متخلفة من جهة أخرى. يمكن التمييز بين أربع مجموعات على المستوى العالمي :

- أمريكا اللاتينية : وهي متقدمة في مسارها التنموي والتمدد المبكر وهي تسجل انتهاء الانتقالية الديموغرافية.
- دول جنوب وشرق حوض المتوسط والشرق الأدنى والشرق الأوسط : وتتمتع بإمكانيات بترولية وسياسة تصنيع حيوية غير أن الزيادة السكانية فيها محسوسة.
- آسيا : وتشهد انطلاقة اقتصادية مؤكدة غير أنها تواجه تحدياً كبيراً ممثلاً في كثرة سكان الأرياف وتضخم المدن وتوسعها بشكل سريع.
- إفريقيا جنوب الصحراء : وتعاني من تخلف ونقص كبير في ميداني التنمية الاقتصادية والاجتماعية بالرغم من ثرواتها الكبيرة.

### التنمية في العالم



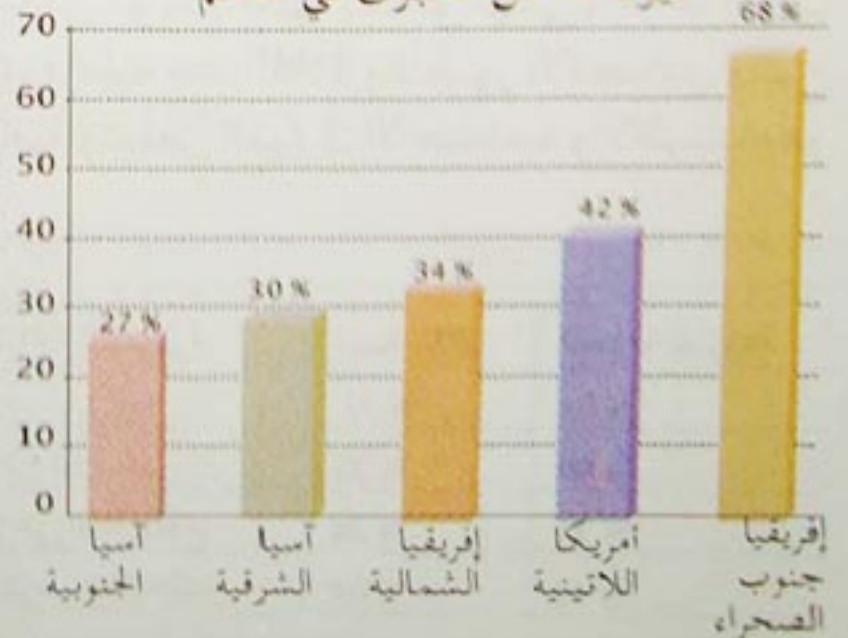
- مناطق التجديد التقني
- في طور الانتقال
- صادرات صناعية
- تصدير المواد الأولية
- تصدير المحروقات
- خط فاصل شمال / جنوب



تهيئة الأرض للزراعة في مدغشقر



### ديون المناطق الكبرى في العالم



المصدر : الجغرافيا للأقسام النهائية. فضاء العالم / ناتان



تشكل الجمهورية الهندية ( الهند ) فضاء جغرافيا واسعا وواقعا يدل على التباين والتنوع الطبيعي والبشري، من ثقافة غنية من جهة وفقير مدقع من جهة أخرى. هناك اطفال مشردون وهناك مراكز البحث النووي والصناعات الثقيلة. الهند بلد التناقضات، بلد التكنولوجيا العالية في محيط من قرى متناثرة ومتخلفة، الهند أيضا هو البلد الذي اختار أسلوبا خاصا في النهوض بالتنمية .

### المقارنة بين الهند الصين

العناصر	مؤشرات	الصين	الهند
الإقليم	المساحة توزيع السكان الكثافة السكانية	9,6 مليون كم <sup>2</sup> متباين جدا 130 ن / كم <sup>2</sup>	3,3 مليون كم <sup>2</sup> منسجم 330 ن / كم <sup>2</sup>
السكان	تعداد السكان نسبة التعليم متوسط مدى الحياة	1301 مليون نسمة 81 % 71 سنة	1086 مليون نسمة 25 % 59 سنة
الديموغرافيا	نسبة الولادات الزيادة الطبيعية وفيات الاطفال تضاعف السكان	17 بالالف 1 % 31 بالالف 69 سنة	27 بالالف 8,1 % 72 بالالف 37 سنة
جوانب جغرافية	توتر الحدود استرجاع اقليمي مجموعات التحاور الاقتصادي و.م.أ - اليابان	الهند - تايوان - روسيا - التايوان كوريا الشمالية . وكوريا الجنوبية - منطقة المحيط الهادي	باكستان - الصين
التطور		انفتاح اقتصادي	انفتاح اقتصادي

### البرازيل في طريق التنمية

يمثل البرازيل نموذجا للتنمية في دول الجنوب، ودراسة هذه العينة تبين مدى تطوره في مجالات عديدة. وقد عرف البرازيل في فترة الستينات وضعية تخلف بسبب الفقر والجوع والانفجار الديموغرافي وسلطة ديكتاتورية وفوارق اجتماعية كبيرة. تلك المشاكل لم يتم حلها بشكل نهائي، الا أن الكثير من الميادين قد عرفت تطورا كبيرا بفضل الحياة الديمقراطية منذ 1985 والتطور الاقتصادي وتنوع الانتاج كما يسجل البرازيل انتهاء الانتقالية الديموغرافية وتقلص الفوارق الاجتماعية والاقليمية وهو بذلك في طليعة دول الجنوب .

مساحة المستثمرة	نسبة الملاك	المساحة المزروعة
0 الى 1 هكتار	32 %	01 %
1 الى 50 هكتار	35 %	09 %
50 الى 500 هكتار	28 %	31 %
أكثر من 500 هكتار	04 %	49 %

يستحوذ ملاك الأرض "لاتيفوندا" على مزارع تزيد عن 500 هكتار بل تصل إلى آلاف الهكتارات يوكل تسييرها إلى عناصر مختصة في غياب أصحابها المقيمين في المدن .



## دورة الفشل في الزراعة البرازيلية

- إفقار التربة باستخدام المخصبات والمواد الكيماوية
- قلة العتاد الفلاحي الضروري
- العزلة وصعوبة نقل الإنتاج والاتجار

- مزارعون وعمال الأرض بدون تكوين ولا مال .
- الإقامة في مساحات غابية استوائية أو السفانا
- القيام بالاستصلاح وإزالة الغابة عن طريق الحرق
- زراعة معاشيه في مستثمرات صغيرة

- سيطرة كبار الملاك والأثرياء والشركات على المستثمرات الزراعية المستصلحة
- فشل ثورات الفلاحين والإصلاحات الزراعية
- غياب الدولة

- مغادرة الأرض بسبب الطرد أو فقر التربة
- النزوح الريفي واكتظاظ المدن . البطالة
- بروليتاريا الأرياف . مزارعون من غير ارض

## التأثيرات الاجتماعية للنفط في نيجيريا

يرى كثير من النيجيريين وخاصة علماء الاجتماع أن سوء توزيع العائدات النفطية له آثار سلبية على المجتمع النيجيري، وقد زاد من حدة الصراع الطبقي .

شهد المجتمع طبقات اجتماعية مترفة أصبحت لها ثقافتها الخاصة وأساليب معيشتها التي تتناسب مع مداخيلها المرتفعة، ونجم عن ذلك مظاهر بارزة للأعيان في أماكن السكن ووسائل المواصلات .

هذه الفوارق الطبقيّة تسببت في الاستياء لدى السواد الأعظم من الشعب النيجيري الذي راح يكيل الاتهامات لهذه الطبقات تارة بالفساد، وأخرى باحتكار الثروة في دوائرها الضيقة التي لا تخرج عن الأقرباء والمعارف .

إن التأثيرات الاجتماعية والنفسية لسوء استخدام العوائد النفطية ليست هي كل ما يمكن قوله عن دور النفط في ما تشهده نيجيريا من اضطرابات، إذ أنّ لها أبعاد سياسية أخرى ألفت بظلالها على الصراع الدائر في البلاد .

## الأبعاد السياسية

الشركات الأمريكية المحتكرة لاستخراج النفط النيجيري تسببت في مزيد من الاحتقان السياسي الذي تشهده البلاد .

فالولايات المتحدة تولي أهمية خاصة للنفط في دول غربي القارة الأفريقية عموماً ونيجيريا خصوصاً، حيث تنتج هذه المنطقة حالياً 4.5 ملايين برميل يومياً، ومن المتوقع أن ترتفع إلى 6 مليون برميل بحلول العام 2008، وهي بهذا تعتبر واحدة من أهم مناطق العالم لإنتاج النفط خاصة إذا استمر عدم استقرار الأوضاع في منطقة الشرق الأوسط .



الإشكالية

تطرح عملية المساعدة على التنمية في دول القارة الإفريقية مشاكل كبيرة ترتبط بتحديد الأولويات والعناصر الفاعلة والكيفيات. لماذا؟ وما علاقة التنمية بالعمولة؟

المساعدة على التنمية

تطبيقاً لمبادرة هيئة الأمم المتحدة « هـ أم » في التسعينات والمتعلقة بتدعيم التنمية الاقتصادية في دول الجنوب. فان المساعدات المقدمة من طرف الدول المتقدمة، تشهد في الوقت الحاضر تراجعاً وإعادة النظر في العملية التي تناقصت مواردها من 1% إلى 0.7% وقد تم حسابها على أساس الدخل القومي الخام بالنسبة للدول الغنية. غير أنها لم يتم تحقيقها عملياً. وتتمثل المبادرة الجديدة لمجموعة (ال 8) الثمانية في كندا، جويلية 2002 في إعادة النظر في الإجراءات العملية لتلك المساعدات بهدف تجنب سوء تسييرها ميدانياً.

جغرافيا نهائي. برتراند لاكوست

المساعدات الدولية على التنمية في العالم

أهم مقدمي المساعدات		أهم المستفيدين من المساعدات	
البلد	مليار دولار	% الدخل . ق. خ	المنطقة
و.م.أ.	9,12	0,12	اوقيانيا
اليابان	2,9	0,23	أوربا
ألمانيا	4,5	0,27	إفريقيا
فرنسا	2,5	0,36	أمريكا اللاتينية
بريطانيا	7,4	0,30	آسيا

نظرة الى النظام العالمي الجديد


عرفت فترة الثمانينات وبداية التسعينات جهوداً كبيرة في مجال التنمية، سنتها المؤسسات المالية العالمية والدول الكبرى، انطلاقاً من فكرة تدعيم الأسواق التي تجعل مجمل البلدان الفقيرة على عتبة النمو الاقتصادي والقدرة على التسيير الذاتي. واعتبرت النظام العالمي الجديد - العمولة - كمحرك جديد للتقدم والرفاه الاقتصادي على المستوى العالمي، وكان الاعتقاد السائد أنه بإمكان البلدان الفقيرة ان تشرع في النمو الاقتصادي اذا ما اعتمدت أساليب التحكم في التسيير القائمة على استقرار المؤسسات الاقتصادية الكبرى وتحرير الأسواق، واتباع الخوصصة، ويؤدي ذلك النمو بدوره الى التحسن الواسع في مجال الصحة والتعليم والتغذية والسكن والاستفادة من الهياكل القاعدية التي تخص المياه الصالحة للشرب وتصريف المياه القذرة وإيجاد المرافق الصحية وبالتالي الخروج من دائرة الفقر.

إن تلك النظرة التفاؤلية، لم تكن في فائدة مئات الملايين من سكان العالم إلا أنها تعتبر خطوة هامة، مكنت فئات كثيرة من سكان المعمورة من تحسين أوضاعها، أمام تزايد المعارضة للنظام الاقتصادي العالمي الجديد.

تقرير عالمي حول التنمية البشرية 2003 UNDP



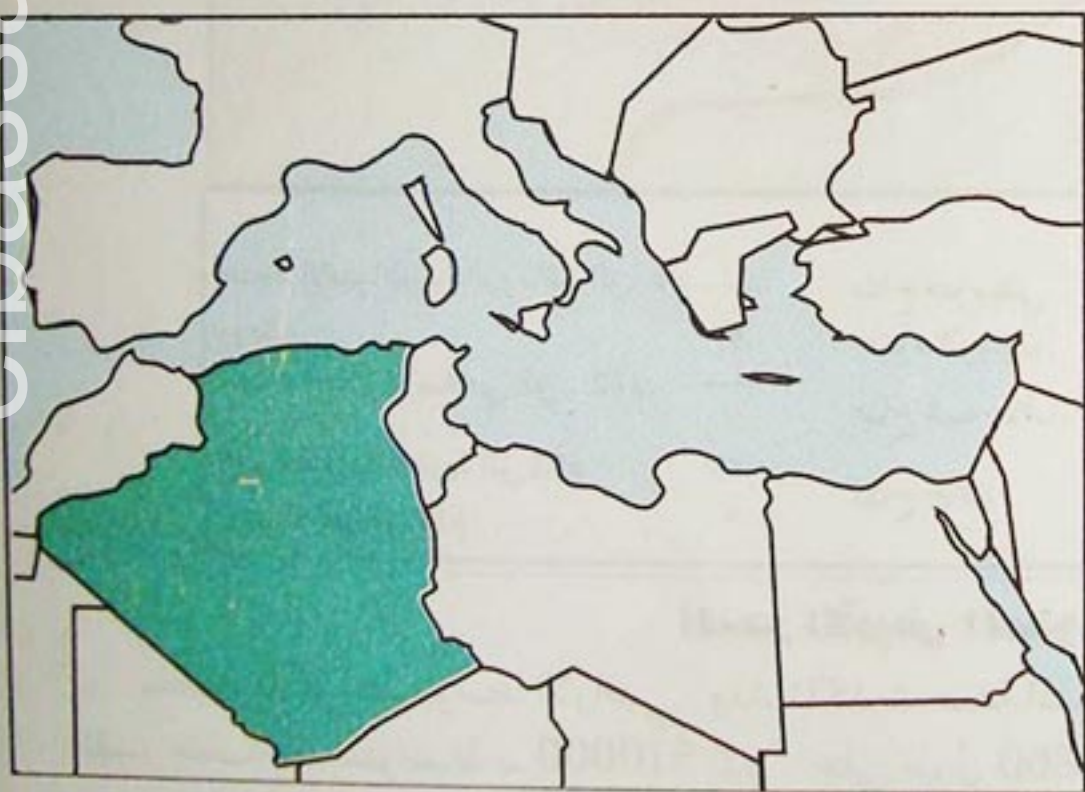
## الجزائر في منظمة البحر الأبيض المتوسط



الجزائر  
الإشراف على المتوسط

تعتبر منطقة البحر الأبيض المتوسط مهد الحضارات القديمة وهي اليوم من الناحية الجغرافية همزة وصل بين دول الشمال ودول الجنوب، تمثل المجموعة الأولى دول الاتحاد الأوربي المتطورة صناعيا وتمثل المجموعة الثانية دول الجنوب النامية أو المتخلفة.

- ما طبيعة المنطقة المتوسطية التي تنتمي إليها الجزائر؟
- كيف يتم تفسير التباين القائم بين ضفاف حوضي البحر الأبيض المتوسط؟



الجزائر في منطقة البحر الأبيض المتوسط

### الكفاءة القاعدية

في نهاية الوحدة التعلّمية تكون قادرا على إبراز دور الجزائر ومكانتها في منطقة البحر الأبيض المتوسط، بتحريك وتوظيفك لمختلف السندات المعطاة.

### وضعيّات تعلّمية تخص :

- 1- طبيعة وخصائص منطقة البحر الأبيض المتوسط.
- 2- التفاوت في التنمية بين ضفتي المتوسط.
- 3- تنقل السكان في منطقة المتوسط.



# 1- طبيعة وخصائص منطقة البحر الأبيض المتوسط

## الإشكالية

يعتبر البحر الأبيض المتوسط بحرا داخليا، يتوسط العالم القديم و هو مسطح مائي فاصل بين دول جنوب أوروبا ودول شمال إفريقيا والدول الواقعة في غرب منطقة الشرق الأوسط .

- ما خصائص المنطقة ؟

أ - الخصائص العامة :



## البحر الأبيض المتوسط

يقصد بالمتوسط "وسط الأراضي" وقد تأكدت صفة المتوسط كمركز العالم القديم منذ زمن بعيد. تقدر مساحة المتوسط بـ 510000 كم<sup>2</sup> على طول 3860 كم وعرض 1600 كم، متوسط عمقه يقدر بـ 1500م.

عرفت منطقة البحر الأبيض المتوسط أشهر الحضارات القديمة، يمتاز سكانها بالقدرة على التقبل والتكيف مع ما يأتي من الخارج وكذا حسن التواصل والتأثير. وتعتبر المنطقة أيضا مهد الديانات الموحدية الثلاث :

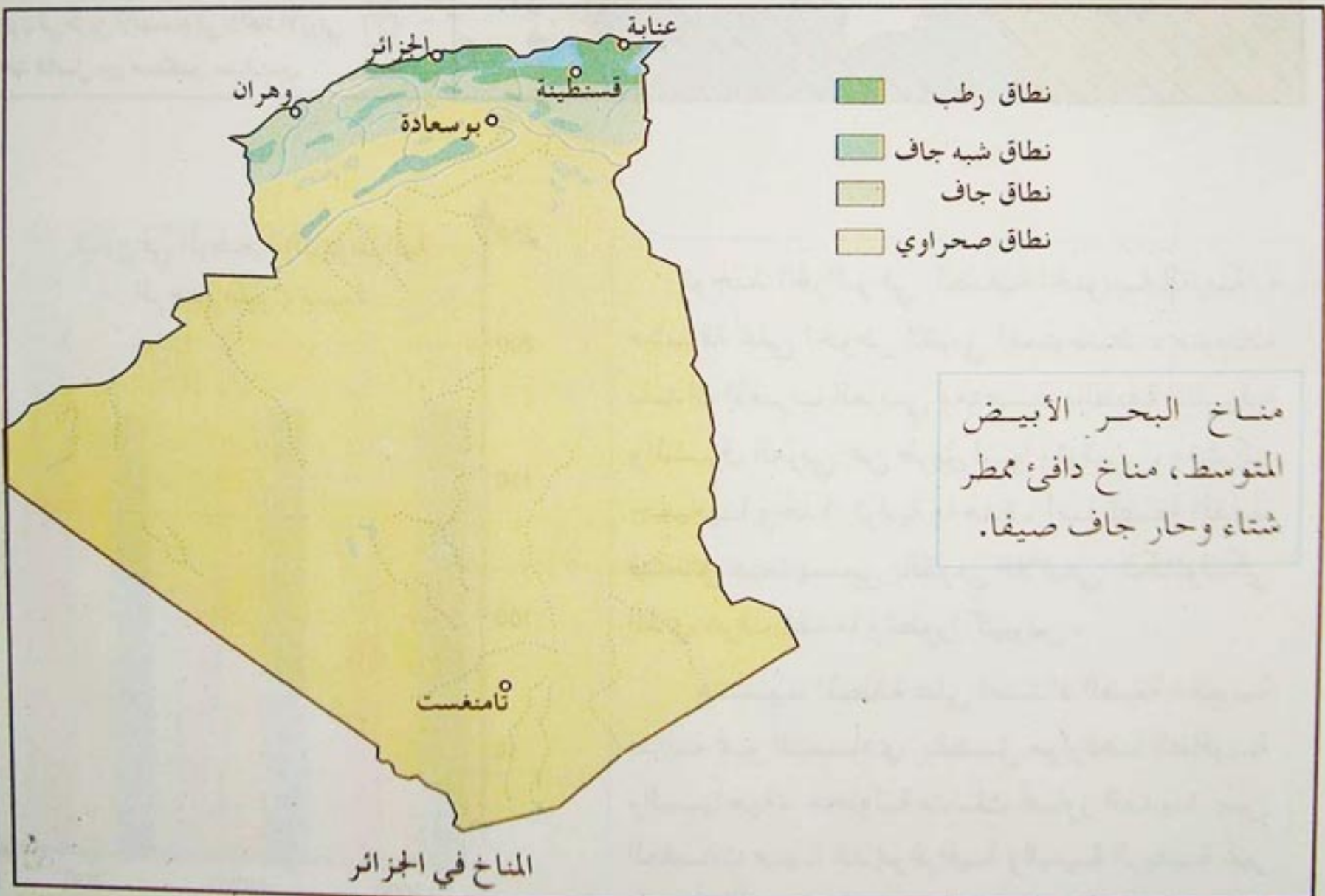
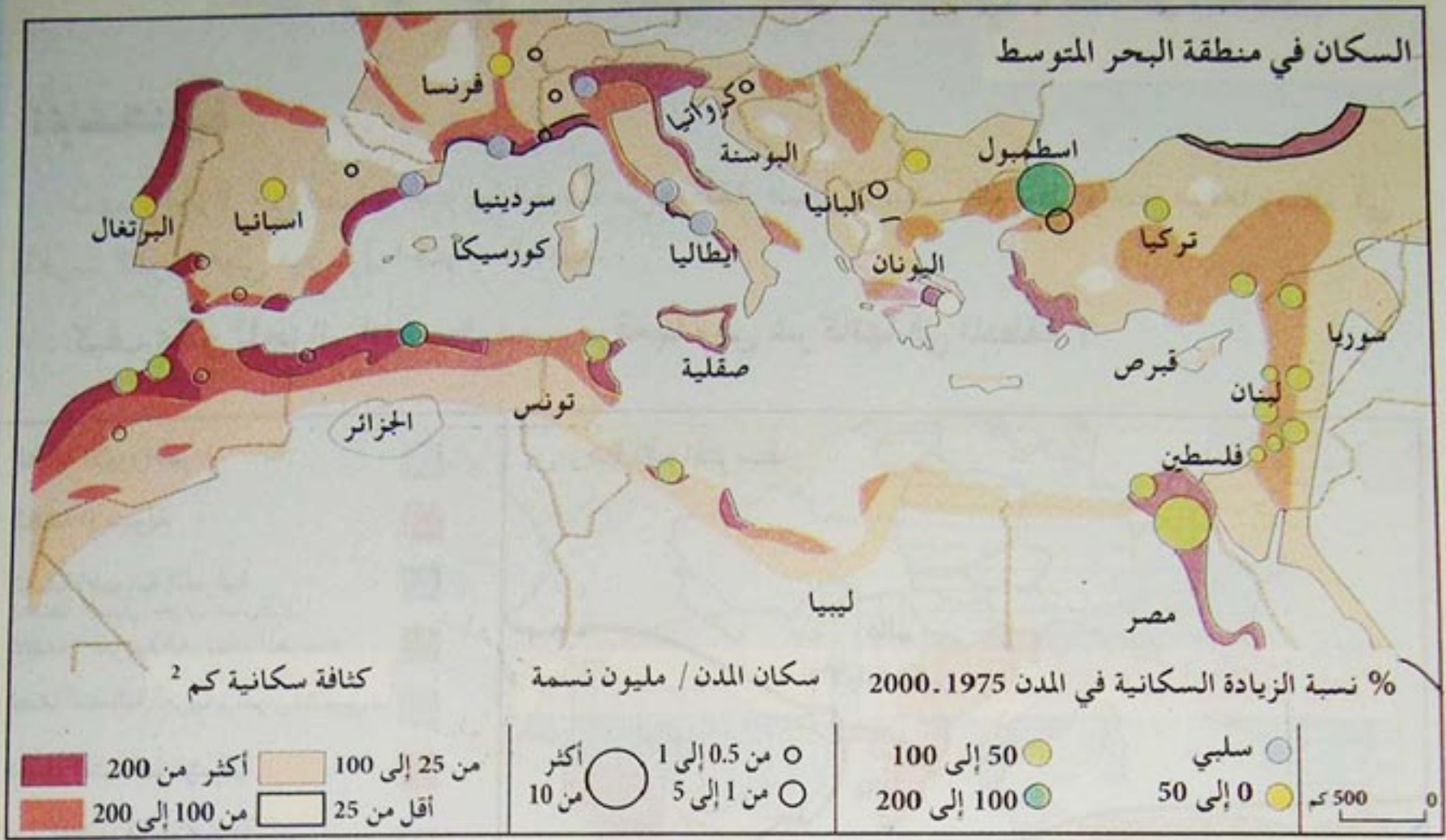
- اليهودية والمسيحية والإسلام (الذي يمتد من موريطانيا إلى إندونيسيا يضم أكثر من 1.5 مليار مسلم . (بتصرف)

PAUL BALTA / المتوسط بحر الشعوب

المجلة الدبلوماسية رقم 4 جويلية - أوت 2003



## ب - الخصائص الطبيعية والبشرية



### النشاط

- اعتمادا على السندات المعطاة حدّد واشرح في صفحة على الأقل ، جملة الخصائص المشتركة بين الجزائر وبقية مناطق البحر الأبيض المتوسط.

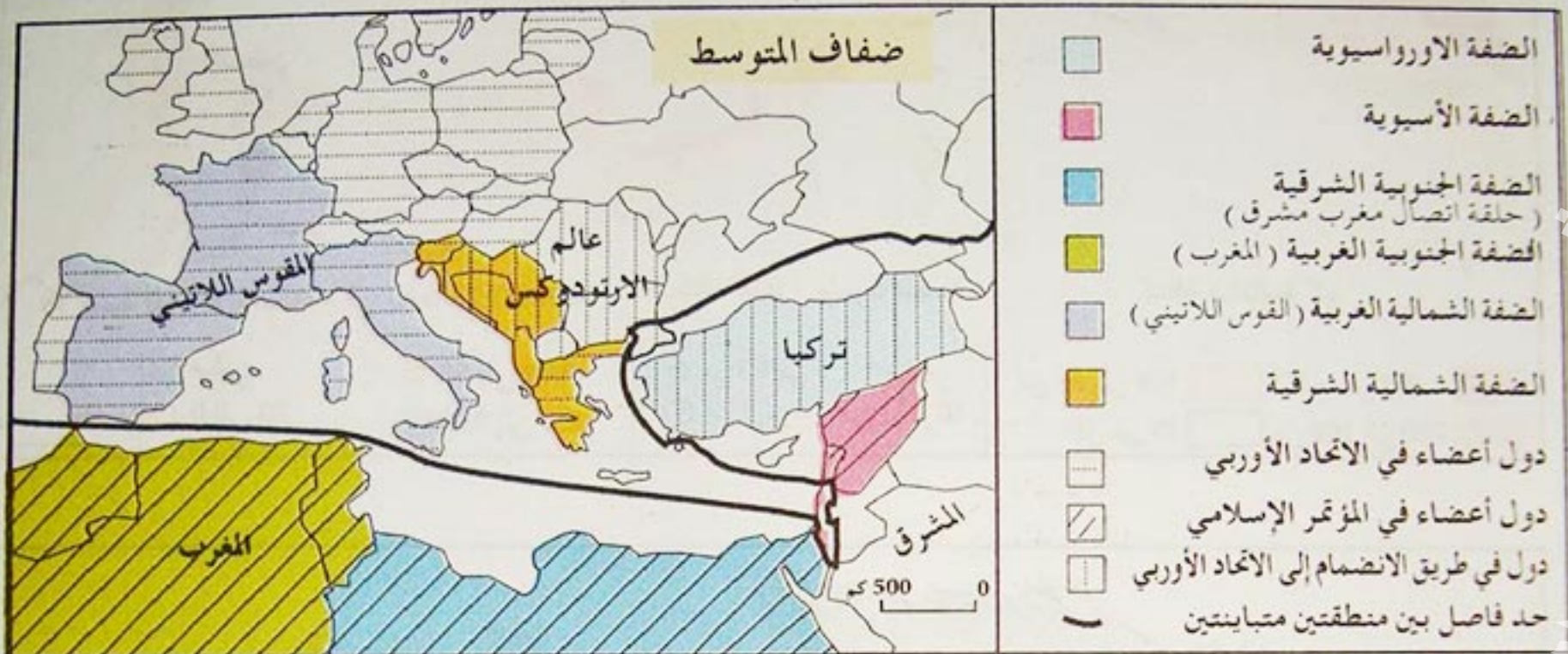


## 2- التفاوت في التنمية بين ضفتي المتوسط

### الإشكالية

تنتهي الجزائر الى الضفة الجنوبية الغربية من منطقة البحر الأبيض المتوسط وتحتل موقعا وسطا في المغرب العربي فهي من دول الجنوب النامية.

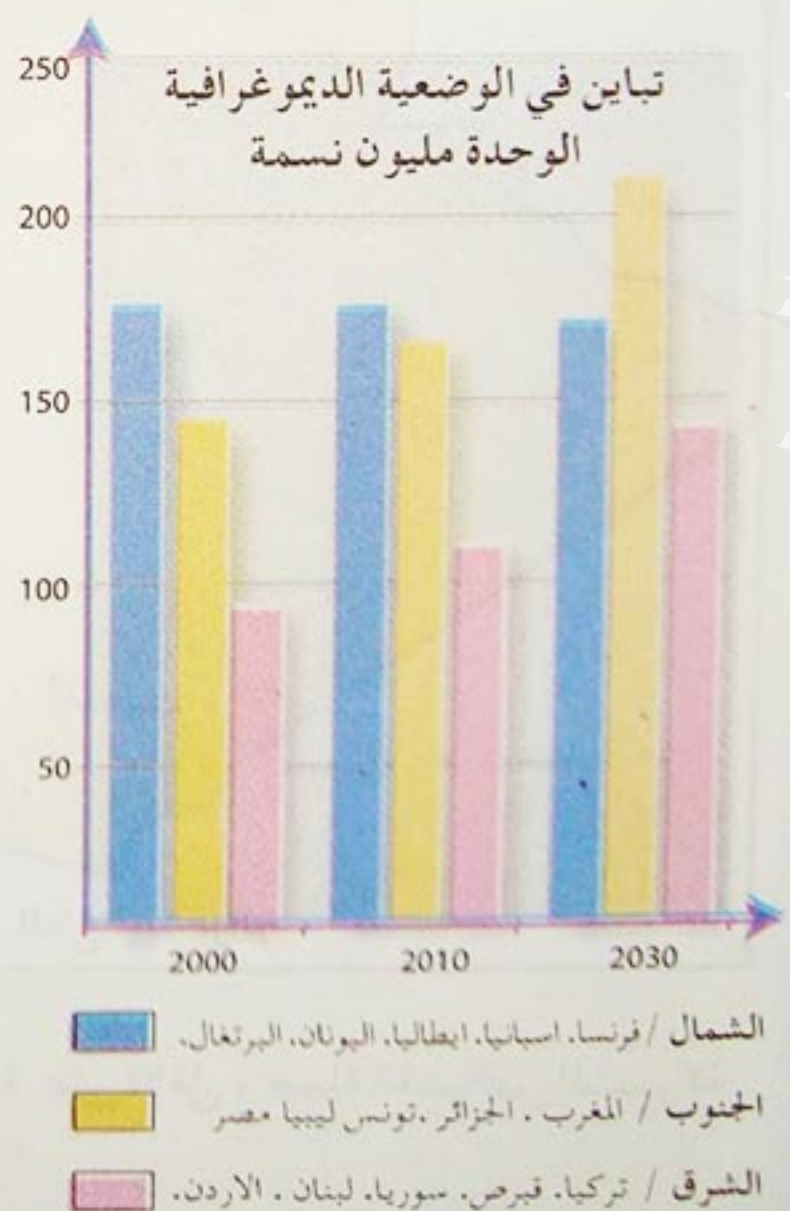
كيف يمكن للجزائر أن تستفيد من موقعها ومن شركائها في المنطقة ؟



توجد الجزائر في الضفة الجنوبية الغربية ، مشرفة على الحوض الغربي للمتوسط ، متوسطة بلدان المغرب العربي ومتصلة بالضفة الشرقية والمشرق العربي عن طريق ليبيا وتونس ، وتشكل جميعها وحدة ترابية واحدة . أما الضفة المقابلة فتتمثل فيما يسمى بالقوس اللاتيني الكاثوليكي الذي عرف تقدما وتطورا كبيرين .

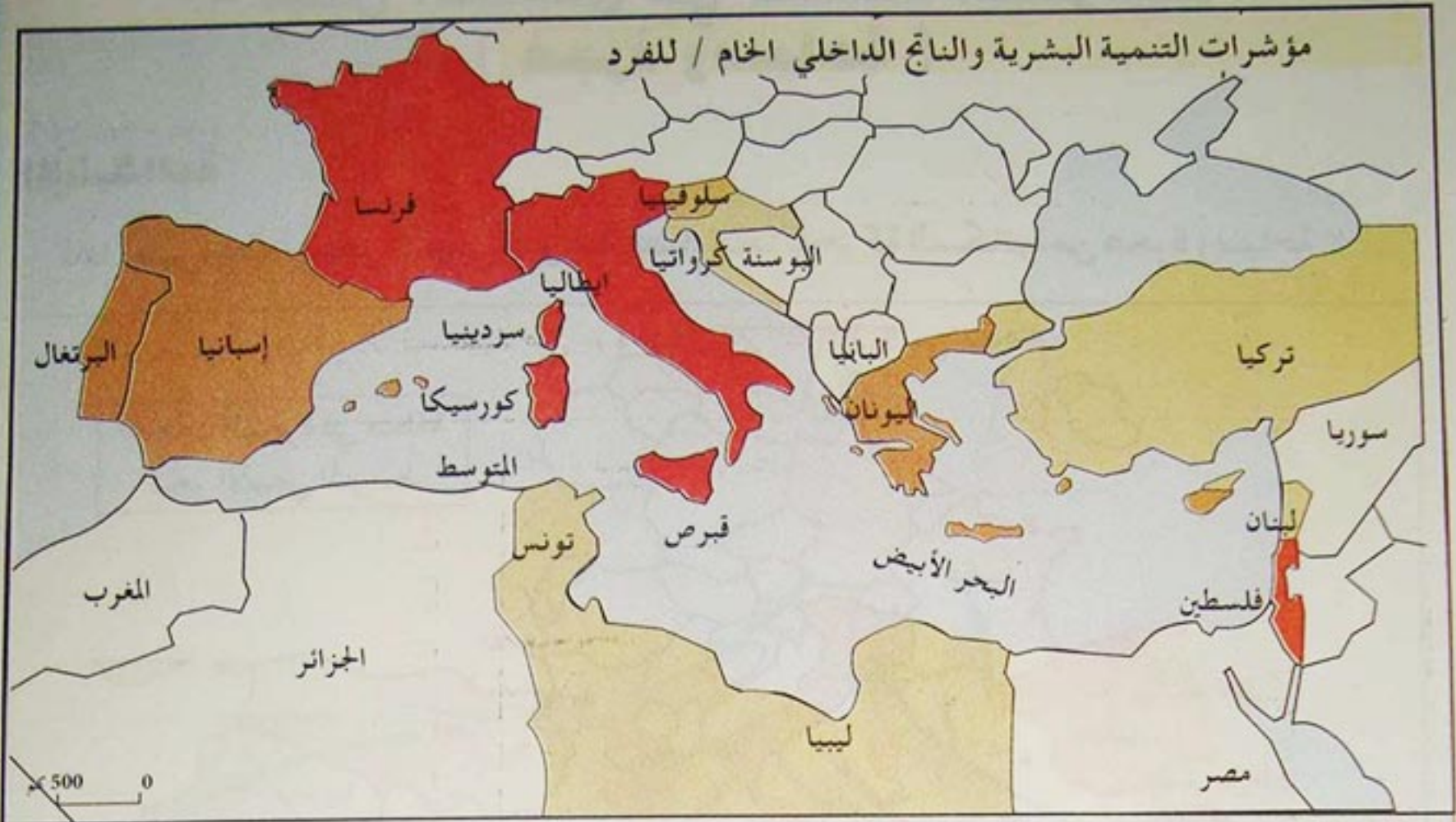
وتشهد المنطقة على امتداد الضفة الجنوبية بداية نمو اقتصادي بفضل مواردها الطاقوية والسياحية ، محاولة بذلك تجاوز العديد من العقبات منها الديموغرافية والبنية الريفية غير المهيأة لاقتصاد السوق ، وعدم استقرار أسعار الموارد الطاقوية .

الجغرافيا نهائي  
برتران لاکوست





## مؤشرات التنمية البشرية والنتائج الداخلي الخام / للفرد



■ ن.د.خ / للفرد \$ 18000 م ت ب + 0,8  
■ ن.د.خ / للفرد \$ 12000 م ت ب + 0,8  
■ ن.د.خ / للفرد \$ 11000 م ت ب + 0,7

■ ن.د.خ / للفرد \$ 18000 م ت ب + 0,8  
■ ن.د.خ / للفرد \$ 12000 م ت ب + 0,8

ن.د.خ : الناتج الداخلي الخام

وعلى صعيد آخر وطالما أن تحقيق التنمية الوطنية مرهون بمدى عوامل الثقة والمصداقية والجدية في التعامل الذي تحظى به البلاد لدى شركائها، فقد أعطيت من شغلي جانبا من الاهتمام نحو تمكين الجزائر من استعادة مكانتها ودورها دوليا حتى تغدو طرفا وشريكا نشيطا وحيويا ينال احترام المجموعة الدولية، ويلقي بكل وزنه في المحافل الدولية للدفاع عن مصالحه ووجهات نظره ويشترك في طرح ومعالجة بعض القضايا الدولية والقارية كالإرهاب والتنمية في إفريقيا. فعلى الصعيد القاري عادت بلادنا لتتبوأ مكانتها الطبيعية في الساحة الإفريقية. فبالإضافة الى دورها الريادي والفعال في تحريك مبادرة الشراكة الجديدة من أجل تنمية إفريقيا، ساهمت الجزائر بشكل قوي في معالجة الأزمات القارية وتسوية النزاعات بين الدول.

وقد لقي هذا الدور كل الدعم وتحظى بتقدير كبير من دول مجموعة الثمانية الكبار ومنظمة الأمم المتحدة على الخصوص.

( خطاب رئيس الجمهورية عبد العزيز بوتفليقة  
بياتنة 2003.01.30 )

### النشاط

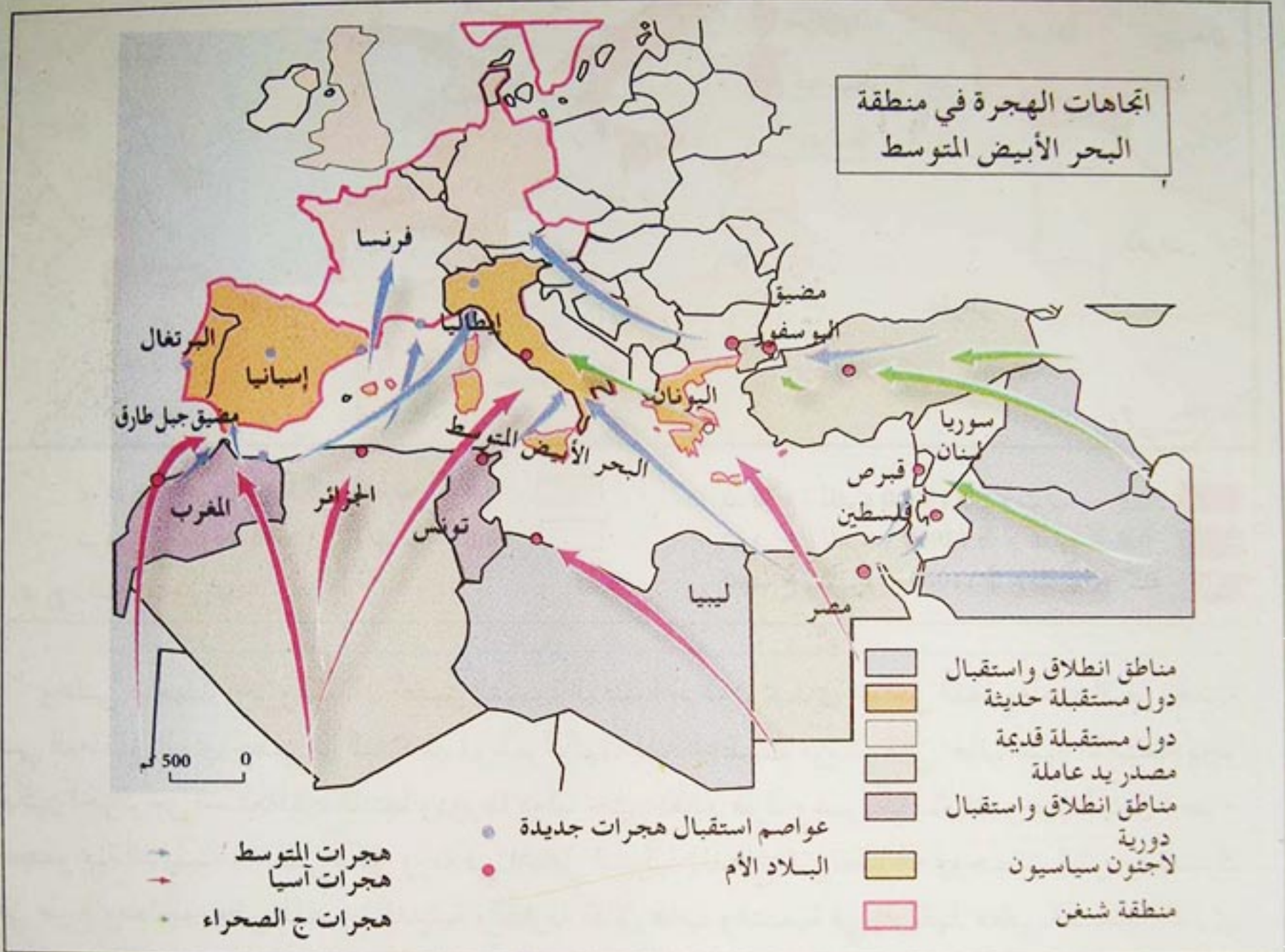
- ماذا تستخلص من كل وثيقة على حدة؟
- أكتب صفحة على الأقل تجيب فيها على الإشكالية المطروحة.



### 3- تنقل السكان في منطقة المتوسط ( هجرة و سياحة )

#### الإشكالية

لماذا تعتبر منطقة البحر الأبيض المتوسط فضاء هاما للحركة السكانية من هجرة و سياحة ؟



... إلا أنه من الواضح أن التحاما كهذا لا يمكن أن يستوفي تمام مغزاه إلا في إطار علاقة أوسع بين بلدان المغرب العربي وجيرانها الأوروبيين، علاقة قوامها مقاربة متضامنة ومستقبلية للرهانات والتحديات التي تواجهها.


كما ينبغي ألا تغيب عن أذهاننا أهمية الوشائج الإنسانية القائمة بين ضفتي المتوسط، الوشائج التي تشكل ورقة رابحة تخدم تقاربهما وتعاونهما، ولهذا الغرض، ينبغي التطرق الى موضوع الهجرة، وتنقل الأشخاص من منظور شامل ومنسق وإدراجه ضمن حوارنا كعنصر من عناصر تعاوننا.

كلمة رئيس الجمهورية عبد العزيز بوتفليقة  
في القمة الاولى لرؤساء دول وحكومات بلدان  
الحوض الغربي للمتوسط 5 + 5



**التحويل الرسمي للاموال من طرف  
المغتربين في المغرب ( الوحدة مليون اورو )**

1968	1980	1990	1996
105	783,5	1 377,3	3 201,2



العبور السري



مأوى المغتربين في إسبانيا

ان الهدف الذي نرومه سويا هو إنهاء، او على الأقل تحجيم الهجرة السرية التي نعاني منها جميعا، والعمل من جهة أخرى، على أن يكون للعمال المهاجرين إسهام ايجابي في اقتصاديات البلدان التي تستقبلهم، وفي اقتصاديات بلدانهم الأصلية على حد سواء، واعتقادي ان هذه المسألة البالغة الحساسية ينبغي ان تخضع لتشااور مستمر، التشاور الذي يشكل بالنسبة لنا، السبيل الوحيد للعمل بنجاحة وفعالية وللحفاظ على أمننا ومصالحنا، ولا يغيب على أذهاننا كذلك، ان استتباب الاستقرار والأمن في منطقتنا، يحتاج الى إقامة علاقات قوامها التفاهم والتعاون، وهو ما يحيلنا على حوار الحضارات والثقافات الذي لا بد منه ضمن فضائنا المتوسطي .

إن التمييز واللاتسامح، ونبذ الأجنبي، والتهميش، هي ظواهر لا تزال ويا للأسف حاضرة، تغذيها إيديولوجيات عفا عليها الزمن، إيديولوجيات بالية تدعو الى رفض الآخر ووصم معتقداته وقناعاته بالدونية والتحقير .

إن هذا الوضع الذي لا يمكن قبوله يضعنا أمام تحدي مكافحة أشكال التطرف، وترقية حوار مكثف نتوخى منه ترجيح فضائل التعايش والألفة بين بني الإنسان .

كلمة رئيس الجمهورية عبد العزيز بوتفليقة في :  
القمة الاولى لرؤساء دول وحكومات بلدان  
الحوض الغربي للمتوسط 5 + 5

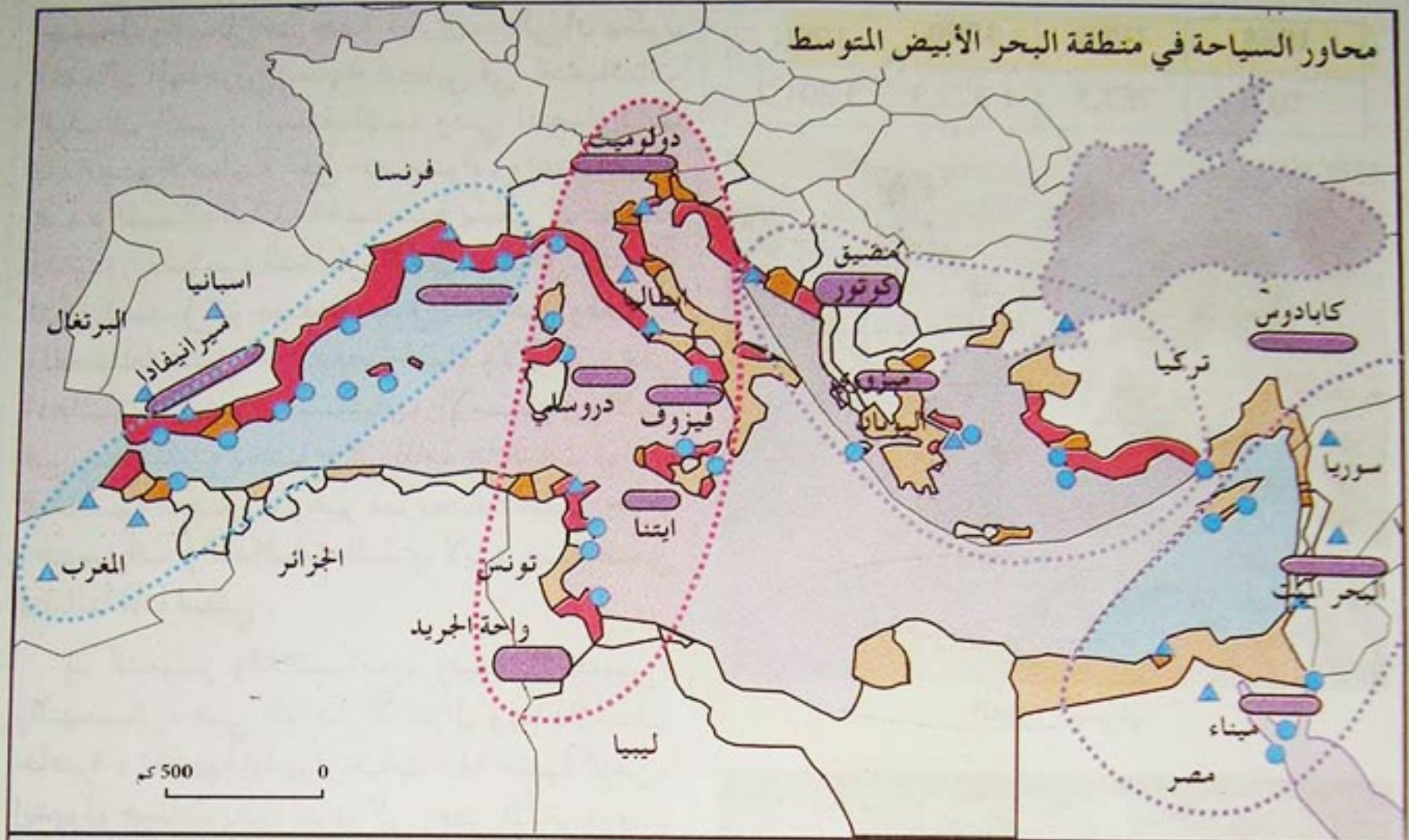
جاء في جريدة أسبوعية الوطن الاقتصادي 20، 26 نوفمبر 2006 نقلا عن تقرير الحكومة الإسبانية تحت عنوان « مساهمة واسعة للهجرة في التنمية باسبانيا » ما يلي :  
« لقد قدر ما ساهم به المهاجرون في تنمية الاقتصاد الإسباني خلال العشرية الأخيرة بين 30% و 50% ، مما سمح بتقليص البطالة ، فالهجرة التي تضاعفت اربع مرات في السنوات الست الأخيرة لتصل الى 4 ملايين شخص حاليا من اصل 44 مليون نسمة من سكان اسبانيا كانت لها انعكاسات جد ايجابية على التنمية الاقتصادية الإسبانية وقد ساهم المهاجرون في خلق حوالي 50% من مناصب الشغل منذ 2001 قدر دخلهم ب 32 مليار اورو سنويا أي ما يعادل 6,6% من ميزانية الدولة كما ان الوضع المرضي الذي عرفه قطاع الضمان الاجتماعي لم يكن الا بفضل المساهمات المالية للفئة المهاجرة . »

**النشاط**

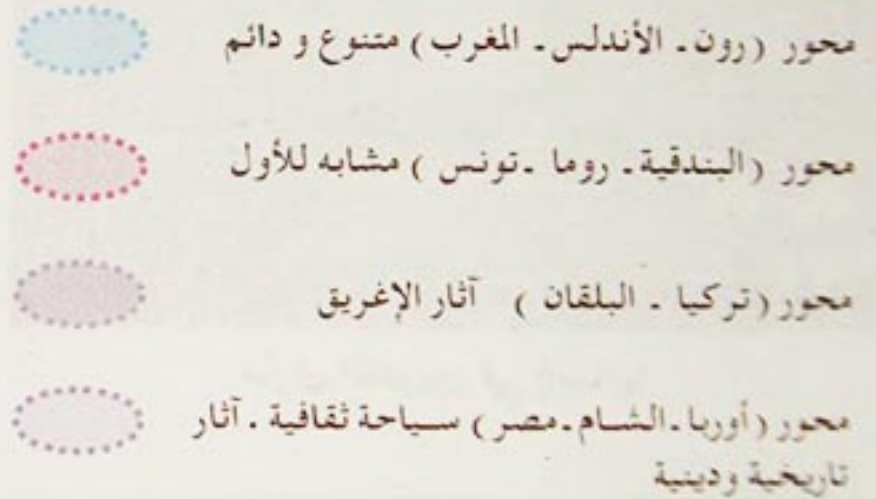
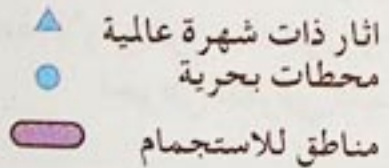
اعتمادا على السندات المعطاة بين في صفحتين على الأقل طبيعة الهجرات الخارجية في منطقة البحر الأبيض المتوسط وانعكاساتها على البلدان الام والبلدان المستقبلية ؟



## السياحة في منطقة البحر الأبيض المتوسط



عدد السياح (الوحدة ألف سائح)




### منطقة البحر الأبيض المتوسط فضاء للسياحة

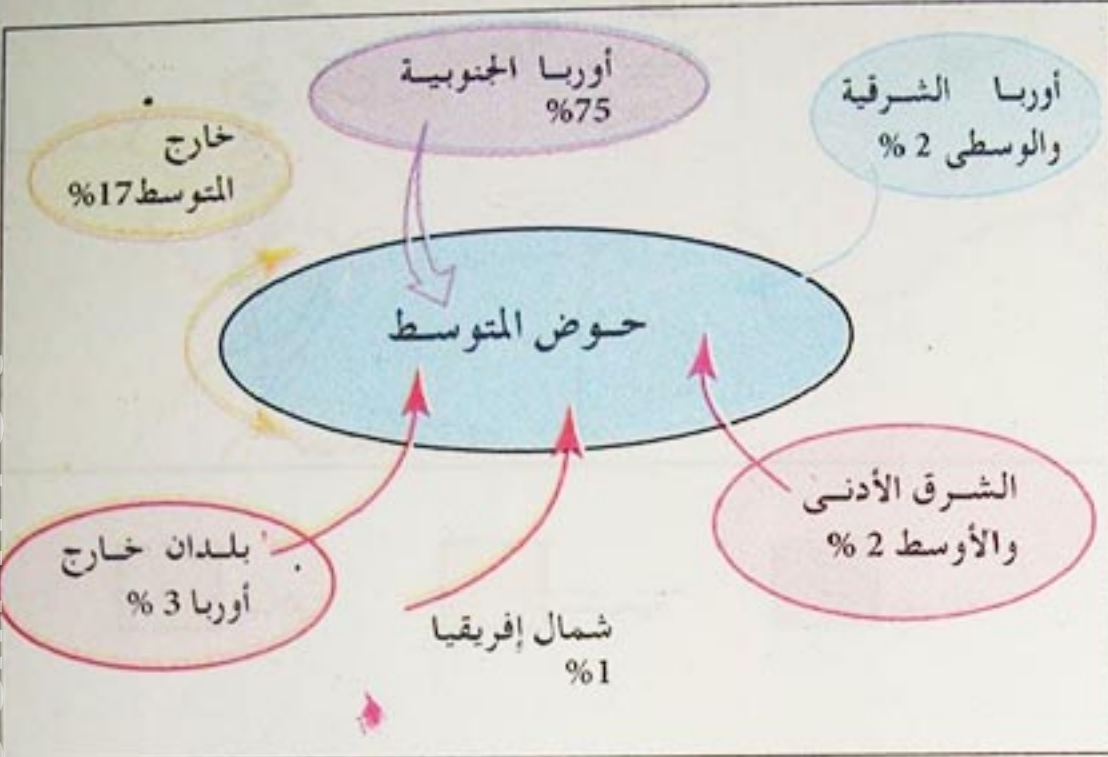
تعتبر منطقة البحر الأبيض المتوسط أول محطة للسياح ، وثاني فضاء الترفيه العالمي بعد منطقة الكاريبي وهي ذات مآثر طبيعية وتاريخية قديمة ، تشتهر بتظاهرات ثقافية عالمية متنوعة بشكل دائم . وتمتلك محطات سياحية متنوعة يغلب عليها طابع الاستجمام على الشواطئ الرملية الجذابة والمناظر الطبيعية الخلابة . تستقبل اغلب السياح من دول أوروبا الشمالية او خارج المنطقة كبريطانيا واسيا في حدود 80% من سياح أوروبا سنوياً .

جغرافية الأقسام النهائية - فضاء العالم . ناتان





توسع السياحة في شواطئ تونس



مصدر ووجهة السياح في منطقة البحر الأبيض المتوسط

### حوض المتوسط والسياحة.

تشكل منطقة البحر الأبيض المتوسط أول قبلة للسياح في العالم ( 1 / 3 من سياح العالم ) لذا تعرف نشاطا سياحيا هاما يمثل 3% من الدخل الوطني الخام بالنسبة للمنطقة ، وتعرف السواحل كثافة سكانية بسبب الرفاه والتطور الاقتصادي الذي أدى الى ارتفاع المستوى المعيشي لأكثر من 300 مليون نسمة في أوروبا الغربية : ارتفاع مدى الحياة ، التقاعد ، العطل مدفوعة الأجر ، تزايد وقت الراحة والاستجمام .

ان تطور السياحة في منطقة البحر الأبيض المتوسط بلغت أوجها وتضاعفت 03 مرات في الفترة الممتدة بين 1950 و 2000 ، في حين تشهد في الوقت الحاضر نوعا من الركود والتحول الى مناطق أخرى كالكاريب و آسيا وجزر المحيط الهادي ويعود ذلك إلى وجود مناطق منافسة وعدم استقرار المنطقة من جراء التوتر والصراع الذي اثر سلبا على الموارد السياحية .

هاشيت / باريس 2002

### الإستراتيجية السياحية في الجزائر

يقول وزير السياحة : ان إستراتيجية السياحة كانت محل نشاط إعلامي واسع ، وقد استفادت من انخراط العاملين والفاعلين في قطاع السياحة. فانطلاقة السياحة في الجزائر لا ترتبط بإستراتيجية التنمية بقدر ما ترتبط بوضع الإستراتيجية محل التنفيذ لتحقيق النتائج المرجوة منها في جو عمل تفاعلي بعيد عن أي تسرع ، اذا يتركز مسعانا على معالجة المشاكل بالعمق المطلوب وإيجاد حلول ناجعة تجاه رهانات التنمية السياحية .

بالإضافة الى الجانب الإعلامي فإنه لابد من خلق التوازنات بالنسبة للنشاطات وعصرنه آليات التكوين وتشجيع الاستثمارات بحيث تشكل أولوية الأولويات بالإضافة الى الإطار القانوني وإيجاد هياكل نوعية وكافية لتلبية الحاجيات السياحية

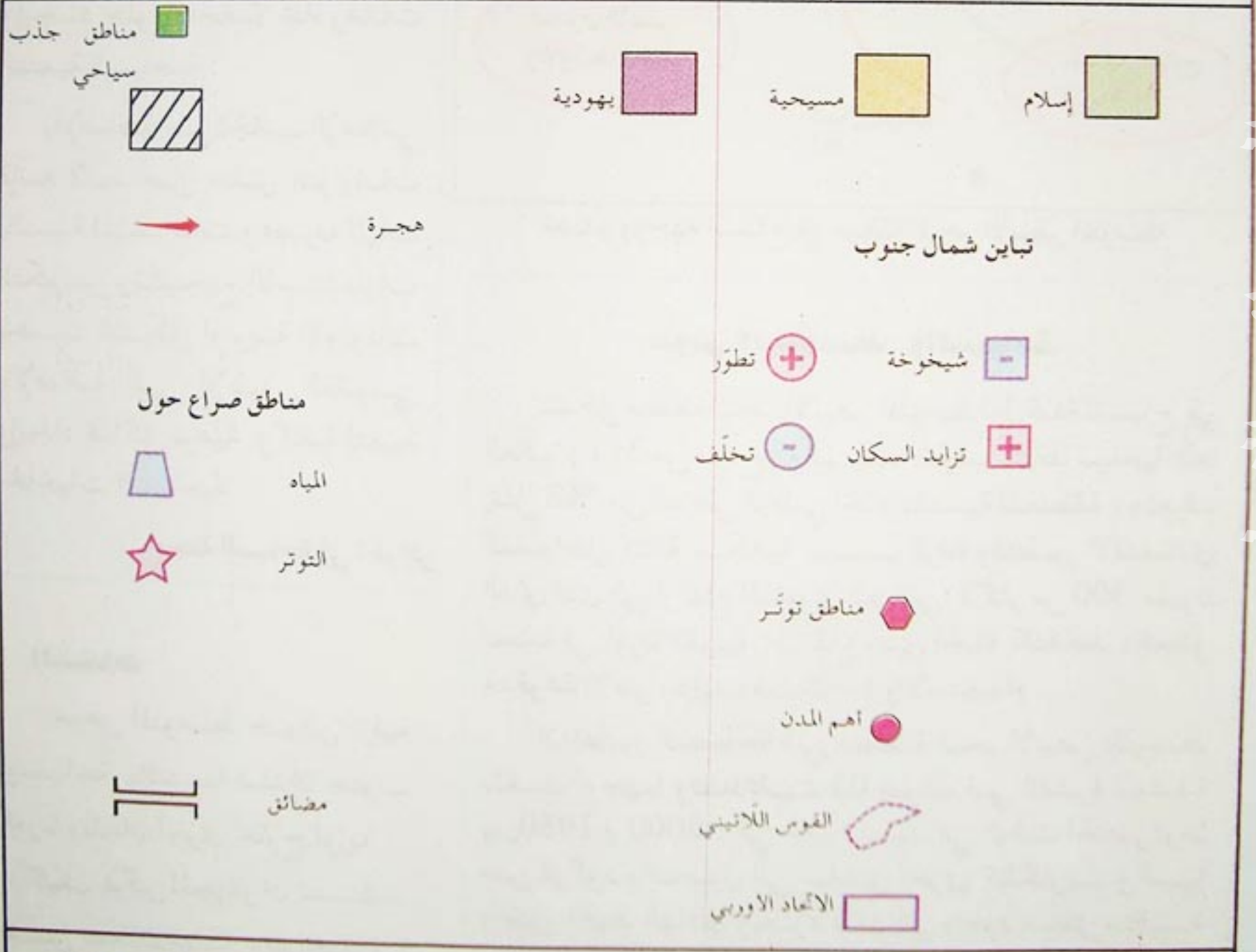
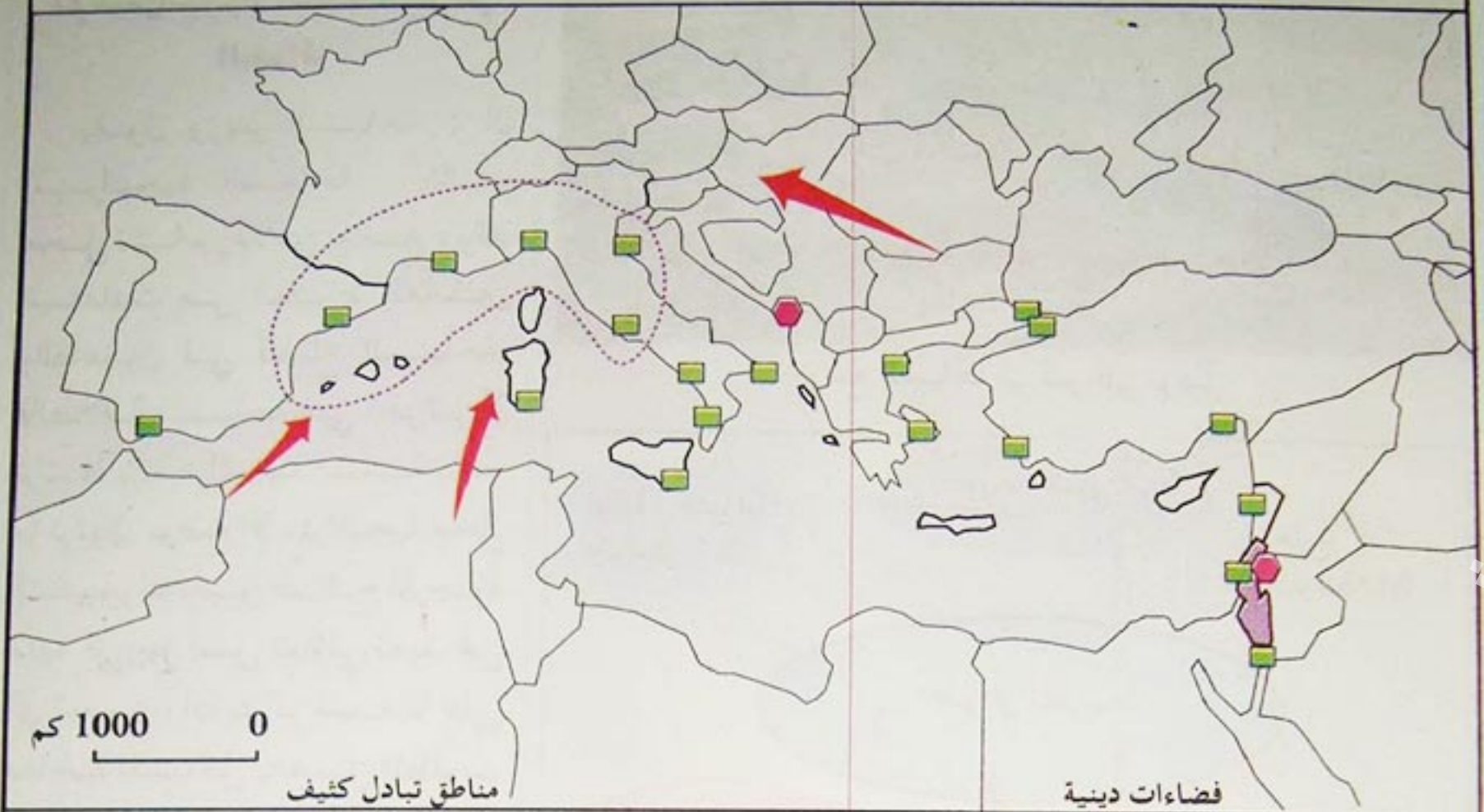
مجلة السياحة في الجزائر

### النشاط

حوض المتوسط حوض ترفيه وسياحة بالنسبة لبلدان جنوب أوروبا وبلدان أخرى خارج أوروبا - كيف يمكن للجزائر ان تستفيد من امكانياتها ومداخيها السياحية حاليا ومستقبلاً؟



ما العناصر التي تبين التفاوت في التنمية في منطقة البحر الأبيض المتوسط ؟



أنقل الخريطة واستكمل الرسم التخطيطي معتمدا مفتاح الخريطة، معلقا على تفاوت التنمية بين ضفاف منطقة البحر الأبيض المتوسط (صفحة على الأقل)




# مكانة الجزائر في منطقة البحر الأبيض المتوسط

## الكفاءة القاعدية

في نهاية الوحدة التعليمية تكون قادرا على تحليل وتوظيف مختلف السندات المعطاة ، لإبراز دور الجزائر ومكانتها في منطقة البحر الأبيض المتوسط .

الجزائر



■ التسمية الرسمية : الجمهورية الجزائرية الديمقراطية الشعبية

■ المساحة : 2 381 741 كم<sup>2</sup>

■ عدد السكان : 32 300 000

( 2004 ) الرتبة 34 عالميا

■ الكثافة السكانية العامة :

14 ن / كم<sup>2</sup>

■ العاصمة : مدينة الجزائر

2862 000 ن ( 2001 )

■ التوقيت : غرينتش + 1

■ الزيادة الطبيعية : 1.53 %

( 2004 ) .

■ أمد الحياة : 74.73 سنة ( 2004 ) .

■ نسبة سكان المدن : 49 %

■ نسبة سكان الأرياف : 51 %

■ إجمالي الناتج الداخلي للفرد :

2620 دولار ( 2004 ) .

■ فائض الميزان التجاري : 8.9 مليار

دولار ( 2003 ) أي 13.7 %

من إجمالي الناتج الداخلي .

■ نسبة التضخم : 2.2 % ( 2004 ) .

المصدر Image Economique

du monde 2005

## الوضعية التعليمية

- الجزائر واتحاد المغرب العربي

- الجزائر والشراكة الأوروبية

- الجزائر والمبادلات التجارية في منطقة البحر الأبيض

المتوسط .

- الجزائر والحفاظ على البيئة في منطقة المتوسط .



# 1- الجزائر واتحاد المغرب العربي

## الإشكالية

تعتبر الجزائر بحكم موقعها الجغرافي ومكانتها التاريخية من أهم دول اتحاد المغرب العربي. يمكن ان تؤدي دورا هاما على الصعيد المغاربي والمتوسطي .

- كيف يتم ذلك ؟



ظهرت فكرة الاتحاد المغاربي قبل الاستقلال، وتبلورت في أول المؤتمرات للأحزاب المغاربية الذي عقد بمدينة طنجة بتاريخ 28.30.4.1958 والذي ضم ممثلين عن حزب الاستقلال المغربي والحزب الدستوري التونسي وجبهة التحرير الوطني الجزائرية.

وبعد الاستقلال كانت

هناك محاولات نحو فكرة تعاون وتكامل دول المغرب العربي، مثل إنشاء اللجنة الاستشارية للمغرب العربي عام 1964، لتنشيط الروابط الاقتصادية بين دول المغرب العربي، وبيان جربة الوحدوي بين ليبيا وتونس عام 1974، ومعاهدة مستغانم بين الجزائر وليبيا، ومعاهدة الإخاء والوفاق بين الجزائر وتونس وموريتانيا 1983، وأخيرا اجتماع قادة دول المغرب العربي بزرايدة - الجزائر، 10.06.1988 وإصدار بيان زرايدة الذي أوضح رغبة القادة في إقامة الاتحاد المغاربي وتكوين لجنة تضبط وسائل تحقيق وحدة المغرب العربي .

أعلن عن قيام اتحاد المغرب العربي في 17.02.1989 في مدينة مراكش من قبل خمس دول هي المغرب والجزائر وتونس وليبيا وموريتانيا

الجزيرة . نت ، خدمة خاصة 09.02.2006

## الأهداف

نصت معاهدة إنشاء الاتحاد المغاربي على الأهداف التالية:

- 1 - توثيق أواصر الأخوة التي تربط الأعضاء وشعوبهم بعضهم ببعض .
- 2 - تحقيق تقدم ورفاهية مجتمعاتهم والدفاع عن حقوقها.
- 3 - المساهمة في صيانة السلام القائم على العدل والإنصاف .
- 4 - انتهاج سياسة مشتركة في مختلف الميادين.
- 5 - العمل تدريجيا على تحقيق حرية تنقل الأشخاص وانتقال الخدمات والسلع ورؤوس الأموال فيما بينها .



## من مهام اللجان الوزارية

- تقوم اللجان الوزارية المتخصصة بالتعاون مع لجنة المتابعة والأمانة العامة بوضع تصور للخطط والجدول الزمني اللازمة لتنفيذ برنامج عمل الاتحاد المصادق عليه من طرف مجلس الرئاسة.
- تعرض اللجان الوزارية المتخصصة نتائج أعمالها على مجلس وزراء الخارجية وتمارس نشاطها بالتنسيق مع لجنة المتابعة والأمانة العامة.

حسب اتفاقية التأسيس يتكون الاتحاد من أجهزة تشريعية وتنفيذية وقضائية على النحو التالي :

- مجلس الرئاسة .
- مجلس وزراء الخارجية .
- لجنة المتابعة .
- اللجان الوزارية المتخصصة :
  - أولا . لجنة الأمن الغذائي
  - ثانيا . لجنة الاقتصاد والمالية .
  - ثالثا . لجنة الاقتصاد والمالية .
  - رابعا . لجنة الموارد البشرية
- الأمانة العامة .
- مجلس الشورى .
- الهيئة القضائية .
- الأكاديمية المغربية للعلوم
- جامعة المغرب العربي
- المصرف المغربي للاستثمار والجارة الخارجية ..

الجزيرة . نت ، خدمة  
خاصة 09 . 02 . 2006

إن بناء وحدة مغربية تنعم فيها شعوب المنطقة بالرخاء والأمن والاستقرار سيظل غايتنا القصوى، التي لا نحيد عنها، ولا نكل من السعي لتحقيقها، وإن اعترضت سبيلنا بعض الصعوبات الظرفية التي أتمنى أن لا تظل تقف حجر عثرة أمام طموحات الشعوب العريضة، وأمام ما نعتزم بناءه من وحدة متينة وتقارب واسع وهو ما يعود لا محالة بالخير على جميع شعوب المنطقة في هذا المجال، بقدر ما نجود على أشقائنا دون من لما هو بأيدينا، ليس إطلاقا خيانة مبادئ الأمم المتحدة المقدسة، كحق الشعوب في تقرير مصيرها.

( خطاب رئيس الجمهورية عبد العزيز

بوتفليقة بباتنة 2003.01.30 )

## النشاط

- اعتمادا على السندات المعطاة اكتب صفحة على الأقل تبين فيها كيف يمكن للجزائر ان تساهم في تفعيل اتحاد المغرب العربي لتحقيق أهدافه المعلنة .



## 2- الجزائر والشراكة الأوروبية

### الإشكالية

تعتبر الشراكة بين الجزائر والاتحاد الأوروبي إطارا للحوار والتعاون الثنائي وتبادل المنافع .  
كيف يمكن لتلك الشراكة أن تكون في فائدة الطرفين ؟

تم توقيع اتفاقيات الشراكة الأوروبية - المتوسطية بين الاتحاد الأوروبي والجزائر في أفريل 2002. وفيما يتعلق بعنصر التجارة الحرة في الاتفاقية تعهدت الجزائر بالغاء الضرائب عن وارداتها من السلع المصنعة في دول الاتحاد أوروبي، بالتدريج في خلال 12 سنة. وتعهدت الجزائر أيضا بخفض التعرفة الجمركية عن المنتجات الزراعية الواردة من دول الاتحاد الأوروبي، وتضمنت الاتفاقية عناصر أخرى مثل التعاون الاقتصادي، وتحويل رأس المال، وتأسيس الشركات، والتعاون الاجتماعي والثقافي. تعمل الجزائر حاليا على تنويع صادراتها بما في ذلك منتجاتها النفطية، من خلال ( المكتب الجزائري لتشجيع التجارة الخارجية ). وأعلن وزير التجارة الجزائري في 26 فيفري 2005 أن الجزائر تأمل بالانضمام الى منظمة التجارة العالمية قبل نهاية 2005. وقال أن الجزائر تخلت عن الاقتصاد الموجه وفتحت السوق للمنافسة وألغت السعر الأدنى للتصدير، وشكلت محاكم للبت في النزاعات التجارية تسهيلا لانضمامها الى منظمة التجارة العالمية.



افتتاح المنتدى السادس للبحر الأبيض المتوسط  
في مالطة 4 مارس 1999

إن بروز الاتحاد الأوروبي كمجموعة جيوسياسية مزدهرة يؤكد حصة وسداد اختيار الجزائر، ويعزز إرادتها في مواصلة التحامها بهذه المجموعة ، كما يشهد على ذلك إبرام اتفاق الشراكة بين الجزائر والاتحاد الأوروبي في أفريل 2002. إلا أنه من الواضح أن التحامها كهذا لا يمكنه أن يستوفي تمام مغزاه إلا في إطار علاقة أوسع بين بلدان المغرب العربي وجيرانها الأوروبيين ، علاقة قوامها مقاربة متضامنة ومستقبلية للرهانات والتحديات التي تواجهها .

إطار الحوار بين الاتحاد الأوروبي ودول جنوب وشرق البحر الأبيض المتوسط .  
وضعت ندوة برشلونة ( نوفمبر 1995 ) أرضية وأسس سياسية متوسطة متجددة بشراكة تخص :  
- جانب اقتصادي ومالي ؛ إقامة منطقة تبادل حر آفاق 2010 .  
- جانب سياسي وأمني : التحكم في تدفقات الهجرة .  
- جانب ثقافي وإنساني : المساعدة على التنمية .

مخطط تنمية الفضاء المشترك الوثيقة الفرنسية داتار 2002





دول مؤسسة للاتحاد الأوربي	دول مرتبطة بالاستقرار للانضمام	دول استفادت من نظام الشراكة اقتصادية وثقافية مع الاتحاد الأوربي تراجع باستمرار وهي غامضة
دول انضمت الى الاتحاد 1980	دول تحتاج المساعدات والتحضير للانضمام	ليبيا خارج نظام الشراكة
دول معنية بالانضمام غاية 2004	كرواتيا توفير الشروط 2006	مناطق توتر جيوسياسي معيقة على الاندماج الأوربي
تركيا في انتظار الانضمام		دول جنوب وشرق المتوسط

الضفة الشمالية . الاتحاد الأوربي

ان الامضاء على اتفاق الشراكة مع الاتحاد الأوربي وانضمام الجزائر لمنظمة التجارة العالمية سيؤدي حتما الى انفتاح كبير لحدودنا الاقتصادية مما يفرض علينا :

- تأهيل أدواتنا الإنتاجية لتحضير مؤسساتنا لمواجهة المنافسة.
- حيازة مواقع في الأسواق العالمية.
- تشجيع الاستثمار وتوسيع رقعة في البلاد.

### النشاط

- اعتمادا على السندات المعطاة - اجب في صفحة على الأقل على الإشكالية المطروحة والمتعلقة بأهمية الاستفادة المتبادلة من منافع الشراكة.

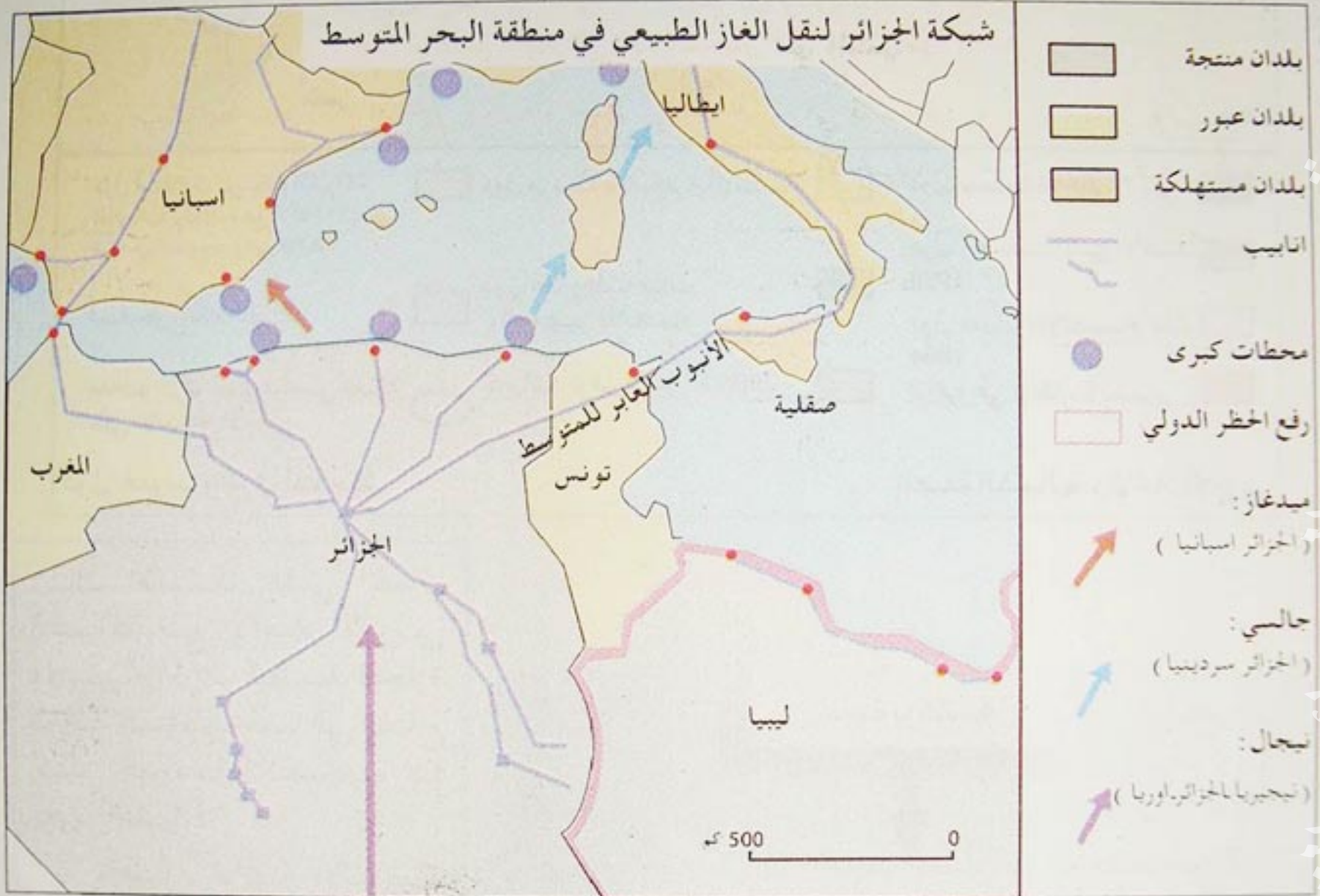




### 3- الجزائر والمبادلات التجارية في منطقة البحر الأبيض المتوسط

#### الإشكالية

تعتبر الجزائر بلداً بترولياً قريباً من أوروبا وطرفاً هاماً في عملية المبادلات التجارية بين الطرفين . ما طبيعة تلك المبادلات وتأثيرها على الاقتصاد الوطني ؟



#### رهان: المحروقات بين ضفتي المتوسط

تحتل مسألة إستراتيجية الطاقة مركز الإهتمام لدى الإتحاد الأوربي وبلدان شمال إفريقيا التي تنتمي إلى قارة تتمتع بموارد طبيعية كبيرة تشهد استغلالاً واسعاً ويبلغ احتياط البترول فيها 7% من الاحتياط العالمي يتركز أغلبها في الشمال الإفريقي وبالتالي فهناك تكامل بين دول المنطقة فيما يتعلق بمجال المحروقات إما أن تكون دولاً منتجة مثل الجزائر ليبيا ومصر أو دول عبور أنابيب النقل مثل تونس والمغرب . وحسب الوكالة الدولية للطاقة فإن أوروبا تعتبر سوق استهلاك كميات هائلة (820 مليار / م<sup>3</sup>) سنوياً على امتداد آفاق 2020 ويزداد طلبها على المادة حوالي 80% من استهلاكها تبعاً لانخفاض إنتاجها الخاص .

مجلة العربي رقم 198 سبتمبر 2003



اورزبو الجزائر	راس النوف ليبيا	بور سعيد مصر	حيفا فلسطين	طرابلس لبنان
40	53	46	2,4	1,9

مثال حول الموانئ  
المتخصصة في تصدير  
المحروقات في البحر  
الابيض المتوسط  
الوحدة مليون طن 1990

### تحسن أجواء الاستثمار في الجزائر

أدرجت منظمة الأمم المتحدة للتجارة والتنمية الجزائر في قائمة الدول النامية الأكثر اهتماما بجذب واستقطاب الاستثمار الأجنبي المباشر في السنوات الأخيرة، من خلال فتح السوق الوطنية ومختلف القطاعات المحلية أمام المستثمرين الأجانب وتسهيل إجراءات الإستثمارات وتوطين الرأس المال الأجنبي. وأوضح تقرير جديد للمنظمة الدولية تحت عنوان احصائيات الاستثمارات الأجنبية المباشرة الإهتمام الذي أولته الجزائر بتعديل القوانين والتشريعات وإزالة المعوقات أمام حركة رؤوس الأموال، من خلال استكمال مسار الاصلاحات، وقد انعكس ذلك إيجابا على تحسين أداءها الإقتصادي وتعزيز وضعها الإستثماري والإسهام في التنمية الإقتصادية.

و / س جريدة الفجر (الأحد 29 جانفي 2006)

وها هي ذي مبادلاتنا التي كانت تمثل 3.5 مليار دولار سنة 2002 تمثل 72 % بالمائة من تجارة الو.م.أ مع مجموع بلدان المغرب العربي، وعلى أساس المبادلات بالنسبة للنصف الأول من سنة 2003، فإن حجم المبادلات سيشهد زيادة بالثلث في غضون السنة الجارية. فامكان استثماراتكم التي كانت الجزائر وجهتها الثالثة في العالم العربي أن تتضاعف في السنوات القادمة حسب تقديرات كتابة الدولة الأمريكية للتجارة ذاتها، فالرأسمالية الأمريكية الخاصة كانت تمثل لوحدها سنة 2002 ثلث الاستثمارات الأجنبية في الجزائر في السنة.

ونحن نتطلع الى رفع المبادلات الثنائية وحجم المحروقات، وهو قطاع يتجلى فيه تكاملنا بكل وضوح، كما أننا نطمح في المساهمة في تحقيق الأمن الطاقوي للولايات المتحدة، ولأن شكل حلقة أساسية في السياسة الطاقوية الأمريكية باتجاه افريقيا.

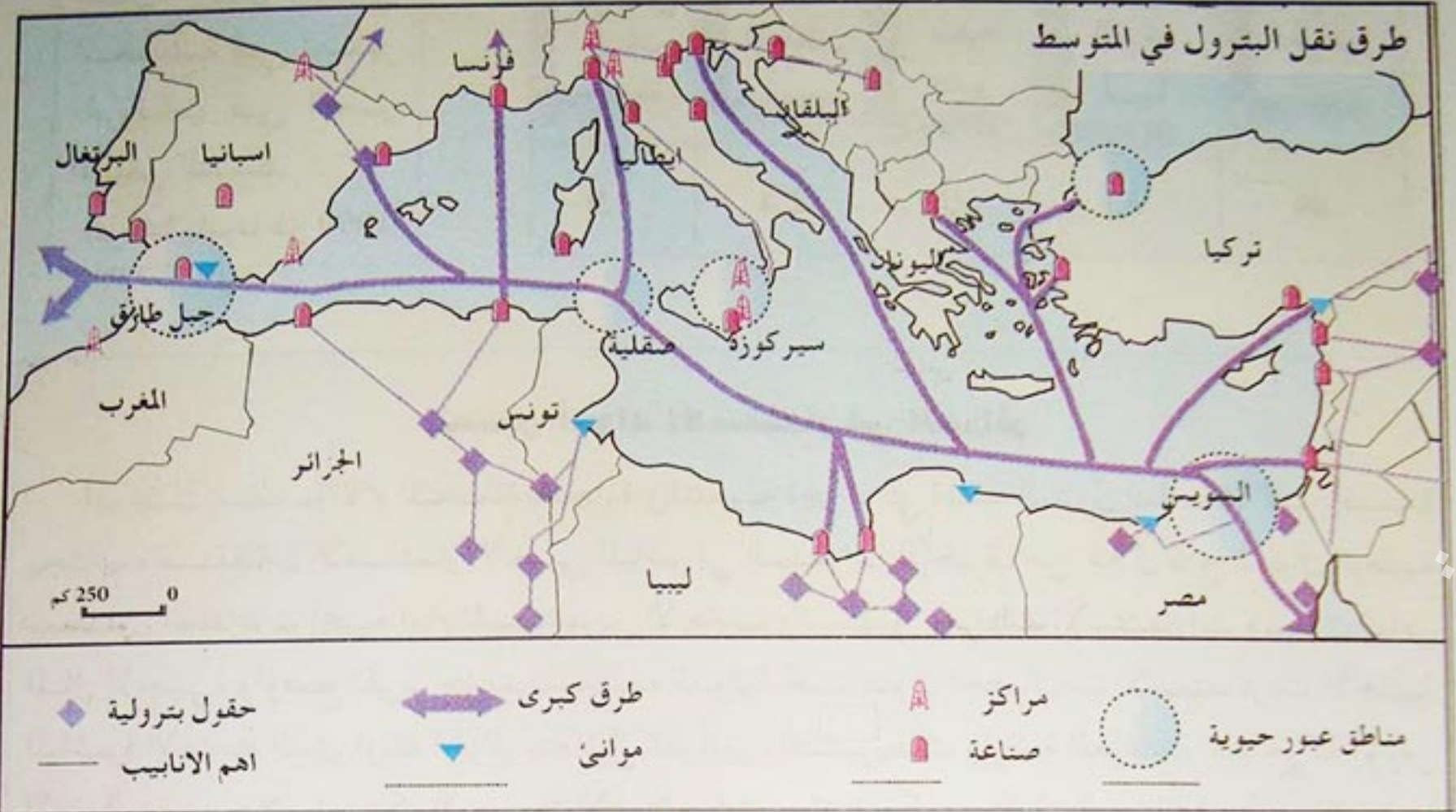
(اجتماع مجلس الأعمال الجزائري الأمريكي  
نيويورك الو.م.أ. الاثنين 22 / 09 / 2003)

### النشاط

- اعتمادا على السندات المعطاة ، اكتب صفحة على الأقل ، تبين فيها علاقة المبادلات التجارية بالتنمية الاقتصادية والاجتماعية للبلاد ؟



## 4 - الجزائر و المحافظة على البيئة في منطقة المتوسط



المتوسط منطقة عبور لـ 30% من البضائع العالمية

### التلوث في البحر الأبيض المتوسط

كيفما كانت طريقة التحلي وأسلوب الحساب فان طرح نفايات مثل زيوت السيارات وبقايا البنزين على شواطئ البحر الأبيض المتوسط يتراوح بين 0,7 و 1,5 مليون طن سنويا أي بمعدل مليون طن سنويا. ويقدر ذلك بما يعادل حمولة باخرة أسبوعيا و 280 تفرغ غير قانوني يوميا أي 10 أطنان في المعدل وما يقابل 100000 تفرغ سنويا.

من تقرير حول تلوث مياه البحر الأبيض المتوسط  
اليزانيومي وفريدريك كاستليت موقع انترنيت

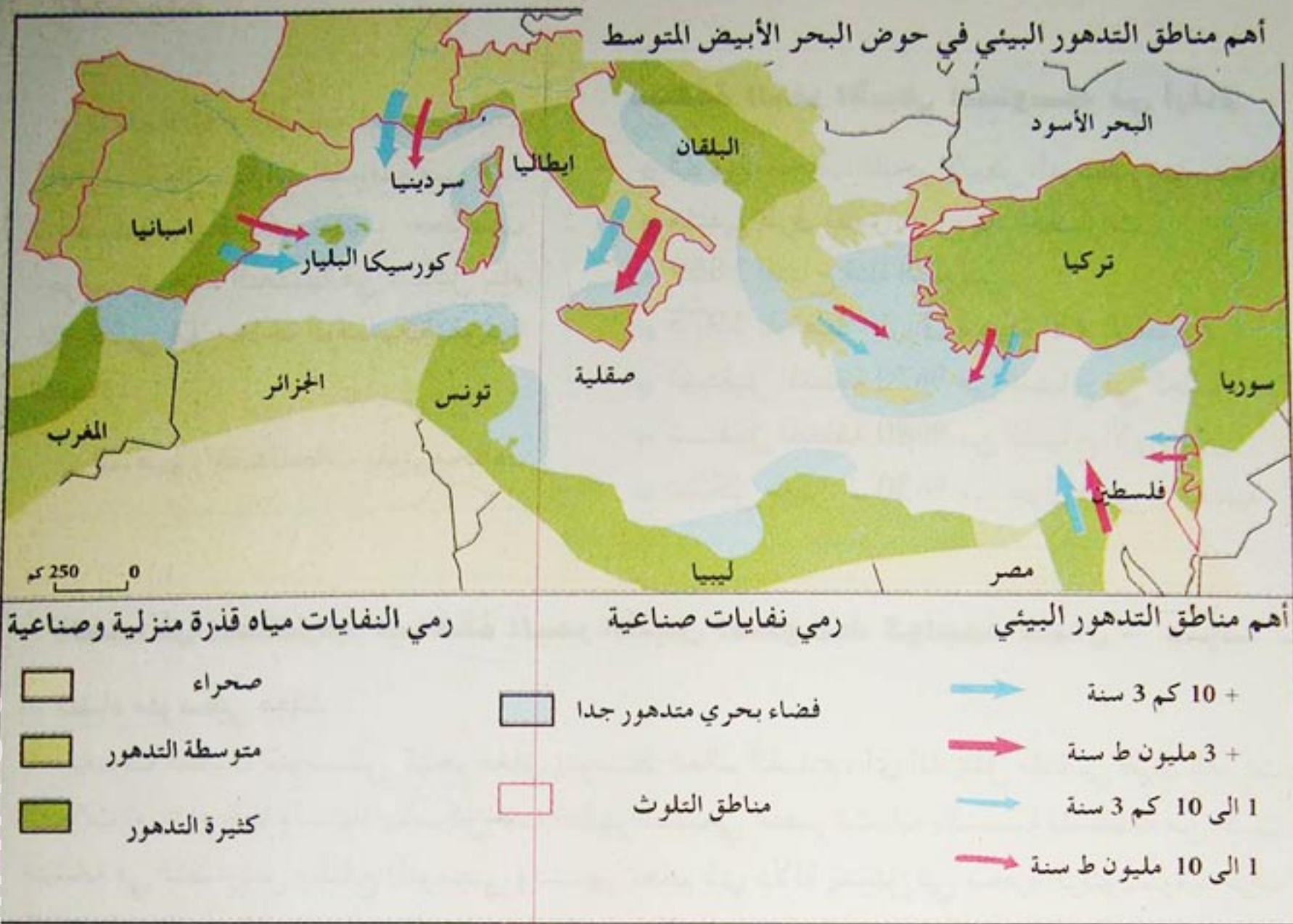
### تدهور بيئي مقلق في المتوسط

تعتبر سواحل البحر الأبيض المتوسط سواحل مكتظة ومتدهورة من الناحية البيئية بسبب نقص المياه والتلوث وزحف الإسمنت، ويؤدي العمران وإزالة الرمال حتما إلى زوال الشواطئ الرملية. أما المناطق الجبلية فتشهد إزالة الغابات ونزوح السكان وعمق الانجراف وكثرة الحرائق، في حين تعرف المناطق الداخلية ضعفا من حيث التوازن البيئي بسبب الجفاف والتصحر وزوال الجيوب المائية الباطنية وفقر التربة بسبب الزراعة الكثيفة، وقد يؤدي الري في المناطق الحارة إلى ملوحة التربة وانعدام النباتات. تتعرض السواحل بشكل عام إلى تدهور كبير بسبب الصيد البحري المتواصل والتلوث المرتبط بتركز النفايات المنزلية والزراعية والصناعية والبتروولية ( خاصة في الضفاف الشمالية للمتوسط).

إن الجهود المبذولة في إطار مكافحة التدهور البيئي فيما يخص الفضاءات الساحلية في دول الشمال، باعتبارها أهم مصادر التلوث البحري الصناعي والزراعي، قد عرف عديدًا من الإجراءات منذ عقدين، من حيث معالجة المياه ومراقبة نوعية النفايات في حين تكون مثل تلك الإجراءات في دول جنوب وشرق المتوسط حديثة العهد فيما يخص حماية البيئة عموما. إن الوعي الجماعي بالاحترار التي تتعرض لها البيئة في منطقة البحر الأبيض المتوسط والتي تتطلب تسبيرا مشتركا للشواطئ والفضاءات البحرية المتوسطية أصبح واقعا ملموسا مع المخلفات الأزرق لهيئة الأمم المتحدة 1975 لكن التعاون في هذا المجال لا زال ناقصا.

جغرافيا للأقسام النهائية. فضاء العالم. ناتان





### أهداف الإستراتيجية الوطنية للبيئة والتنمية المستدامة

إن تحليل الأزمة الأيكولوجية التي يعيشها بلدنا حاليا، توضح مدى شساعة وخطورة المشاكل البيئية التي ضربت صحة وظروف معيشة المواطنين وأثرت سلبا على الإنتاجية، وديمومة تراكم رأسمال وفعالية استعمال الموارد، ان الخسائر الاقتصادية المترتبة عن هذه الحالة قد قدرت ب 1% من الناتج المحلي الإجمالي أي ما يعادل 3.5 مليار دولار أمريكي .

ان التأكد والاهتمام بهذا التقييم قد تولد عنه رد فعل سريع من قبل الحكومة التي اختارت فعالة تدعيم قانوني - تشريعي ومؤسساتي واختيار النهوض بالتكنولوجيات المنتجة والنظيفة والتسيير الدائم للموارد الطبيعية وأملاك الدولة وتحسين ظروف المعيشة للمواطنين وإدماجهم بصفة آلية في التكفل بمسائل البيئة.

### المخطط الوطني للنشاط من اجل البيئة والتنمية المستدامة

يخصص المخطط الوطني للنشاط من اجل البيئة والتنمية المستدامة لدعم انجاز أهداف الإستراتيجية الوطنية للبيئة والتنمية المستدامة، وذلك من خلال ارتكازه على الدعم القانوني والمؤسساتي والوسائل الاقتصادية والمالية. من خلال برنامج نشاط يمتد على مدى 10 سنوات بداية بمخطط إعادة بعث الاقتصاد (2001. 2004)

مجلة الجزائر 2010 تنمية وديموقراطية

**النشاط** - اعتمادا على السندات المعطاة، استخلص الإجراءات والآليات التي وضعتها دول البحر

الأبيض المتوسط للحد من ظاهرة التلوث .

- إقترح حلولا تراها مناسبة في رأيك لهذا المشكل الخطير.



### منطقة البحر الأبيض المتوسط في أرقام

- 23 دولة محاذية للبحر الأبيض المتوسط (متوسطة)
- ملتقى طرق للقارات ومهد الحضارات
- 1869 افتتاح قناة السويس
- 1975 المخطط الأزرق (هيئة الأمم المتحدة)
- تستقبل المنطقة 70% من السياح في العالم
- تستقبل المنطقة 80% من السياح الأوروبيين
- تشكل معبرا لـ 30% من سوق البترول العالمية

باعتقاد ما تم اكتسابه في الوضعيات التعليمية والسندات المقدمة في هذه الخصيلة، يمكنك حصر مختلف جوانب الوحدة التعليمية في شكل بناء اثر كتابي قبل معالجة القضية التقويمية المعطاة.

■ المفاهيم والمصطلحات بلون مخالف

### الخصائص المشتركة لمنطقة البحر الأبيض المتوسط كواجهة شمال - جنوب

#### ■ فضاء متوسطي معقد :

يعرف الفضاء المتوسطي كبحر مغلق يتوسط العالم القديم، أي أنه يمثل ملتقى طرق القارات الثلاث أوروبا وإفريقيا وآسيا، يشكل فيه المظهر الطبيعي عنصر تشابه بالنسبة للمنطقة من حيث التشابه في التضاريس والمناخ المتوسطي وتشتهر بمعلم ذي دلالة يتمثل في شجرة الزيتون. وقد عرف ذلك الفضاء عمقا حضاريا وثقافيا مشتركا منذ العصور الحجرية، وساهم تعاقب الحضارات في المنطقة في التنوع الثقافي والديني والانتقال من حضارات ريفية زراعية الى حضارات مدنية.

#### ■ فضاء التباينات :

يتمثل التباين بين الشمال والجنوب فيما يلي :

- الشمال وقد انتهت فيه الانتقالية الديموغرافية وهو مقبل على التحكم في تسيير وتنظيم المدن والسكان، يرتفع فيه مؤشر التنمية البشرية ويمثل أحد أقطاب الثالوث العالمي.
- الجنوب ويشهد تضخم واتساع المدن وبداية التحكم في الديموغرافية تسجل فيه مؤشرات التنمية البشرية ضعفا في الغالب، لازال يشكو من بعض التوترات التي تؤثر سلبا على وتيرة التنمية.

#### ■ فضاء للمبادلات :

بالإضافة إلى الترحيل الصناعي من أوروبا إلى كل من المغرب وتركيا وكذا استغلال موارد الطاقة في كل من الجزائر وليبيا والسياسة في كل من تونس ومصر فالبحر الأبيض المتوسط يمثل أيضا فضاء للهجرات الكثيرة للعمال باتجاه الشمال والسياح باتجاه الجنوب.

يعتبر محور جبل طارق قناة السويس محور اتصال اقليمي عالمي يشكل 30% من النقل البترولي وتمثل الواجهة برشلونة - البندقية همزة وصل بين الاتحاد الأوروبي ودول جنوب المتوسط. ويلعب هذا الأخير من خلال دوله المشرفة على المتوسط دور المحرك للوحدة والتعاون في المنطقة.



يمكن هذا المستخلص من إبراز دور ومكانة الجزائر في منطقة البحر الأبيض المتوسط .

إنني وافد إليكم من ضفة المتوسط الجنوبية وبالذات من الجزائر ، البلد الذي يمتاز ويفخر بكونه أرضا تعاقب فيها على مر الأحقاب والعصور الثقافات والحضارات وتمازجت فيما تمازج ، ومن هذا الباب ينطوي ماضي الجزائر على تجارب شتى في مجال تواصل الحضارات وتداخلها . ولا جدال في ان الجزائر ، وان جهل الجاهلون هي التي تملك القدر الأوفى من اهم الآثار التي خلفتها بعض الحضارات مثل الحضارة الرومانية ، بحكم ذلك ، تتمتع بلادي بما هو عبارة عن " ريع تاريخي " لموقعها في المتوسط ، كان العصور الخوالي مركز العالم ، ان لم نقل العالم ذاته ، والمتوسط هذا ، هو كما نعتة سفير وشاعر ملتقى الطرق حيث يكون الافتتان القائم او الغرق الفاتح وأضيف لتفسير هذه العصور انه ملتقى ماسي التاريخ والأساطير ، ملتقى تناظر الثقافات واحتكاك الأفكار ، والمكان الهندسي الأمثل حيث برزت بروزها الباهر الحضارات البربرية ، واليونانية ، والرومانية ، والعربية والعثمانية ....

صحيح ان المتوسط ليس ، على ما يبدو ، والأوضاع على ما هي عليه ، المكان ، حيث يصنع مستقبل العالم ، لكن ثروة المتوسط إنما تكمن في الثقافات وفي ما للشعوب التي تحف بصفاهه وتنفتح فيه الحياة ، من قيم أخلاقية .

خطاب الرئيس عبد العزيز بوتفليقة

في جامعة السربون بباريس 19 ديسمبر 2003

... يكتسي إرساء اتحاد المغرب العربي على أسس جديدة وإعادة تفعيل مؤسساته يكتسيان دلالة خاصة كأشد ما تكون الخصوصية ، وإننا نكرس جهودنا لإعطاء كل الدفع اللازم لهذا المشروع الذي تتجسد فيه اشد تطلعات شعوبنا عمقا ...

ان موضوع التنمية والاندماج الاقتصادي في منطقتنا يكتسي كذلك أهمية قصوى ، ذلك انه يرهن ، الى حد بعيد نجاح سياسات الاستقرار ومكافحة الإرهاب التي انتجها ، ويتوقف عليه ، فضلا عن ذلك ، تقدم بلداننا نحو حكم أكثر رشادا ونحو ديمقراطية تدريجية ، وتحرير اقتصادياتنا ، ومن نافلة القول ان آفاقنا في هذا المجال يجب ان تشمل المناطق الواسعة التي ننتمي اليها ، أي حوض البحر المتوسط واربا وإفريقيا والعالم العربي قاطبة ، ومن الواضح والجلي ان أي تقدم يتحقق على طريق التنمية ، من قبل مجموعتنا سيشكل نقلة نوعية هائلة في كل مجموعة من المجموعات التي أسلفت ذكرها .

وبودي ان اذكر ، في هذا المقام بان الجزائر قد باشرت ، منذ بداية السبعينات شراكة إستراتيجية مع أوروبا عرفت انطلاقة وزحفا خاصا في مجال الطاقة ....

كما ينبغي الا تغيب عن أذهاننا أهمية الوسائج الإنسانية القائمة بين ضفتي المتوسط ، الوسائج التي تشكل ورقة رابحة تخدم تقاربهما وتعاونهما ، ولهذا الغرض ينبغي التطرق الى موضوع الهجرة وتنقل الأشخاص من منظور شامل ومنسق ، وإدراجه ضمن حوارنا كعنصر من عناصر تعاوننا .

كلمة الرئيس عبد العزيز بوتفليقة

القمة الأولى لرؤساء دول وحكومات الحوض الغربي للمتوسط 5+5

تونس 5 ديسمبر 2003 منطقة البحر الابيض المتوسط



## وضعية إدماجية - تقويمية



منطقة البحر الأبيض المتوسط

إن عملية تنفيذ إعلان برشلونة واتفاقات الشراكة مع الاتحاد الأوروبي وسائر أدوات السياسة العامة والمؤسسات تتصف كلها بأهمية إستراتيجية وبنوية بالنسبة للجانبيين

لماذا؟

عشية الذكرى السادسة لإعلان برشلونة في نوفمبر 1995، هذا الإعلان الذي شكل مرحلة مفصلية في العلاقة بين الاتحاد الأوروبي وبلدان حوض المتوسط، ووضع إطاراً للعلاقات المستقبلية بين بلدان الاتحاد الأوروبي الخمسة عشر وبلدان حوض المتوسط الإثني عشر المرشحة للشراكة مع الاتحاد الأوروبي. يتابع الاتحاد الأوروبي تنفيذ التغييرات البنوية التي يحتاجها، وهو ينظر حالياً في توسيع نطاق الاتحاد ليشمل ثلاثة عشر بلداً جديداً. ومن الممكن أن يكون لهذا التوسع المقترح نتائج عميقة على مختلف المستويات الاقتصادية والاجتماعية والثقافية والاستراتيجية، نظراً لطبيعة الاقتصاد في تلك البلدان المرشحة لعضوية الاتحاد وعدد سكانها وخصائصها الديموغرافية والخصائص الأخرى. ومن جهة أخرى، فإن لمثل هذا التوسع في الاتحاد الأوروبي أثراً هاماً في العلاقات بين البلدان العربية وبلدان حوض المتوسط الإثني عشر المرشحة للشراكة وبلدان الاتحاد الأوروبي الخمسة عشر. ولذلك فمن المهم في هذه المرحلة أن نقوم، ولو بشكل تمهيدي، بتقصي النتائج الممكنة لتوسيع الاتحاد الأوروبي من زاوية تنفيذ إعلان برشلونة وأدوات السياسة العامة اللازمة لمثل هذا التنفيذ.

إن بلدان الاتحاد الأوروبي الخمسة عشر هي أهم الشركاء التجاريين لبلدان حوض المتوسط الإثني عشر المرشحة للشراكة الأوروبية، علماً بأن أكثر من 45% من تجارة هذه الأخيرة هي مع الاتحاد الأوروبي. كذلك فإن بلدان المغرب العربي ومالطا هي جغرافياً أقرب البلدان إلى الاتحاد الأوروبي وأكثرها اعتماداً عليه، علماً كذلك بأن أكثر من 60% من مجموع تجارتها هي مع الاتحاد الأوروبي. أما بلدان المشرق العربي التي تتصف اقتصادياتها بانفتاح أقل فتبادلها التجاري مع الاتحاد الأوروبي يمثل حوالي 40% من مجموع تجارتها.

د. ناصر السعيد

### النشاط

- اكتب مقالا تجيب فيه عن الإشكالية المطروحة .



# الفهرسة

الصفحة	الموضوع
03	● المقدمة
08	- تنظيم و توظيف الكتاب
09	- مخطط الكتاب
11	● الوحدة التعليمية الأولى : واقع العالم الاقتصادي
12	● واقع العالم الاقتصادي - منطلقات .
16	1. مفهوم التقدم ومفهوم التخلف
18	- معايير تصنيف الدول
20	2. النظام الاقتصادي العالمي الجديد
24	3. المنظمات الاقتصادية في العالم
26	- الشركات المتعددة الجنسيات
28	- منظمة التجارة العالمية
30	4. المبادلات والتنقلات في العالم -
32	أ- سوق البترول
34	ب - تنقل رؤوس الأموال
36	ج - تدفق الإعلام في العالم
38	د - تنقل السكان ( الهجرة والسياحة )
42	الحصيلة
43	وضعية إدماجية - تقويمية
44	● الوحدة التعليمية الثانية : القوى الاقتصادية الكبرى
46	● القوى الاقتصادية الكبرى ( منطلقات الدراسة )
48	1. الولايات المتحدة الأمريكية قوة اقتصادية عظمى
50	أ- السكان والتهيئة الإقليمية في الو. م. أ .
54	ب - التهيئة العمرانية في مدن الو. م. أ .
55	2. مقومات اقتصاد الو. م. أ .
56	أ - الموارد الطبيعية
58	ب - الزراعة والصناعة
60	ج - البحث العلمي القوة التكنولوجية
	3. أهمية الواجهة الأطلسية
	4. الولايات المتحدة الأمريكية في العالم



62	* الاتحاد الأوروبي
64	• الاتحاد الأوروبي فضاء جيو سياسي واقتصادي في طور البناء
66	1. التهيئة الإقليمية في الاتحاد الأوروبي
	2. اقتصاد الاتحاد الأوروبي
68	أ - الصناعة في الاتحاد الأوروبي
69	ب - الزراعة في الاتحاد الأوروبي
70	3. منظمة الرين في أوروبا
72	- ميناء روتردام
74	4. الاتحاد الأوروبي في أوروبا والعالم
76	* آسيا الشرقية والجنوبية الشرقية
78	• اليابان
80	1. السكان والتهيئة الإقليمية في اليابان
82	- التهيئة الإقليمية في المدن اليابانية
84	- اليابان في مواجهة المخاطر الكبرى
86	2. اليابان قوة عالمية
90	3. الصين عملاق القرن الـ 21
94	4. تينيات آسيا الشرقية
96	- هونكونغ
97	- كوريا الجنوبية والتايوان
99	- سنغافورة
100	- النمور الصغيرة
102	5. آسيا في العام
104	الحصيلة
110	وضعية إدماجية - تقويمية
111	• الوحدة التعليمية الثالثة : التنمية في دول الجنوب
112	1. التنمية في دول الجنوب
114	- البلدان الأكثر تخلفا
116	2. التفاوت بين دول الجنوب
118	3. الوضعية الاقتصادية في دول الجنوب
120	* الهند
122	1. السكان والتهيئة الإقليمية في الهند
124	2. خصائص التنمية في الهند
126	3. مشاكل السكان في الهند



## \* البرازيل

128

130

132

134

136

138

1. السكان والتهيئة الاقليمية في البرازيل
2. التناقض في الفضاء الاقليمي والاجتماعي
3. الزراعة والصناعة في البرازيل
4. البرازيل قوة اقتصادية
5. مشكل البيئة في البرازيل

## \* نيجيريا

140

142

146

148

1. السكان والتهيئة في نيجيريا
2. اقتصاد نيجيريا
3. أهم مشاكل نيجيريا

## الخصيلة

وضعية إدماجية - تقويمية

150

154

155

● الوحدة التعليمية الرابعة : الجزائر في منطقة البحر الأبيض المتوسط

156

158

160

164

1. طبيعة منطقة البحر الأبيض المتوسط
2. التفاوت في التنمية بين ضفتي المتوسط
3. تنقل السكان في منطقة البحر الأبيض المتوسط ( هجرة وسياحة )

وضعية إدماجية - تقويمية

165

● مكانة الجزائر في البحر الأبيض المتوسط

166

168

170

172

1. الجزائر واتحاد المغرب العربي
2. الجزائر والشراكة الأوربية
3. الجزائر والمبادلات التجارية في منطقة البحر الأبيض المتوسط
4. الحفاظ على البيئة في منطقة البحر الأبيض المتوسط

## الخصيلة

وضعية إدماجية - تقويمية

174

176

177

180

181

الفهرسة

المراجع

خرائط صماء



## المراجع

خطب ورسائل . الجزء الثالث . عبد العزيز بوتفليقة 2003

- الأطلس العالمي

- أطلس الزيتونة

- أطلس الجزائر والعالم

جزائرننا الأطلس العملي للجزائر

الجزائر آفاق 2010 "التنمية والديمقراطية"

مجلة اقتصاديات شمال إفريقيا

مجلة جغرافية وتهيئة مارس 2000 العدد 07

المجلات والجرائد الوطنية

مواقع الانترنت

Internet EASY ADSL

GEO: ESPACE MONDIALE

LE NOUVEAU LAROUSSE MEMO

Image économique du monde 2005

Armand Colin

Image économique du monde 2006

Armand Colin

Atlas économique et politique Mondiale 2003 Atlas Obs

Atout bac Géographie ; terminal

HG terminal , Belin

Géographie; terminal , Espace mondial ,Nathan

Géographie; terminal ,Bertrand Lacoste

HG Le monde d aujourd'hui Hachette Education

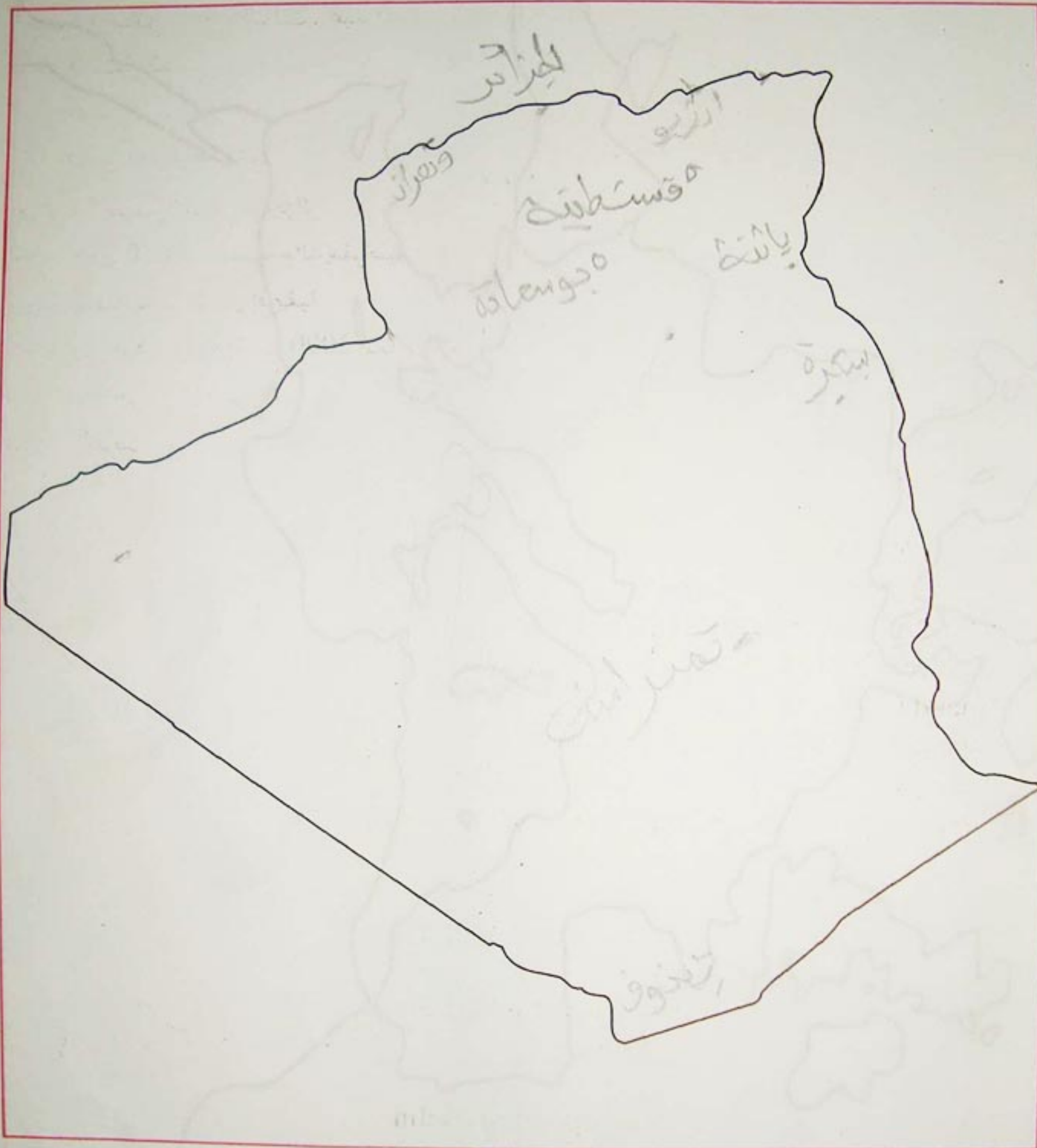
HG Initiation économique Belin

HG 5 me Nathan

Géographie; terminal , Espace mondial ,Belin

HG; terminal STT ,Nathan technique





elbassair.net



منطقة البحر الأبيض المتوسط



موقع عيون البصائر التعليمي







الولايات المتحدة الأمريكية



موقع عيون البصائر التعليمي











الصين



الهند



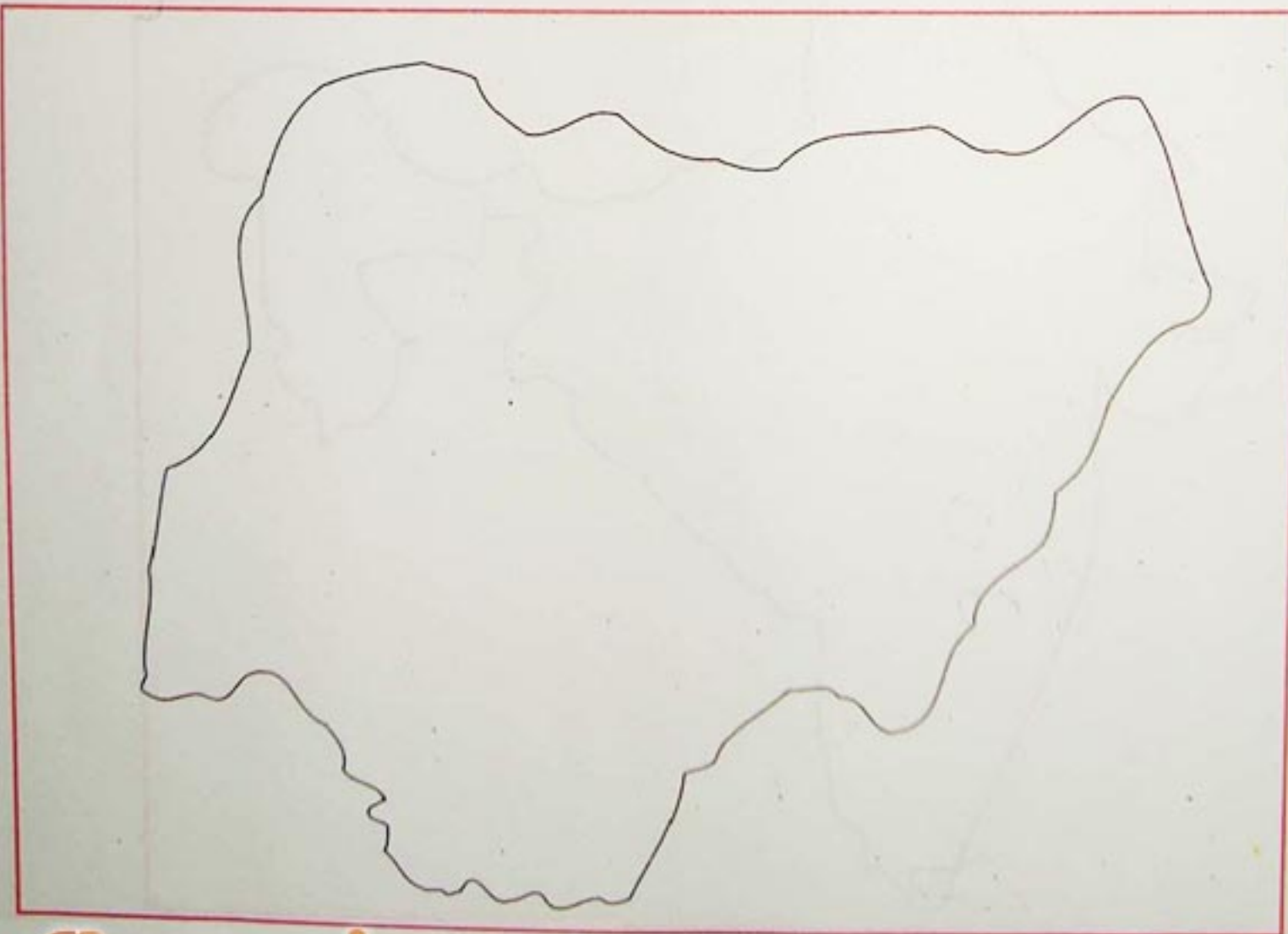
elbassair.net



البرازيل



نايجيريا



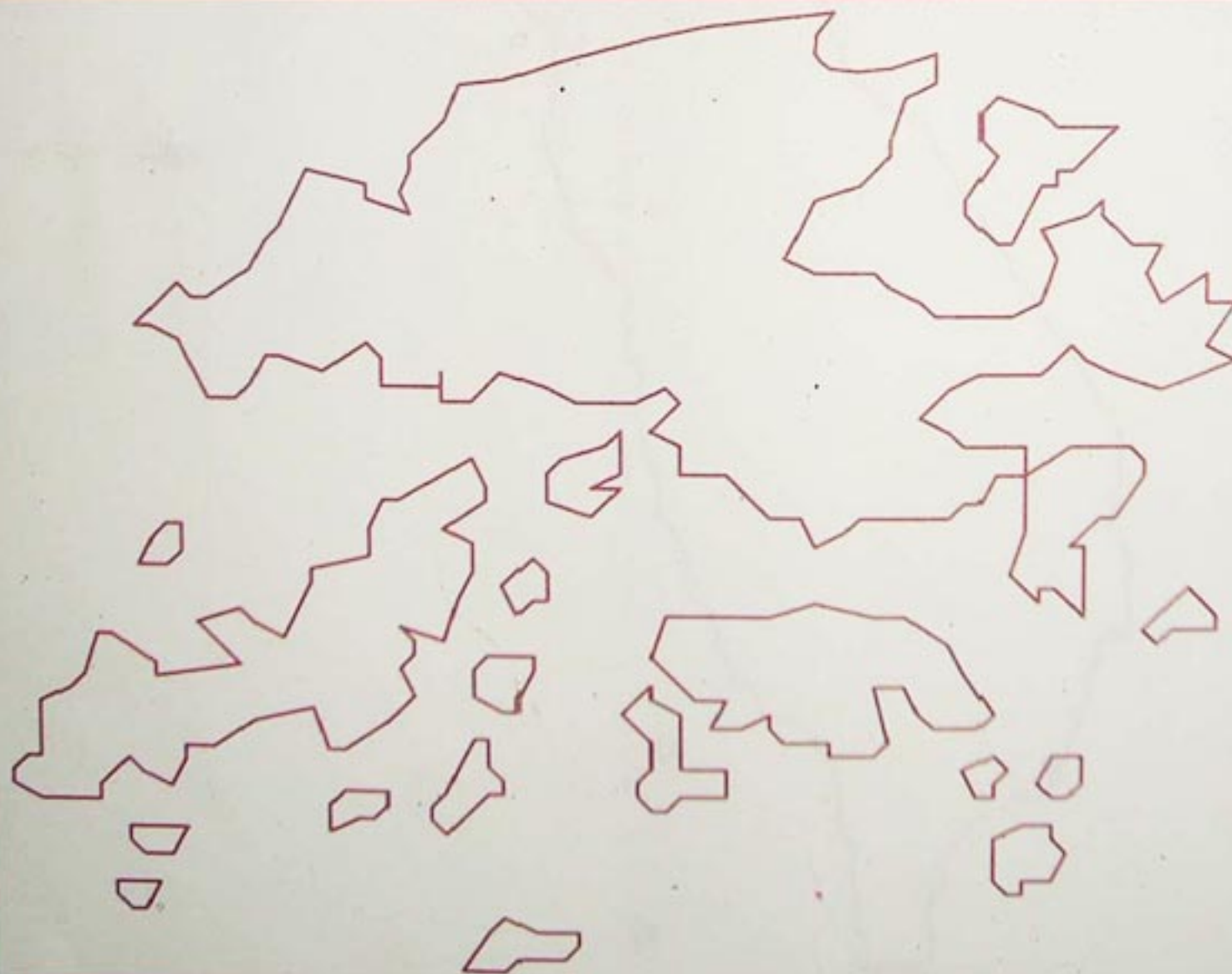
موقع عيون البصائر التعليمي



كوريا الجنوبية



هونكونغ





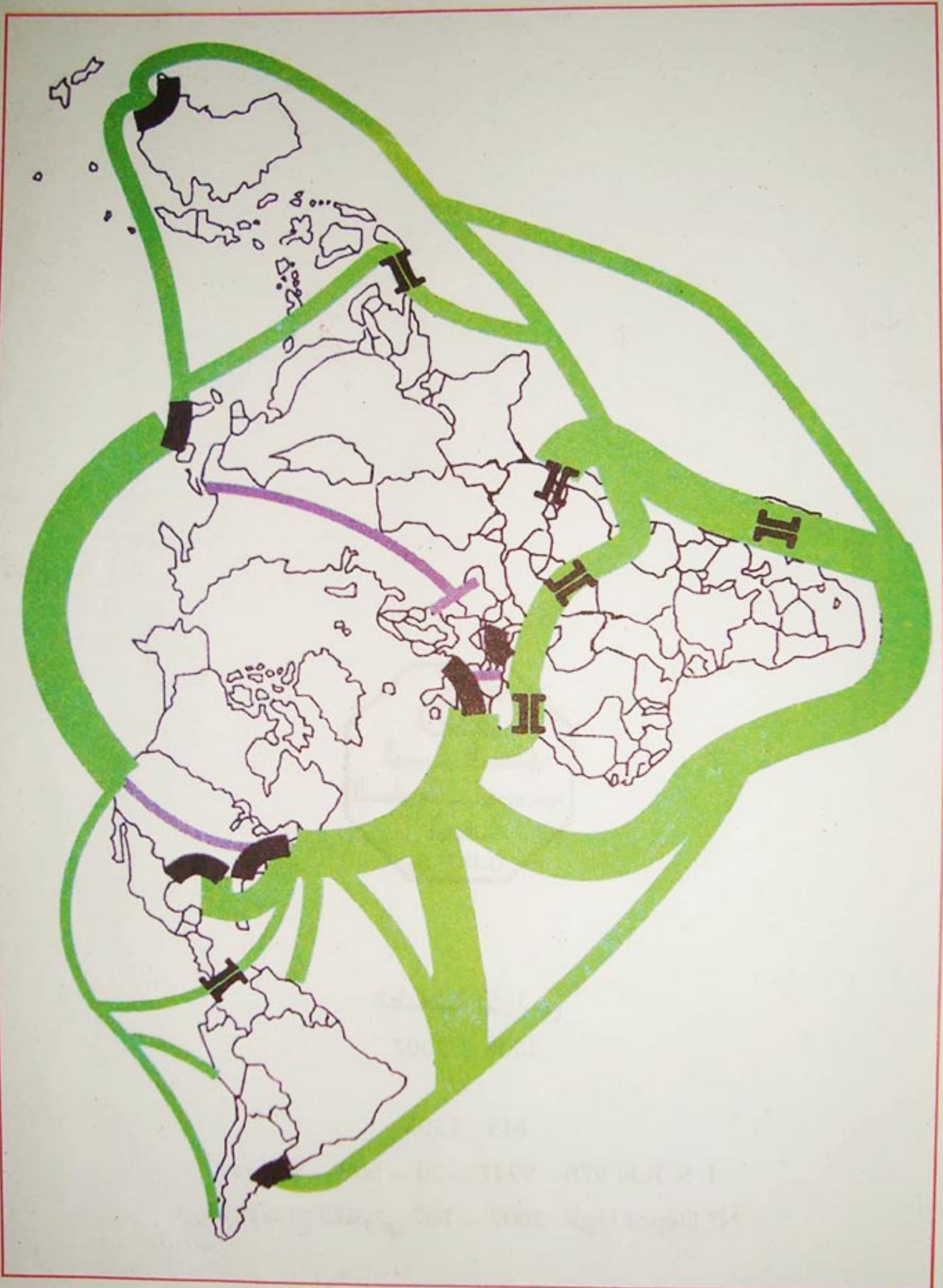
سنغفورة



التايوان







elbassair.net





الطبعة الأولى

2008 - 2007

MS : 1305

ردمك 9 - 509 - 20 - 9947 - 978 I. S. B.N

رقم الإيداع القانوني 107 - 2007 N° Dépot légal



لتحميل الكتب المدرسية

الابتدائي-المتوسط-الثانوي

إضغط هنا

موقع عيون البصائر التعليمي

elbassair.net

