

المقدمة

يسرنا أن نضع بين أيدي التلاميذ كتاب الجغرافيا للسنة الثالثة من التعليم المتوسط، وقد تم تأليفه وفقاً للمنهاج الجديد المقرر، والذي يتضمن خمس وحدات تعليمية هي :

1 - قارة اوقيانيا

2 - قارة اوربا

3 - ألمانيا

4 - قارة افريقيا

5 - جمهورية جنوب افريقيا

يرمي هذا الكتاب إلى إعطاء التلاميذ نظرة كلية للعالم، من خلال مواصلة المسح القاري، ونماذج بلدان مختارة من كل قارة.

وقد تم اختيار الخرائط والصور والرسومات والبيانات والنصوص المناسبة باعتبارها، أدوات بيداغوجية في مادة الجغرافيا، يوظفها التلميذ لتحقيق الكفاءات المنهجية التالية :

- قراءة نقدية للنص المعرفي المصاغ بشكل مركز.

- قراءة وإنجاز خرائط ورسومات توضيحية.

- قراءة وتعليق على الجداول والبيانات.

- ربط العلاقة بين المعطيات، وتوظيف المفاهيم والمصطلحات توظيفا سليما.

- استقراء الصور لاكتشاف مكونات المشاهد التي تعكسها.

- صياغة عبارات بسيطة في شكل حوصلات ذات دلالة ومعنى .

يتم توظيف الأدوات البيداغوجية الواردة في الكتاب، من طرف التلميذ بمعية

الأستاذ لتحقيق الكفاءات التالية :

- التعرف على الخصائص المميزة للمقارنات من الناحية الطبيعية والسكانية والاقتصادية.

- تفسير ظاهرتي التباين والتنوع، باعتماد تقاطع المعطيات التاريخية والطبيعية

والثقافية والديموغرافية والاقتصادية.

- ربط العلاقة بين الإنسان والبيئة، وصولا إلى تقييم الوسط الطبيعي والبشري.

- توظيف المفردات والمفاهيم والمصطلحات الجغرافية بشكل دقيق.

بِسْمِ اللَّهِ الرَّحْمَنِ الرَّحِيمِ

المقدمة

يسرنا أن نضع بين أيدي التلاميذ كتاب الجغرافيا للسنة الثالثة من التعليم المتوسط، وقد تم تأليفه وفقاً للمنهاج الجديد المقرر، والذي يتضمن خمس وحدات تعليمية هي :

1 - قارة اوقيانيا

2 - قارة اوربا

3 - ألمانيا

4 - قارة افريقيا

5 - جمهورية جنوب افريقيا

يرمي هذا الكتاب إلى إعطاء التلاميذ نظرة كلية للعالم، من خلال مواصلة المسح القاري، ونماذج بلدان مختارة من كل قارة.

وقد تم اختيار الخرائط والصور والرسومات والبيانات والنصوص المناسبة باعتبارها، أدوات بيداغوجية في مادة الجغرافيا، يوظفها التلميذ لتحقيق الكفاءات المنهجية التالية :

- قراءة نقدية للنص المعرفي المصاغ بشكل مركز.

- قراءة وإنجاز خرائط ورسومات توضيحية.

- قراءة وتعليق على الجداول والبيانات.

- ربط العلاقة بين المعطيات، وتوظيف المفاهيم والمصطلحات توظيفا سليما.

- استقراء الصور لاكتشاف مكونات المشاهد التي تعكسها.

- صياغة عبارات بسيطة في شكل حوصلات ذات دلالة ومعنى .

يتم توظيف الأدوات البيداغوجية الواردة في الكتاب، من طرف التلميذ بمعية الأستاذ لتحقيق الكفاءات التالية :

- التعرف على الخصائص المميزة للقارات من الناحية الطبيعية والسكانية والاقتصادية.

- تفسير ظاهرتي التباين والتنوع، باعتماد تقاطع المعطيات التاريخية والطبيعية والثقافية والديموغرافية والاقتصادية.

- ربط العلاقة بين الإنسان والبيئة، وصولاً إلى تقييم الوسط الطبيعي والبشري.

- توظيف المفردات والمفاهيم والمصطلحات الجغرافية

لقد تمت هيكلة الكتاب بما من شأنه أن يُمكن من توظيف محتوياته المتنوعة وفق الخطة التالية :

المدخل إلى الوحدة التعليمية ، يطرح إشكالية أصلية كدافعية للمتعلمين، ويتضمن محتويات معرفية تخص الوحدة، وعقداً بيداغوجياً يشخص الكفاءات المستهدفة.

التدرج في تناول المحتويات المعرفية للوحدة التعليمية باعتماد وسائل بيداغوجية متنوعة ومناسبة للموضوع، يتم توظيفها ومعالجتها في إطار مسار تعليمي يتمثل في :

-البحث عن المعلومات : يندرج في صفحتين، يتضمن إشكالاً يعكس فكرة الدرس أو استفسار هادف، وتنظيم المضامين المعرفية في شكل فقرات بسيطة واضحة مركزة، ومدعمة عند الضرورة بشرح المصطلحات الواردة.

-استثمار المعلومات : يندرج في صفحتين، يتضمن مجموعة من الوثائق المناسبة لمعالجة محتويات الدرس أو (المقطع)، ضمن أسئلة وظيفية محل التمارين التطبيقية، تمكن من استثمار المعلومات المحصلة.

يمكن إنجاز البعض منها في القسم، والآخر خارج القسم (مع عدم الكتابة على صفحات الكتاب).

-الملف : تُتوج كل وحدة تعليمية بملف في صفحتين، يساعد التلميذ على العمل المستقل، والتمرس على الكفاءات المكتسبة، في إطار تعميق المضامين والمعارف المحصلة، يتضمن جملة من الوثائق المكتملة للموضوع، يتدرب بواسطتها المتعلمون على البحث والقراءة والتحليل والتركيب.

-التقويم : تختتم كل وحدة تعليمية بتقويم يهدف إلى معاينة مدى تحقق الكفاءات المستهدفة للوحدة التعليمية.

ويتم ذلك بتقديم وضعيات مشابهة أو جديدة في شكل فقرة أو نص أو رسم أو مخطط أو صورة، أو خريطة تكون مذيّلة بأسئلة تخص جوانب التفكير والتحليل والاستدلال الخ .. كأن يحلل النصوص وفق خطوات منهجية، أو يشرح محتويات الخريطة أو الصورة ، دون مساعدة الأستاذ.

المطالعة : تم إدراج موضوع للمطالعة لكل وحدة تعليمية قصد تعويد المتعلم على الاستزادة في قراءة المواضيع ذات الأهمية، من مصادر ومراجع مختلفة.

نرجو أن ينال الكتاب رضى التلاميذ والأساتذة وأن يكون وسيلة عمل تساعدهم على تحقيق الأهداف المرجوة.

المسار التعليمي

الملف	العقد التعليمي (الكفاءات المستهدفة)	الوحدة التعليمية
تربية المواشي في استراليا	<ul style="list-style-type: none"> - تتعرف على مميزات اوقيانيا وتحدد مراحل تسميرها. - تستخلص العوامل المتحكمة في توزيع السكان. - تشرح مظاهر التنمية، وتربط العلاقة بين السكان والمستوى المعيشي. - تحدد أهم الأقاليم الاقتصادية، وتشرح مميزاتها. 	<p><u>الوحدة التعليمية 1 : قارة اوقيانيا</u> (قارة جزرية) - 5 ساعات</p> <ol style="list-style-type: none"> 1 - تسمير اوقيانيا 2 - السكان في اوقيانيا 3 - التنمية الاقتصادية في اوقيانيا 4 - الأقاليم الاقتصادية في اوقيانيا
الوحدة النقدية في اوربا	<ul style="list-style-type: none"> - تتعرف على المميزات العامة للقارة، وتكتشف أثر الثورة الصناعية في تقدمها. - تحدد مراكز التجمعات الكبرى للسكان في القارة، وتشرح خصائصها البشرية والديموغرافية (الشيخوخة). - تتعرف على مظاهر التنمية في القارة، وتستخلص عوامل التفاوت في تطور المجتمعات الاوربية. - تكتشف أسباب وأهمية الوحدة، ودور التكتل في عملية التطور والتنمية في اوربا. 	<p><u>الوحدة التعليمية 2 : قارة اوروبا</u> (التنوع والوحدة) - 6 ساعات</p> <ol style="list-style-type: none"> 5 - اوروبا مهد الثورة الصناعية 6 - السكان في اوربا 7 - التنمية الاقتصادية 8 - الاتحاد الاوربي
ألمانيا المنافسة الإقليمية والدولية	<ul style="list-style-type: none"> - تتعرف على مميزات الظاهرة السكانية في ألمانيا كبلد أوروبي. - تشرح عوامل التطور الاقتصادي في ألمانيا. - تحدد أهم مدن ألمانيا، وتبرز مظاهر التطور العمراني فيها. - تحدد دور ألمانيا ضمن المجموعة الاوربية ومكانتها في العالم. 	<p><u>الوحدة التعليمية 3 : ألمانيا</u> (قوة اقتصادية) - 6 ساعات</p> <ol style="list-style-type: none"> 9 - ألمانيا (السكان) 10 - ألمانيا قوة علمية وتكنولوجية. 11 - المدن الألمانية. 12 - مكانة ألمانيا في اوربا والعالم

الوحدة التعليمية 4 : قارة افريقيا
(قارة مؤهلة للنمو) - 8 ساعات

13 - السكان في افريقيا (التباين والتنوع).

14 - الانفجار الديموغرافي.

15 - الموارد الطبيعية ومعيقات التنمية.

16 - الاتحاد الافريقي وآفاق مستقبل القارة.

- تتعرف على مميزات القارة، وتشرح مظاهر التباين والتنوع فيها.

المناطق الجغرافية الكبرى في افريقيا
- تتعرف على الظاهرة الديموغرافية في افريقيا وأثرها على العمران.

- توازن بين الموارد الطبيعية والتنمية في القارة.

- تبين دور الاتحاد الافريقي في استقرار وتنمية القارة.

الوحدة التعليمية 5 : جنوب افريقيا
(التنوع والانسجام) - 5 ساعات

17 - واقع السكان في جنوب افريقيا.

18 - النمو الديموغرافي وتوزيع السكان.

19 - السكان والتنمية.

20 - مكانة جنوب افريقيا في القارة والعالم.

- تتعرف على الواقع السكاني في جنوب افريقيا بين الماضي والحاضر.

الأبارتيد (التمييز العنصري)
- تتعرف على الظاهرة الديموغرافية في جنوب افريقيا، وتحدد العوامل المتحكمة في توزيع السكان.

- تربط العلاقة بين الموارد الطبيعية والمستوى المعيشي للسكان في جنوب افريقيا.

- تحدد مكانة افريقيا في القارة والعالم.

تقديم الكتاب



موضوع الوحدة التعليمية

مدخل تحسيسي



السندات

مدخل

أسئلة تحسيسية

عقد تعليمي
(الكفاءات المستهدفة)

المحتويات المعرفية
للوحدة التعليمية

البحث عن المعلومات

الإشكالية

الموضحات

النص المعرفي

للبحث

المصطلحات

1- تعمير أوقيانيا

تعمير أوقيانيا من قبل الأوروبيين في أستراليا ونيوزيلندا والجزر المحيطية.

1- أوقيانيا الإلهامية

2- نيوزيلندا

3- أستراليا

4- نيوزيلندا

5- أستراليا

6- نيوزيلندا

7- أستراليا

8- نيوزيلندا

9- أستراليا

10- نيوزيلندا

11- أستراليا

12- نيوزيلندا

13- أستراليا

14- نيوزيلندا

15- أستراليا

16- نيوزيلندا

17- أستراليا

18- نيوزيلندا

19- أستراليا

20- نيوزيلندا

21- أستراليا

22- نيوزيلندا

23- أستراليا

24- نيوزيلندا

25- أستراليا

26- نيوزيلندا

27- أستراليا

28- نيوزيلندا

29- أستراليا

30- نيوزيلندا

31- أستراليا

32- نيوزيلندا

33- أستراليا

34- نيوزيلندا

35- أستراليا

36- نيوزيلندا

37- أستراليا

38- نيوزيلندا

39- أستراليا

40- نيوزيلندا

41- أستراليا

42- نيوزيلندا

43- أستراليا

44- نيوزيلندا

45- أستراليا

46- نيوزيلندا

47- أستراليا

48- نيوزيلندا

49- أستراليا

50- نيوزيلندا

51- أستراليا

52- نيوزيلندا

53- أستراليا

54- نيوزيلندا

55- أستراليا

56- نيوزيلندا

57- أستراليا

58- نيوزيلندا

59- أستراليا

60- نيوزيلندا

61- أستراليا

62- نيوزيلندا

63- أستراليا

64- نيوزيلندا

65- أستراليا

66- نيوزيلندا

67- أستراليا

68- نيوزيلندا

69- أستراليا

70- نيوزيلندا

71- أستراليا

72- نيوزيلندا

73- أستراليا

74- نيوزيلندا

75- أستراليا

76- نيوزيلندا

77- أستراليا

78- نيوزيلندا

79- أستراليا

80- نيوزيلندا

81- أستراليا

82- نيوزيلندا

83- أستراليا

84- نيوزيلندا

85- أستراليا

86- نيوزيلندا

87- أستراليا

88- نيوزيلندا

89- أستراليا

90- نيوزيلندا

91- أستراليا

92- نيوزيلندا

93- أستراليا

94- نيوزيلندا

95- أستراليا

96- نيوزيلندا

97- أستراليا

98- نيوزيلندا

99- أستراليا

100- نيوزيلندا

استثمار المعلومات

السندات التربوية

أسئلة للتطبيق

استثمار المعلومات

استثمار المعلومات في شكل أعمال تطبيقية، باعتماد سندات تربوية متنوعة (نصوص - خرائط - صور - رسوم بيانية - جداول إحصائية...).

1- أستراليا

2- نيوزيلندا

3- أستراليا

4- نيوزيلندا

5- أستراليا

6- نيوزيلندا

7- أستراليا

8- نيوزيلندا

9- أستراليا

10- نيوزيلندا

11- أستراليا

12- نيوزيلندا

13- أستراليا

14- نيوزيلندا

15- أستراليا

16- نيوزيلندا

17- أستراليا

18- نيوزيلندا

19- أستراليا

20- نيوزيلندا

21- أستراليا

22- نيوزيلندا

23- أستراليا

24- نيوزيلندا

25- أستراليا

26- نيوزيلندا

27- أستراليا

28- نيوزيلندا

29- أستراليا

30- نيوزيلندا

31- أستراليا

32- نيوزيلندا

33- أستراليا

34- نيوزيلندا

35- أستراليا

36- نيوزيلندا

37- أستراليا

38- نيوزيلندا

39- أستراليا

40- نيوزيلندا

41- أستراليا

42- نيوزيلندا

43- أستراليا

44- نيوزيلندا

45- أستراليا

46- نيوزيلندا

47- أستراليا

48- نيوزيلندا

49- أستراليا

50- نيوزيلندا

51- أستراليا

52- نيوزيلندا

53- أستراليا

54- نيوزيلندا

55- أستراليا

56- نيوزيلندا

57- أستراليا

58- نيوزيلندا

59- أستراليا

60- نيوزيلندا

61- أستراليا

62- نيوزيلندا

63- أستراليا

64- نيوزيلندا

65- أستراليا

66- نيوزيلندا

67- أستراليا

68- نيوزيلندا

69- أستراليا

70- نيوزيلندا

71- أستراليا

72- نيوزيلندا

73- أستراليا

74- نيوزيلندا

75- أستراليا

76- نيوزيلندا

77- أستراليا

78- نيوزيلندا

79- أستراليا

80- نيوزيلندا

81- أستراليا

82- نيوزيلندا

83- أستراليا

84- نيوزيلندا

85- أستراليا

86- نيوزيلندا

87- أستراليا

88- نيوزيلندا

89- أستراليا

90- نيوزيلندا

91- أستراليا

92- نيوزيلندا

93- أستراليا

94- نيوزيلندا

95- أستراليا

96- نيوزيلندا

97- أستراليا

98- نيوزيلندا

99- أستراليا

100- نيوزيلندا

استثمار المعلومات يتم على شكل أعمال تطبيقية، باعتماد سندات تربوية متنوعة (نصوص - خرائط - صور - رسوم بيانية - جداول إحصائية...).

الملف

الملف عبارة عن بحث حول موضوع مختار يتعلق بالوحدة التعليمية، بتوظيف مختلف السندات التربوية، قصد التمرن على طرق البحث وانتقاء المعلومات.

للبحث

السندات

التقويم

يُدرج التقويم في نهاية الوحدة التعليمية، قصد التأكد من مدى تحقق الكفاءات المستهدفة، ومعالجة النقائص الملحوظة.

البلد	السنة	السكان
تونس	2014	10 980 000
الجزائر	2014	34 800 000
المغرب	2014	33 200 000

السندات للتطبيق

المطالعة



إن اسم بولنيزيا مشتق من اليونانية بولي Poly، بمعنى كثير، ونيزوس Nesos، بمعنى جزيرة. وقد أطلق على مجموعة من الجزر في جنوب المحيط الهادي، بين خطي طول 170° شرقاً، و110° غرباً، هناك مئات ومئات من الجزر، بعضها كبير وبعضها صغير، حتى أنها لم توضع حتى على خريطة الأطلس. والكثير من الجزر، عبارة عن قمة براكين مغمورة تحت الماء، وهناك غيرها من الشعب المرجانية الدقيقة، وأشهر الجزر في بولنيزيا هي: هاواي Hawaii، وساموا Samoa، وتونغا Tonga، والساح فيها استوائي أو مداري، تلتفه الرياح العنيفة بالرطوبة التي تهب من المحيط. أما النبات فيها فمزدهر.

موقع بولنيزيا الجغرافي

والبولنيزيون قوم طوال القامة، شعورهم داكنة البشرة، وعيونهم واسعة بنية. وهناك من يقول إن البولنيزيين قدموا من الهند عن طريق أندونيسيا. والسكن البولنيزي كوخ مستطيل الشكل عادة، وتدعم هذه الأكوخ أعمدة خشبية قوية، ويغطي العشب وسعف النخيل أسقفها، أما الجوانب فتصنع من الخوص. موسوعة المعرفة

القصد من إدراج موضوع المطالعة هو تعويد المتعلمين على القراءة، وانتقاء النصوص والمواضيع ذات الأهمية، من الكتب والمجلات والجرائد، لبناء رصيد معرفي ثري.

الوحدة التعليمية الأولى



قارة أوقيانيا

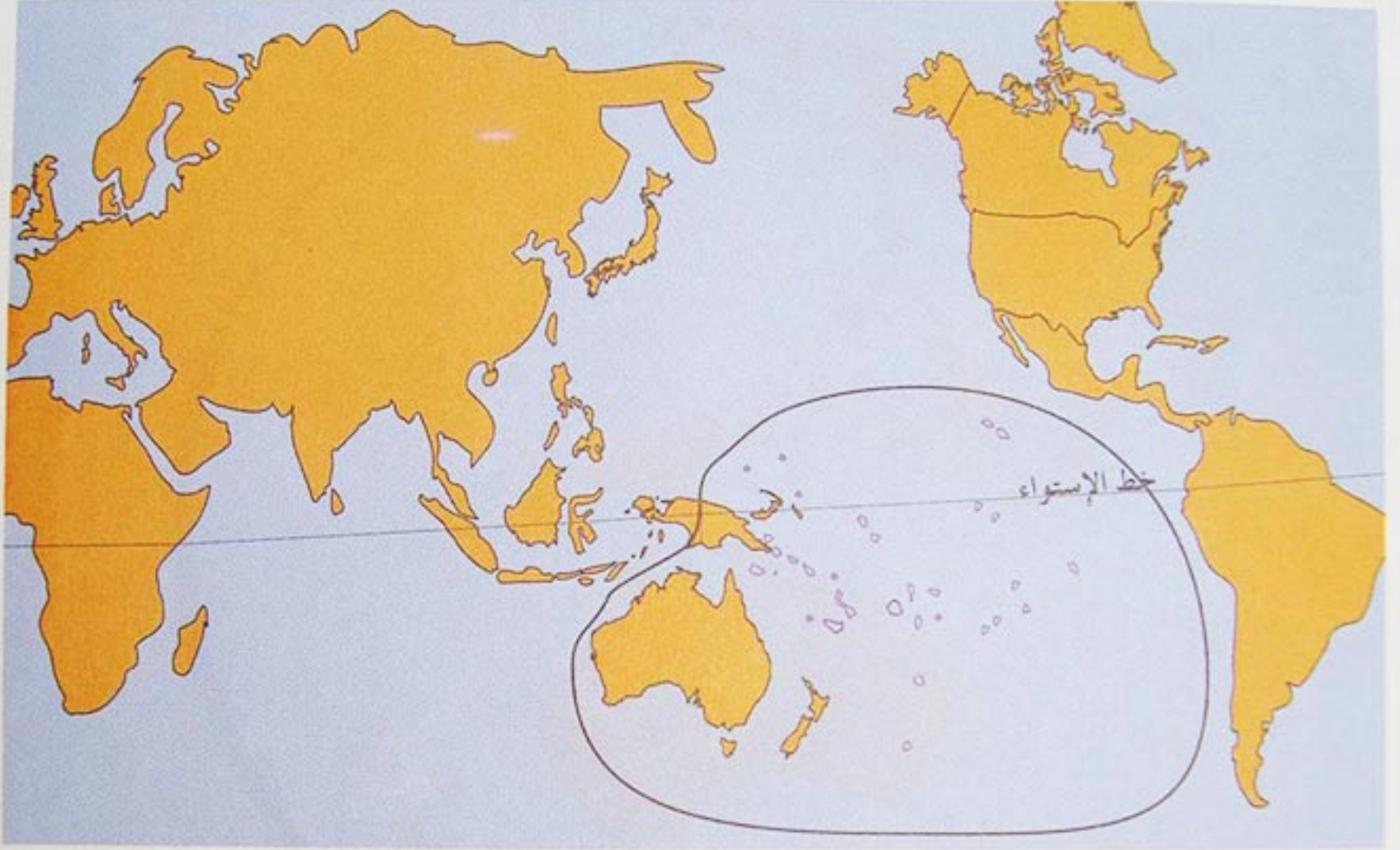
موقع عيون البصائر التعليمي

elbassair.net

elbassair.net

قارة اوقيانيا

قارة اوقيانيا أصغر القارات الخمس، وهي تتألف من الجزر المتناثرة في المحيط الهادي، ويقع معظمها في النصف الجنوبي من الكرة الأرضية.



العقد التعليمي

في نهاية هذه الوحدة تكون قادرا على :

- التعرف على مميزات قارة اوقيانيا، وتحديد مراحل تعميرها.
- استخلاص العوامل المتحكمة في توزيع السكان.
- شرح العلاقة بين السكان والتنمية.
- تحديد وشرح أهم مميزات الأقاليم الاقتصادية في استراليا ونيوزيلندا.

الوحدة التعليمية الأولى

- تعمير اوقيانيا
- السكان في اوقيانيا
- التنمية الاقتصادية في اوقيانيا
- الأقاليم الاقتصادية في اوقيانيا
- ملف : تربية المواشي في استراليا



الكوالا



فتاة استرالية بالزي التقليدي



الكنغر

بطاقة التعريف لقارة اوقيانيا :

- المساحة : 8,5 مليون كم²
- الموقع الفلكي : بين دائرتي عرض 30 ° شمالا،
50 ° جنوبا
- عدد السكان : 32 مليون نسمة (22,1 مليون
نسمة في استراليا ونيوزيلندا)
- أمد الحياة : - 71,5 سنة (رجال)
- 76,5 سنة (نساء)
- الأعراق البشرية :
السكان الأصليون :

- الاستراليون

- البولينيديون

- الماوريون

• الأوربيون : بعد اكتشاف القارة (القرن 18)

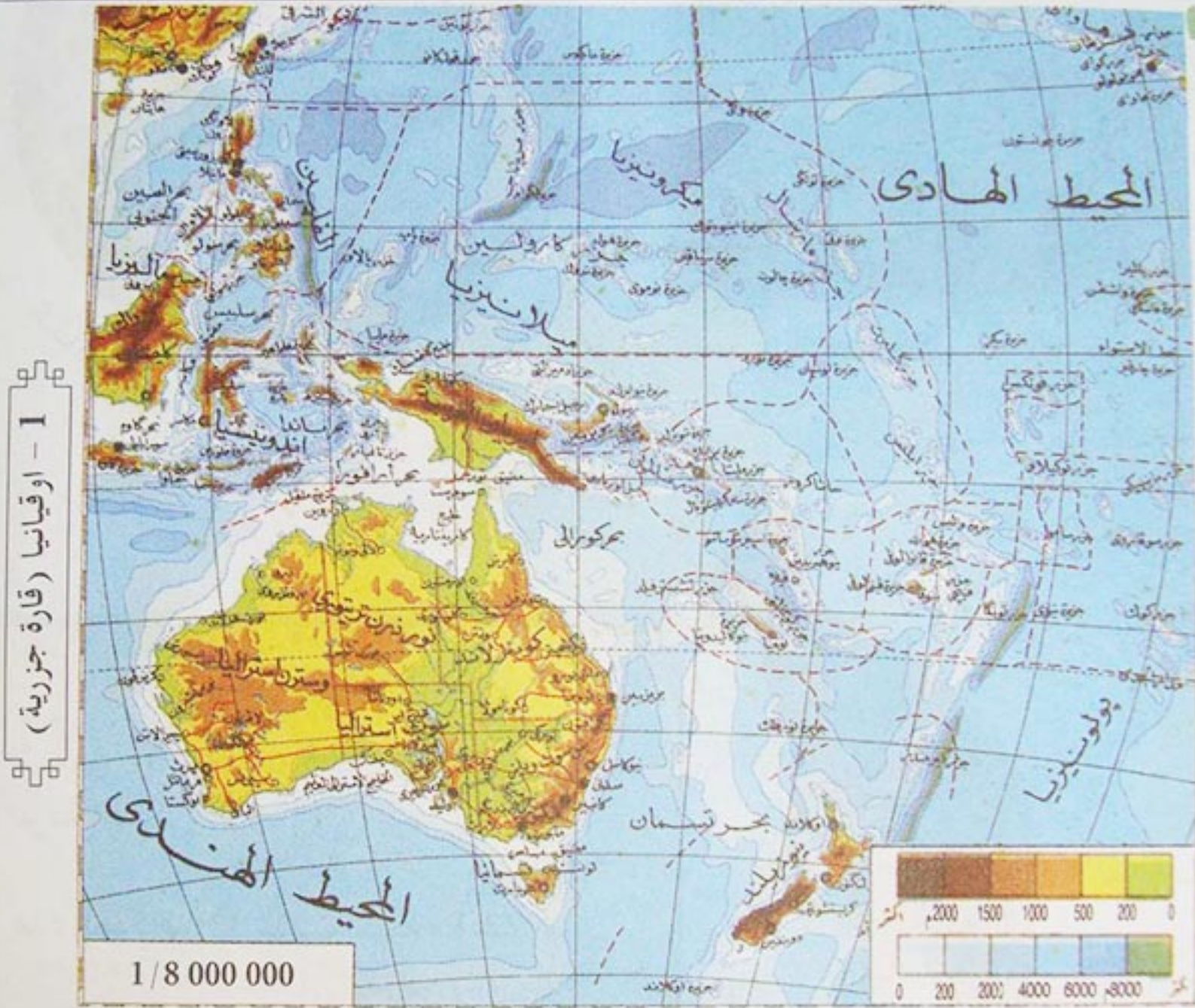
• الآسيويون : الهجرة (اليد العاملة)

- ما موقع قارة اوقيانيا في الكرة الأرضية ؟

- علام يدل التنوع البشري في اوقيانيا ؟

1 - تعمير اوقيانيا


تتميز قارة اوقيانيا عن بقية القارات في طبيعة تشكيلها وتعميرها.
- مم تتشكل؟ وما مراحل تعميرها؟



1 - اوقيانيا (قارة جزرية)

1- اوقيانيا قارة جزرية : هي مجموعة من الجزر (الأرخبيلات)، المنتشرة في المحيط الهادي، تتألف من :

- 1 - استراليا : أكثر من 90.4% من مساحة اوقيانيا وثلثي (2/3) سكانها.
- 2 - نيوزيلندا : أكثر من 3.2% من مساحة اوقيانيا و11.68% من السكان.
- 3 - ثلاث مجموعات جزرية، هي :
 - ميلانيزيا : مجموعة جزر (أرخبيل) تقع إلى الشمال الشرقي من استراليا (غينيا الجديدة - كاليدونيا الجديدة - سالومون - فيجي ...).
 - ميكرونيزيا : أرخبيل صغير، يقع إلى الشمال الشرقي من ميلانيزيا (جزر الماريان - جزر المارشال ...).
 - بولينيزيا : أرخبيل كبير الجزر، يقع إلى الشرق من ميلانيزيا وميكرونيزيا (ساموا - هاواي - تونغا ...).



مفردات ومصطلحات.

- ميلانيزيا : أرض الجزر السوداء، لأنها يقطنها سكان ذو بشرة داكنة.
- ميكرونيزيا : أرض الجزر الصغيرة.
- بولينيزيا : أرض الجزر الكثيرة.

2 - تمثيل مساحة القارة

ب - تـمير القارة



• السكان القدماء: أصلهم من جنوب شرق آسيا، كان وصولهم عبر مناطق الاتصال القاري، بين جزر غينيا الجديدة وأستراليا والجزر الأخرى، منذ أزمنة بعيدة.

• الهجرات الأوروبية: منذ القرن 16 أخذت الرحلات الأوروبية تتجه نحو أواسط المحيط الهادي، فكان البحار فردينان ماجلان هو أول من حط رحاله في هذه القارة، خلال جولته في العالم (في جزر الماريان سنة 1521).

ثم جاء البحار الهولندي تاسمان (1641) الذي حط رحاله في إحدى الجزر، وأسمها باسمه (تاسمانيا).

أما الاكتشاف الكامل للقارة فكان على يد البحار الإنجليزي جيمس كوك (1770).

بعد اكتشاف القارة وفدت هجرات أوروبية كثيرة، لاستغلال الموارد الاقتصادية والمواد الخام من هذه الجزر.

3 - من السكان الأصليين

- بم تتميز أوقيانيا في تشكيلها عن بقية القارات؟
- حدد الموقع الفلكي للقارة (طولاً) مستعيناً بـ (الوثيقة 1).
- اعتمداً على (الوثيقة 2)، بين أهمية أستراليا ونيوزيلندا في القارة.
- باستعمال الأطلس الجغرافي، حدّد جزر الماريان التي حط بها البحار ماجلان.
- كيف تمّ تـمير أوقيانيا؟
- ما المقصود بمناطق الاتصال القاري؟



4 - مكتشف القارة جيمس كوك



1 - من تقاليد سكان أوقيانيا

كتب البحار جيمس كوك (مكتشف القارة) عن سكان نيوزيلندا :
إن الماوري متين البنيان، ممشوق القامة، ذو عظام عريضة، وقامة أطول من المتوسط، بشرته بلون بني داكن، شعره أسود، وذقنه حمراء، وأسنانه بيضاء.
والرجال والنساء على السواء، يطلون وجوههم وأجسامهم بالحمرة الممزوجة بزيت السمك. وهم يزينون آذانهم وأعناقهم بنوع من الحلبي المصنوعة من الحجارة، والعظام، والقواقع. كما أن الرجال يرشقون ريشا في شعورهم.

2

- اعتمادا على (الوثيقة 1) اكتب فقرة تصف فيها ملامح ومميزات سكان أوقيانيا الأصليين.
- اعتمادا على النص، عدد أوصاف سكان نيوزيلندا.
- ماذا تستخلص من (الوثيقتين 2.1) ؟

تنتشر جزر (فيجي - سالومون - هاواي - كوك - مارشال - ناورو - كاليدونيا الجديدة - تونغا - واليس - كيريباتي) في ثلاث مجموعات (أرخبيلات)، هي : (ميلانيزيا - ميكرونيزيا - بولينيزيا) .

- شكل جدولاً للأرخبيلات الثلاث على هذا النحو، ثم ضع كل جزيرة في الأرخبيل المناسب.

بولينيزيا	ميكرونيزيا	ميلانيزيا

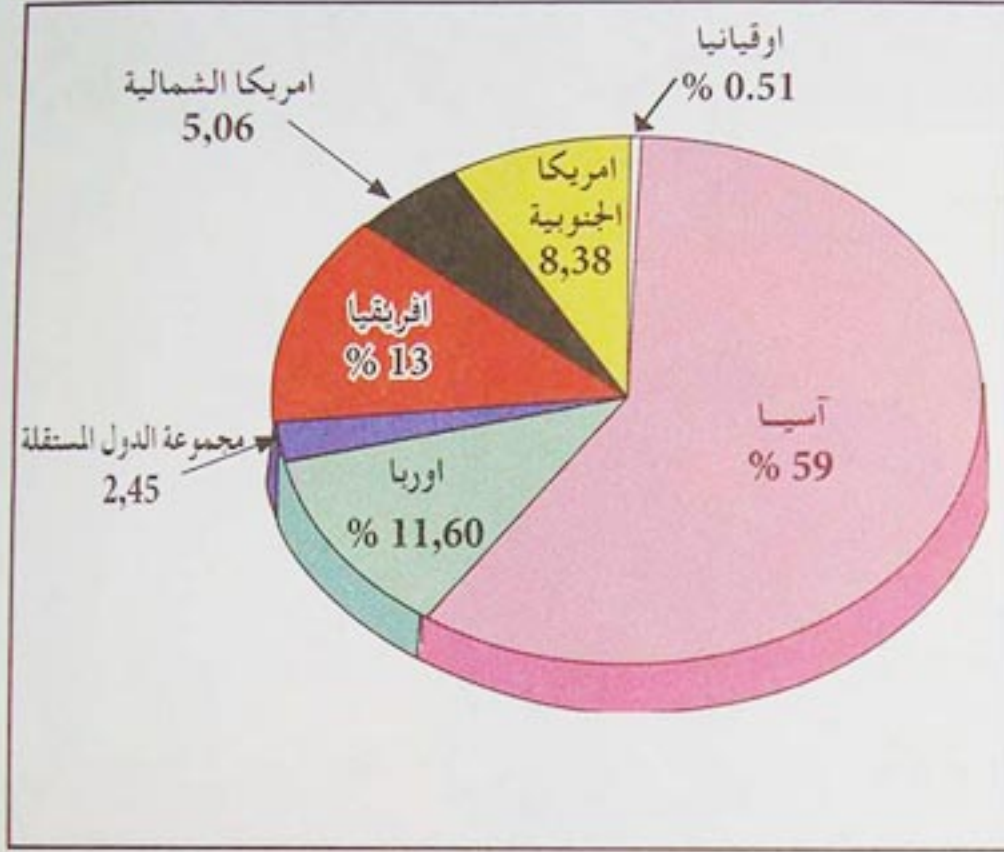


- اعتماداً على (الوثيقة 3) حدّد مناطق الاتصال القاري بين قارتي آسيا وأوقيانیا؟
- ما أهمية هذه المناطق في تعمير قارة أوقيانیا؟

3 - مناطق الاتصال القاري بين جنوب شرق آسيا وأوقيانیا

2 - السكان في اوقيانيا

تتصف قارة اوقيانيا بأنها أقل القارات سكاناً وكثافة، وأن سكانها يتوزعون بشكل متباين. ما عوامل ذلك ؟



1- الدائرة النسبية لسكان العالم

1- نسبة السكان بالنسبة للعالم

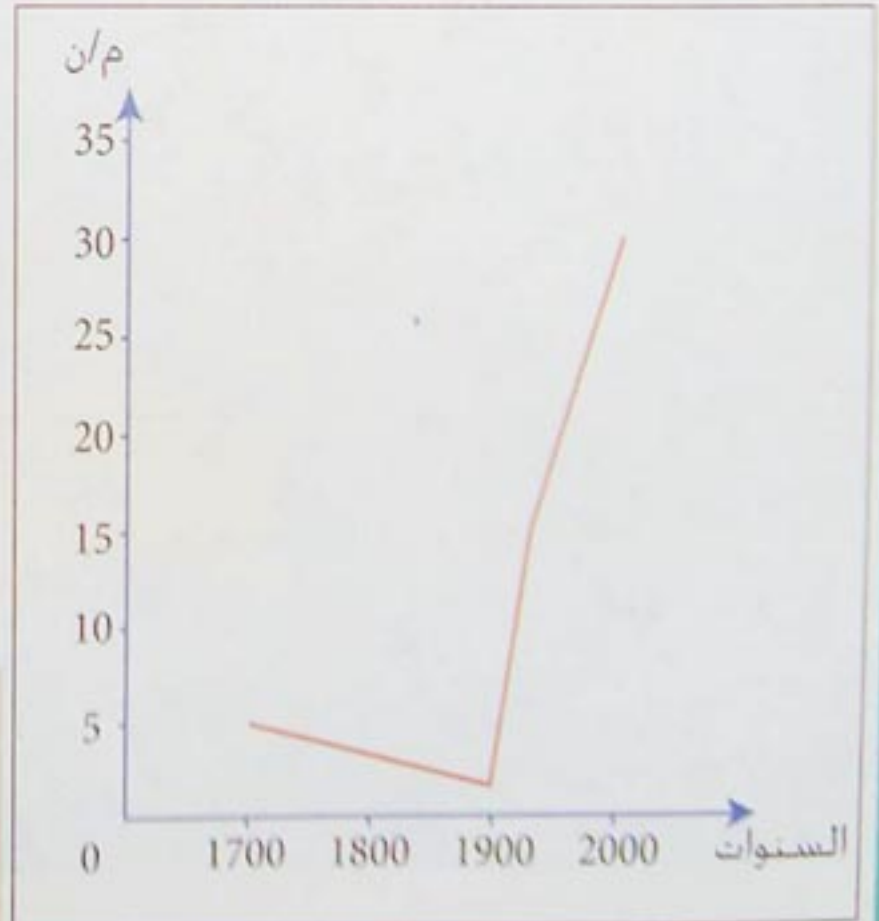
يشكل سكان اوقيانيا بالنسبة للعالم نسبة 0.51 %، بسبب النمو السكاني البطيء في القرنين 18 و19، نتيجة انتشار الأمراض والحروب التي شنتها الاوربيون المستوطنون. ثم أخذ يتزايد بنسبة ضئيلة في القرن 20.

ب - الكثافة السكانية

تبلغ الكثافة السكانية في اوقيانيا حوالي 3.83 ن/كم².
إلا أن هذه الكثافة تتباين في جزر القارة:

- استراليا = 2.52 ن / كم²
- كاليدونيا الجديدة = 7 ن / كم²
- نيوزيلندا = 14 ن / كم²
- فيجي = 48.33 ن / كم²

– لماذا كان نمو السكان بطيئاً في اوقيانيا ؟
– ما سبب تباين الكثافة بين استراليا ونيوزيلندا ؟
– اعتماداً على الوثيقة 2 بين تطور النمو السكاني في القارة.



2 - منحنى بياني لنمو سكان اوقيانيا

ج - العوامل المتكثمة في توزيع السكان:

يتحكم العامل التاريخي والعامل الطبيعي في توزيع سكان أوقيانيا التي ينتمي سكانها إلى مجموعات بشرية مختلفة، هي:

السكان القدماء: هم السكان الأصليون، منهم:

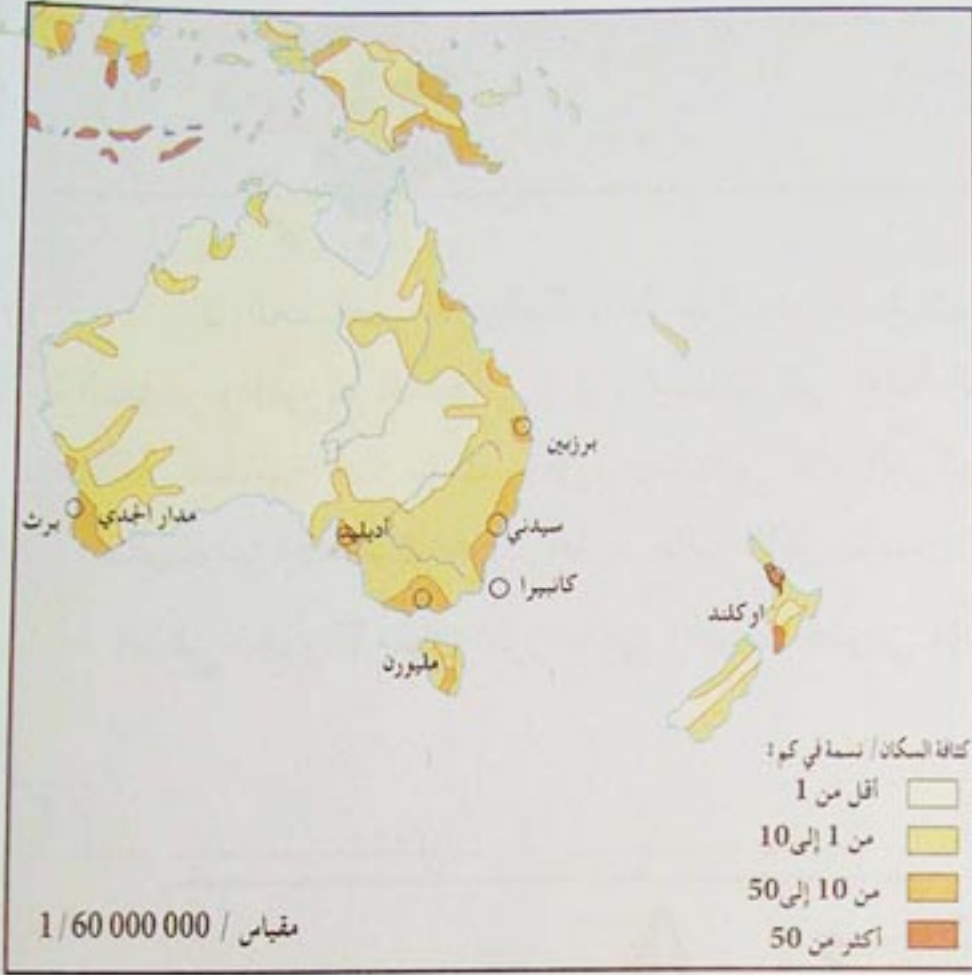
- 1 - الأستراليون الأصليون: يتوزعون في المناطق الداخلية من أستراليا.
- 2 - الميلانيزيون: يتركزون في الجزء الشرقي من ميلانيزيا.
- 3 - البولينيزيون: يتواجدون في مجموعة جزر بولينيزيا.

السكان الجدد: هم المهاجرون

الأوروبيون بعد اكتشاف قارة أوقيانيا.

يتوزعون في السواحل والمناطق السهلية من أستراليا ونيوزيلندا، وفي هاواي وفيجي وكاليدونيا الجديدة، وبصورة أقل في جزر أخرى...

ولإشارة أن الاستعمار الفرنسي قد قام بنفي عدد من الجزائريين إلى كاليدونيا الجديدة بعد ثورة المقراني 1871، إذ يشكلون اليوم جالية معتبرة.



3 - توزيع سكان أوقيانيا



4 - ساحل من سواحل أوقيانيا

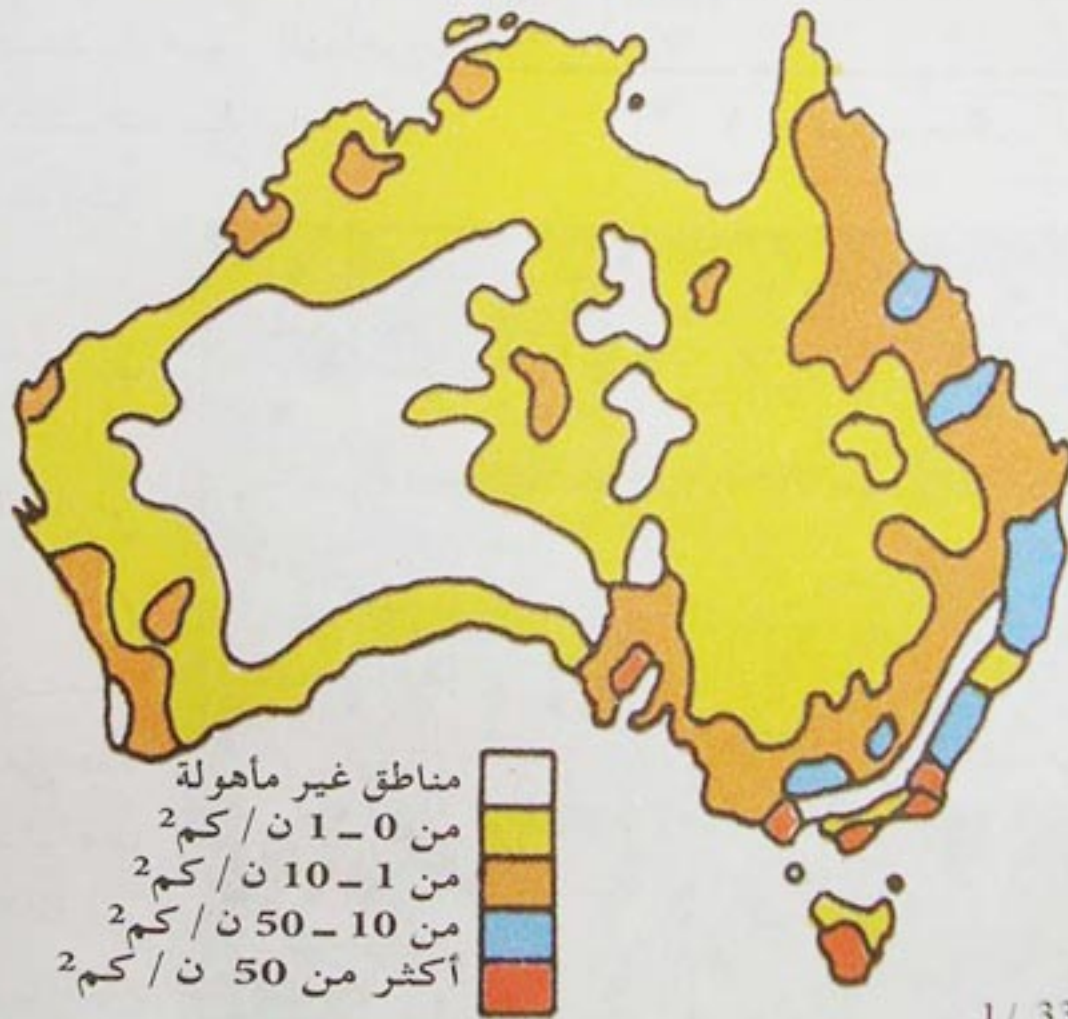
- ما القصد بالعامل التاريخي والعامل الطبيعي المتكثمين في توزيع سكان أوقيانيا؟
- أين يتركز السكان القدماء؟ وأين يتركز السكان الجدد؟
- قارن بين الوثيقتين (4.3)، بين مناطق تركيز السكان، ولماذا؟

...إن العناصر الأصلية (الاستراليون - الميلانيزيون - الميكرونيزيون) هي التي حدّدت التعمير (التوزيع السكاني) في أوقيانيا إلى غاية القرن 16. حيث بدأت رحلات الأوربيين الاستكشافية تجاه تلك الجزر. وبالتالي فإن التركيب البشري لاستراليا ونيوزيلندا وهاواي وكاليدونيا الجديدة، غلب عليه حاليا الأوربيون.

أما في الجزر الأخرى الموزعة في المحيط الجنوبي فإن العناصر الأصلية هي الأكثر....


جغرافية المائات بتصرف

1




2 - توزيع السكان في استراليا


- من خلال قراءتك للنص، ماذا تستخلص عن التعمير في أوقيانيا.
- ما دور السكان القدماء والسكان الجدد في تعمير أوقيانيا ؟
- اعتمادا على (الوثيقة 2)، بين توزيع السكان في استراليا.
- قارن بين شرق استراليا وغربها، وماذا تستنتج ؟



3 - مدينة ساحلية



5 - منطقة جبلية وغابية

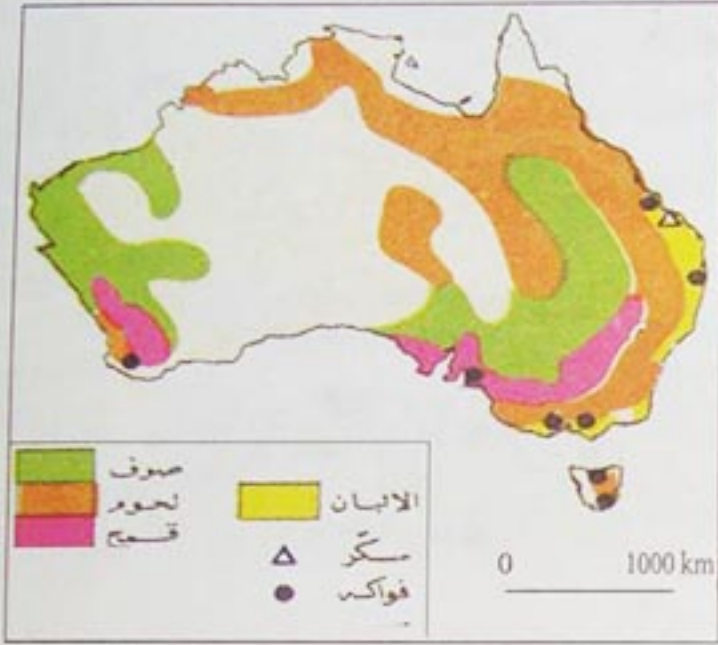


4 - منطقة شبه صحراوية

- من خلال ملاحظة (الوثائق 5.4.3)، استنتج العوامل المتحكمة في توزيع سكان اوقيانيا، وعلّل ذلك.

3 - التنمية الاقتصادية في أوقيانيا

تبرز التنمية الاقتصادية في أوقيانيا بصورة خاصة، في استراليا ونيوزيلندا. ما مظاهر هذه التنمية؟



1 - الزراعة في استراليا



2 - تربية أغنام



3 - الموارد المعدنية والطاقة في استراليا

أ - مظاهر التنمية في استراليا

المساحة : 7682557 كم² | السكان : 19357594 نسمة (2002)
الكثافة : 2,52 ن / كم² | العاصمة : كانبيرا
الزراعة : الحبوب 23 مليون طن (2002)، منها 13,8 مليون طن من القمح (المرتبة الثامنة عالميا).
- تربية المواشي : الأغنام 126 مليون رأس (2001)، وتشكل سلالة المارينوس المشهورة بإنتاج الصوف نحو 90%.
تحتل استراليا المرتبة الثانية عالميا، بنسبة 35% من الإنتاج العالمي.

الصناعة : استراليا غنية بالموارد المعدنية والطاقة، منها :

- البوكسيت : المرتبة 1 عالميا | - خام الحديد : المرتبة 2 عالميا
- الذهب : المرتبة 2 عالميا | - الفحم : المرتبة 4 عالميا
- النحاس : المرتبة 6 عالميا، بالإضافة إلى معادن أخرى .
التصنيع : الآلات الميكانيكية، صناعة المنسوجات الصوفية والقطنية، تعليب اللحوم والأجبان.

التجارة : الصادرات : المعادن والطاقة نحو 50%،
الواردات : الآلات - المنتجات الكيماوية.
القمح - الصوف - اللحوم - الجلود - الألبان.

المستوى المعيشي : نسبة سكان المدن : 85%، نسبة التعلم : 99%
أمد الحياة : 80 سنة، الدخل الاجمالي : 387 مليار دولار.

مفردات ومصطلحات

سلالة المارينوس : نوع الأغنام التي يغطي جسمها الصوف الرقيق الطويل.

- من خلال (الوثيقة 1) استنتج أنواع المزارع في استراليا، ثم حدّد المناطق الزراعية،
- لاحظ (الوثيقة 2) ما أهمية تربية الأغنام في استراليا ؟
- حدّد على الخريطة (3) المعادن المنتشرة في استراليا.
- اعتمدا على الدخل الاجمالي، علّل المستوى المعيشي للسكان في استراليا.

ب - مظاهر التنمية في نيوزيلندا



4 - تربية الأغنام في نيوزيلندا

المساحة : 270534 كم² | الكثافة : 14 ن / كم²
السكان : 3951307 ن (2002) | العاصمة : ويلنغتون

الزراعة :

- الأراضي الصالحة للزراعة : 9 %
- المراعي : 50 %
- الحبوب : (القمح - الذرة 340 ألف طن 2003)
- تربية المواشي : الأغنام المرتبة 4 في العالم
- إنتاج الصوف : المرتبة 3 في العالم

الصناعة :

- الموارد المعدنية : الحديد - الغاز الطبيعي 6.50 مليار م³ - الفحم 3.71 مليون طن 2001 - الذهب - الأخشاب 20.5 مليون م³ ، 40 % منها موجهة لصناعة الورق - الصناعة الغذائية - التعدين - الصناعة النسيجية - صناعة لب الخشب والورق.

التجارة :

- الصادرات : الحاصلات الزراعية (60 % من مجموع العائدات) ، المنتجات الحيوانية.
- الواردات : البترول ، مواد الاستهلاك.

المستوى المعيشي :

- نسبة سكان المدن : 86 %
- نسبة التعلم : 99 %
- أمد الحياة : 77,8 سنة
- الدخل الفردي : 14031 دولار (2001)

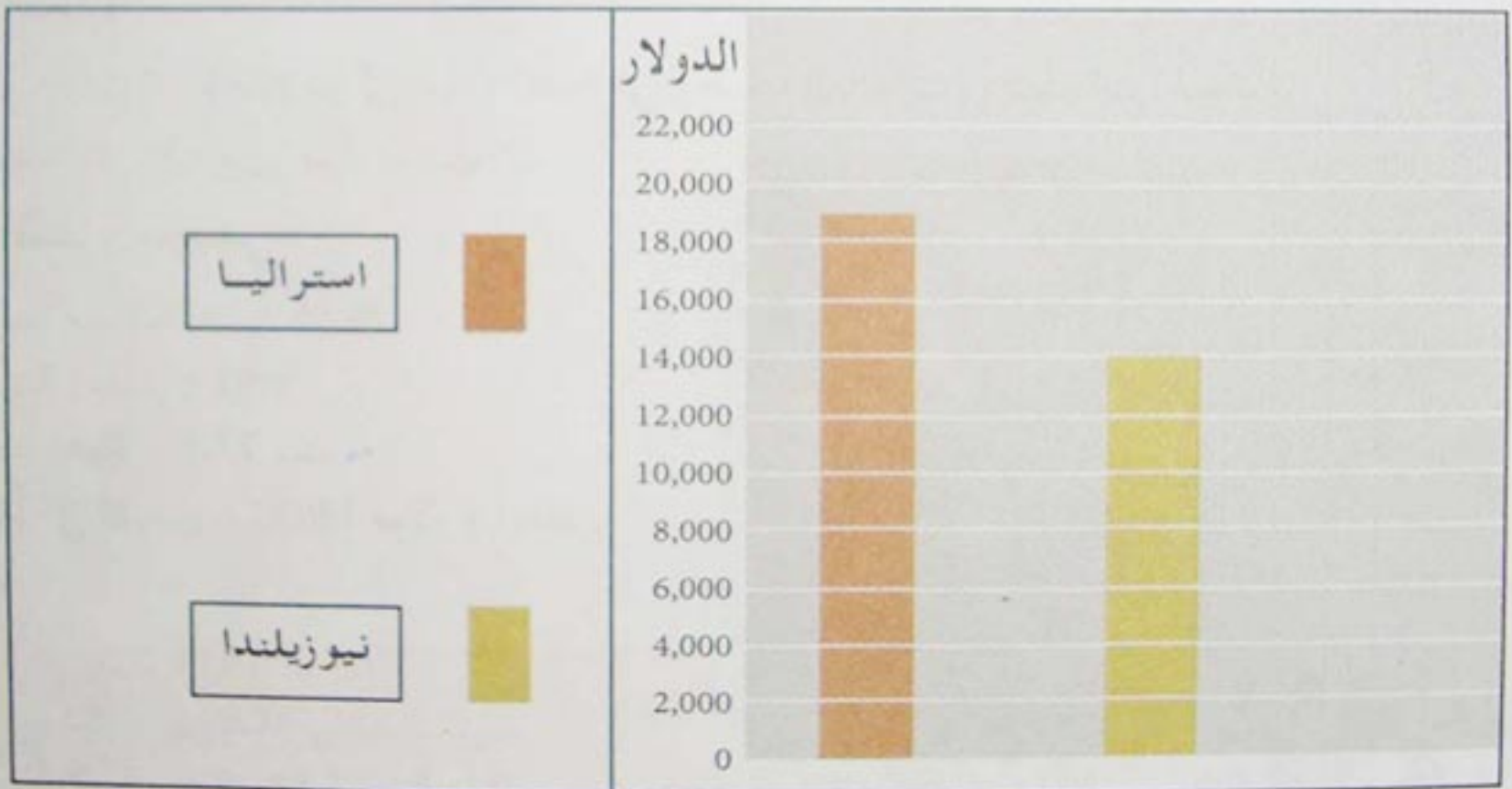


5 - الموارد الخشبية في نيوزيلندا

- فيم تشتهر نيوزيلندا في الميدان الزراعي ؟
- ما أهمية ذلك في تنمية اقتصادها ؟
- للأخشاب دور هام في تنمية اقتصاد نيوزيلندا، بين ذلك.
- اذكر أهم المنتجات الحيوانية المصدرة في نيوزيلندا.

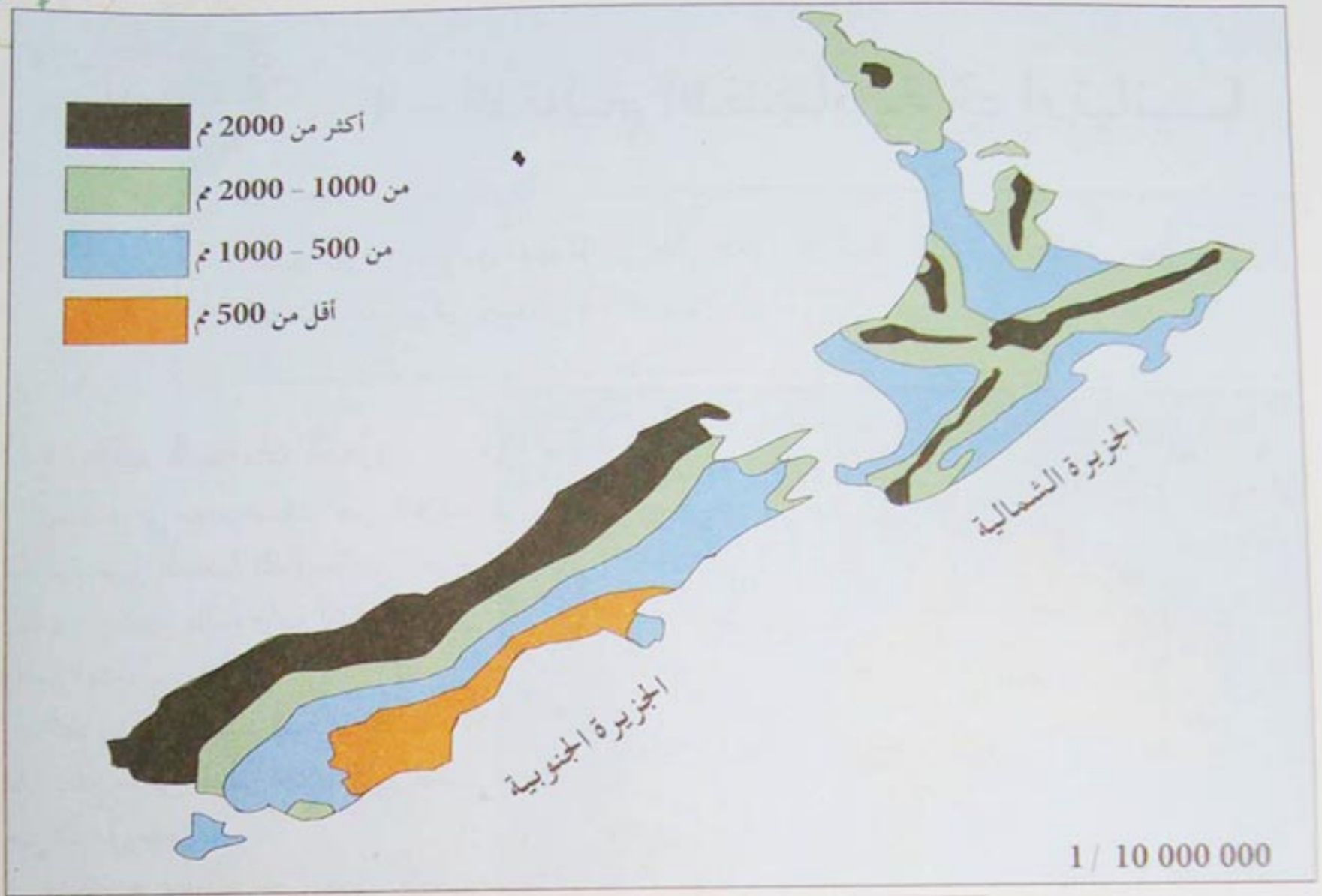
الرتبة	البلدان	عدد الرؤوس	
1	الصين	136 972 420	
2	استراليا	113 000 000	
3	الهند	58 200 000	
4	ايران	53 900 000	
5	السودان	47 043 000	
6	نيوزيلندا	43 987 000	
7	المملكة المتحدة	33 000 000	
8	جنوب افريقيا	29 090 000	
9	تركيا	26 398 000	
10	باكستان	24 398 000	

1 - الدول العشرة الأولى في العالم في تربية الأغنام (2002)



2 - الدخل الفردي بالدولار (2002)

- من خلال (الوثيقة 1) بين مكانة استراليا ونيوزيلندا العالمية في إنتاج الأغنام. وعلام تدل؟ وما أهمية ذلك في تنمية البلدين؟
- اعتمادا على (الوثيقة 1) احسب نسبة إنتاج الأغنام إلى عدد السكان لكل من استراليا ونيوزيلندا.
- من خلال (الوثيقة 2). قارن بين استراليا ونيوزيلندا من حيث الدخل الفردي. علام يدل؟



3 - خريطة توزيع الأمطار في نيوزيلندا (سنويا)

تهتم نيوزيلندا بتربية المواشي بأعداد كبيرة (غنم - بقر)، تجعلها مصدرة للحوم والصوف والجلود والحليب. كما أن الدخل الإجمالي القومي يعتمد على تصدير المنتجات الحيوانية. يتركز أكثر من 80% من تربية الماشية في المناطق الرطبة، حيث كمية الأمطار السنوية تزيد عن 120 مم. والجزيرة الشمالية تحتوي نحو 60% منها، والباقي يتوزع في الجزيرة الجنوبية. أما إنتاج المعادن فيقتصر على الفحم والغاز والذهب.

4

- اعتمادا على (الوثيقة 3) بين تدرج تساقط الأمطار في نيوزيلندا.
- قارن بين (الوثيقتين 4،3)، ماذا تستخلص ؟ علل ذلك.

4 - الأقاليم الاقتصادية في أوقيانيا

تتميز قارة أوقيانيا بموقعها المتميز على الكرة الأرضية، وكثرة جزرها. مما جعل أقاليمها الاقتصادية متباينة. فيم يتمثل هذا التباين؟



1 - الأقاليم الاقتصادية في أوقيانيا

أ - إقليم المنتوجات المدارية:

يتمثل في مجموعات الجزر الثلاثة المتناثرة عبر المنطقة المدارية في المحيط الهادي، يشتهر بالمنتجات المدارية كالموز وجوز الهند.....

كما يشتهر بالصيد البحري والسياحة؛ بما يتمتع به من المناظر الخلابة التي تبعث على النزهة والمتعة.

وتخضع معظم جزر هذا الإقليم لسيطرة الدول المتطورة (و.م.أ - بريطانيا - أستراليا - نيوزيلندا - فرنسا).


ب - إقليم نيوزيلندا:

يشتهر بالثروة الحيوانية والموارد الخشبية الخاصة لصناعة الورق. وقد تمكن من الانطلاقة الاقتصادية وتطوير التنمية، بفضل استخدام التكنولوجيات الحديثة في الزراعة وتربية المواشي.



2 - المروج والمراعي

- تشتهر جزر أوقيانيا بالمنتجات المدارية. اذكر بعض هذه المنتجات المدارية.
- اذكر بعض أسماء المدن الواردة في (الوثيقة 1) وأين تتركز؟ ولماذا؟
- بم يشتهر إقليم نيوزيلندا اقتصاديا؟
- علام تدل (الوثيقة 2) بالنسبة لإقليم نيوزيلندا؟



3 - وار ميموريال - كانبيرا (عاصمة أستراليا)

ج - إقليم شرق أستراليا

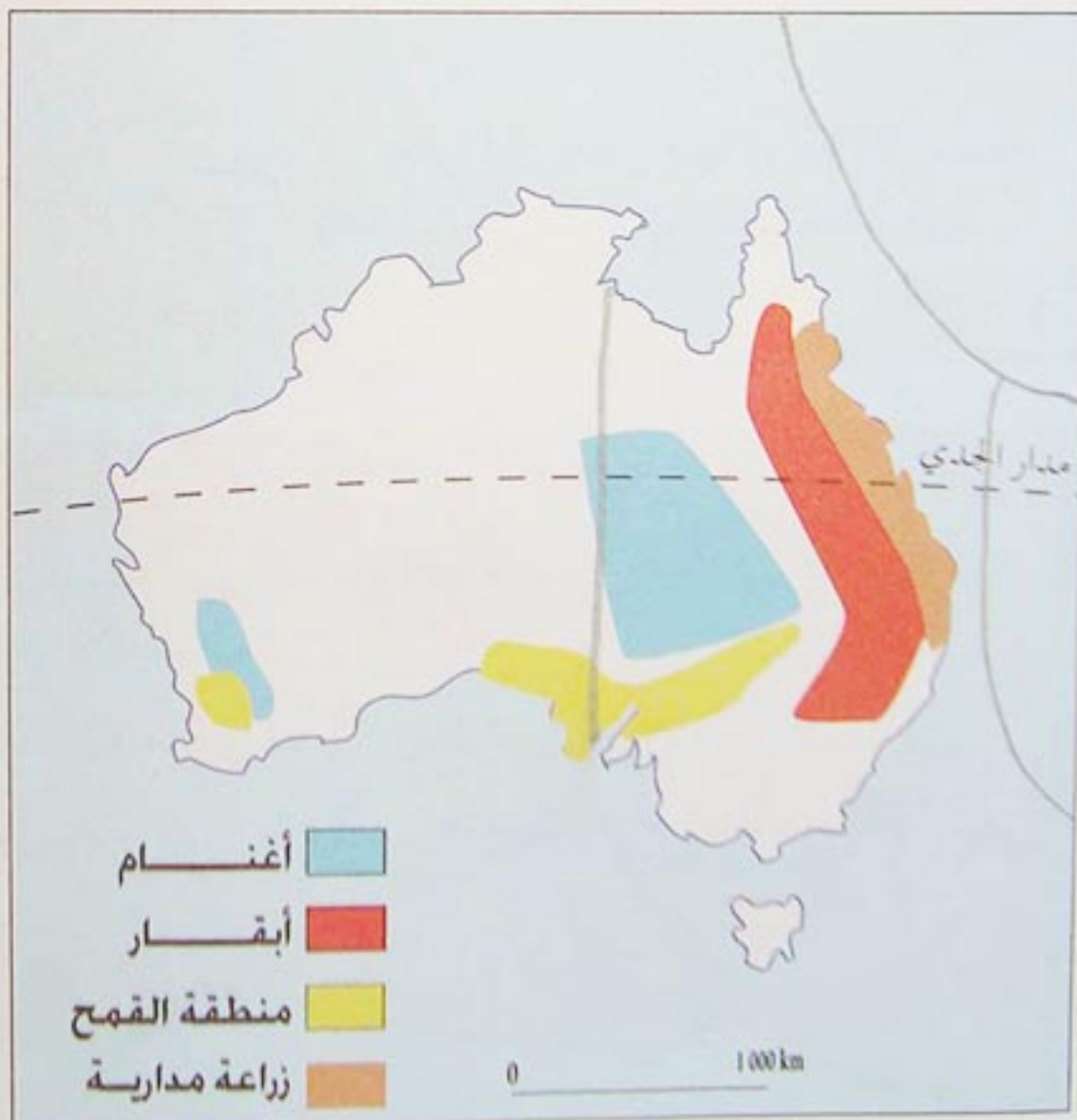
غني بالثروة الزراعية والمعدنية والحيوانية. وقد ساهم كثيرا في تطوير التنمية في أستراليا. كما أنه يعتبر منطقة تركز السكان والمدن الكبرى، بفضل التطور الصناعي من خدمات ووسائل النقل.

د - إقليم غرب أستراليا


يتمثل في الجهات الغربية للبلاد خاصة الساحلية منها، لأن الصحراء تغطي الجزء الداخلي من هذا الإقليم.

ويشتهر باستخراج معادن الذهب وتركز الصناعة في مدينة بيرث.

- اعتمادا على (الوثيقة 4) عيّن الموارد السائدة في إقليم شرق وغرب أستراليا.
- قارن بين إقليمي شرق وغرب أستراليا، ماذا تستخلص ؟
- أين تتركز المدن ؟ ولماذا ؟



4 - الموارد الزراعية في أستراليا



يعتمد اقتصاد معظم جزر
اوقيانيا على زراعة (جوز الهند -
الموز - البن - قصب السكر
- صيد اللؤلؤ - الأصداف
البحرية - الفانيلية). مثل
بولينيزيا الفرنسية.

1

2 - إنتاج الموز

بعض الجزر ليس فيها زراعة ولا صناعة،
وتعتمد على استخراج المعادن مثل ناورو.

4

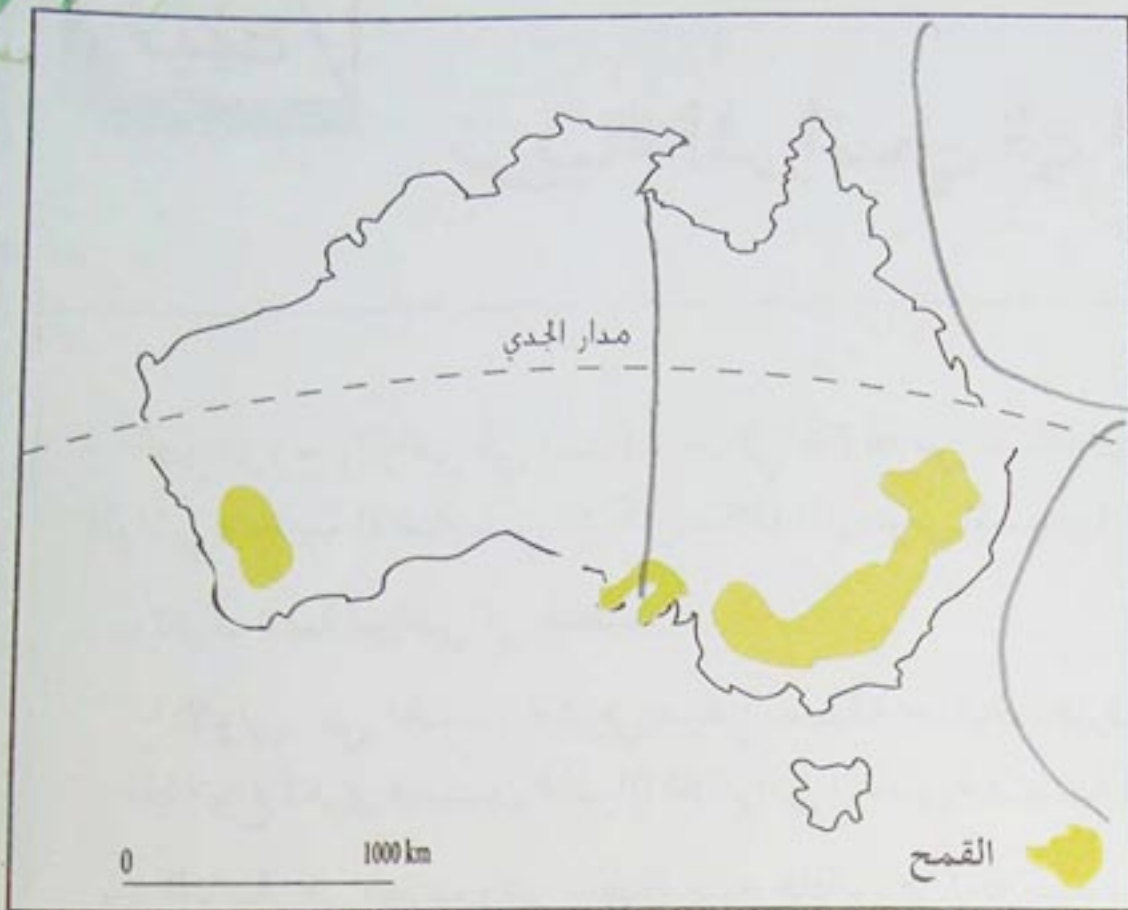
يعيش السكان في بعض الجزر مما يبيعونه
من الحلبي والفواكه إلى بحارة السفن التي
ترسو على شواطئها، مثل بتيكون.

3

- بعد قراءة (الوثيقة 1) وملاحظة (الوثيقة 2)، حدّد نوع المنتوجات الزراعية التي تعتمد عليها
بعض الجزر الاوقيانية، وبين أهميتها الاقتصادية.

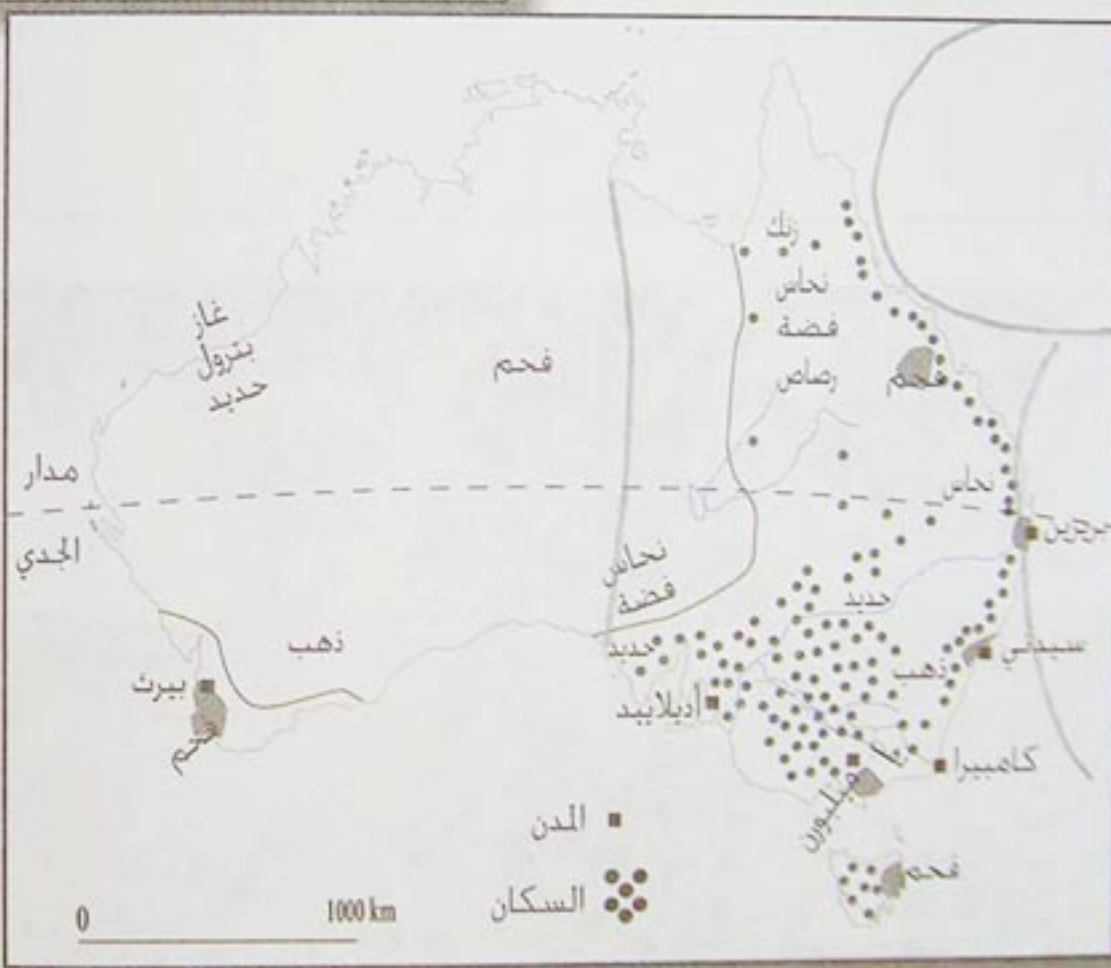
- اقرأ (الوثيقة 3)، حدّد نوع النشاط الاقتصادي الذي تمارسه بعض الجزر.

- بين النص (الوثيقة 4) أن بعض الجزر لا زراعة ولا صناعة فيها. علام يعتمد سكانها في
معيشتهم؟ وكيف؟



5 - مناطق زراعة القمح في استراليا

6 - مناطق استخراج المعادن وتركز السكان في استراليا




- فيم تشتهر استراليا في الميدان الزراعي ؟
 - اعتمادا على (الوثيقة 5)، بين مناطق إنتاج القمح.
 - تعتبر استراليا من أهم الدول المصدرة للقمح، لماذا ؟
 - اعتمادا على (الوثيقة 6)، قارن بين إقليم شرق استراليا، وإقليم غرب استراليا، ماذا تستخلص ؟
 - تتركز المدن الكبرى في إقليم الشرق، لماذا ؟
 - بم تشتهر استراليا في الموارد المعدنية ؟ في أي إقليم يتم استخراج (الذهب - القمح - الحديد) ؟
 وبين كمية الإنتاج لكل منها.

تربية المواشي في استراليا

تحتل المروج والمراعي في استراليا حوالي 54% من مساحتها، مما جعل السكان يعتنون بتربية المواشي، خاصة الأغنام التي تشكل سلالة المارينوس المشهورة بإنتاج الصوف حوالي 90% .
وتتركز تربية المواشي في منطقتين:

- الأولى: في الجنوب الشرقي، وهي منطقة جبلية مطيرة ذات أعشاب جيدة، يضاف إليها زراعة أنواع أخرى لتسمين الحيوان للأغراض التجارية المتمثلة في تصدير اللحوم.
- الثانية: في الغرب وهي منطقة شبه جافة، وهذا ما استدعى ضرورة حفر الآبار وإقامة خزانات كبيرة لحزن مياه الأمطار الفصلية.

1



2 - تربية الأغنام في استراليا



3 - جزّ الصوف في استراليا

- قارن بين المنطقتين الواردين في (الوثيقة 1). ماذا تستخلص ؟
- من خلال (الوثيقتين 2، 3)، استنتج أهمية تربية المواشي في التنمية الاقتصادية لآستراليا.
- عدد المنتجات التي تجنيها استراليا من تربية الأغنام.

التقويم



تمثيل سكان بعض بلدان اوقيانيا (2002)

- بعد إيجاد المساحة لكل من الدول الأربعة، قارن بين المساحة والسكان لكل منها، وماذا تستنتج؟

الرتبة	البلدان	الطن
1	استراليا	616 000
2	الصين	305 000
3	نيوزيلندا	246 000
4	ايران	75 000
5	الارجنتين	56 000
6	جنوب افريقيا	52 671
7	المملكة المتحدة	50 000
8	الهند	47 600
9	اورغواي	47 252
10	تركيا	46 600

الدول العشرة الأولى في إنتاج الصوف (2002)

- بعد قراءة جدول المراتب العشرة الأولى في إنتاج الصوف في العالم، بين مكانة استراليا ونيوزيلندا. ما أهمية ذلك في تنميتها؟

تبلغ مساحة أوقيانيا 8,5 مليون / كم²، وعدد سكانها 32 مليون نسمة.

كاليدونيا الجديدة	نيوزيلندا	استراليا	
19060 كم ²	270 534 كم ²	768 2557 كم ²	المساحة
152 000 نسمة	3 951 307 نسمة	19 357 594 نسمة	السكان

اعتمادا على الجدول أعلاه :

1 - أوجد نسبة المساحة ونسبة السكان لكل من الدول المذكورة، بالنسبة للقارة. ماذا تستنتج ؟

«..... إن استراليا هي أصغر القارات، وأقلها كثافة. ويتركز أغلب سكانها على طول الشريط الساحلي الشرقي والجنوبي، حيث تقوم مدنها الكبرى. مثل كانبيرا - سيدني - ميلبورن. يطلق على استراليا اسم القارة الجديدة جدا، لأنها كانت آخر القارات التي يكتشفها الأوروبيون.

ولقد كان أول مكشفي هذه الأرض، هو الملاح البريطاني جيمس كوك James Cook الذي تملكها في عام 1778 باسم إنجلترا.

وفي عام 1850 بدأت عملية الاستكشاف والاستعمار عندما اكتشفت مناجم الذهب الذي اجتذب إلى أستراليا عددا كبيرا من الرواد، الذين وضعوا أسس المدن والقرى، ونشروا فيها زراعة الغلال وتربية الماشية.

وانسحب أهالي استراليا الأصليون إلى أقصى المناطق الداخلية. وقد انخفض عددهم إلى بضعة آلاف.....»

موسوعة المعرفة
(بتصرف)

اقرأ النص :

- عنوانه.

- ماذا تستخلص منه ؟

للمطالعة



إن اسم بولينيزيا مشتق من اليونانية بولي Poly، بمعنى كثير. ونيزوس Nesos، بمعنى جزيرة. وقد أطلق على مجموعة من الجزر في جنوب المحيط الهادي، بين خطي طول 170° شرقاً، و 110° غرباً. هناك مئات ومئات من الجزر، بعضها كبير وبعضها صغير، حتى أنها لم توضع حتى على خريطة الأطلس. والكثير من الجزر، عبارة عن قمم براكين مغمورة تحت الماء، وهناك غيرها من الشعب المرجانية الدقيقة. وأشهر الجزر في بولينيزيا هي: هاواي Hawaii، وساموا Samoa، وتونغا Tonga. والمناخ فيها استوائي أو مداري، تلتفه الرياح المحملة بالرطوبة التي تهب من المحيط. أما النبات فيها فمزدهر.

موقع بولينيزيا الجغرافي

والبولينيزيون قوم طوال القامة، شعورهم داكنة موحجة، وعيونهم واسعة بنية. وهناك من يقول أن البولينيزيين قدموا من الهند عن طريق أندونيسيا.

والمسكن البولينيزي كوخ مستطيل الشكل عادة، وتدعم هذه الأكوخ أعمدة خشبية قوية، ويغطي العشب وسعف النخيل أسقفها، أما الجوانب فتصنع من الخصير.

موسوعة المعرفة

الوحدة التعليمية الثانية



قارة اوروبا

موقع عيون البضائر التعليمي

elbassair.net

elbassair.net

قارة اوربا

تعتبر اوربا مهد الثورة الصناعية. وهي تسعى حاليا بخطوات حثيثة إلى تحقيق الوحدة القارية الكاملة. كيف يتم ذلك ؟



العقد التعليمي

الوحدة التعليمية الثانية

في نهاية هذه الوحدة تكون قادرا على :

- التعرف على المميزات العامة للقارة، وتكتشف أثر الثورة الصناعية في تقدمها.
- تحديد مراكز التجمعات الكبرى للسكان في القارة وشرح خصائصها البشرية والديموغرافية (الشيخوخة).
- التعرف على مظاهر التنمية في القارة، واستخلاص عوامل التفاوت في تطور المجتمعات الاوربية.
- اكتشاف أسباب وأهمية الوحدة، ودور التكتل في عملية التطور والتنمية في اوربا.

- اوربا مهد الثورة الصناعية


- السكان في اوربا

- التنمية الاقتصادية في اوربا

- الوحدة الاوربية

- ملف :

الوحدة النقدية في اوربا



من مظاهر الثورة الصناعية في اوربا / القرن 18



صناعة الأجبان



غزو الفضاء


بطاقة التعريف بقارة اوروبا :

- المساحة : 10.5 مليون كم²
- عدد السكان : 727 مليون نسمة (2000)
- الكثافة السكانية : 117 نسمة / كم²
- أمد الحياة : 68 سنة
- نسبة وفيات الأطفال : ما بين 3.5 إلى 15 بالالف

- ما موقع قارة اوربا بالنسبة للعالم ؟
- ما هي دلالات معطيات بطاقة التعريف لقارة اوربا ؟
- بم تتميز قارة اوربا ؟

1 - اوربا مهد الثورة الصناعية

شهدت اوربا بسبب الثورة الصناعية تحولات كثيرة في جميع الميادين. فيم تتمثل هذه التحولات ؟



1 - قاطرة ستيفنسون

أ - مفهوم الثورة الصناعية

هي سلسلة من التطورات والتغيرات التي حدثت في اوربا، تحولت على إثرها وسائل الإنتاج الصناعي من وسائل يدوية بسيطة إلى أجهزة وآلات صناعية ضخمة شملت مختلف الميادين.

انطلقت الثورة الصناعية من بريطانيا بداية من منتصف القرن الثامن عشر، وانتشرت إلى بقية اوربا وأمريكا الشمالية.

- الحاجة أم الاختراع :

اخترع نيوكمن مضخة كابسة، واخترع جيمس آت واط مماثلة أدخل عليها تحويلات تتمثل في الطاقة البخارية، وكان لذلك الأثر البالغ على قوة الإنتاج وارتفاع المردود، وتغير نمط الحياة الاقتصادية والاجتماعية باوربا .

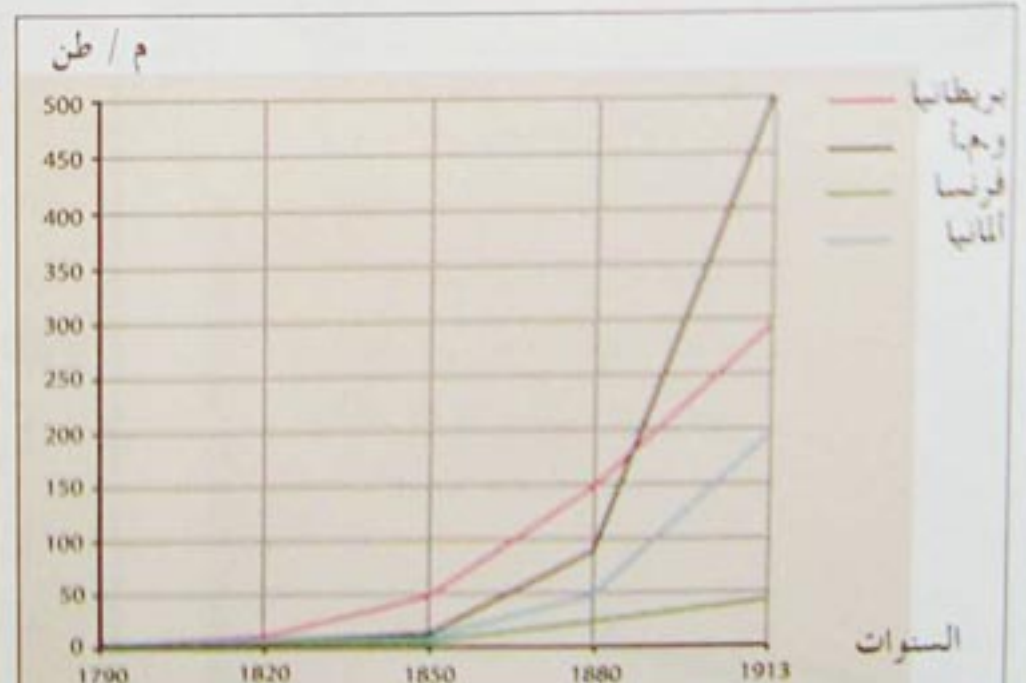
- الحاجة إلى المواد الأولية :

بالإضافة إلى ضرورة توفير رؤوس الأموال، ازدادت حاجة المصانع الأوربية إلى المواد الأولية، اشتد البحث عنها خارج اوربا في كل من آسيا وأفريقيا وأمريكا (وهو ما يسمى بالحركة الاستعمارية).



2 - عصر المحركات

- ما القصد بوسائل الإنتاج والمواد الأولية ؟
- ماهي الفترة التي شهدت ارتفاعا في إنتاج الفحم كطاقة ؟ لماذا ؟
- لماذا تعتبر اوربا مهد الثورة الصناعية ؟
- اذكر أهم سبب للحركة الاستعمارية الأوربية .
- قارن بين (الوثيقتين 1 و 2)، ماذا تستنتج ؟



3 - تزايد إنتاج الفحم (الطاقة)

ب - أثر الثورة الصناعية على أوروبا :



3 - تدشين قناة السويس بمصر 1869 (الحاجة إلى الطرق البحرية والمواد الأولية)

كان لتقدم أوروبا صناعيا بفضل الاختراعات المتنوعة أثر كبير في تطور مختلف القطاعات الاقتصادية. من زراعة وتجارة وخدمات، وانعكس ذلك كله إيجابا على الحياة الاجتماعية والثقافية، حيث تحسن المستوى المعيشي بفضل تطور وسائل النقل وارتفاع الانتاج الغذائي، بالإضافة إلى انتشار التعليم والثقافة.

ج - الحاجة إلى الأسواق :



4 - القطار السريع

إن تطور وسائل النقل بفضل استخدام الطاقة المحركة ساهم إلى حد بعيد في البحث عن الأسواق لتصريف فائض الإنتاج الصناعي، وجلب المواد الأولية، والتحكم في الطرق البحرية، وحمايتها بإقامة قواعد عسكرية في كثير من مناطق العالم.

مفردات ومصطلحات

الثورة : تغيير جذري في الأوضاع القائمة.

فائض الإنتاج : الإنتاج الزائد عن الاستهلاك.

- اذكر مجالات تغير الحياة الاقتصادية والاجتماعية في أوروبا.
- لماذا تم حفر قناة السويس ؟
- ما علاقتها بالثورة الصناعية ؟
- اذكر طريقا بحريا تعرفه.
- اشرح عبارة « المستعمرات أسواق ».

عرف المجتمع الاوربي بعد الثورة الصناعية تحولا كبيرا، تمثل في سيطرة الطبقة البورجوازية على الاقتصاد وعلى الحياة السياسية، وانتقال الفلاحين من الريف نحو المدن، حيث أصبحوا عمالا يتقاضون أجورا منخفضة مقابل ساعات عمل كثيرة. ويتعرضون لعدد من المخاطر، مما أدى بهم إلى القيام بالاحتجاجات والإضرابات، سرعان ما تحولت إلى تنظيمات نقابية عمالية، تدافع على حقوق ومصالح الطبقة العاملة.

1



8,40

- آلة نيوكومن

2,90

- آلة واط

1,50

- آلة تريبيتيك


2 - استهلاك الفحم (كغ / سا)

3 - السيارة (التحول من طاقة الفحم إلى طاقة البنزين)

- ابحث في (الوثيقة 1) على طبيعة التحول الحاصل في المجتمع الاوربي.

- علام يدل تناقص استهلاك الفحم في (الوثيقة 2) ؟

- تمثل (الوثيقة 3) تطورا صناعيا، ما هو؟ وعلام يدل ؟



5 - أول قاطرة بخارية وضعت على السكة الحديدية كانت في سنة 1803

- اخترع (جون كاي) آلة للنسيج
واخترع محلج القطن عام 1793.
- أدخل (جيمس واط) القوة
البخارية على المضخة الكابسة التي
اخترعها (نيو كومن).
- اخترع (جورج ستيفنسن)
القاطرة البخارية في 1829.
- اخترع (جراهام بل) الهاتف 1876.
- اخترع (ماركوني) الراديو اللاسلكي.
- اخترع العالم الألماني (ديازال) محرك
الديازال.

4

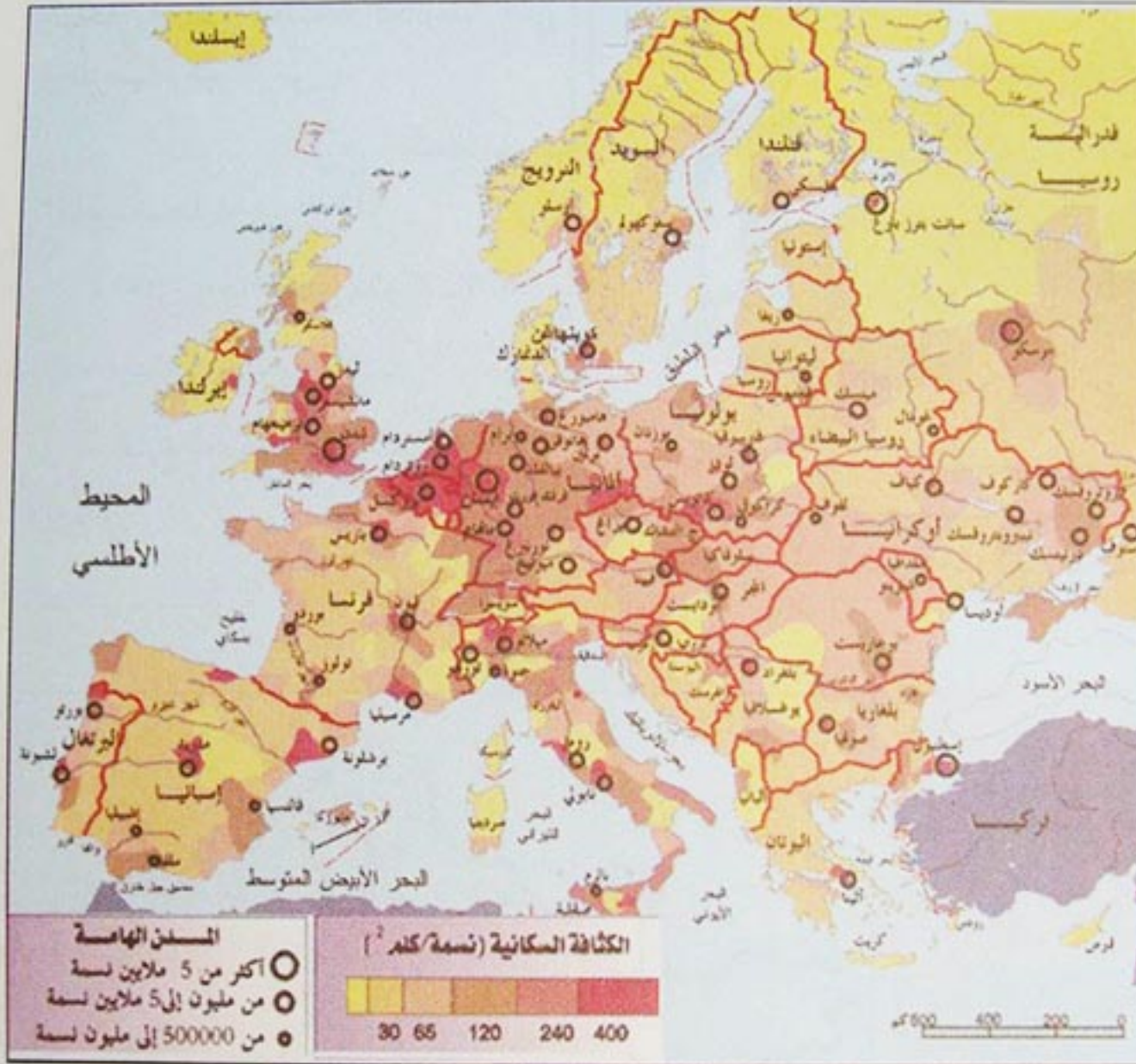
- ما هي المجالات التي شملتها
الاختراعات الواردة في (الوثيقة 4)؟
- من خلال (الوثيقتين 5،4) بين
بعض مظاهر التحول الاقتصادي
والاجتماعي في اوربا.
- من خلال (الوثيقة 6) تلاحظ
أن إقامة شبكة السكك الحديدية
في فرنسا انطلقا من مدينة
باريس. وخلال فترة زمنية قصيرة
أصبحت تغطي سطح فرنسا
كله. لماذا؟



6 - تطوّر السكة الحديدية في فرنسا

2 - السكان في اوربا

تعاني قارة اوربا من مشكل ديموغرافي عويص يتمثل في شيخوخة المجتمع. لماذا؟ وماذا ينجم عن هذه الظاهرة؟



أ - سكان اوربا.

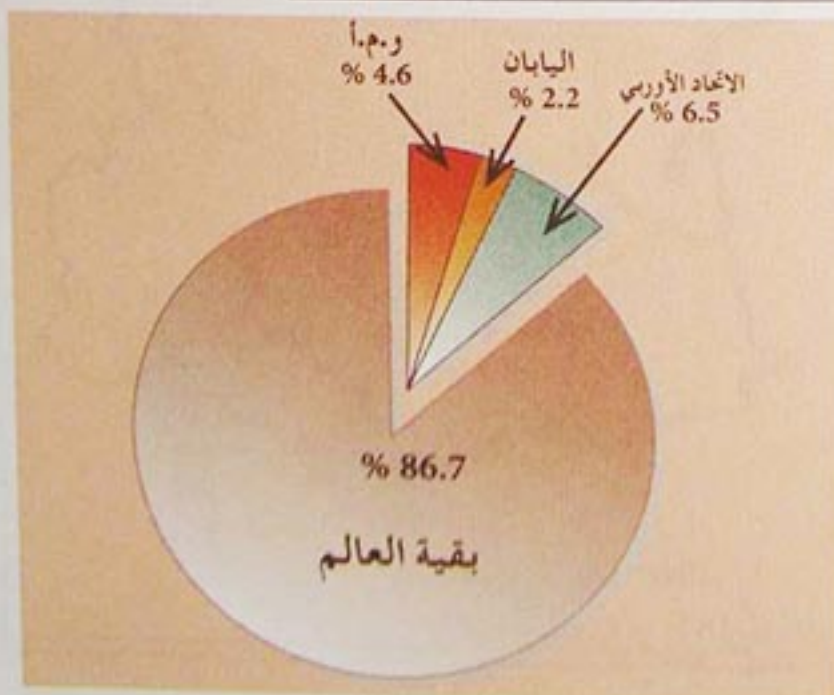
تمتد اوربا من المحيط الأطلسي غربا إلى جبال الأورال شرقا. ويبلغ عدد سكانها سنة (2000) 727 مليون نسمة. وهم مزيج من الأعراق، يجمع بينهم عنصر الدين كهوية.

ب - مناطق التركيز السكاني في اوربا.

تعتبر اوربا ثاني مركز هام لتركز السكان في العالم.

- وترتفع الكثافة السكانية في وسط اوربا لأسباب منها:
- كون المنطقة غنية بالمواد الأولية وظهور الطاقة الفحمية فيها، وانتشار الثورة الصناعية.
- أهمية الموقع الجغرافي - ملاءمة المناخ. - وجود مدن صناعية كبرى بالمنطقة جلبت إليها السكان.

1 - توزيع السكان في اوربا



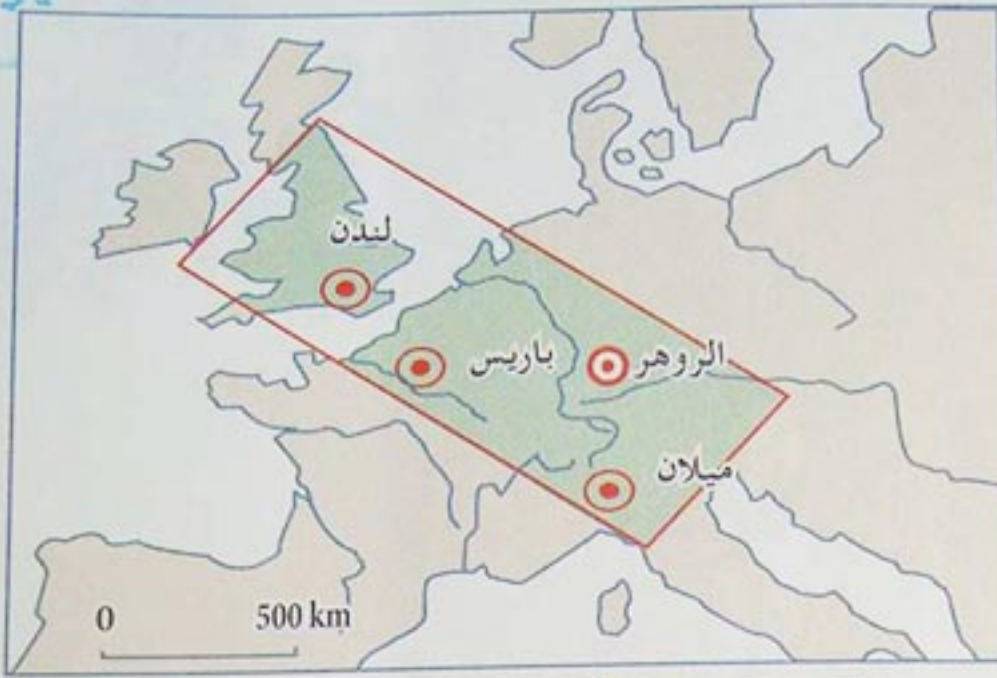
- اعتمادا على (الوثيقة 1) ماذا يمثل سكان اوربا بالنسبة للعالم؟

- ما الذي يجمع بين الشعوب الاوربية كهوية؟

- ما هو أهم عامل لتركز السكان في وسط اوربا؟

2 - سكان الاتحاد الاوربي بالنسبة للعالم

ج - السكان في المدن



3 - مجمعات المدن في أوروبا

من إنجلترا إلى إيطاليا الشمالية، يمتد مجمع مدن أوروبا على طول 1000 كلم، وفيه أهم المراكز الاقتصادية الكبرى في القارة، والمدن المليونية.



4 - لندن ضواحي التايمز (من أهم المراكز الحضرية في أوروبا)

إن الكثافة السكانية العامة في أوروبا (117 ن/كم²) لا تعبر عن الواقع، بل هناك تباين إقليمي يعود إلى عدة عوامل: تاريخية، جغرافية، واقتصادية. لذا نجد منطقتين مختلفتين من حيث تركيز السكان: 1 - منطقة كثيرة السكان تتوزع على محورين:

أ - محور بريطانيا - شمال إيطاليا، حيث يوجد مجمع مدن أوروبا بكثافة سكانية تتراوح بين 300 و500 ن/كم²، مثل: بلجيكا - هولندا - الروهر.

ب - محور الروهر (شمال شرق ألمانيا - بولونيا) وهو أقل كثافة، فيه مجموعة مدن متباعدة في ما بينها.

2 - منطقة ضعيفة السكان مثل: (النرويج - أيسلندا - أيرلندا - أجزاء كبرى من فرنسا وإسبانيا).

وقد شهدت أوروبا تزايد سكان المدن وتوسعها حتى أصبحت تكوّن مجمعات مدن، مثل باريس ولندن، بسبب التطور الصناعي وانتشار وسائل النقل وتحسن الخدمات والنزوح الريفي. وتشهد حالياً المدن الكبرى في أوروبا نزوحاً معاكساً نحو الضواحي، مما جعل المدن تتوسع أفقياً.

مفردات ومصطلحات

الخدمات: نشاط يتمثل في النقل، التجارة، الصحة والتعليم (خارج الصناعة والزراعة).

- استعن بالأطلس لتحديد 10 مدن على محور لندن ميلان.
- عدد أسباب تركيز السكان في هذه المنطقة.



2 - عائلة اوروبية

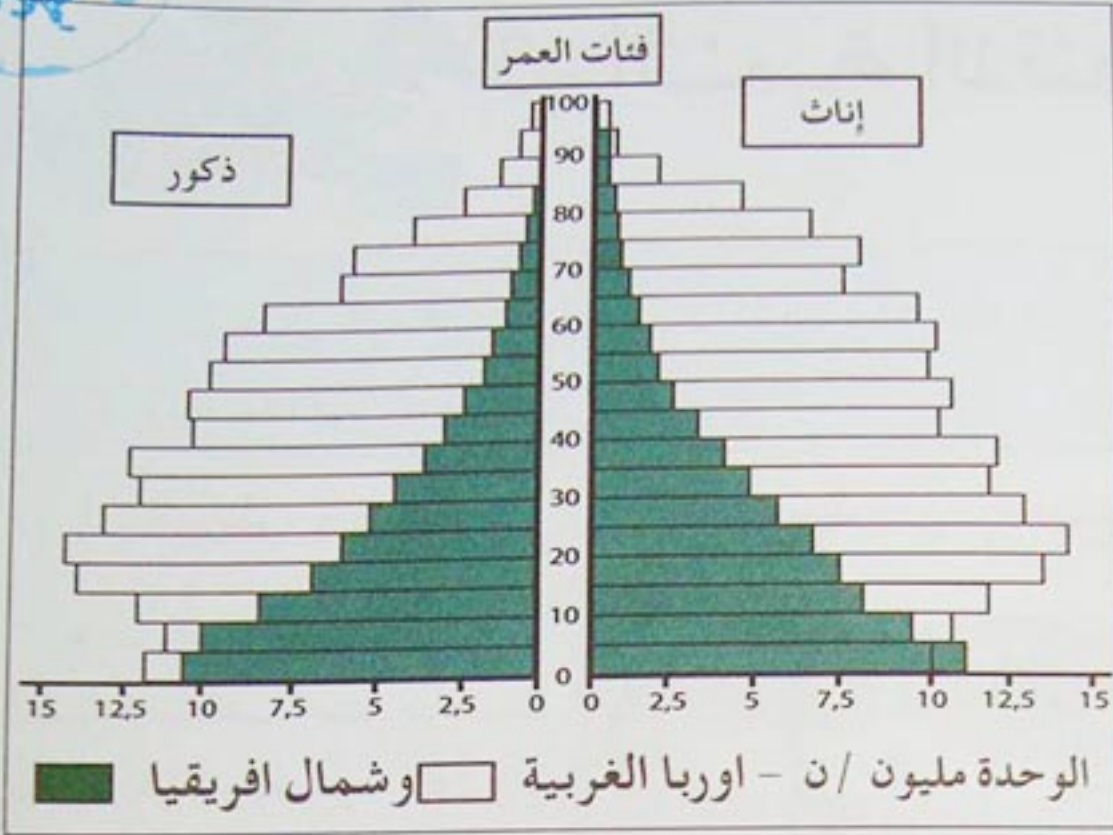


3 - إشهار لتشجيع الإنجاب في فرنسا

عرفت اوريا في القرن 19 نموا سكانيا سريعا بسبب تقدم الطب وتحسن الأحوال المعيشية. سرعان ما تغير الأمر، وأصبح نمو السكان فيها بطيئا. نتيجة للهجرة نحو القارة الأمريكية وانخفاض نسبة الزيادة الطبيعية، والخسائر البشرية خلال الحربين العالميتين، وتنظيم النسل. مما أدى إلى ارتفاع نسبة الشيخوخة التي أصبحت تشكل ثقلا على حياة الاقتصاد والاجتماعية في اوريا، انجر عنها نقص سكاني، تم تعويضه بالمهاجرين الوافدين إلى اوريا من البلدان الفقيرة، بحثا عن العمل.

1

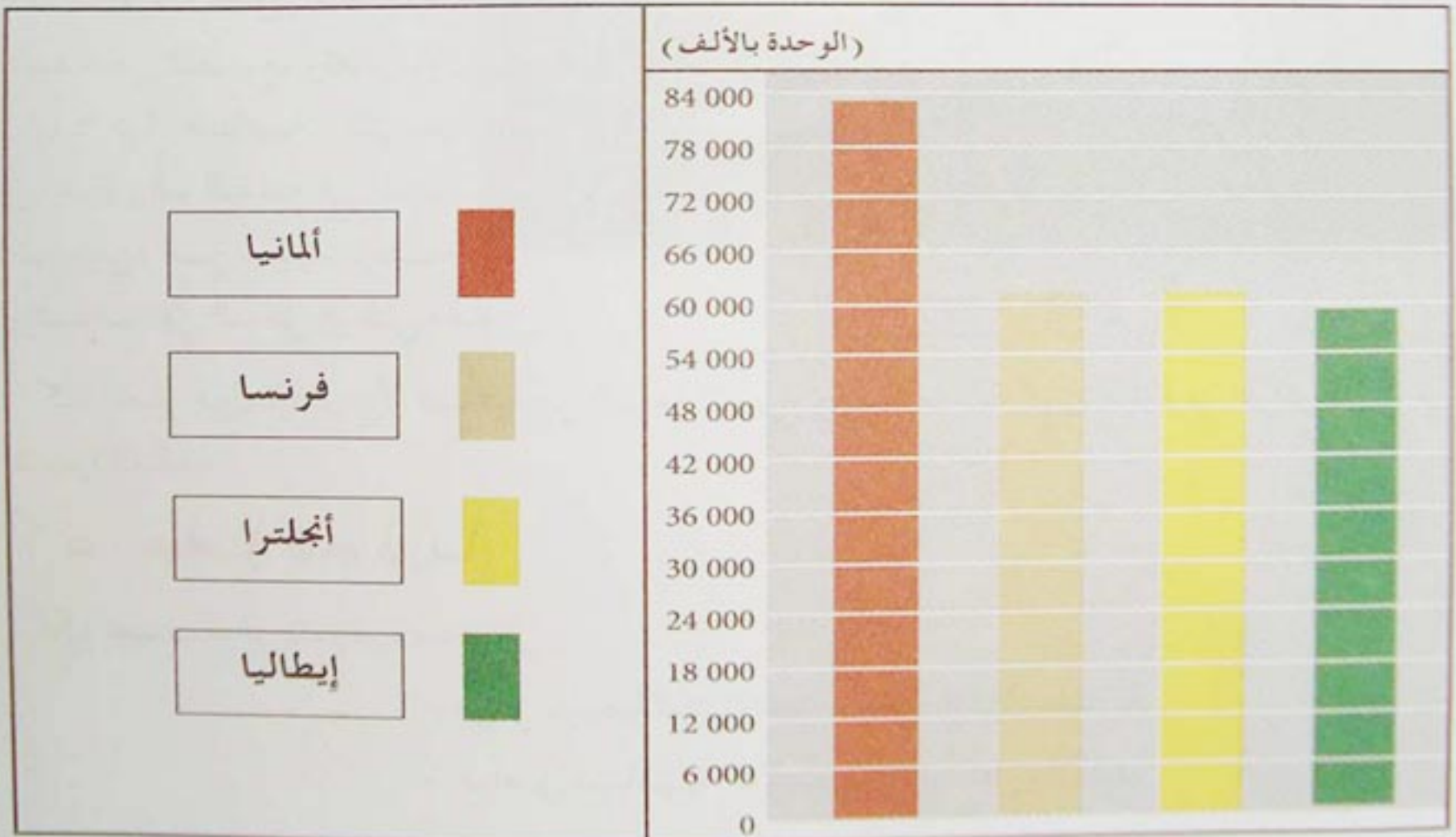
- قارن بين (الوثيقتين 3.2)، ماذا تستخلص ؟
- اعتمادا على (الوثيقتين 3.1)، عدد أسباب تناقص الزيادة الطبيعية، وارتفاع نسبة الشيخوخة في اوريا.



في حدود سنة 2008، سوف تمثل دول الشمال بما فيها أمريكا واوربا 15% من سكان العالم، بعد أن كانت تمثل 25% سنة 1988، و50% سنة 1914. وفي نفس الوقت أي في حدود 2025 سيزداد سكان المغرب العربي ليصل إلى أكثر من 100 مليون نسمة. في حين يتضاعف عدد سكان افريقيا ثلاث مرات.

4

5 - هرم أعمار السكان في كل من اوربا الغربية وشمال افريقيا



6 - تمثيل سكان بعض الدول الاوربية (2003)

- قارن بين هرمي أعمار السكان في كل من اوربا الغربية وشمال افريقيا حسب (الوثيقة 5). واطرح التباين بينهما ؟
- ماذا تستخلص من (الوثيقة 6) ؟
- ماذا يترتب عن شيخوخة السكان في المجتمع الاوربي ؟

3- التنمية الاقتصادية في اوربا



رغم تطور قارة اوربا في مختلف الميادين إلا أنها يسودها تفاوت في تطور المجتمعات الاوربية. لماذا هذا التفاوت ؟



1 - إقامة مصانع

أ- الصناعة في اوربا

عرفت اوربا الشمالية والغربية تطورا صناعيا منذ منتصف القرن 18، ويعود ذلك إلى الثورة الصناعية القائمة. حيث يتوفر الفحم، في حين بقيت أوربا الجنوبية والشرقية بعيدة عن التصنيع. وتعتبر دول اوربا دولا صناعية أكثر منها زراعية، رغم التقدم في المجال الزراعي، من حيث الإنتاج والمساهمة في الدخل الوطني الخام.

كما تعتبر دول اوربا دولا صناعية من الدرجة الأولى، وقوة اقتصادية كبيرة مرتبة في المراكز الأولى في التجارة العالمية.

ب- عوامل تقدم اوربا

يمكن تصنيف عوامل تقدم اوربا صناعيا إلى :

- عوامل تاريخية كالثورة الصناعية والحركة الاستعمارية.
- عوامل سياسية كالأستقرار والتكتل والاتحاد.

- ما هو التفاوت الموجود في اوربا في مجال التنمية ؟ إلام يعود ذلك ؟
- اذكر عوامل أخرى أدت إلى التطور الاقتصادي في اوربا.

ج - الزراعة في أوروبا



تربية الماشية في أوروبا

تتنوع المساحات الزراعية في أوروبا تبعا للعوامل الطبيعية (السطح - المناخ - نوعية التربة)، مع الاختلاف بين المناطق الجبلية والمناطق السهلية.

تسود في السهول الكبرى الشمالية زراعة القمح، وفي المناطق الجنوبية زراعات البحر الأبيض المتوسط.

أما المناطق الداخلية فيغلب عليها تربية المواشي، وزراعات أخرى متنوعة.

تمثل اليد العاملة الزراعية أقل من 10% من الفئة المنتجة، مع اختلاف من دولة إلى أخرى (بريطانيا 2,8% - اليونان 30%).

د - السياحة في أوروبا



4 - شاطئ قرب البندقية إحدى المراكز الكبرى السياحية في إيطاليا

تعرف منطقة البحر الأبيض المتوسط وجبال الألب تطورا كبيرا في ميدان السياحة، بسبب مناخها وطبيعتها الخلابة، مما أعطى المنطقة مظهرا مميزا يتمثل في التنوع السياحي الكبير ومتطلباته.

- عدد أسباب التنوع الزراعي في أوروبا ؟

- فيم يتمثل النشاط الاقتصادي السائد في منطقة البحر الأبيض المتوسط ؟ لماذا ؟

- اذكر بعض المنتجات الزراعية في المنطقة التي يسود فيها مناخ البحر الأبيض المتوسط.



1 - ميناء روتردام

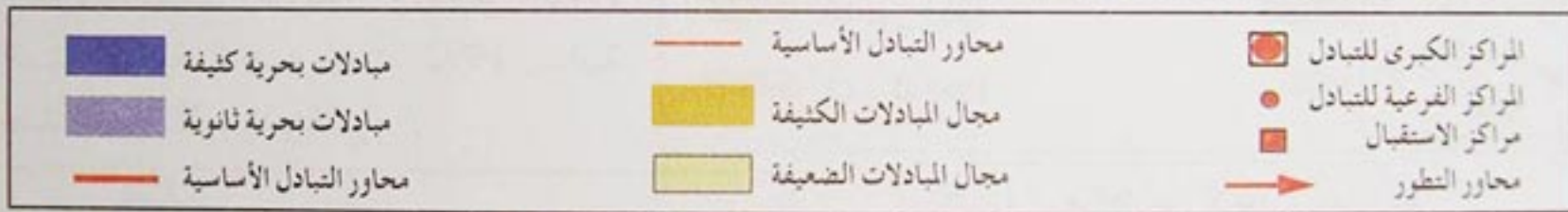
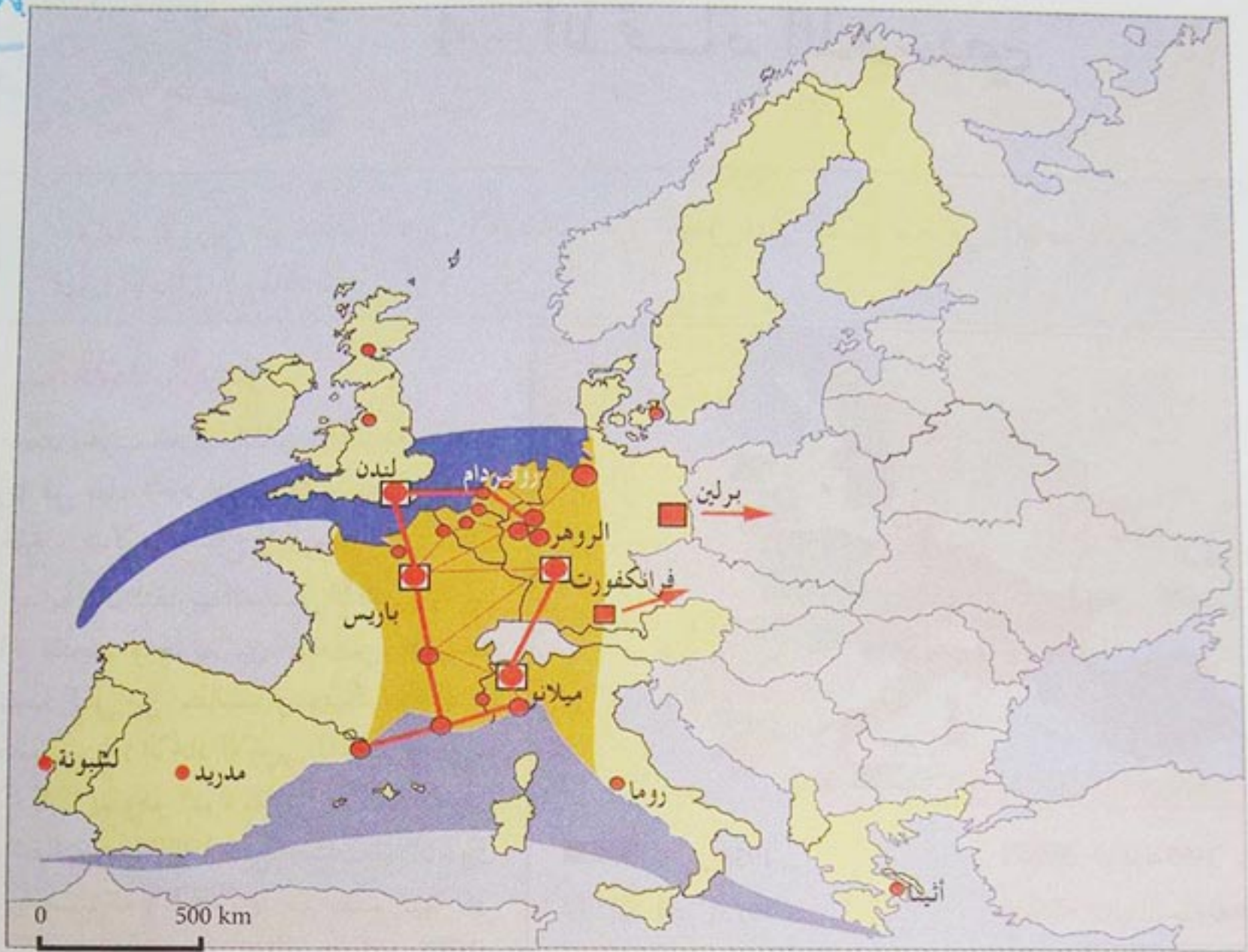
الدولة	المساحة (كم ²)	عدد السكان (نسمة)	الدخل الفردي السنوي
ألمانيا	356 980	82 600 000	22 670 دولار
بلجيكا	31 000	10 400 000	23 250 دولار
إسبانيا	207 000	41 300 000	14 430 دولار
فرنسا	551 500	59 200 000	22 010 دولار
اليونان	132 000	11 000 000	11 660 دولار
المملكة المتحدة	245 000	60 000 000	25 250 دولار
النرويج	324 000	4 600 000	37 850 دولار
بولونيا	324 000	38 600 000	4 570 دولار
رومانيا	239 000	21 600 000	1 850 دولار

2 - الدخل الفردي لبعض الدول الاوربية (2003)

- انطلاقا من (الوثيقتين 3.1)، اشرح أهمية شبكة المواصلات في اوروبا.
- من خلال (الوثيقة 2)، قارن بين الدول الواردة في الجدول من حيث الدخل الفردي وعدد السكان.

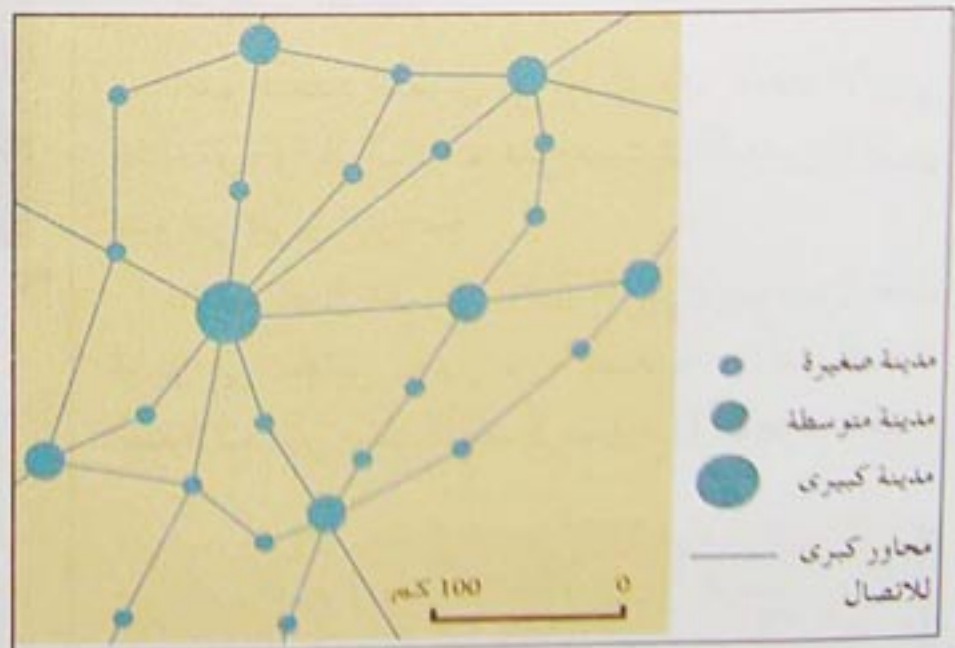


3 - الطرق البرية في مدينة لاهاي



4 - المبادلات التجارية الكبرى في اوربا

- اشرح الشكل الذي يمثل الشبكة الحضرية في (الوثيقة 5).
- اذكر أهم منطقة للتبادل التجاري في اوربا.



5 - شبكة حضرية

4 - الاتحاد الاوربي



الاتحاد الاوربي هو تكتل الدول الاوربية، وهي تعمل على تحقيق التكامل الاقتصادي. كيف تم ذلك؟ ولماذا؟



15 دولة 1995	6 دول 1958
ألمانيا الموحدة 1990	9 دول 1973
دول دخلت حديثا إلى الاتحاد الأوربي 2004	10 دول 1981
	12 دولة 1986

1 - مراحل بناء الاتحاد الاوربي

بناء الاتحاد الاوربي

بعد الحرب العالمية الثانية، فكر بعض قادة اوربا في بناء اتحاد اوربي قائم على التفاهم والحوار، بدلا من النزاع والحرب.

بداية كان التقارب الفرنسي الألماني بتوحيد إنتاج الفحم والحديد بين البلدين، انضمت إليهما كل من ايطاليا وبلجيكا وهولندا ولكسمبورغ (الاتحاد الاوربي للفحم والحديد C.E.C.A)، وهو التواة الاولى للاتحاد الاوربي عبر اتفاقية روما 1957 التي أسست لميلاد سوق اوربية مشتركة (C.E.E). ثم انضم إليها كل من اليونان 1981 والبرتغال واسبانيا 1986، وكانت اتفاقية مااستريخت 1992 بداية لتوحيد العملة الاوربية (الاورو).

التعدد اللغوي

رغم التعدد اللغوي في اوربا، فإن الاتحاد الاوربي قد تحقق، وكان التفاهم على مستوى المجلس الاوربي يتم عن طريق الترجمة.

باتساع المجال الجغرافي للاتحاد الاوربي، يتم دخول لغات أخرى إلى المجلس (البولونية - الهنغارية - التشيكية - السلوفاكية) إلى جانب اللغات الرسمية الـ 11 الموجودة حاليا.



2 - علم وعملة الاتحاد الاوربي

- كم تطلب بناء الاتحاد الاوربي من الوقت؟
- ما هو أساس بناء الاتحاد الاوربي؟
- ما القصد بالتعدد اللغوي؟

الاتحاد قوة

يسعى الاتحاد الاوربي إلى بناء اقتصاد قوي، له مكانة في العالم بأسلوب سلمي وديمقراطي. وعليه يجب أن يتجاوز عقبات منها :

- النقص في موارد الطاقة والمعادن.
- شيخوخة السكان.
- قوة الاستهلاك.
- المنافسة العالمية.
- التعدد اللغوي والثقافي.

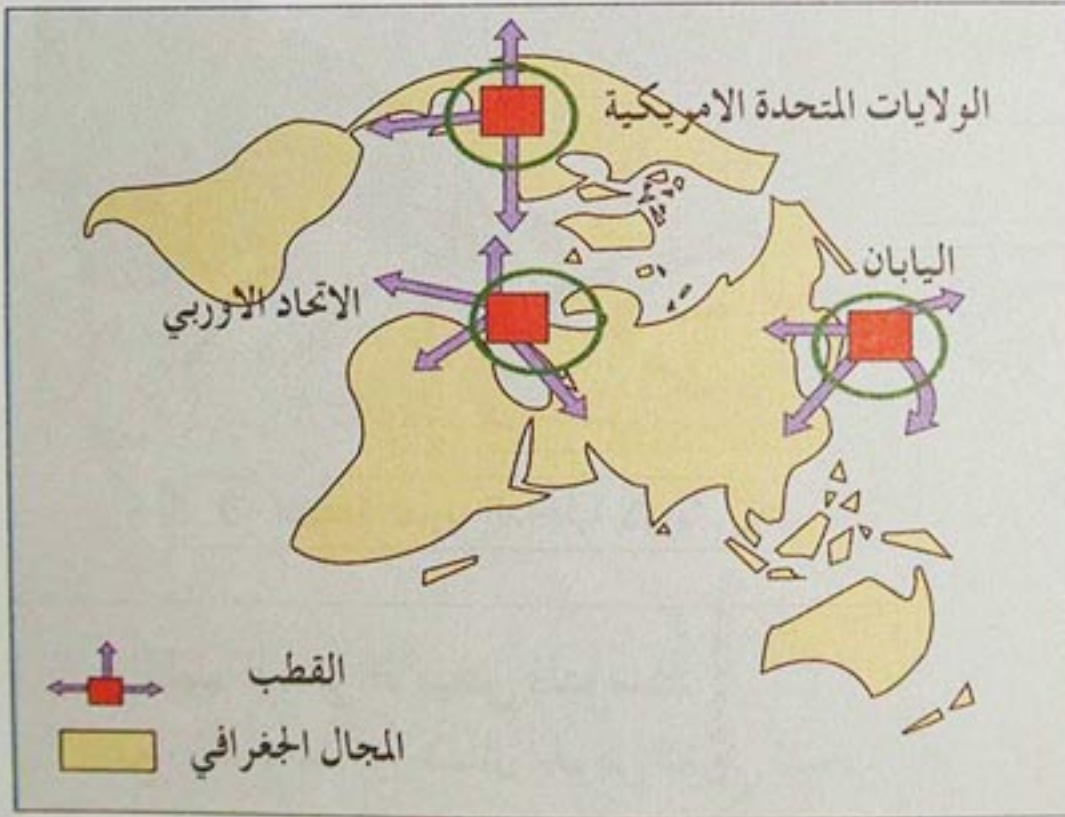
- الفوارق الجهوية.
هناك تحديات تواجه الاتحاد الاوربي منها :

تحديات داخلية :

- ثقل نفقات التقاعد.
- مشكل البطالة.
- الفوارق الجهوية.

تحديات خارجية :

- اختلال التوازن بين النمو الاقتصادي والنفقات العسكرية.
- سيادة أسلوب الحياة ونمط الاستهلاك على الطريقة الأمريكية، وقد أثرت على تقاليد وثقافة أوروبا.



4 - الاتحاد الاوربي قطب من أقطاب العالم الثلاثة

- ما هي الأساليب التي تبرزها (الوثيقة 3) في بناء الاتحاد الاوربي ؟
- ما القصد بالتحديات الداخلية والتحديات الخارجية ؟
- ما القصد بنمط الاستهلاك على الطريقة الأمريكية ؟

مفردات ومصطلحات

- عقبات : صعوبات.
- تحديات : مشاكل ينبغي تجاوزها.



2 - الواجهة الأطلسية لقارة أوروبا

- الواجهة الأطلسية :

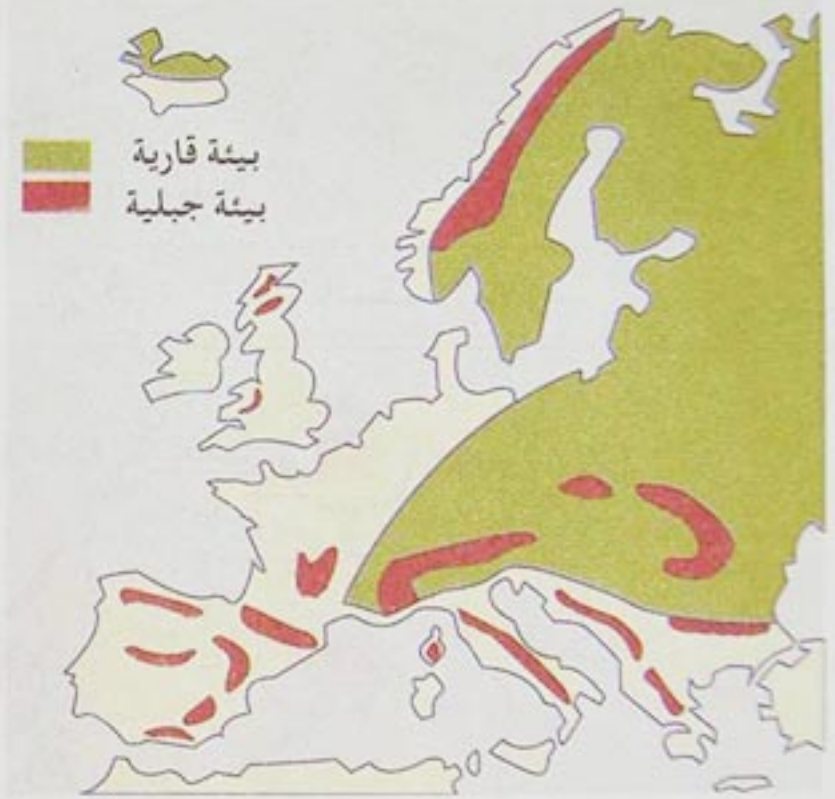
وهي المنطقة الغربية من أوروبا والمشرقة على المحيط الأطلسي وتشمل أيضا بحر الشمال وبريطانيا، وهي ذات خصائص :
- دافئة مطيرة.
- تعرف أحيانا عواصف مدمرة وضبابا خلال فصل الصيف.
- غنية بنباتها وتنوع زراعتها.

1

- المنطقة القارية الداخلية :

وهي منطقة تجمع بين السهول والجبال، تتصف بالبرودة والثلوج في فصل الشتاء. فترة الإنبات فيها قصيرة، وهي منبع أغلب أنهار أوروبا المتجمدة في فصل الشتاء.

4



3- المنطقة القارية الداخلية لأوروبا

- إقليم البحر الأبيض المتوسط :

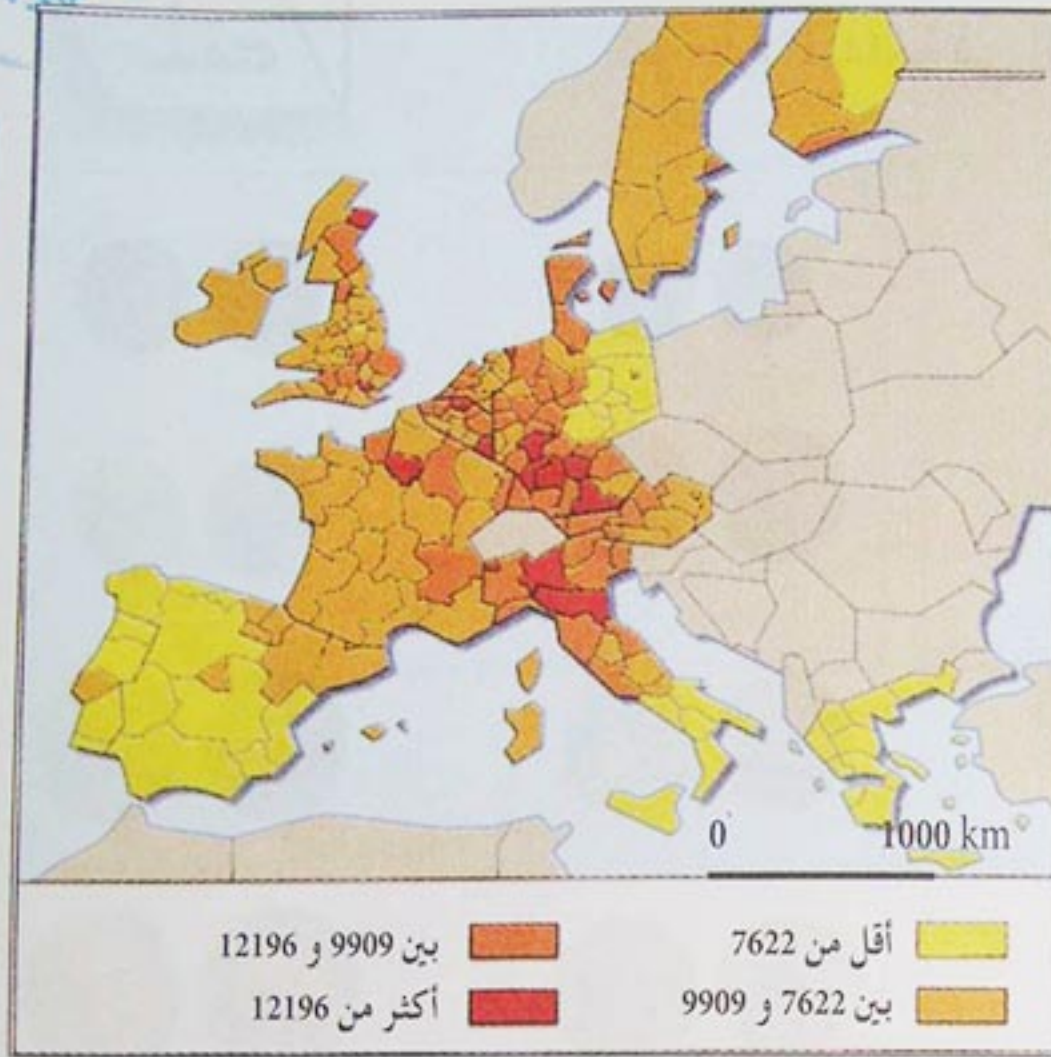
يقع الإقليم المذكور شمال الحوض الغربي للبحر الأبيض المتوسط، ويتميز بمناخ حار وجاف صيفا، ودافئ مطير شتاء. تسود فيه نباتات متنوعة، وهو مهد الحضارات القديمة، يتميز بإمكانيات سياحية كبيرة.

5



6 - منطقة البحر الأبيض المتوسط في أوروبا

- من خلال (الوثائق 1, 2, 3, 4, 5, 6) عدد الأقاليم الجغرافية الكبرى في أوروبا.
- ماذا تستخلص من المقارنة بين الأقاليم الجغرافية الكبرى في أوروبا ؟
- ما هو أهم إقليم بالنسبة لأوروبا؟ ولماذا ؟




منذ سنة 1974 اعتمد الاتحاد الاوربي سياسة مشتركة، بالعمل على محو الفوارق الجهوية من خلال الصندوق الاوربي للتنمية الإقليمية، المتمثل في المساعدات التي تقدم للأقاليم، وبلدان الاتحاد التي تعاني من الصعوبات .

7

8 - الدخل الفردي الخام بالاورو



10 - من الأساليب الزراعية شمال اوربا



9 - من الأساليب الزراعية في بعض مناطق جنوب اوربا

- من خلال (الوثيقة 7) بين كيف يقوم الاتحاد الاوربي بمحو الفوارق الجهوية ؟
- أين يتركز الدخل الفردي الاكبر؟ ولماذا في نظرك (الوثيقة 8) ؟
- قارن بين (الوثيقتين 9، 10). ماذا تستخلص ؟

الوحدة النقدية في اوربا



2 - أوراق نقدية للعملة (اورو)



1 - قطع معدنية للعملة (اورو)

- جويلية 2001	- تعويض أرصدة البنوك والمؤسسات بالاورو.
- ديسمبر 2001	- تداول نماذج من العملة من طرف التجار والحرفيين الكبار.
- 1 جانفي 2002	- الاستعمال الرسمي للاورو في 12 دولة.
- من 1 جانفي إلى 17 فيفري	- الاستعمال المزدوج للاورو والعملات الوطنية.
- إلى غاية 30 جوان 2002	- استبدال العملات القديمة في البنوك.
- جويلية 2002	- اختفاء العملات القديمة.

4 - مراحل تعميم عملة الاورو

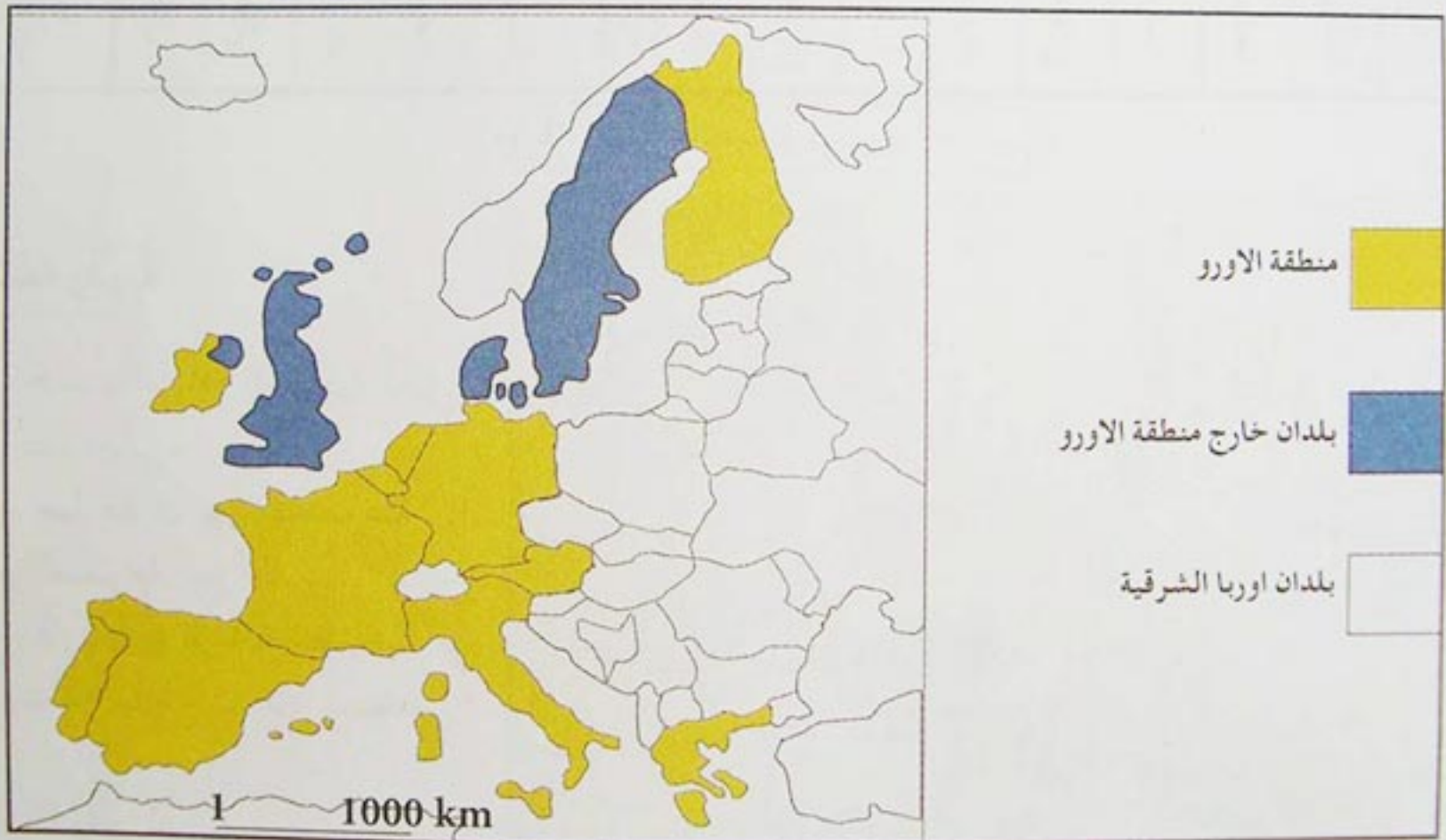
في ليلة 31 ديسمبر 2001، تم تعويض العملات الاوروبية بالاورو. وقبل ذلك بشهور تم وضع برنامج وزارى لتسهيل حدث الانتقال من العملة الوطنية إلى عملة الوحدة الاوروبية (الاورو).

3



- في 1 جانفي 2002
لا يحتاج الإنسان
المسافر من بلد إلى آخر في
البلدان الأوروبية المعنية
بالوحدة النقدية إلى أن
يغير عملته .

5 - أوروبا الكبرى (القارة الجديدة)



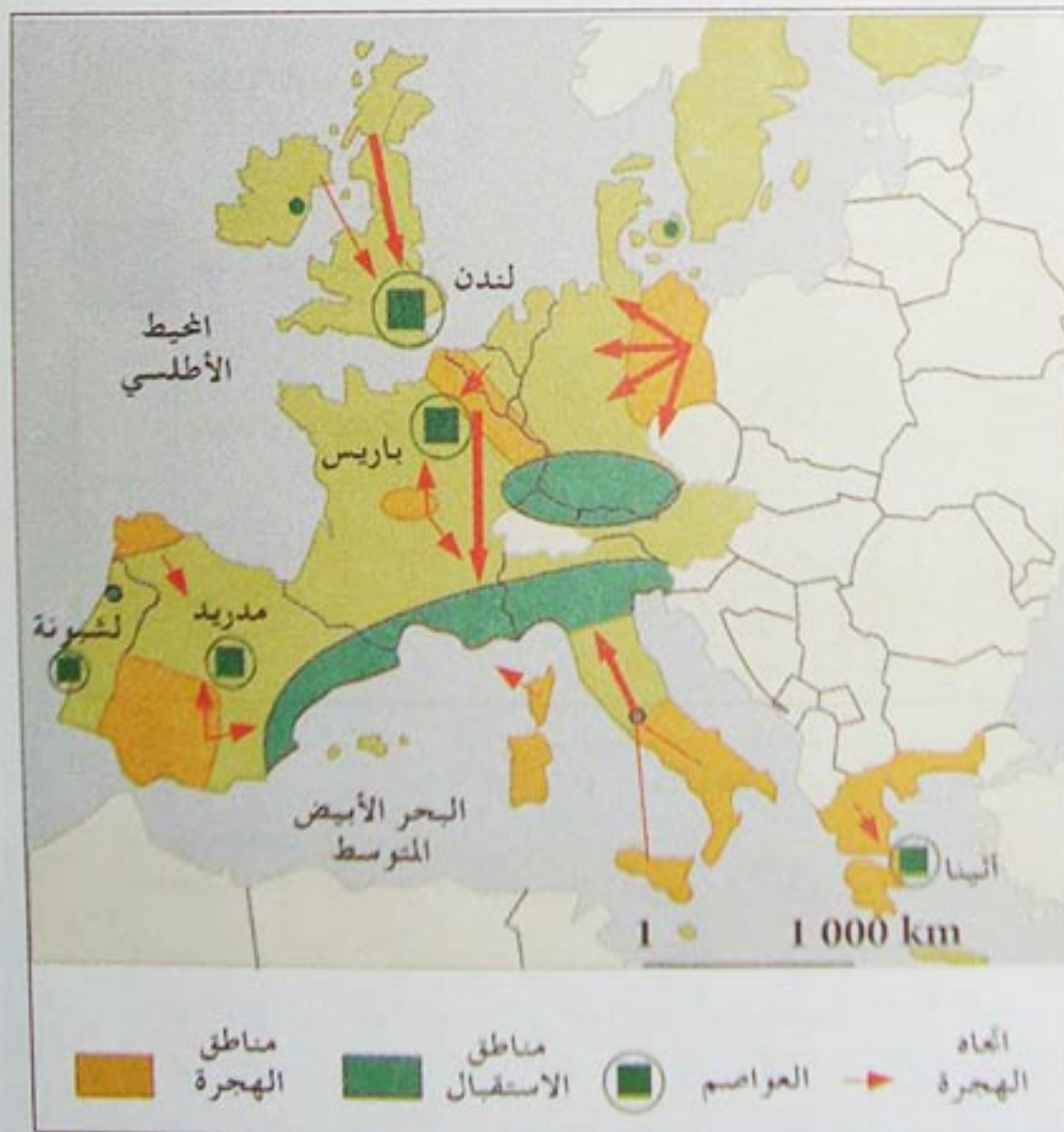
6 - منطقة الأورو قبل ماي 2004

- تطلبت عملية تعميم عملة الاتحاد الأوروبي (الأورو) مدة زمنية طويلة. اشرح ذلك مستعينا بالوثيقة 4 .
- اذكر بلدان منطقة الأورو مستعينا بالخريطة.
- اكتب فقرة تبين فيها أهمية الوحدة النقدية بالنسبة لأوروبا الموحدة.
- هل يمكن لدول حديثة العهد بالاتحاد الأوروبي أن تنضم إلى منطقة الأورو ؟ علّل إجابتك.
- ما الهدف من توحيد العملة في أوروبا ؟

التقويم



1 - الزيادة الطبيعية في أوروبا والجزائر



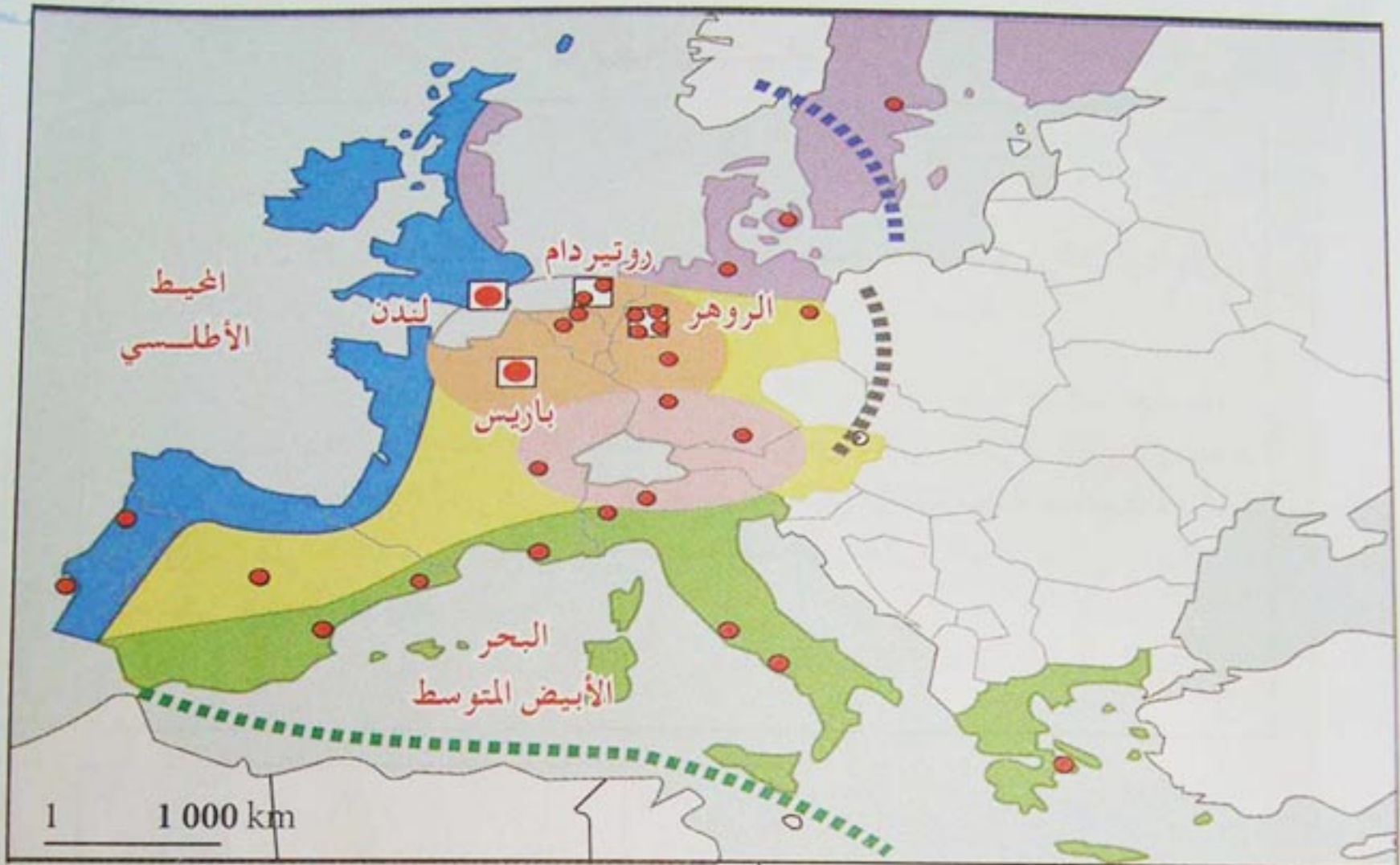
2 - هجرة السكان في أوروبا

الوثيقة رقم 1

- 1- احسب الزيادة الطبيعية لكل بلد اوروبي.
- 2 - ما الفرق بين المجموعة "أ" والمجموعة "ب" ؟
- 3 - قارن بين الزيادة الطبيعية في بلدان أوروبا والجزائر. ماذا تستخلص ؟

الوثيقة رقم 2

- 1 - سمّ مناطق الهجرة ومناطق الاستقبال.
- 2 - إلى ماذا تعود تلك الهجرات في نظرك ؟



3 - المناطق الجغرافية الكبرى في أوروبا

استعن بالخريطة والأطلس لتحديد موقع كل منطقة جغرافية أوروبية، مع تحديد أهم خصائصها.

أوروبا الوسطى	
أوروبا الوسطى الشمالية	■
أوروبا الوسطى الجنوبية	■
مجمعات مدن (مدن مليونية)	■
مدن وعواصم أوروبية	●
بقية أوروبا	
أوروبا بحر الشمال والبلطيق	■
أوروبا الأطلسية	■
أوروبا المتوسطية	■
أوروبا الداخلية	■
الواجهات	
واجهة على البلطيق ذات حركة كبيرة	■■■■■
واجهة على بلدان أوروبا الشرقية	■■■■■
واجهة على أفريقيا	■■■■■

للمطالعة

أريان V


تم إنشاء الوكالة الفضائية الأوروبية في 31 مارس 1975، قصد ضمان وتطوير الشراكة بين الدول الأوروبية، في ميدان البحث والتكنولوجية الفضائية، لأغراض سلمية.

تمكنت الوكالة من صنع صاروخ أريان، وإطلاق 17 قمراً صناعياً للأبحاث العلمية، و15 قمراً للمواصلات والأرصاد الجوية، وذلك بعد 20 سنة من التعاون والشراكة الأوروبية. وقد تم التأكيد على إرادة الاتحاد الأوروبي في تطوير صاروخ أريان V في مواصلة سياسة فضائية متجانسة ومتوازنة. وعلى هذا الأساس تم وضع برامج جديدة مهمة في مجال مراقبة الأرض، والمواصلات السلكية واللاسلكية، وغزو الفضاء.

مجلة الوكالة الفضائية الأوروبية 1997

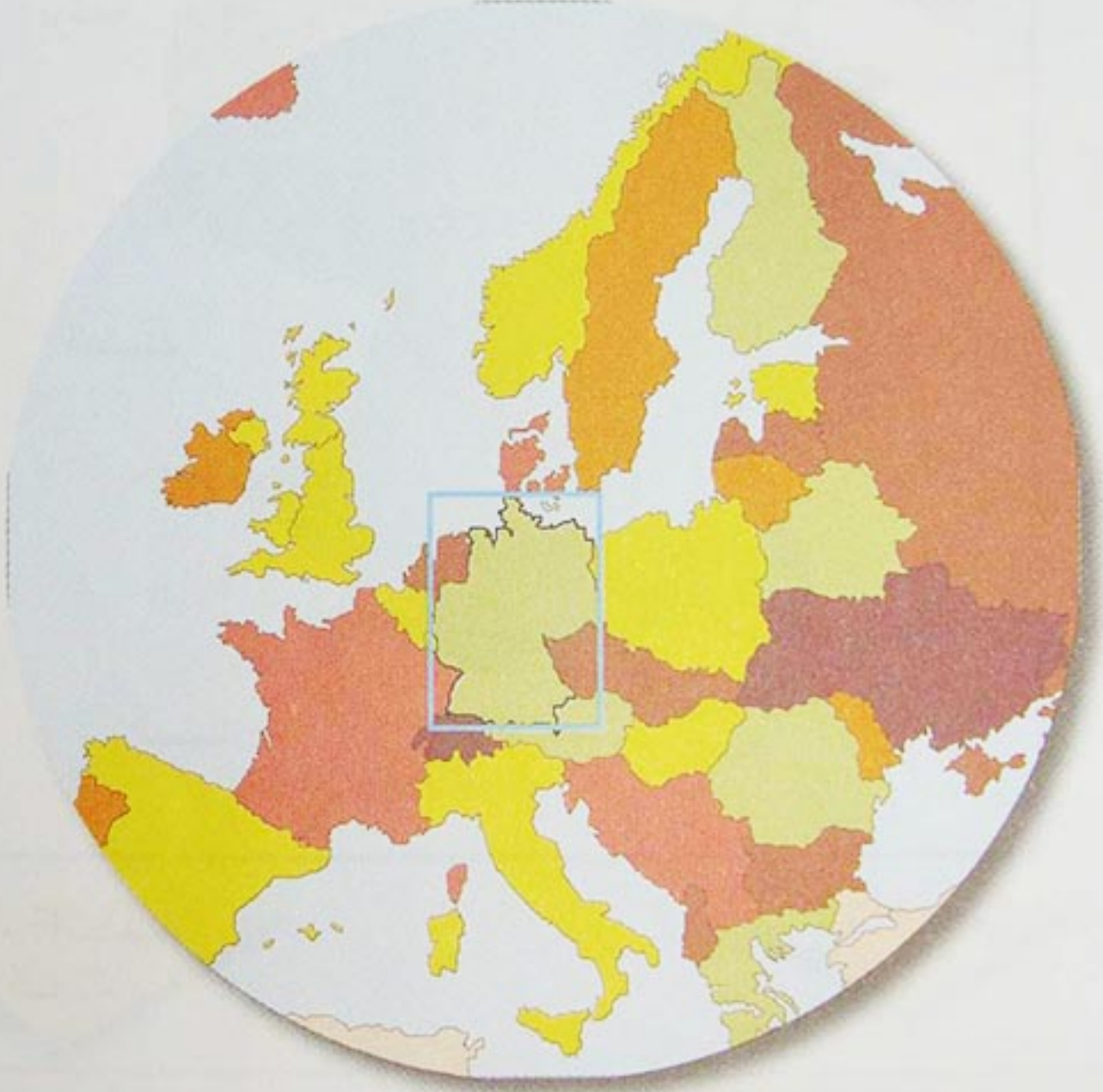


إطلاق صاروخ أريان V من قاعدة كورو في غويانا أكتوبر 1998



التعاون
بين مختلف
دول الاتحاد
الأوروبي
في صناعة
صاروخ
أريان

الوحدة التعليمية الثالثة



ألمانيا

موقع عيون البصائر التعليمي

elbassair.net

elbassair.net

ألمانيا



العقد التعليمي

- في نهاية هذه الوحدة تكون قادرا على :
- التعرف على مميزات الظاهرة السكانية في ألمانيا كبلد اوروبي.
 - تحديد أهم مدن ألمانيا، وإبراز مظاهر التطور العمراني فيها.
 - شرح عوامل التطور الاقتصادي في ألمانيا.
 - تحديد دور ألمانيا ضمن المجموعة الأوروبية ومكانتها في العالم.

الوحدة التعليمية الثالثة

- السكان في ألمانيا
- المدن الألمانية
- ألمانيا قوة علمية وتكنولوجية
- مكانة ألمانيا في أوروبا والعالم
- ملف : ألمانيا (المنافسة الإقليمية والدولية)



فرانكفورت مدينة مالية



التكنولوجيا الألمانية

بطاقة التعريف بألمانيا :

- المساحة : 356980 كم²
- عدد السكان : 82.6 مليون / ن (2002)
- الكثافة السكانية : 233.26 ن / كم²
- أمد الحياة : 77 سنة
- نسبة الولادات : 9,2 بالآلف
- نسبة وفيات الأطفال : 10,9 بالآلف
- الدخل الفردي : 22 670 دولار (2003)

- ماهي ملاحظاتك حول معطيات بطاقة التعريف بألمانيا ؟

- ماذا تستخلص من المقارنة بين الصورتين ؟

1 - السكان في ألمانيا



تعاني ألمانيا من تناقص في الزيادة الطبيعية للسكان. لماذا؟ وماذا يترتب عن ذلك؟

أ - النمو الديموغرافي في ألمانيا:



تعتبر ألمانيا الدولة الأكثر سكاناً في أوروبا، إلا أنها تعاني من تدهور في السكان، بسبب تناقص في الزيادة الطبيعية. مما جعلها تعاني من الشيخوخة، وتمثل فئة الأعمار الأقل من 15 سنة (16%) من مجموع السكان. وهي وضعية جعلت ألمانيا تستقبل أكثر من 5 ملايين مغترباً من أتراك وإيطاليين ويوغسلاف.

2 - شارع مشاة في مركز مدينة كولون

- فيم يتمثل التحول الديموغرافي في ألمانيا؟ ومتى كان ذلك؟
- ما هي أهم المشاكل الديموغرافية التي تعاني منها ألمانيا؟ بم تفسر ذلك؟

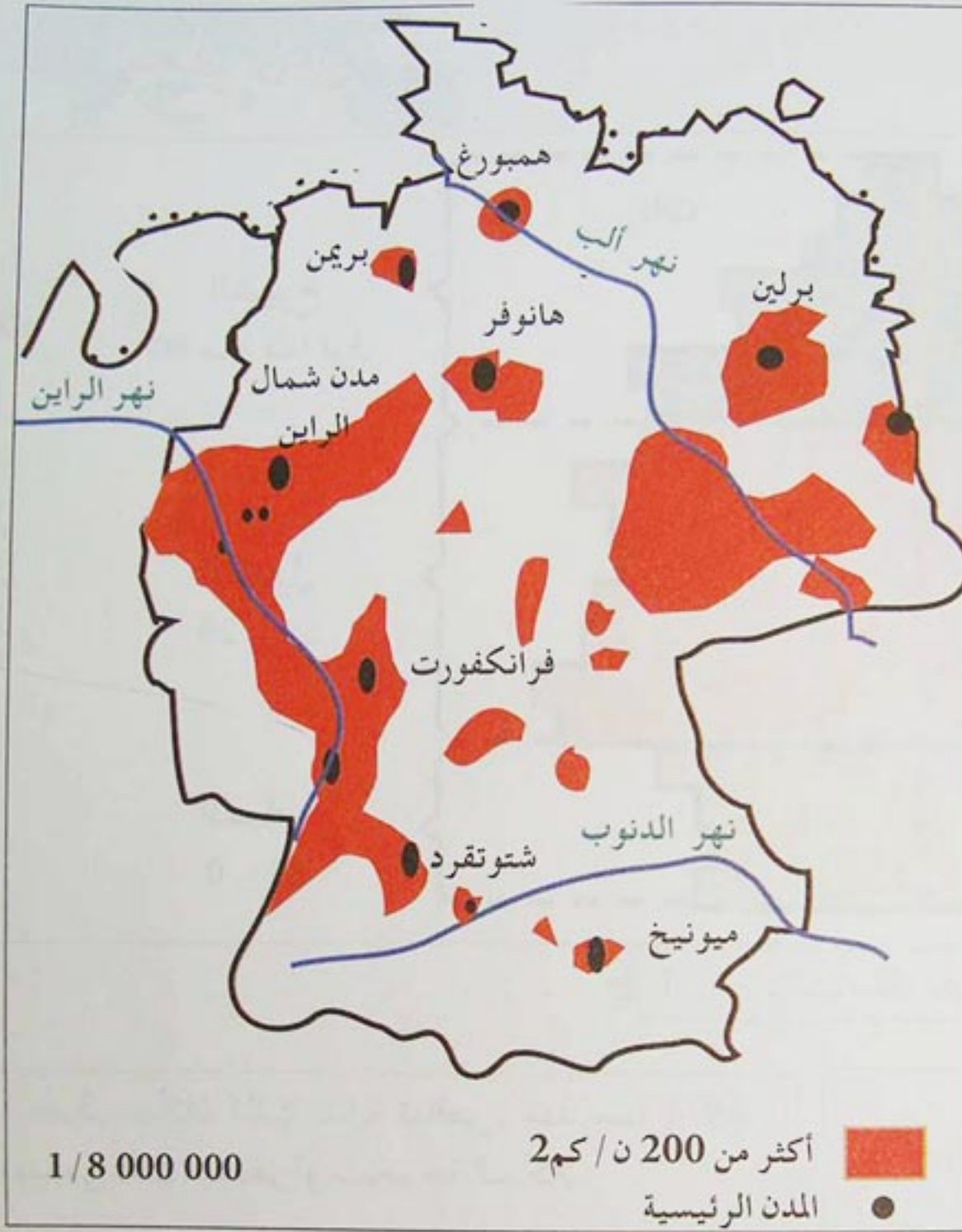
ب - توزيع السكان في ألمانيا

تبلغ الكثافة السكانية في ألمانيا 233.62 ن / كم². وتعتبر من البلدان الأكثر كثافة في أوروبا. يتركزون في حوض الراين لأسباب تاريخية، تعود إلى زيادة السكان الكبيرة خلال القرن 19 وبداية القرن 20، وإلى الهجرة الداخلية إثر الحرب العالمية الثانية. وإلى أسباب اقتصادية تتمثل في تطور الصناعة في المنطقة.

يضم المجال الجغرافي للراين 27 مليون نسمة في مجمع مدن، يتكون من قطبين إثنين : قطب راين / روهر - قطب راين / ماين، حول فرانكفورت.

بالإضافة إلى منطقة هامبورغ وبريمن في الشمال، وميونخ في الجنوب.

أما المنطقة الشرقية فهي ذات كثافة سكانية ضعيفة، تتخللها بعض المدن الكبيرة مثل : ليبزيك ودريسد وبرلين العاصمة الجديدة.

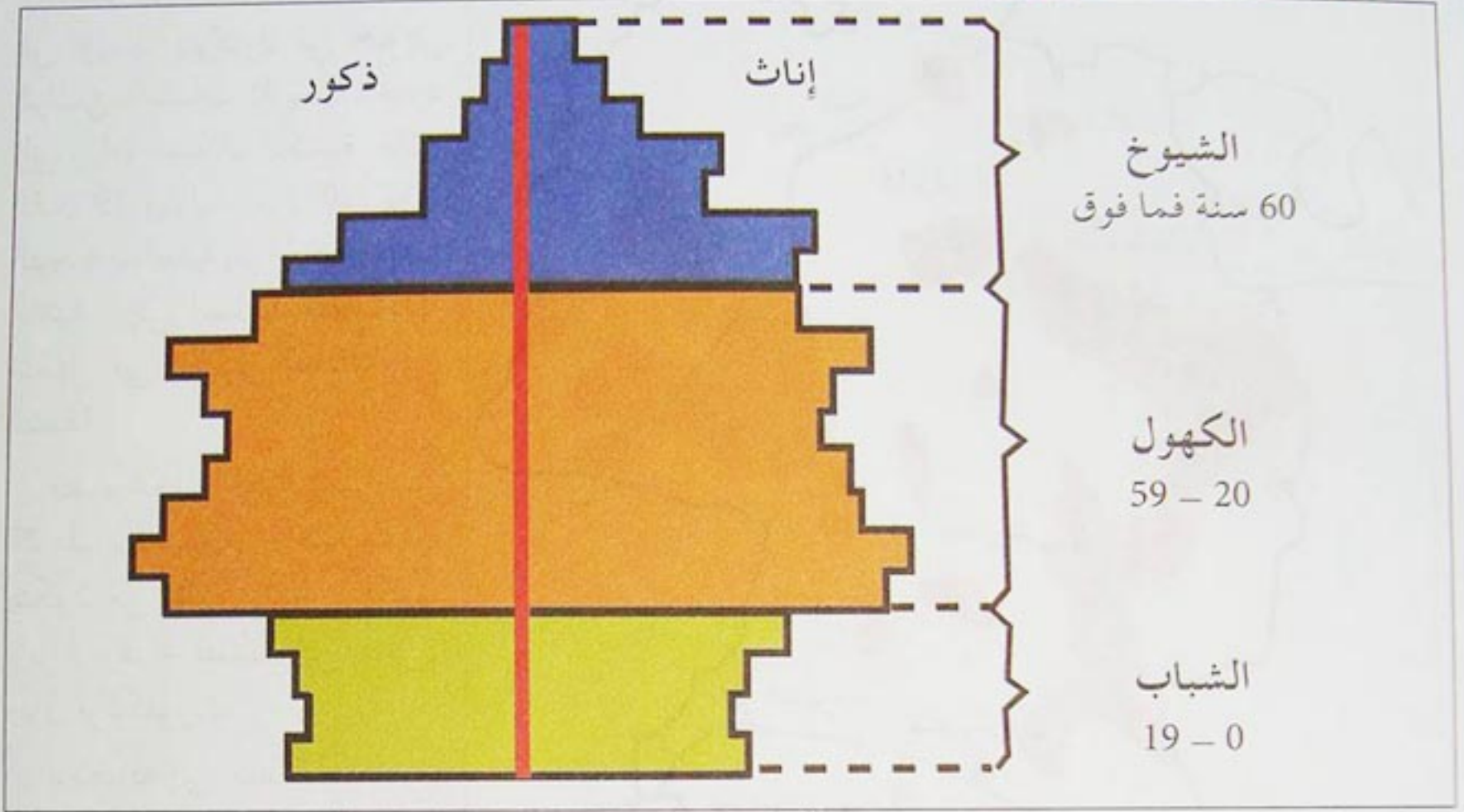


3 - الكثافة السكانية في ألمانيا

- ما هي أهم منطقة يتركز فيها السكان في ألمانيا ؟
- اذكر سببين لذلك التركيز.

مفردات ومصطلحات

المقاطعة : المنطقة الإدارية
الحوض : المنطقة التي يجري بها النهر



1 - هرم تركيب سكان ألمانيا (2000)

المرأة الألمانية

إن وجود المرأة في ألمانيا كعامل في جميع قطاعات النشاط الاقتصادي والاجتماعي والثقافي، يطرح مشكلا يتمثل في نقص نسبة الإنجاب والرعاية الكاملة للأطفال.

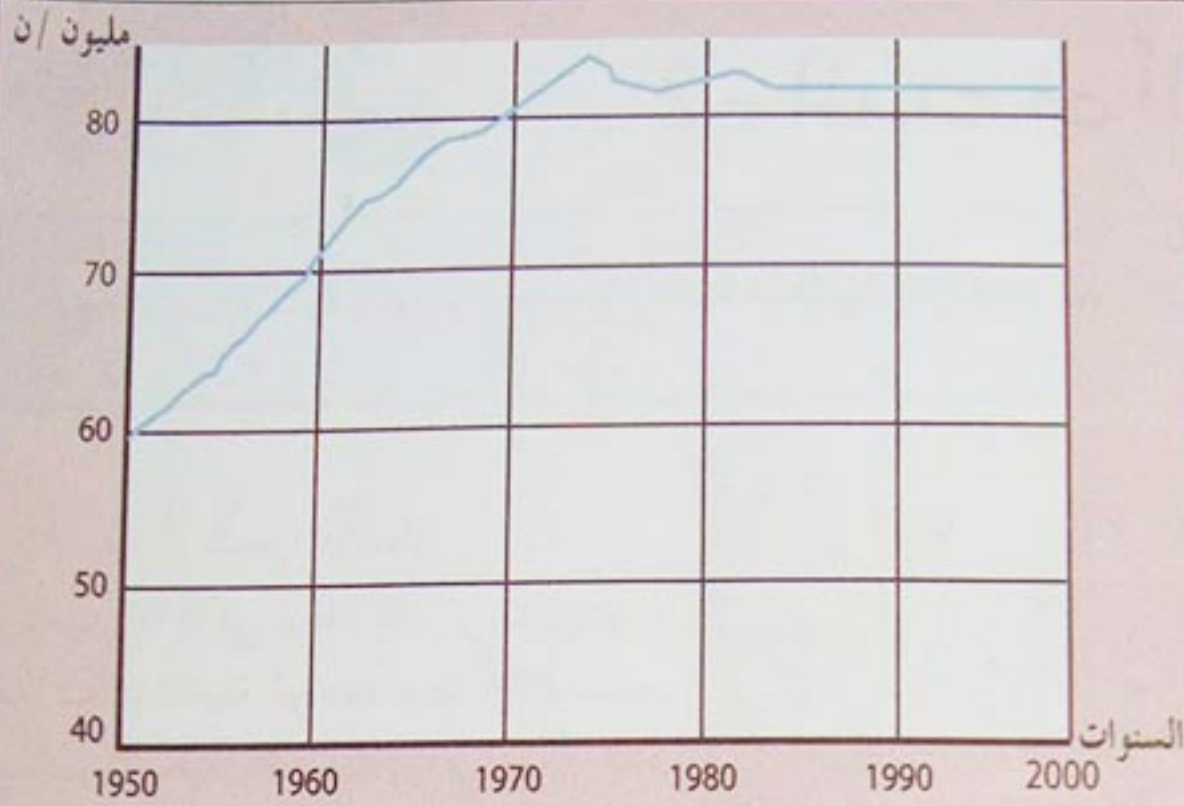
3

عرف سكان ألمانيا بداية تناقص، منذ سنة 1974، ويسمى ذلك بتقهقر أو شيخوخة السكان.

وقد عمدت ألمانيا في السنوات الأخيرة إلى إيقاف استقبال العمال الأجانب بعد أن فتحت أبواب حدودها قبل ذلك على آلاف المهاجرين، من شرق وجنوب أوروبا وشمال أفريقيا.

2

- اعتمادا على (الوثيقة 1) بين أن المجتمع الألماني يميل نحو الشيخوخة. وماذا ينتج عن ذلك ؟
 - ماذا تستخلص من الوثيقتين (2.1) ؟
 - ماذا تستخلص من (الوثيقة 3) ؟



نلاحظ في الوثيقة 5 (المنحنى البياني) ازدياد عدد السكان من 50 إلى 61 مليون نسمة، أي بنسبة 20 % خلال 40 سنة تقريبا. بعد فترة تزايد فيها السكان بـ 05 ملايين لكل 10 سنوات، ارتفعت الزيادة إلى القمة في 1973، ثم أخذت في الانخفاض، فالاستقرار بعد ذلك.

4 - تطور سكان ألمانيا



بعد 20 سنة تقترح الدولة الألمانية 10 آلاف مارك لمن يريد من المهاجرين العودة إلى بلاده، وذلك لإيجاد حل للبطالة في ألمانيا. لكن المهاجرين لم تغرهم هذه العروض المالية دون علاوات و ضمانات أخرى، في حين يبلغ عدد المغتربين الذين غادروا ألمانيا 300 ألف مهاجر.

5 - وصول مغتربين إلى ألمانيا بداية 1970

– من خلال (الوثيقة 4 حدد الفترة التي بدأ فيها نمو المجتمع الألماني في تناقص. لماذا؟
– ماذا تستنتج من (الوثيقتين 5.4)

2 - المدن في ألمانيا

تتميز المدن الألمانية بالعصرية وارتفاع نسبة سكانها (90 %). كيف تفسر ذلك ؟



1 - مدينة فرانكفورت تقاليد وعصرية



2 - رسم تخطيطي لحوض نهر الراين

1 - نشأة المدن الألمانية

يعيش 90% من سكان ألمانيا في مدن يتجاوز عدد سكان المدينة الواحدة منها 2000 نسمة، لأسباب تاريخية واقتصادية، ففي نهاية القرن 15 بلغ عدد مدن ألمانيا 4000 مدينة، كمراكز للتبادل، وأقطاب للصناعة التقليدية والنسيجية. وساهمت الثورة الصناعية خلال القرن 19 في قيام مدن كبيرة تحمل خصائص العصرية، تتجاور فيها الأحياء القديمة والأحياء الحديثة.

إن خمسة من أكبر أنهار أوروبا تخترق ألمانيا. وهي : الألب - الفيزر - الأودر - الدانوب - الراين.

ويمكن للسفن التي تجوب المحيطات أن تخترق هذه الأنهار، متوغلة إلى داخل البلاد، حاملة إليها المواد الخام، والفحم والحديد الصلب، ناقلة منها المواد المصنعة الجاهزة للتصدير.


تقع على هذه الأنهار 9 مدن كبيرة ذات مرافئ يقطن كل منها أكثر من 1/2 مليون نسمة.

- تجمع مدينة فرانكفورت بين الأصالة والعصرية. وضح ذلك (الوثيقة 1) ؟
- سم المدن الواردة في (الوثيقة 2) مستعينا بالخريطة.

- ما أهمية الأنهار الألمانية ؟



3 - نهر الراين في منطقة بون



4 - نهر الراين في بنجم

ب - أهمية نهر الراين في ألمانيا

يعتبر نهر الراين محورا حيويا بالنسبة لألمانيا، وهو اليوم محور أساسي في أوروبا الغربية، لأنه يربط بين أهم المناطق الصناعية في السوق الأوروبية المشتركة، من بحر الشمال إلى إيطاليا.


توجد العاصمة بون سابقا على ضفاف نهر الراين، وكذا العاصمة المالية فرانكفورت، والتي يوجد بها ثالث مطار في العالم. وتعتبر كولون ودوسلدورف من أكبر مدن الراين.

إن أهم منطقة للصناعة الثقيلة في البلاد هي منطقة الروهر التي تشرف مباشرة على حوض الراين، كما تتصل مختلف الروافد النهرية الأخرى بنهر الراين، جامعة بين مناطق صناعية هامة (راين روهر - راين ماين - راين نيكار).


مفردات ومصطلحات

ضفة النهر : جهة من جهات النهر
مدن الحصون : المدن المحصنة أو القلاع

- ما هو نوع المدن التي قامت على ضفتي نهر الراين ؟
- اربط المدن بالفترة التاريخية التي نشأت فيها ؟
- فيم تبدو أهمية حوض الراين ؟



2 - مظهر صناعي في منطقة الروهر



4 - مصنع لمعالجة النفايات

- لماذا تعتبر منطقة (الراين - الروهر) أكبر مناطق التجمع السكاني في العالم ؟
- ما هو أهم مشكل يعترضه نمو سكان المدن والتطور الصناعي في ألمانيا ؟
- ماهي الحلول الممكنة في نظرك ؟ (الوثيقة 4)

الراين - الروهر ، من أكبر مناطق التجمع السكاني في العالم

على طول حوض الفحم في منطقة الروهر ومنطقة كولون السهلية يوجد الفضاء الصناعي (رينو - فاستفالي) الهام في غرب ألمانيا، وهي أضخم منطقة للتركز السكاني، تضم 30 مدينة كبيرة في ألمانيا، 25 منها يتراوح عدد سكانها بين 100 000 و 500 000 نسمة و5 منها يتجاوز عدد سكان الواحدة منها 500 000، تتوزع كلها داخل مثلث على امتداد 100 إلى 120 كم. لذا يمكن اعتبار المنطقة (رينو - فاستفالي) منطقة سكنية صناعية فريدة من نوعها، تضم 12 مليون نسمة في مساحة 15 000 كم²، بكثافة سكانية تصل إلى 800 ن / كم². يوجد فيها أغلب عمال المصانع وموظفي ألمانيا، وكثير من مقرات الشركات مثل شركة كونزون .

1

مشكل البيئة

على بعد 20 كم من مدينة بوتسدام، توجد مؤسسة صناعية لمعالجة نفايات (الهيكل العظمية للحيوانات)، وتحويلها إلى السماد الصناعي. تصب نفايات المصنع في بحيرة مجاورة تتسبب في تلوث المياه، وإتلاف الأشجار والأعشاب. وقد توسع التشريع الخاص بحماية البيئة ليشمل مختلف مقاطعات ألمانيا بعد توحيدها. إن القيمة المالية والضرورية لمواجهة التلوث الصناعي، تتراوح بين 80 و 320 مليار دوتشمارك.

3



5 - مدينة ميونيخ

مدينة ميونيخ

مدينة ميونيخ هي مقر الألعاب الأولمبية 1972، وهي ثاني مركز حضاري في ألمانيا بـ 2.3 مليون نسمة. عرفت المدينة نموا كبيرا كمدينة صناعية، تشتهر بصناعة الإلكترونيك، التابعة لشركة سيمنس التي تعرف مقراتها توسعا وتفرعا في الأحياء الجديدة جنوب المدينة، وتشغل لوحدها أكثر من 40 000 عاملا بالإضافة إلى آلاف العمال الآخرين في التكنولوجيا والإعلام الآلي والبحث العلمي. في مدينة ميونيخ أهم البنوك الألمانية، وقد اكتسبها ذلك مكانة مالية على المستوى الأوروبي وبها أهم المراكز السياحية بقدره استقبال تصل إلى 3 ملايين سرير في فنادق مختلفة. توسعت المدينة بفضل مد شبكة الميترو والسكة الحديدية وعرفت تطورا كبيرا.

6

إن انفتاح المدينة على منطقة الدانوب يعطيها آفاقا مستقبلية كإحدى عواصم أوروبا الهامة.

- ارسم خريطة ألمانيا وحدد عليها مدينة ميونيخ.

- اشرح أهمية موقع المدينة.

- اعتمادا على (الوثيقتين 6.5) استخرج العناصر الدالة على أن ميونيخ مدينة هامة في ألمانيا.

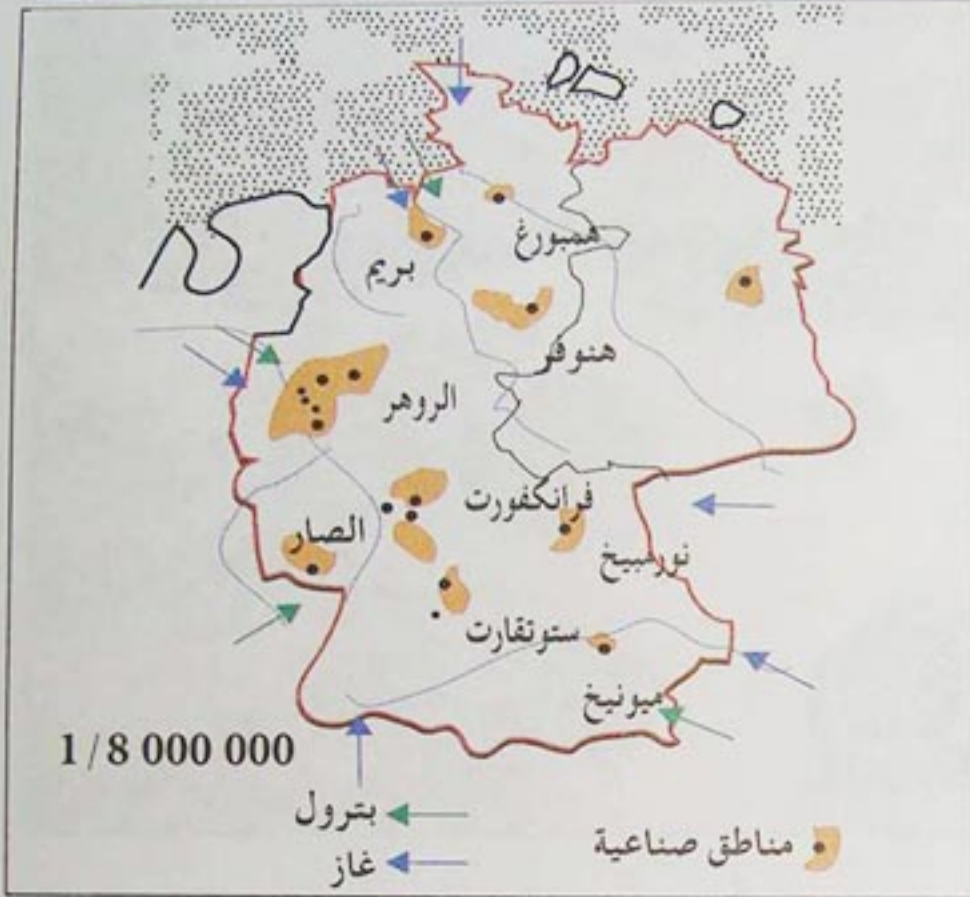
3 - ألمانيا قوة علمية وتكنولوجية

استطاعت ألمانيا أن تصبح قوة اقتصادية في أوروبا بعد الحرب العالمية الثانية، ما أسباب ذلك ؟

أ- ألمانيا عملاق اقتصادي

تم إنشاء الجمهورية الفيدرالية الألمانية بعد الحرب العالمية الثانية، وبالرغم من الخراب الذي خلفته الحرب فإنها سرعان ما تطورت وأصبحت أول قوة اقتصادية في أوروبا. ومنذ سنة 1950 أصبحت توصف بالمعجزة الألمانية، ويعود ذلك إلى أسباب منها :


- الجهود الفردية والوطنية في سبيل إعادة بناء البلاد.
- توفر الفحم والحديد.
- تخفيض الضرائب وإقامة المصانع.
- الاستفادة من المساعدات الأمريكية.



1 - الصناعة في ألمانيا

ب- مظاهر القوة الألمانية.

- الصناعة : تعتبر منطقة الروهر قلب الصناعة الألمانية، حيث يتم إنتاج معظم الحديد والصلب، وتعتبر مدينة إسن أكبر المدن في المنطقة وأكثرها شهرة في صناعة الحديد والصلب، بالإضافة إلى مدن أخرى كهامبورغ وبريمن لبناء السفن، وفرانكفورت للصناعة الكيماوية، وشتوتغارت لصناعة السيارات.



2 - مناجم الحديد في منطقة الروهر

- من خلال (الوثيقة 1)، اذكر أهم مناطق تركيز الصناعة الألمانية.

- علام تدل (الوثيقة 2) ؟

- ماهي عوامل قوة الصناعة الألمانية ؟

ج - الزراعة :



3 - مزرعة في سهل سكسون

تكتسب ألمانيا قطاعا زراعيا هاما وعصريا، ذو مكانة بالنسبة لعدد من المنتجات كالحبوب والخبازير والبطاطا، وتسود زراعة القمح والبنجر السكري في الجنوب، حيث التربة الخصبة، في حين تسود زراعة الشعير والبطاطا في المناطق الرطبة إلى جانب تربية المواشي.

وبالرغم من التطور السريع في قطاع الزراعة، إلا أن الإنتاج الوطني يبقى غير كاف لحاجيات السكان، لذا يتم استيراد اللحوم، الذرة، الخضر والفواكه.

إن التحول الحاصل في القطاع الزراعي في ألمانيا الموحدة، هو التخلي عن النظام التعاوني، حيث تم خصصة 4623 مزرعة، تغطي 6 ملايين هكتار.




4 - أراضي زراعية في ألمانيا

- اذكر أهم المنتجات الزراعية في ألمانيا.
- ماذا تستورد ألمانيا من منتجات زراعية؟ ولماذا؟
- من خلال (الوثيقتين 4.3)، استنتج مظاهر التطور الزراعي في ألمانيا.

العمل والتكنولوجيا.

إن العلاقة بين ممثلي النقابات العمالية وأرباب العمل والمصانع، قائمة على تفاهم متبادل. فليس هناك من يعارض تقدم تكنولوجيا ورفع الإنتاج وتحسين النوعية. فهم جميعا يدركون أن النقص في المواد الأولية، يجب تعويضه بضمان السير الحسن للمؤسسات الاقتصادية. فعلى سبيل المثال تشهد مصانع النسيج عملا متواصلا ليل نهار لمواجهة المنافسة الحادة وتحقيق الضمانات الاجتماعية للعمال.

1



2 - المنتجات الصناعية الرئيسية في ألمانيا

المنتوج	1990	1999	2000	الوحدة
- البطاطا	7 233 000	12 031 000	12 633 000	طن
- الأبقار	14 563 000	14 942 000	14 658 000	رأس
- الحديد الصلب	38 434 000	42 062 000	46 372 000	طن

3 - بعض المنتوجات الألمانية

المنتوج	الرتبة العالمية	النسبة العالمية
- القمح	7	% 8.3
- الشعير	3	% 9.2
- البنجر السكري	3	% 10.3
- الفولاذ	5	% 5.5
- صناعة السيارات	3	% 9.2
- النسيج الاصطناعي	8	% 3.1

4 - مكانة ألمانيا الاقتصادية في العالم

- اربط العلاقة بين (الوثيقتين 1، 2). ماذا تستخلص ؟
- ماذا تستخلص من (الوثيقة 3) ؟
- مثل جدول (الوثيقة 4) بيانيا، ماذا تستخلص ؟



4 - مكانة ألمانيا في أوروبا والعالم

تحتل ألمانيا مكانة مرموقة في أوروبا والعالم، فيم يتضح ذلك ؟



1 - مصنع الروهر في ألمانيا

مفهوم المكانة الإقليمية والدولية.

يقصد بمكانة ألمانيا الإقليمية والدولية دورها في الاقتصاد الأوروبي والعالمي، ومساهمتها في التجارة العالمية. ويتضح ذلك في جملة من العناصر :

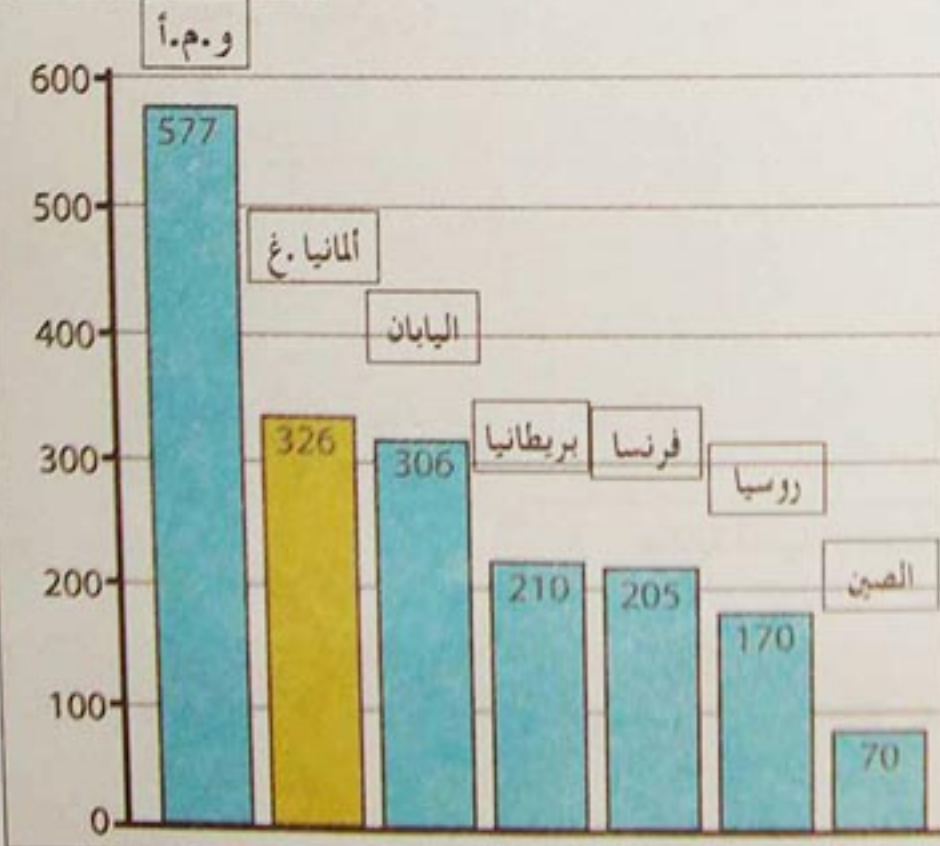
أ - القوة الاقتصادية :

يحتل اقتصاد ألمانيا المرتبة الثالثة عالميا بعد و.م.أ. واليابان، وهو اقتصاد موجه للتصدير، حيث تحتل المرتبة الثانية في التجارة العالمية، وتنافس بذلك اليابان. وكذا الشأن بالنسبة لقوة عملتها.

ب - مفتاح نجاح ألمانيا :

لا يعود النجاح الحالي لاقتصاد ألمانيا إلى امتلاك الموارد الأولية، بل يعود ذلك إلى فعالية تنظيم الإنتاج، ودور التنظيمات النقابية في تشجيع المنافسة بين المؤسسات الاقتصادية، فالشعار (صنع في ألمانيا Made in Germany) يحظى بإقبال متزايد على المستوى العالمي.

الوحدة مليار دولار



2 - التجارة الخارجية لألمانيا والبلدان الأخرى

- من خلال (الوثيقتين 2،1) ما هي العناصر الدالة على مكانة ألمانيا في أوروبا والعالم ؟



3 - الحي المركزي لبنوك فرانكفوت عاصمة ألمانيا المالية

ج - القوة التجارية :

تساهم ألمانيا بـ 12 % من البضائع في المبادلات العالمية، وهي ثاني مصدر عالمي بعد اليابان، فما ينتجه عامل ألماني واحد من ثلاث عمال يوجه للتصدير. وتخص البضائع المصدرة :

- السيارات 20 % من التجارة العالمية.
- المواد الكيماوية المرتبة الأولى في العالم.
- الصناعة الميكانيكية.
- آلات التجهيز.

وتسجل بذلك ألمانيا نتائج باهرة. لأن المواد المصدرة ذات جودة عالية، تساهم في الربح المستمر للميزان التجاري. مما يمكنها من تحقيق فائض من أموال توجه للسياحة واستيراد المواد الأولية.

النسبة المئوية	القطاع
5,6	- الزراعة
41	- الصناعة
53,4	- الخدمات

4 - الفئات النشطة في ألمانيا حسب القطاعات الاقتصادية الكبرى

د - ألمانيا قوة مالية :

أصبحت ألمانيا قوة مالية، وهو ما يسمى بالمعجزة الألمانية. مكنت البلاد من مخزون مالي يقدر بـ 20 % من العملة الصعبة العالمية، كضمان للتعامل بالعملة الألمانية (المارك). وبعد توحيد عملة الاتحاد الأوروبي (الاورو)، أصبحت ألمانيا مركز أوروبا الاقتصادي والمالي.

- من خلال (الوثيقتين 4.3) بين دور قطاعي الصناعة والخدمات في ألمانيا .
- ما دور التجارة في الاقتصاد الألماني ؟


مفردات ومصطلحات

المبادلات : البضائع والمواد التي يتم تبادلها مع دول أخرى.
الميزان التجاري : الفرق بين قيمة الصادرات وقيمة الواردات خلال سنة واحدة.



هامبورغ، أهم ميناء
ألماني على مصب نهر
الألب في بحر الشمال

1 - ميناء هامبورغ



أصبح المجال التجاري الألماني يأخذ طابعا اوروبيا شيئا فشيئا. فالمانيا تصدر إلى زبائنها أكثر مما تستورد منهم، وهي في تجارتها ذات اختيارات استراتيجية، تتمثل في إقامة مصانعها قرب الأسواق الاستهلاكية في البلدان المتطورة، وهي مستعدة كل الاستعداد لمسايرة اتساع رقعة الاتحاد الاوربي.

2 - مصنع السيارات (Volkswagen) الألمانية في البرازيل

- لماذا يعتبر هامبورغ أهم ميناء بحري في المانيا؟ (الوثيقة 1)
- اشرح الاختيار الاستراتيجي في إقامة مصانع المانيا قرب الأسواق الاستهلاكية (الوثيقة 2).

نجاح ألمانيا لا يخلو من المخاطر.

يعيش سكان ألمانيا ازدهارا اقتصاديا كبيرا، وهم بذلك يتمتعون بمعظم المواد الاستهلاكية. وإمكانيات تسهيل حياة المواطن (شبكة الطرق، مصالح صحية ...) وعملة قوية تساهم في رفاهية الفرد الألماني للقيام بالسياحة في الخارج. غير أن هناك بعض المخاطر تهدد هذه الحياة الجميلة، مثل شيخوخة السكان والروبوتيك.



3 - البحث العلمي وتحسين نمط الحياة في ألمانيا

- اعتمادا على (الوثيقة 3)، بين نمط الحياة في ألمانيا.
- اشرح المخاطر التي يمكن أن تواجه الاقتصاد الألماني.

المنافسة الإقليمية والدولية لألمانيا



عمدت منطقة الروهر في ألمانيا إلى إشهار عمومي في صحيفة فرنسية (جوان 1994)، ويقدم الإشهار الدلائل لجلب المستثمرين الأجانب إلى منطقة الروهر، التي تعتبر منطقة صناعية قديمة في طريق التجديد والعصرنة.

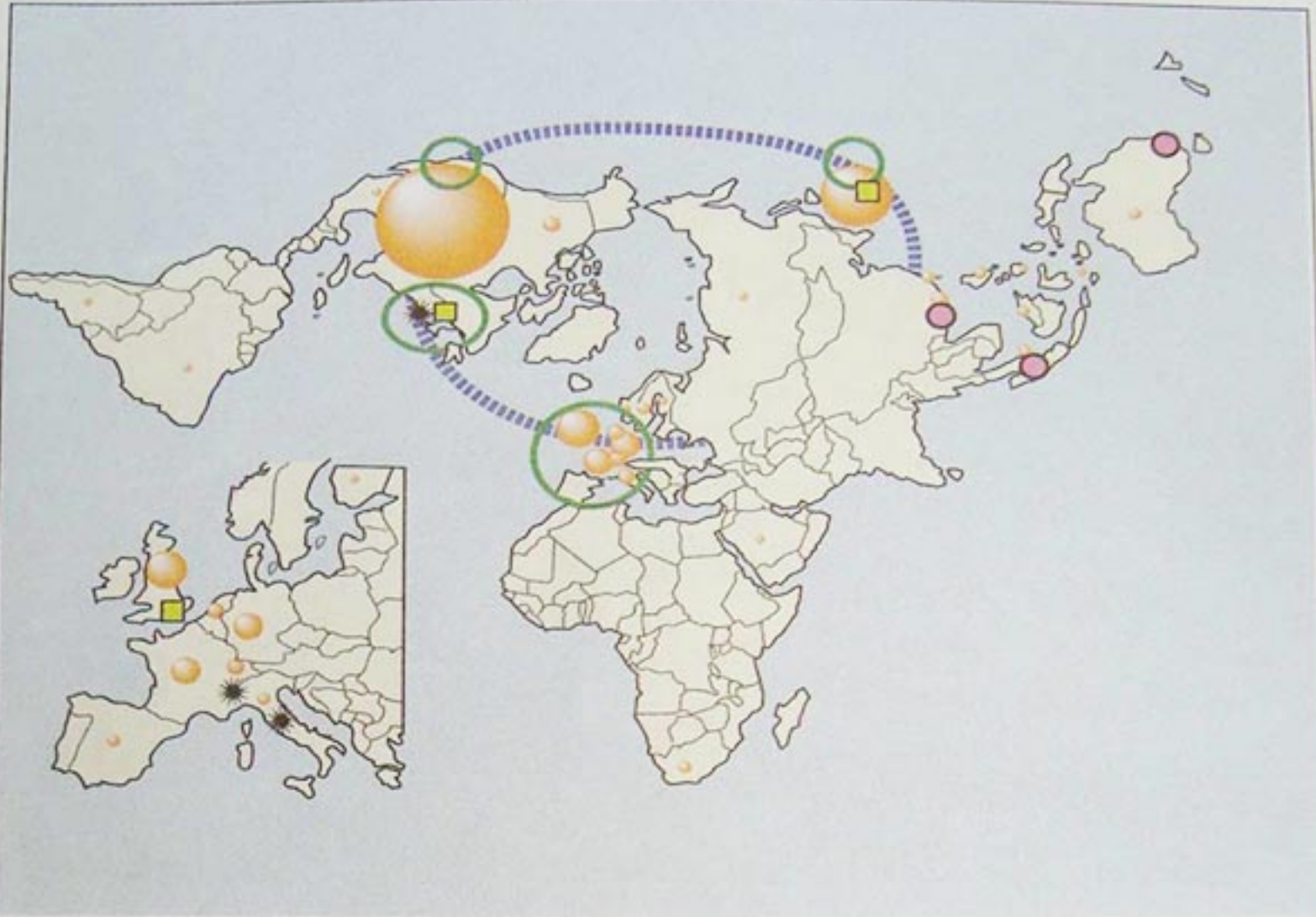
1 - اشهار لجلب المستثمرين

ما هي المدن التي ترتبط بها منطقة الروهر حسب الإشهار (الوثيقة 1)؟ ولماذا في نظرك؟

فيم تتمثل المنافسة الإقليمية والدولية بالنسبة لألمانيا؟

أصبحت ألمانيا من أكبر الدول المصدرة في المجموعة الاقتصادية الأوروبية. وقد عرف ميزانها التجاري ربحا متزايدا، يعود إلى شهرة صناعاتها بالمتانة والجودة، وكذا قوة عملتها. وتشهد كل من ألمانيا وإنجلترا تنافسا حادا، لأنهما تنتجان نفس أنواع البضائع الموجهة للتصدير.

2



80% من التجارة العالمية

مراكز التجديد الإعلامي والعلمي



203

110

42

1

توزيع مقرات الشركات
المتعددة الجنسيات



مقرات منظمات دولية



أهم البورصات في العالم



أسواق مالية أخرى

3 - الأقطاب الثلاثة للتجارة العالمية

- اعتمادا على (الوثيقة 2)، ما دور ألمانيا في التجارة الأوروبية والعالمية؟
- اعتمادا على (الوثيقة 3) اذكر الأقطاب الثلاثة للتجارة العالمية. ثم بين مكانة أوروبا بين هذه الأقطاب
- لماذا تشتد المنافسة بين ألمانيا وإنجلترا؟



ميناء هامبورغ في ألمانيا

- قَدِّم ملاحظاتك حول ميناء هامبورغ مستعينا بالصورة.
- ما موقع وأهمية الميناء بالنسبة لألمانيا ؟
- ما رتبته بالنسبة للموانئ الأوروبية المطلة على بحر الشمال ؟
- ما هو دور الموانئ الأوروبية في التجارة الداخلية والتجارة الخارجية ؟

الميناء	المنقولات (مليون طن)
- روتردام	255
- أنفير	91
- هامبورغ (ألمانيا)	57
- هافر	51
- لندن	44
- دنكيرك	32
- بريم (ألمانيا)	30

أهم موانئ أوروبا الغربية على بحر الشمال

ميناء دويس بورغ.

يقع ميناء دويس بورغ الألماني في ملتقى الطرق بين الراين والروهر، على بعد 200 كم من ميناء روتيردام. ويعتبر من أكبر الموانئ النهرية في العالم، تصل منقولاته إلى 20 مليون طن سنويا. ويربط بين منطقة الروهر الصناعية والمدن المجاورة ايسن ودوسلدورف التي يبلغ عدد سكانها مجمعة 20 مليون نسمة. من الوظائف الأساسية للميناء، استقبال المواد الأولية التي تحتاجها الصناعة في الروهر، وتصدير المنتجات الصناعية عبر ميناء روتيردام في بحر الشمال.



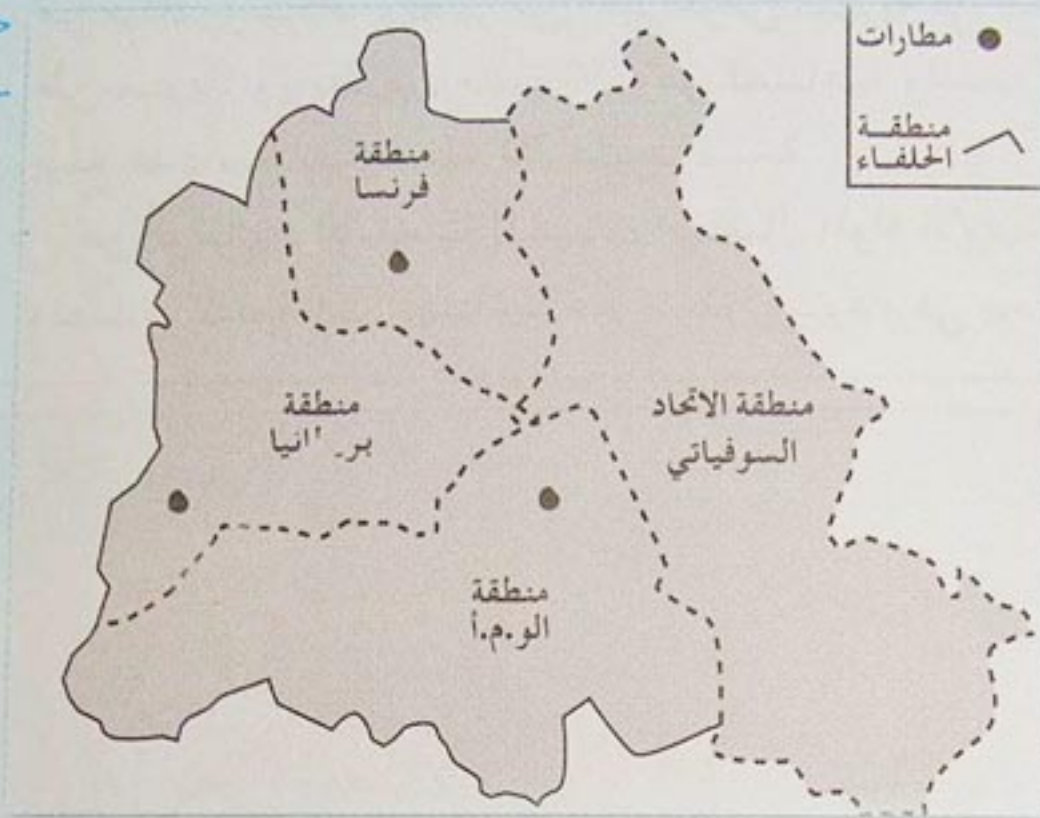
ميناء دويس بورغ

- ارسم خريطة لمانيا، واستعن بالاطلس لتوقع عليها الموانئ والمدن الواردة في النص.

- اعتمادا على الصورة بين حركة النقل الكبيرة في ميناء دويس بورغ.

للمطالعة

سقوط جدار برلين



تقسيم برلين بين الخلفاء بعد الحرب العالمية الثانية



سقوط جدار برلين 9 نوفمبر 1989

استقبل سكان ألمانيا بفرحة كبيرة خبر فتح الحدود، أذاعه على أمواج الأثير رئيس بلدية برلين الغربية سابقا .

(يتم في الحين تنفيذ قرار مجلس الوزراء بفتح حدود ألمانيا الغربية بالنسبة لسكان ألمانيا الشرقية والذين يريدون الهجرة بشكل نهائي).

وقد أبدى حوالي 4 ملايين شخصا من ألمانيا الشرقية رغبتهم في مغادرة البلاد.....

مات 73 شخصا وهم يحاولون عبور حاجز الحدود (جدار برلين) الذي تم بناؤه، فاصلا بين شرق وغرب المدينة وذلك في 13 أوت 1961، في حين تمكن من تجاوز الجدار منذ ذلك الحين حوالي 4000 شخص.

بعد الإعلان عن القرار بساعتين، تم انتقال عشرات الأشخاص إلى ألمانيا الغربية.

جريدة الفيجارو 10 نوفمبر 1989.

الوحدة التعليمية الرابعة



قارة افريقيا

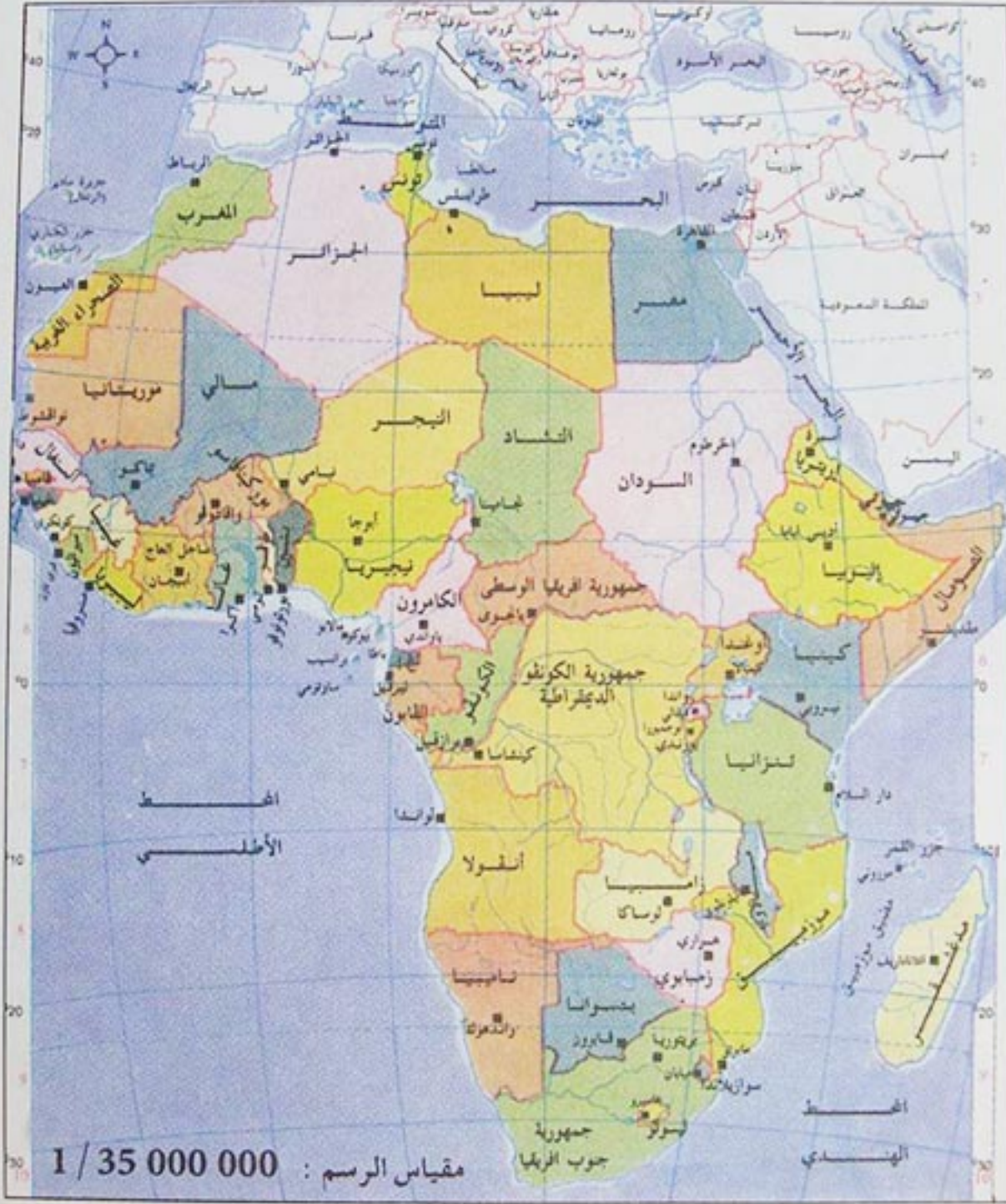
موقع عيون البصائر التعليمي

elbassair.net

elbassair.net

قارة افريقيا

قارة افريقيا غنية بالموارد الطبيعية والبشرية، لكنها تعاني من معيقات كثيرة في التنمية.
فيم تتمثل هذه المعيقات ؟



العقد التعليمي

الوحدة التعليمية
الرابعة


في نهاية هذه الوحدة تكون قادرا على :

- التعرف على مميزات القارة وشرح مظاهر التباين والتنوع فيها.
- التعرف على الظاهرة الديموغرافية، وأثرها على العمران.
- الموازنة بين الموارد الطبيعية والتنمية في القارة.
- شرح آفاق مستقبل القارة ضمن الاتحاد الافريقي، وما يؤهلها للنمو.

- السكان في افريقيا
- الانفجار الديمغرافي
- الموارد الطبيعية ومعيقات التنمية
- الاتحاد الافريقي
- ملف: المناطق الجغرافية الكبرى في افريقيا.



أهرامات مصر



من حيوانات افريقيا

بطاقة التعريف لافريقيا:

- المساحة : 30 مليون كم²
- عدد السكان : 814 مليون نسمة (2000)
- الكثافة السكانية : 27 ن / كم²
- أمد الحياة : 53 سنة
- نسبة وفيات الأطفال : 84 بالالف

- ترجم معطيات بطاقة التعريف إلى ملاحظات ذات دلالة جغرافية.
- بم تميز قارة افريقيا ؟

1- السكان في افريقيا

تبيّن الدلائل التاريخية أن افريقيا من بين المناطق التي عمّرها الإنسان منذ القدم. فتنوعت أجناسه، وتعددت حضاراته ودياناته، وتباين فيها توزيعه. ما تفسير ذلك؟



1 - المنطقة التي ظهر فيها أقدم إنسان في افريقيا

أقدم إنسان في افريقيا.

تعتبر افريقيا من بين المناطق التي ظهر فيها أقدم إنسان في العالم. تم اكتشاف تلك الأماكن في كل من اثيوبيا والتشاد، وقد أسس حضارات قديمة. كالحضارة الفرعونية بمصر، والطاسيلي في الجزائر. وتنوعت دياناته. فبالإضافة إلى الديانات المحلية. عرفت المنطقة الشمالية والوسطى انتشار الإسلام، وعرفت المنطقة الجنوبية دخول الديانة المسيحية مع الاستعمار.

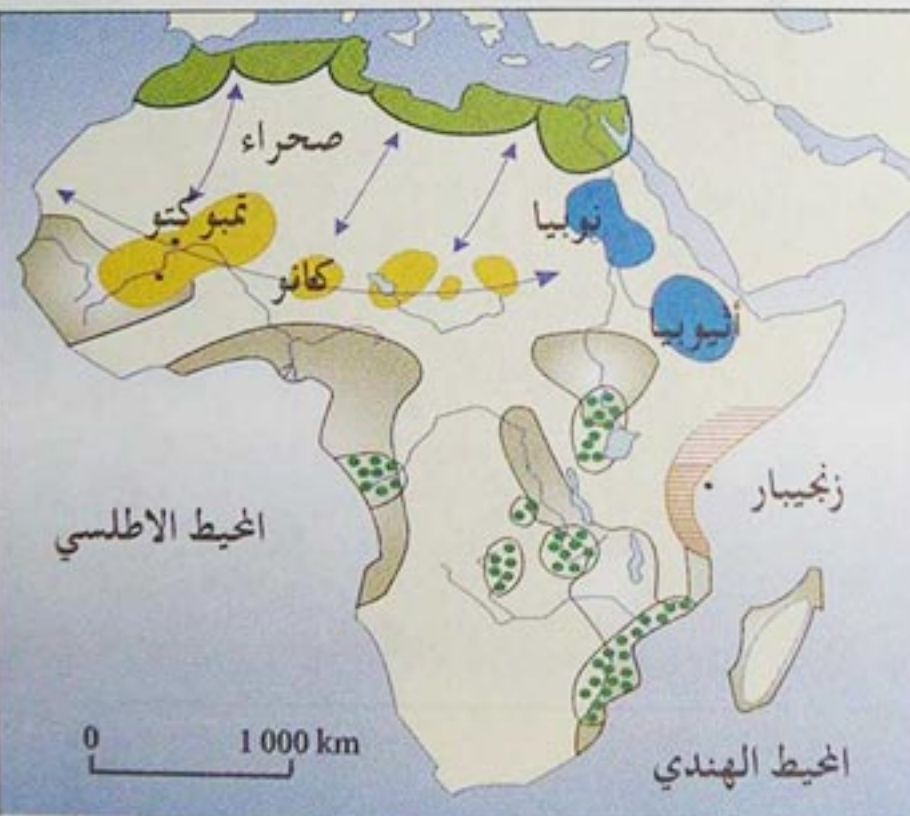
من تجارة العبيد إلى الاستعمار الاستيطاني.

عرفت افريقيا تجارة العبيد بين القرنين 16 و 19. وقد مارسها الاوروبيون بنقل أعداد هائلة من سكان افريقيا عنوة إلى قارة أمريكا للعمل في الزراعة، مما أثر سلبا على النمو الديموغرافي في القارة.

وفي القرن 19 شهدت القارة استعمارا اوروبيا استيطانيا، نتج عنه إقامة موانئ وطرق برية ومدن ساحلية، لاستغلال خيرات القارة وتصديرها إلى اوروبا.

مفردات ومصطلحات

تجارة العبيد : هي نقل بعض الافارقة من افريقيا إلى أمريكا وبيعهم من طرف الاوروبيين
الاستيطان : احتلال الارض على حساب الاهالي



2 - افريقيا قبل الاستعمار الاوروبي

- اعتماد على (الوثيقة 1)، سمّ المنطقة التي ظهر فيها أقدم إنسان في افريقيا.
- اعتمادًا على (الوثيقة 2)، بيّن وضع افريقيا قبل الاستعمار.
- ما هو اثر الاستعمار الاوروبي على قارة افريقيا؟

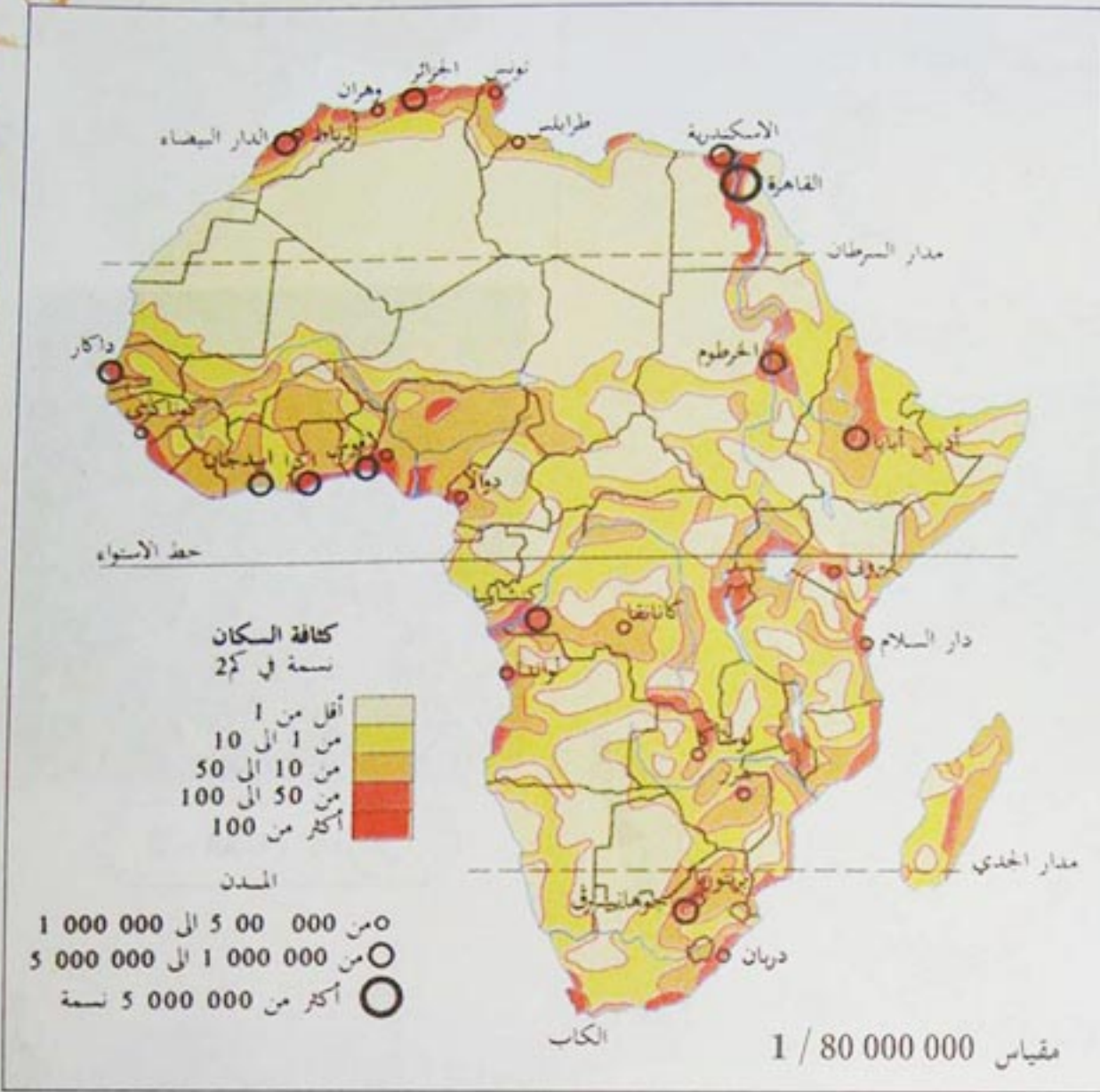
التباين في التعمير.

التجمعات الكبرى للسكان:

تعتبر المناطق الساحلية ذات كثافة سكانية عالية، مثل سواحل المغرب العربي، وخليج غينيا، وجنوب أفريقيا. ويرتفع عدد سكان المناطق الداخلية حول الأنهار والبحيرات وبعض المناطق الجبلية مثل اثيوبيا.

المناطق نادرة السكان:

وهي المناطق الصحراوية، كالصحراء الكبرى وصحراء كلاهاري، والمناطق المدارية وشبه المدارية، مثل الساحل الأفريقي، وكذا مناطق الغابة الاستوائية الكثيفة.

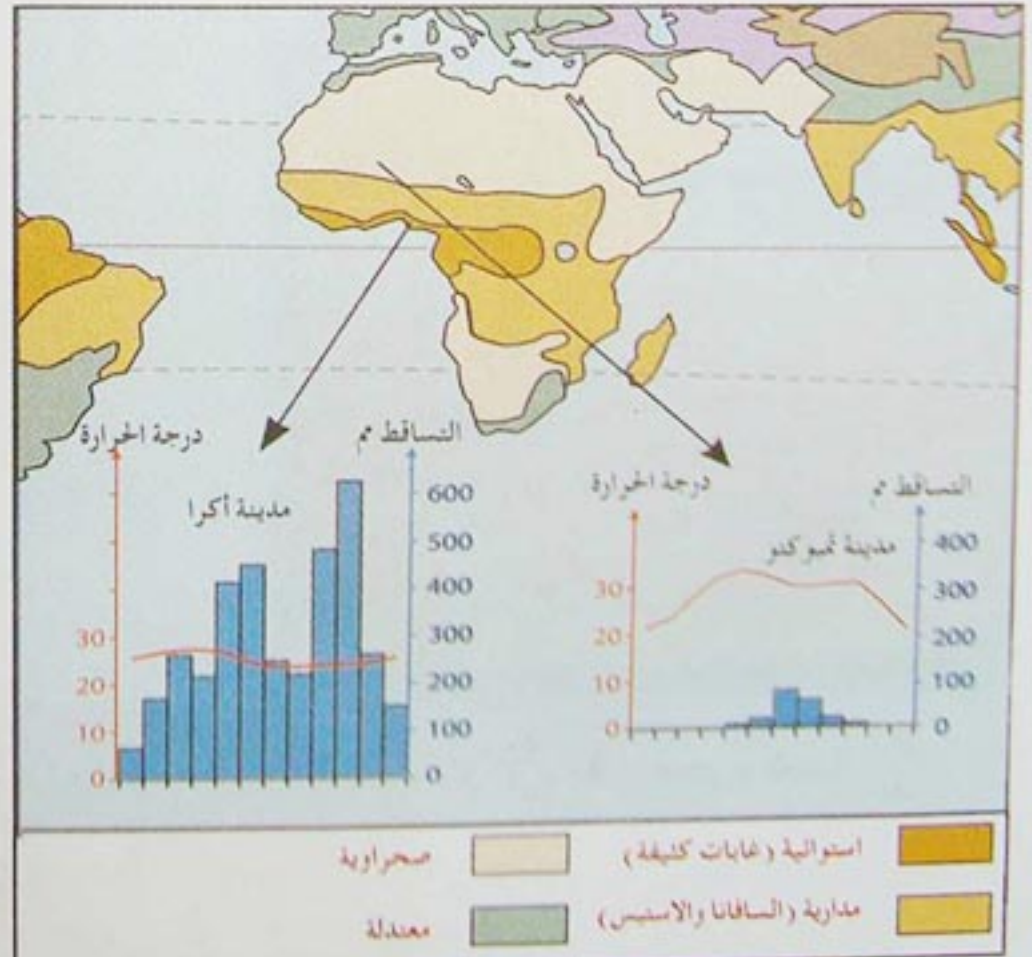


3 - توزيع السكان في افريقيا

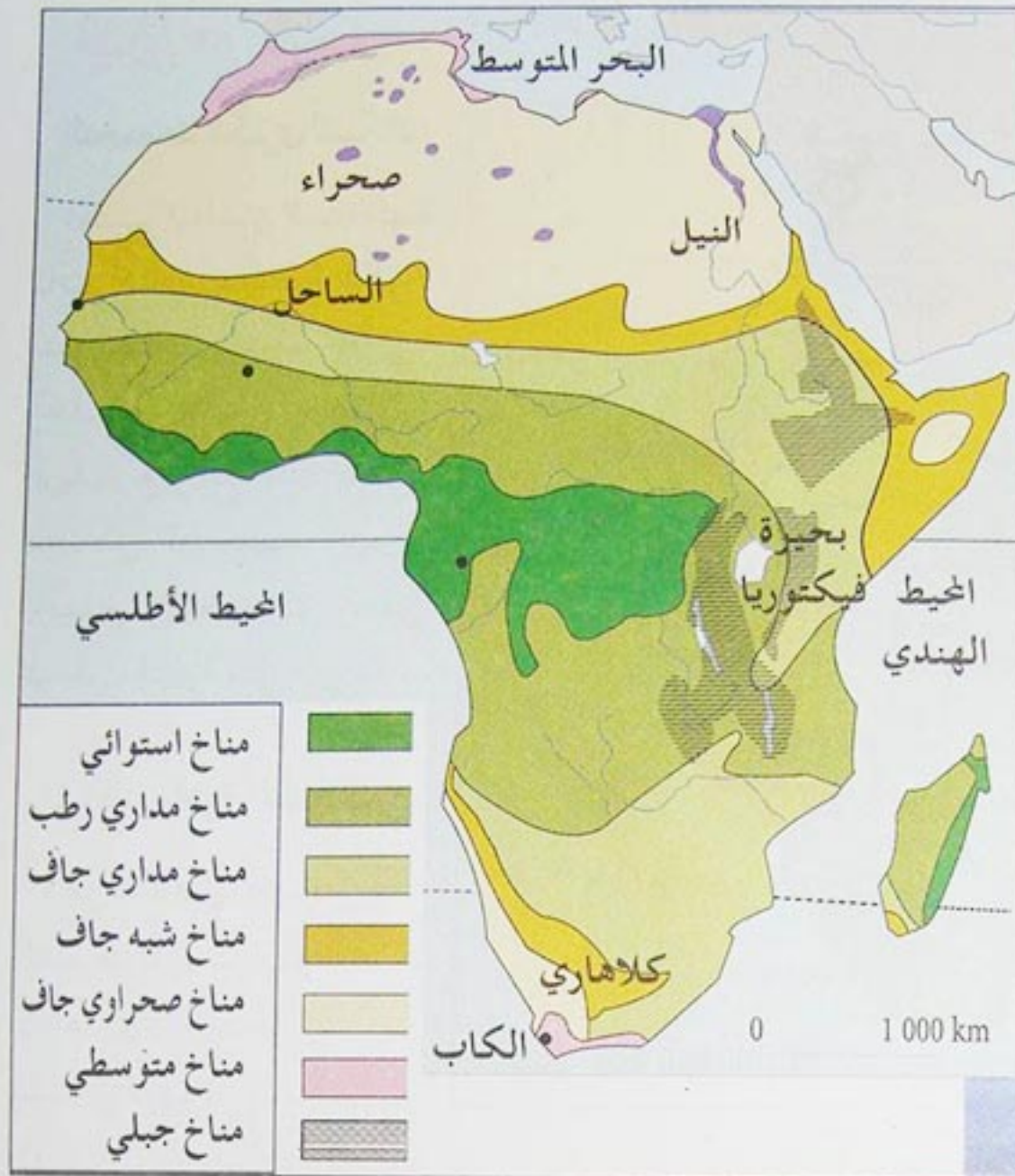
- اعتماداً على (الوثيقة 3)، سمّ مناطق تركز السكان في افريقيا.

- اعتماداً على (الوثيقة 4) بين العوامل المتحكمة في توزيع السكان في افريقيا.

- قارن بين مدينتي تمبوكتو وأكرا من حيث الحرارة والتساقط. ماذا تستنتج ؟




4 - المناطق المناخية في افريقيا




1 - الأقاليم المناخية في افريقيا



2 - الغابة والأحراش

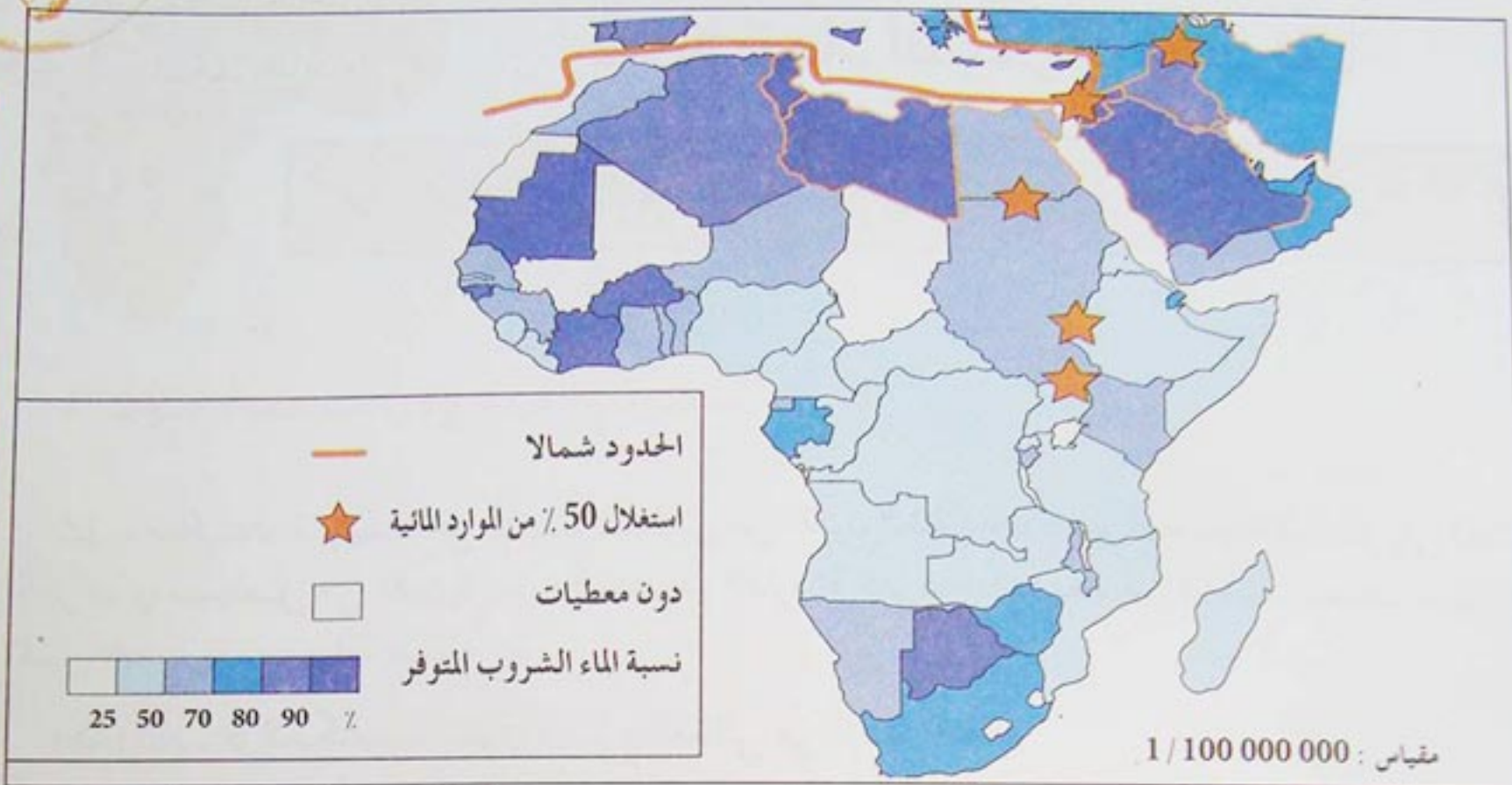


4 - صحراء ناميبيا




3 - منطقة السافانا

- اعتماداً على (الوثيقة 1) اذكر مميزات كل مناخ وارد فيها.
- اذكر لكل وثيقة من الوثائق (2، 3، 4) مناخها المناسب.
- بين أثر المناخ في توزيع سكان افريقيا.



5 - الماء في افريقيا



7 - سد كوسو في كوت دي فوار

إن أهم مشكل يطرح نفسه في افريقيا بحدة في الألفية الثالثة، هو مشكل الماء. فالأعداد المقدمة في الملتنقى الدولي للماء في مراكش يومي 22 و23 مارس 1997، تبين أن كمية الماء الصالحة للشرب في العالم بالنسبة للفرد قد تقلصت بـ 40% منذ سنة 1970. وأن 24 بلدا افريقيا يشهد بداية ندرة في الماء، (1000 م للفرد في السنة).

يتضاعف الطلب العالمي على الماء كل 20 سنة بسبب الري (70%)، وكذا ارتفاع استهلاك الماء في المدن.

Dossier et document du Monde; Octobre 1997

6

- اعتمادًا على (الوثيقة 5) بين وضعية الماء في قارة افريقيا.

- اشرح المشكل الذي يطرحه النص (الوثيقة 6) بالنسبة لقارة افريقيا.

- استنادًا إلى (الوثيقة 7) بين أهمية السدود في حل مشكل الماء في افريقيا.

- استنادًا إلى (الوثيقة 8)، اذكر أسباب ترحال السكان.



8 - الرّحل في الساحل الافريقي

2 - الانفجار الديمغرافي في افريقيا

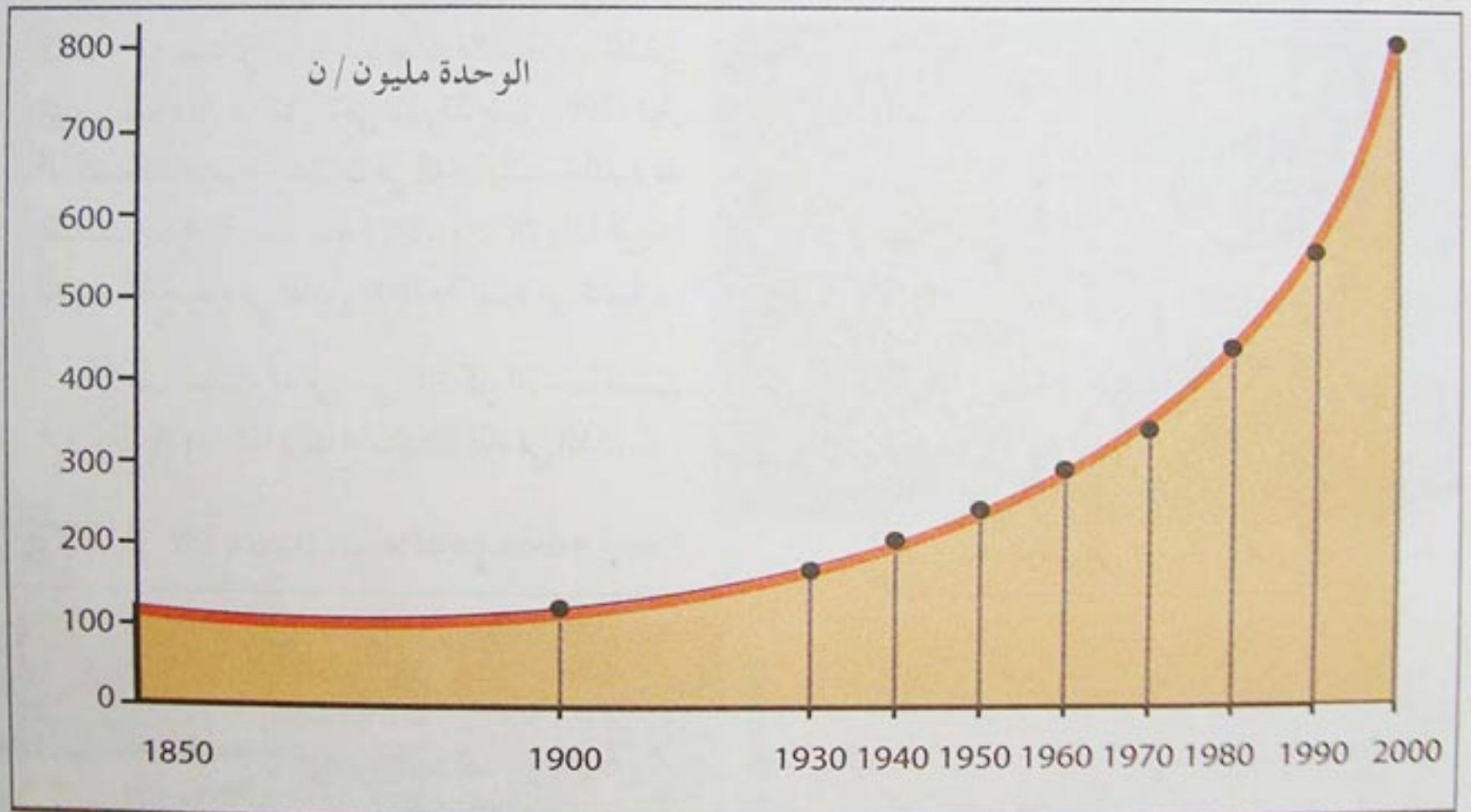
عرفت افريقيا انفجاراً ديمغرافياً انعكس على التنمية في القارة. كيف تفسّر ذلك ؟

1 - تزايد السكان في قارة افريقيا

شهد سكان افريقيا في النصف الثاني من القرن الـ 20 زيادة ديمغرافية سريعة، تصل إلى 3% . الأمر الذي سيجعل من القارة بعد 30 سنة، القارة الأكثر سكاناً بعد قارة آسيا. فنصف سكانها تقل أعمارهم عن 20 سنة.

وهذه الزيادة السكانية تفوق الإنتاج الغذائي في الوقت الحاضر.


تشهد القارة بالإضافة إلى مشاكل التخلف والفقير، صراعات ونزاعات عرقية وحروب أهلية.



1 - النمو الديمغرافي في افريقيا

- اعتماداً على (الوثيقة 1)، حدّد الفترة التي عرفت فيها افريقيا تزايداً سكانياً كبيراً.

- ماذا يترتب عن الزيادة السكانية في افريقيا ؟



2 - الزراعة المعيشية في بوركينا فاسو

ب - انعكاسات الانفجار الديمغرافي

لقد أدى الانفجار السكاني الحالي في إفريقيا إلى خطر، يجعل القارة عرضة لنقص في التصنيع واتساع رقعة المجاعات.

حسب المنظمة العالمية للزراعة، فإن الإنتاج الزراعي تقلص بـ 10% بين سنة 1970 و 1980، بل بلغ 20% في بعض الدول. وارتفع عدد الفقراء من 27 مليون في السبعينات إلى 98 مليون سنة 1990، ليصل إلى 127 مليوناً في سنة 2000.

أما في سنة 2020 فسوف تعيل إفريقيا 50% من سكانها بإمكانياتها الخاصة. ويقل الدخل الفردي في بعض البلدان ليصل إلى 500 دولار سنوياً.



3 - النزوح نحو المدينة

النزوح الريفي

يمس النزوح الريفي فئات الشباب بشكل متزايد في بلدان إفريقيا، إضافة إلى الهجرة الخارجية نحو البلدان المصنعة، بحثاً عن العمل. وينجر عن ذلك فراغ الأرياف إلا من الشيوخ والنساء والأطفال، وزيادة البطالة في المدن، وانتشار الآفات الاجتماعية.

- بين أثر الانفجار الديمغرافي على قارة إفريقيا.

- من خلال (الوثيقة 2) قارن بين الزراعة المعيشية ونمو السكان في القارة. ماذا تستخلص ؟

- استناداً إلى (الوثيقة 3)، بين أسباب النزوح الريفي في إفريقيا، وماذا ينجم عن ذلك ؟



2 - مستوصف في أبيدجان

تبلغ الزيادة الطبيعية
في بعض بلدان
افريقيا 50 بالالف. وقد
بلغ عدد السكان في
سنة 1960، حوالي 285
مليون/ن. أما في سنة 1984
فقد بلغ 660 مليون نسمة،
ليصل إلى 814 مليون نسمة
عام 2000.

1




3 - روضة الأطفال في بلد إفريقي

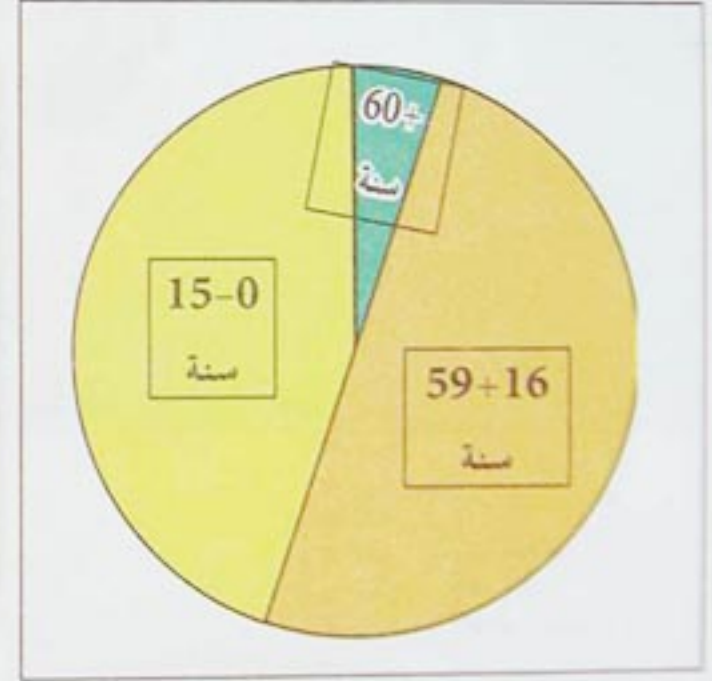
- قارن بين الوثيقتين (1، 2)، ماذا تستخلص ؟
- ماذا تستنتج من (الوثيقة 3) ؟
- ماذا يترتب عن الانفجار الديمغرافي في قارة افريقيا ؟

الدولة	المساحة / كم ²	السكان (نسمة)	الكثافة السكانية (ن / كم ²)
- نيجيريا	923 768	129 934 911	140
- مصر	1 001 449	70 712 345	70,61
- اثيوبيا	1 127 127	67 673 031	60,04
- ج جنوب افريقيا	1 219 912	43 647 657	35,78
- الكونغو الديمقراطية	2 345 410	55 225 412	23,55
- الجزائر	2 381 741	31 000 000	13,00
- المغرب	446 550	31 167 783	69,80
- السودان	2 505 813	37 090 298	14,80
- كينيا	582 646	31 138 735	53,44

4 - الدول الافريقية الأكثر سكانا (2003)



6 - قسم دراسي ببماكو في مالي



5 - تركيب السكان حسب الفئات الكبرى للأعمار

- رتب الدول الواردة في (الوثيقة 4) حسب عدد السكان.
 - من خلال (الوثيقة 5)، بين الفئة الأكثر عددا، وما أثر ذلك على التنمية ؟
 - ماذا تستنتج من (الوثيقة 6) ؟ علل ذلك.

3 - الموارد الطبيعية ومعوقات التنمية في قارة افريقيا

تمتلك افريقيا موارد طبيعية متنوعة، إلا أن هناك معوقات حالت دون تحقيق التنمية المطلوبة. إلام يعود ذلك ؟

الموارد الطبيعية

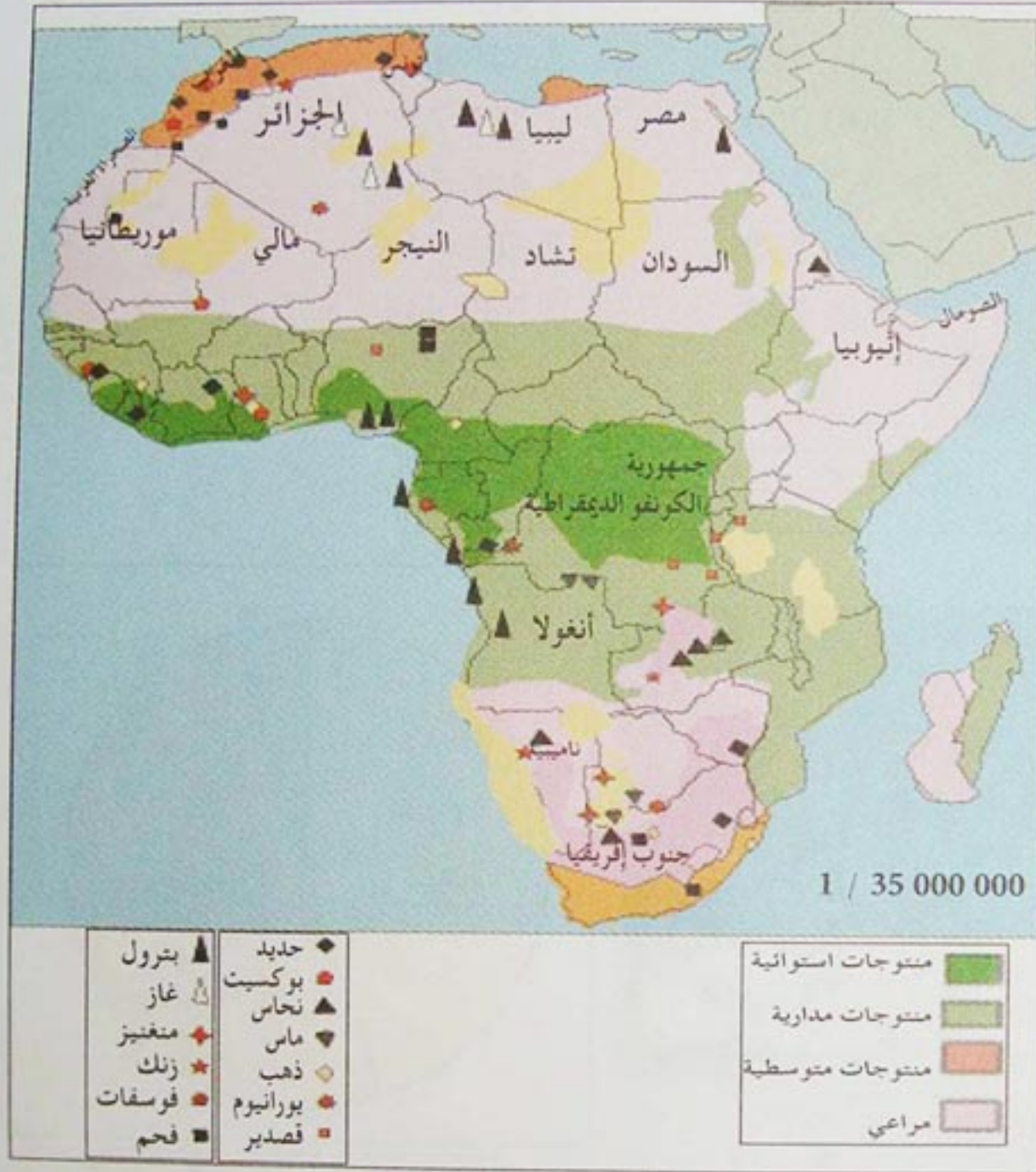
تمتلك افريقيا موارد طبيعية متنوعة، من بترول وغاز، ومناجم للمعادن الثمينة، كالذهب والماس والأورانيوم. تتوزع حسب المناطق الجغرافية الآتية:

أ - المنطقة المتوسطة: تتمثل في بلدان شمال افريقيا الغنية بالموارد المعدنية والطاقة.

ب - المنطقة الاستوائية والمدارية: تشتهر بالموارد الطبيعية المدارية كالقطن والموز.

وغنية بمعادنها وثرواتها الخشبية، في حين يتميز الجزء الشرقي منها بالطابع الجبلي الذي توجد فيه بحيرة فيكتوريا التي ينبع منها نهر النيل.

ج - المنطقة الجنوبية: وهي غنية بالموارد المعدنية الثمينة.




1 - الموارد الطبيعية في افريقيا

- من خلال (الوثيقة 1) عدّد الموارد الطبيعية في افريقيا.
- تمتاز افريقيا الشمالية بموارد معدنية وطاقة. اذكر موارد أخرى.
- ماهي الموارد المدارية الاخرى التي تشتهر بها افريقيا الغربية ؟
- ما أهمية نهر النيل بالنسبة لافريقيا الشرقية ؟
- ماهي الموارد المائية الاخرى في افريقيا ؟
- ماهي المعادن الثمينة الموجودة في منطقة جنوب افريقيا ؟

معيقات التنمية في افريقيا :

رغم غنى افريقيا بالموارد الطبيعية المتنوعة، إلا أنها تعاني من عدة معيقات طبيعية وبشرية.



5 - منطقة صحراوية
في افريقيا



6 - اللاجئين في اثيوبيا

- افريقيا غنية بمواردها الطبيعية، غير أن استغلالها ضعيف. كيف تفسر ذلك ؟
- تعاني افريقيا من معيقات طبيعية وبشرية، عددها.
- تبرز (الوثيقتان 6,5) معيقات، تعرقل عملية التنمية في افريقيا. صنفها مع التوضيح.



1 - الغاز الطبيعي

شهدت دول افريقيا بعد استقلالها بداية تصنيع، غلب عليه طابع تحويل المواد الأولية الزراعية، واستخراج البترول والغاز الطبيعي، والمعادن الموجهة للتصدير. تساهم الشركات الأجنبية في ذلك بشكل واسع. أما الإنتاج فيعاني من منافسة السلع المستوردة من الخارج.

- من خلال (الوثيقة 2) بين مكانة افريقيا العالمية من حيث الموارد الطبيعية. وما أهمية هذه الموارد في تنمية القارة ؟
- معظم الموارد الطبيعية في افريقيا موجهة للتصدير. لماذا ؟ وما أثر ذلك على التنمية في القارة ؟
- وضح خصائص الصناعة في افريقيا.

الرتبة العالمية	كمية الإنتاج	الدول المنتجة	الموارد
6	227051 ألف طن (2001)	جنوب افريقيا	الفحم
5	80 مليار م ³ (2002)	الجزائر	الغاز الطبيعي
1	21300 ألف قيراط (2002)	بوتسوانا	الماس
4	9100 ألف قيراط (2002)	الكونغو الديمقراطية	
5	5400 ألف قيراط (2002)	أنغولا	
1	399234 كغ (2002)	جنوب افريقيا	الذهب
6	2300 ألف طن (2002)	تونس	الفوسفات
1	1504 ألف طن (2002)	جنوب افريقيا	المنغنيز
6	810 ألف طن (2002)	الغابون	
8	23350 ألف طن (2002)	جنوب افريقيا	الحديد
1	1000 ألف طن (2003)	كوت ديفوار	كالكاو
3	380 ألف طن (2002)	غانا	
9	198 ألف طن (2003)	كوت ديفوار	البن
9	69482328 م ³ (2002)	نيجيريا	الأخشاب

2 - بعض الموارد الطبيعية في افريقيا



يغلب على كل من رواندا وبوراندي الكثافة السكانية المرتفعة، 202 ن / كم² في بوراندي، و282 ن / كم² في رواندا. وهي في تزايد مستمر، بسبب الانفجار الديمغرافي في البلدين. ويعود النزاع العرقي المسلح بينهما (1994) إلى مشكل ندرة الأراضي بالنسبة للسكان. فكلما حصدت الحرب عددا من الفلاحين، كلما تضاءل بعضهم الآخر بإمكانية امتلاك مزيد من الأراضي.

Geographie Universel 'Belin -Reclus' 1994

3

4 - مخطط اتجاهات اللاجئين

- اعتمادا على (الوثيقة 3) بين سبب النزاع العرقي بين رواندا وبوراندي؟ وما نتائج ذلك النزاع؟
- اشرح المخطط الوارد في (الوثيقة 4).
- علام تدل (الوثيقة 5)؟



5 - تقديم مساعدات غذائية للاجئين



انتظمت شعوب قارة افريقيا بعد حصولها على الاستقلال في منظمة الوحدة الافريقية التي تحولت أخيرا إلى الاتحاد الافريقي. لماذا هذا التحول ؟

منظمة الوحدة الافريقية

منظمة الوحدة الافريقية، منظمة دولية قارية تم إنشاؤها في ماي 1963 بعاصمة اثيوبيا أديس أبابا التي أصبحت مقرا لها.

بلغ عدد الدول المؤسسة للمنظمة 32 دولة. هي : الجزائر - بوراندي - الكامبيرون - جمهورية افريقيا الوسطى - التشاد - الكونغو - جمهورية الكونغو الديمقراطية - بنين - اثيوبيا - غابون - غانا - غينيا - كوت ديفوار - ليبيريا - ليبيا - مدغشقر - مالي - موريتانيا - المغرب - النيجر - نيجيريا - رواندا - السنغال - سيراليون - الصومال - السودان - تانزانيا - طوغو - تونس - اوغندا - جمهورية مصر العربية - بوركينا فاسو.



1- الوزير الأول لدولة غانا (نكروما) يعلن الاستقلال 1957

بجهود منظمة الوحدة الافريقية

رغم الصعوبات التي اعترضت المنظمة منذ نشأتها، فقد أبرزت قيمة القارة الافريقية دوليا، بإسهامها في تسوية الخلافات التي وقعت بين دول الأعضاء. (كالنزاع الايريتريري - الاثيوبي) في لقاء الجزائر 2000، واشتركت في تنمية التعاون الاقتصادي والاجتماعي في القارة، وعملت على تنظيم الكفاح المشترك ضد الاستعمار. فوحدت كلمة افريقيا في المحافل الدولية عامة، وفي الامم المتحدة خاصة.



2 - عند خط المواجهة في ليبيريا بعد اتفاق السلام 1993

- فيم تكمن أهمية منظمة الوحدة الافريقية بالنسبة لافريقيا ؟

الاتحاد الافريقي.

بعد موافقة وإمضاء ثلثي أعضاء منظمة الوحدة الافريقية في لومي (طوغو)، تم إنشاء الاتحاد الافريقي رسميا في مارس 2001 خلفا لمنظمة الوحدة الافريقية.

وانطلق الاتحاد في أشغاله يوم 09 جويلية 2002 في دوربان (جنوب افريقيا)، من أجل:
- الوحدة والتضامن بين الشعوب الافريقية.

- اندماج سياسي واجتماعي واقتصادي للقارة.

- السلم والأمن والاستقرار.

- العمل على توسيع مبادئ الديمقراطية، وضمان حقوق الإنسان.

- التنمية، الاقتصادية والاجتماعية والثقافية.

للمساهمة الايجابية في الاقتصاد العالمي.

هيئات واجهزة الاتحاد.

1 - مؤتمر قمة الاتحاد

2 - المجلس التنفيذي

3 - البرلمان الافريقي

4 - الهيئة القضائية

5 - أمانة الاتحاد

6 - لجنة الممثلين الدائمين

7 - اللجان التقنية المتخصصة

8 - المجلس الاقتصادي والاجتماعي والثقافي

9 - الواجهة المالية

مفردات ومصطلحات

المؤتمر : لقاء يجمع أعضاء الهيئات

أو رؤسائها .

البرلمان : هيئة تشريعية منتخبة.



3 - من الوحدة إلى الاتحاد



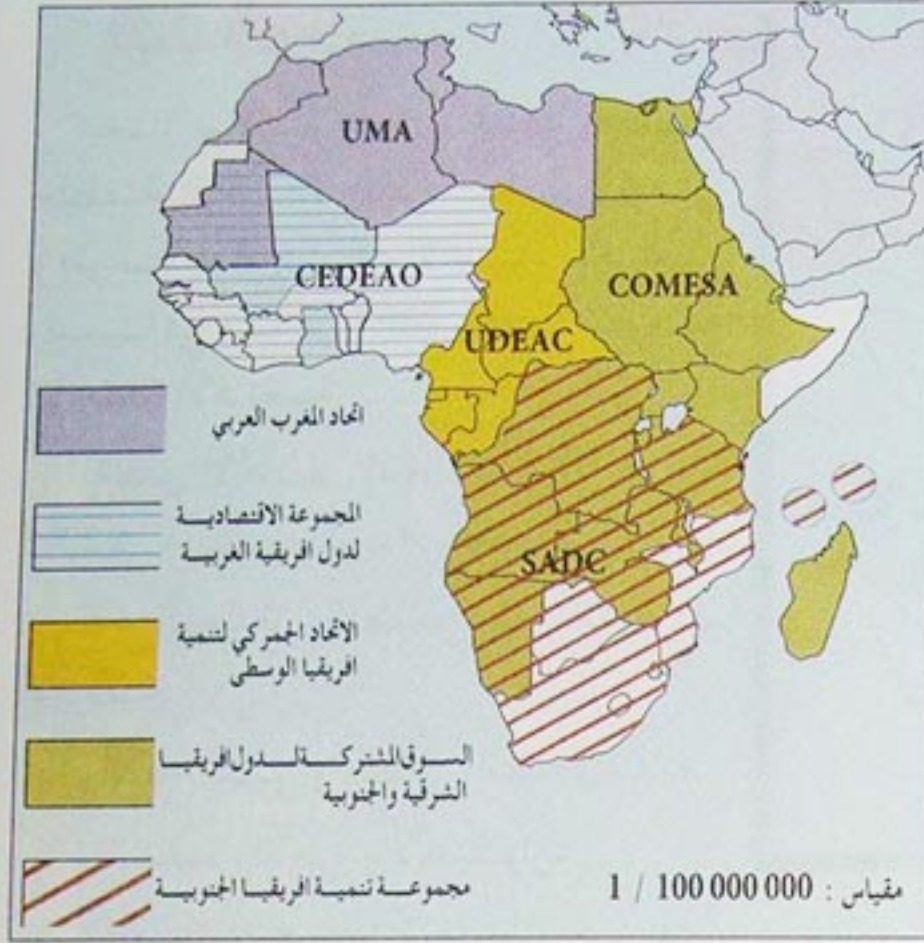
4 - شعار الاتحاد الافريقي

- تأسس الاتحاد الافريقي بدلا من منظمة الوحدة الافريقية.

ما الفرق بين التنظيمين في نظرك ؟

- حدّد أهداف الاتحاد الافريقي.

- اذكر بعض عناصر ودلالة شعار الاتحاد الافريقي.



2 - المنظمات الإقليمية في افريقيا



4 - مخيم جوما للاجئين من الحرب الأهلية في رواندا

النمو. وعلى سبيل المثال فإن حق افريقيا من الاموال المستثمرة والموجهة إلى البلدان النامية، أصبح يتناقص باستمرار 27% سنة 1980، و 8% سنة 1996. في حين تعرف كل من الصين والبرازيل والمكسيك وسنغافورة وأندونيسيا تدفقات مالية متزايدة 41% سنة 1990 و 55% سنة 1998

.H.G.Casteilla

3

تحاول الدول الافريقية أن تنشئ
تنظيمات اقليمية مثل : اتحاد
المغرب العربي (UMA)، والمجموعة
الاقتصادية لدول افريقيا الغربية
(CEDEAO)، والاتحاد الجمركي لتنمية
افريقيا الوسطى (UDEAC)، والسوق
المشتركة لدول افريقيا الشرقية
والجنوبية (COMESA)، ومجموعة
تنمية افريقيا الجنوبية (SADC).

وترمي كل هذه المنظمات إلى تنمية
القارة وحل مشاكلها، غير أنها تعاني من
صعوبات، تتمثل في غياب منشآت النقل
بين بلدانها، ووجود الحواجز الجمركية.
شرعت كل من السنغال ونيجيريا
وافريقيا الجنوبية والجزائر منذ سنة 2000
في بعث مخطط تنمية افريقيا تحت
اسم: الشراكة الجديدة لتنمية افريقيا
(NEPAD)، وهو في حاجة إلى تمويل
من الدول المتقدمة وكذا التخفيف من
ديون افريقيا.

1

إن توزيع ثمار العولمة يتم بشكل
غير عادل، ويزيد من حدة تفاوت النمو
الاقتصادي في البلدان السائرة في طريق

- ظهرت منظمات إقليمية عديدة في افريقيا، ما الهدف من إنشائها ؟
- اعتمادا على (الوثيقة 3)، اذكر بعض معوقات التنمية في افريقيا وما هي الحلول المناسبة لها ؟

كان لا بد على الدول الافريقية المستقلة أن تنهج سياسة عقلانية من أجل :

- النهوض بالقطاع الزراعي، بما يستجيب لحاجيات السكان الغذائية المتزايدة، ويحافظ على الأرض من الانجراف.
- مكافحة الأمراض المعدية .
- الإكثار من بناء المدارس والمستشفيات.
- إنجاز شبكة مواصلات ملائمة وسريعة.
- إقامة السدود وإنشاء المصانع.

يحتاج هذا التحول الذي تتطلبه التنمية إلى وقت طويل، وجهود مضمّنية، وأموال ضخمة.

افريقيا الجديدة

5



7 - طلبة في جامعة ابادان (نيجيريا)



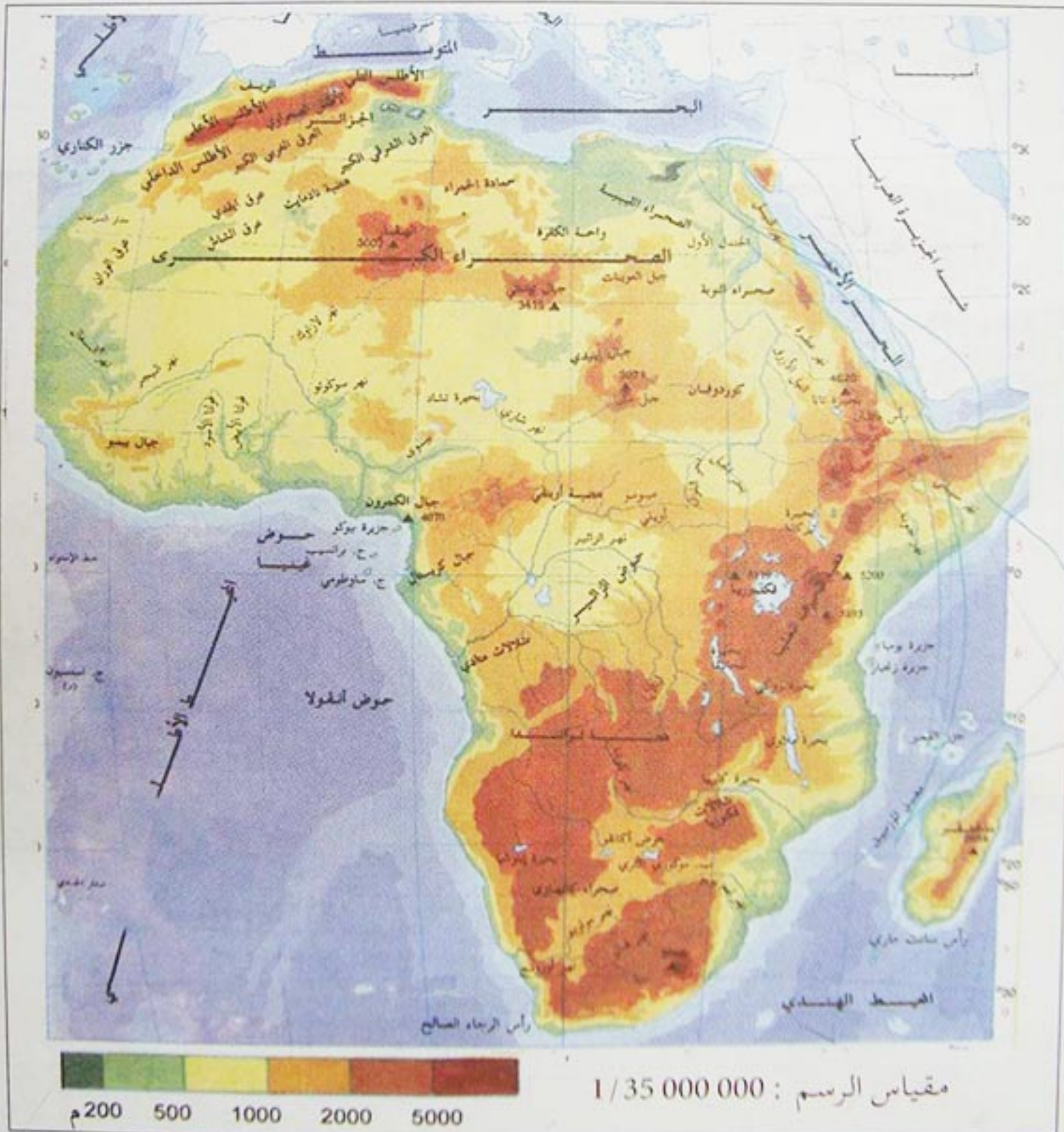
6 - من تقاليد افريقيا

- عم يتحدث النص (الوثيقة 5) ؟ ما رأيك في ذلك ؟
- ما الذي تمثله الوثيقتان (6 ، 7) ؟

المناطق الجغرافية الكبرى في افريقيا

- يُقصَدُ بالمناطق الجغرافية في هذا الملف تلك المراكز الكبرى للتجمعات السكانية في افريقيا. وهي :
- السواحل الشمالية (المتوسطة)
 - السواحل الشرقية.
 - السواحل الغربية.
 - أحواض الأنهار الكبرى (النيل - الكونغو - النيجر - السنغال).
 - منطقة البحيرات الكبرى (فيكتوريا).
 - السواحل الجنوبية (افريقيا الجنوبية)


1



2 - قارة افريقيا الطبيعية




4 - ميناء أبيدجان (كوت ديفوار)



3 - القاهرة (عاصمة مصر)




6 - منتوجات مدارية (افريقيا الغربية)



5 - نهر النيل (السودان)

- استعن بـ (الوثيقة 2) وبين المناطق الجغرافية المذكورة في (الوثيقة 1) .
- ما دلالة تنوع وتباين المناطق الجغرافية للقارة ؟
- اشرح عناصر التكامل والاختلاف بين المناطق الجغرافية للقارة .
- اربط (الوثائق 3,4,5,6) بمنطقتها الجغرافية، مبرزاً خصائصها .



1 - حي قصديري في أبيدجان

لا تزال مدن افريقيا أقل سكانا بالنسبة لمدن العالم، حيث تمثل 40 % من السكان. لكنها تعرف في الوقت الحالي زيادة من أسرع الزيادات في العالم. ويرتبط ذلك بالزيادة الديموغرافية الكبيرة و النزوح الريفي.


إذا كان عدد سكان قارة افريقيا يبلغ 814 مليون نسمة.

- احسب الزيادة الطبيعية لسكان القارة حسب نسبة 32 بالالف .

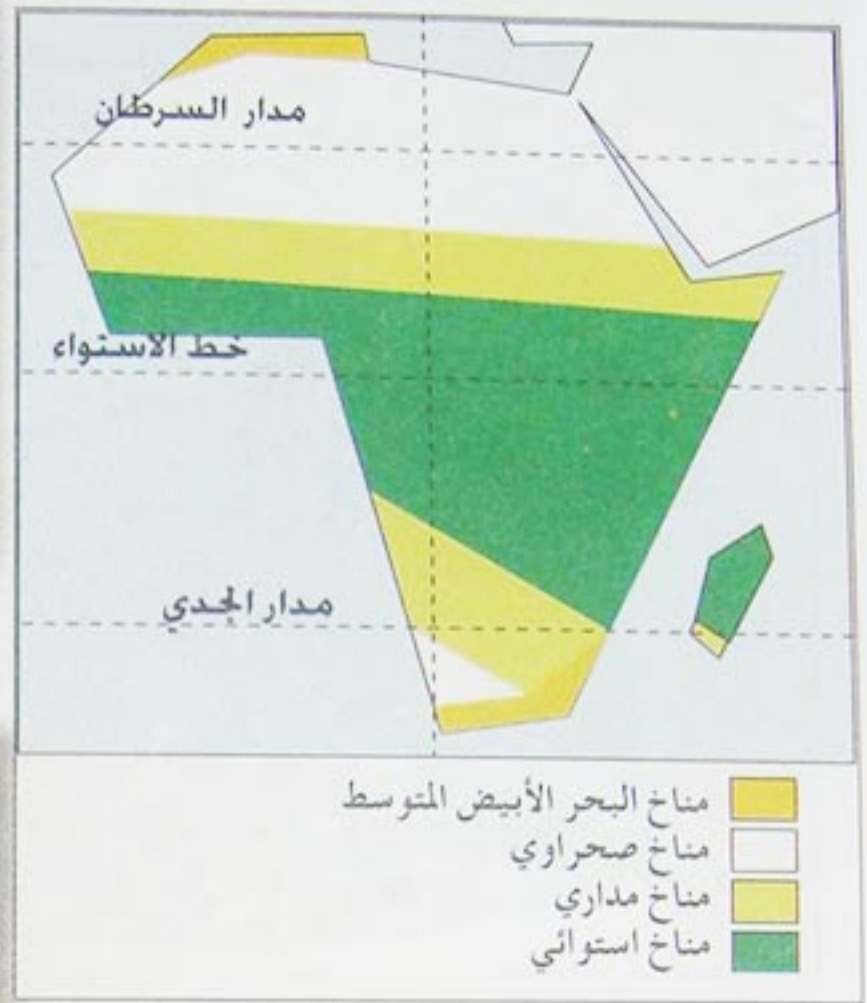
- إلام تعود تلك الزيادة الطبيعية ؟

- ما هو المشكل الذي تطرحه الزيادة الديموغرافية الكبيرة في افريقيا ؟

- بين التناقض الذي تبرزه (الوثيقة 1).



3 - جنوب افريقيا



2 - المناخ في قارة افريقيا



4 - منطقة الهقار في الجزائر

- اعتمادا على (الوثيقة 2)، انسب كل صورة (3، 4، 5) إلى إقليمها المناخي، ثم اذكر مميزات كل إقليم.
- عرّف مناخ البحر الأبيض المتوسط، واذكر المناطق التي يسود فيها بالنسبة لافريقيا.



5 - حظيرة في تانزانيا

للطالعت



مسكن تقليدي من (الطوب) في شمال طوغو

فلاحو افريقيا

شعب يحيا أم شعب يُنحى !

بقلم : جان - مارك ايلا

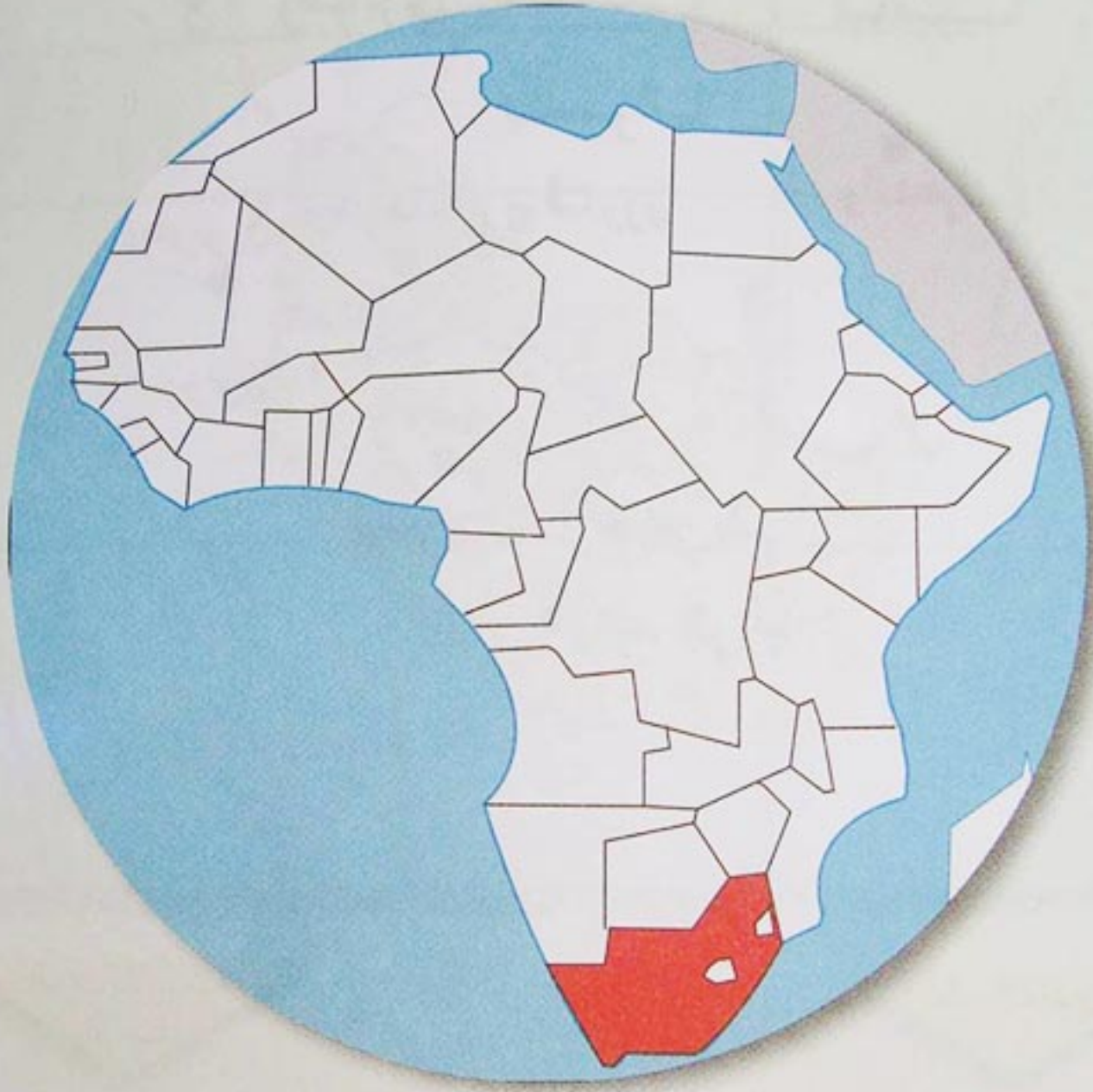
(نحن نعرف أننا فلاحون، وأن الطيور لا تخلق جميعها على ارتفاع واحد. إننا لا نتطلع إلى ثراء أهل المدن، ولكننا نود أن نحيا حياة أفضل).

يستطيع المرء أن يدرك المغزى الكامل لهذه العبارات التي أدلى بها واحد من شيوخ بيالا (قرية ضائعة في بيضاء منطقة الساحل). عندما يعلم أنه برغم زيادة التوسع الحضري بصورة مذهلة ومن غير ضوابط، وبرغم النتائج المؤلمة التي كثيرا ما أسفرت عنها، فإن افريقيا لا تزال قارة ريفية في معظمها. وفلاحو هذه القارة قوم قلما تعبأ بشؤونهم أجهزة الإعلام، ما لم يجبرها على ذلك - أدوات كوارث طبيعية أو تعرضها لضغوط دولية.

ما الذي يعرفه أهل المدن الكبرى عن ظروف حياة ملايين الافريقيين ومصاعبهم وأمانيتهم، ملايين كتب عليها أن تستسلم للعجز وتلوذ بالصمت؟ في افريقيا هذه التي يتفشى فيها داء العواصم الكبرى. أليسوا فلاحين أولئك الهامشيون الذين يفضي بهم طريق الهجرة من الريف إلى حياة البطالة والبؤس في أحياء الصفيح التي يزداد انتشارها بأطراد؟ وقصارى القول هل فلاحو افريقيا شعب يحيا أم شعب ينحى؟

جان - مارك ايلا. قس ومعلم كامبروني يشرف على تنفيذ مشروع يحمل اسم (مدرسة بلا أسوار)

الوحدة التعليمية الخامسة



جمهورية جنوب أفريقيا

موقع عيون البصائر التعليمي

elbassair.net

elbassair.net

جمهورية جنوب افريقيا

تعرف جمهورية جنوب افريقيا منذ 1990، انسجاما بين السكان البيض والسكان السود بعد فترة طويلة من الميز العنصري - كيف تحقق ذلك ؟




العقد التعليمي

الرمدة التعليمية
القاسم

في نهاية الوحدة التعليمية (جنوب افريقيا) تكون قادرا على :

- التعرف على الواقع السكاني لجنوب افريقيا بين الماضي والحاضر.
- التعرف على الظاهرة الديمغرافية وتحديد العوامل المتحركة في توزيع السكان.
- ربط العلاقة بين الموارد الطبيعية والمستوى المعيشي للسكان.
- تحديد مكانة جمهورية جنوب افريقيا في القارة والعالم.

- واقع السكان في جمهورية جنوب افريقيا
- النمو الديموغرافي وتوزيع السكان
- السكان والتنمية
- مكانة جمهورية جنوب افريقيا في القارة والعالم
- ملف : الميز العنصري (الابارتيد)



مدينة الكاب في جنوب افريقيا



معدن الماس ثروة جنوب افريقيا



من حيوانات جنوب افريقيا

بطاقة التعريف بجنوب افريقيا :

- ما ميزة موقع جنوب افريقيا في القارة ؟
- ما هي دلالات معطيات بطاقة التعريف لجنوب افريقيا ؟

- المساحة : 1 219 912 كم²
- عدد السكان : 43 647 657 / ن (2003)
- الكثافة السكانية : 35,78 ن / كم²
- أمد الحياة : 54 سنة
- نسبة الولادات : 25 بالالف
- نسبة وفيات الأطفال : 57 بالالف
- الدخل الفردي : 2600 دولار (2002)

1- واقع السكان في جنوب إفريقيا

البحث عن
المعلومات

يتميز مجتمع جنوب إفريقيا بالتنوع البشري واللغوي. ما أسباب ذلك؟



1- من البوشمن

أ- التنوع البشري :

يتشكل مجتمع جنوب إفريقيا من عناصر بشرية مختلفة، هي :
- السكان الأصليون : هم من السلالة السوداء التي تمثلهم جماعة الزولو بـ 20%، وجماعة البانتو (الهوتنتوت والبوشمن).
- السكان البيض : استوطنت المنطقة عناصر أوروبية مختلفة عن طريق الهجرة بعد اكتشافها، تمثل العناصر الغالبة من :



2 - من الزولو

- الهولنديين : أول من استوطن المنطقة ويطلق عليهم اسم البوير

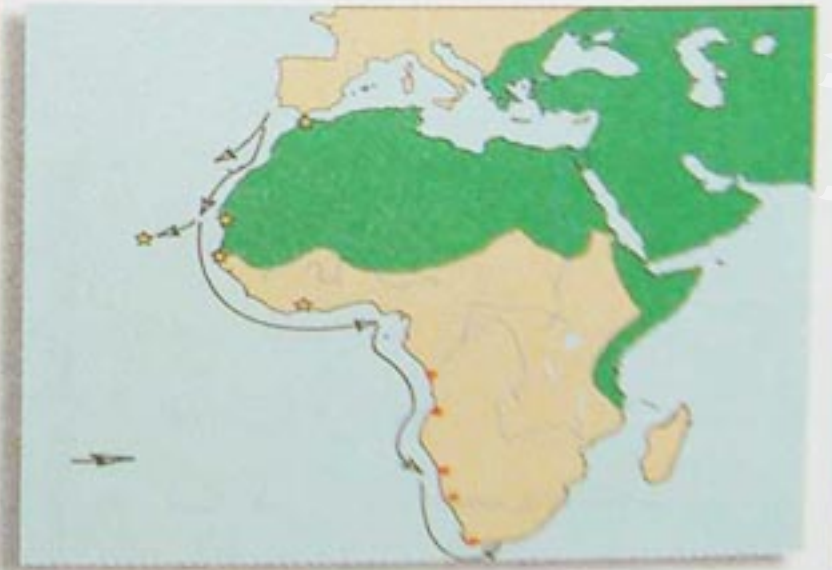
- الانجليز : بعد اكتشاف الماس والأقلية من ألمان وفرنسيين، وعناصر بشرية أخرى غير أوروبية كالأسيويين خاصة من الهند، حيث جاءت بهم بريطانيا كيد عاملة.

اكتشاف واستيطان جنوب إفريقيا

يعتبر البرتغالي بارتليميو دياز أول أوروبي قدم إلى جنوب إفريقيا 1488، ماراً برأس الرجاء الصالح. وفي 1498 وصل زميله فاسكو دي غاما إلى سواحل ناتال دون استعمارها.

أما أول من دخل جنوب إفريقيا فهم الهولنديون كفلاحين، يطلق عليهم اسم البوير. ثم قدم الانجليز الذين سيطروا على رأس الرجاء الصالح 1795، وعلى مستوطنة الكاب 1814.

ونتيجة لتلك الهجرات تشكلت مجموعتان متميزتان من السكان الأوربيين: 60% هولنديون يسمون بالافريكانز، و37% انجليز. وبعد صراع طويل بين المجموعتين انتهى باتحادهما ضد السود.



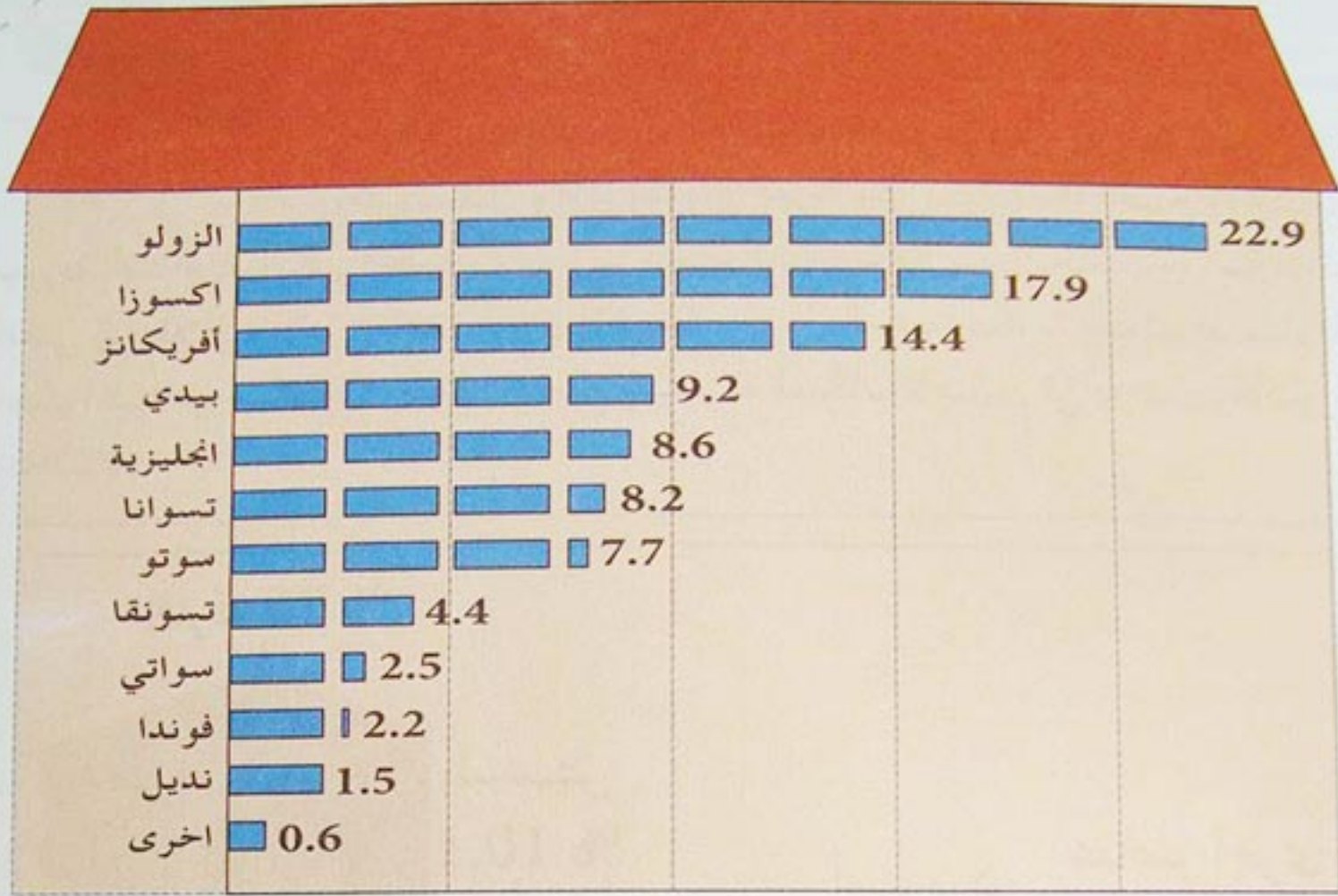
3 - الرحلات البرتغالية

- عدد العناصر البشرية التي استوطنت جنوب إفريقيا.


- كيف تم الاستيطان الأوربي لجنوب إفريقيا؟ وماذا نجم عنه؟

مفردات ومصطلحات

البوير : تسمية اطلقت على فلاحين هولنديين.
افريكانز : تسمية اطلقت على الهولنديون بعد اتحاد السكان البيض (هولنديين - انجليز)



4 - اللغات في جنوب افريقيا %



6 - الديانات في جنوب افريقيا

ب - التنوع الثقافي:

يتميز مجتمع جنوب افريقيا بالتنوع الثقافي، وهذا ما أدى إلى تعدد اللغات، إذ هناك 11 لغة رسمية. وتعد الأفريكان والانجليزية أكثرهما استعمالاً. كما تنوعت الديانات، فالمسيحية البروتستانتية أكثرها انتشاراً، إذ يعتنقها $\frac{4}{5}$ من مجموع سكان جنوب افريقيا.

ج - التفرقة العنصرية.

مارس المستوطنون الاوروبيون الابرارتيه ايزاء السكان الاصليين منذ 1911، وذلك بسن قوانين خاصة بالسود، كتخصيص مساحات من الاراضي لهم خارج المدن، وابعادهم عن المناطق التي يقطن فيها البيض، كما يستغلونهم في المناجم والاعمال المنزلية.

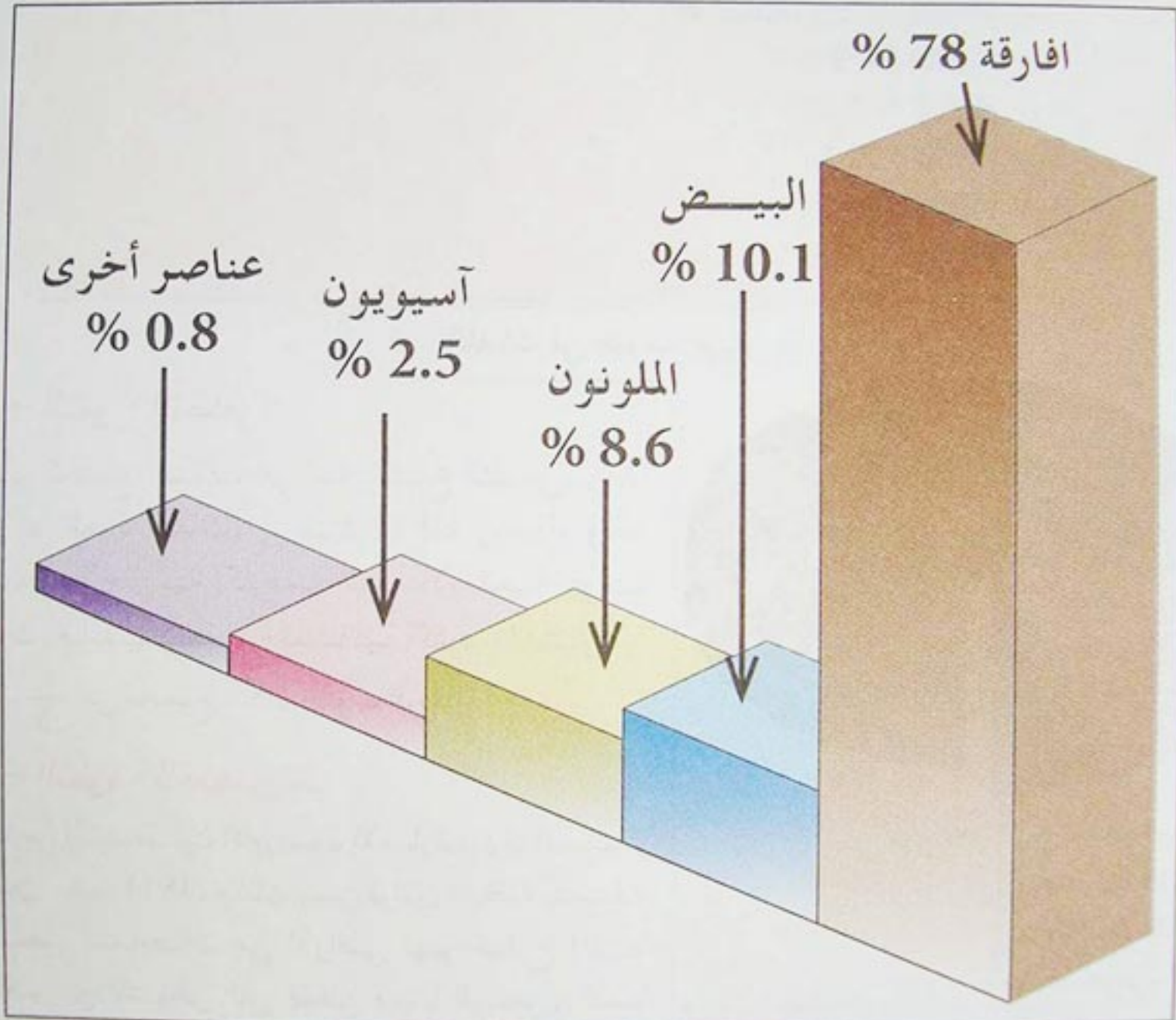
مفردات ومصطلحات

الابرارتيه: هي سياسة مارسها البيض للتمييز بينهم وبين السود، من حيث الحقوق والواجبات.

- فيم يتمثل التعدد الثقافي في جنوب افريقيا ؟
- طُبِّق نظام الابرارتيه في جنوب افريقيا. ماهو؟
وماذا نجم عنه ؟

تم إنشاء اتحاد جنوب افريقيا 1910، ويضم رأس الرجاء الصالح والنااتال والترونسفال ودولة الأورانج الحرة. وفي سنة 1971 أصبح الاتحاد يسمى جمهورية اتحاد افريقيا، التي اعتمدت أسلوب التفرقة العنصرية والتمييز المجحف بين سكان البلاد، مما أفضى إلى قلاقل، وإلى مقاطعة الدول الافريقية والدول العربية لحكومة جنوب افريقيا، إلى أن تراجعت أخيرا عن سياستها، وقبولها اندماج ومشاركة السكان الأصليين في دواليب الحكم وتسيير شؤون البلاد.

1



2 - الأعراق البشرية في جنوب افريقيا

- يعرف سكان جنوب افريقيا الاستقرار والانسجام. فيم يتضح ذلك من خلال (الوثيقة 1) ؟
- ماذا تستنتج من (الوثيقة 2) ؟

الدولة	دخل الفرد السنوي بالدولار	نسبة الإنجاب بالألف	أمد الحياة	نصيب الفرد من الماء سنويا (م ³)
جمهورية جنوب افريقيا	2 600	2.8	54	1 154
ناميبيا	1 780	4.9	50	10 211
بوتسوانا	2 980	3.6	37	9 345
زمبابوي	-	4.0	42	1 584
موزمبيق	210	5.1	34	11 814

3 - مؤشرات التطور الاجتماعي في دول افريقيا الجنوبية (2002)



5 - مخطط افريقيا الجنوبية

عرفت جمهورية جنوب افريقيا خلال العشرية الأخيرة نمواً اقتصادياً بلغ 3%، وقد كرسّت الدولة مجهودات كبيرة لتحسين مستوى معيشة الأكثرية من السود، الذين كانوا في فقر مدقع، وسجلت بذلك ارتفاع نسبة السماء الشروب من 60 إلى 85%، ونسبة الاستفادة من الكهرباء من 32 إلى 70%، في حين ارتفع عدد المستفيدين من المساعدات الاجتماعية من 2 إلى 8 ملايين فرداً.

إن نسبة النمو الاقتصادي في جمهورية جنوب افريقيا لا تزال ضعيفة، لا تساعد الدولة على مكافحة الفقر والقضاء على الفوارق الاجتماعية والبطالة التي بلغت نسبة 30%، بالإضافة إلى مشاكل النزوح الريفي وتوسع الأحياء القصديرية في المدن الكبرى.

مجلة حصيلة العالم 2004

4

- لماذا يعتبر النمو الاقتصادي في جمهورية جنوب افريقيا غير كاف ؟
- ما القصد بالنزوح الريفي ؟
- كيف يمكن معالجة مشاكل الأحياء القصديرية ؟
- قارن بين جمهورية جنوب افريقيا والدول المجاورة لها من حيث مجال التطور الاجتماعي.
- انقل المخطط (الوثيقة 5) وحدّد عليه الدول الواردة في (الوثيقة 3).



2- النمو الديمغرافي وتوزيع السكان

تتميز جنوب افريقيا في القارة بتركيبتها البشرية ونموها الديمغرافي.
ما عوامل ذلك ؟



أ- النمو الديمغرافي

يبلغ عدد سكان جنوب افريقيا 45,5 مليون نسمة، وتحتل المرتبة الخامسة في قارة افريقيا. عرف عدد السكان نمواً بمعدل 0,26%.

1 - تطور السكان في جنوب افريقيا

النسبة %	فئة الأعمار
32,01%	- من 0 إلى 14 سنة
63,11%	- من 15 إلى 64 سنة
4,88%	- أكثر من 65 سنة

2 - فئة الأعمار

ب - تركيب السكان

- حسب العرق : يعتبر مجتمع جنوب افريقيا خليط من الأجناس البشرية التي تتمثل في : السود - البيض - الآسيويون - الملونون.
- حسب الأعمار : يتميز مجتمع جنوب افريقيا بارتفاع نسبة الشباب، أي أنه مجتمع فتى.
- حسب النشاط : تفوق نسبة السكان النشطين في قطاع الخدمات بـ 55.8% من مجموع السكان، ويعمل في قطاع الصناعة 32.8% ، بينما قطاع الزراعة بلغت 11.4% .

- اعتمادا على (الوثيقة 1) بين وضعية تطور السكان في جنوب افريقيا.

- ماذا تستنتج من (الوثيقة 2) ؟


- مثل فئات الاعمار بالهرم السكاني، وماذا تستنتج ؟

ج - توزيع السكان.


يتركز أغلب سكان جنوب افريقيا، في المنطقة الشرقية والشريط الساحلي الجنوبي، بكثافة تتجاوز 100 ن / كم²، في حين تبقى المنطقة الغربية شبه خالية (صحراء كلاهاري).

هناك تباين في توزيع السكان بين الريف والمدينة، إذ يتركز أغلبهم (52.6 %) في المدن الكبرى .

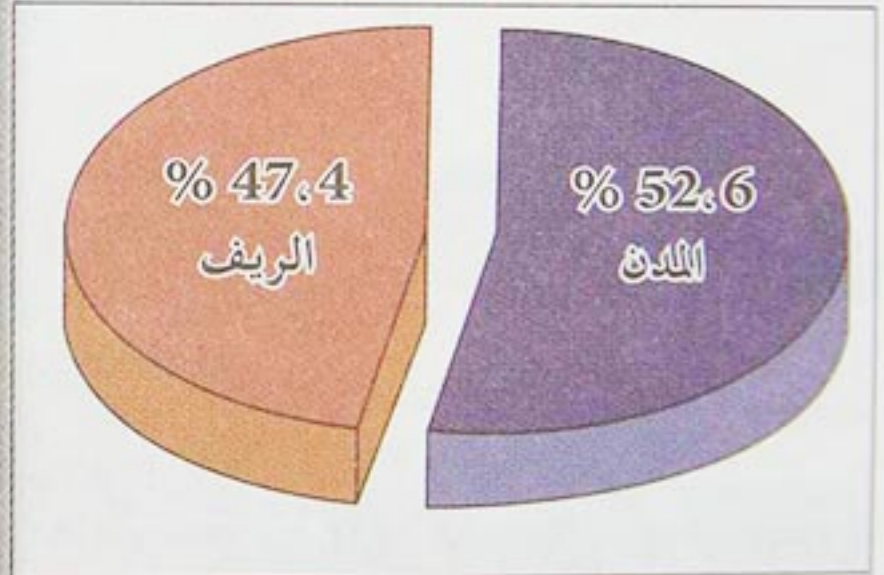
أكثر من 1/4 سكان جنوب افريقيا يتمركزون في جوهانسبورغ ومنطقة بريتوريا وما جاورها بنسبة 38 % من مجموع سكان المدن، مما ترتب على ذلك، اكتظاظ وتوسع المدن التي تجاوز عدد سكان بعضها 1 مليون نسمة.



3 - توزيع السكان في جنوب افريقيا



5 - مدينة بريتوريا




4 - توزيع السكان (ريف - مدن)

- اعتمادا على (الوثيقة 3)، حدّد مناطق تركّز سكان جنوب افريقيا ؟ ولماذا؟
- اعتمادا على (الوثيقة 4) كيف تفسر توزيع السكان بين الريف والمدن في جنوب افريقيا ؟

نمت مدن عديدة في جنوب افريقيا خلال وقت قصير. فجوهانسبورغ التي لم يكن لها وجود قبل 80 عاما أصبحت الآن مدينة يسكنها قرابة مليوني نسمة. أما كيب تاون فعدد سكانها يتعدى المليون نسمة. ويسكن دوربان قرابة المليون نسمة. أما العاصمة بريتوريا فيسكنها نصف مليون نسمة من البيض، وربع المليون من غير البيض. ويرجع نمو المدن في جنوب افريقيا بشكل سريع إلى غناها الوافر. وقد كان الذهب واليورانيوم والماس سببا في معظم هذا الثراء، يقال أن جوهانسبورغ مدينة مبنية فوق الذهب، ويقع بعض مناجم الذهب أسفل المدينة نفسها مباشرة.

1



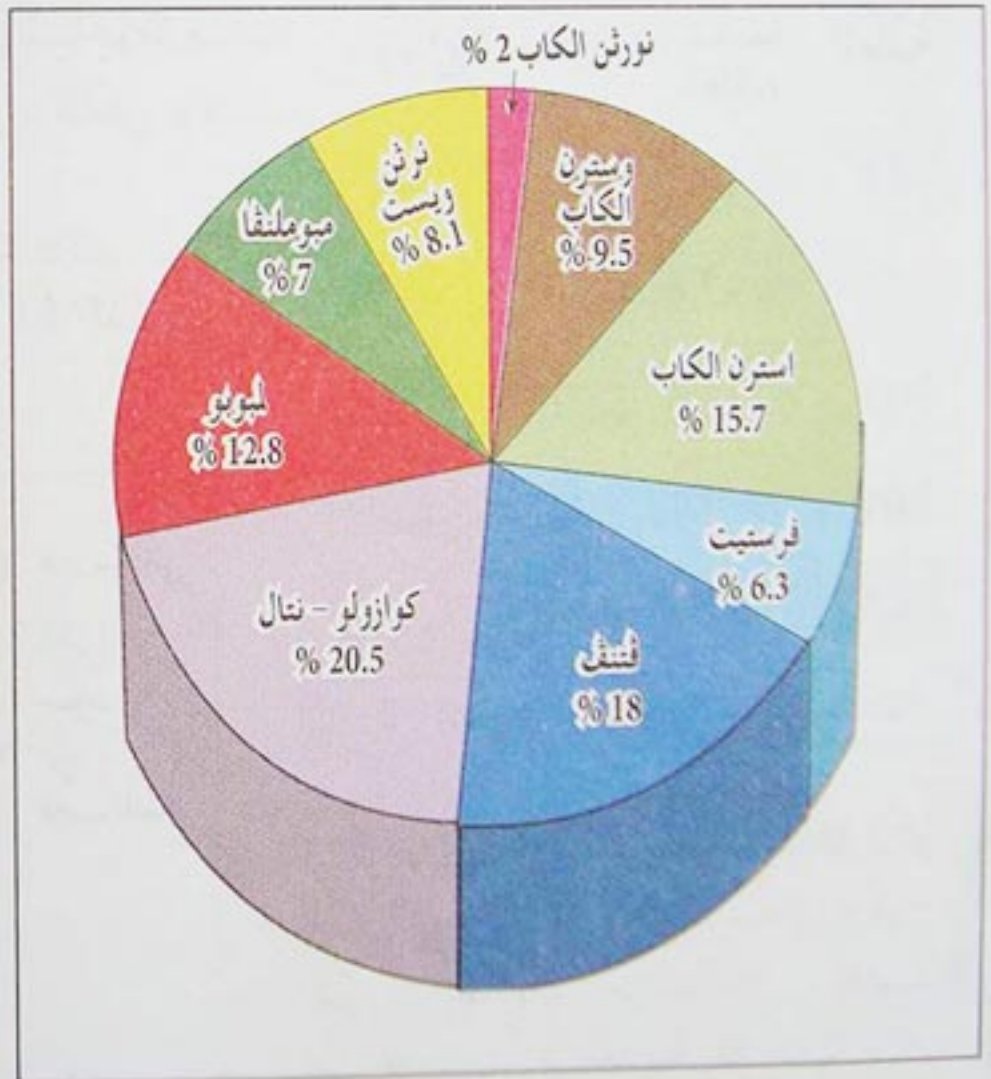
2 - منجم الذهب في جوهانسبورغ بجمهورية جنوب افريقيا

- استخلص من (الوثيقة 1) عوامل نمو المدن في جنوب افريقيا.
- ما دور المناجم في نمو مدن جنوب افريقيا ؟

الرتبة	البلدان	الوحدة بالكغ
1	جنوب افريقيا	402,177
2	الولايات المتحدة الأمريكية	335,000
3	استراليا	285,030
4	الصين	185,000
5	كندا	159,714
6	روسيا	152,000
7	البيرو	138,022
8	أندونيسيا	130,000
9	أوزباكستان	87,000
10	بابو غينيا الجديدة	74,000

3 - الدول العشرة الأولى في العالم في إنتاج الذهب

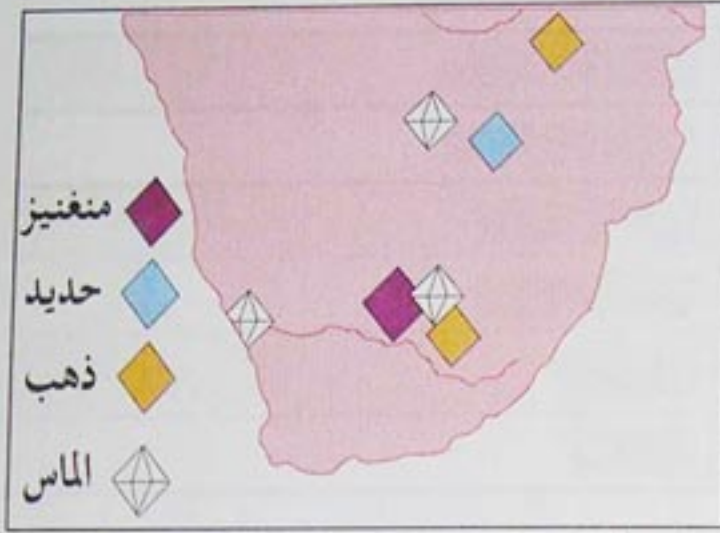
- من خلال (الوثيقة 3) بين أهمية الذهب في تنمية جمهورية جنوب افريقيا، وما مكانتها في الإنتاج العالمي ؟
- اعتمادا على (الوثيقة 4) . اذكر المقاطعات التي تتكون منها جمهورية جنوب افريقيا.
- رتب المقاطعات حسب المساحة، و حسب السكان.



4 - نسبة السكان حسب مقاطعات جنوب افريقيا

3- السكّات والتنمية

تزخر جنوب افريقيا بإمكانيات معدنية وزراعية متنوعة، مما يساعدها على التنمية. ما موقع التنمية في جنوب افريقيا؟



1 - توزيع المعادن في جنوب افريقيا

المرتبة العالمية	نسبة المساهمة العالمية	الكمية (طن)	نوعية الإنتاج
01	% 18.2	600	الذهب
01	% 47.8	6480	كروم
02	% 14.6	3271.3	المنغنيز
04	% 3.1	4243	الأنتيموان
05	% 8.7	10041	الماس

2 - إنتاج المعادن في جنوب افريقيا (2003)

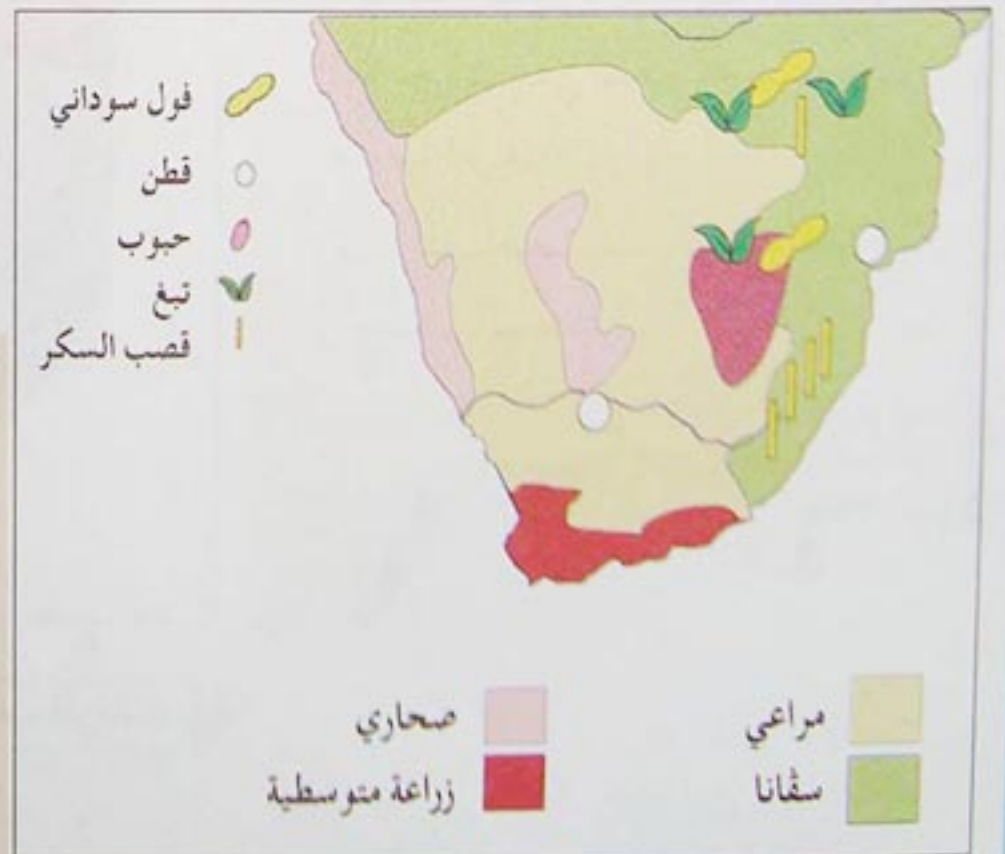
- استعن بالوثيقة (1) لتحديد أهم مناطق تركيز المعادن في جنوب افريقيا. اذكر معادن أخرى.
- تبين الوثيقة (2) مراتب جنوب افريقيا من حيث الموارد المعدنية. ما أهمية ذلك في التنمية؟
- استعن بالوثيقة (3)، وحدد أهم مناطق توزيع الإنتاج الزراعي في جنوب افريقيا. ولماذا؟

أ- الموارد المعدنية والطاقوية:

يزخر سطح جنوب افريقيا بموارد متنوعة، إذ تملك أكبر احتياطي العالم من البلاتين والأنتيموان والكروم (chrome) والمنغنيز. كما تستحوذ على $\frac{1}{3}$ الإنتاج العالمي من الذهب، ويتواجد بها أكبر منجم في العالم الذي اكتشف عام 1886. باستثناء الفحم واللجنيت، فإنها فقيرة جدا من الموارد الطاقوية كالبتترول والغاز الطبيعي.

ب - الموارد الزراعية:

تقدر مساحة الأراضي الصالحة للزراعة 13% من المساحة الاجمالية. وتنتج المحاصيل الزراعية التالية: الذرة - القمح - القطن - قصب السكر - التبغ. أما مساحة الأراضي المخصصة لتربية الماشية فتقدر بـ 85%. بإنتاج 29 مليون رأس من الأغنام، وإنتاج 52 ألف طن من الصوف. بالإضافة إلى اللحوم والجلود.



3 - المحاصيل الزراعية في جنوب افريقيا

ج - مظاهر التنمية



4 - من مظاهر التنمية

تعد جنوب افريقيا من القوى الاقتصادية الهامة في قارة افريقيا والعالم، إذ تتميز باقتصاد ثري ومتنوع.

لقد استطاعت أن تحقق التنمية والانتعاش الاقتصادي، بفضل الاستغلال العقلاني للموارد الطبيعية، ويتجلى ذلك في مايلي :

- الصناعة: يشغل قطاع الصناعة 32.8 % من اليد العاملة، والذي يساهم بـ 30% من إجمالي الناتج المحلي. تبرز أهمية الصناعة في جنوب افريقيا في الأنواع التالية: التعدين (البلاطين - الذهب - كروم)، تركيب السيارات - الحديد والصلب

تشرف على هذه القطاعات الصناعية شركات عملاقة، تحتل المراتب الأولى من بين 500 شركة عالمية في الإنتاج الصناعي، وذلك يعود أساسا إلى ضخامة استثماراتها في هذا القطاع. ومن بين هذه الشركات نجد :

- شركة امبريال هولدينغ (Imperial Holding) التي تحتل المرتبة

14 في العالم من حيث تركيب السيارات.

- شركة دي بيرس كونسوليداند مينز (De Beer Consolidated Mines) التي تحتل المرتبة 9 عالميا في الصناعة التعدينية.

- الزراعة: يشغل قطاع الزراعة 11.4% من اليد العاملة النشيطة، والذي يساهم بـ 5% من الدخل القومي. ومع ذلك فإن جنوب افريقيا مكتفية ذاتيا، وتصدر بعض المنتجات، كالسكر والذرة والصوف. كما لها ثروة سمكية هامة، تزود بها السوق الداخلية والخارجية.



5

6 - تركيب السيارات

نسبة المساهمة في الدخل القومي

القطاعات

5%

- القطاع الاول (الزراعة)

30%

- القطاع الثاني (الصناعة)

65%

- القطاع الثالث (الخدمات)

مفردات ومصطلحات.

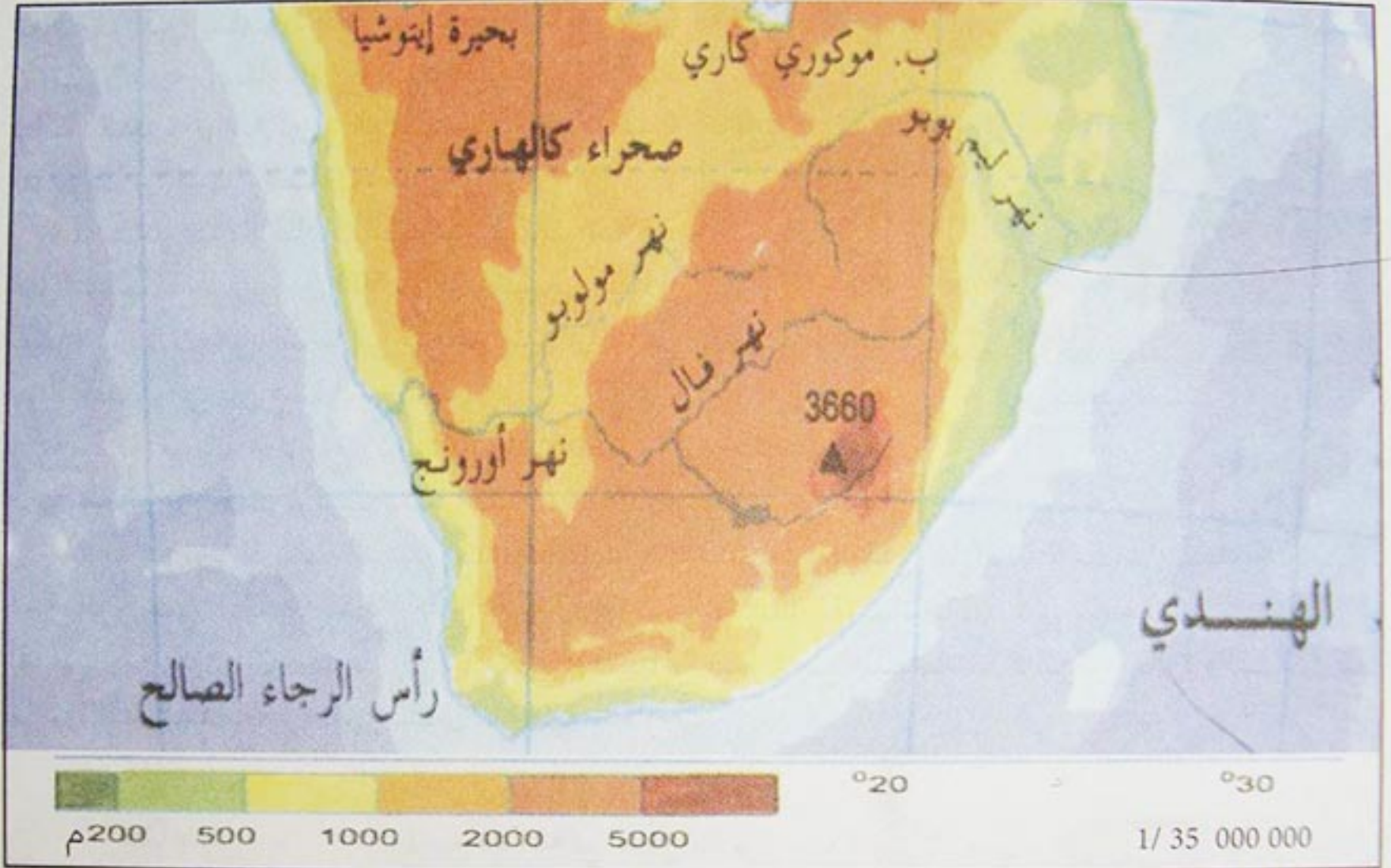
- الدخل القومي: القيمة النقدية للسلع والخدمات المنتجة خلال السنة.

- إجمالي الناتج المحلي: كل ما ينتج محليا من السلع والخدمات.


- فيم تمثل مظاهر الصناعة والزراعة في جنوب افريقيا؟
- استنتج اثر التنمية على المستوى المعيشي للسكان في جنوب افريقيا.

يعتبر نهر الأورانج من أهم أنهار جنوب افريقيا، طوله 2100 كم. ينبع من مرتفعات دولة لوزوتو باتجاه جنوب غرب جنوب افريقيا. له عدة روافد منها : نهر فال Vaal بالقرب من حدود سوازيلند باتجاه الغرب والجنوب الغربي. كما يوجد نهر ليم بوبو طوله 1800 كم في شمال جنوب افريقيا، منها 210 كم صالحة للملاحة، كما تستغل مياهه في مجال الري، ويتجه نحو الشمال الشرقي عند حدود بوتسوانا. ثم يخترق أراضي زامبابوي والموزمبيق. وأخيرا يصب في المحيط الهندي عن طريق مضيق ديلاقوا Délaqoa .

1 تتميز المجاري المائية في جنوب افريقيا بعدم انتظام جريانها بسبب جفافها معظم أشهر السنة.



2 - الأنهار في جنوب افريقيا




3 - نهر ليم بوبو

- من خلال الوثائق (1، 2، 3) استنتج أهمية الموارد المائية في اقتصاد جنوب افريقيا.

كمبرلي عاصمة الماس

تقع مدينة كمبرلي في مفترق الطرق بين مدينتي الكاب وجوها نسبورغ، التي اكتشف فيها الماس سنة 1869 تحت هضبة تحمل اسم كمبرلي، وهي أكبر منجم للماس في العالم. وفي سنة 1872 قدم إلى المنطقة عدد كبير من مكتشفي الماس بحثا عن الثروة، فشرعوا في الحفر المستمر، فبدأت حكاية الحفرة الكبرى "The Big hole" حتى أصبح عمقها 150م، وقطرها 1200م. استمر الحفر بحثا عن الماس فزاد عمق الحفرة وأصبح يقدر بـ 800 م، عمل بها حوالي 30000 عامل في ظروف قاسية جدا.

4



5 - منجم الماس في منطقة كمبرلي

- اعتمادا على (الوثيقتين 5،4)، لماذا سميت مدينة كمبرلي بعاصمة الماس ؟

4 - مكانة جنوب افريقيا في القارة والعالم

لجنوب افريقيا مكانة هامة في افريقيا والعالم. فيم يتضح ذلك ؟



1 - نهاية الابارتيد (الانسجام والاستقرار)

أ - عوامل نجاح سياسة جنوب افريقيا :

1- الانسجام والاستقرار: بعد نهاية الابارتيد نظمت جنوب افريقيا اول انتخابات ديمقراطية في افريل 1994. نتج عنها نظام جديد، يهدف ويعمل من أجل تحقيق الوحدة الوطنية، والانسجام بين العناصر المختلفة لمجتمع جنوب افريقيا.

2 - الاستثمار الناجح للموارد :

لقد اتبعت حكومة جنوب افريقيا سياسة تنمية ناجحة في مجالات عديدة، كالصناعة والزراعة والتعليم..... مما فتح آفاقا واسعة لجلب الاستثمارات الأجنبية.



2 - فندق في كاب تاون

3 - نجاح التجارة الخارجية :

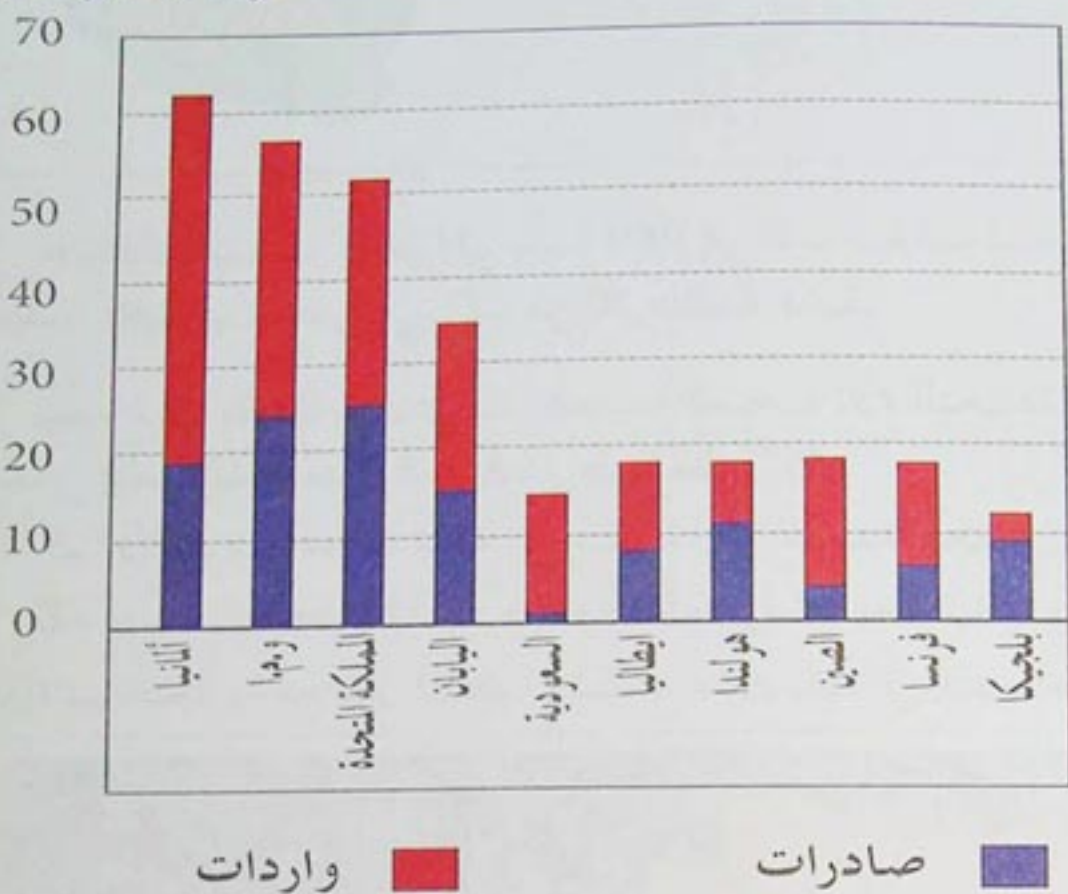
يتصف اقتصاد جنوب افريقيا بحيوية الانفتاح على العالم. مما أدى إلى انتعاش قطاع التجارة الخارجية الذي يساهم بـ 54% من الدخل القومي.

- عمّ تعبّر (الوثيقة 1) ؟
- فيم تتضح أهمية الانسجام والاستقرار في التنمية في جنوب افريقيا ؟
- انطلاقا من الوثيقتين (2، 3) اذكر مظاهر أخرى ساهمت في تنمية جنوب افريقيا.



3 - مركز تجاري بجوهانسبورغ

الوحدة : مليون دولار



4 - التبادل التجاري لجنوب افريقيا (2001)

ب - مكانة جنوب

افريقيا في افريقيا والعالم

تعمل جنوب افريقيا على تمتين علاقاتها مع دول قارة افريقيا، وبصفة خاصة في مجال التنمية الاقتصادية. ولها علاقات مع أكثر من 50 دولة افريقية .

وتعد جنوب افريقيا ثالث أهم سوق تجارية، وأكبرها في قارة افريقيا، خاصة مع (زمبابوي - لوزوتو - سوازلند بوتسوانا) من حيث المنتجات الصناعية بنسبة 30%، وسوقا هامة لناميبيا وبوتسوانا، من حيث الماشية.

وابتداء من سنة 1994 أصبحت جنوب افريقيا عضوا في أكثر من 20 منظمة عالمية، كمنظمة التجارة العالمية، الكومنولث، وانفتاحها على الاستثمارات الخارجية. كما لعبت دورا هاما في تأسيس منظمة نيباد (NEPAD) في جويلية 2001، وقد كُلفت جنوب افريقيا بمهمة التنسيق بين دول افريقيا في قضايا الأمن والسلم، والتكفل بمشاكل افريقيا.

- ما أهمية منظمة نيباد في تنمية قارة افريقيا؟
- فيم تتضح مكانة جنوب افريقيا بالنسبة لقارة افريقيا والعالم؟
- اعتمادا على (الوثيقة 4) قارن بين الصادرات والواردات .

مفردات ومصطلحات.

الكومنولث: منظمة اقتصادية تربط بين بريطانيا ومستعمراتها السابقة .

نيباد: الشراكة الجديدة لتنمية افريقيا، تتكون من 25 دولة، من بينها 5 دول مؤسسة لها هي: الجزائر - جنوب افريقيا - نيجيريا - السنغال - مصر .

عادت جنوب افريقيا في سنة 1994 إلى الساحة الدولية، بانضمامها إلى عدة منظمات عالمية. فأصبحت عضوا في أكثر من 20 منظمة عالمية.

وبعد غياب دام 20 سنة، فتحت الجمعية العامة للأمم المتحدة أبوابها لجنوب افريقيا، بعد إصدار قرار مجلس الأمن بإلغاء الحصار الذي فرض عليها منذ 1977.

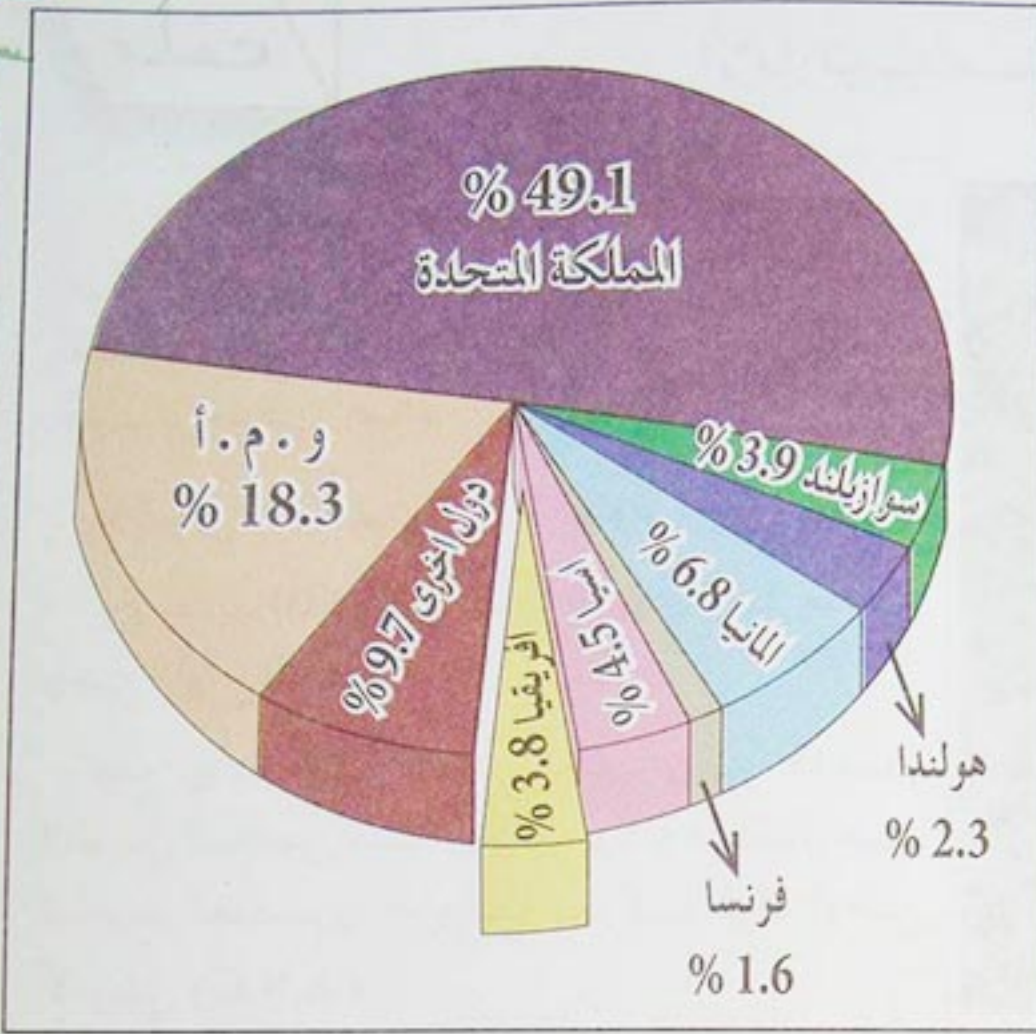
كما تلقت مساعدات مالية من منظمة الأمم المتحدة لتحقيق التنمية الاقتصادية. لقد أصبحت العضو 51 في منظمة الكومنولث، بعد غياب دام 33 سنة، مما ساعدها على توسيع علاقاتها التجارية مع دول المنظمة، فسمح ذلك بانتعاش اقتصادها.

1



2 - فندق هيلتن في جنوب افريقيا

- اذكر المنظمات الدولية التي تنتمي إليها جنوب افريقيا. وما أهمية ذلك ؟



4 - الاستثمارات الأجنبية في جنوب أفريقيا



5 - إشهار لجلب الاستثمارات

جنوب افريقيا

تريد الاستثمار في الجزائر

صرح معالي سفير جنوب افريقيا في الجزائر «راتو بتسي سوبير ملووي» في Ratu Btsi Super Moloji أثناء لقائه مع المتعاملين الاقتصاديين بمدينة تيزي وزو بما يلي: «تكلف الواردات الجزائرية من جنوب افريقيا غالبا، لذا نفضل الاستثمار في الجزائر في عدة قطاعات اقتصادية. كالزراعة والمناجم والمحروقات والسياحة وتركيب السيارات والبناء، وفي تكنولوجيا الإعلام..... وقد ننافس الدول المتطورة في هذه القطاعات».


كما بين السفير نقاط قوة اقتصاد جنوب افريقيا التي تمون الدول الافريقية بأكثر من 50% من الطاقة المستهلكة في قارة افريقيا، وترتّب جنوب افريقيا في المرتبة 5 عالميا في مجال الاستثمار في القطاع الصناعي، والمرتبة 23 عالميا في مجال الاتصالات. وهي من الدول 10 الأوائل في مجال التنظيم المصرفي. وأكد في الأخير على ضرورة توطيد العلاقات التجارية بين الجزائر وجنوب افريقيا.

جريدة Liberté ديسمبر 2004 بتصرف

3

- ماذا تستخلص من (الوثيقة 3) ؟
- ماذا تستنتج من (الوثيقتين 5.4) ؟

الأبارتيد



2 - موندبلا في السجن

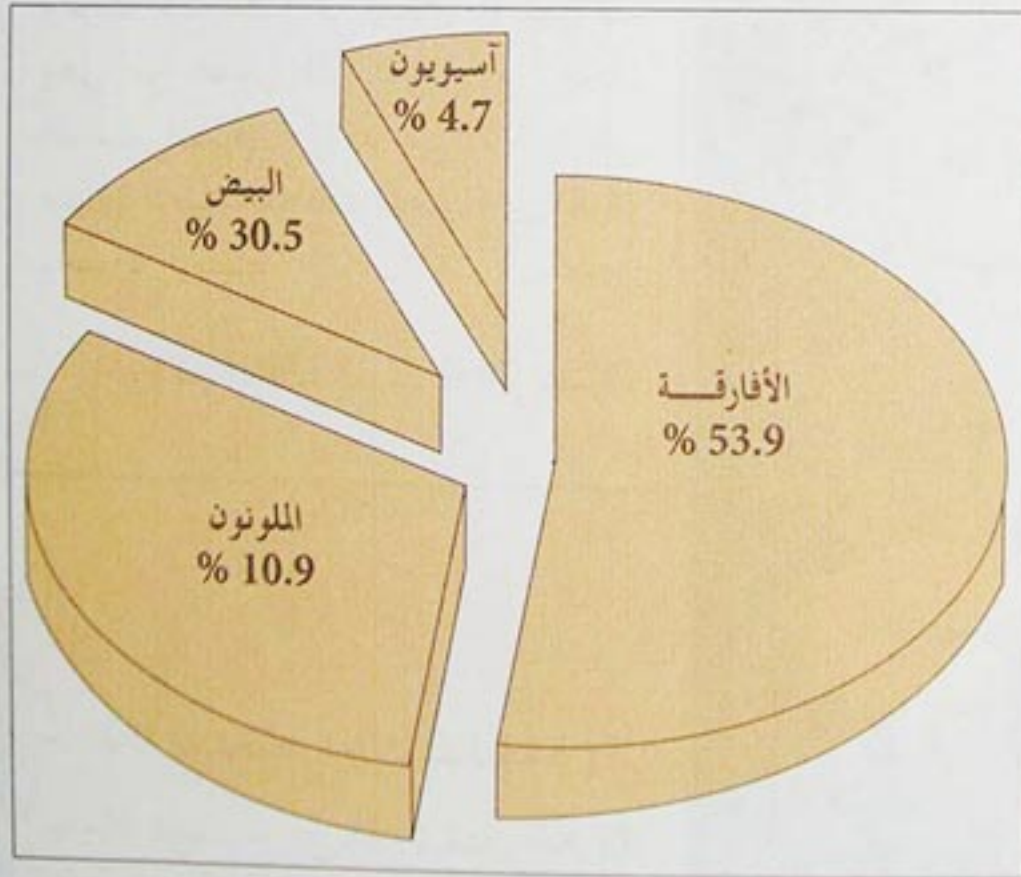
اتبع الحزب الوطني (حزب البيض) سياسة التمييز العنصري بين السود والبيض. وللحفاظ على سلالة البيض بشخصياتها وثقافتها، وضع في 1950 تصنيفا عنصريا يصنف سكان جنوب افريقيا إلى 3 أصناف :

• البيض • الملونون • السود

وتم تحديد أماكن التمرکز الإجباري لكل صنف، وتحريم الزواج المختلط.

ومع زيادة حدة التمييز العنصري بدأ النضال الطويل للتخلص منه، قادته حركة النضال ضد التمييز العنصري المعروفة بحركة المؤتمر الوطني الافريقي (A.N.C)

1



4 - الفقر حسب الأجناس في جنوب افريقيا


قرر البرلمان البريطاني عند تأسيس اتحاد جنوب افريقيا، وظهور الحزب الوطني الناطق باسم البوير، إبعاد عناصر السود الذين يمثلون أكثر من $\frac{2}{3}$ السكان من المهام السياسية، كما صادق البرلمان البريطاني في 1911 على مرسوم «الميز العنصري» للبيض فقط، وفي 1913 ظهر مرسوم آخر يمنح للأقلية من البيض 93% من أراضي اتحاد جنوب افريقيا. وكرّد فعل على سياسة الميز العنصري التي مارسها الحزب الوطني، أسس زعماء السود من جماعة البانتو أول حزب لهم، والذي تحول في 1923 إلى حزب «المؤتمر الوطني الافريقي» للدفاع عن السود الذي تولى النضال ضد نظام الأبارتيد، ونتج عن ذلك صراع دموي طويل بين الفئتين (سود - بيض) والذي استمر إلى نهاية الثمانينات.

3

- من خلال (الوثائق 1، 2، 3، 4). عرّف نظام الأبارتيد، وبين مظاهره، وانعكاساته على جنوب افريقيا.



6 - رمز الانتصار (موندبلا)



7 - أطفال السود



8 - التعليم (سود - بيبض)

ناضل شعب جنوب افريقيا لمدة
أكثر من 10 سنوات للتخلص من
نظام الأبارتيد بقيادة حركة المؤتمر
الوطني الافريقي. وخلال 1988
- 1989 انتهت المحادثات التي دارت
بين عناصر البيض وزعماء السود،
بإصدار قرار إطلاق سراح نلسن
موندبلا من طرف دي كليرك، في
فيفري 1990 بعد أن قضى 25 سنة
في السجن.

وفي أبريل 1994 نُظمت
أول انتخابات ديمقراطية في جنوب
افريقيا، تشكل بعدها نظام جديد
يعمل من أجل المصلحة العامة
والانسجام بين العناصر المختلفة
لمجتمع جنوب افريقيا، وسمح بعودة
جنوب افريقيا إلى الساحة الدولية.

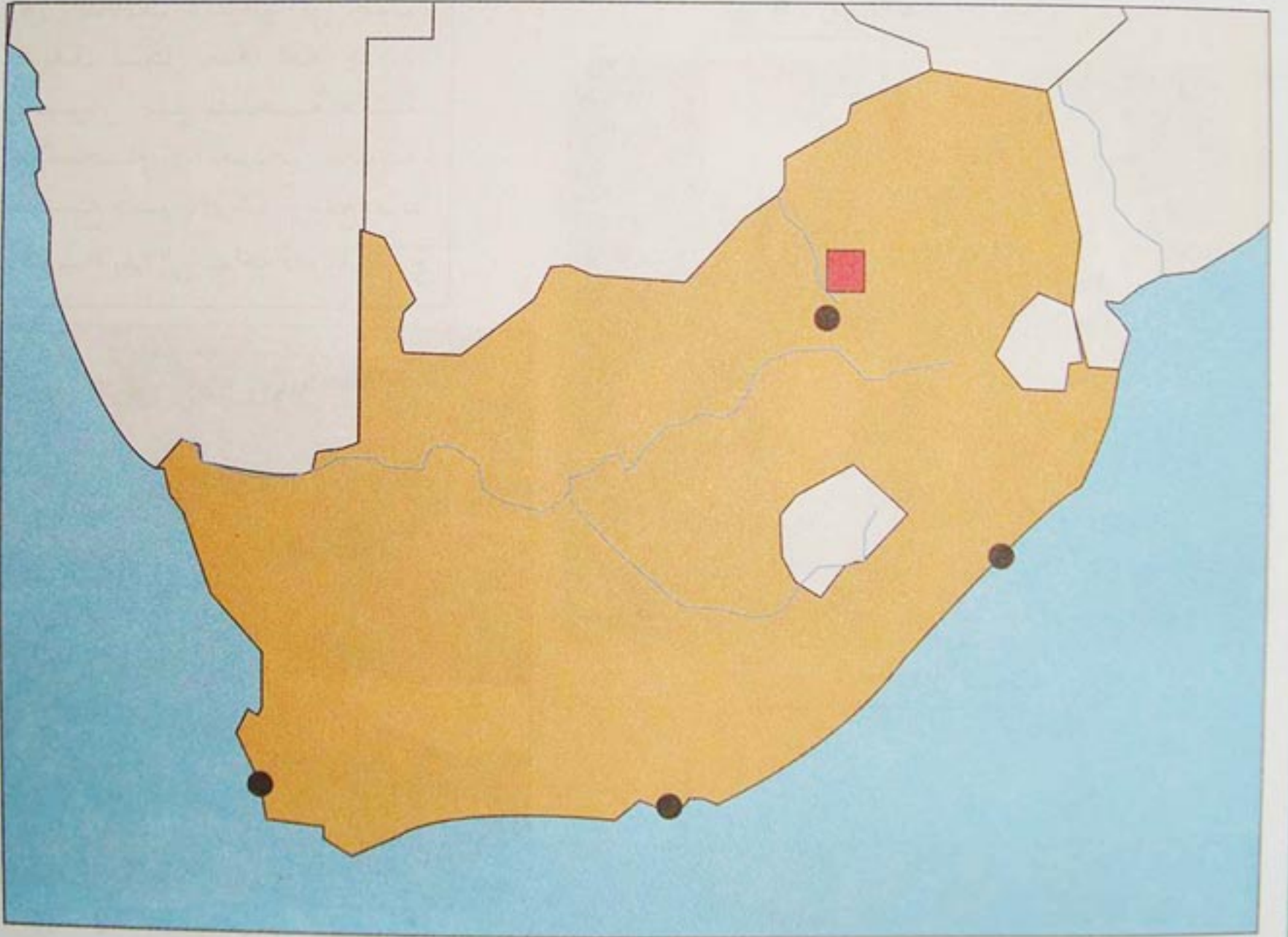
5

- من خلال الوثائق (5،6،7،8) بين نهاية نظام
الأبارتيد، مانتيجة ذلك على جنوب افريقيا؟


التقويم

عرفت جمهورية جنوب افريقيا نظام التمييز العنصري (الابارتيد) أكثر من 40 سنة. وهي سياسة فرضتها الأقلية البيضاء الحاكمة، تقوم على التفرقة العنصرية بين البيض والسود في جميع مجالات الحياة. وبعد نضال طويل تم إلغاء نظام التمييز العنصري سنة 1991.

1



2 - بعض مدن جمهورية جنوب افريقيا



3 - حي البيض
في جوهانسبورغ

- ما القصد بسياسة التمييز العنصري ؟ ما الذي يبيّن ذلك من خلال (الوثيقتين 4.3) .
- أدى إلغاء التمييز العنصري إلى الانسجام والاستقرار. بيّن نتائج ذلك على مجتمع جنوب افريقيا.
- تعتبر جمهورية جنوب افريقيا أول دولة مالية واقتصادية في القارة، إلام يعود ذلك ؟
- انقل (الوثيقة 2) وحدّد عليها أسماء المدن المعطاة .



4 - حي السود في جوهانسبورغ

للمطالع

رغم أن مساحة جنوب أفريقيا لا تمثل إلا 1% من مساحة الكرة الأرضية، وعدد سكانها أقل من 1% من سكان العالم، إلا أن بيئتها تحتل المراتب الأولى عالميا بما تنفرد به من نباتات، وحدائق طبيعية. إذ تستحوذ على:

- 6% من الحيوانات النادرة بانواعها الخمسة (الأسد - الفيل - النمر - البقر الوحشي - وحيد القرن).
- 7% من أنواع طيور العالم بـ 900 نوع.
- 8% من كل أنواع فصائل النباتات.
- 80% من بذور النباتات النادرة التي لا وجود لها في مكان آخر من العالم إلا في جنوب أفريقيا.



الحيوانات الطبيعية



قارة او قيطانيا



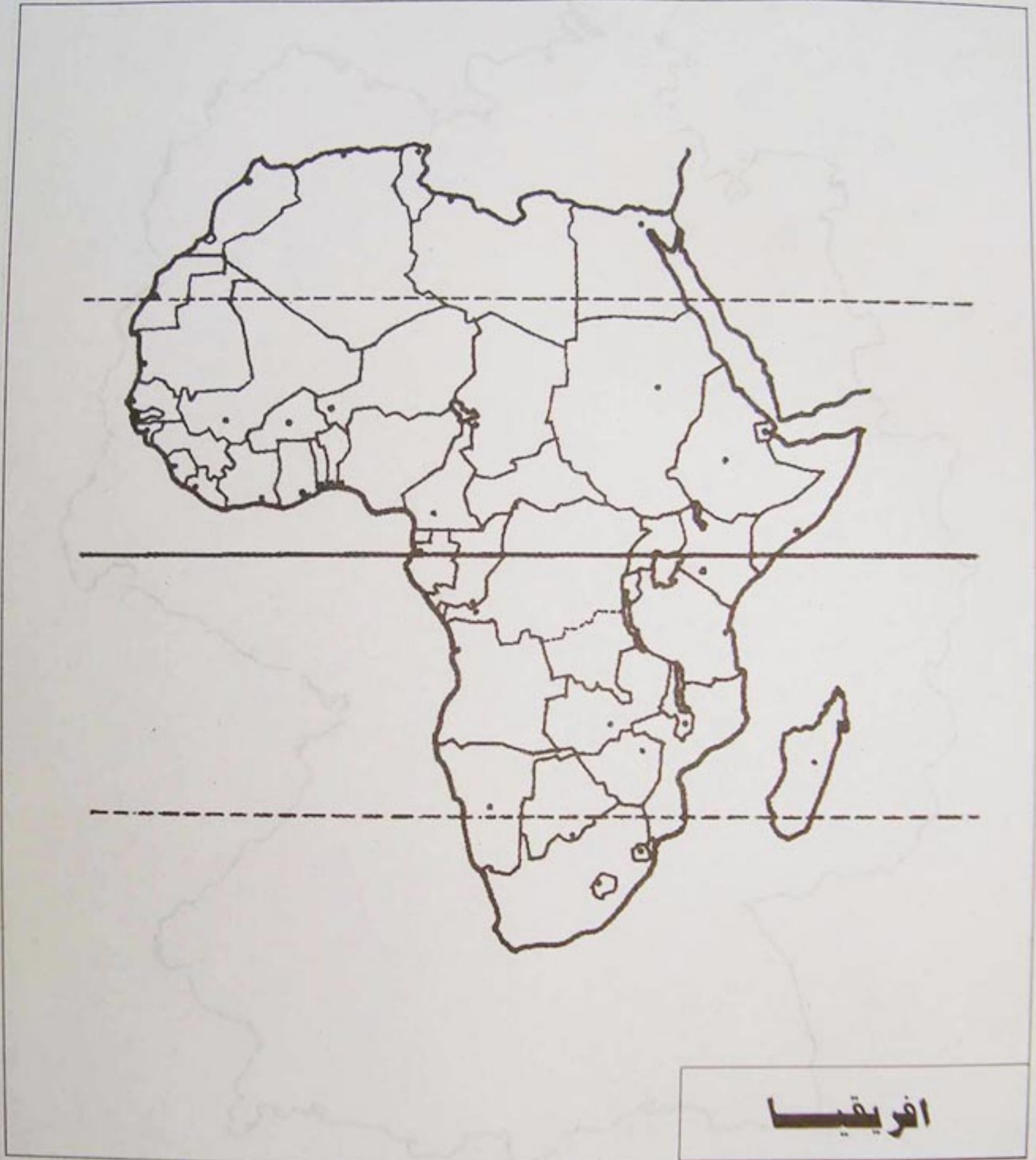
أستراليا







أسيوط







موقع عيون البصائر التعليمي

العاب
elbassair.net

elbassair.net

فهرس الخرائط

الصفحة	الموضوع
قارة اوقيانيا	
12	- قارة اوقيانيا في العالم
14	- اوقيانيا (قارة جزرية)
17	- مناطق الاتصال القاري بين جنوب شرق آسيا واوقيانيا
19	- توزيع سكان اوقيانيا
20	- توزيع السكان في استراليا
22	- الزراعة في استراليا
22	- الموارد المعدنية والطاقوية في استراليا
25	- توزيع الأمطار في نيوزيلندا
26	- الأقاليم الاقتصادية في اوقيانيا
27	- الموارد الزراعية في استراليا
29	- مناطق زراعة القمح في استراليا
29	- مناطق استخراج المعادن وتركز السكان في استراليا
قارة اوربا	
36	- قارة اوربا
42	- توزيع السكان في اوربا
43	- مجتمعات المدن في اوربا
49	- المبادلات التجارية الكبرى في اوربا
50	- مراحل بناء الاتحاد الاوربي
52	- الواجهة الأطلسية لقارة اوربا
52	- المنطقة القارية الداخلية في اوربا
52	- منطقة البحر الابيض المتوسط في اوربا
53	- الدخل الفردي الخام بالاورو
55	- منطقة الاورو
56	- هجرة السكان في اوربا
57	- المناطق الجغرافية الكبرى في اوربا

لتحميل الكتب المدرسية

الابتدائي-المتوسط-الثانوي

إضغط هنا

موقع عيون البصائر التعليمي

elbassair.net

